

令和5年度

福岡大学附属大濠中学校

入学試験問題

社 会

[時間 40分]

注 意

1. 答えはすべて解答用紙に記入してください。
2. 解答用紙には氏名・受験番号（算用数字 例10001）をきちんと書いてください。

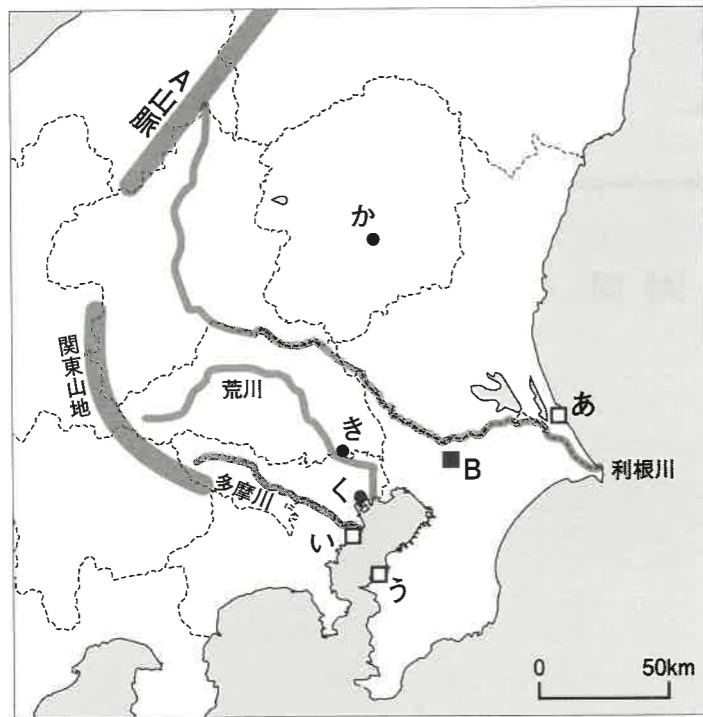
1

関東地方について述べた次の文と図1に関して、あとの問いに答えなさい。

関東地方は、日本の7つの地方のうち平野の占める割合が最も高い地域である。A山脈や関東山地といった北西部や西部の山脈・山地から流れ下る利根川や荒川、多摩川などによって土砂が運搬され堆積して、①複数の県と東京都にまたがる広大な関東平野が形成されている。関東平野は、②標高が低い低地にくわえ相対的に標高が高い台地からなる平野である。

近代以降、首都の東京が日本の政治・経済の中心として発展するのにもなって、③関東地方自体が大きく変貌してきた。関東地方では交通網が整備され、④産業や⑤人口が集中し、世界最大の都市圏人口を有する⑥東京大都市圏が形成されてきた。近年、日本の総人口が減少するなか、東京大都市圏の人口は増加しており、日本における⑦東京への一極集中の動きは強まっているといえる。

図1



問1 文中、図1中のA山脈の名称を漢字で答えなさい。なお、A山脈は新潟県の旧国名がその名につけられた山脈です。

問2 文中の下線部①に関して、次の文は関東地方のある県について述べたものです。県名を漢字で答えなさい。

この県の北部から西部には那須連山や日光連山、足尾山地などの山地があり、中部から南部にかけては利根川の支流の鬼怒川や渡良瀬川の流域に平野が広がる。

問3 文中の下線部②に関して、関東平野の中部から東部にかけては低地にくわえ台地が広がっています。次の図2は、図1中のBの地域の地理院地図（一部改変）です。図2中のX-Yの線の高度を表したものを、あとの図3のイ～ニから一つ選び記号で答えなさい。

図2

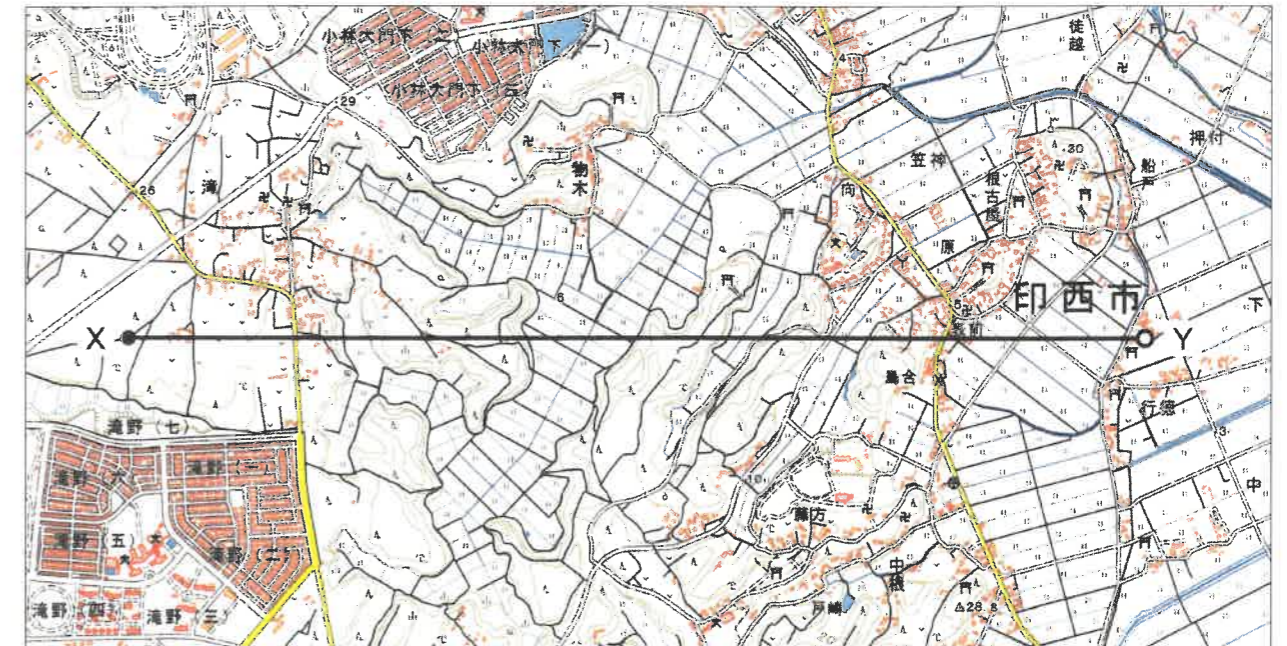
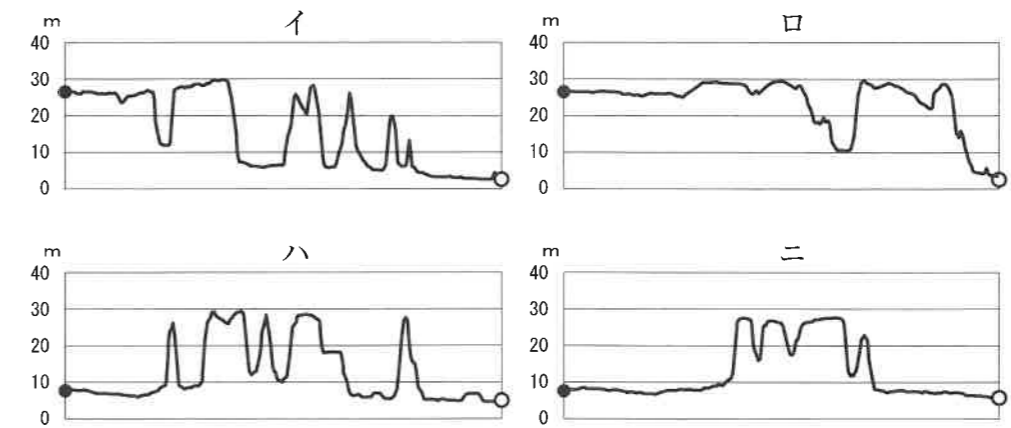


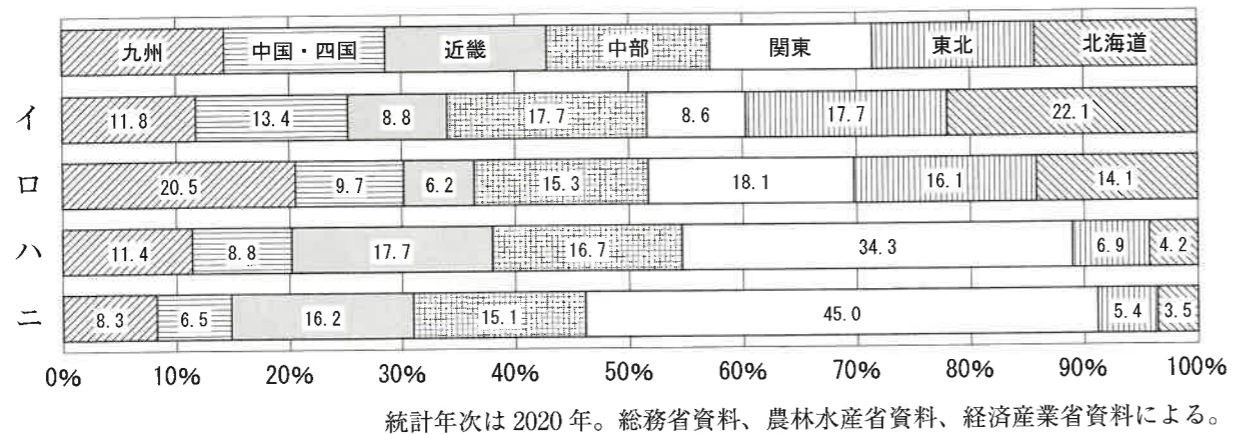
図3



水平距離に対して高度は強調されている。地理院地図により作成。

問4 文中の下線部③に関して、次の図4は、日本における4つの統計の地方別割合を示したものであり、イ～ニは面積、人口、農業産出額、年間商品販売額のいずれかです。このうち年間商品販売額に当てはまるものをイ～ニから一つ選び、記号で答えなさい。

図4

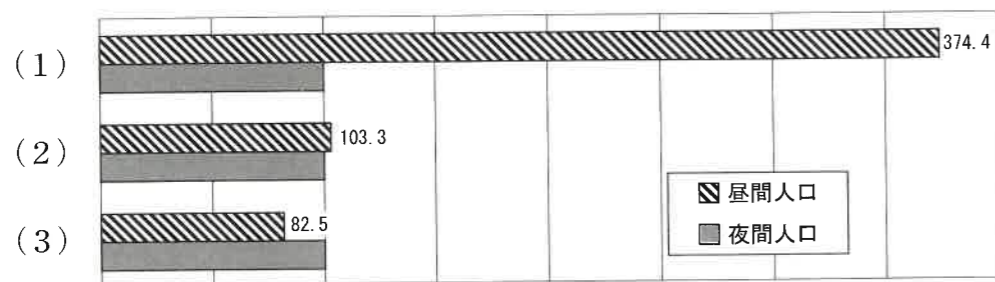


問5 文中の下線部④に関して、図1中のあ～うには大規模な製鉄所があります。関東地方以外の日本の都市のうち、大規模な製鉄所があって製鉄業がさかんである都市を、次のイ～ニから一つ選び記号で答えなさい。

- イ. 大分市    ロ. 鈴鹿市    ハ. 浜松市    ニ. 仙台市

問6 文中の下線部⑤に関して、次の図5の(1)～(3)は、図1中のか～くのいずれかの都市・特別区の昼間人口と夜間人口を、夜間人口を100とした指数で示したものです。正しい組合せをあとのイ～へから一つ選び、記号で答えなさい。なお、かは宇都宮市、きは川口市、くは東京都中央区です。

図5



昼間人口とは従業地・通学先によって集計された人口であり、夜間人口とは常住人口である。統計年次は2020年。総務省資料による。

解答の記号	イ	ロ	ハ	ニ	ホ	へ
(1)	か	か	き	き	く	く
(2)	き	く	か	く	か	き
(3)	く	き	く	か	き	か

問7 文中の下線部⑥に関して、次の(1)、(2)の問いに答えなさい。

(1) 東京大都市圏内には特徴的な性格をもった地区・地域が形成されています。次のX、Yの地区・地域の正しい組合せを、あとのイ～ニから一つ選び記号で答えなさい。

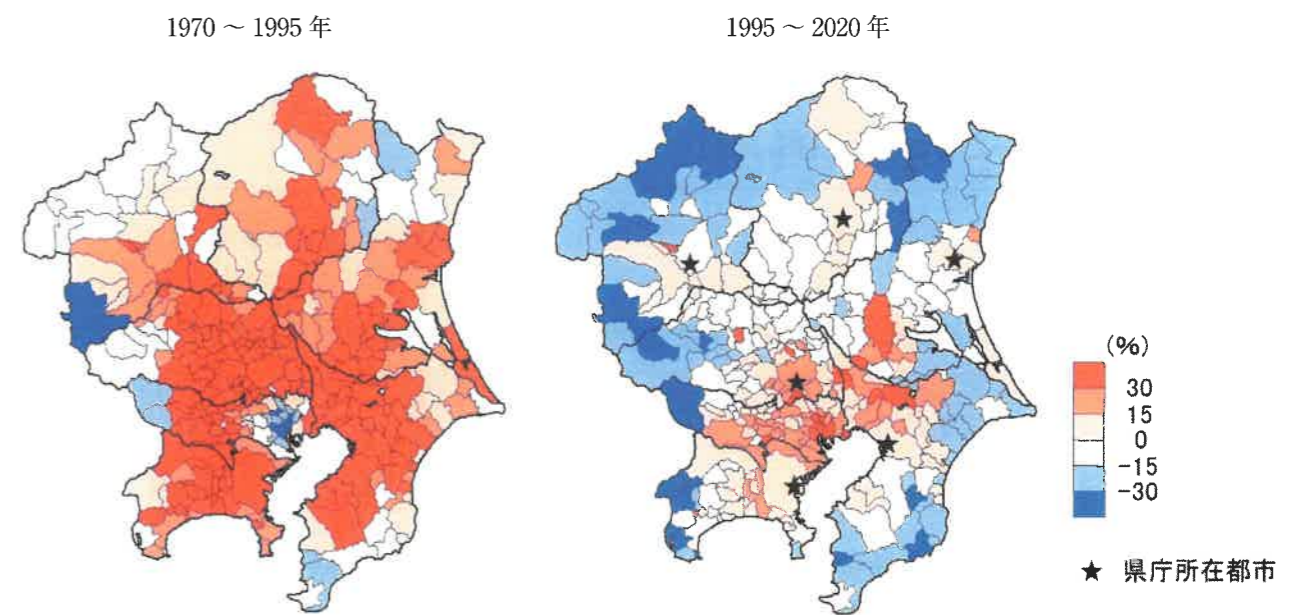
X. 郊外に向かう鉄道のターミナル駅を中心に発展した東京の代表的な副都心の一つであり、オフィスや商業施設が集まっているほか、東京都庁がある。

Y. 東京特別区内から多くの国立の研究機関や大学が移転してきた研究学園都市であり、2005年には東京特別区内に乗り入れる鉄道路線が開通した。

解答の記号	イ	ロ	ハ	ニ
X	新宿	新宿	品川	品川
Y	多摩	筑波	多摩	筑波

(2) 次の図6は、1970年から2020年にかけての関東地方の市町村・特別区別の人口増加率を示したものです。図6から読み取れる内容について述べた文として誤っているものを、あとのイ～ニから一つ選び記号で答えなさい。

図6



2020年の市町村域・特別区域で集計したもの。総務省資料による。MANDARA10により作成。

イ. 1970～1995年の間に、すべての県庁所在都市の市域で人口が増加した。

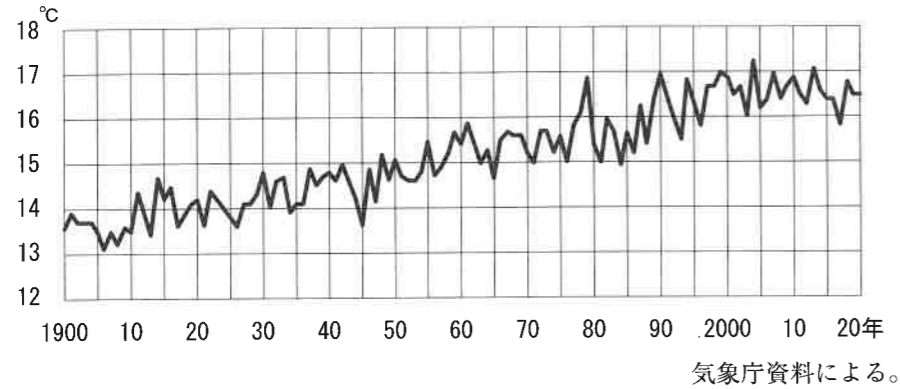
ロ. 1970～1995年の間に、東京大都市圏ではドーナツ化現象が生じた。

ハ. 1995～2020年の間に、埼玉県の総人口は減少した。

ニ. 1995～2020年の間に、神奈川県すべての政令指定都市の市域で人口が増加した。

問8 文中の下線部⑦に関して、次の図7は、東京の年平均気温の推移を示したものです。図7について述べたあとの文中の **Z** に当てはまる内容を答えなさい。

図7



東京の気温は上昇傾向にある。東京の気温上昇の要因の一つとしてヒートアイランド現象の発生が考えられる。ヒートアイランド現象とは、大都市の発達にともなって大都市の内部の気温が上昇し、外部よりも高くなる現象である。その原因としては、大都市では、家庭やオフィス、自動車などからの排熱が多く気温が上がりやすいこと、また、いったん気温が上がれば、風通しを妨げる高層の建物が多いことや **Z** ことが影響して気温が下がりにくいことなどがあげられる。

2

地理同好会の生徒の間での、日本の食文化に関する次の会話をを読んで、あとの問いに答えなさい。

生徒A： 日本の食文化は「和食——日本人の伝統的な食文化——」として①国際連合教育科学文化機関の世界無形文化遺産に登録されています。今回は、日本の食文化にかかわる資料を集めてきたのでみてみましょう。

資料Ⅰ 和食の特色

- (1) 多様な食材とその持ち味の尊重
- (2) 健康的な食生活を支える栄養バランス
- (3) 自然の美しさや季節の移ろいの表現
- (4) 正月などの年中行事との密接な関わり

資料Ⅱ 1人当たり品目別食料年間供給量(単位: kg)

国	肉類	魚介類
日本	52.3	46.9
アメリカ合衆国	123.5	22.3
ドイツ	80.4	12.7
インド	4.4	6.8
ナイジェリア	8.2	8.9

統計年次は2018年。FAO資料による。

資料Ⅲ 1世帯当たりの肉類の年間消費額(単位: 円)の上位5都道府県庁所在都市

	牛肉	豚肉	鶏肉
1	京都市 41,924	横浜市 39,024	熊本市 23,093
2	奈良市 40,446	東京特別区 37,445	宮崎市 22,678
3	大津市 40,434	札幌市 36,333	鹿児島市 21,812
4	徳島市 34,474	静岡市 35,473	福岡市 21,266
5	広島市 34,221	熊本市 35,203	京都市 21,213

2人以上世帯で集計したもの。統計年次は2020年。総務省資料による。

生徒A： 資料Ⅰは、和食が世界無形文化遺産に登録された際に、和食の特徴としてまとめられたものです。

生徒B： 資料Ⅰからは、和食が日本の自然環境と関係していることが読み取れる。ヨーロッパなどの同じくらいの緯度の地域と比較して四季がはっきりしているというのが日本の気候の特色だ。また、②地方ごとにも気候に特色がある。こうした日本の気候のもとで、季節ごと、地域ごとに多様な農作物が栽培され、食材として利用されてきたのだろう。

生徒C： 和食の食材は気候だけでなく、地形とも関係していると思う。③日本は周囲を海に囲

まれた島国であり、水産資源が豊富であったことが、多様な魚介類の漁獲や収穫、そして食材としての利用を可能にしたんじゃないかな。

生徒A： 資料Ⅱは、日本の食文化を世界の他の国と比較することのできる資料です。Cさんが指摘するとおり、他国と比較して日本では魚介類の利用が多いですね。

生徒C： 魚介類は、刺身や焼き物、煮物の素材であるだけでなく、だしの原料でもある。昆布だし、鰹<sup>かつお</sup>だし、煮干しだしなど、いろいろなだしのもとになっている。魚介類は和食に欠かせない重要な食材だと思う。

生徒B： 日本国内でも地域によってだしには、大きな違いがある。一般に、関西では昆布だしが好まれ、関東では鰹だしが好まれる。江戸時代に、昆布が産地の④大阪まで運ばれてきていて、関西に昆布だしによる味付けが根づいたといわれる。

生徒A： 資料Ⅲは、⑤牛肉・豚肉・鶏肉の消費額に関する資料です。牛肉と豚肉については、日本の東西で消費額に違いがあることが読み取れます。

生徒C： 西日本では牛肉の消費額が多く、東日本では豚肉の消費額が多い。どうしてだろう。

生徒A： 日本で肉類が多く食されるようになったのは、西洋の肉食文化が取り入れられた明治時代以降です。当時、西日本では農耕用や運搬用に牛が多く用いられていて、牛の数が多かったことが西日本で牛肉食がさかんになった理由の一つだとされます。一方、牛の数が少なかった東日本では牛肉は貴重で、あまり食されなかったといわれています。

生徒C： なるほど。食文化は、自然環境の影響を受けているだけでなく、交通の発達や文化の他地域からの流入といった社会環境の影響を受けて変化していくのか。

生徒A： 社会環境には経済水準も含まれます。もう一度、資料Ⅱをみてみましょう。アメリカ合衆国やドイツ、日本といった先進国では肉類の消費量が多くて、インドやナイジェリアといった発展途上国では肉類の消費量が少ないです。一般に、経済的に発展すると、高価な肉類の消費量が増え、比較的安価な⑥穀物やいも類の消費量は減っていきます。

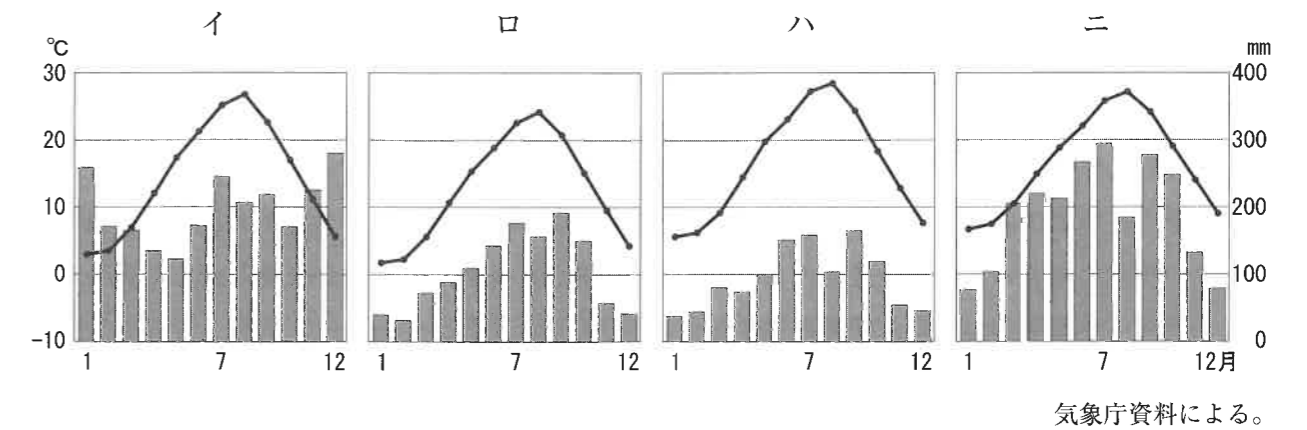
生徒B： インドやナイジェリアでは、経済発展が進んでいるので、今後は肉類の消費量が増えていく可能性がある。

生徒A： ⑦これまで日本の食文化も大きく変化してきたし、その可能性は高いです。……さあ、おながすいてきたから、学食に行きましょう。私はカレーにするつもりです。

問1 文中の下線部①に関して、この国際連合教育科学文化機関の別称をカタカナで答えなさい。

問2 文中の下線部②に関して、次の図1のイ～ニは、仙台市、富山市、静岡市、高松市のいずれかの月ごとの気温と降水量を示したものです。このうち静岡市に当てはまるものを一つ選び、記号で答えなさい。

図1



問3 文中の下線部③に関して、日本の近海や水産業について述べた文として誤っているものを、次のイ～ニから一つ選び記号で答えなさい。

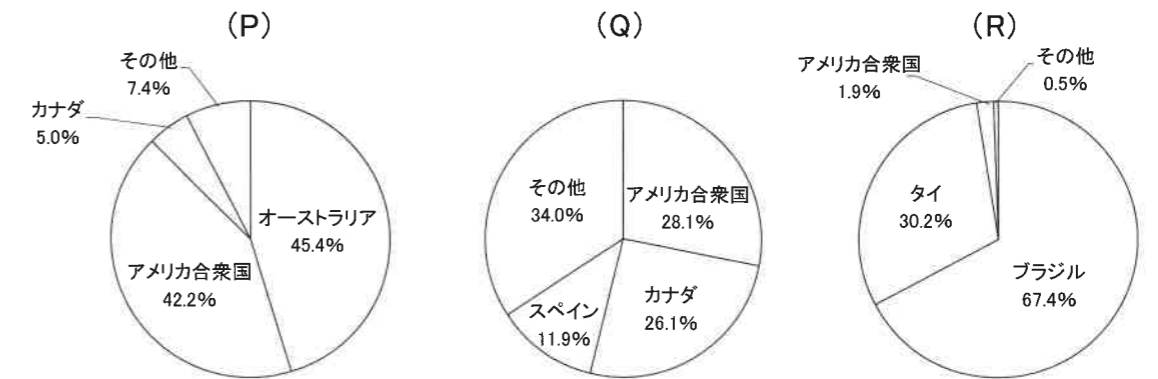
- イ. 日本の近海を流れる黒潮（日本海流）と対馬海流はいずれも暖流である。
- ロ. 九州や南西諸島の西方の海域を東シナ海といい、大陸棚が広がっている。
- ハ. 養殖業のうち海藻類を養殖することを栽培漁業といい、その収穫量は増加傾向にある。
- ニ. リアス海岸の入り江は、波がおだやかなため水産物の養殖に適している。

問4 文中の④に当てはまる内容を次のイ～ニから一つ選び、記号で答えなさい。

- イ. 蝦夷地から菱垣廻船で
- ロ. 蝦夷地から北前船で
- ハ. 瀬戸内から菱垣廻船で
- ニ. 瀬戸内から北前船で

問5 文中の下線部⑤に関して、現在、日本で消費される肉類については、外国から輸入されるものが多くなっています。次の図2は、日本の、肉類の主要輸入相手国と輸入金額に占めるその割合を示したものであり、図中の(P)～(R)は牛肉、豚肉、鶏肉のいずれかです。正しい組合せをあとのイ～へから一つ選び、記号で答えなさい。

図2



統計年次は2020年。農林水産省資料による。

解答の記号	イ	ロ	ハ	ニ	ホ	ヘ
(P)	牛肉	牛肉	豚肉	豚肉	鶏肉	鶏肉
(Q)	豚肉	鶏肉	牛肉	鶏肉	牛肉	豚肉
(R)	鶏肉	豚肉	鶏肉	牛肉	豚肉	牛肉

問6 文中の下線部⑥に関して、次の表1は、資料Ⅱの5か国の、1人当たり品目別食料年間供給量を示したものであり、表中のX～Zは小麦、米、いも類のいずれかです。正しい組合せをあとのイ～へから一つ選び、記号で答えなさい。

表1 (単位：kg)

国	X	Y	Z
日本	24.9	81.1	43.6
アメリカ合衆国	55.9	11.1	81.1
ドイツ	58.7	4.7	86.3
インド	30.2	97.4	61.7
ナイジェリア	276.1	39.1	25.6

統計年次は2018年。FAO資料による。

解答の記号	イ	ロ	ハ	ニ	ホ	ヘ
X	小麦	小麦	米	米	いも類	いも類
Y	米	いも類	小麦	いも類	小麦	米
Z	いも類	米	いも類	小麦	米	小麦

問7 文中の下線部⑦に関して、次の表2は、日本で明治時代以降に収穫量が増大したある農作物の収穫量上位5都道府県と全国の総収穫量に占めるその割合を示したものです。表2に当てはまるものを、あとのイ～ニから一つ選び記号で答えなさい。

表2

	都道府県	割合(%)
1	茨城県	22.7
2	宮崎県	18.7
3	高知県	9.1
4	鹿児島県	8.2
5	岩手県	5.8

統計年次は2020年。  
農林水産省資料による。

イ. オリーブ    ロ. メロン    ハ. キャベツ    ニ. ピーマン

3

次の文を読んで、あとの問いに答えなさい。

旧石器時代、日本列島に住み着いた人々は簡単なテントや岩かげに住み、食べ物を求めて移動しながら暮らしていた。①縄文時代には、人々は集落をつくって定住生活を送るようになったとされるが、その背景には気候が温暖になり食料を安定して得られるようになったことがある。その後、稲作が伝わった弥生時代には、稲をたくわえるために高床倉庫がつけられるようになり、まわりに柵や濠をめぐらせた環濠集落が出現した。

3世紀後半には、強大な力を持つ大王や有力な豪族たちからなるヤマト政権（大和政権）が誕生した。②大王や豪族は、前方後円墳などの古墳をつくってみずからの権力の強さを示そうとした。しかし、6世紀半ばに仏教が伝来し、③飛鳥時代に聖徳太子や蘇我氏らによって寺が建てられるようになると、前方後円墳はしだいにつくられなくなっていった。

710年に律令国家の新たな都としてつくられた④平城京には、天皇の住まいや役所のある平城宮のほか、貴族の住まいや寺院、民衆の家などが立ち並び、多くの人々が生活を送った。794年から始まった平安時代には、日本の風土や生活に合った国風文化が生まれ、貴族は（⑤）とよばれる住居に住み、服装なども日本風になった。また浄土へのあこがれから、阿彌陀仏をおさめる阿彌陀堂がさかんにつくられた。

武士が権力をにぎった鎌倉時代には、京都や鎌倉に屋敷を持つ武士が増えたが、⑥地方の武士は領地のなかでも交通や水利のよい場所に館をおき、土地の管理や年貢の取り立てを行った。

問1 文中の下線部①について、縄文時代の人々が大きな建物をつくり、遠い地域どうしで交易を行っていたことを示す青森県の遺跡を、次のイ～ニから一つ選び記号で答えなさい。

イ. 登呂遺跡    ロ. 吉野ヶ里遺跡    ハ. 岩宿遺跡    ニ. 三内丸山遺跡

問2 文中の下線部②について、次の図1、図2は古墳の副葬品です。図から読み取れる古墳時代の支配の特徴を示したあとの文の  に当てはまる内容を、答えなさい。

図1



図2



古墳時代前期には、図1のような  が支配を行ったと考えられる。古墳時代中期には、図2のような鉄のよろいが副葬されており、戦争の指導者が支配を行ったと考えられる。

問3 文中の下線部③について、飛鳥時代に建立された仏教建築として正しいものを、次のイ～ニから一つ選び記号で答えなさい。

- イ. 平等院鳳凰堂      ロ. 延暦寺      ハ. 四天王寺      ニ. 東大寺

問4 文中の下線部④について、平城京について述べた文として誤っているものを、次のイ～ニから一つ選び記号で答えなさい。

- イ. 平城京は、朱雀大路によって右京と左京に分けられた。  
ロ. 成年の男子は、防人となって平城京の守りについた。  
ハ. 平城京をつくる費用をまかなうため、和同開珎が発行された。  
ニ. 東西の市では、各地から送られてきた品物が取引された。

問5 文中の ( ⑤ ) に当てはまる、図3に見られるような建築様式を答えなさい。

図3



問6 文中の下線部⑥について、武士の土地支配や図4の武士の館について述べた文として誤っているものを、次のイ～ニから一つ選び記号で答えなさい。

- イ. 守護は、荘園の年貢の半分を取り立てる権限を認められた。  
ロ. 武士が支配する領地は、一族の間で分割相続された。  
ハ. 図4によると、武士は合戦で乗るための馬を飼育していた。  
ニ. 図4によると、武士の館の門には矢倉が設けられていた。

図4



4 次の史料は、日本列島における旅行や人の移動の歴史に関するものです。史料を見て、あとの問いに答えなさい。

史料1

東国で私が住む所は、月影の谷というそうだ。海岸に近い山のふもとで、風がとても強い。極楽寺のそばであるので、のどかでもの寂しくて、波の音や、松風の音が絶えず聞こえる。

いざよい  
『十六夜日記』

史料2



史料3

一、大名が自分の領地と江戸とを交代で住むように定める。毎年4月に江戸へ参勤せよ。従者の人数が最近大変多いようである。これは、領地の支配のうえで無駄づかいであり、また領民の負担となる。これ以後は、身分に応じて人数を少なくせよ。

おふれがきかんぼうしゅうせい  
『御触書寛保集成』

史料4

月日は永遠に終わることのない旅人のようなものであって、来ては去り、去っては新しくやってくる年もまた旅人である。船頭として船の上で生涯を過ごす人や、馬引として年をとって行く人にとっては毎日が旅であって旅を住処すまかとしているのだ。昔の人も、多くの人が旅をしながら亡くなっている。

史料5



(桐原健真『吉田松陰』筑摩書房より引用)

問1 史料1は、女流歌人である阿仏尼が書いた日記の一部要約です。阿仏尼は、土地などの所有権をめぐる裁判のため1279年に京都から旅立ちました。阿仏尼の旅の目的地を、次のイ～ニから一つ選び記号で答えなさい。

- イ. 奈良
- ロ. 福原
- ハ. 鎌倉
- ニ. 平泉

問2 史料2は、室町時代に都市や港などを拠点に活躍した馬借です。室町時代の馬借について述べた文として正しいものを、次のイ～ニから一つ選び記号で答えなさい。

- イ. 馬借は、各地におかれた駅を利用して馬をのりついで。
- ロ. 馬借は、年貢として送られる米などの物資を運んだ。
- ハ. 馬借が関所を通る際には、鉄砲を持ち運んでいないかがとりしまられた。
- ニ. 馬借が運んだ木綿や仏教の経典は、朝鮮半島や中国へ輸出された。

問3 史料2について、馬借が活躍した室町時代には、足利氏を将軍とする幕府が支配を行いました。室町幕府を開いた将軍を、次のイ～ニから一つ選び記号で答えなさい。

- イ. 足利尊氏      ロ. 足利義満      ハ. 足利義政      ニ. 足利義教

問4 史料3は、江戸時代に徳川将軍が大名を統制するためにつくった制度で、大名は1年おきに大名行列をくんで江戸と領地を往復しました。江戸時代の旅や人の移動について述べた文として誤っているものを、次のイ～ニから一つ選び記号で答えなさい。

- イ. 史料3の制度は、3代徳川家光のころに整えられた。  
 ロ. 琉球は、徳川将軍の代がわりに慶賀使を派遣した。  
 ハ. 陸上交通では、江戸を起点にして五街道がととのえられた。  
 ニ. 曲亭(滝沢)馬琴は、『東海道中膝栗毛』を書いた。

問5 史料4は、江戸時代中期に俳諧の芸術性を高めた人物が、各地を旅して書いた紀行文の冒頭部です。この紀行文を何というか、答えなさい。

問6 史料5は、幕末に活動した吉田松陰が遊学のためにおとずれた場所を示した地図であり、次のX、Yの文は松陰がおとずれた場所について述べたものです。X、Yの文に当てはまる藩や港の正しい組合せを、あとのイ～ニから一つ選び記号で答えなさい。

- X. 藩主の徳川光圀が、儒学者を集めて『大日本史』の編さんを始めた。  
 Y. 日米修好通商条約により、開港することが決められた。

解答の記号	イ	ロ	ハ	ニ
X	会津	会津	水戸	水戸
Y	新潟	平戸	新潟	平戸

5

次の文を読んで、あとの問いに答えなさい。

明治維新から1945年までの歴史学習を終えた大濠中学生は、日本の「近代」の特徴について、グループ討論を行いました。そのうち3つのグループの、発表の要点を紹介します。

《A グループ》

私たちは「近代」の特徴を「考え方」にあると思いました。この時代に活躍した人々には、新しい「考え方」を自分のこととして受け入れ、社会に強く訴えた人たちがいました。近代という時代には新しい価値観の広がりが見られます。

- ・福沢諭吉…西欧文明の基礎には、個人の自立があると主張し、また個人が自立するためには学問が必要であると説きました。
- ・内村鑑三…<sup>①</sup>不敬事件をおこし、第一高等中学校の職を追われました。しかしこの体験によってキリスト教徒としての自覚を深め、日露戦争に対しては強く戦争に反対しました。

《B グループ》

私たちは、「近代」では「経済」が重視されたと考えます。諸外国が江戸幕府に開国を迫ったのも自由貿易が目的であり、明治政府も「富国強兵」をスローガンに国内産業の発展に力を入れました。日本経済を支える中央銀行として<sup>②</sup>日本銀行が創設され、金融制度が整備されます。しかし<sup>③</sup>1927年に図1のような裏面が印刷されていない紙幣がつくられたことは、日本の経済が不安定であったことを示しています。

図1



(表面)



(裏面)

(日本銀行金融研究所貨幣博物館ホームページより)

《C グループ》

私たちは「戦争」に注目しました。日本は、近代以前に外国と戦った例は非常に少なく、また第二次世界大戦後は平和憲法の下、戦争を行っていません。これに対して「近代」には多くの戦争（軍事行動を含む。以下同じ）が行われました。これらの戦争を通じて私たちが気付いたことは、一つは、④戦争は当事者の2国間で行われただけでなく、多くの国々がかかわっていたこと、もう一つは、⑤戦争が国内政治や国際政治に大きな影響を与えた、ということです。

問1 文中の下線部①の不敬事件とは、全国の学校に配られた国民道徳の基準を示す文書に対して、キリスト教徒である内村鑑三が最敬礼をしなかったとして批判された事件をさします。「忠君愛国」を中心とする国民道徳の基準として、憲法発布の翌年に公布されたこの文書を何といますか、答えなさい。

問2 文中の下線部②について、日本銀行創設による金融の安定は紡績業・製糸業などが急速に発達する基礎となりました。日本銀行の創設された時期を次のイ～ニから一つ選び、記号で答えなさい。

1871（明治4）年 廃藩置県

1877（明治10）年 西南戦争

1894～95（明治27～28）年 日清戦争

1904～05（明治37～38）年 日露戦争

1914～18（大正3～7）年 第一次世界大戦

問3 文中の下線部③について、次の表1を参考にして、第一次世界大戦期から1930年までの日本経済について述べた文として誤っているものをあとのイ～ニから一つ選び、記号で答えなさい。

表1 日本の貿易額の変遷（単位は100万円。100万円未満切り捨て）

年次	輸出 x	輸入 y	合計 x + y	差引 x - y
1913	716	794	1510	-78
1914	670	670	1340	0
1915	792	635	1427	157
1916	1233	878	2111	355
1917	1752	1201	2953	551
1918	2159	1901	4060	258
1919	2379	2500	4879	-121
1920	2200	2681	4881	-481
1921	1502	1940	3442	-438


年次	輸出 x	輸入 y	合計 x + y	差引 x - y
1922	1879	2215	4094	-336
1923	1686	2392	4078	-706
1924	2105	2971	5076	-866
1925	2670	3105	5775	-435
1926	2414	2917	5331	-503
1927	2382	2712	5094	-330
1928	2400	2744	5144	-344
1929	2604	2764	5368	-160
1930	1871	2005	3876	-134

（『近現代日本経済史要覧 補訂版』東京大学出版会より作成）

- イ. 関東大震災の影響が長引き、金融恐慌では「裏白」の紙幣が作られた。
- ロ. 第一次世界大戦で日本は貿易黒字となったが、戦後には貿易赤字となった。
- ハ. 第一次世界大戦後、日本の貿易額は縮小し、戦前の規模にもどった。
- ニ. 世界恐慌がおこり、翌年の日本の貿易額は輸出・輸入ともに減少に転じた。

問4 文中の下線部④について、次の図2はフランス人のビゴーが描いた日清戦争の風刺画で、朝鮮への支配権をめぐる日本と清国との争いを魚釣りにたとえています。他方、橋の上から日清両国の争いの様子をながめている国は、日清戦争の講和条約に対して即座に介入を行いました。この介入を行った国を答えなさい。

図2



問5 文中の下線部⑤について、満州を舞台に発生した武力紛争に関して、次の図3は、イギリス人のリットン卿を団長とした調査団の活動を写した写真です。1931年に発生したこの武力紛争は1933年まで続きました。この1931年から1933年までの期間におこった出来事をあとのイ～ニから二つ選び、記号で答えなさい（順不同）。

図3



- イ. 国家総動員法が制定された。
- ロ. 政党内閣が終わった。
- ハ. 満洲の軍閥張作霖が爆殺された。
- ニ. 日本は国際連盟からの脱退を通告した。

6

次の文を読んで、あとの問いに答えなさい。

憲法は、国民の基本的人権を守るために国家権力を制限するしくみを定めた法である。

日本国憲法は、①自由権、②社会権などの基本的人権を保障しており、国民は、不断の努力によってこれを保持しなければならないとしている。そして、憲法は、基本的人権を守るための権利として、憲法改正の国民投票権や最高裁判所裁判官の国民審査権などからなる（ A ）権などを保障している。

権力分立については、立法・行政・司法の三権にわけ、それぞれを国会・内閣・裁判所がなっている。③国会は「国権の最高機関」として重要な仕事を行っている。すなわち、国会は「国の唯一の立法機関」として法律の制定を行い、さらに④予算の議決や〈 B 〉を行うことによって、国の政治の基本的な方向を定めている。

内閣は、法律や予算に基づいて行政全般の仕事を行う。⑤内閣と国会との関係については、内閣は国会の信任に基づいて成立している。

⑥裁判所の仕事は、法的な紛争に判断をくだし解決をはかることである。また、裁判所には、憲法を守り、人々の人権を保障するという重要な役割があり、とくに終審裁判所である最高裁判所は「憲法の番人」ともいわれている。

問1 文中の（ A ）に当てはまる語句を漢字2字で答えなさい。

問2 文中の〈 B 〉に当てはまる語句を次のイ～ニから一つ選び、記号で答えなさい。

- イ. 条約の承認
- ロ. 国務大臣の罷免
- ハ. 最高裁判所長官の任命
- ニ. 国事行為の承認

問3 文中の下線部①に関して、自由権として正しいものを、次のイ～ニから一つ選び記号で答えなさい。

- イ. 能力に応じて教育を受ける権利
- ロ. 労働者が団結する権利
- ハ. 職業を選ぶ権利
- ニ. 国や地方公共団体に政治について希望を述べる権利

問4 文中の下線部②に関して、社会権は20世紀になって登場した権利である。社会権を保障しているもの、あるいは社会権の保障を謳っているものを、次のイ～ニから一つ選び記号で答えなさい。

- イ. 国際人権規約
- ロ. 大日本帝国憲法
- ハ. アメリカ独立宣言
- ニ. フランス人権宣言

問5 文中の下線部③に関して、国会が「国権の最高機関」とされているのはなぜか、次の語句を用いて説明しなさい。

主権

問6 文中の下線部④について述べた文として、正しいものを次のイ～ニから一つ選び、記号で答えなさい。

- イ. 参議院で衆議院と異なった議決をした場合、両院協議会が開かれ、それでも意見が一致しない場合、参議院の議決が国会の議決となる。
- ロ. 参議院が衆議院の可決した予算を受け取った後、30日以内に議決しないときは、衆議院の議決が国会の議決となる。
- ハ. 参議院が衆議院の可決した予算を受け取った後、30日以内に議決しないときは、衆議院が出席議員の3分の2以上の多数で再び可決すれば、衆議院の議決が国会の議決となる。
- ニ. 衆議院、参議院のどちらからでも審議できるが、異なった議決をした場合、両院協議会が開かれ、それでも意見が一致しない場合、衆議院の議決が国会の議決となる。

問7 文中の下線部⑤に関して、次のa～dのうち、憲法上、内閣が召集の要求や決定ができるものの正しい組合せを次のイ～ニから一つ選び、記号で答えなさい。

- a. 通常国会      b. 臨時国会      c. 特別国会      d. 参議院の緊急集会

解答の記号	イ	ロ	ハ	ニ
正しい組合せ	a・c	a・d	b・c	b・d

問8 文中の下線部⑥に関して、日本の裁判制度について述べた文として誤っているものを次のイ～ニから一つ選び、記号で答えなさい。

- イ. 最高裁判所だけでなく、すべての下級裁判所も違憲審査権を有している。
- ロ. 裁判官は、国会議員で組織される弾劾裁判所の裁判によって罷免される。
- ハ. 簡易裁判所の判決に対して不服がある場合、家庭裁判所に控訴することができる。
- ニ. 検察官が起訴しなかった事件でも、検察審査会が起訴すべきだと2回決議すれば、必ず起訴される。

氏名	
----	--

受験番号					
------	--	--	--	--	--

1	問 1	山脈	問 2	県	問 3	問 4
	問 5	問 6	問 7	(1)	(2)	
	問 8					

小	計

2	問 1		問 2	問 3	問 4	
	問 5	問 6	問 7			

小	計

3	問 1	問 2		
	問 3	問 4	問 5	問 6

小	計

4	問 1	問 2	問 3	問 4	問 5	
	問 6					

小	計

5	問 1		問 2	問 3	問 4	
	問 5					

小	計

6	問 1		問 2	問 3	問 4	
	問 5					
	問 6	問 7	問 8			

小	計