

1

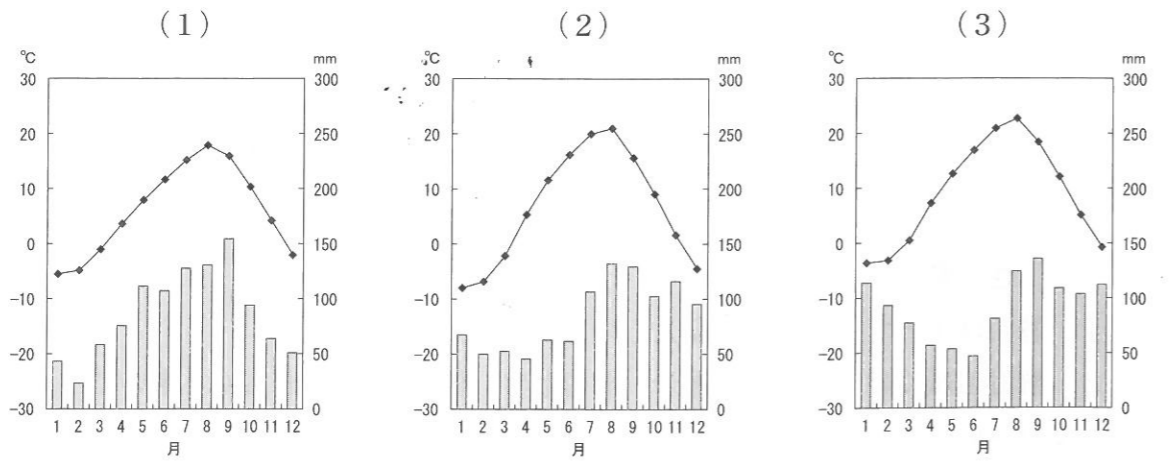
次の表はある調査会社が2015年に行った、「都道府県魅力度」調査の1位から10位までの結果です。これを見て、あとの問いに答えなさい。

順位	都道府県名
1位	北海道
2位	京都府
3位	東京都
4位	沖縄県
5位	A 県
6位	長崎県
7位	福岡県
8位	奈良県
9位	大阪府
10位	B 県

問1 次のA、Bの文は、それぞれ表中5位の A 県、10位の B 県について述べたものです。県名を漢字で答えなさい。

- A. この県の県庁所在都市は、日本有数の貿易港を持つ大都市である。県の西側には山地、東部にはゆるやかな台地・丘陵地が広がる。観光地である箱根や鎌倉には、多くの外国人も訪れる。
- B. この県の県庁所在都市は善光寺の門前町として発達し、江戸時代には宿場町としても栄えた。県の北から南にかけて三つの山脈が並行して走り、「日本アルプス」と呼ばれている。

問2 表中1位の北海道は日本の都道府県の中で最も面積が大きく、各地で気候にも違いがあります。次の(1)～(3)のグラフは北海道の札幌市、旭川市、釧路市のいずれかの気温・降水量を表したものです。都市とグラフの正しい組合せをあとのイ～へから一つ選び、記号で答えなさい。



気象庁資料による。

解答の記号	イ	ロ	ハ	ニ	ホ	ヘ
(1)	札幌市	札幌市	旭川市	旭川市	釧路市	釧路市
(2)	旭川市	釧路市	札幌市	釧路市	札幌市	旭川市
(3)	釧路市	旭川市	釧路市	札幌市	旭川市	札幌市

問3 次の表は、近畿地方に位置する表中2位の京都府、8位の奈良県、9位の大阪府の産業や生活に関する統計です。表中あ、いに当てはまる項目の正しい組合せをあとのイ～ニから一つ選び、記号で答えなさい。

	あ (単位億円)	い (単位%)
京都府	696	60.9
奈良県	432	73.8
大阪府	331	54.4

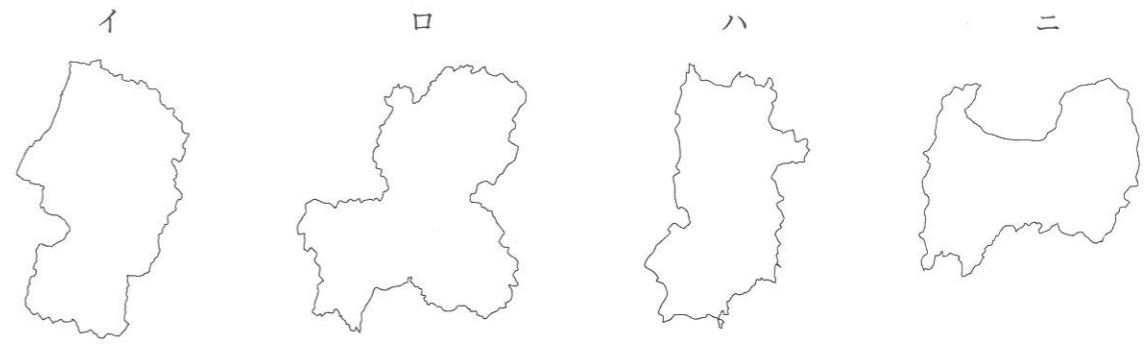
統計はいずれも2013年。総務省統計などによる。

解答の記号	イ	ロ	ハ	ニ
あ	農業生産額	農業生産額	製造品出荷額	製造品出荷額
い	大学進学率	持ち家住宅率	大学進学率	持ち家住宅率

問4 表中4位の沖縄県、6位の長崎県には多くの島々があります。沖縄県、長崎県の島々について述べた次の文の下線部(イ)～(ニ)のうち、誤っているものを一つ選び、イ～ニの記号で答えなさい。

南西諸島のうち、北緯27度以南に位置する沖縄県の島々を琉球諸島という。琉球諸島には沖縄島のほか、沖縄島に次いで面積が大きい (イ)奄美大島や、日本最西端の (ロ)与那国島などが含まれる。長崎県にもよく知られた島が多く、韓国との航路を持つ (ハ)対馬や、カトリック教会が多い (ニ)五島列島の福江島などはその代表例である。

問5 表中8位の奈良県は海に面していない内陸県です。次のイ～ニのうち、奈良県の形を選び記号で答えなさい。なお、図の縮尺は同一ではありません。



問6 次の地図は、表中3位東京都の八王子市にある高尾山周辺の縮尺25,000分の1地形図です。これについてあとの(1)、(2)の問いに答えなさい。



平成27年発行25,000分の1地形図「八王子」から一部抜粋

(1) 地形図から読み取ることができる内容について述べた次のイ～ニの文のうち、誤っているものを一つ選び記号で答えなさい。

- イ. 「高尾山口駅」は谷間に位置するJRの駅である。
- ロ. 「高尾山駅」のほうが「山上駅」よりも標高が高い。
- ハ. 「高尾山口駅」から「高尾山駅」までは徒歩で行くこともできる。
- ニ. エコーリフトは主に尾根筋に沿ってつくられている。

(2) 地形図中の「高尾山駅」と高尾山山頂(△の地点)の直線距離は地図上で約5cmです。「高尾山駅」と高尾山山頂の間の平均勾配はおよそどのくらいになるか、次のイ～ニから最も近いものを一つ選び、記号で答えなさい。なお、水平距離100mにつき1m上った場合、1/100と表します。

※勾配…斜面の傾きの程度のこと。

- イ. 1/5      ロ. 1/10      ハ. 1/15      ニ. 1/20

2

次の文を読んで、あとの問いに答えなさい。

2015年7月、「明治日本の産業革命遺産 製鉄・鉄鋼、造船、石炭産業」として、①23か所にわたる地域の建造物や遺跡が世界遺産に登録された。明治時代は日本が近代化を推進した時代であり、石炭の採掘や②製鉄は西洋の技術を取り入れながら効率や生産性を向上させ、その後の重工業の発展の基礎を築いた。

日本では戦後、③四大工業地帯を中心に重工業化が進んだ。そして資源に乏しい日本は、④原料を輸入し、高い技術力で優れた工業製品をつくって輸出する加工貿易に力を入れた。1980年代に入ると、⑤外国製品との競争や関税などをめぐって貿易上の対立が起こり、この対立を避けるため、日本の企業はアメリカやヨーロッパに進出して、自動車や電気製品などを現地で生産するようになった。また市場の拡大などを求めて、東南アジアや中国に工場を移した。こうして多くの日本企業が世界各地で生産を行い、その結果、日本国内では「産業の空洞化」と呼ばれる現象がおこった。


アジアの国々の工業化の進展や、2008年から始まった世界同時不況の影響で、現在、日本の工業をとりまく環境はきびしさを増している。こうしたなかで、日本の企業は⑥さまざまな取り組みを通して活路を見いだそうとしている。

問1 文中の下線部①に関して、次の(1)～(3)の問いに答えなさい。

(1) 日本には2016年末現在、自然遺産と文化遺産をあわせて20件の世界遺産があります。次のイ～ニのうち、日本の世界自然遺産の例として誤っているものを一つ選び、記号で答えなさい。

- イ. 小笠原諸島      ロ. 紀伊山地      ハ. 知床      ニ. 白神山地

(2) 次の写真は、福岡県大牟田市にある「宮原坑」という遺構を撮影したものです。この写真のやぐらのような施設が持っていた役割について述べたあとのイ～ニの文のうち、正しいものを一つ選び記号で答えなさい。



- イ. 労働者や採掘した石炭を運ぶためのエレベータとしての役割。
- ロ. 大型船の積み荷を上げ下ろしするためのクレーンとしての役割。
- ハ. 溶解した金属などの材料を流し込んで鉄鋼を作る高炉としての役割。
- ニ. 工業用水確保のための取水・送水をおこなうポンプとしての役割。

(3) 次の写真は1908（明治41）年につくられ現在も稼働中の、福岡県大牟田市の三池港の水門を撮影したものです。この水門は、船が利用できるように水門内の水位を8.5m以上に保つためにつくられたものですが、これは三池港が面する有明海のある問題を解決するためでした。有明海のどのような問題を解決するためにこの水門がつけられたのか、句読点を含めて10字以上20字以内で説明しなさい。

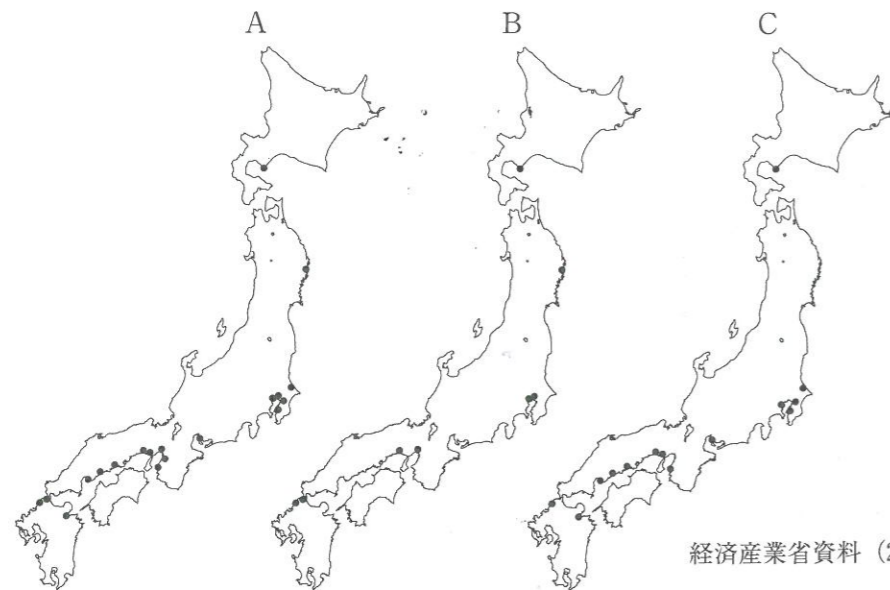


福岡県ホームページによる。



大牟田市石炭産業科学館ホームページによる。

問2 文中の下線部②に関して、次のA～Cは1950年、1972年、2013年のいずれかの、日本の製鉄所（高炉）の分布です。A～Cを古いものから年代順に正しく並べたものを、あとのイ～へから一つ選び記号で答えなさい。



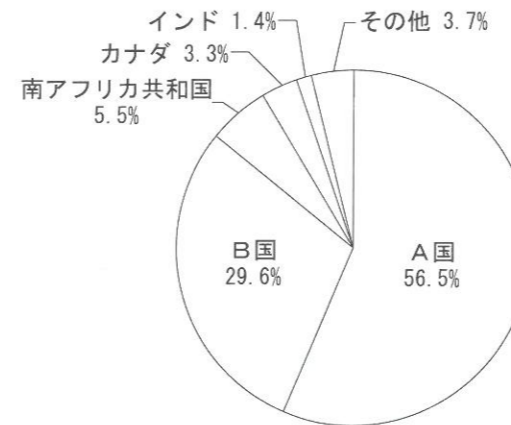
経済産業省資料（2013年）などによる。

- イ. A → B → C      ロ. A → C → B      ハ. B → A → C
- ニ. B → C → A      ホ. C → A → B      ヘ. C → B → A

問3 文中の下線部③に関して、四大工業地帯について述べた次のイ～ニの文のうち、誤っているものを一つ選び記号で答えなさい。

- イ. 京浜工業地帯は重化学工業のほか、印刷産業や旅客機の組み立て産業も発達している。
- ロ. 中京工業地帯は現在、四大工業地帯のうちで工業出荷額が最も大きい。
- ハ. 阪神工業地帯は、他の工業地帯に比べて工業出荷額に占める金属工業の割合が高い。
- ニ. 北九州工業地帯は、関東内陸など他の工業地域の成長により近年地位が低下している。

問4 文中の下線部④に関して、次のグラフは製鉄の原料となる鉄鉱石の、2014年における日本の輸入相手国とその割合を表したものです。グラフ中のA国、B国に当てはまる国の正しい組合せを、あとのイ～ニから一つ選び記号で答えなさい。



日本国勢図会2015/16による。

解答の記号	イ	ロ	ハ	ニ
A国	中国	中国	オーストラリア	オーストラリア
B国	ブラジル	アメリカ合衆国	ブラジル	アメリカ合衆国

問5 文中の下線部⑤のような貿易上の対立のことを何というか、漢字で答えなさい。

問6 文中の下線部⑥に関して、日本の企業の取り組みや、それともなう日本の変化について述べた次のイ～ニの文のうち、誤っているものを一つ選び記号で答えなさい。

- イ. 高い技術力を生かし、国内で消費される高機能製品の生産に力を入れている。
- ロ. 電気自動車など、環境問題に配慮した製品の生産に力を入れている。
- ハ. 使われなくなった工場用地に、リサイクル施設や物流施設が建設されている。
- ニ. 東南アジアや中国の工場に出稼ぎに行く、日本人の労働者が急増している。

3

次の[A]～[C]の文を読んで、あとの問いに答えなさい。

[A]

縄文時代や弥生時代の人々は文字を用いた記録を残していない。そのため、人々の生活や社会の様子は、①出土した土器や石器などの道具、住居や集落の跡などを調べることによって明らかにされている。古墳時代には大陸や朝鮮半島の影響から、日本でも漢字が用いられるようになった。ヤマト政権の首長の名前を「獲加多支鹵（②）」と漢字で記した鉄剣や鉄刀が、九州と関東地方で発見されたことは、5世紀のヤマト政権の勢力の大きさを示している。

問1 文中の下線部①に関して、縄文時代や弥生時代について述べた文として、正しいものを次のイ～ニから一つ選び、記号で答えなさい。

- イ. 縄文時代の集落の近くには貝塚ができ、食べ物や木製の鋤や鍬などの道具が捨てられていた。
- ロ. 縄文時代には人々が定住するようになり、竪穴住居で生活していた。
- ハ. 弥生時代には三内丸山遺跡にみられるように、水田近くの台地に集落がつけられた。
- ニ. 弥生時代の住居には、朝鮮半島から伝わったかまどが設けられた。

問2 文中の（②）に当てはまる、ヤマト政権の首長をあらわす語句を漢字で答えなさい。

[B]


律令国家建設を進めた天武天皇は、日本の国のおこりや、天皇が国を治めるいわれを伝えるために歴史書をつくることを命じた。この後、③8世紀には『古事記』や『日本書紀』が成立し、平安時代の10世紀まで朝廷によって歴史書がつけられた。一方、④平安時代には、歌集や天皇のきさきに仕えた女性による小説などの優れた文学作品が生まれ、当時の人々の心情を伝えている。

問3 文中の下線部③に関して、8世紀から10世紀までのことを述べた文として誤っているものを次のイ～ニから一つ選び、記号で答えなさい。

- イ. 歴史書に加え、全国の国ごとに産物や伝承などをまとめた『風土記』がつけられた。
- ロ. 関東で平将門が、瀬戸内海地方で藤原純友が、周辺の武士団を率いて反乱を起こした。
- ハ. 坂上田村麻呂の軍勢が蝦夷の抵抗をしずめ、朝廷は東北地方への支配を広げた。
- ニ. 藤原氏と血縁関係がうすい後三条天皇が位につき、天皇中心の政治の復活をめざした。

問4 文中の下線部④に関して、この時期の宮廷では漢詩文ばかりでなく、和歌の地位も高まりましたが、これは紀貫之が<図1>などの作品がのせられた歌集を編さんしたことによります。この歌集の名前をあげて、<図1>を参考にしながら、この歌集の特色を簡潔に説明しなさい。

<図1>



[C]

武士が大きく力をのばした⑤鎌倉時代には、軍記物が多く著され、武士たちの活躍が描かれた。なかでも、⑥琵琶法師によって語り伝えられた軍記物は、民衆にも広く知られることとなった。また、戦いや僧の伝記を描いた絵巻物も多くつけられ、そこには当時の人々の様子が生き生きと表現されている。

問5 文中の下線部⑤に関して、鎌倉時代について述べた文として正しいものを次のイ～ニから一つ選び、記号で答えなさい。


- イ. 2度にわたる元の襲来ののち、幕府は博多湾に石塁を築き、守りをかためた。
- ロ. 時宗を開いた一遍は、法華経の題目をとねえることで国も人々も救われると説いた。
- ハ. 源氏の将軍がとだえたのち、後鳥羽上皇は幕府をたおそうと兵をあげたが、敗れた。
- ニ. 争乱で焼かれた延暦寺の復興にさいし、運慶・快慶によって金剛力士像がつけられた。

問6 文中の下線部⑥について、この文学作品に当てはまるものを次から一つ選び、記号で答えなさい。

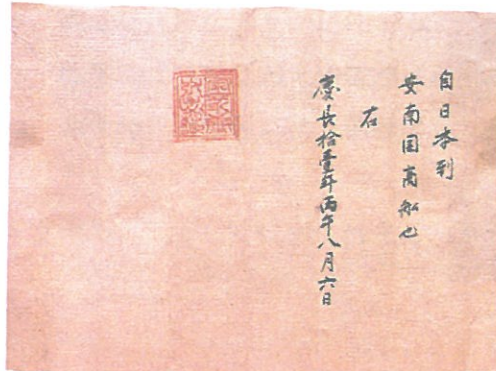
- イ. 『平家物語』
- ロ. 『徒然草』
- ハ. 『源氏物語』
- ニ. 『太平記』

次の史料に関する各問いに答えなさい。

史料1



史料2



史料3



史料4

どこの港でも、外国船が入港するのを見たなら、有無を言わず、いちずに打ち払え。逃亡したら追う必要はない。もし強引に上陸したら、つかまえるか、または打ち殺してもかまわない。

(『徳川禁令考』から 一部要約)

問1 史料1は、14世紀から16世紀にかけて東シナ海などで活動していた集団が、中国の軍と戦っている様子が描かれています。この集団について述べた文として誤っているものを次のイ～ニから一つ選び、記号で答えなさい。

- イ. この集団は九州北部の島々などを根拠地とし、貿易や海賊行為を行っていた。
- ロ. この集団には、日本人以外に朝鮮人や中国人も加わっていた。
- ハ. 足利義満は明の要求に応じてこの集団の活動を禁止し、明と勘合貿易を行った。
- ニ. 織田信長は法令を出してこの集団の取りしまりを行った。

問2 史料2は、商船が日本から安南国(現在のベトナム)へ向かうことを将軍が許可した文書です。この文書が出された17世紀前半のことを述べた文として、正しいものを次のイ～ニから一つ選び、記号で答えなさい。

- イ. 幕府は朱子学を重視し、孔子をまつる聖堂を江戸の湯島に建てた。
- ロ. 朝倉氏の一乗谷や北条氏の小田原などの城下町がつけられた。
- ハ. 対馬藩が交渉を行い、日本と朝鮮との国交が回復した。
- ニ. 蓮如が北陸地方に拠点を置き、浄土真宗(一向宗)を広めた。

問3 3代将軍徳川家光の時代には、史料2をもった大名や商人の船はみられなくなり、長崎に出島が完成します。また、史料3は島原・天草一揆が発生した九州地方でも用いられ、幕府は島原・天草一揆のちにポルトガル船の来航を禁止しました。これらのことをふまえて、江戸幕府が鎖国を行ったねらいを二点あげて説明しなさい。

問4 史料4は江戸時代後半に幕府が出した法令です。18世紀後半から19世紀にかけての江戸時代後半のことを述べた文として、誤っているものを次のイ～ニから一つ選び記号で答えなさい。

- イ. イギリス・アメリカ・ロシアの船の接近が多くなったため、幕府は史料4の法令を出した。
- ロ. 史料4の法令は日米和親条約が結ばれたときにとりやめとなった。
- ハ. 多色刷りの浮世絵版画が人気となり、歌川広重らが優れた作品を残した。
- ニ. 水野忠邦は江戸・大阪周辺の大名領や旗本領を幕府領にしようとしたが、失敗した。

問5 史料4の法令のような幕府の政策や鎖国を批判する蘭学者も現れましたが、江戸時代の蘭学者について述べた文として正しいものを次のイ～ニから一つ選び、記号で答えなさい。

- イ. 前野良沢はヨーロッパの測量術で正確な日本地図をつくった。
- ロ. 高野長英は『解体新書』を出版した。
- ハ. 渡辺崋山は寒暖計や発電機(エレキテル)を作った。
- ニ. 緒方洪庵は大坂(阪)で蘭学塾の適塾を開いた。

5

次の文を読んで、あとの問いに答えなさい。

1871年、欧米諸国の政治や産業の状況を見るため、岩倉使節団が派遣された。約2年間に及んだこの本格的な視察団は、①世界をめぐるその洋行の記録を残している。

「②条約を結びそこない 金とられ 世間に対し なんといわくら」などと言われたこともあったが、岩倉使節団は訪問した国々では大きな歓迎を受けていた。実際に海外を見てきた使節団の参加者たちは、③帰国後、日本の政治の主たる担い手となった。日本が政治制度の確立、産業の発展、④教育の充実などを達成していくにあたって、使節団の参加者たちが果たした役割は大きかった。このように岩倉使節団は日本人による洋行の歴史の先駆けとなり、⑤その後も、多くの人々が海外に学び、その洋行体験をもとに活躍していった。

※洋行…欧米へ渡航・留学すること。

問1 文中の下線部①に関して、次の史料は、岩倉使節団に参加した人物が著した記録の一部抜粋である。ある国を訪問したとき、著者は、この国が日本にとって最も参考にすべき国だと考え、史料文中にあるような感想を持ちました。その後、この国には19世紀の終わりに伊藤博文らが憲法調査に派遣されるなど、多くの政治家が再び視察に向かうこととなります。史料文中の [ X ] に当てはまる国を、あとのイ～ニから一つ選び記号で答えなさい。

[ X ] の立場や方針は、日本に似ており、この国の政治や風俗を知ることは、イギリスやフランスについて知ることよりも得るものが多いだろう。

(久米邦武編『特命全権大使米欧回覧実記』から、一部要約)

イ. ドイツ      ロ. イタリア      ハ. アメリカ      ニ. ロシア

問2 文中の下線部②に関して、岩倉使節団は不平等条約改正の事前交渉を行うことも目的としていました。しかし、この事前交渉は失敗し、その後も不平等条約改正の交渉は長く続いていくこととなります。日本における不平等条約改正交渉の歴史に関係した次の a～c の文を、古いものから年代順に正しく並べたものをあとのイ～へから一つ選び、記号で答えなさい。

- a. 大隈重信が条約改正交渉に乗り出したが、襲撃を受けて負傷し、交渉は中断した。  
b. 欧化政策の一環として、井上馨が鹿鳴館を建設した。  
c. 寺島宗則が関税自主権の回復交渉を行ったが、イギリスの反対で失敗した。

イ. a→b→c      ロ. a→c→b      ハ. b→a→c  
ニ. b→c→a      ホ. c→a→b      ヘ. c→b→a

問3 文中の下線部③のようになっていくきっかけに、明治六年の政変という事件がありました。この事件では、西郷隆盛や板垣退助ら留守政府と、岩倉使節団の岩倉具視や大久保利通らが、朝鮮進出をめぐる対立しました。西郷隆盛、板垣退助らは征韓論をとなえましたが、これに反対した岩倉具視や大久保利通はどのような主張をしたか、簡潔に説明しなさい。

問4 文中の下線部④について、この使節団に最年少で参加した人物がのちに開いた学校として正しいものを、次のイ～ニから一つ選び記号で答えなさい。なお、学校名は現在の大学名で表記しています。

イ. 早稲田大学      ロ. 津田塾大学      ハ. 慶応義塾大学      ニ. 同志社大学

問5 文中の下線部⑤について、次の文は、洋行体験をもとに活躍したある文化人についての説明です。この人物として正しいものを、あとのイ～ニから一つ選び記号で答えなさい。

20世紀の初頭にフランスやアメリカに滞在した経験を持ち、『あめりか物語』や『ふらんす物語』などの著者として知られ、感覚美を尊重する耽美派の作家として名声を得た。

イ. 永井荷風      ロ. 太宰治      ハ. 二葉亭四迷      ニ. 小林多喜二

次の文を読んで、あとの問いに答えなさい。

日本国憲法は、前文で①憲法制定の由来や目的などを表明している。次の文は憲法前文の一部である。

日本国民は、②正当に選挙された国会における代表者を通じて行動し、われらとわれらの子孫のために、諸国民との協和による成果と、わが国全土にわたつて③自由のもたらす恵沢を確保し、④政府の行為によって再び戦争の惨禍が起ることのないやうにすることを決意し、ここに主権が国民に存することを宣言し、この憲法を確定する。そもそも国政は、国民の厳粛な信託によるものであつて、その権威は国民に由来し、その権力は国民の代表者がこれを行使し、その福利は国民がこれを享受する。これは人類普遍の原理であり、この憲法は、かかる原理に基くものである。われらは、これに反する一切の憲法、法令及び詔勅を排除する。

日本国憲法は、2016年に公布から70年を迎えた。この間、社会状況は著しく変化し憲法が制定されたときには存在しなかったような事態が生じている。そのため今日では、⑤憲法改正が政治の争点の一つとなっている。

問1 文中の下線部①に関して、日本国憲法は1947年5月に施行されましたが、当時の内閣総理大臣の名前を次のイ～ニから一つ選び、記号で答えなさい。

イ. 吉田茂      ロ. 幣原喜重郎      ハ. 鳩山一郎      ニ. 岸信介

問2 文中の下線部②に関連して、日本の選挙制度について述べた文として、誤っているものを次のイ～ニから一つ選び、記号で答えなさい。

- イ. 衆議院議員選挙の比例代表制では、投票者は政党名を記入することになっている。  
 ロ. 参議院議員選挙の比例代表制では、投票者は候補者名または政党名を記入することになっている。  
 ハ. 国会議員選挙については、選挙権と被選挙権は18歳以上である。  
 ニ. 海外に住む日本人は、衆議院議員選挙や参議院議員選挙に投票できる。

問3 文中の下線部③は基本的人権の保障の根拠の一つとなっています。基本的人権について、あとの(1)～(3)の問いに答えなさい。

(1) 日本国憲法は基本的人権が「侵すことのできない永久の権利」であるとしています。しかし、どんな場合でも人権がいつさいの制限をうけないということではなく、他の人たちの自由や権利との調整が公平に行われなければなりません。

そのため「経済活動の自由」を定めている憲法第22条第1項は、「何人も、< A >に反しない限り、居住、移転及び職業選択の自由を有する。」としています。< A >に当てはまる語句を5字で答えなさい。

(2) 日本国憲法が定めている参政権として誤っているものを、次のイ～ニから一つ選び記号で答えなさい。

- イ. 憲法改正に関する国民投票  
 ロ. 最高裁判所裁判官の国民審査  
 ハ. 地方自治特別法に関する住民投票  
 ニ. 地方公共団体の知事や市町村長に対する解職請求

(3) 基本的人権の保障において、最高裁判所は「憲法の番人」といわれています。その理由を25字以内で説明しなさい。

問4 文中の下線部④は平和主義について述べています。1990年代以降、世界秩序の変動のなかで日本の平和主義は大きな転換点に立たされています。1992年、各国の地域紛争解決や世界秩序の維持に貢献するため、国連平和維持活動(PKO)協力法が制定され、自衛隊の海外派遣が可能となりました。この法律が制定されるきっかけとなった出来事を、次のイ～ニから一つ選び記号で答えなさい。

- イ. 湾岸戦争      ロ. アメリカ同時多発テロ(9.11)  
 ハ. コソボ紛争      ニ. イラク戦争

問5 文中の下線部⑤に関して、日本国憲法の改正は、法律の改正と比べると、厳しい手続きを必要としています。憲法改正の発議について第96条は、衆議院、参議院それぞれの総議員のどれだけの賛成が必要とされていますか。正しい組合せを次のイ～ニから一つ選び、記号で答えなさい。

解答の記号	イ	ロ	ハ	ニ
衆議院	過半数	過半数	三分の二以上	三分の二以上
参議院	過半数	三分の二以上	三分の二以上	過半数

氏名	
----	--

受験番号				
------	--	--	--	--

1	問 1	A		B		問 2	問 3
	問 4	問 5	問 6 (1)	(2)			

小 計	

2	問 1	(1)	(2)											
		(3)												
問 2	問 3	問 4	問 5	問 6										

小 計	

3	問 1	問 2	問 3										
	問 4												
問 5	問 6												

小 計	

4	問 1	問 2										
	問 3											
問 4	問 5											

小 計	

5	問 1	問 2										
	問 3											
問 4	問 5											

小 計	

6	問 1	問 2	問 3 (1)	(2)										
	(3)													
問 4	問 5													

小 計	