

1

次の文は大濠中学校の先生と生徒の会話文です。文を読んで、あとの問いに答えなさい。

先生：「日本の人口がどのくらいか知っていますか。」
 生徒：「1億3,000万人ほどですか。」
 先生：「そのくらいです。2010年の統計では1億2,805.7万人です。日本の人口は190余りある世界の国々のなかでも10番目の多さです。」
 生徒：「①日本よりも人口が多い国は9か国しかないのですね。面積は何番目ですか。」
 先生：「日本の国土面積は **A** 万 km²で、世界の国々のなかで62番目です。国土の広さの割に人口が多い国なんですね。しかも、山がちな日本では、人口は平野部に集中しています。例えば、日本全体の人口密度は1 km²当たり **B** 人ですが、関東平野に位置する東京23区の人口密度は1 km²当たり1万4,000人を超えています。」
 生徒：「日本全体の平均よりもずいぶんと多いなあ。さすがに東京は大都市ですね。」
 先生：「東京、大阪、名古屋を三大都市とよぶことがあります。これらの都市やその近郊で暮らしている人々が、日本の総人口の半分近くを占めています。」
 生徒：「でも、地方にも人口が多い都市がありますね。」
 先生：「三大都市と比較すれば規模は小さいけれど、地方の経済・文化の中心となっている都市があります。人口191.4万人の **C**、146.4万人の福岡、117.4万人の広島などがこの地方中^{ちゆうすう}枢都市の代表例です。」
 生徒：「少子化が進んでいる日本では、今後、人口が減少していくんですね。」
 先生：「②日本の出生数はおおむね減少傾向にあり、人口減少が進みつつあります。③少子化は人口減少を引き起こすだけでなく、人口に占める高齢者の割合を増加させます。少子高齢化にともなってどのような問題が出てくるでしょうか。」
 生徒：「はい……。労働者が不足して経済活動が停滞するという問題や、**X** という問題が出てきます。」
 先生：「その通り。それらの問題解決のために現在、さまざまな少子高齢化対策が行われようとしています。また、人口減少をくいとめるために④外国人をより積極的に受け入れるべきだという主張もなされています。人口問題は君たちの今後の生活にかかわる重要な問題なので、しっかり学習して自分の意見を確立してください。」
 生徒：「はい。わかりました。」

(統計は2010年。総務省資料による。)

問1 文中の **A**、**B** に当てはまる数値の正しい組合せを次のイ～へから一つ選び、記号で答えなさい。

解答の記号	イ	ロ	ハ	ニ	ホ	へ
A	37.8	37.8	47.6	47.6	58.1	58.1
B	338.8	508.2	269.0	403.5	220.4	330.6

問2 文中の **C** に当てはまる都市名は何か、またその都市の位置は次の図1中のあ～えのうちどれか、都市名と位置の正しい組合せを、あとのイ～ニから一つ選び記号で答えなさい。



図1

解答の記号	イ	ロ	ハ	ニ
都市名	札幌	札幌	仙台	仙台
位置	あ	い	う	え

問3 文中の下線部①に関して、日本よりも人口が少ない国を次のイ～ニから一つ選び、記号で答えなさい。

- イ. インド ロ. アメリカ合衆国 ハ. ブラジル ニ. オーストラリア

問4 文中の下線部②に関して、次の図2は日本の出生数・出生率・死亡率の推移を表したものです。

図2について述べた文として誤っているものを、あとのイ～ニから一つ選び記号で答えなさい。

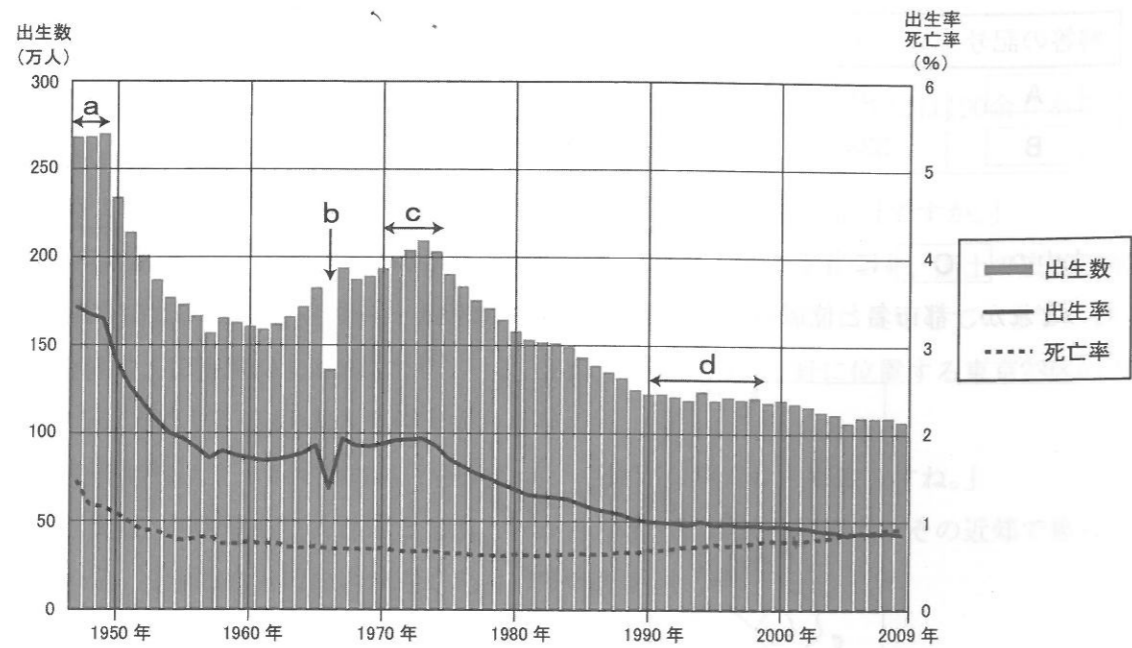
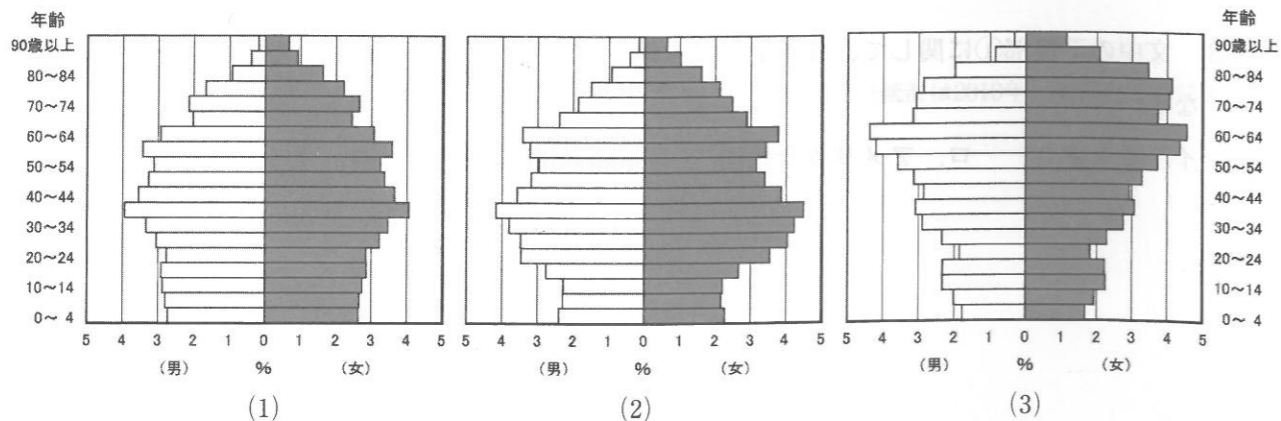


図2

厚生労働省資料による。

- イ. 終戦直後の a の時期には出生数が多く、この時期に生まれた世代を団塊の世代という。
- ロ. 石油危機にともなう不況の影響によって、b の年の出生数はその前後の年よりも少なかった。
- ハ. a の時期に生まれた世代が出産適齢期となった c の時期には、出生数がその前後の時期よりも多かった。
- ニ. d の時期には、出生数・出生率はほぼ横ばいであるが、死亡率が出生率よりも低かったため、人口は増加した。

問5 文中の下線部③に関して、少子高齢化の状況は地域によって異なります。次の(1)～(3)のグラフは秋田市、福岡市、那覇市のいずれかの男女別・年齢別人口構成を表したものです。グラフと都市の正しい組合せを、あとのイ～へから一つ選び記号で答えなさい。



統計は2010年。総務省資料による。

解答の記号	イ	ロ	ハ	ニ	ホ	ヘ
(1)	秋田市	秋田市	福岡市	福岡市	那覇市	那覇市
(2)	福岡市	那覇市	秋田市	那覇市	秋田市	福岡市
(3)	那覇市	福岡市	那覇市	秋田市	福岡市	秋田市

問6 文中の下線部④に関して、次の図3は、日本に居住する外国人の国籍（出身地）別人口の推移を表したものです。図3の日本に居住する外国人について述べた文として誤っているものを、あとのイ～ニから一つ選び記号で答えなさい。

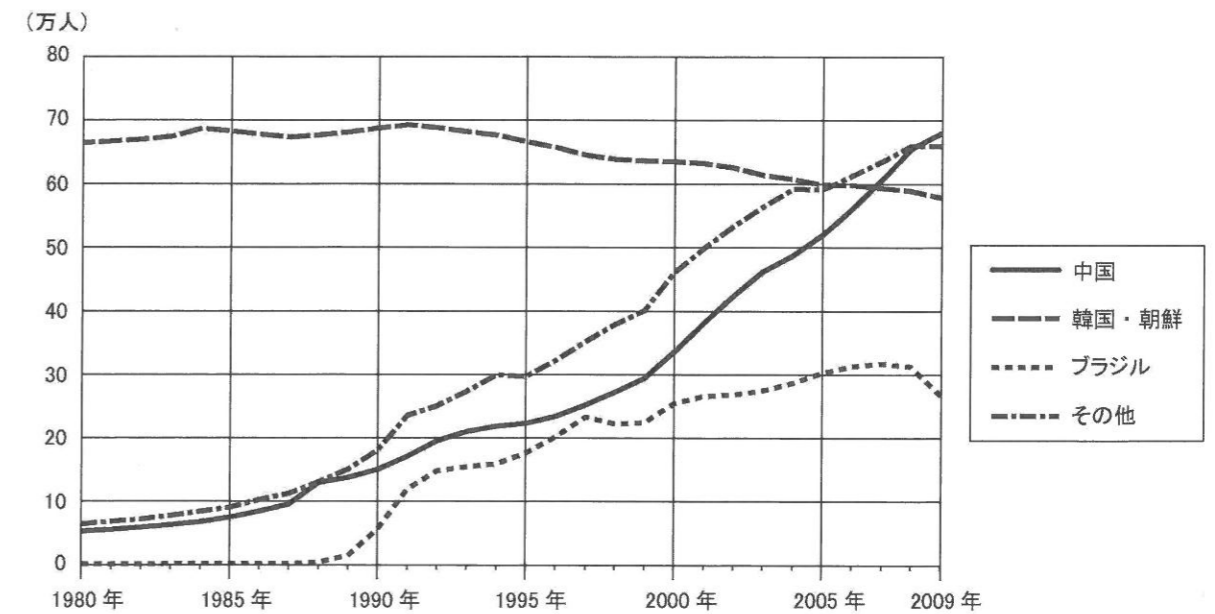


図3

中国は台湾、香港、マカオを含む。法務省資料による。なお、国名・出身地名の表記は資料のままである。

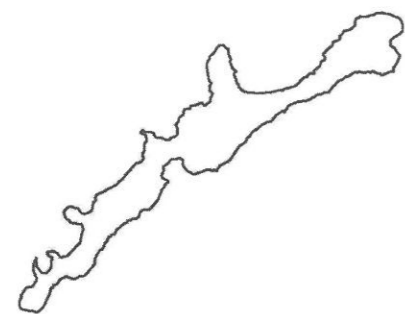
- イ. 図3の中国の人々の人口は1980年代以降急増し、2009年の人口は1990年の人口の3倍以上になった。
- ロ. 図3の韓国・朝鮮の人々は、太平洋戦争以前から日本に居住する人々やその子孫を多く含んでいる。
- ハ. 図3のブラジルの人々は、大都市を中心に居住し、主にサービス業で働いている。
- ニ. 2009年の時点では、図3の日本に居住する外国人の総人口は200万人を超えている。

問7 文中の に関して、少子高齢化が生じさせる代表的な問題について、 に入る適切な文を次の二つの言葉を用いて、句読点を含めて20字以上30字以内で答えなさい。

高齢者 若い世代

2

日本は本州・北海道・九州・四国のほか多くの島からなる島国です。次の6つの図は日本の主な島を表したものです。なお、どの図も上の方が北ですが、縮尺は図ごとに異なります。図をみて、あと
の問いに答えなさい。



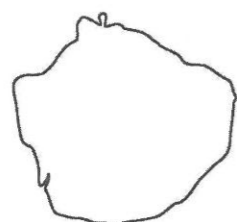
A島 (面積3,183km²)

本州、北海道、九州、四国を除けば日本で最大の島である。現在、ロシアによって占拠されている。



B島 (面積854km²)

日本海に位置する島であり、かつては日本有数の産出量をほこる金山があった。



C島 (面積504km²)

高い山々がそびえ「洋上のアルプス」とよばれる島であり、ユネスコ世界自然遺産の登録地である。



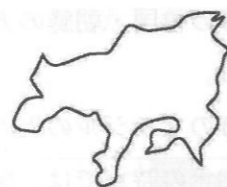
D島 (面積593km²)

本四架橋によって本州や四国とつながる島であり、北部を東経135度線が通過する。



E島 (面積1,208km²)

太平洋戦争の激戦地となった島であり、現在、面積の約2割を米軍基地が占める。



F島 (面積153km²)

瀬戸内海に位置する島のうち二番目に大きい島であり、江戸時代まで海上交通の拠点であった。

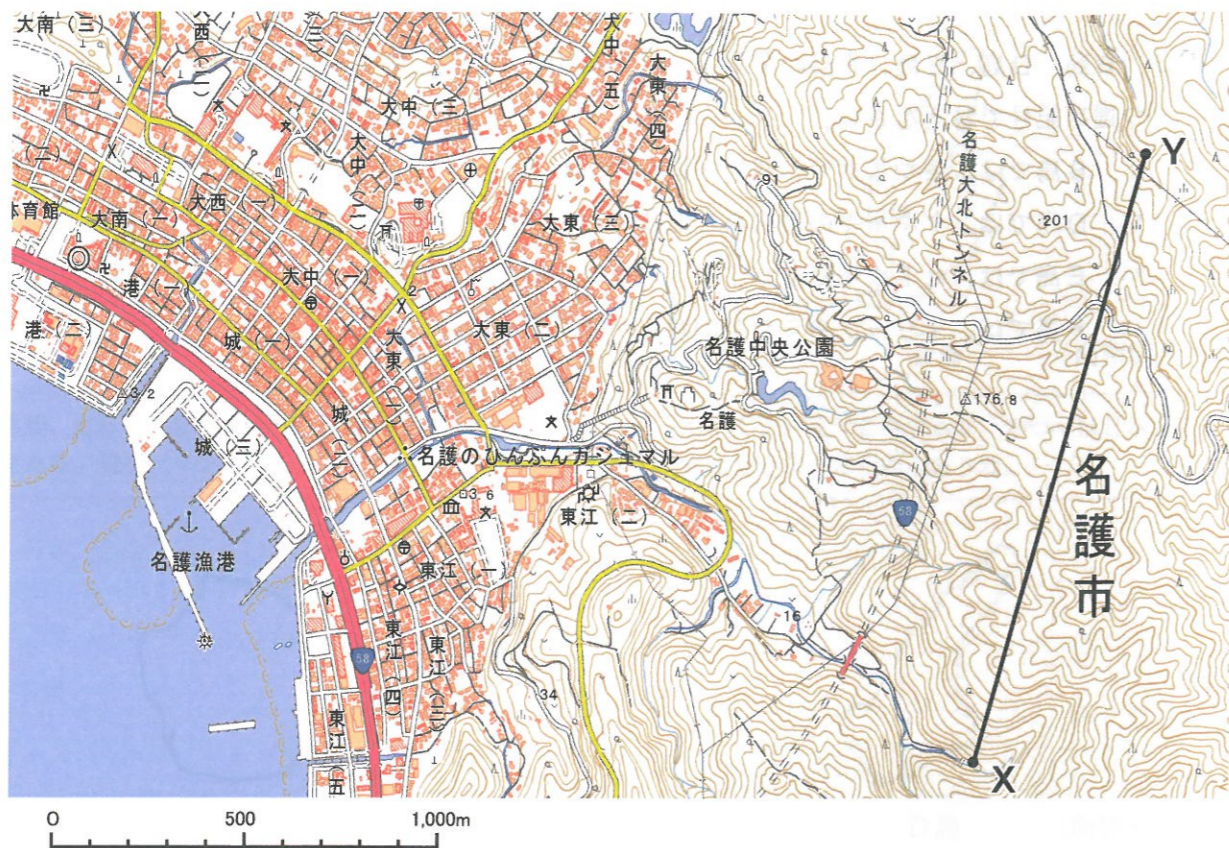
問1 A島とB島の島名をそれぞれ漢字で答えなさい。

問2 C島とD島は何県に属するか、県名をそれぞれ漢字で答えなさい。

問3 B島、D島、E島、F島の農業について述べた文として誤っているものを、次のイ～ニから一つ選び記号で答えなさい。

- イ. B島では、茶やイグサの栽培が盛んである。
- ロ. D島では、タマネギの栽培など園芸農業が盛んである。
- ハ. E島では、サトウキビやパイナップルの栽培が盛んである。
- ニ. F島では、オリーブやミカンの栽培が盛んである。

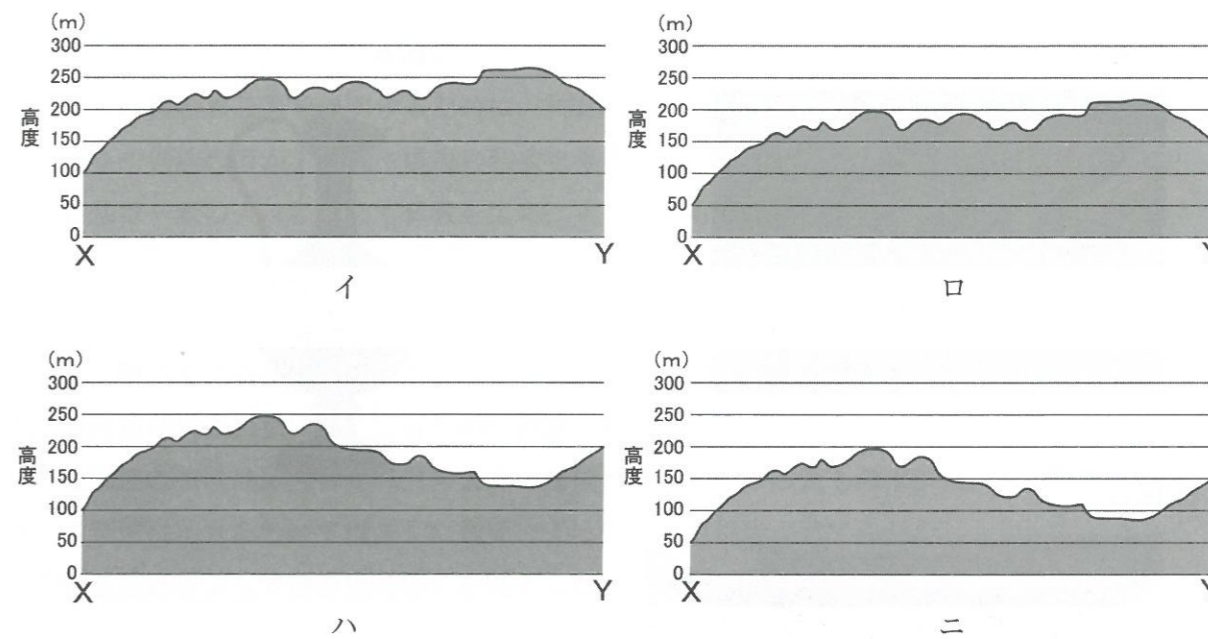
問4 次の図は、国土地理院のホームページから入手した、E島の一部を表した地理院地図（一部改変）です。図をみて、あとの(1)、(2)の問いに答えなさい。なお、この地理院地図の地図記号と等高線の表現方法は2万5千分の1地形図のものと同じです。



(1) 次の文は図で表された地域について述べたものです。文中の下線部(イ)～(二)から誤っているものを一つ選び、記号で答えなさい。

市役所から国道沿いに南東に1,100mほど進むと、左手に官公署、右手に(イ)消防署が現れる。官公署の先の交差点を左に曲がり、県道を北東方向に進む。すると道路右脇に設置された(ロ)水準点が見つかる。その150mほど先の三差路を左に曲がり、川を渡ったあと右に曲がり、左手に学校を見ながら川沿いに東に進む。学校の東側の、(ハ)果樹園が広がる山を階段で上がると神社に達する。神社のすぐ東側の山頂には(二)城跡があり、この山頂からは名護市街地を展望することができる。

(2) 図中のX—Yの高度を表した断面図として正しいものを次のイ～ニから一つ選び、記号で答えなさい。



問5 山陰地方や南四国地方の気候と比較した場合、F島など瀬戸内地方の気候はどのような点に特色があるか、次の二つの語句を用いて、句読点を含めて25字以内で述べなさい。

降水量 日照時間

3

原始・古代から中世にかけて、大陸から日本に多くの物品や文化が流入し、多様な分野に影響を与えました。そのことを示す次の図を見て、あとの問いに答えなさい。

図A



図B



図C



問1 図Aは朝鮮半島南部や畿内を中心とする日本列島各地で発見されている鉄の延べ板で、4世紀末から5世紀にかけて、日本はこの資源を入手するために朝鮮半島南部への進出や中国との結びつきの強化を図りました。4世紀から5世紀の日本について述べた文として、正しいものを次のイ～ニから一つ選び、記号で答えなさい。

- イ. 鉄器がはじめて伝来し、武器や工具として使用された。
- ロ. 集団間の戦いが起こったため、集落の周囲に濠がめぐらされた。
- ハ. 大阪平野に大仙古墳がつくれ、武具や馬具がおさめられた。
- ニ. 仏教が伝来したことを受けて、寺院を建てる豪族があらわれた。

問2 図Bは、ペルシャの影響を受けた漆器の水差しで、奈良時代の天皇の遺品として東大寺正倉院におさめられています。その天皇とはだれか、漢字で答えなさい。

問3 図Bに関して、奈良時代には天皇や貴族を中心とする国際色豊かで華やかな文化が花開きました。奈良時代の文化について述べた文として、誤っているものを次のイ～ニから一つ選び、記号で答えなさい。

- イ. 律令政府は仏教の力によって国を守るため、国分寺・国分尼寺を諸国につくった。
- ロ. 日本の国のおこりを説明するために、『古事記』・『日本書紀』が編さんされた。
- ハ. 天皇や貴族のほか、防人や農民の和歌を集めた『古今和歌集』が編さんされた。
- ニ. 行基は一般の人々に対して仏教を広め、人々とともに橋や用水路をつくった。

問4 図Bに関して、大陸からの文物は遣唐使によってもたらされました。遣唐使について述べた文として、誤っているものを次のイ～ニから一つ選び、記号で答えなさい。

- イ. 遣唐使は推古天皇によってはじめて派遣された。
- ロ. 遣唐使の中には、阿倍仲麻呂のように帰国がかなわなかったものがいた。
- ハ. 遣唐使にとまなわけて渡来した鑑真によって、唐招提寺が建てられた。
- ニ. 菅原道真によって遣唐使の停止が唱えられた。

問5 図Cは源平の争乱によって焼失した後に、武家や公家、民衆の寄付を集め、中国の技術を用いて再建された寺院建築です。この寺院建築と同じ時期につくられたものを次のイ～ニから一つ選び、記号で答えなさい。

- イ. 平等院鳳凰堂
- ロ. 慈照寺銀閣
- ハ. 『枕草子』
- ニ. 『方丈記』

問6 図Cに関して、この時期には武士や民衆の間に分かりやすく修行しやすい仏教の教えが広まりました。そのことについて述べた次の文中の に入る適切な文章を、句読点を含めて15字以内で答えなさい。

12世紀後半から13世紀にかけて、相次ぐ争乱や社会の変化の中で武士や民衆が成長してきたことや、浄土信仰が深まったことを背景に、武士や民衆の心のよりどころとして新しい仏教の教えが広まった。浄土宗の開祖となった法然は、だれでも ことを説いた。

4

次の文を読んで、あとの問いに答えなさい。

中世や近世に武家政権が発した法令や政策からは、社会や経済の変化に対する武家政権の対応を知ることができる。

鎌倉幕府によって1232年に制定された最初の武家法である（①）には、武家社会の独自の慣習が反映されている。また、鎌倉後期に幕府は②永仁の徳政令を発し、経済が発達するなかで貧しくなった御家人を救おうとした。室町時代から戦国時代にかけて幕府や大名は、③争乱を利用して成長した地方武士や、貨幣経済が発達するなかで力をつけた商工業者を支配するための法令や政策を打ち出した。

近世に入ると、④江戸幕府や藩は農村に対して様々な法令を出し、村の中心となっていた本百姓の没落を防ごうとした。しかし18世紀から、農業生産などの技術が向上するなかで多くの産業が発展し、貨幣を中心とした経済がいっそう広がったことで、農村や都市で貧富の拡大が問題になった。このため税収が不安定になった幕府や藩は、財政問題に苦しめられた。これを受けて行なわれた幕政改革では、荒廃した農村を救うことや、⑤有力商人の力をおさえることを目的とした法令が出された。

問1 文中の（①）に当てはまる語句を漢字で答えなさい。

問2 文中の下線部②に関して、鎌倉時代の社会や経済について述べた文として、誤っているものを次のイ～ニから一つ選び、記号で答えなさい。

- イ. 経済的に発展していた東国で、米と麦の二毛作が発達した。
- ロ. 分割相続によって領地が細かく分けられたため、御家人は貧しくなった。
- ハ. 永仁の徳政令によって、御家人は売った土地を取り戻すことができた。
- ニ. 寺社の門前や交通の便利な場所では、定期市が開かれるようになった。

問3 文中の下線部③について、室町幕府の政策や法令に当てはまるものを、次のイ～ニから一つ選び、記号で答えなさい。

- イ. 座を廃止して商工業を活発にした。
- ロ. 城下町に武士や商工業者を集めた。
- ハ. 土倉や酒屋から営業税を徴収した。
- ニ. 喧嘩両成敗を定めて家臣を統制した。

問4 文中の下線部④に関して、江戸幕府による農村支配について述べた文として、誤っているものを次のイ～ニから一つ選び、記号で答えなさい。

- イ. 本百姓に年貢をおさめさせ、村役人による自治を認めた。
- ロ. はじめて石高による検地を全国で実施した。
- ハ. 五人組の制度を定めて、年貢納入の連帯責任を負わせた。
- ニ. 百姓の経営を安定させるため、土地の売買を禁止した。

問5 文中の下線部⑤に関して、松平定信による寛政の改革では、旗本が貧しくなっていたことが問題となり、旗本を救済する政策が実施されました。その政策はどのような内容であったのか、江戸で活動していた金融業者の呼び名をあげて、句読点を含めて20字以内で説明しなさい。

5

日本の選挙の歴史について述べた次の文を読んで、あとの問いに答えなさい。

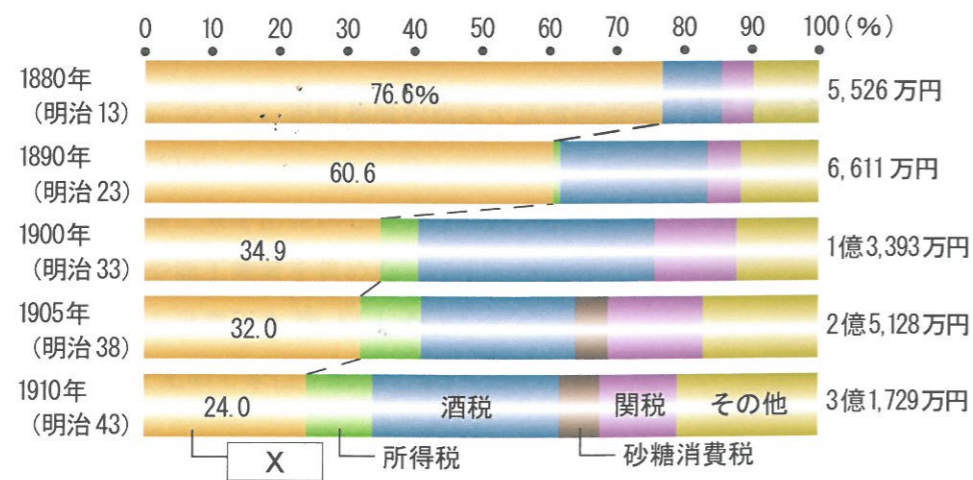
2015(平成27)年6月、公職選挙法が改正されて、選挙権年齢が満18歳以上に引き下げられた。1945(昭和20)年、①GHQ(連合軍総司令部)の指令にもとづいて衆議院議員選挙法が改正されて女性参政権が認められ、選挙権年齢が満25歳以上から満20歳以上に引き下げられて以来、70年ぶりの選挙権年齢の変更となった。

日本最初の衆議院議員選挙は、大日本帝国憲法が公布された翌年の1890(明治23)年に実施された。選挙権は満25歳以上で②直接国税15円以上を納める男子に限られ、有権者数は総人口の1.1%(約45万人)にすぎなかった。1900(明治33)年には、納税額が直接国税10円以上に引き下げられ、また③日露戦争中の増税によって有権者数は増加した。

普通選挙を求める運動は、第一次世界大戦後の民主主義的風潮の高まりのなかで、④都市を中心に大きな盛りあがりを見せた。1919(大正8)年に、本格的な政党内閣によって納税額が直接国税10円以上から3円以上に引き下げられたが、普通選挙の実現は見送られた。その後、1924(大正13)年には普通選挙実現をかかげる第二次護憲運動が起こり、⑤この運動によって翌25(大正14)年に結成された内閣は、納税額による制限を廃止して、満25歳以上の男子に選挙権を与える普通選挙法を成立させた。これにより、有権者数は約1240万人に達し、これまでの4倍以上に増加した。

問1 文中の下線部①について、最高司令官の名を答えなさい。

問2 文中の下線部②に関して、次のグラフは国税収入の推移を示しています。このグラフについて説明したあとの文中の に入る適切な語句を、漢字で答えなさい。なお、グラフ中の と文中の には同じ語句が入ります。



『近代経済史要覧』による。

1880(明治13)年には 収入が国税収入全体の4分の3以上を占めていたが、経済の発展にともない酒税・所得税などが増加し、1910(明治43)年には 収入は4分の1まで減少している。

問3 文中の下線部③に関して、増税に耐えてこの戦争を支えた人々が講和条約に対して不満を持ったことを背景に、日比谷焼打ち事件が occurred。講和条約のどのような点に人々は最も不満を持ったのか、この講和条約の名をあげて簡潔に述べなさい。

問4 文中の下線部④に関して、都市の発達とは生活様式や文化に変化をもたらしました。大正から昭和初期にかけての生活様式や文化について述べた文として誤っているものを、次のイ～ニから一つ選び記号で答えなさい。

- イ. 都市部から郊外に延びる鉄道沿線には、サラリーマン向けの文化住宅が建てられた。
- ロ. ラジオや映画などのマス＝メディアが発達した。
- ハ. 低価格・大量出版の円本や、大衆雑誌『キング』が創刊された。
- ニ. 『羅生門』を著した志賀直哉の作品が、都市の多くの人々から支持をえた。

問5 文中の下線部⑤について、この内閣の首相は誰か、次のイ～ニから一つ選び記号で答えなさい。

- イ. 桂太郎 ロ. 加藤高明 ハ. 原敬 ニ. 犬養毅

6

次の文を読んで、あとの問いに答えなさい。

日本の①権力分立制は、国の権力を国会、内閣、裁判所という国家機関にそれぞれ分けるという三権分立のしくみをとっている。このうち、国会と内閣との関係については議院内閣制が採用されている。内閣の地位について、日本国憲法は「(1) 権は、内閣に属する」と定めている。内閣は内閣総理大臣と国務大臣で構成され、国務大臣の数はかつて20人とされていたが、現在では通常14人から17人以内とされている。このように国務大臣の定数が減少した理由の一つに、②中央省庁等改革関連法にもとづく2001年の省庁再編があげられる。ただし、東日本大震災を受けて2012年に(2) 庁が設置されたのにもとまって、この定数に1人追加することができるようになった。

内閣の首長である内閣総理大臣は、③国務大臣を任命する権限のほか、内閣の会議である閣議を主催する権限などをもっている。内閣の仕事としては一般(1) 事務に加えて、外交関係処理や(3) の締結、④予算の作成と国会への提出などがある。

問1 文中の(1) ~ (3) に当てはまる語句を、漢字で答えなさい。

問2 文中の下線部①について、権力分立制を採用している理由を述べた次の文中の に入る適切な文章を、句読点を含めて15字以内で述べなさい。

国家の権力が集中することで、 ことを防ぐため。

問3 文中の下線部②に関して、次のaとbは、1府12省庁のうちどの役所の説明か、正しい組合せを次のイ~ニから一つ選び、記号で答えなさい。

- a. 各行政機関の事務の統合的な調整を行う機関で、消費者庁や金融庁が所属している。
- b. ODA などの国際支援や国際協力の事務を行う機関である。

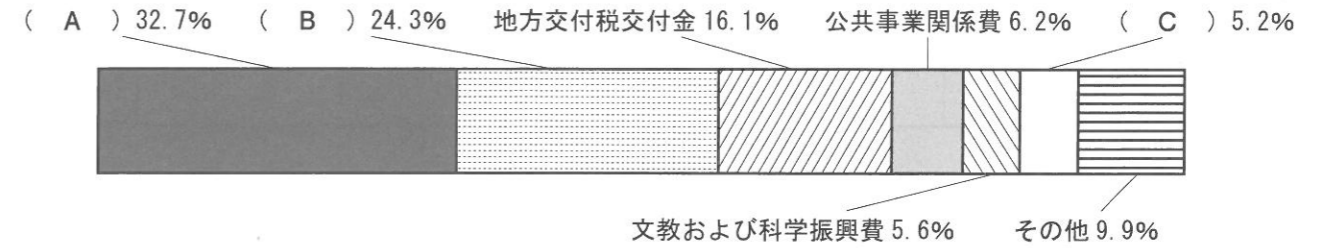
解答の記号	イ	ロ	ハ	ニ
a	内閣府	総務省	総務省	内閣府
b	外務省	経済産業省	外務省	経済産業省

問4 文中の下線部③に関して、内閣総理大臣による国務大臣の任命について述べた文として正しいものを、次のイ~ニから一つ選び記号で答えなさい。

- イ. 国務大臣の過半数は、衆議院議員の中から選ばなければならない。
- ロ. 国務大臣の3分の1は、参議院議員の中から選ばなければならない。
- ハ. 国務大臣の全員が、国会議員の中から選ばなければならない。
- ニ. 国務大臣の過半数は、国会議員の中から選ばなければならない。

問5 文中の下線部④に関して、次のグラフは平成27年度一般会計予算(歳出)の内わけを示したものである。グラフ中のA~Cについて、正しい組合せをあとのイ~ニから一つ選び、記号で答えなさい。

平成27年度 一般会計予算(歳出)の内わけ



財務省資料による。

解答の記号	イ	ロ	ハ	ニ
A	社会保障関係費	社会保障関係費	国債費	国債費
B	防衛関係費	国債費	社会保障関係費	防衛関係費
C	国債費	防衛関係費	防衛関係費	社会保障関係費

氏名	
----	--

受験番号				
------	--	--	--	--

1	問 1	問 2	問 3	問 4	問 5	問 6
	問 7					

小 計	

2	問 1	A	島	B	島	問 2	C	県	D	県
	問 3		問 4	(1)	(2)					
	問 5									

小 計	

3	問 1	問 2	天皇	問 3	問 4	問 5
	問 6					

小 計	

4	問 1	問 2	問 3	問 4
	問 5			

小 計	

5	問 1	問 2
	問 3	
	問 4	問 5

小 計	

6	問 1	1	2	3
	問 2			
	問 3	問 4	問 5	

小 計	