

2025年度 入学試験問題

社会(1次)

・解答はすべて解答用紙に記入しなさい。

受験 番号		氏 名	
----------	--	--------	--

- 1 次の文は、防災・減災日本CSOネットワークが作成した第3回国連防災世界会議で採択された「仙台防災枠組2015-2030」のパンフレットの抜粋です。この文を読んで、後の各問いに答えなさい。

## 序文

この「①仙台防災枠組 2015-2030」は、2015年3月に②仙台市で開催された「③第3回国連防災世界会議」において採択されたものです。

この世界会議では、各国の間で次のような成果が得られました。

- 「④兵庫行動枠組 2005-2015」について、それぞれの国や地域での成果の振り返りができた。
- これからの行動の指針となる、防災・減災への新しい取り組みである「仙台防災枠組」が採択された。
- 2030年まで「仙台防災枠組」を各国で協力しながら進め、定期的に成果を確認していくことが合意された。

この世界会議の中で、各国は防災・減災をさらに進めること、そして災害に対する「レジリエンス」の強化を急ぐという決意を新たにしました。レジリエンスとは日本語で「強靱性」とも訳されますが、ここでは「困難な状況下でも、基本的な機能などを保持し、また災害からの悪影響に対し抵抗できる強い芯を持ち、しなやかに回復できるシステム、コミュニティ、個人および社会の力」という意味で使っています。持続可能な開発や、貧困削減などの他の様々な取り組みにおいても、同様に大切な考え方です。

(「市民のための仙台防災枠組 2015-2030」より作成)

問1 下線部①について、次の文は、日本ユニセフ協会のホームページにある「仙台防災枠組 2015-2030」についてふれられている SDGs のある目標の紹介文です。この文は、その目標を達成するための具体的な方法について書かれていますが、この文と最も関連の深い目標を下のア～エから1つ選び、記号で答えなさい。

- 国や地域の開発の計画を強化して、都市部とそのまわりの地域と農村部とが、経済的、社会的、環境的にうまくつながりあうことを支援する。
- 2020年までに、だれも取り残さず、資源を効率的に使い、気候変動への対策や災害への備えをすすめる総合的な政策や計画をつくり、実施する都市やまちの数を大きく増やす。「仙台防災枠組 2015-2030」にしたがって、あらゆるレベルで災害のリスクの管理について定め、実施する。
- お金や技術の支援などによって、もっとも開発の遅れている国ぐにで、その国にある資材を使って、持続可能で災害にも強い建物をつくることを支援する。

ア



イ



ウ



エ



問2 下線部②に関して、次の各問いに答えなさい。

- (1) 仙台市では、<sup>こくほうじょう</sup>五穀豊穰をいのる伝統的な祭が毎年開かれています。次の写真ア～エは、日本各地で行われている伝統的な祭です。このうち仙台市と同じ地方で行われている伝統的な祭を、ア～エからすべて**選び**記号で答えなさい。

ア



イ



ウ



エ



(2) 仙台市が属している地方では、冬の農閑期のうかんきの産業として伝統産業が古くから盛んに行われてきました。このことに関連して、次の写真X・Yはいずれも日本を代表する伝統工芸品です。このうち仙台市と同じ地方の伝統工芸品とその生産地の名a・bとの正しい組合せを、下のア～エから1つ選び、記号で答えなさい。

X



Y



a にしじん  
西陣

b なんぶ  
南部地方

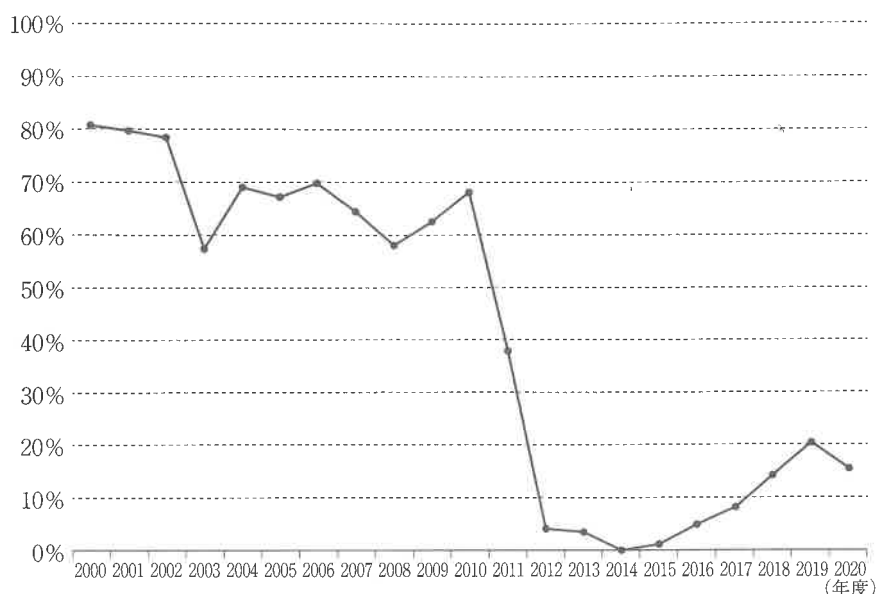
ア X - a

イ X - b

ウ Y - a

エ Y - b

- (3) この会議が仙台市で行われたのは、2011年に仙台市をはじめとする広い地域でおこった大規模な地震がきっかけとなっています。次のグラフは、日本のある発電設備の利用率の推移です。この推移を参考にして、この発電方法を下のア～ウから1つ選び、記号で答えなさい。なお、あてはまるものがない場合は、「エ」で答えなさい。



(「エネルギー白書 2022」より抜粋)

- ア 火力発電      イ 水力発電      ウ 地熱発電

- (4) (3) の発電方法のグラフが大きく推移したのは、この地域をおそった地震によっておこったある発電所の事故がきっかけとなっています。そのきっかけとなった事故がおきた都道府県を、次のア～ウから1つ選び、記号で答えなさい。なお、あてはまるものがない場合は、「エ」で答えなさい。

- ア 福井県      イ 福岡県      ウ 福島県

- (5) (3)に関連して、仙台市をはじめとした広い地域でおこった大規模な地震について、次のX～Zは世界でおこった大きな地震についての説明です。仙台市をはじめとする広い地域をおそった地震と同じメカニズムで発生したと思われる地震の組合せを、下のア～クから1つ選び、記号で答えなさい。

- |   |  |
|---|--|
| X | 1906年、アメリカ合衆国のサンフランシスコ周辺をおそった地震は、カリフォルニア州を通る大きな断層が横にずれたことを原因としていた。 |
| Y | 2004年に東南アジアで発生した地震では、インドネシアを中心として大規模な津波がおこり、周辺の島々に多くの被害を出した。       |
| Z | 2008年に発生した地震では、中国の四川省を中心として大きな被害を出した。特に建物の倒壊や土砂災害による被害が大きかったとされる。  |

- |   |           |   |     |   |             |
|---|-----------|---|-----|---|-------------|
| ア | Xのみ       | イ | Yのみ | ウ | Zのみ         |
| エ | XとY       | オ | XとZ | カ | YとZ         |
| キ | 3つともあてはまる |   |     | ク | 3つともあてはまらない |

問3 下線部③について、次のAの文は、この会議の開催中にバヌアツの大統領が世界に向けて災害支援を訴えた記事です。またBの文は、同じバヌアツでおこった同様の災害に対するバヌアツの大臣とのインタビュー記事です。これらの記事のようにバヌアツは、あいつぐ災害によって大きな被害を出しました。これらに関する右のページ以降の各問いに答えなさい。

A 大型の  「パム」の直撃ちよくげきを受けた南太平洋の島国バヌアツのポールウィン・ジェイコブソン・ロンズデール大統領は14日、仙台市で開かれている第3回国連防災世界会議で、大きな被害を受けたバヌアツに支援の手を差し伸べるよう国際社会に訴えた。

(フランス通信社 2015年3月15日配信記事より作成)

B 記者： 今年3月には  による大きな被害を受けたと聞いています。被害はかつてより深刻化しているのでしょうか。

大臣： 3月に最初に  の被害を受けた後、3日後にほぼ同じ地域を別の  あつ が襲じんたいい、甚大な被害をもたらしました。10月にも  が直撃しました。かつてより頻ひんぱん繁に発生し、強さも増しています。

学校、医療いりょうきかん機関、道路など、公共インフラにはまだ多くの被害が残っています。限られた予算では、すべてを再建することはできません。救援と復興にかかる費用は、私たちの年間予算の約60%と見積もられています。

国連大学のリスク評価でも、バヌアツは「自然災害に対して最も脆弱ぜいじゃくな国」の一つに位置づけられています。

記者： バヌアツは  の原因となる温室効果ガスをほとんど出していません。

大臣： バヌアツの温室効果ガスの排出量は0.00016%しかありません。にもかかわらず、気候の影響に対応するために予算を費やしているのです。非常に不公平です。

(朝日新聞デジタル 2023年12月16日配信記事より作成)

- (1) 台風やハリケーン、サイクロンは、いずれも強い熱帯低気圧の名です。このことに関連して文A・B中の **あ** には、いずれも強い熱帯低気圧の名が入ります。また次の図は、これらの強い熱帯低気圧の世界での呼び方の違いについての説明です。この図を参考にして、本文中の **あ** にあてはまるものを、下のア～ウから1つ選び、記号で答えなさい。



(日本気象協会ホームページより抜粋)

ア 台風      イ ハリケーン      ウ サイクロン

(2) 文B中の  には、ある地球環境問題の名が入ります。その地球環境問題の名を答えなさい。

(3) (2) の地球環境問題と最も関係の深いSDGsの目標を、次のア～エから1つ選び、記号で答えなさい。

ア



イ



ウ



エ



(4) (2)の地球環境問題について、1997年、日本で国際会議が開かれました。また次の文ア～ウは、その国際会議が開かれた都道府県およびそれ以外の国際会議が開かれた都道府県の説明です。1997年に地球環境問題について話し合われた都道府県の説明を、次のア～ウから1つ選び、記号で答えなさい。ただしあてはまるものがない場合は「エ」で答えなさい。

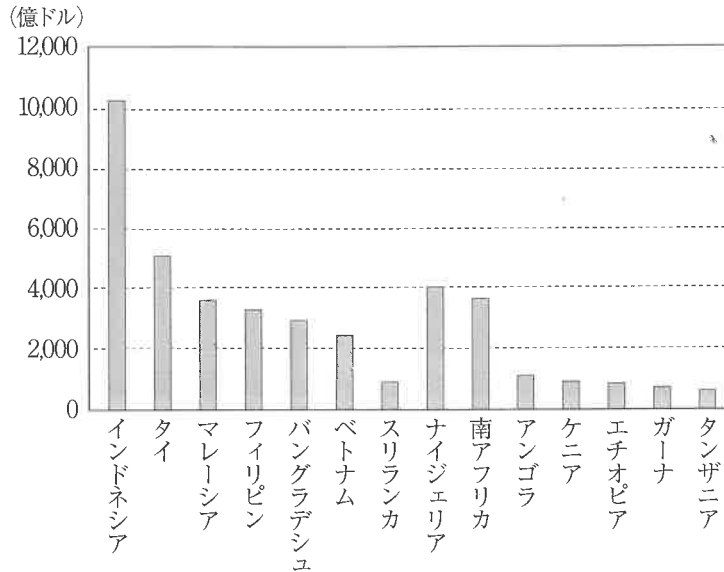
ア 歴史的建造物が多く、多くの文化財が世界文化遺産に指定された。また歴史的景観を保護するため、都心部では景観を守るためのルールづくりが行われた。

イ 第二次世界大戦に関する建築物が世界文化遺産となっており、国際会議に参加した各国の首脳が、資料館などを訪れて献花を行ったことでも知られている。

ウ この都道府県内には複雑な海岸地形で知られる半島があり、この地域で首脳会議が開かれた。また日本有数の工業地帯の一部であり、四大公害病の一つが発生したことで知られている。

**問4** 下線部④の「兵庫行動枠組 2005-2015」について、この枠組は、以後10年間の国際社会における防災活動の基本な方針を示しています。この枠組がつくられた第2回国連防災世界会議は、2005年の1月18日に神戸市で始まりました。この日の10年と1日前には、この会議が開かれるきっかけとなったある災害がおこりました。その災害の名を答えなさい。

- 2 次の図は、アジアとアフリカの主な国の2018年の国内総生産（GDP）を示しています。この図をみて、後の各問いに答えなさい。なお国内総生産（GDP）とは、ある国や地域の中で、1年や半年など一定の期間で新たに生み出された「付加価値」を合計した金額をあらわしています。



（「通商白書 2020年版」より抜粋）

- 問1 これらアジアやアフリカの国々は、いずれも国内総生産（GDP）や国民総所得（GNI）といった経済的な指標が日本や欧米諸国に比べて低いことが多いのが現状です。このような経済力や工業力などが低い国を何というか、答えなさい。

- 問2 アフリカ諸国のうち南アフリカ共和国は、アフリカ最大の工業国と呼ばれています。この南アフリカ共和国を含む近年経済発展がめざましい国の総称として「BRICS」という言葉があります。次の国のうち BRICS に含まれない国を、次のア～エから1つ選び、記号で答えなさい。

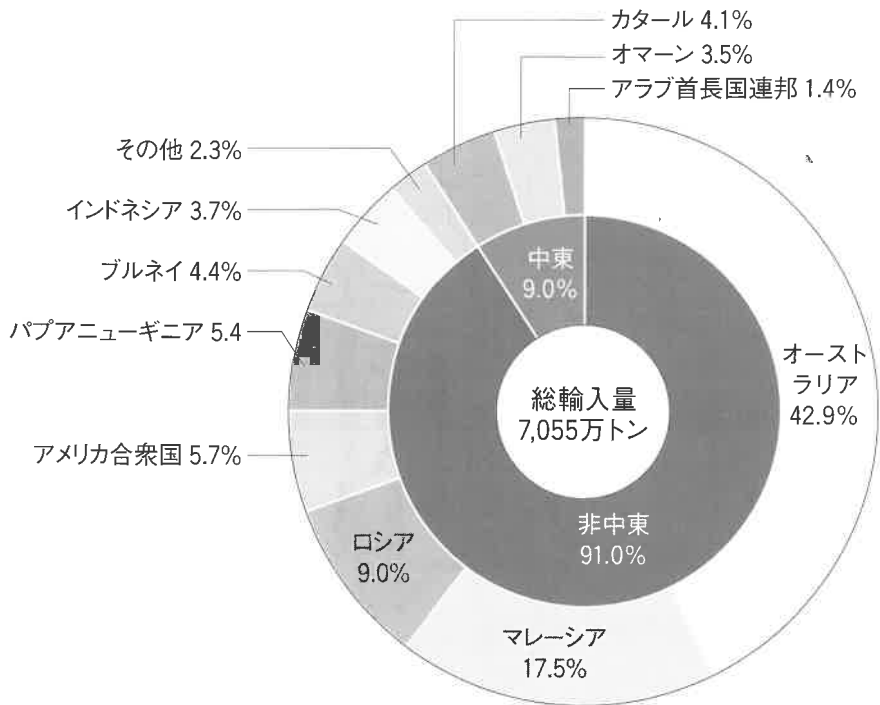
ア インド      イ スペイン      ウ ブラジル      エ ロシア

問3 下の文ア～ウは、次のアフリカの地図中に示しているエチオピア、ナイジェリア、南アフリカ共和国のいずれかの説明です。このうちナイジェリアの説明を、ア～ウから1つ選び、記号で答えなさい。ただしあてはまるものがない場合は「エ」で答えなさい。



- ア この国の多くは高原地帯にあるため、マラソン競技などで優秀な成績をおさめている選手が多い。また高原地帯ではコーヒーが栽培されている。多くのアフリカ諸国がヨーロッパの国々の植民地になる中で、長らく独立を保った国でもある。
- イ イギリスの植民地であったこの国では、独立後も長らくアパルトヘイトとよばれる人種差別的な政策が行われてきた。近年ではレアメタルなど貴重な鉱物資源が多く産出されている。
- ウ この国では、石油が多く産出している。また北部はサハラ砂漠の南部のサヘル地域とよばれる一帯に位置しているため、砂漠化の影響を大きく受けている国の一つである。また大西洋に面していることからかつては奴隷貿易の拠点であり、多くの奴隷が新大陸に運ばれた。

問4 次の図は、日本がアジアをはじめとする国々から輸入しているある鉱産資源のグラフです。このグラフは、その鉱産資源の2022年度の主な輸入先とその割合を示しています。この鉱産資源を、下のア～エから1つ選び、記号で答えなさい。



(「エネルギー白書 2024」より抜粋)

- ア 石炭      イ 石油      ウ 鉄鉱石      エ 天然ガス

3 の設問は 15 ページから始まります。

3 東南アジアと日本の交流の歴史に関する文章を読んで、後の各問いに答えなさい。

日本と東南アジア諸国との間の交流の記録があらわれるのは奈良時代からです。ベトナムの僧・仏哲は a 聖武天皇の頃に日本に来て、ベトナムの舞や音楽を伝えるとともに、b 東大寺の大仏開眼供養にも参加しました。また、中国へ向かうはずの c 遣唐使たちを乗せた船が暴風雨に巻き込まれ、インドシナ半島に漂着したという記録も残っています。

15世紀に入ると、琉球王国が東南アジアや中国、朝鮮、日本との間に立つようになります。琉球の船は東南アジアで象牙や香辛料などの商品を仕入れると、中国や日本、朝鮮半島で売り、東南アジアへは中国製の絹織物・陶磁器、日本製の刀剣などを売りました。このような貿易の方法を（あ）貿易といい、これで琉球王国は栄えました。

戦国時代後期には、キリスト教の宣教師たちが東南アジアを経由して d 日本に来て布教をおこない、その後、ポルトガルやスペインの商人による（い）貿易が始まりました。彼らは当時世界有数の産出国であった日本で【A】を手に入れて、東南アジア各地との貿易に用いました。やがて、貿易に直接たずさわる日本人商人があらわれると、こうした商人の貿易船を保護し、貿易を推進したのが e 豊臣秀吉でした。

その後成立した江戸幕府は、海外渡航の許可証を持つ船である（う）による貿易を始めました。この貿易によって f 東南アジアの各地に日本町が生まれ、あわせて1万人にのぼる日本人が暮らしていたといわれています。しかし、幕府による鎖国政策が開始されると、（う）貿易は急速に減少し、日本町も姿を消していきます。

鎖国によって途絶えていた東南アジア諸国との交流が復活するのは、g 幕末に開国してからでした。ふたたび日本から商人たちの進出が始まり、また、多くの日本人が東南アジア諸国へ移り住みました。また、日本が日露戦争で勝利すると、ベトナムのファン＝ボイ＝チャウは日本の近代化を学ぶために、h 留学生を日本に派遣する運動をおこないました。

しかし、昭和になると状況は変わります。日本は1937年に始まった日中戦争がゆきづまると、【B】などの資源を確保するため、南方に進出する政策を開始し、東南アジア地域を占領していきました。そして、i 太平洋戦争が始まると、日本はアジア諸国の植民地支配からの解放を唱えましたが、一方で日本語教育や神社の参拝、強制労働などをおこなって、現地の人々の反発を呼び、各地で抵抗運動がおこりました。

1945年に終戦をむかえると、東南アジア諸国は次々と独立を達成します。また、日

本も1951年のj サンフランシスコ平和条約が結ばれて独立を回復すると、日本は国際社会へ復帰し、これを機に日本は東南アジア諸国との国交回復も果たしていきま<sup>す</sup>。賠償金ばいしょうきんの支払いや無償むしょう経済協力も開始され、日本の経済技術協力や企業の積極的な進出などにより日本と東南アジア諸国との間で再び交流が深まり、現在もさまざまな分野での交流が政府・民間レベルで活発になっています。

問1 文中の（ あ ）～（ う ）にあてはまる語句をそれぞれ漢字で答えなさい。

問2 文中の【 A 】【 B 】にあてはまる語句の組合せとして正しいものを、次のア～エから1つ選び、記号で答えなさい。

ア A - 金      B - 石油      イ A - 銀      B - 石油  
ウ A - 金      B - 石炭      エ A - 銀      B - 石炭

問3 下線部 a について、この人物がおこなったことに関して述べた文として正しいものを次のア～エから1つ選び、記号で答えなさい。

ア 墾田永年私財法を制定した。  
イ 和同開珎わどうかいちんを発行した。  
ウ 坂上田村麻呂を東北地方に派遣した。  
エ 平城京に都を移した。

問4 下線部 b について、以下の問いに答えなさい。

(1) この寺について述べた次の文 X・Y の正誤の組合せとして正しいものを、下のア～エから1つ選び、記号で答えなさい。

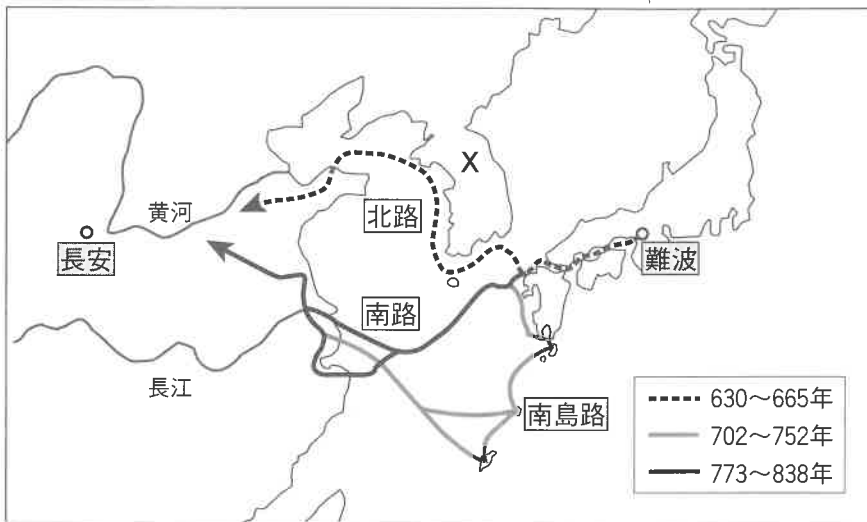
X 東大寺には書院造の倉庫である正倉院があり、聖武天皇ゆかりの品が納められている。  
Y 東大寺は、平安時代末の源氏と平氏の合戦で平氏によって焼き討ちうされ、大仏や多くの建物を失った。

ア X - 正    Y - 正      イ X - 正    Y - 誤  
ウ X - 誤    Y - 正      エ X - 誤    Y - 誤

- (2) この寺の南大門の金剛力士像が作られた時代に活躍した僧と、その僧が開いた仏教の宗派との組合せとして正しいものを、次のア～エから1つ選びなさい。

- ア 空海－真言宗      イ 法然－浄土真宗  
ウ 栄西－臨済宗      エ 日蓮－時宗

- 問5 下線部cについて、次の図は遣唐使の航路を示したものです。これに関して下の各問いに答えなさい。



- (1) 北路から南路へ変わったのは、663年の白村江の戦いで日本（倭）に勝利したあとに朝鮮半島を統一した図中のXとの関係が悪化したためと考えられています。Xの国名を次の【語群】から1つ選び、答えなさい。

【語群】 高句麗      百濟      新羅      高麗

- (2) それぞれの航路を通っていた時期に、日本国内でおこった出来事について述べた文として正しいものを次のア～エから1つ選び、記号で答えなさい。

- ア 北路を通っていた時期に、中大兄皇子が大化の改新をおこした。  
イ 北路を通っていた時期に、鑑真が来日して唐招提寺を建設した。  
ウ 南島路を通っていた時期に、平将門の乱がおこった。  
エ 南路を通っていた時期に、院政がはじまった。

問6 下線部 d について、貿易による利益を求めてキリスト教を信仰・保護した大名のことを何というか答えなさい。

問7 下線部 e について、この人物は、農民から刀や弓、やり、鉄砲などの武器を取り上げる刀狩をおこないました。刀狩の目的は一揆を防ぐためと、あともう一つは何ですか。「武士」という言葉を必ず用いて、簡単に説明しなさい。

問8 下線部 f について、ベトナムのホイアンには当時多くの日本人が住んでいて、現在も彼らの墓がいくつか残っています。次の文は、商人だった谷弥次郎兵衛の墓の近くにある石碑に書かれたものです。文中の「外国貿易禁止令」を出した将軍の名を、下のア～エから1つ選び、記号で答えなさい。

1647年、日本の貿易商人谷弥次郎兵衛ここに眠る。言い伝えによれば、彼は江戸幕府の外国貿易禁止令に従って日本に帰国する事になったが、彼はホイアンの恋人に会いたくてホイアンに戻ろうとして倒れた。この彼の墓は母国の方向、北東10度を向いている。この遺跡は17世紀にホイアンが商業港として繁栄していた当時、日本の貿易商人と当時の市民との関係が大変友好的であった事の証である。

ア 徳川家康      イ 徳川家光      ウ 徳川綱吉      エ 徳川吉宗

問9 下線部 g について、開国後の日本国内のうごきに関して述べた次の文 X・Y の正誤の組合せとして正しいものを、下のア～エから1つ選び、記号で答えなさい。

X 日米修好通商条約が結ばれ、函館、新潟、下田、神戸、長崎の5港が開港した。  
Y 桜田門外の変で大老の井伊直弼が暗殺されると、幕府は「安政の大獄」とよばれる弾圧をおこなった。

ア X - 正 Y - 正      イ X - 正 Y - 誤  
ウ X - 誤 Y - 正      エ X - 誤 Y - 誤

問10 下線部 h について、来日したファン＝ボイ＝チャウは、犬養毅や大隈重信と会談してこの運動をはじめました。この2人と彼らについて述べた次の文①～④との組合せとして正しいものを、次のア～エから1つ選び、記号で答えなさい。

- |                 |
|-----------------|
| ① 五・一五事件で暗殺された。 |
| ② 二・二六事件で暗殺された。 |
| ③ 立憲改進黨を結成した。   |
| ④ 自由党を結成した。     |

- |                |                |
|----------------|----------------|
| ア 犬養毅－① 大隈重信－③ | イ 犬養毅－① 大隈重信－④ |
| ウ 犬養毅－② 大隈重信－③ | エ 犬養毅－② 大隈重信－④ |

問11 下線部 i について、この戦争中におきた次のア～ウのできごとを古い順に記号で並びかえなさい。

- ア 真珠湾攻撃      イ ポツダム会談      ウ ミッドウエー海戦

問12 下線部 j について、以下の問いに答えなさい。

- (1) この条約を、日本の代表として調印した当時の首相の名を答えなさい。
- (2) 次の文は、この条約の一部です。文中の《 I 》《 II 》に入る語句の組合せとして正しいものを、下のア～エから1つ選び、記号で答えなさい。

第1条

(b) 連合国は、日本国とその領海に対する日本国民の完全な《 I 》を認める。

第2条

(c) 日本国は、千島列島ならびに日本国が1905年9月5日の《 II 》条約の結果として《 I 》を獲得した樺太の一部と、これに近接する諸島についてのすべての権利や請求権<sup>ほうき</sup>を放棄する。

\*条文はわかりやすく言いかえたり省略している。

- |                   |                      |
|-------------------|----------------------|
| ア I－主権      II－下関 | イ I－主権      II－ポーツマス |
| ウ I－独立      II－下関 | エ I－独立      II－ポーツマス |

4 の設問は 21 ページから始まります。

4 次の文を読んで、後の各問いに答えなさい。

①国や②地方公共団体などが行う仕事は国会や地方議会で話し合って決められ、③法律や条例に基づいて実行されます。そして、それらの仕事にかかる費用は、私たち国民が納めている④税金によってまかなわれています。税金は私たちが使う公園や道路の整備、高齢者や障がいのある人、また地震や台風などの大きな自然災害によって被害を受けた人のための支援など、⑤私たちの暮らしを支えるための様々なことに使われています。そのため、1年間に使われるお金について、国会や地方議会ではあらかじめ見積もりを立てています。この見積もりのことを□□□□といいます。

私たちも税金の使い道を決めることに関わっています。私たちは国や地方公共団体の議員を選挙で選ぶ権利を持っているからです。そして、税金の使い道が正しいかどうかを監視するのは私たちの大切な役割なのです。

問1 文中の□□□□にあてはまる語句を漢字で答えなさい。

問2 下線部①について、国の政治を進める役割は国会・内閣・裁判所が分担して担っています。これに関して、あとの各問いに答えなさい。

(1) 国会について述べた次の文X・Yの正誤の組合せとして正しいものを下のア～エから1つ選び、記号で答えなさい。

X 衆議院と参議院では、共に多数決で国民の暮らしにかかわる法律が決められている。

Y 衆議院と参議院の選挙制度は、共に小選挙区比例代表並立制が採用されている。

ア X－正 Y－正      イ X－正 Y－誤

ウ X－誤 Y－正      エ X－誤 Y－誤

(2) 内閣について述べた次の文 X・Y の正誤の組合せとして正しいものを下のア～エから 1 つ選び、記号で答えなさい。

X 内閣の最高責任者である内閣総理大臣は、国会の指名によって決められる。

Y 内閣総理大臣と国務大臣たちが政治の進め方を相談する会議のことを閣議という。

ア X - 正 Y - 正      イ X - 正 Y - 誤

ウ X - 誤 Y - 正      エ X - 誤 Y - 誤

(3) 裁判所は法律にもとづいて問題を解決し、国民の権利を守る仕事をしています。人々の間に起きた争いについて、原告側と被告側に分かれて行う裁判を何というか漢字で答えなさい。

問 3 下線部②について、2024年7月7日に地方公共団体の1つである東京都の首長を決める選挙が行われました。東京都などの都道府県の首長のことを何というか漢字で答えなさい。

問 4 下線部③について、法律の中には国民の祝日を定めたものがあります。『日本国憲法の施行を記念し、国の成長を願う』という趣旨から祝日となっているものを次のア～エから 1 つ選び、記号で答えなさい。

ア 2月11日      イ 4月29日      ウ 5月3日      エ 11月3日

問 5 下線部④について、税金には税金を納める人と実際に税金を負担する人が同じである直接税と、税金を納める人と実際に税金を負担する人が異なる間接税があります。次の A～C の税のうち、直接税はどれか。あてはまるものをすべて選び、その組合せとして正しいものを下のア～キから 1 つ選び、記号で答えなさい。

A 所得税      B 消費税      C 法人税

ア A      イ B      ウ C      エ A と B

オ A と C      カ B と C      キ A と B と C

問 6 下線部⑤について、次にあげた仕事のうち、地方公共団体の仕事にあたらなものを次のア～エから 1 つ選び、記号で答えなさい。

ア 消防      イ 郵便の配達      ウ ごみの収集      エ 上下水道の整備

受験 番号	
----------	--



氏 名	
--------	--



2025年度入学試験

社会(1次)解答用紙 ※印の箇所には記入しないで下さい。

1

問1 

--

問2 (1) 

--

 (2) 

--

 (3) 

--

 (4) 

--

 (5) 

--

問3 (1) 

--

 (2) 

--

 (3) 

--

 (4) 

--

問4 

--

※ 

--

2

問1 

--

問2 

--

問3 

--

問4 

--

※ 

--

3

問1 あ 

--

 い 

--

 う 

--

問2 

--

 問3 

--

 問4 (1) 

--

 (2) 

--

問5 (1) 

--

 (2) 

--

 問6 

--

問7 

--

問8 

--

 問9 

--

 問10 

--

 問11 

→	→
---	---

※ 

--

問12 (1) 

--

 (2) 

--

4

問1 

--

問2 (1) 

--

 (2) 

--

 (3) 

--

問3 

--

問4 

--

問5 

--

※ 

--

問6 

--

得点 ※ 

--