

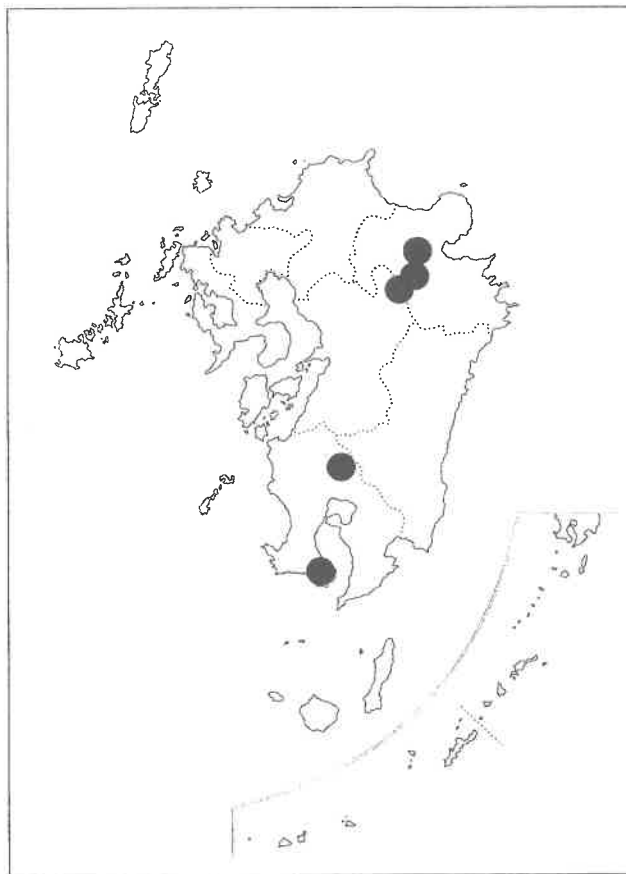
2024年度 入学試験問題

社会（1次）

・解答はすべて解答用紙に記入しなさい。

受験 番号		氏 名	
----------	--	--------	--

p.11 の図は、次の図が正しい図です。次の図を参考にして問いに答えて下さい。



(九州電力ホームページより作成)

- 1 次の文は、ユニセフのホームページにある子ども向けのSDGsの説明です。この文を読み、後の各問いに答えなさい。

2000年に国連で採択された「ミレニアム開発目標（MDGs）」の達成に向けた努力により、(a) 5歳未満で命を落とす子どもが減り、より多くの子どもが学校に通えるようになるなど、多くの前進がありました。国際社会が数値目標を掲げたことが、多くの成果につながってきたのです。しかし達成期限の2015年が近づくにつれ、“平均値”で見る進展の陰に取り残された子どもたちがいることや、格差の拡大等、MDGsではカバーしきれない課題があることもわかってきました。

2015年9月、「(b) 国連持続可能な開発サミット」が開催され、150を超える首脳が参加して、MDGsを受け継ぐ2030年までの新たな目標となる「持続可能な開発目標（SDGs）」が採択されました。

17の目標と169のターゲットからなるSDGsは、ユニセフがSDGs採択前から重視してきた公平性のアプローチ、“誰ひとり取り残さない”を掲げ、①MDGsで達成できなかった課題、②MDGsには含まれていなかった課題、③新たに浮上してきた課題、を包括的に含んだ、(c) 先進国も (d) 途上国も取り組むべき普遍的な目標です。

問1 下線部(a)について、後の各問いに答えなさい。

- (1) 次の表は、5歳未満の子どもの人口千人あたりの死亡率を、世界の地域ごとにみたものです。表中の**ア**～**エ**は、それぞれヨーロッパおよび中央アジア、北アメリカ、南アジア、サハラ砂漠以南のアフリカのいずれかです。このうち南アジアにあたるものを、**ア**～**エ**から1つ選び、記号で答えなさい。

地域	1990年	2000年	2019年
ア	31	21	8
イ	11	8	6
ウ	130	93	40
エ	178	151	76

(ユニセフホームページより作成)

- (2) 次の表は、世界の各国の合計特殊出生率（女性が一生のうちに生む子どもの数の平均値）です。表中のX～Zには、日本、ニジェール（アフリカ州）、フランス（ヨーロッパ州）のいずれかがあてはまります。X～Zの国の組合せとして正しいものを、下のア～カから1つ選び、記号で答えなさい。

	2021年
X	6.8
Y	1.8
Z	1.3

（世界銀行ホームページより作成）

	ア	イ	ウ	エ	オ	カ
日本	X	X	Y	Y	Z	Z
ニジェール	Y	Z	X	Z	X	Y
フランス	Z	Y	Z	X	Y	X

- 問2 下線部(b)について、次の年表は、地球環境問題に関する重要な国際会議についての年表です。この表をみて、後の各問いに答えなさい。

年	会議の名称	開催都市（国）
1972	国連人間環境会議	ストックホルム（スウェーデン）
1992	環境と開発に関する国連会議	リオデジャネイロ（ブラジル）
2000	国連ミレニアムサミット	ニューヨーク（アメリカ合衆国）
2002	持続可能な開発に関する世界首脳会議	ヨハネスブルグ（南アフリカ共和国）
2012	国連持続可能な開発会議	リオデジャネイロ（ブラジル）
2015	国連持続可能な開発サミット	ニューヨーク（アメリカ合衆国）

- (1) 表中にでてくる「持続可能な開発」とはどのような開発か、簡単に説明しなさい。

(2) 表中の国際会議の開催都市について述べた次の文X～Zのうち、正しいものはどれか。あてはまるものをすべて選び、その組合せとして正しいものを下のア～クから1つ選び、記号で答えなさい。

X 南半球にあるのはリオデジャネイロのみである。

Y ヨーロッパ州にあるのは、ストックホルムのみである。

Z 首都は、ニューヨークとストックホルムである。

ア X

イ Y

ウ Z

エ XとY

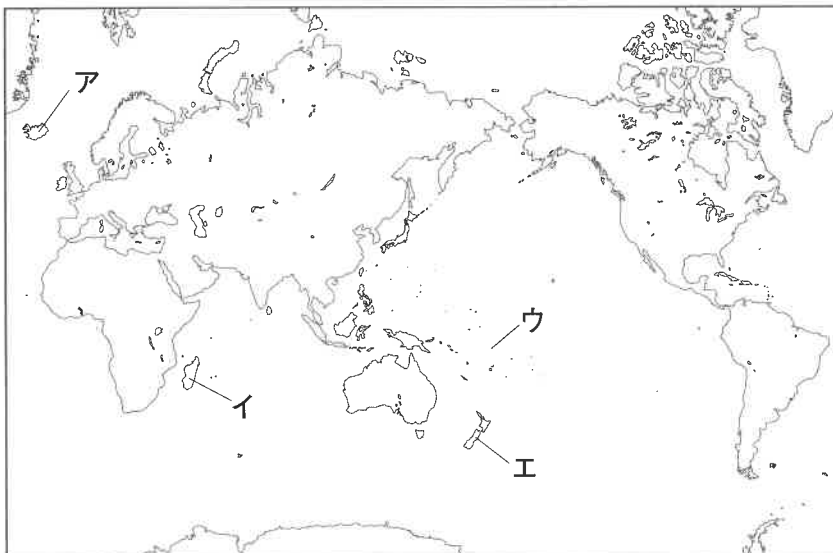
オ XとZ

カ YとZ

キ いずれも正しい

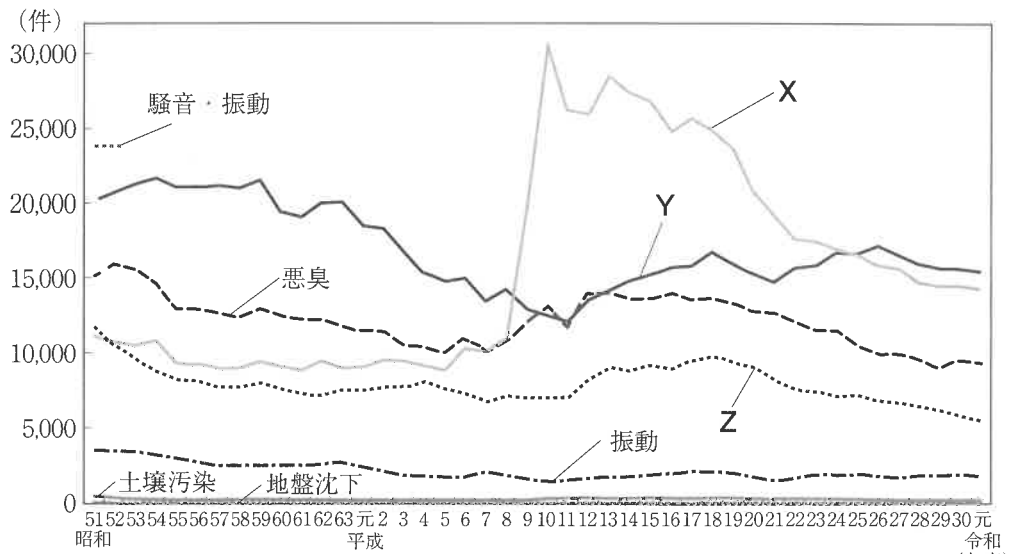
ク いずれも正しくない

(3) 次の写真は、ある国の大臣が、2021年に海外に向けて発信したビデオメッセージの様子です。海につかりながら会見を行うことで、その国におこっている危機を訴えています。この国の位置を、下の図中ア～エから1つ選び、記号で答えなさい。



問3 下線部(c)について、先進国の諸問題に関する後の各問いに答えなさい。

- (1) 次の図は、日本における公害の種類別公害苦情受付件数の移り変わりです。日本をはじめとする先進国では、かつては日本の四大公害に代表される大規模な産業型公害が主でした。しかし近年は近隣や周辺地域などからの都市型と呼ばれる公害が主となっています。次の図中X～Zは、水質汚濁・騒音・大気汚染のいずれかです。X～Zと公害の種類との組合せとして正しいものを、下のア～カから1つ選び、記号で答えなさい。



注)「騒音」と「振動」は、昭和51年度以前の調査においては、「騒音・振動」としてまとめて集計していた。
(総務省ホームページより作成)

	ア	イ	ウ	エ	オ	カ
水質汚濁	X	X	Y	Y	Z	Z
騒音	Y	Z	X	Z	X	Y
大気汚染	Z	Y	Z	X	Y	X

(2) 「環境先進国」と呼ばれるドイツでは、さまざまな環境に配慮した取り組みが行われています。ドイツなどで行われている環境に配慮した取り組みについて述べた次の文X・Yの正誤の組合せとして正しいものを、下のア～エから1つ選び、記号で答えなさい。

X 原子力発電所の事故による重大な環境破壊への対策として、火力発電による発電を増大させる。

Y 自家用車による移動を控えて、鉄道などの公共交通機関による移動をこころがける。

ア X－正 Y－正 イ X－正 Y－誤

ウ X－誤 Y－正 エ X－誤 Y－誤

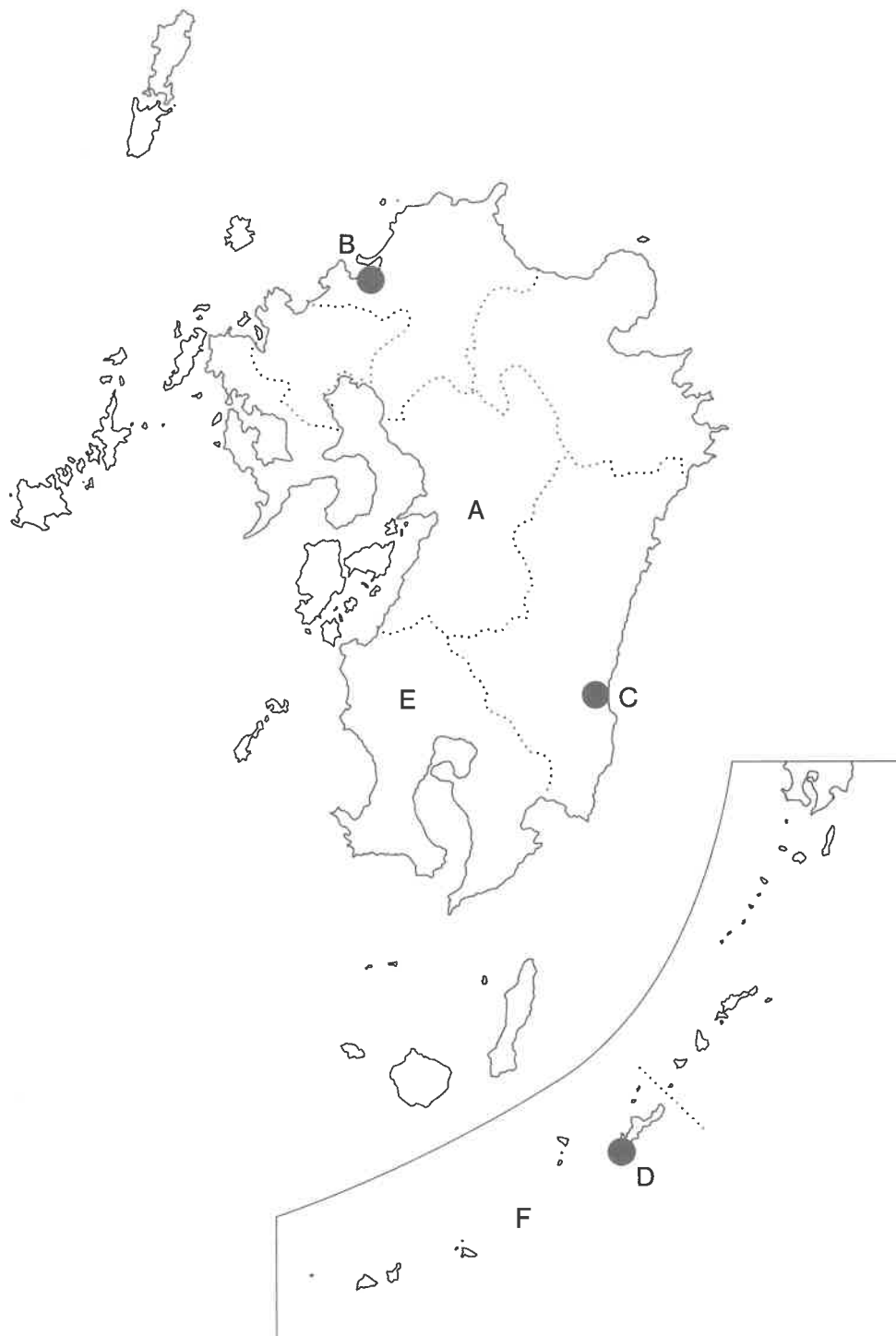
問4 発展途上国の中には、発展途上国特有の理由によって森林減少が激しい地域があります。次の図中X～Zの地域はいずれも森林減少が激しい地域を示しており、i～iiiはその主な原因や影響について述べています。下の説明i～iiiにあてはまる地域X～Zの組合せとして正しいものを、後のア～カから1つ選び、記号で答えなさい。



- i 農業技術が発展しておらず、また近年の人口急増によって伝統的な農業である焼畑や遊牧が大規模化し、森林が大幅に減少している。
- ii 発展途上国から急激に発展した地域であるため、新たな工場の建設や大規模な牧場・農場を建設するために森林伐採が行われている。
- iii 日本などに向けて輸出されるエビの養殖ため、河川の河口付近に自生しているマングローブ林が伐採されている。

	ア	イ	ウ	エ	オ	カ
i	X	X	Y	Y	Z	Z
ii	Y	Z	X	Z	X	Y
iii	Z	Y	Z	X	Y	X

2 次の図をみて、後の各問いに答えなさい。

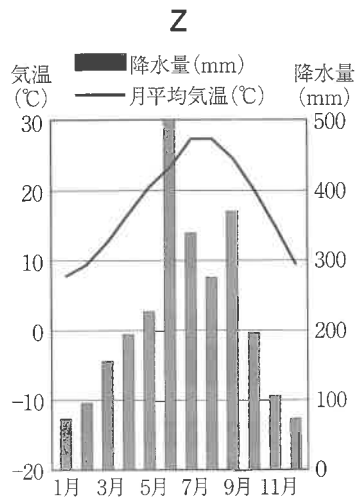
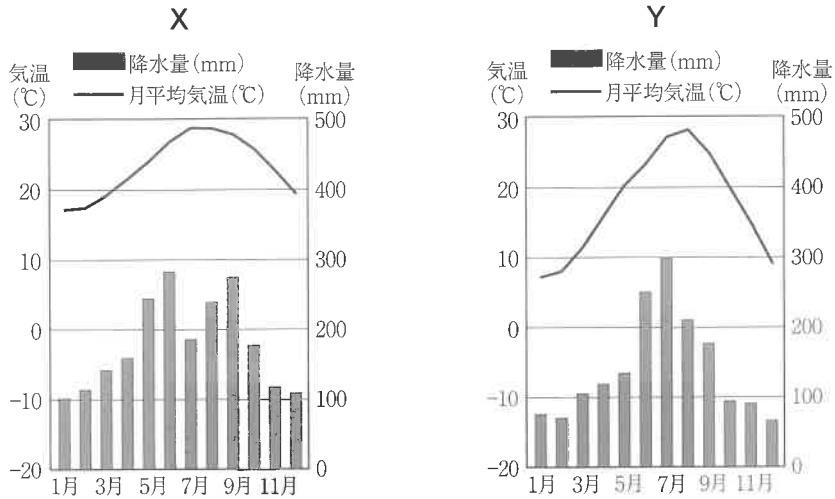


問1 Aの都道府県について、次の図は、この都道府県で行っている環境保護の取り組みに関するパンフレットです。この都道府県では、かつておこった公害の反省から現在では環境保護の取り組みを積極的に行っています。この都道府県でおこった公害について述べた文として正しいものを下のア～エから1つ選び、記号で答えなさい。なおパンフレット中に地名が記載されている箇所は、黒塗りしています。



- ア かつての四大工業地帯の一つがあったため、水質汚濁や大気汚染が進んだ。
- イ 化学工場から流出した有機水銀による公害がおこった。
- ウ 鉱山から排出されたカドミウムによる公害がおこった。
- エ 大規模な石油化学コンビナートがあり、深刻な大気汚染がおこった。

問2 次の図は、B～Dのいずれかの都市の雨温図です。都市と雨温図との組合せとして正しいものを、下のア～カから1つ選び、記号で答えなさい。



(データブック オブ・ザ・ワールド 2023年度より作成)

	ア	イ	ウ	エ	オ	カ
B	X	X	Y	Y	Z	Z
C	Y	Z	X	Z	X	Y
D	Z	Y	Z	X	Y	X

問3 Eの都道府県について、後の各問いに答えなさい。

- (1) 次の文は、2021年3月に配信された朝日新聞デジタルの記事を一部加工したものです。この記事の文中 **あ** の農産物および都道府県 **い** の組合せとして正しいものを、下のア～エから1つ選び、記号で答えなさい。

E の **あ** の産出額が2019年は252億円になり、50年以上トップであり続けた静岡県を抜き、初めて全国1位になった。大規模な **あ** 栽培で産出額が安定している **E** は、20年産でも勢いを維持している。

今月発表された農林水産省の統計データで明らかになった。

… (中略) …

●2019年の **あ** の産出額の上位5府県

- 1位 **E** (252億円)
- 2位 静岡県 (251億円)
- 3位 三重県, **い** (66億円)
- 5位 福岡県 (35億円)

	ア	イ	ウ	エ
あ	茶	茶	さつまいも	さつまいも
い	京都府	茨城県	京都府	茨城県

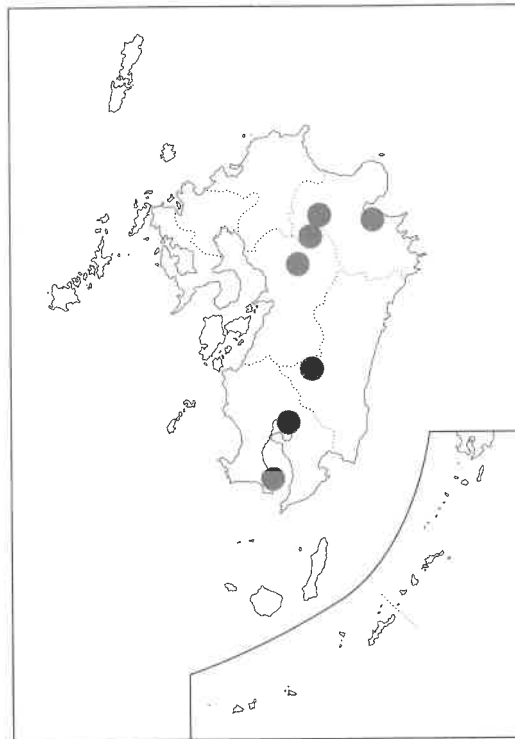
- (2) この都道府県およびその周辺地域では、次の写真のような火山灰土が広がっています。また下の文ア・イは、この火山灰土についての説明です。火山灰土の名を答え、それに適する説明をア・イから1つ選び、記号で答えなさい。



ア 現在でも活動している火山が県内にあるため、古くから火山灰になやまされていきました。その一方、水はけの良い土壌を利用した農業が行われている。

イ 稲作にむかないため、古くから畑作が広く行われていた。近年では日本有数の大都市がこの地域にある強みを活かした近郊農業が行われている。

(3) 次の図は、この都道府県を中心とした九州全域にある同じ種類の発電所の分布図です。この発電方法は、九州地方や東北地方によくみられる発電方法です。また下の表は、この発電、火力発電、原子力発電、水力発電のいずれかの発電方法における2020年の発電量の主な国上位5位です。この分布図で示された発電方法にあたるものを、表中ア～エから1つ選び、記号で答えなさい。



順位	ア	イ	ウ	エ
1	アメリカ合衆国	アメリカ合衆国	中国	中国
2	中国	インドネシア	ブラジル	アメリカ
3	フランス	トルコ	カナダ	インド
4	ロシア	イタリア	アメリカ合衆国	ロシア
5	韓国	メキシコ	ロシア	日本

(データブック オブ・ザ・ワールド 2023年版より作成)

- (4) 次のア～カは、いずれも日本の九州地方にある世界遺産です。このうち、この都道府県およびFの都道府県にある世界遺産を、次のア～カからそれぞれ**すべて**選び、記号で答えなさい。なお選択肢中に都道府県名が含まれる箇所は、黒塗りにしています。また同じ記号を2度使用してもかまいません。

- ア 琉球王国のグスク及び関連遺産群
- イ 明治日本の産業革命遺産 製鉄・製鋼、造船、石炭産業
- ウ 奄美大島、徳之島、島北部及び西表島
- エ 屋久島
- オ 「神宿る島」宗像・沖ノ島と関連遺産群
- カ と天草地方の潜伏キリシタン関連遺産

- 3 関西大学北陽中学校1年生の次郎君一家は、今年の夏、近畿地方から山口県下関市まで、日本海側を走る国道9号線を通してドライブ旅行をしました。そのとき、周辺にある多くの歴史遺産にふれました。これに関する次の文章を読んで、後の各問いに答えなさい。

国道9号線の起点となる京都市にある(a)二条城を訪れました。そこから府内を縦貫し、福知山市に入りました。ここでは、本能寺の変で(b)織田信長を殺害した、明智光秀の築いたとされる福知山城を見学しました。

兵庫県に入りしばらく走ると、山陰の名湯とされる(c)湯村温泉に着きました。この温泉は、848年に慈覚太子じかくたいし円仁えんにんによって開かれたものです。源泉である荒湯は98度の高温で川沿いにわき、その向かい側には(d)天台宗の正福寺があります。温泉は川に流れ込んでいました。

A 見学した(e)石見銀山は日本最大の銀鉱山で、17世紀初めの最盛期にはこだけで全世界の銀の約1割を産出したと考えられています。2007年に、鉱山遺跡としてはアジアで初めて(f)世界遺産に登録されました。

B 鳥根県の県庁所在地松江市にある、八雲立つ風土記の丘では岡田山古墳を眺め、古代、地面をほり下げてつくられた(①)住居の復元物や中世の土居跡をみることができました。敷地の中には植物園があり、(g)『出雲国風土記』に登場する約100種類の植物が植えられています。

C 鳥取県では、青谷上寺地遺跡あおやかみじちに立ち寄りしました。(h)今から約2200年前、湾のほとりに人々が暮らし始め、(i)ものづくりなどの生活の場として発展しました。また、船を使って遠方の地との交流もさかんに行われました。

D 山口県と接する鳥根県益田市には、雪舟の郷記念館さとがあり、この地域を支配していた人物の絵が残されています。1479年頃、(j)雪舟がこの地に滞在していたことがわかり、記念館の近くにはこの人物が葬ほうむられているとされるお墓がありました。

明治時代の小説家、森鷗外おうがいが住んでいた家を見てきました。彼はこの地に生まれ、8歳で藩校養老館に入学し、漢文などを学びました。(k)この学校が廃止されると、父親とともに東京に移り、1881年に大学卒業後、ドイツ留学を経て軍医となりました。この間、『舞姫』、『阿部一族』などの執筆活動も行いました。

山口にある、(②) を記念してつくられた聖堂を見学しました。(1)この人物はスペインで生まれ、イエズス会の宣教師としてアジアでの布教を行いました。日本には1549年にやってきて、翌年に山口を訪れました。ステンドグラスが、やさしい空間をつくり出していました。

^{あかま}赤間神宮に参拝しました。(m)栄華をきわめた平家一門が、源義経らによって追いつめられ、当時の安徳天皇とともに関門海峡の海中に沈みました。この天皇をまつのが赤間神宮です。この隣には、(③) の講和会議が開かれ、下関条約の結ばれた建物があります。

問1 文章中の (①) ~ (③) にあてはまる語句をそれぞれ答えなさい。

問2 文章中の A ~ D について、これらに訪れた順番を記号で並び替えなさい。

問3 下線部(a)について、この城に関して述べた文として正しいものを次の A ~ E から1つ選び、記号で答えなさい。

A 井伊氏が歴代の城主となった城である。天守の規模は小さいが、美しい外観を保っており、国宝に指定されている。

I 徳川家康によって築城された。^{じょうかく}城郭としてよりも將軍の宿泊所としての性格が強く、將軍就任の式や大政奉還の発表も行われた。

ウ 豊臣秀吉が石山本願寺跡に築城した。徳川家に政権が移った後、1615年に落城した。

E 日本に現存する最大の城郭建築であり、我が国ではじめて世界遺産に登録された。「^{しらさぎじょう}白鷺城」ともよばれている。

問4 下線部(b)について、この人物に関連した次の i ~ iv の出来事を、時期の古いものから順に記号で並び替えなさい。

i 安土城が築かれる。

ii ^{おけはごま}桶狭間の戦いがおこる。

iii 長篠の戦いがおこる。

iv 室町幕府が滅ぼされる。

問5 下線部(c)について、この温泉が開かれた頃のできごとに関して述べた文として正しいものを次のア～エから1つ選び、記号で答えなさい。

- ア 国司に反抗した陸奥の豪族安倍氏を、源氏が平定した。
- イ 藤原氏が政界へ進出し、伴氏や橘氏などを排斥した。
- ウ 平城京に変わり、長岡京に都がおかれた。
- エ 源頼朝が征夷大將軍となり、鎌倉幕府を開いた。

問6 下線部(d)について、この宗派を始めた人物の名と中心となった寺院の組合せとして正しいものを次のア～カから1つ選び、記号で答えなさい。

- ア 空海－延暦寺（比叡山）
- イ 空海－金剛峯寺（高野山）
- ウ 最澄－延暦寺（比叡山）
- エ 最澄－金剛峯寺（高野山）
- オ 法然－延暦寺（比叡山）
- カ 法然－金剛峯寺（高野山）

問7 下線部(e)について、これ以外の日本の鉱山と産出した資源の組合せとして誤っているものを次のア～エから1つ選び、記号で答えなさい。

- ア 足尾（栃木県）－銅
- イ 生野（兵庫県）－銀
- ウ 佐渡（新潟県）－金
- エ 別子（愛媛県）－銀

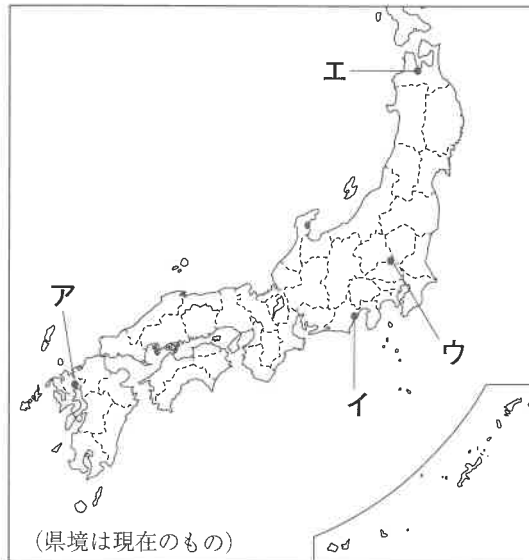
問8 下線部(f)について、この理由を述べた文として誤っているものを次のア～エから1つ選び、記号で答えなさい。

- ア 銀生産と鉱山開発の伝統的役割のあとが残るから。
- イ 鉱山の遺跡と自然環境が一体となって文化的景観をつくっているから。
- ウ 日本産業の近代化の歴史を刻み、良好な状態の産業施設や街並みが残されているから。
- エ 日本の銀が16世紀の世界の経済を支え、文化の交流をもたらしたから。

問9 下線部(g)について、『風土記』に関して述べた文として正しいものを次のア～エから1つ選び、記号で答えなさい。

- ア 神話や伝承、記録などをもとにつくられた歴史書
- イ 全国の産物、地名の由来、伝承などを記した書物
- ウ 天皇や貴族のほか、防人や農民がつくったとされる歌を収めた現在残る最古の和歌集
- エ 唐の詩の影響を強く受けた、現在残る最古の漢詩集

問10 下線部(h)について、これと同じ時期における他の遺跡の名と次の地図中の位置ア～エの組合せとして正しいものを下の①～⑧から1つ選び、記号で答えなさい。



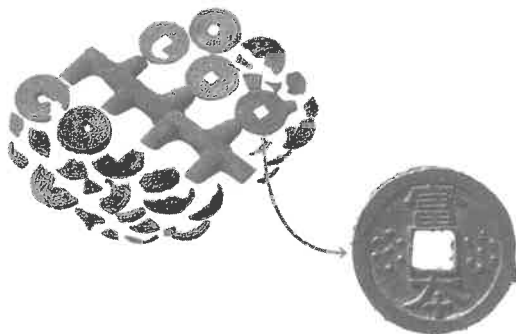
- ① 三内丸山遺跡－ア
- ② 三内丸山遺跡－イ
- ③ 三内丸山遺跡－ウ
- ④ 三内丸山遺跡－エ
- ⑤ 吉野ヶ里遺跡－ア
- ⑥ 吉野ヶ里遺跡－イ
- ⑦ 吉野ヶ里遺跡－ウ
- ⑧ 吉野ヶ里遺跡－エ

問11 下線部(i)について、ここから出土したものとして誤っているものを次のア～エから1つ選び、記号で答えなさい。

ア 大陸から伝来した金属器



イ つくりかけの日本最古の貨幣 (富本銭^{ふほんせん})



ウ 農耕具、漁撈具^{ぎょろう}



エ 伐採用の石器 (石斧^{せきふ})



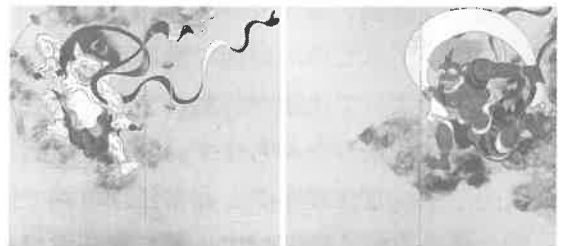
問12 下線部(j)について、この人物に最も関係の深い絵画として正しいものを次のア～エから1つ選び、記号で答えなさい。

ア 浮世絵


イ 水墨画



ウ 装飾画



エ 錦絵



問13 下線部(k)について、この理由を明治新政府による改革と関連づけて、簡潔に答えなさい。

問14 下線部(l)について、この背景を述べた文として正しいものを次のア～エから1つ選び、記号で答えなさい。

ア イギリスでピューリタン革命がおこった。

イ カトリック教会が、宗教改革に対抗する改革を行った。

ウ ムハンマドがイスラム教をはじめた。

エ ローマ帝国が、キリスト教を国の宗教に定めた。

問15 下線部(m)について、このうち武士としてはじめて太政大臣となった人物の名を漢字で答えなさい。

4 次の文章を読んで、後の各問いに答えなさい。

①国連は第二次世界大戦後の1945年に世界の平和と安全を守り、人々のくらしをよりよいものにするために設立された国際平和機関です。設立当初の加盟国は51か国でしたが、2023年12月現在は世界の約200の国のうち、が加盟しています。日本は1956年に加盟しました。現在では、②たくさんの活動費用を負担したり、多くの人が職員として働いたりして、国連の活動を支えています。国連は、国家間の争いや、③地球環境問題など世界各地で起こっているさまざまな問題を解決するために会議を開いたり、目的に応じた多くの④国連機関を通じて働きかけを行ったりします。

国連は総会、安全保障理事会、事務局などの主要な機関から構成されています。総会は、すべての加盟国で構成される審議機関です。各国が1票の投票権を持ち、多数決によって決議が行われます。総会で決定されたことがらは、世界の国々の声を代表する重みを持ちます。⑤安全保障理事会は、世界の平和と安全に責任を持つ機関です。常任理事国と非常任理事国で構成されています。事務局は、国連の日常的な業務を行う機関です。最高責任者である事務総長と、全世界で活動するおよそ4万人の職員で構成されています。

日本には国連の加盟国の1つとして、政治や経済の面でも世界の平和を実現するため、世界各地でいろいろな⑥国際協力の活動を行うことが求められています。

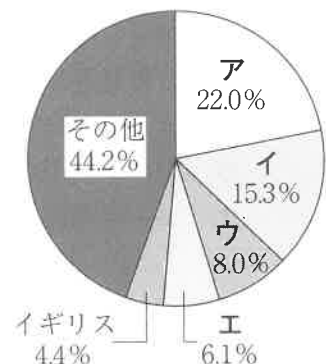
問1 下線部①について、次の各問いに答えなさい。

(1) 国連の正式名称を漢字で答えなさい。

(2) 文中のにあてはまる国の数を次のア～エから1つ選び、記号で答えなさい。

ア 63か国 イ 176か国 ウ 193か国 エ 206か国

問2 下線部②について、右のグラフは2022年の国連分担金の負担割合を表したものです。グラフ中のア～エは日本・アメリカ・中国・ドイツのいずれかの国のものです。このうち日本の割合を示したものをア～エから1つ選び、記号で答えなさい。



(外務省HPより作成)

問3 下線部③について、1997年に京都で採択された地球温暖化の主な原因である温室効果ガスの具体的な削減目標の約束を何というか答えなさい。

問4 下線部④について、国連機関の1つとしてユネスコがある。この活動については述べた文として正しいものを次のア～エから1つ選び、記号で答えなさい。

ア 核兵器の拡散を防ぎ、すべての国が原子力科学と技術を平和目的に、安全に安心して利用できるようにするための活動を行っている。

イ すべての人々が可能な最高の健康水準に到達することを目的に、全世界の人々の健康を守るための活動を行っている。

ウ 北半球に多い先進国と南半球に多い発展途上国との間の経済格差を縮めていくことを目的に活動を行っている。

エ 文化遺産の修復や保存をはじめとして、教育や文化などの分野で世界の平和につながる活動を行っている。

問5 下線部⑤について、これについて述べた次のA～Cの文のうち、正しいものはどれか。あてはまるものをすべて選び、その組合せとして正しいものを下のア～キから1つ選び、記号で答えなさい。

A 2022年の国連総会において日本は、安全保障理事会の5つある非常任理事国の1つに選出され、現在2年間の任期を務めている。

B 安全保障理事会の常任理事国を務める国は、アメリカ、イギリス、ロシア、フランス、中国の5か国である。

C 安全保障理事会の常任理事国と非常任理事国の反対投票は拒否権と呼ばれ、その行使はともに決議を拒否する力を持っている。

ア A イ B ウ C

エ AとB オ AとC カ BとC キ AとBとC

問6 下線部⑥について、貧しさなどの理由で困っている国の人々の生活をよくするために政府が資金や技術の援助を行うことを何というか、アルファベットの略称で答えなさい。

受験
番号

氏
名

2024年度入学試験

社会(1次)解答用紙 ※印の箇所には記入しないで下さい。

1

問1 (1) (2)

問2 (1)

※

(2) (3)

問3 (1) (2)

問4

2

問1 問2

問3 (1) (2) 火山灰土 記号

※

(3) (4) この都道府県 Fの都道府県

3

問1 ① ② ③

問2 → → 問3

問4 → →

問5 問6 問7 問8

問9 問10 問11 問12

問13

※

問14 問15

4

問1 (1) (2) 問2

問3 問4 問5

※

問6

得点 ※