

1 次の地図を見て、後の各問いに答えなさい。



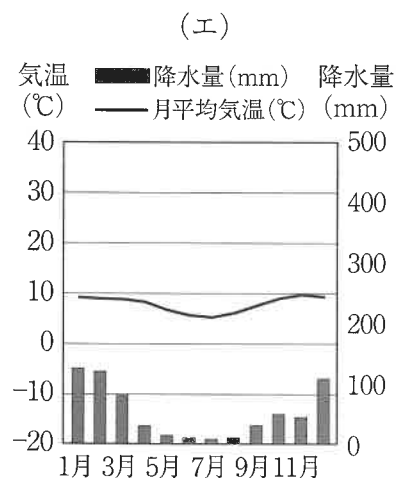
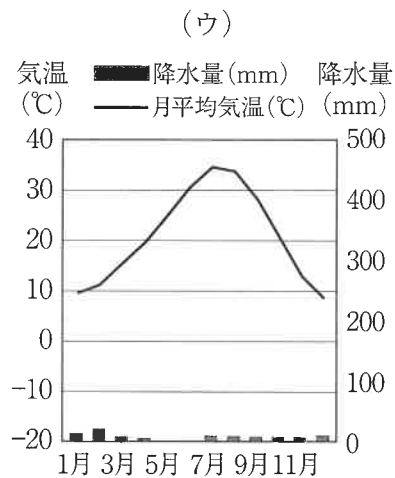
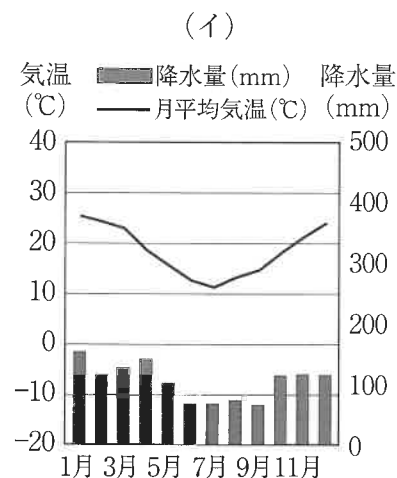
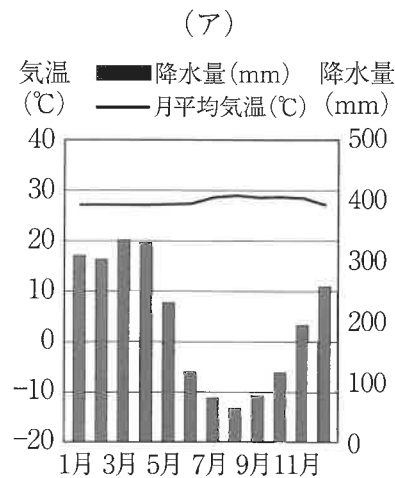
問1 地図中 (X) の海洋の名を漢字で答えなさい。

問2 次の文は地図中 (ア) ~ (エ) のいずれかの国について説明した文です。この説明にあてはまる国の位置を (ア) ~ (エ) から1つ選び、記号で答えなさい。また、その国名を答えなさい。

この国は、英語とフランス語を公用語としています。国土の北部にはイヌイットと呼ばれる先住民がくらしています。

問3 地図中②の都市について、次の各問いに答えなさい。

(1) 次の降水量と気温のグラフ(ア)～(エ)は、地図中①～④のいずれかの都市のもので、地図中②の都市にあてはまるものを(ア)～(エ)から1つ選び、記号で答えなさい。



(気象庁HPより作成)

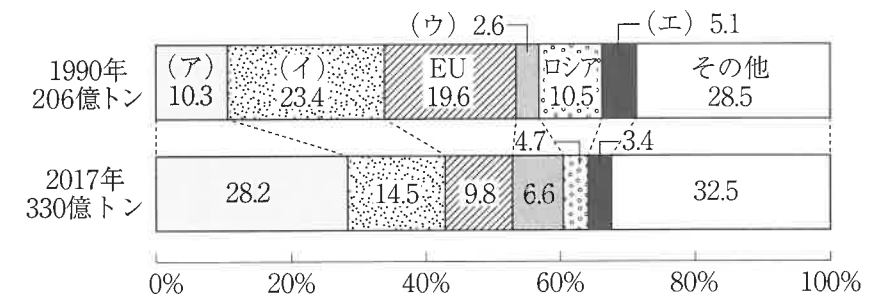
(2) 地図中②の都市と周辺の様子として、(1)で選んだグラフからどのようなことが読み取れますか。次の(ア)～(エ)から1つ選び、記号で答えなさい。

- (ア) 日本と同じ緯度に位置しているため、温暖な気候で草原が広がっています。
- (イ) 標高が高いため、年間を通じて気温の変化が少なくなっています。
- (ウ) 年間を通じて降水量が少なく、砂漠が広がっています。
- (エ) 降水量が多く、密林が広がっています。

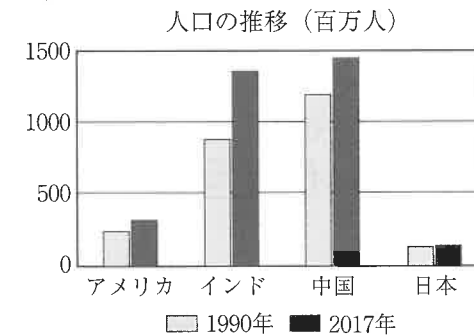
問4 2015年、パリで温室効果ガス削減に関する国際的なルールが決められました。しかし、2017年、地図中のアメリカ合衆国では、当時のトランプ大統領のときにパリ協定からの離脱を表明し、協定の効果が疑問視されていました。次のグラフは世界の二酸化炭素排出量の割合とそれに関するものです。グラフ中の(ア)～(エ)は、アメリカ合衆国、インド、中国、日本のいずれかです。下の資料1～3を参考にして、アメリカ合衆国にあてはまるものを(ア)～(エ)から1つ選び、記号で答えなさい。

*2021年、バイデン大統領のもとでアメリカ合衆国は、パリ協定に復帰しています。

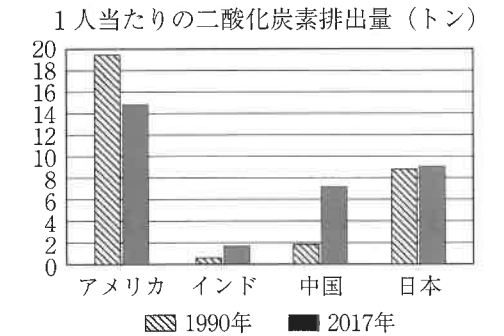
グラフ 世界の二酸化炭素排出量の割合(%)



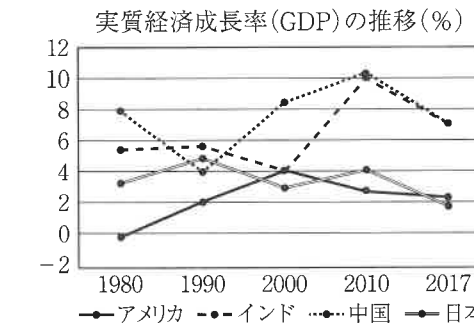
資料1



資料2



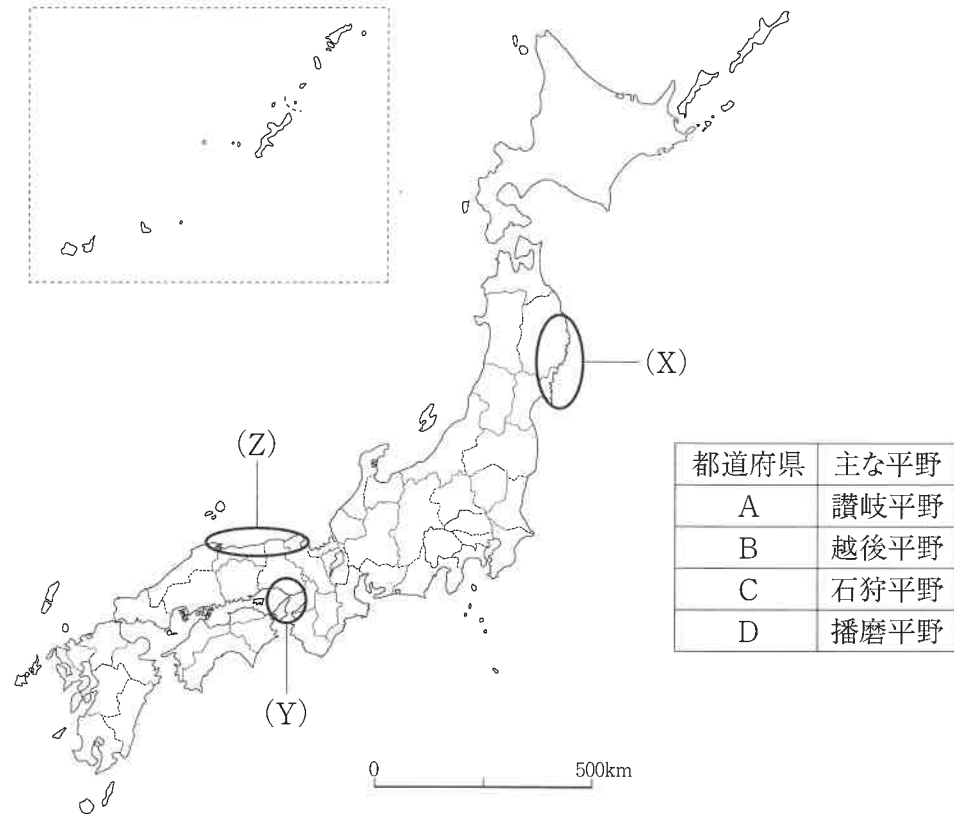
資料3



※GDP: 経済成長をあらわす指標です。

(『データブック・オブ・ザ・ワールド2021』、『日本国勢図会2020/2021』、環境省HP EDMC/経済統計要覧などにより作成)

2 次の地図と表を見て、後の問いに答えなさい。



問1 表中A・Bにあてはまる都道府県の名をそれぞれ答えなさい。

問2 表中Cの都道府県について、次の文中の空らん あ ・ い にあてはまる語句をそれぞれ答えなさい。

この都道府県の東方の歯舞群島、色丹島、国後島、 あ の四島は北方領土と呼ばれ、日本固有の領土です。しかし、現在は い が不法に占拠しており、日本政府は抗議を続けています。

問3 表中Dの都道府県について説明した次の文①・②の正誤の組み合わせとして正しいものを下の(ア)～(エ)から1つ選び、記号で答えなさい。

- ① 南部の工業地帯には世界有数の生産量をほこる自動車の本社があるため、機械工業がさかんです。
- ② 日本有数の陶磁器である瀬戸焼の生産地として有名です。
- (ア) ①-正 ②-正 (イ) ①-正 ②-誤
 (ウ) ①-誤 ②-正 (エ) ①-誤 ②-誤

問4 表中A～Dの都道府県のうち世界遺産が登録されている都道府県はいくつありますか。数字で答えなさい。

問5 次の文①・②は、地図中(X)・(Y)の地域の自然災害について説明した文です。①・②の正誤の組み合わせとして正しいものを下の(ア)～(エ)から1つ選び、記号で答えなさい。

- ① 2011年、(X)の地域の沖合で発生した地震は、津波を引き起こして、被害をさらに大きくさせた。
- ② 1995年、(Y)の地域で発生した地震は、噴火を引き起こして都市域に大きな被害をもたらした。

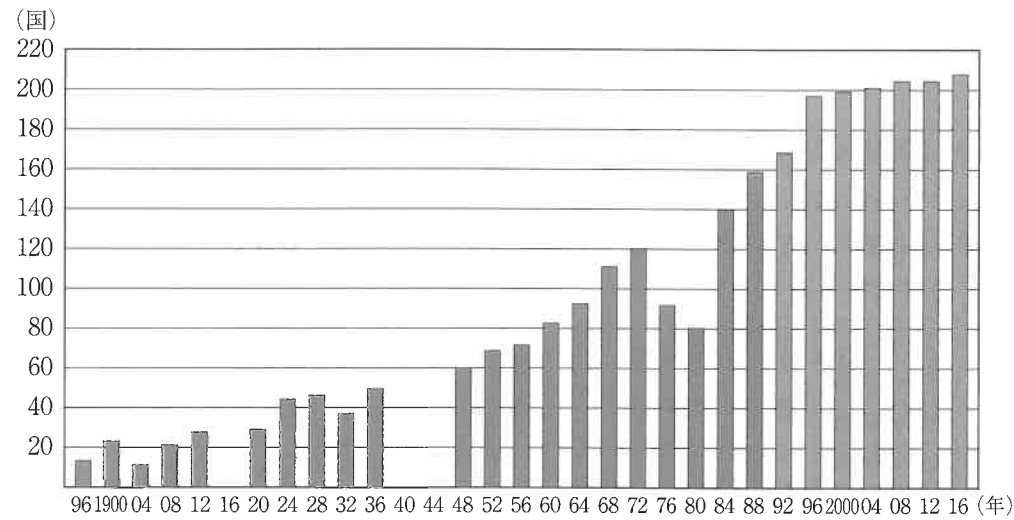
- (ア) ①-正 ②-正 (イ) ①-正 ②-誤
 (ウ) ①-誤 ②-正 (エ) ①-誤 ②-誤

問6 地図中(Z)の地域は季節風の影響を大きく受けます。(Z)の地域における季節風の影響について説明した次の文①・②の正誤の組み合わせとして正しいものを下の(ア)～(エ)から1つ選び、記号で答えなさい。

- ① 冬の季節風が吹くと、(Z)の地域は、局地的に気温が高くなる。
- ② 冬の季節風が吹くと、(Z)の地域は、降水量が多くなる。

- (ア) ①-正 ②-正 (イ) ①-正 ②-誤
 (ウ) ①-誤 ②-正 (エ) ①-誤 ②-誤

3 2021年の夏、東京オリンピック・パラリンピックが開催されました。次のグラフは、1896年に誕生した近代オリンピックの参加国・地域数の推移（夏季）を表したものです。グラフを見て、後の各問いに答えなさい。



(出典：国際オリンピック委員会 (IOC))

問1 第1回アテネ大会（1896年）が開催された年の日本のようすについて述べた次の文X・Yの正誤の組み合わせとして、正しいものを下の（ア）～（エ）から1つ選び、記号で答えなさい。

- X 日本の領土には、台湾や朝鮮半島が含まれる。
 Y 日本は、イギリスに対して領事裁判権を認めている。

- (ア) X - 正 Y - 正 (イ) X - 正 Y - 誤
 (ウ) X - 誤 Y - 正 (エ) X - 誤 Y - 誤

問2 中止になったオリンピック大会について述べた次の文X・Y・Zの正誤の組み合わせとして、正しいものを下の（ア）～（ク）から1つ選び、記号で答えなさい。

- X 1916年の大会は、第一次世界大戦中のため中止になった。
 Y 1940年の大会は、太平洋戦争が始まっていたため中止になった。
 Z 1944年の大会は、第二次世界大戦後の混乱のため中止になった。

- (ア) X - 正 Y - 正 Z - 正
 (イ) X - 正 Y - 正 Z - 誤
 (ウ) X - 正 Y - 誤 Z - 正
 (エ) X - 正 Y - 誤 Z - 誤
 (オ) X - 誤 Y - 正 Z - 正
 (カ) X - 誤 Y - 正 Z - 誤
 (キ) X - 誤 Y - 誤 Z - 正
 (ク) X - 誤 Y - 誤 Z - 誤

問3 次の表は、アメリカ合衆国・ソ連・中華人民共和国のオリンピックの参加状況を示したものです。下の文を参考にして、表中X・Y・Zの国の組み合わせとして、正しいものを下の（ア）～（カ）から1つ選び、記号で答えなさい。

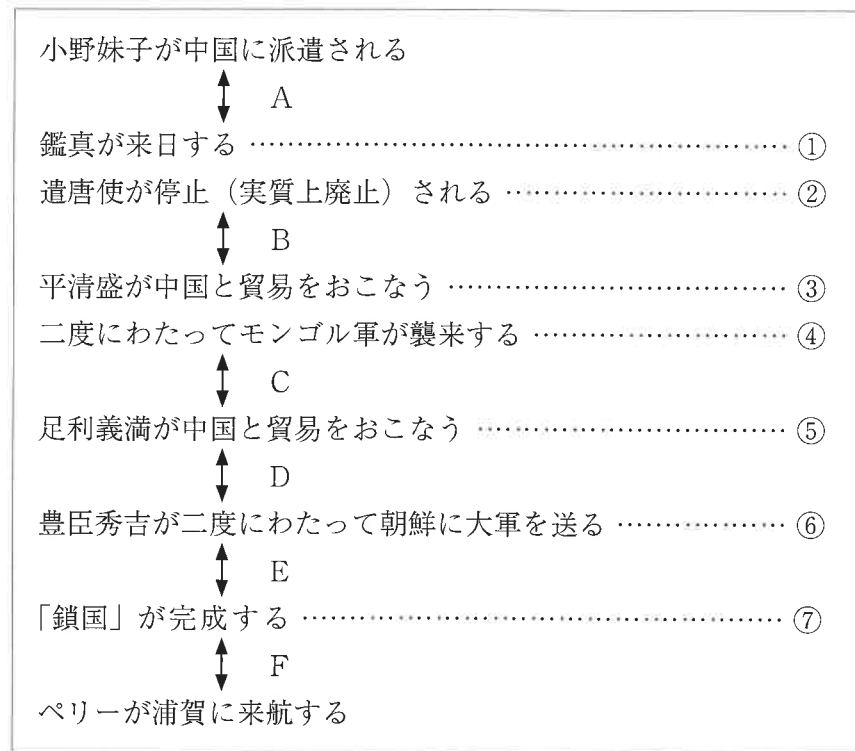
	ヘルシンキ大会 (1952年)	東京大会 (1964年)	ロサンゼルス大会 (1984年)
X	○	○	○
Y	○	×	○
Z	○	○	×

○…参加
 ×…不参加

- ・東京大会に参加していない国は、その当時開催国と国交がなかった。
 ・ロサンゼルス大会に参加していない国は、その当時開催国と対立していた。

- (ア) X - アメリカ合衆国 Y - ソ連 Z - 中華人民共和国
 (イ) X - アメリカ合衆国 Y - 中華人民共和国 Z - ソ連
 (ウ) X - ソ連 Y - アメリカ合衆国 Z - 中華人民共和国
 (エ) X - ソ連 Y - 中華人民共和国 Z - アメリカ合衆国
 (オ) X - 中華人民共和国 Y - アメリカ合衆国 Z - ソ連
 (カ) X - 中華人民共和国 Y - ソ連 Z - アメリカ合衆国

4 次の表は、7世紀～19世紀までの日本と外国の関係をまとめたものです。表を見て、後の各問いに答えなさい。



問1 次の人物が来日した時期として正しいものを表中A～Fから1つ選び、記号で答えなさい。



問2 次の文は、表中Aの頃に活躍した人物について述べたものです。この人物の名（天皇になる前の呼び名）を漢字で答えなさい。

唐から帰国した留学生や留学僧の協力を得て、天皇中心の国家をめざして政治の改革をすすめた。また、朝鮮半島の百済を助けるために大軍を送ったが、唐・新羅連合軍に敗れた。のちに天皇となって、日本最初の戸籍をつくった。

問3 表中①について、この頃に建てられた寺として正しいものを次の(ア)～(エ)から1つ選び、記号で答えなさい。

- (ア) 法隆寺 (イ) 金剛峯寺 (ウ) 東大寺 (エ) 中尊寺

問4 表中②について、このことを提案した人物の名を漢字で答えなさい。

問5 表中Bの頃におこった次の(ア)～(エ)のできごとを年代の古い順に並びかえなさい。

- (ア) 白河上皇が院政をはじめた。
 (イ) 藤原氏が摂関政治をおこなった。
 (ウ) 平治の乱がおこった。
 (エ) 平将門が反乱をおこした。

問6 表中③・⑤について、次の文X・Yの正誤の組み合わせとして正しいものを下の(ア)～(エ)から1つ選び、記号で答えなさい。

X 平清盛は、兵庫の港を整備して、宋と貿易をおこなった。

Y 足利義満は、正式な貿易船と倭寇を区別するため、朱印状を用いて明と貿易をおこなった。

- (ア) X - 正 Y - 正 (イ) X - 正 Y - 誤
 (ウ) X - 誤 Y - 正 (エ) X - 誤 Y - 誤

問7 表中④について、次の(ア)～(エ)のうち誤っているものを1つ選び、記号で答えなさい。

- (ア) チンギス＝ハンが、朝鮮半島の高麗を従えて日本に攻めてきた。
- (イ) このとき幕府の実権を握っていたのは、執権の北条時宗であった。
- (ウ) モンゴル軍の再襲来に備えて、博多湾に防塁が築かれた。
- (エ) この戦いに日本は勝利したが、幕府から御家人に対して十分な恩賞は与えられなかった。

問8 表中⑥について、このとき朝鮮から日本に連行された人々によって、あるものをつくる技術・技法が伝えられました。何をつくる技術・技法がもたらされたか、最も適当なものを次の(ア)～(エ)から1つ選び、記号で答えなさい。

- (ア) 水墨画 (イ) ガラス (ウ) 陶磁器 (エ) 絹織物

問9 表中Eの頃の日本について、次の文中の下線部(ア)～(エ)のうち誤っているものを1つ選び、記号で答えなさい。また、それにかわる正しい語句を答えなさい。

江戸幕府を開いた徳川家康は、(ア)大坂夏の陣で豊臣氏を滅ぼした。大名を取り締まるための法律として(イ)公事方御定書が出されたが、これは3代将軍(ウ)徳川家光のときに改正され、参勤交代の制度が定められた。大名は、徳川氏との関係で3つの種類に分けられたが、そのうち関ヶ原の戦いの前からすでに徳川氏の家来であった大名は、(エ)譜代大名とよばれ、重要地域に配置された。

問10 表中⑦について、「鎖国」が完成した後も、日本は一部の国と交流をおこなっていました。鎖国中の対外政策について述べた次の文X・Yの正誤の組み合わせとして正しいものを下の(ア)～(エ)から1つ選び、記号で答えなさい。

- X キリスト教の布教に関係のないポルトガルと清とは、長崎で貿易をおこなった。
- Y 朝鮮からは、将軍の代わりごとに朝鮮通信使が派遣され、貿易は薩摩藩を通じておこなわれた。

- (ア) X－正 Y－正 (イ) X－正 Y－誤
- (ウ) X－誤 Y－正 (エ) X－誤 Y－誤

5 の設問は 12 ページから始まります。

5 次の表は、2020年のおもなできごとをまとめたものです。この表を見て、後の各問いに答えなさい。

2020年	おもなできごと
1月	イギリスがEUから離脱
2月	政府が全国小中高の休校を要請
3月	世界保健機関（WHO）が「パンデミック」を宣言 ……① 東京オリンピック・パラリンピックの1年延期を決定
4月	政府が全国を対象に緊急事態宣言を発表
5月	「黒人の命は大切だ」を合い言葉とする運動がアメリカから世界へ広がる
6月	在外投票の制限について、二審も「違憲」の判断 ……②
7月	レジ袋の有料化がスタート ……③ 東京都知事選挙がおこなわれ、現職の小池百合子氏が再選 ……④
8月	安倍晋三内閣総理大臣が病気の悪化のため辞任を表明 ……⑤
9月	自民党の菅義偉氏が第99代の内閣総理大臣に就任
10月	核兵器禁止条約の発効が決定 ……⑥
11月	「大阪都構想」が住民投票で反対多数となり、否決
12月	「伝統建築工場の技 木造建造物を受け継ぐための伝統技術」がユネスコの無形文化遺産に登録

問1 表中①について、世界保健機関（WHO）は国際連合の専門機関です。国際連合に関して述べた次の文（ア）～（エ）のうち、正しいものを1つ選び、記号で答えなさい。

- （ア） 国際連合の総会は年1回開かれ、決議には出席するすべての国が賛成しないと可決されない。
- （イ） 安全保障理事会の常任理事国の5カ国は、すべてヨーロッパの国で構成されている。
- （ウ） 安全保障理事会の決議は、常任理事国5カ国が賛成をしないと可決されない。
- （エ） 日本は、国際連合が発足した1945年から加盟している。

問2 表中②について、次の文は、これについて説明したものです。空らん A B に入る語の組み合わせとして正しいものを、下の（ア）～（エ）から1つ選び、記号で答えなさい。

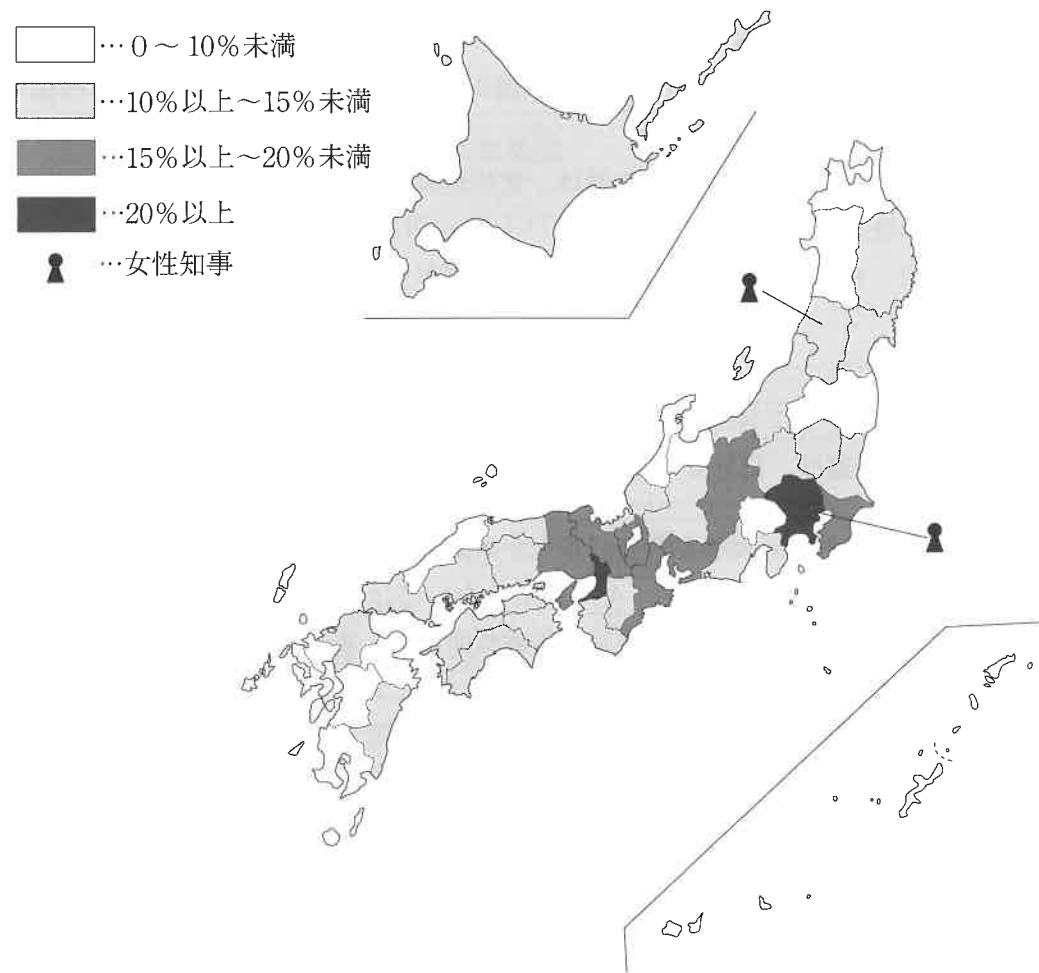
この裁判は、海外に住む日本人が衆議院議員選挙に合わせておこなわれる最高裁判所の裁判官の A B ができないのは憲法違反だとして国家賠償を求めて訴えたものです。東京高等裁判所は、一番の地方裁判所と同じ「違憲」と判断しました。しかし、国家賠償については認められなかったため、国と原告はどちらも最高裁判所へ B しました。

- （ア） A - 国民投票 B - 控訴 （イ） A - 国民投票 B - 上告
- （ウ） A - 国民審査 B - 控訴 （エ） A - 国民審査 B - 上告

問3 表中③について、この制度は、SDGs（持続可能な開発目標）にある17の目標のうち、右の14番目の「海の豊かさを守ろう」とつながりがあります。その理由を答えなさい。



問4 表中④について、次の地図は、女性が知事に就いている都道府県と、各都道府県の中の市区町村議会に女性議員がどれだけいるのかをまとめたものです。これに関して、以下の問いに答えなさい。



*女性知事は2021年4月1日現在、女性議員の比率は2019年12月31日現在で作成
 (内閣府男女共同参画局「女性の政治参画マップ2020」より作成)

(1) 女性が知事に就いているのは、東京都とあと一つはどこですか。上の地図から、道府県名を漢字で答えなさい。

(2) 地図について述べた次の文XとYの正誤の組み合わせとして正しいものを、次の(ア)～(エ)から1つ選び、記号で答えなさい。

X 市区町村議会での女性議員の比率が10%以上15%未満である都道府県は、全体の半分以上ある。
 Y 市区町村議会での女性議員の比率が20%以上ある都道府県は、すべて関東地方である。

- (ア) X-正 Y-正 (イ) X-正 Y-誤
 (ウ) X-誤 Y-正 (エ) X-誤 Y-誤

問5 表中⑤について、内閣総理大臣の辞任以降のながれとして正しいものを次の(ア)～(エ)から1つ選び、記号で答えなさい。

- (ア) 通常国会(常会)を開いて、新しい内閣総理大臣を選ぶ。
 (イ) 新しい内閣総理大臣は、必ず国会議員の中から選び、国会が指名する。
 (ウ) 新しい国務大臣は、すべて国会議員の中から選び、新しい内閣総理大臣が任命する。
 (エ) 天皇は、内閣の指名にもとづいて、新しい内閣総理大臣を任命する。

問6 表中⑥について、「核兵器を持たず、作らず、もちこませず」という日本の基本方針を何というか答えなさい。

