

1 後の各問いに答えなさい。

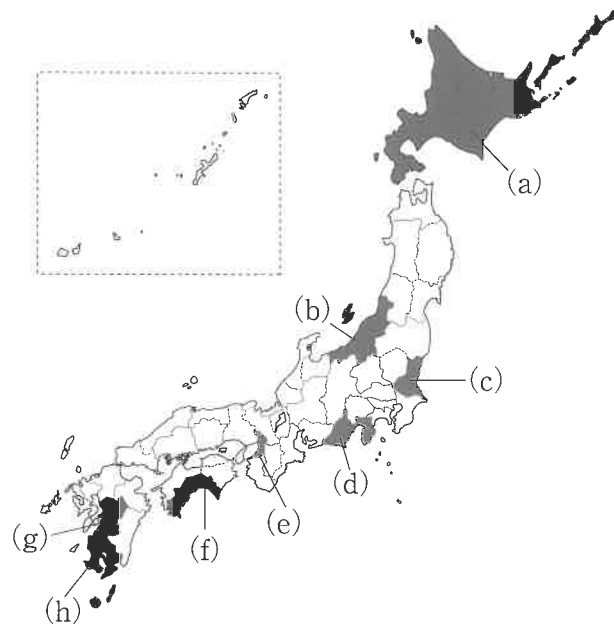
問1 次の表1は、下の地図1中の(a)～(h)の都道府県に関する統計をまとめたものです。以下の問いに答えなさい。

表1

都道府県	人口 (千人) *1	米 (千t) *1	茶 (千t) *1	なす (千t) *2	豚飼育頭数 (万頭) *1
①	8,813	24.7	…	7.0	0.4
②	706	50.7	…	41.7	2.6
③	3,659	79.9	33.4	…	10.8
④	5,286	514.8	…	…	62.6
⑤	2,246	627.6	…	6.8	19.2
⑥	1,614	92.4	28.1	1.9	127.2
⑦	1,757	176.2	1.3	31.4	27.5
⑧	2,877	358.4	…	17.8	55.2
全国	126,443	7,780.0	86.3	307.8	918.9

\*1は2018年、\*2は2017年 \*3：表中の…は統計なしを表しています。  
 (『日本国勢図会2019/20』農林水産省HPより作成)

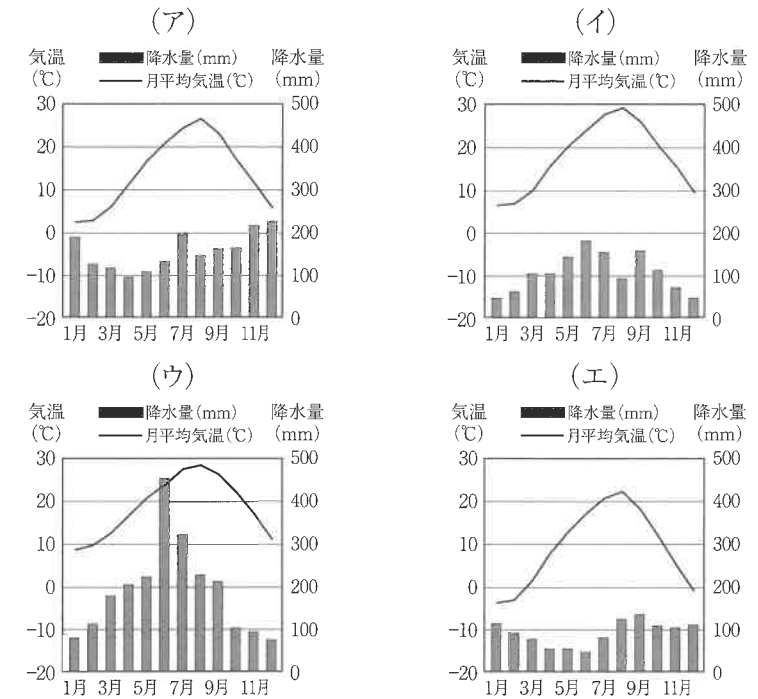
地図1



(1) 表1中の①、②、③の都道府県にあてはまるものを地図1中の(a)～(h)からそれぞれ選び、記号で答えなさい。

(2) 次の図1は、大阪府、鹿児島県、北海道、新潟県のいずれかの県庁所在地の雨温図を表したものです。表中の④、⑤の県庁所在地にあてはまるものを次の(ア)～(エ)からそれぞれ選び、記号で答えなさい。

図1



(『理科年表2019』より作成)

(3) 表1中の⑥の都道府県には、世界遺産に登録されているものがあります。表1中の⑥の世界遺産にあてはまるものを次の(ア)～(エ)から1つ選び、記号で答えなさい。

- (ア) 白神山地 (イ) 知床 (ウ) 富士山 (エ) 屋久島

(4) 次の文を読んで、以下の問いに答えなさい。

表1中の⑦の都道府県では、世界最大級の A がみられる。これは火山の噴火で火山灰や溶岩がふき出したあとが、くぼんでできた地形である。

- (あ) 文中の A にあてはまる語句を答えなさい。  
 (い) 表1中の⑦の都道府県でみられる火山として正しいものを次の(ア)～(エ)から1つ選び、記号で答えなさい。  
 (ア) 浅間山 (イ) 阿蘇山 (ウ) 雲仙岳 (エ) 桜島

(5) 次の文中の **B** にあてはまる語句を答えなさい。

表1中の⑧の都道府県では、都市向けに野菜を出荷する **B** 農業がさかんに行われています。

問2 日本の水産業について、後の問いに答えなさい。

(1) 1973年の石油危機や1982年に採択された国連海洋法条約（発効は1994年）により日本の漁業は大きく変化しました。次の問いに答えなさい。

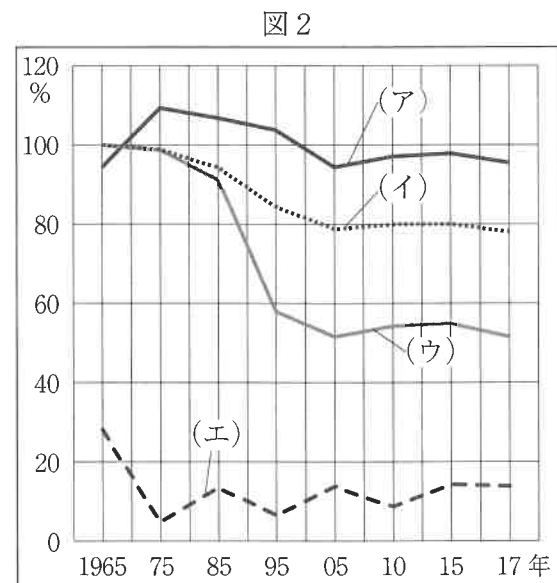
(あ) 国連海洋法条約により規定され、自国の水産資源や鉱物資源などを守るために設定された海域を何というか、その名を答えなさい。

(い) 次の表2は、遠洋漁業、沖合漁業、沿岸漁業、海面養しよく業のいずれかの海面漁業生産量に対する割合を表したものです。沿岸漁業にあたるものを表2中の(ア)～(エ)から1つ選び、記号で答えなさい。

	(ア)	(イ)	(ウ)	(エ)
1970年	20.3	5.9	35.2	36.8
1985年	18.6	8.9	53.4	17.3
2000年	24.7	19.3	40.6	13.4
2017年	20.7	22.9	47.6	7.3

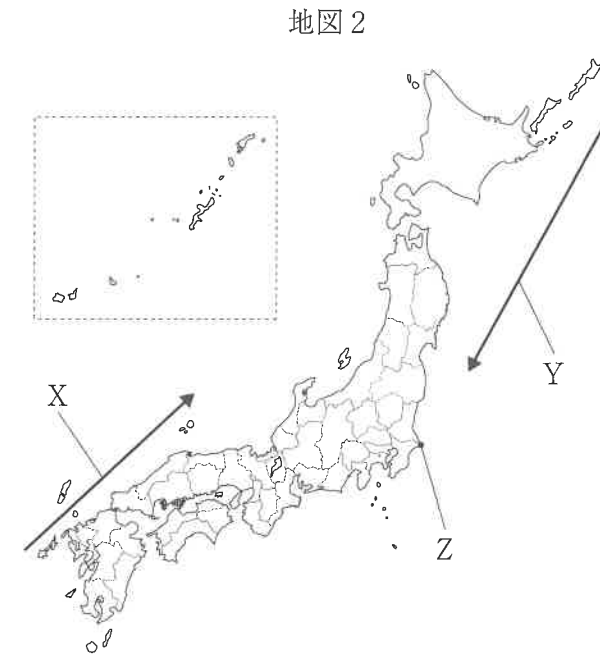
\*四捨五入しているため、総計はすべて100%にはなりません。  
 (『日本国勢図会2019/20』農林水産省HPより作成)

(2) 右の図2は、日本における、米、魚介類、小麦、野菜のいずれかの食料自給率の変化を表したものです。魚介類にあたるものを図2中の(ア)～(エ)から1つ選び、記号で答えなさい。



(『農林水産省 HP』より作成)

(3) 次の主な海流と漁港を表した地図2を見て、次の問いに答えなさい。



(あ) 地図2中のX・Yのうち寒流にあてはまるものを選び、記号で答えなさい。また、その寒流の名を答えなさい。

(い) 地図2中のZは、日本有数の漁かく量を誇る港です。この漁港として正しいものを次の(ア)～(エ)から1つ選び、記号で答えなさい。

- (ア) 石巻 (イ) 銚子 (ウ) 八戸 (エ) 焼津

2 2019年10月1日、消費税率が10%に引き上げられました（※ただし、軽減税率を除く）。これまでの日本の税制度についてまとめた各文を読み、後の問いに答えなさい。

I 弥生・①古墳時代

日本の税に関する最も古い記録は、②中国の歴史書である『三国志』（魏志倭人伝）にあります。「女王卑弥呼が支配する邪馬台国では、税が納められていた」と記されています。

問1 下線部①について、2019年に百舌鳥・古市古墳群が世界文化遺産に登録されました。この古墳群について述べた文の正誤の組み合わせとして正しいものを下の（ア）～（エ）から1つ選び、記号で答えなさい。

X 古墳がつくられた当時、古墳の周りや頂上には土偶が並べられていた。  
Y 大仙古墳は、日本で最も大きな前方後円墳で、現在の大阪市に位置する。

- （ア） X－正 Y－正  
（イ） X－正 Y－誤  
（ウ） X－誤 Y－正  
（エ） X－誤 Y－誤

問2 下線部②について、中国と日本の関わりについて述べた文として誤っているものを次の（ア）～（エ）から1つ選び、記号で答えなさい。

- （ア） 卑弥呼は、魏の皇帝から「親魏倭王」の称号を授けられた。  
（イ） 聖徳太子は、小野妹子らを隋に派遣し、対等な国交を開こうとした。  
（ウ） 北条泰時は、文永の役・弘安の役と呼ばれる元の襲来を退けた。  
（エ） 足利義満は、倭寇を禁止して明と国交を開き、勘合貿易を開始した。

II 飛鳥・奈良時代

飛鳥時代には、公地公民など新しい政治の改革が進められ、③農民が国に納める税の制度も統一されました。

④奈良時代に制定された<sup>こんでんえいねん しぎいほう</sup>墾田永年私財法で、土地の私有が認められると、貴族や寺社は私有地を拡大していき、やがて農民から年貢を徴収するようになりました。

問3 飛鳥・奈良時代のできごとについて述べた文の正誤の組み合わせとして正しいものを下の（ア）～（エ）から1つ選び、記号で答えなさい。

X 645年、中大兄皇子と中臣鎌足は、蘇我氏をほろぼした。  
Y 710年、藤原京から奈良の平城京に都が移された。

- （ア） X－正 Y－正 （イ） X－正 Y－誤  
（ウ） X－誤 Y－正 （エ） X－誤 Y－誤

問4 下線部③について、このとき新しく定められた税について述べた文として誤っているものを次の（ア）～（エ）から1つ選び、記号で答えなさい。

- （ア） 租とは、口分田から収穫した稲を納める税のことである。  
（イ） 庸とは、都で年間10日間の労役につくか、布を納める税のことである。  
（ウ） 調とは、布や絹など地方の特産品を納める税のことである。  
（エ） 雑徭とは、兵士として都や北九州の守りにつく労役のことである。

問5 下線部④について、次の史料は、この頃の農民のくらしを歌ったものです。この歌が収められている書物とこの歌の作者の組み合わせとして正しいものを下の（ア）～（エ）から1つ選び、記号で答えなさい。

「人なみに耕作しているのに、ほろほろの衣服を着て、つぶれそうな家に住んでいる……カマドには火の気がなく、米をむすコシキには、くもの巣が張っている……こんな状態なのに、むちをもった里長が、税を出せと戸口でわめいている……」

- （ア） 『万葉集』－大伴家持 （イ） 『万葉集』－山上憶良  
（ウ） 『古今和歌集』－大伴家持 （エ） 『古今和歌集』－山上憶良

### Ⅲ 平安・鎌倉・室町時代

⑤平安時代には、大きな寺社や貴族の荘園が各地にでき、農民は荘園領主に年貢や公事（糸・布・野菜など）、夫役（労働でおさめる税）などを納めました。

⑥鎌倉時代は、守護・地頭や荘園領主のもとで経済が発達しましたが、この時代においても農民には年貢のほかに公事と夫役が課せられていました。

⑦室町時代には、税の中心は年貢でしたが、商業活動の発達により商工業者に対しても税が課せられ、街道に設けられた関所では、通行税などが税として課せられました。

問6 下線部⑤について、この時代に活躍した人物の説明として誤っているものを次の（ア）～（エ）から1つ選び、記号で答えなさい。

- （ア） 聖武天皇は、全国に国分寺や国分尼寺を建てるよう命じた。
- （イ） 最澄は、唐から帰国後、比叡山に延暦寺を建て、天台宗を広めた。
- （ウ） 藤原頼通は、摂政・関白として大きな力を持ち、宇治に平等院鳳凰堂を建てた。
- （エ） 平清盛は、武士として初めて太政大臣となり、むすめを天皇のきさきにして勢力を強めた。

問7 下線部⑥について、次の史料を読んで、以下の問いに答えなさい。

「頼朝どのが平氏をほろぼして鎌倉に幕府を開いてから、そのご恩は、山よりも高く、海よりも深いものです。そのご恩にむくいようと思う者は、力をあわせて敵軍をうち、源氏3代の将軍がきずきあげたものを守りなさい。」

- （1） これを言った人物を漢字で答えなさい。
- （2） この史料に最も関係の深い戦乱を次の（ア）～（エ）から1つ選び、記号で答えなさい。  
（ア） 保元の乱 （イ） 平治の乱 （ウ） 承久の乱 （エ） 応仁の乱

問8 下線部⑦について、この時代の社会について述べた文の正誤の組み合わせとして正しいものを下の（ア）～（エ）から1つ選び、記号で答えなさい。

X 稲を刈り取ったあとに麦などをつくる二期作が広まった。

Y 株仲間と呼ばれる同業者の組合は、商売の特権を認めてもらう代わりに税を納めた。

- （ア） X－正 Y－正
- （イ） X－正 Y－誤
- （ウ） X－誤 Y－正
- （エ） X－誤 Y－誤

### Ⅳ 安土桃山・江戸時代

天下を統一した豊臣秀吉は、全国の土地調査を行い、農地の面積だけでなく、土地の良し悪しや農地の収穫高なども調べて年貢をかけました。これを  といいます。当時の税率は、収穫の3分の2を年貢として納めるという大変厳しいものでした。

⑧江戸時代になっても、田畑の収穫高に応じて課税する年貢は、そのまま受け継がれました。また、商工業者に対しても、運上金・冥加金といった税が課されていました。

問9 文中の  にあてはまる語句を答えなさい。

問10 下線部⑧について、この時代のできごととして誤っているものを次の（ア）～（エ）から1つ選び、記号で答えなさい。

- （ア） 九州の島原や天草で、厳しい年貢の取り立てとキリスト教の取りしまりに反対した百姓たちが、天草四郎を中心に一揆をおこした。
- （イ） もと大阪町奉行所の役人だった大塩平八郎が、生活に苦しむ人々を救うために同志を集めて兵をあげ、大商人のやしきなどに攻め入った。
- （ウ） 徳川吉宗は、諸大名に米を納めさせ、かわりに参勤交代で江戸にいる期間を半年に縮めた。
- （エ） 水野忠邦は、生活に苦しむ旗本などを救うため、商人からの借金の帳消しを命じた。

V 明治時代

明治政府は、明治6年(1873年)に⑨地租改正を実施しました。また、所得税や法人税が導入されたのもこの時代です。

問11 下線部⑨について述べた文の正誤の組み合わせとして正しいものを下の(ア)～(エ)から1つ選び、記号で答えなさい。

X 課税対象は、収穫高で、その3%を納めさせた。

Y 納税方法は、これまでの収穫物から現金にかわった。


(ア) X-正 Y-正 (イ) X-正 Y-誤

(ウ) X-誤 Y-正 (エ) X-誤 Y-誤

問12 明治23年(1890年)、衆議院議員の第1回総選挙が実施されました。そのときの選挙権所有者の資格はどのようなものでしたか、次の文中の  ・  にあてはまる数字をそれぞれ答えなさい。

「直接国税を年に  円以上納める満  歳以上の男子」

問13 右の史料は、明治27年(1894年)に起こった戦争の風刺画です。この戦争について述べた文として誤っているものを次の(ア)～(エ)から1つ選び、記号で答えなさい。



- (ア) 戦争の直前に、陸奥宗光がイギリスと交渉し、領事裁判権が廃止された。  
(イ) 風刺画中のAは朝鮮を示していて、この戦争は、朝鮮をめぐる日本と中国の争いであった。  
(ウ) 戦争後、山口県の下関で条約がむすばれ、日本は台湾を獲得した。  
(エ) 風刺画中のBはアメリカを示していて、この戦争後、日本が獲得した遼東半島の返還を要求した。

VI 大正・昭和時代

大正時代から昭和初期にかけては、戦争の費用を調達するために増税が続きました。

第二次世界大戦後、混乱した日本でどのような税制度にするべきかについて、アメリカのシャウプ博士の使節団が来日し、日本政府に対して勧告を行いました。この勧告には、直接税中心の税制度にすることや、地方財政の強化などが盛り込まれていました。

問14 大正3年(1914年)に始まった第一次世界大戦について述べた文として誤っているものを次の(ア)～(エ)から1つ選び、記号で答えなさい。

(ア) 日本は、日英同盟を理由に参戦した。

(イ) ドイツのナチスがユダヤ人を大量虐殺した。

(ウ) 日本は、中国に二十一か条の要求をした。

(エ) 戦後、国際連盟が発足した。

VII 平成時代

平成元年(1989年)に、商品の販売やサービスの提供に対して税金を納める消費税が導入されました。

問15 消費税が導入された当時の税率は何%か答えなさい。

3 次の各文は、大阪府のある中学校の社会科の授業で、三権分立について各班が調べる内容をまとめたものです。これについて後の各問いに答えなさい。

1班	私たちの班は裁判所について調べたいです。裁判には刑事裁判と①民事裁判がありますが、公正で慎重な裁判をおこない、そして人権を守るために、②3回まで裁判を受けることができます。昨年(2019年)は、③裁判員制度が始まって10年目だったので、制度の内容についてくわしくまとめたいです。
2班	僕たちの班が調べる内閣は、国会が決めた法律や予算にもとづいて政治をおこないます。最高責任者は内閣総理大臣で、【 A 】、天皇が任命して決まります。僕たちは、内閣がおこなうさまざまな仕事や、④内閣の下におかれている行政機関についてまとめようと思います。
3班	私たちの班は⑤国会について調べようと思います。⑥衆議院と参議院からなる国会は、法律を作ったり、⑦予算の議決などをおこなっています。昨年(2019年)の7月に参議院議員選挙がおこなわれ、新聞に大きく取り上げられたので、新聞記事なども使って発表しようと思います。

問1 下線部①について述べた文として正しいものを次の(ア)～(エ)からすべて選び、記号で答えなさい。

- (ア) 訴える側を原告といい、訴えられる側を被告という。
- (イ) 無実の人がまちがった取り調べなどのためにえん罪になることがある。
- (ウ) 一部の裁判では、裁判員が参加する。
- (エ) 裁判の途中で、裁判官から和解の提案をされることがある。

問2 下線部②について、以下の各問いに答えなさい。

(1)「裁判を受ける権利」は基本的人権の1つです。基本的人権とその種類にあたる権利の組み合わせとして正しいものを次の(ア)～(エ)から1つ選び、記号で答えなさい。

- (ア) 国政調査権－参政権
- (イ) 勤労の権利－社会権
- (ウ) 生存権－平等権
- (エ) 教育を受ける権利－自由権

(2) 次の新聞記事中の B にあてはまる裁判所を次の(ア)～(エ)から1つ選び、記号で答えなさい。

安倍首相は9日、ハンセン病の元患者の家族への賠償を国に命じた熊本 B の判決について、控訴しない方針を表明した。  
(読売新聞の記事(2019年7月10日)より一部引用・文章を変更)

- (ア) 地方裁判所
- (イ) 家庭裁判所
- (ウ) 高等裁判所
- (エ) 最高裁判所

問3 下線部③について、この制度を始めた理由として誤っているものを次の(ア)～(エ)から1つ選び、記号で答えなさい。すべて正しい場合は(オ)を記入しなさい。

- (ア) 国民の意見や知識、経験を裁判結果にいかすため。
- (イ) 裁判にかかる時間を短くするため。
- (ウ) 国民が主権者として裁判への関心を持ってもらうため。
- (エ) 国民にとってわかりやすい裁判を実現するため。

問4 2班の文中の【 A 】には、内閣総理大臣の決め方についての文があたりまです。その文として最もふさわしいものを次の(ア)～(エ)から1つ選び、記号で答えなさい。

- (ア) 国会議員の中から国会が指名して
- (イ) 国会議員の中から内閣が指名して
- (ウ) 衆議院議員の中から国会が指名して
- (エ) 衆議院議員の中から内閣が指名して

問5 下線部④について、次の文は、ある省庁について述べたものです。この省庁の正式な名を答えなさい。

教育の充実や、科学技術・スポーツ・文化の発展に関する仕事をおこなう。この省に属するスポーツ庁は、2020年の東京オリンピック・パラリンピックに関わる仕事も担当している。

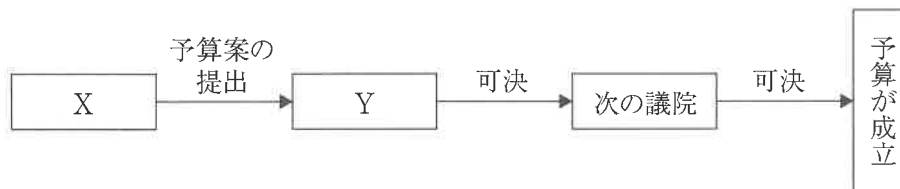
問6 下線部⑤について、次の文は、日本国憲法の条文です。( C ) ( D )  
にあてはまる語句をそれぞれ漢字で答えなさい。

第41条 国会は、( C )の最高機関であって、国の唯一の( D )  
機関である。

問7 下線部⑥について、衆議院と参議院で制度が同じものを次の(ア)～(エ)  
から1つ選び、記号で答えなさい。

- (ア) 選挙に立候補できる年齢 (イ) 議員の定数  
(ウ) 選挙で投票できる年齢 (エ) 議員の任期

問8 下線部⑦について、次の図は、予算が成立するまでの流れをまとめたもの  
です。図中のX・Yにあてはまる語句の組み合わせとして正しいものを下の  
(ア)～(エ)から1つ選び、記号で答えなさい。



- (ア) X：内閣または国会議員 Y：衆議院または参議院  
(イ) X：内閣または国会議員 Y：衆議院  
(ウ) X：内閣 Y：衆議院または参議院  
(エ) X：内閣 Y：衆議院

社会(1次)解答用紙 ※印の箇所には記入しないで下さい。

1

問1

(1)	①		②		③	
(2)	④		⑤		(3)	
(4)	(あ)		(い)			
(5)					農業	

問2

(1)	(あ)		(い)		(2)	
(3)	(あ)	記号		寒流名		(い)

※
---

2

問1

	問2		問3	

問4

	問5		問6	

問7

(1)		(2)	

問8

	問9	

問10

	問11	

問12

A		円以上	B	満		歳以上

問13

	問14		問15		%

※
---

3

問1

	問2	(1)		(2)	

問3

	問4		問5	

問6

C		D	

問7

	問8	

※
---

得点	※
----	---

受験番号		氏名	
------	--	----	--