

1 次の表は2016年におきたできごとをまとめたものです。この表について、後の各問いに答えなさい。

| できごと | |
|--------|--------------------------|
| 3月26日 | ①北海道新幹線が開業 |
| 4月16日 | ②熊本県で最大震度7の③地震（本震）が発生 |
| 5月1日 | （あ）が公式確認されてから60年 |
| 5月26日 | 三重県で伊勢志摩サミットが開催 |
| 5月27日 | アメリカのオバマ大統領が④広島市を訪問 |
| 6月23日 | （い）が国民投票によって⑤EUからの離脱を決定 |
| 7月17日 | 国立西洋美術館が⑥世界遺産に登録 |
| 8月5日 | ⑦ブラジルのリオデジャネイロでオリンピックが開幕 |
| 9月15日 | 沖縄島の北部地域が⑧国立公園に指定 |
| 10月8日 | ⑨阿蘇山が36年ぶりに爆発的噴火 |
| 10月26日 | 総務省が2015年⑩国勢調査の確定結果を発表 |
| 11月30日 | 「山・鉾・屋台行事」が⑪無形文化遺産に登録 |
| 12月15日 | ⑫山口県で日本－ロシア首脳会談 |

問1 下線部①について、これにより北海道から鹿児島県まで新幹線を乗りついで移動できるようになりました。次の表は、東北新幹線、東海道新幹線、山陽新幹線、九州新幹線（鹿児島ルート）についてまとめたものです。表中の(a)～(d)の新幹線の組み合わせとして正しいものを右のページの(ア)～(カ)から1つ選び、記号で答えなさい。

| | 通過する 都道府県数 | 営業キロ (km) | 旅客数 (千人) |
|------|---------------|--------------|-------------|
| (a) | 8 | 552.6 | 167,724 |
| (b) | 4 | 288.9 | 13,271 |
| (c) | 6 | 644.0 | 72,534 |
| (d)* | 8 | 713.7 | 91,008 |

*都道府県数は起点・終点の駅がある都道府県を含む
（国土交通省『鉄道輸送統計年報（平成28年度分）』より作成）

- (ア) a:東北新幹線 b:東海道新幹線 c:山陽新幹線 d:九州新幹線
 (イ) a:東北新幹線 b:東海道新幹線 c:九州新幹線 d:山陽新幹線
 (ウ) a:東海道新幹線 b:九州新幹線 c:東北新幹線 d:山陽新幹線
 (エ) a:東海道新幹線 b:九州新幹線 c:山陽新幹線 d:東北新幹線
 (オ) a:山陽新幹線 b:東北新幹線 c:九州新幹線 d:東海道新幹線
 (カ) a:山陽新幹線 b:東北新幹線 c:東海道新幹線 d:九州新幹線

問2 下線部②について、次の表は、九州7県の農業産出額と産業別人口割合をまとめたものです。熊本県にあてはまるものを表中の(ア)～(エ)から1つ選び、記号で答えなさい。

| | 農業産出額 | | 野菜生産額 | | 畜産生産額 | | 産業別人口割合(%) | | |
|-----|----------|-------|----------|-------|----------|-------|------------|-----------|-----------|
| | 全国 順位 | 億円 | 全国 順位 | 億円 | 全国 順位 | 億円 | 第1次 産業 | 第2次 産業 | 第3次 産業 |
| (ア) | 6 | 3,348 | 4 | 1,273 | 7 | 1,115 | 10.2 | 20.6 | 69.2 |
| (イ) | 16 | 2,191 | 10 | 801 | 24 | 421 | 2.9 | 19.8 | 77.3 |
| (ウ) | 3 | 4,435 | 15 | 557 | 2 | 2,837 | 10.0 | 18.8 | 71.2 |
| (エ) | 5 | 3,424 | 11 | 777 | 3 | 2,094 | 11.4 | 20.8 | 67.8 |
| 長崎県 | 22 | 1,553 | 16 | 520 | 19 | 495 | 7.9 | 19.5 | 72.6 |
| 大分県 | 24 | 1,303 | 24 | 366 | 20 | 454 | 7.2 | 23.5 | 69.3 |
| 佐賀県 | 25 | 1,287 | 19 | 432 | 28 | 320 | 9.2 | 23.5 | 67.3 |

*野菜生産額・畜産生産額は農業産出額に含まれる
（農林水産省統計〔2015年〕、平成22年国勢調査より作成）

問3 下線部③について、地震や災害に備えて危険な場所や避難場所を示した地図の名をカタカナで答えなさい。

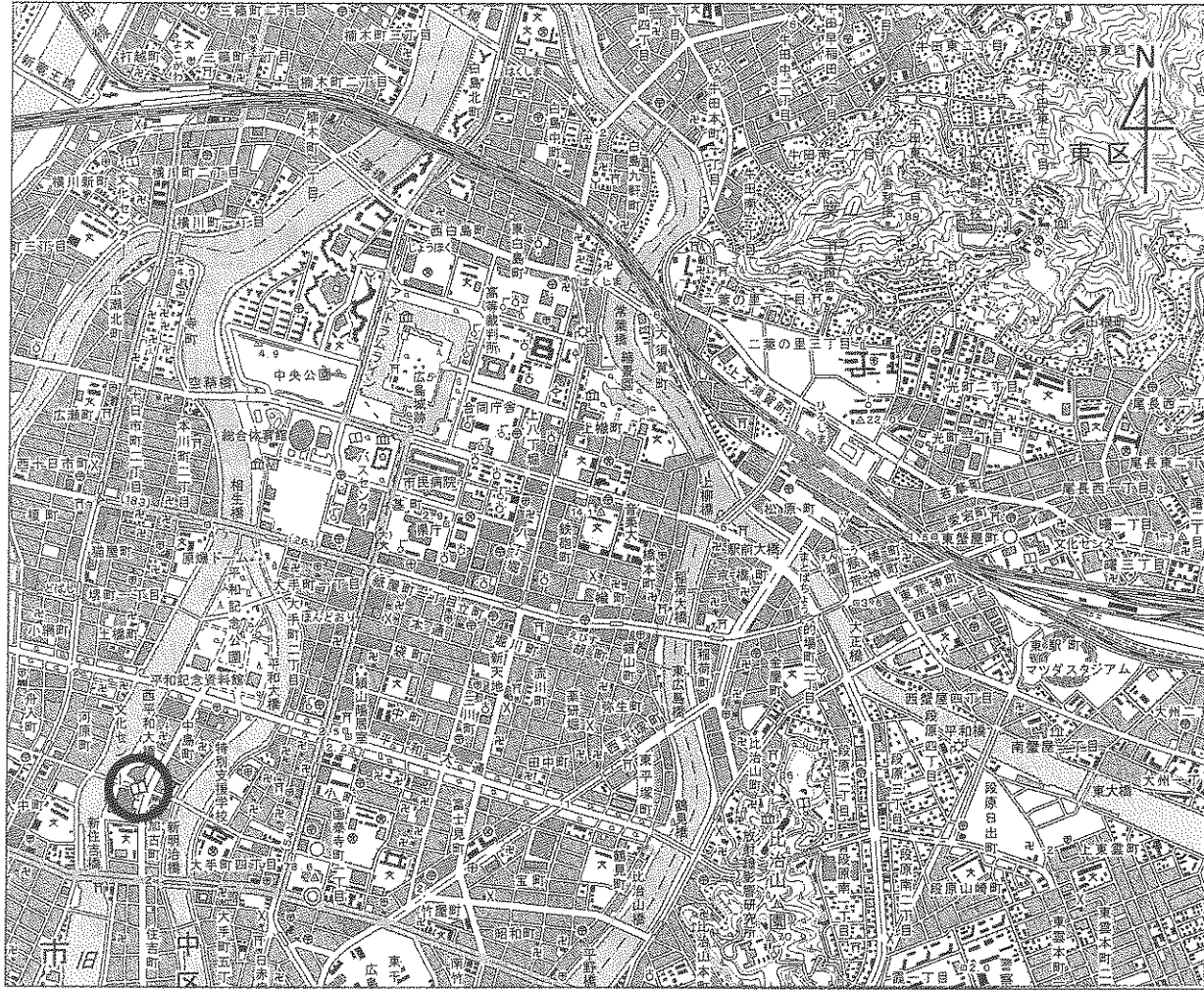
問4 表中の空らん（あ）について、次の各問いに答えなさい。

(1) 空らんには、1950年代に熊本県で発生した公害病の名が入ります。空らんにあてはまる名を答えなさい。

(2) この公害病の原因として正しいものを次の(ア)～(エ)から1つ選び、記号で答えなさい。


- (ア) 騒音 (イ) 悪臭 (ウ) 大気汚染 (エ) 水質汚濁

問5 下線部④について、次の地形図を見て、下の各問いに答えなさい。



(1) 広島市は、河川が運んできた土砂が河口にたい積してできた地形を中心に発達しました。この地形を何というか漢字で答えなさい。

(2) 地図中の○で示した右の地図記号は何をあらわしているか答えなさい。



(3) この地形図に関して説明した文として誤っているものを次の(ア)～(エ)から1つ選び、記号で答えなさい。

- (ア) 広島城跡の南側一帯は、かつて城下町であったことが町名から分かる。
- (イ) 広島市は政令指定都市なので、市役所の他に区役所がある。
- (ウ) 平和記念資料館の南側にある平和大通には、通りに沿って広葉樹林が植えられている。
- (エ) 九州方面へ向かう新幹線は、JR広島駅を出発後、マツダスタジアムの横を通過する。

問6 表中の空らん(い)にあてはまる国の名を答えなさい。

問7 下線部⑤について、これに関して述べた文として正しいものを次の(ア)～(エ)から1つ選び、記号で答えなさい。

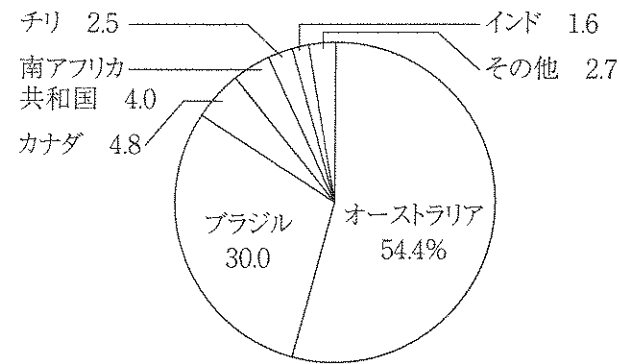
- (ア) 加盟国の間では西ヨーロッパよりも東ヨーロッパの国々の方が1人あたりの国民所得が高く、経済格差が課題となっている。
- (イ) EUの代表は、主要国首脳会議(サミット)に参加しており、伊勢志摩サミットにも出席した。
- (ウ) 1993年にECに代わって設立され、本部はスイスのジュネーブにある。
- (エ) 加盟国は、EUの共通通貨ユーロ以外を使用することができない。

問8 下線部⑥について、これに関して述べた文として正しいものを次の(ア)～(エ)から1つ選び、記号で答えなさい。

- (ア) 近畿地方では、大阪府以外のすべての府県に世界遺産がある。
- (イ) 世界遺産の審査・登録を決定するユネスコは、国際連盟の専門機関である。
- (ウ) 2017年に世界遺産に登録された沖ノ島は、長崎県にある。
- (エ) 国立西洋美術館は東京都にあり、都としては初めての世界遺産となった。

問9 下線部⑦について、次の各問いに答えなさい。

(1) 次のグラフは、ある品目について、日本の輸入額に占める貿易相手国の割合を示しています。この品目として正しいものを次の(ア)～(エ)から1つ選び、記号で答えなさい。



(『日本国勢図会 2017/18』より作成)

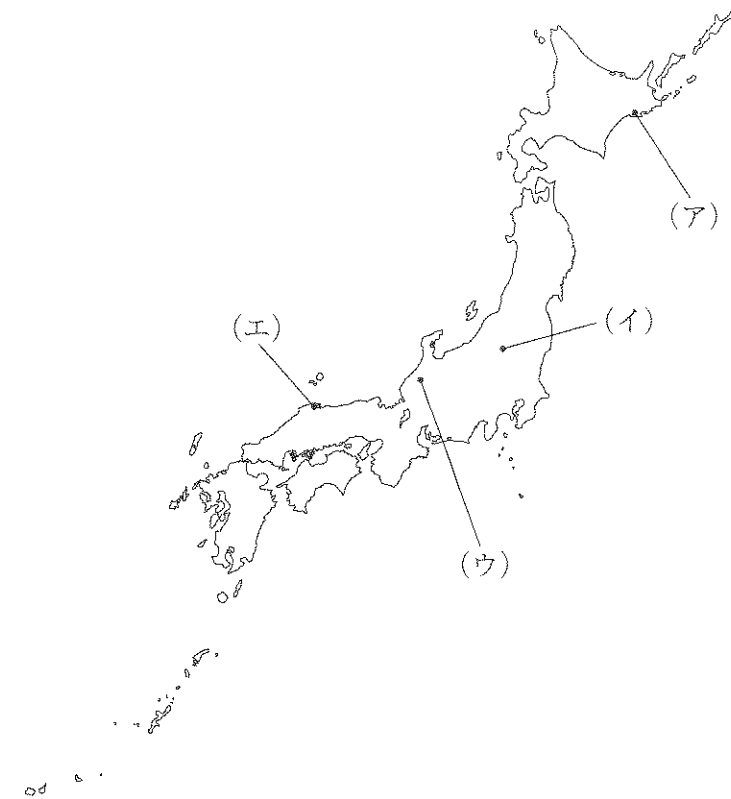
(ア) 綿花 (イ) 原油 (ウ) 鉄鉱石 (エ) 石炭

(2) リオデジャネイロでは、1992年に環境問題についての国際会議が開かれました。この会議の名として正しいものを次の(ア)～(エ)から1つ選び、記号で答えなさい。

(ア) 国連人間環境会議 (イ) 地球サミット
(ウ) 世界人口会議 (エ) 環境開発サミット

問10 下線部⑧について、次の文章は、ある国立公園の説明文です。この国立公園の位置として正しいものを下の地図中の(ア)～(エ)から1つ選び、記号で答えなさい。

日本最大の湿原とそれをとりかこむ丘陵^{きゅうりょう}からなる国立公園で、国の特別天然記念物のタンチョウをはじめ貴重な動植物の生息地である。日本で最初にラムサール条約の登録地となった。

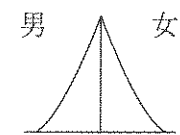


問11 下線部⑨について、この火山の火口付近には、噴火によって大きく落ちこんでできた円形のくぼ地があります。こうしてできたくぼ地を何というかカタカナで答えなさい。

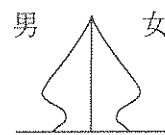
問12 下線部⑩について、外国人を含む日本の総人口は1億2709万4745人でした(2015年10月1日現在)。次のグラフは、2015年の日本の年齢別人口の男女の割合を示したものです。これらの数字を人口ピラミッドで表したときどのような型になるか下の(ア)～(エ)から1つ選び、記号で答えなさい。

| 年齢 | 割合 (%) | | |
|--------|--------|------|------|
| | 男性 | 女性 | 合計 |
| 0～4歳 | 4.2 | 3.8 | 4.0 |
| 5～9歳 | 4.4 | 4.0 | 4.2 |
| 10～14歳 | 4.7 | 4.2 | 4.5 |
| 15～19歳 | 5.1 | 4.5 | 4.8 |
| 20～24歳 | 5.0 | 4.5 | 4.8 |
| 25～29歳 | 5.3 | 4.9 | 5.1 |
| 30～34歳 | 6.0 | 5.6 | 5.8 |
| 35～39歳 | 6.9 | 6.4 | 6.6 |
| 40～44歳 | 8.1 | 7.5 | 7.7 |
| 45～49歳 | 7.1 | 6.7 | 6.9 |
| 50～54歳 | 6.5 | 6.1 | 6.3 |
| 55～59歳 | 6.1 | 5.9 | 6.0 |
| 60～64歳 | 6.8 | 6.7 | 6.7 |
| 65～69歳 | 7.6 | 7.7 | 7.7 |
| 70～74歳 | 5.9 | 6.4 | 6.1 |
| 75～79歳 | 4.6 | 5.4 | 5.0 |
| 80～84歳 | 3.3 | 4.6 | 3.9 |
| 85～89歳 | 1.7 | 3.2 | 2.5 |
| 90～94歳 | 0.5 | 1.6 | 1.1 |
| 95～99歳 | 0.1 | 0.5 | 0.3 |
| 100歳以上 | 0.01 | 0.08 | 0.05 |

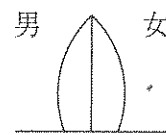
*四捨五入により内訳の合計が100%にならない場合がある
 (『日本国勢図会 2017/18』より作成)



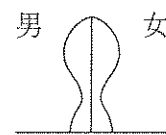
(ア) 富士山型



(イ) 星型



(ウ) つぼ型



(エ) ひょうたん型

問13 下線部⑪について、無形文化遺産に登録されている行事と都道府県の組み合わせとして誤っているものを次の(ア)～(エ)から1つ選び、記号で答えなさい。

- (ア) 魚津のタテモン行事 — 富山県
- (イ) 秩父祭の屋台行事と神楽 — 栃木県
- (ウ) 博多祇園山笠行事 — 福岡県
- (エ) 八戸三社大祭の山車行事 — 青森県

問14 下線部⑫について、これに関して述べた文として正しいものを次の(ア)～(エ)から1つ選び、記号で答えなさい。

- (ア) 日本最大規模のシラス台地である秋吉台があり、しょう乳洞が有名である。
- (イ) 瀬戸内海側には石見銀山があり、世界遺産に登録されている。
- (ウ) 下関の壇ノ浦は、平安時代に源氏がほろんだ場所として知られている。
- (エ) 代表的な伝統工芸品として、萩焼がある。

2 次のI～IIIの表や年表は、テーマごとにまとめたものです。後の各問いに答えなさい。

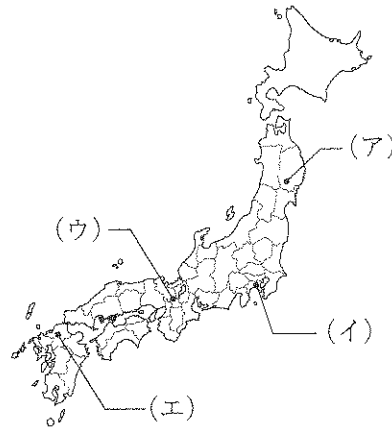
I 古代から近世までにつくられたきまり（※A～Dは年代順に並べています。）

- A 天皇中心の政治をおこなうにあたって、豪族や役人たちの心構えを示したきまり
- B 武士のならわしをもとに定められた、裁判の基準となるきまり
- C 百姓が刀や鉄砲などの武器を持つことを禁止したきまり
- D 徳川家康が第2代将軍の名で出させた大名が守るべききまり

問1 Aのきまりを何というか次の（ア）～（エ）から1つ選び、記号で答えなさい。

- （ア）十七条の憲法 （イ）大宝律令
- （ウ）冠位十二階 （エ）氏姓制度

問2 Bのきまりを定めた鎌倉幕府が置かれた場所として正しい位置を右の地図（ア）～（エ）から1つ選び、記号で答えなさい。



問3 Cのきまりを定めたおもな目的を10字以内で答えなさい。

問4 Dのきまりについて、第3代将軍のときに新しく追加された内容として正しいものを次の（ア）～（エ）から1つ選び、記号で答えなさい。

- （ア）学問や武芸を身につけ、弓や馬の訓練に励むこと。
- （イ）大名は、毎年決められた月に参勤すること。
- （ウ）新しい城を築いてはならない。
- （エ）大名は、勝手に結婚してはならない。

問5 次のきまりはどの時期につくられたものか下の（ア）～（エ）から1つ選び、記号で答えなさい。

安土の城下町では、だれでも自由に商売ができることを認めたまきまりで、商業や工業をさかんにするを目的とした。

- （ア）AとBの間 （イ）BとCの間 （ウ）CとDの間 （エ）Dの後

II 日本と世界との関係

| 年 | 日本のようす | 世界のようす |
|------|-------------------|---------------------------------|
| 1871 | ①明治政府が使節団を外国に派遣する | ②第一次世界大戦が始まる 第二次世界大戦が始まる |
| 1894 | 日清戦争が始まる … E | |
| 1904 | 日露戦争が始まる … F | |
| 1914 | | |
| 1937 | 日中戦争が始まる … G | |
| 1939 | | |
| 1941 | 太平洋戦争が始まる … H | |
| 1945 | ③無条件降伏をする | |
| 1951 | ④独立を回復する | |
| 1956 | ⑤ソ連と国交を回復する | |

問6 下線部①について、この政府がおこなった、西洋諸国に追いつくために経済を発展させて国を豊かにするとともに軍隊を強くする政策を何というか漢字4字で答えなさい。

問7 下線部②について、日本はある国との同盟を理由としてこの戦争に参戦しました。ある国として正しいものを次の（ア）～（エ）から1つ選び、記号で答えなさい。

- （ア）アメリカ （イ）イギリス
- （ウ）ドイツ （エ）フランス

問8 右の歌は与謝野晶子が発表したものです。この歌と関係の深いできごとを年表中のE～Hから1つ選び、記号で答えなさい。

君死にたまふことなけれ
あゝをとうとよ君を泣く
君死にたまふことなけれ
末に生まれし君なれば
親のなさはまさりしも
親は刃をにぎらせて
人を殺せとをしへしや
人を殺して死ねよとて
二十四までをそだてしや

問9 下線部③について、次の（ア）～（ウ）は1945年のできごとです。月日の古い順番に並べかえなさい。

- （ア）長崎に原爆が落とされる （イ）沖縄にアメリカ軍が上陸する
- （ウ）広島に原爆が落とされる

問10 下線部④について、この内容を話し合った都市として正しいものを次の(ア)～(エ)から1つ選び、記号で答えなさい。
 (ア) サンフランシスコ (イ) ワシントン
 (ウ) パリ (エ) ポーツマス

問11 下線部⑤について、このことにより日本は1945年に結成されたある国際組織に加盟が認められました。この組織の名を漢字4字で答えなさい。

問14 下線部⑧について、この文字を使わずに書かれたものを次の(ア)～(エ)から1つ選び、記号で答えなさい。
 (ア) 源氏物語 (イ) 万葉集 (ウ) 古今和歌集 (エ) 枕草子


問15 下線部⑨について、この別荘の写真として正しいものを次の(ア)～(エ)から1つ選び、記号で答えなさい。

Ⅲ 日本の文化の歴史

| 世紀 | おもなできごと |
|----|-----------------------------------|
| 前4 | ⑥大陸から稲作が伝わる |
| 8 | ⑦平城京に都が移される |
| 10 | ⑧かな文字が生まれる |
| 15 | 足利義政が京都に⑨別荘を建てる |
| 18 | ⑩蘭学と国学が発達する |
| 20 | <input type="text"/> が黄熱病の研究をおこなう |
| | ⑪東京でオリンピックが開かれる |

問12 下線部⑥について、この時代に大陸から伝えられた青銅器のおもな使いみちとして正しいものを次の(ア)～(エ)から1つ選び、記号で答えなさい。
 (ア) 食べ物を煮る鍋 (イ) 田を耕す鋤
 (ウ) 祭りの道具 (エ) 槍や弓などの武器

問13 下線部⑦について、この都の様子として誤っているものを次の(ア)～(エ)から1つ選び、記号で答えなさい。
 (ア) 中国の都にならい、碁盤の目のように道路で区切られていた。
 (イ) 地方から税として特産物や布などが運ばれてきた。
 (ウ) 都には東西の市があり、物々交換のほか和同開珎が使われた。
 (エ) 防人とよばれる兵士が都の警備にあたった。



問16 下線部⑩について、これらの学問と関係のないものを次の(ア)～(エ)から1つ選び、記号で答えなさい。
 (ア) 伊能忠敬が日本全図を完成させた。
 (イ) 杉田玄白が解体新書を出版した。
 (ウ) 近松門左衛門が人形浄瑠璃の脚本を書いた。
 (エ) 本居宣長が古事記の研究をおこなった。

問17 表中のにあてはまる人物の名を答えなさい。

問18 下線部⑪について、1960年代の日本国内の様子として誤っているものを次の(ア)～(エ)から1つ選び、記号で答えなさい。
 (ア) 家庭用電化製品や自動車が普及した。
 (イ) 公害によって人々の健康がおびやかされた。
 (ウ) 多くの人が列車に乗って農村に買い出しに出かけた。
 (エ) 新幹線や高速道路が次々に整備された。

3 次の文章を読み、後の各問いに答えなさい。

日本の政治のしくみは、国会を中心として内閣と裁判所の3つの機関があり、1つのところに権力が集まることのないように仕事を分担しています。このような政治のしくみを□□といい、①日本国憲法に定められています。

②国会の働きは、国の政治の方向を決めることです。国会は国民の代表者として③選挙で選ばれた国会議員によって進められます。選挙権は18歳以上の国民に認められていますが、これは国民が政治に参加するための大切な権利です。

内閣の働きは、④国会で決められた予算や法律にもとづいて、実際に政治を行うことです。内閣総理大臣は国会で指名され、⑤各省などの長である国務大臣を任命して内閣を組織し、政治を進めていきます。

裁判所の働きは、争いや事故、犯罪などが起こった時に、法律にもとづいて判断を下し国民の権利を守ることです。⑥国民はだれでも裁判を受ける権利を持っています。また、⑦2009年から始まった制度は、国民が裁判への関心を持つことや、国民の感覚や視点を裁判に生かすことを目的としています。

問1 文中の□□にあてはまる語を漢字で答えなさい。

問2 下線部①について、これに関して以下の各問いに答えなさい。

(1) 現在、この憲法の施行を記念し、国の成長や発展を願う『憲法記念日』と定められている祝日を次の(ア)～(エ)から1つ選び、記号で答えなさい。

(ア) 2月11日 (イ) 5月3日 (ウ) 11月3日 (エ) 12月23日

(2) 日本国憲法に関して述べた文として誤っているものを次の(ア)～(エ)から1つ選び、記号で答えなさい。

(ア) 国の政治のあり方を最終的に決める権限が国民にあることが定められている。

(イ) プライバシーの権利は憲法に定められていないが、社会の変化にともなって、基本的人権の1つとして認められるようになってきた。

(ウ) 外国との争いを絶対に戦争によって解決しないことが憲法前文や第25条に定められている。

(エ) さまざまな権利を保障しているだけでなく、国民の義務についても定めている。

問3 下線部②について、これに関して述べた文として正しいものを次の(ア)～(エ)から1つ選び、記号で答えなさい。

(ア) 国会は法律を定める権限を持っており、すべての法律は憲法をもとにつくられている。

(イ) 国会は衆議院と参議院の二院制であるが、議決については参議院の優越が認められている。

(ウ) 国会議員の任期は衆議院が6年で参議院が4年であるが、衆議院には任期途中で解散がある。

(エ) 衆議院議員選挙と参議院議員選挙ともに小選挙区制と比例代表制を併せた制度を導入している。

問4 下線部③について、日本の国会議員選挙における被選挙権の年齢の組み合わせとして正しいものを次の(ア)～(エ)から1つ選び、記号で答えなさい。

| | 衆議院 | 参議院 |
|-----|-----|-----|
| (ア) | 25歳 | 25歳 |
| (イ) | 25歳 | 30歳 |
| (ウ) | 30歳 | 25歳 |
| (エ) | 30歳 | 30歳 |

問5 下線部④について、国の予算を審議するために毎年1月に開かれる国会の名を答えなさい。

問6 下線部⑤について、次のA・Bの仕事と、それを担当している省庁の組み合わせとして正しいものを次の(ア)～(エ)から1つ選び、記号で答えなさい。

A. 自衛隊を管理・運営する仕事

B. 教育や科学・文化・スポーツなどに関する仕事

(ア) A - 国土交通省 B - 経済産業省 (イ) A - 防衛省 B - 経済産業省

(ウ) A - 国土交通省 B - 文部科学省 (エ) A - 防衛省 B - 文部科学省

問7 下線部⑥について、公平・公正な裁判にするため、同じ事件で何回まで裁判を受けることができるか数字で答えなさい。

問8 下線部⑦について、この制度を何というか答えなさい。

社会(1次)解答用紙 ※印の箇所には記入しないで下さい。

1

問1 問2 問3

問4 (1) (2)

問5 (1) (2) (3)

問6 問7 問8

問9 (1) (2) 問10

問11 問12 問13 問14

※

2

問1 問2 問3

問4 問5 問6

問7 問8 問9

問10 問11 問12

問13 問14 問15 問16

問17 問18

※

3

問1 問2 (1) (2)

問3 問4 問5

問6 問7 問8

※

| | | | |
|------|----------------------|----|----------------------|
| 受験番号 | <input type="text"/> | 氏名 | <input type="text"/> |
|------|----------------------|----|----------------------|

| | |
|----|------------------------|
| 得点 | ※ <input type="text"/> |
|----|------------------------|