

1 日本は、「本土」である本州、九州、四国、北海道を含めて大小さまざまな島で構成されています。次の表は、面積が大きな島を順番にならべた「島面積20傑」の一覧です。これについて後の各問いに答えなさい。

順位	島名	面積 (km ²)	都道府県名
1	本州	227,942.41	
2	北海道	77,984.41	北海道
3	九州	36,782.35	
4	四国	18,297.59	
5	(あ)	3,166.64	北海道
6	(い)	1,489.27	北海道
7	沖縄本島	1,206.96	沖縄県
8	佐渡島	854.76	(お)
9	奄美大島	712.35	(か)
10	対馬	696.44	長崎県
11	(う)	592.55	兵庫県
12	天草下島	574.94	熊本県
13	屋久島	504.29	(か)
14	種子島	444.30	(か)
15	福江島	326.31	長崎県
16	西表島	289.61	沖縄県
17	徳之島	247.85	(か)
18	(え)	247.65	北海道
19	島後	241.55	島根県
20	天草上島	225.90	熊本県

〔国土地理院「島面積20傑（平成27年）」より作成〕

問1 表中の(あ)(い)(え)について、次の各問いに答えなさい。
 (1) これらの中で日本最北端の島はどれですか。(あ)(い)(え)から1つ選び、記号で答えなさい。また、その島名を答えなさい。

(2) これらの島に歯舞群島を含めた4島は北方領土とよばれています。現在この島々を事実上支配している国名を答えなさい。

問2 表中の(う)について、次の各問いに答えなさい。

(1) (う)について述べた文として正しいものを次の(ア)～(エ)から1つ選び、記号で答えなさい。

(ア) しょう油の生産のほか、地域の気候の特色を活かしたオリーブの栽培がさかんである。

(イ) 「日本三景」のひとつで、カキの養殖が広くおこなわれている。

(ウ) 日本の標準時子午線である東経135度線が通過している。

(エ) この島を経由する本州四国連絡橋は「しまなみ海道」とよばれ、兵庫県と徳島県を結んでいる。

(2) (う)がある兵庫県について、兵庫県は大阪府とともに阪神工業地帯の中心地です。次の(ア)～(エ)は阪神工業地帯、中京工業地帯、北陸工業地域、東海工業地域のいずれかについて述べた文です。このうち阪神工業地帯について述べた文として正しいものを次の(ア)～(エ)から1つ選び、記号で答えなさい。

(ア) 交通の便や工業用水にめぐまれて、戦後に急速に発展した。機械工業が中心であるが、オートバイ、楽器の製造や紙・パルプ工業もさかんである。

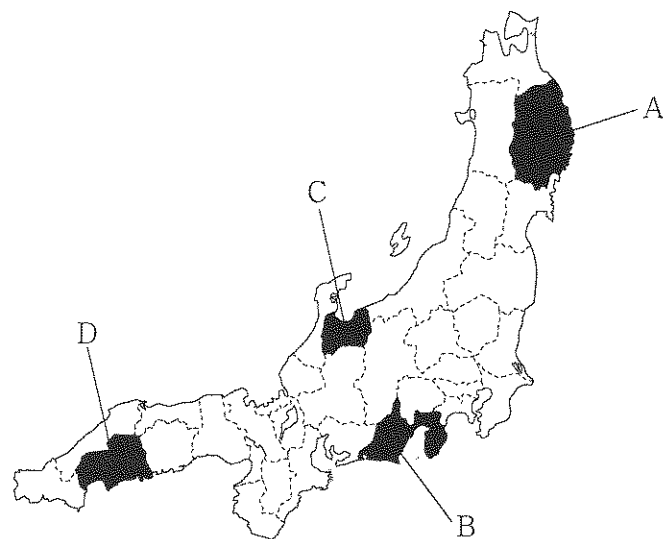
(イ) 戦後、臨海地域の埋め立て地に石油化学コンビナートや製鉄所が建てられた。機械工業が工業出荷額の3分の2を占め、特に自動車工業が発達している。

(ウ) 臨海地域には重化学工業の大きな工場が建ちならんでいる。また、金属工業やせんい工業もさかんで、大工場の下請けをおこなう中小工場も多い。

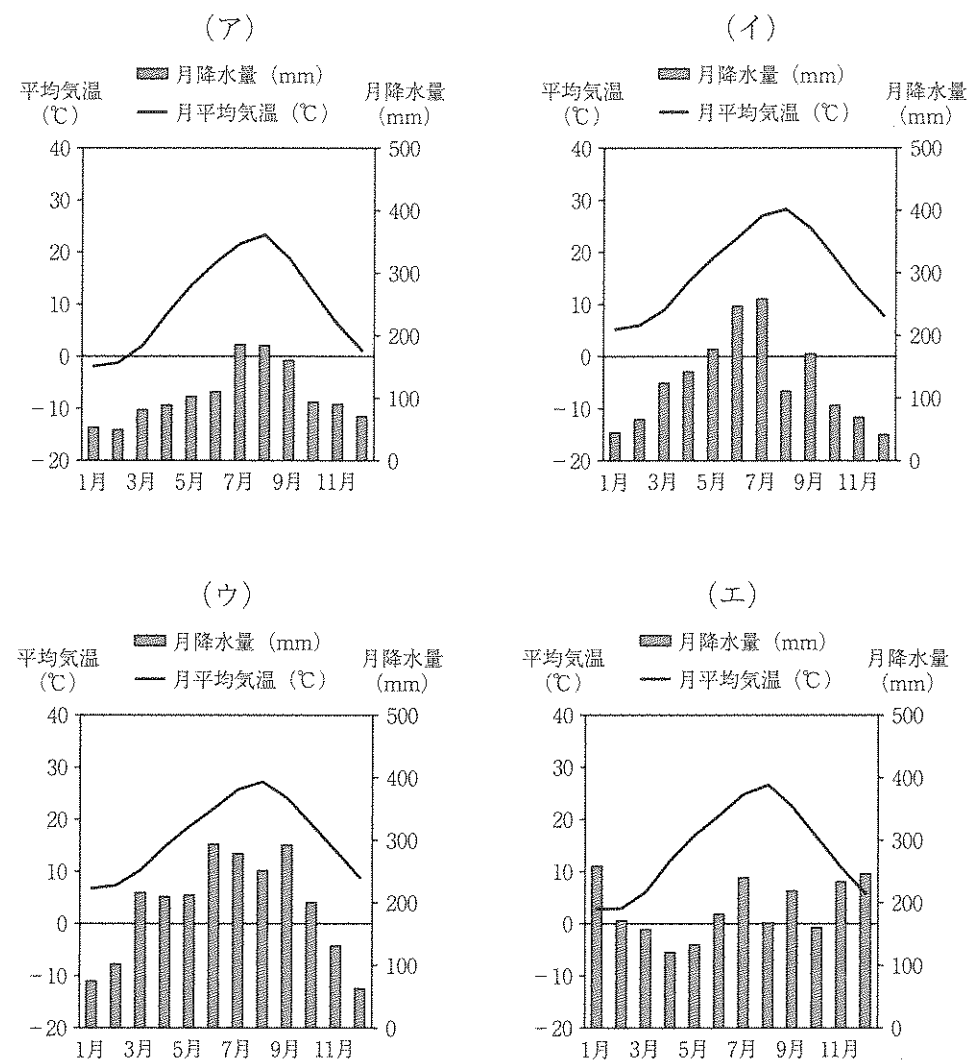
(エ) 河川から得られる豊富な水と電力を利用して、機械工業や金属工業が発達した。また、石油を使った化学工業のほか、せんい工業や漆器などの伝統工業もさかんである。

問3 表中の(お)(か)にあてはまる都道府県名を、それぞれ漢字で答えなさい。

問4 本州について、次の地図中のA～Dの県に関する右の各問いに答えなさい。



(1) 次の(ア)～(エ)は、地図中のA～Dのいずれかの県の県庁所在地の雨温図です。Dの県庁所在地の雨温図として正しいものを1つ選び、記号で答えなさい。

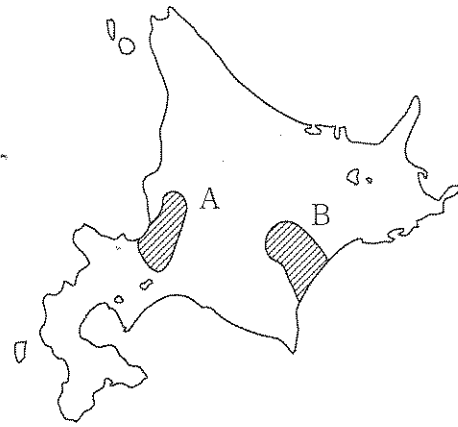


*いずれも『理科年表 平成28年』より作成

(2) 地図中のA～Dの県や県庁所在地の共通点を述べた文として正しいものを次の(ア)～(エ)から1つ選び、記号で答えなさい。

- (ア) A～Dの県庁所在地は、海に面しているため漁業がさかんである。
- (イ) A～Dの県庁所在地の名は、それぞれの県名と同じである。
- (ウ) A～Dの県には、政令指定都市に指定されている自治体がある。
- (エ) A～Dの県は、新幹線が通過している。

問5 北海道について、米づくりがさ
 *かな石狩平野の場所と、都道府
 県別の米の収穫量の割合を示す表
 を、場所は地図中AまたはBか
 ら、表は(Ⅰ)または(Ⅱ)から
 選び、その組み合わせとして正し
 いものを下の(ア)～(エ)から
 1つ選び、記号で答えなさい。



(Ⅰ)		(Ⅱ)	
都道府県名	割合 (%)	都道府県名	割合 (%)
北海道	20.3	(お)	7.8
(か)	13.0	北海道	7.5
宮崎県	10.0	秋田県	6.5
熊本県	5.0	山形県	5.0
岩手県	3.6	福島県	4.6

[いずれも『日本国勢図会2016』より作成]

- (ア) 場所：A 表：(Ⅰ) (イ) 場所：A 表：(Ⅱ)
 (ウ) 場所：B 表：(Ⅰ) (エ) 場所：B 表：(Ⅱ)

問6 四国について、次の各問いに答えなさい。

(1) 次の表は、ある農作物の収穫量をまとめたものです。この農作物を下の
 (ア)～(エ)から1つ選び、記号で答えなさい。また、高知県におけるこ
 の農作物の生産方法を漢字で答えなさい。

都道府県	年間			冬・春 (12月～6月)			夏・秋 (7月～11月)		
	収穫量 (t)	割合 (%)	順位	収穫量 (t)	割合 (%)	順位	収穫量 (t)	割合 (%)	順位
高知県*	36,700	11.4	1	35,200	29.8	1	1,480	0.7	37
熊本県	31,000	9.7	2	23,800	20.1	2	7,170	3.5	7
群馬県	22,600	7.0	3	6,980	5.9	5	15,600	7.7	2
福岡県	20,500	6.4	4	15,700	13.3	3	4,800	2.4	14
茨城県	17,900	5.6	5	—	—	—	17,900	8.8	1
全国	321,200			118,300			202,900		

(農林水産省「平成25年産 野菜生産出荷統計」より作成)

- (ア) キャベツ (イ) ジャガイモ (ウ) タマネギ (エ) なす

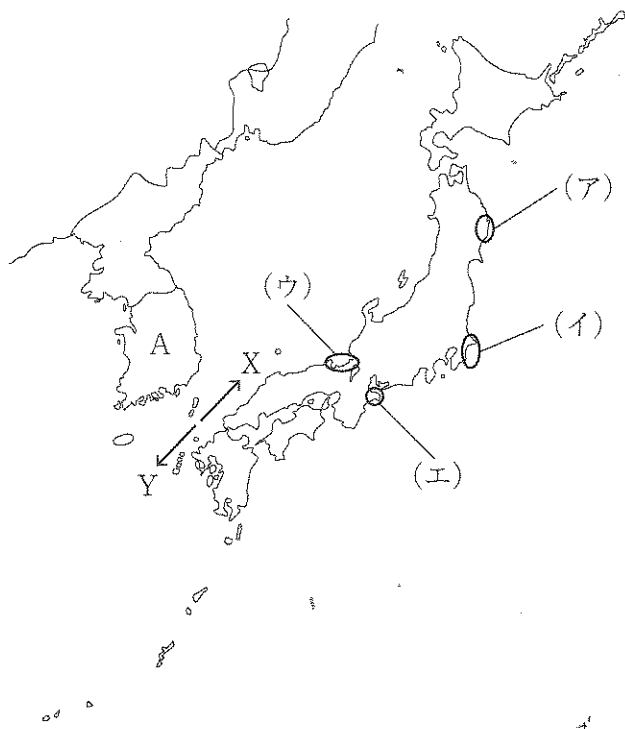
(2) 次の表は、四国4県についてまとめたものです。表中の①～④にあては
 まる県名の組み合わせとして正しいものを下の(ア)～(エ)から1つ選び、
 記号で答えなさい。

	人口 (千人)	面積 (km ²)	人口密度 (人/km ²)	農業・漁業生産額 (単位：億円)				
				米	果実	野菜	海面	
							漁業	養殖業
①	981	1,877	522.6	133	58	228	67	114
②	737	7,104	103.7	117	101	545	288	201
③	1,395	5,676	245.9	168	498	205	255	594
④	763	4,147	184.2	128	103	368	76	65

(『データで見る県勢2016』より作成)

- (ア) ①：香川県 ②：高知県 ③：愛媛県 ④：徳島県
 (イ) ①：香川県 ②：愛媛県 ③：高知県 ④：徳島県
 (ウ) ①：徳島県 ②：高知県 ③：愛媛県 ④：香川県
 (エ) ①：徳島県 ②：愛媛県 ③：高知県 ④：香川県

問7 対馬について、次の地図を見て下の各問いに答えなさい。



- (1) 対馬の気候は対馬海流の影響を受けています。対馬海流について述べた文として正しいものを次の(ア)～(エ)から1つ選び、記号で答えなさい。
- (ア) 対馬海流は、黒潮と同じ暖流で、進行方向は地図中のXである。
 - (イ) 対馬海流は、親潮と同じ暖流で、進行方向は地図中のYである。
 - (ウ) 対馬海流は、黒潮と同じ寒流で、進行方向は地図中のXである。
 - (エ) 対馬海流は、親潮と同じ寒流で、進行方向は地図中のYである。
- (2) 対馬の海岸はリアス(式)海岸が発達しています。地図中の(ア)～(エ)のうち、リアス(式)海岸ではない地域を1つ選び、記号で答えなさい。
- (3) 近年、対馬には地図中のAから観光客が多く訪れています。Aの国名を答えなさい。

問8 屋久島は、島の一部が世界自然遺産に指定されています。これについて、次の各問いに答えなさい。

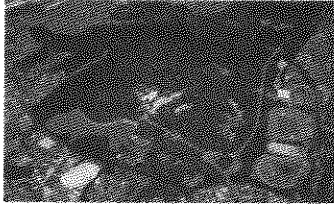


- (1) 次の(ア)～(エ)のうち、世界自然遺産ではないものを1つ選び、記号で答えなさい。
- (ア) 白神山地 (イ) 小笠原諸島 (ウ) 知床 (エ) 富士山
- (2) 世界遺産の登録の認定と保護をおこなっている国際連合の専門機関の名称を答えなさい。

問9 島後をふくめた^{どうこ}隠岐諸島^{あき}は、ジオパークに認定されています。次の(ア)～(エ)のうち、ジオパークの名と所在地の組み合わせとして誤っているものを1つ選び、記号で答えなさい。


- (ア) 銚子ジオパーク — 千葉県
- (イ) 男鹿半島・大湊ジオパーク — 秋田県
- (ウ) ジオパーク秩父 — 栃木県
- (エ) Mine 秋吉台ジオパーク — 山口県

2 関西大学北陽中学校2年生の夏休みの宿題の一つに「私の町の歴史的遺産」があります。これは本校の生徒がそれぞれ住んでいる町の歴史的遺産について調べるものです。これについて、後の各問いに答えなさい。

問1 次の写真A～Cの説明文を読み、下の各問いに答えなさい。

<p>A <small>かしはらいせき</small> 橿原遺跡</p>  <p>奈良県橿原市の橿原神宮外苑にあり、古くから西日本を代表する縄文時代晩期の遺跡として知られています。</p>	<p>B <small>いけがみ そねいせき</small> 池上・曾根遺跡</p>  <p>大阪府和泉市池上町と泉大津市曾根町とにまたがる弥生時代に営まれた、わが国屈指の環濠集落とされています。</p>	<p>C <small>ごしきづかこふん</small> 五色塚古墳</p>  <p>神戸市垂水区にある前方後円墳です。国の史跡に指定されており、兵庫県では最大規模の古墳です。</p>
---	---	--

(1) Aについて、縄文時代に豊かなめぐみを願ってつくられた右の写真のような人形を何とよいか答えなさい。






(2) Bのような集落の周りに堀をめぐらした環濠集落が見られるようになった理由を15字以上20字以内で答えなさい。

(3) Cがつくられた頃より、大陸から一族でまとまって日本に移り住み、高度な技術や仏教などをもたらした人々を何とよいか答えなさい。

(4) 次の資料は、中国の古い時代の書物に書かれている当時の日本のようすです。これと同じ時代にあたるものをA～Cから1つ選び、記号で答えなさい。

卑弥呼は、中国に使いを送り、おくり物をしたので、中国の皇帝は、そのお返しに卑弥呼に倭王の称号をあたえ、織物や銅の鏡を授けた。

問2 次の写真D～Fの説明文を読み、下の各問いに答えなさい。

<p>D 四天王寺</p>  <p>大阪市天王寺区にある寺院です。仏教をあつく信仰していた聖徳太子が建てさせた寺院の一つとされています。</p>	<p>E 唐招提寺</p>  <p>奈良市にある寺院です。聖武天皇のまねきで、苦難の末に日本にやってきた()によって建てられました。</p>	<p>F 西宮神社</p>  <p>兵庫県西宮市にある神社です。福の神として崇敬されている、えびす様をおまつりする神社の総本社です。</p>
---	--	---

(1) Dを建てさせた聖徳太子が行ったこととして誤っているものを次の(ア)～(エ)から1つ選び、記号で答えなさい。

- (ア) 十七条の憲法を定め、新しい国づくりに向けての役人の心構えとした。
- (イ) 中国に小野妹子らの使者を送って、対等な立場に立とうとした。
- (ウ) 中大兄皇子とともに、天皇中心の政治を実現しようとした。
- (エ) 家がらにとらわれずに、能力のある豪族を役人に取り立てるしくみをつくった。

(2) Eの説明文中の()にあてはまる人物名を答えなさい。




(3) (2)の人物をまねいた聖武天皇の持ち物などが東大寺の正倉院に数多くおさめられています。その中にはインドや西アジアの影響を受けたものが見られます。このころ、ヨーロッパから中国までつながっていた陸上交通路を何とよいか答えなさい。

(4) Eが建てられた時代の人々に定められていた労働の一つに「防人」があります。「防人」が守った地方として正しいものを次の(ア)～(エ)から1つ選び、記号で答えなさい。

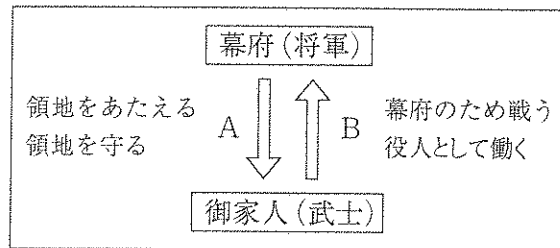
- (ア) 九州 (イ) 四国 (ウ) 近畿 (エ) 東北

- (5) Fにえびす様がまつられるようになったのは平安時代とされています。
 平安時代に栄華をほこり、次の歌をよんだ人物名を答えなさい。
 「この世をば わが世とぞ思う 望月の 欠けたることも なしと思えば」

問3 次の写真G～Iの説明文を読み、下の各問いに答えなさい。

<p>G 東福寺</p>  <p>京都市東山区にある鎌倉時代に建てられた寺院です。いくたの戦火をのがれ、貴重な文化財が数多く残っています。</p>	<p>H 慈照寺（銀閣）</p>  <p>京都市左京区にある室町時代に建てられた寺院です。畳や障子などを使った様式は、現在の和室に取り入れられています。</p>	<p>I 適塾</p>  <p>大阪府中央区にあります。江戸時代の蘭学者緒方洪庵が開いた塾で、幕末から明治に活躍した人材を多く輩出しました。</p>
--	---	--


(1) Gの時代に開かれた幕府は、将軍とその家来である御家人との「ご恩」と「奉公」の関係で支えられていました。このうち「奉公」をあらわした矢印として正しいものを



右の図中のA・Bから1つ選び、記号で答えなさい。

(2) 右の写真は、Hにある東求堂の部屋のようすです。この部屋のつくりとして正しいものを次の(ア)～(エ)から1つ選び、記号で答えなさい。

- (ア) 寝殿造 (イ) 書院造
 (ウ) 校倉造 (エ) 武家造






(3) Hが建てられた時代の農村の人々の暮らしについて述べた文として誤っているものを次の(ア)～(エ)から1つ選び、記号で答えなさい。

- (ア) 牛や馬を使って田を耕したり、水車の利用も広まった。
 (イ) 農業を協力して行ったり、村のおきてをつくったりして、団結を強めていった。
 (ウ) 五人組をつくって、年貢を納められない者や罪を犯した者が出ると共同で責任を負った。
 (エ) 重い年貢に反対して一揆をおこして、領主に抵抗することもあった。

(4) Iで学んだのち慶応義塾大学を開き、「天は人の上に人を造らず、人の下に人を造らず」で始まる『学問のすゝめ』を書いた人物名を答えなさい。

問4 次の写真J～Lの説明文を読み、下の各問いに答えなさい。

<p>J 旧居留地十五番館</p>  <p>神戸市中央区にある、明治時代に建てられた旧アメリカ合衆国領事館です。国の重要文化財にも指定されています。</p>	<p>K 大阪市中央公会堂</p>  <p>大阪市北区にある集会施設です。大正時代に建てられ、外観や内装は日本の近代建築史上重要なものとなっています。</p>	<p>L 関西大学簡文館</p>  <p>大阪府吹田市にある関西大学最古の建物です。昭和時代に図書館として建てられ、現在は博物館の展示室となっています。</p>
--	---	--

(1) Jが建てられた頃の日本では、政府が不平等条約の改正のため、欧米諸国と交渉をしていました。領事裁判権（治外法権）を撤廃することに成功した外務大臣として正しい人物を次の(ア)～(エ)から1つ選び、記号で答えなさい。

- (ア) 大隈重信 (イ) 小村寿太郎
 (ウ) 陸奥宗光 (エ) 井上馨

(2) Kは1918年に完成しました。同年にあるものの値段が急に上がったことに反対して、安売りを求める民衆運動が全国的に広がりました。あるものとは何か答えなさい。

(3) Lが建てられた頃の日本は、産業が発展して国民生活に大きな変化が見られました。そのようすについて述べた文として誤っているものを次の(ア)～(エ)から1つ選び、記号で答えなさい。

- (ア) テレビや洗濯機、冷蔵庫などの家庭用電化製品が普及した。
- (イ) 都会の工場に若い人々が集団で就職をした。
- (ウ) 公害によって環境が破壊され、人々の健康がおびやかされるなどの問題がおこった。
- (エ) 繊維工業を中心に発達し、なかでも生糸は生産量が世界第1位となった。

(4) Lについて、博物館は1994(平成6)年に開館しました。次の(ア)～(エ)を年代の古い順に並べたとき、3番目にくるものを記号で答えなさい。

- (ア) 東日本大震災がおこる。
- (イ) 日本で消費税が初めて導入される。
- (ウ) アメリカ同時多発テロ事件がおきる。
- (エ) アテネでオリンピック・パラリンピックが開かれる。

3 次の文章を読み、後の各問いに答えなさい。

①2016年の夏には2つの大きな選挙が行われました。1つ目は②7月10日に行われた参議院議員選挙です。この選挙では今までの国政選挙と大きく異なる点がありました。それは、③2015年に公職選挙法が改正され、投票できる年齢が引き下げられた初めての選挙であったということです。この改正により、約240万人が新たに選挙権を持つことになりました。今後は、今回の選挙で選ばれた議員も含めた衆議院と参議院の国会議員を中心に④国の政治が進められていきます。そして安倍総理の考える⑤日本国憲法の改正への議論や、国際連合の加盟国として世界の平和を実現するため日本の果たすべき役割など⑥国内外のさまざまな問題に取り組まなければなりません。

2つ目は7月31日に投票が行われた東京都知事選挙です。この選挙は⑦東京都の首長を選ぶ選挙です。選挙制度は、わたしたちの代表者として政治を行う人々を選ぶ大切なしくみです。一人一人が政治に関心を持ち、投票することが、政治に参加する第1歩です。

問1 下線部①について、2016年より国民の祝日が新たに1つ加わりました。この祝日の名とその日付の組み合わせとして正しいものを次の(ア)～(エ)から1つ選び、記号で答えなさい。

- (ア) 海の日－8月11日 (イ) 山の日－8月11日
- (ウ) 海の日－7月の第3月曜日 (エ) 山の日－7月の第3月曜日

問2 下線部②について、以下の各問いに答えなさい。

- (1) この選挙で選ばれた国会議員の数を答えなさい。
- (2) 参議院議員の任期に関して述べた文として正しいものを次の(ア)～(エ)から1つ選び、記号で答えなさい。
 - (ア) 参議院議員の任期は4年で、任期途中の解散がある。
 - (イ) 参議院議員の任期は4年で、任期途中の解散はない。
 - (ウ) 参議院議員の任期は6年で、任期途中の解散がある。
 - (エ) 参議院議員の任期は6年で、任期途中の解散はない。

問3 下線部③について、これに関して述べた文として正しいものを次の(ア)～(エ)から1つ選び、記号で答えなさい。

- (ア) 選挙権が与えられる年齢は20歳に引き下げられたが、被選挙権の年齢は引き下げられていない。
- (イ) 選挙権が与えられる年齢が20歳に引き下げられるとともに、被選挙権の年齢も引き下げられた。
- (ウ) 選挙権が与えられる年齢は18歳に引き下げられたが、被選挙権の年齢は引き下げられていない。
- (エ) 選挙権が与えられる年齢が18歳に引き下げられるとともに、被選挙権の年齢も引き下げられた。

問4 下線部④について、政治や社会の問題について、多くの人々がもっている意見のことを何とよいか漢字で答えなさい。

問5 下線部⑤について、以下の各問いに答えなさい。

- (1) 日本国憲法で保障されている基本的人権について述べた文として誤っているものを次の(ア)～(エ)から1つ選び、記号で答えなさい。
 - (ア) 国民は表現の自由が与えられ、いかなる場合にも尊重される。
 - (イ) 国民は健康で文化的な最低限度の生活を営む権利を持っている。
 - (ウ) 国民は個人として尊重され、法のもとに平等な権利を持っている。
 - (エ) 国民は働く権利と働く人が団結する権利を持っている。
- (2) 日本国憲法改正への手続きとして正しいものを次の(ア)～(エ)から1つ選び、記号で答えなさい。
 - (ア) 両議院の総議員数の3分の2以上の賛成で国会が発議した後、国民投票で3分の2以上が賛成する。
 - (イ) 両議院の総議員数の3分の2以上の賛成で国会が発議した後、国民投票で過半数が賛成する。
 - (ウ) 両議院の総議員数の過半数の賛成で国会が発議した後、国民投票で3分の2以上が賛成する。
 - (エ) 両議院の総議員数の過半数の賛成で国会が発議した後、国民投票で過半数が賛成する。

問6 下線部⑥について、このような問題の1つに環境問題があります。1992年にブラジルで開かれた国連環境開発会議(地球サミット)の基本理念として掲げられた語として正しいものを次の(ア)～(エ)から1つ選び、記号で答えなさい。

- (ア) かけがえのない地球
- (イ) 成長の限界
- (ウ) 持続可能な開発
- (エ) 宇宙船地球号

問7 下線部⑦について、都道府県や市町村などその地域の住民のための政治を行う組織のことを何とよいか答えなさい。

社会(1次)解答用紙 ※印の箇所には記入しないで下さい。

1

問1	(1)	記号		島名		(2)	
----	-----	----	--	----	--	-----	--

問2	(1)		(2)		問3	(お)		(か)	
----	-----	--	-----	--	----	-----	--	-----	--

問4	(1)		(2)		問5	
----	-----	--	-----	--	----	--

問6	(1)	記号		生産方法		(2)	
----	-----	----	--	------	--	-----	--

問7	(1)		(2)		(3)	
----	-----	--	-----	--	-----	--

問8	(1)		(2)		問9	
----	-----	--	-----	--	----	--

※

2

問1	(1)	
	(2)	
	(3)	(4)

問2	(i)		(2)		(3)	
	(4)		(5)			

問3	(1)		(2)		(3)		(4)	
----	-----	--	-----	--	-----	--	-----	--

問4	(1)		(2)		(3)		(4)	
----	-----	--	-----	--	-----	--	-----	--

※

3

問1		問2	(1)		人	(2)	
----	--	----	-----	--	---	-----	--

問3		問4	
----	--	----	--

問5	(1)		(2)		問6	
----	-----	--	-----	--	----	--

問7	
----	--

※

受験番号		氏名	
------	--	----	--

得点	※
----	---