

中学校入試問題において以下の訂正があります。

社会の問題（1次入試）

- | | | | | |
|---|-----|------|--|--|
| ① | 大問1 | Dの文章 | 誤「夏目漱石が松山中学に赴任した <u>翌年</u> 」
正「夏目漱石が松山中学に赴任した <u>前年</u> 」 | |
| ② | 大問1 | 問12 | 誤「(ウ) 日本最大のカルデラ火山」
正「(ウ) 日本最大 <u>級</u> のカルデラ火山」 | |
| ③ | 大問3 | 問4 | 円グラフ | 誤「 <u>9.4%</u> (公共事業費)」
正「 <u>6.2%</u> (公共事業費)」 |

1 小学6年生のひろし君は、温泉をイメージした市販の入浴剤に興味をもち、日本各地の温泉について、夏の自由研究でまとめてみました。[A]～[G]それぞれの文章は、それらを記したものです。これを読み、後の各問いに答えなさい。

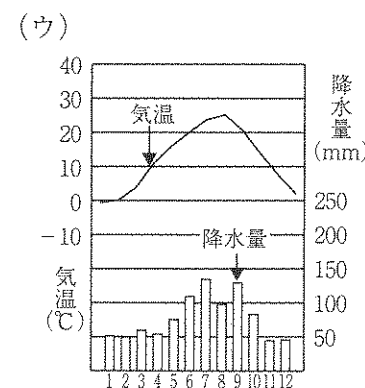
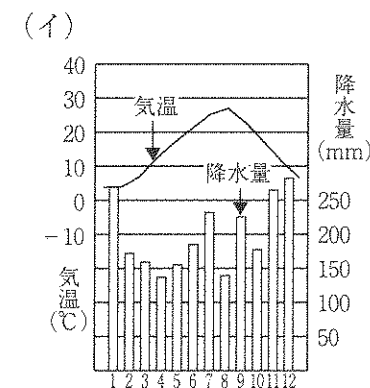
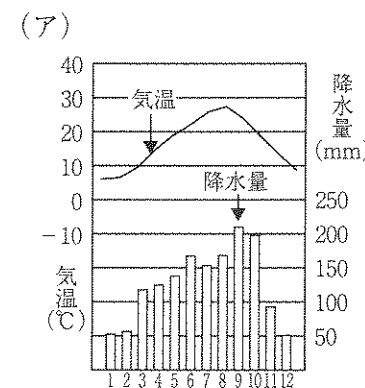
- [A] 黒部溪谷の入口、黒部溪谷鉄道の起点にある温泉です。多くの旅館は荒々しく蛇行する(a)黒部川^{くろべがわ}のほとりにあり、紅葉の季節はすばらしい景観が広がるようです。(b)北陸新幹線^{ほくりくしんかんせん}の開通で、東京からの時間が大幅に短縮されています。
- [B] 「草津よいとこ一度はおいで」という草津湯もみ歌で知られています。(c)日本でも屈指の温泉として知られていて、(d)温泉番付の東の横綱とされています。湯畑が湯煙を上げ、湯の町の情緒がただよっています。
- [C] (e)太平洋をのぞむ松林と白砂浜が美しい温泉です。千畳敷は名勝で、自然が造りだした見所がたくさんあります。僕も両親に連れられて行ったことがあります。「(f)くろしお」という電車に乗って行ったのを覚えています。
- [D] 共同風呂の(g)道後温泉本館は、夏目漱石が(h)松山中学に赴任した翌年の明治27年に建設されました。木造三層でお城風の建物になっています。上にあるお座敷では、だんごやお茶を、ゆかた姿で食べることもできます。
- [E] (i)北海道を代表する温泉で、素朴な雰囲気が残っています。クスリサンベツ川に沿って地獄谷に続く坂道には、旅館やみやげ物屋が並んでいます。観光名所のクマ牧場は、世界有数のヒグマ放牧数を誇っています。
- [F] 昔は(j)東海道五十三次の難所として知られ、滝廉太郎の作品に、「(k)箱根の山は天下の嶮」と歌われています。今ではお正月にテレビで見る、大学駅伝でおなじみの場所となっています。
- [G] (l)豊後富士とよばれる由布岳の西南、標高450mにある風光明媚な山里に湧く温泉です。湧出量は全国有数で、約800か所もの源泉をもっているようです。映画祭や音楽祭が有名で、美術館や民芸村もあり、大学生の姉が夏休みに友だちと訪れ、おみやげにうちわを買ってきてくれました。

問1 下線部(a)について、次の各問いに答えなさい。

- (1) この川の下流にある、日本海側の平野の名を漢字で答えなさい。
 (2) 日本の川を、世界の大きな川と比較した場合の特徴に関して述べた次の文の、(i)、(ii)にあてはまる語をそれぞれ答えなさい。

日本の川は、世界の大きな川に比べて距離が(i)、傾斜が(ii)である。

問2 下線部(b)について、2015年3月に東京から金沢までつながりました。次の(ア)～(ウ)の気候グラフを、これが走行する東京、長野、金沢の順に、記号で並べかえなさい。



(『理科年表2015年版』より作成)

問3 下線部(c)について、日本は環太平洋造山帯に属しているため、温泉に恵まれています。この造山帯に属している山脈として正しいものを次の(ア)～(エ)から1つ選び、記号で答えなさい。

- (ア) アルプス山脈 (イ) アンデス山脈
 (ウ) ウラル山脈 (エ) ヒマラヤ山脈

問4 下線部(d)について、これに対して西の代表的な温泉として兵庫県の有馬温泉が挙げられます。この温泉の所在する県の名物料理として正しいものを次の(ア)～(エ)から1つ選び、記号で答えなさい。

- (ア) 明石焼き (イ) 越前そば
(ウ) きりたんぼ (エ) ふなずし

問5 下線部(e)について、この温泉は近畿地方に所在しています。次の表は、この地方の7つの県のデータを示したものです。このうち、この温泉の所在する県にあたるものを(ア)～(キ)から1つ選び、記号で答えなさい。

府県	人口 (千人)	県内総生産 (億円)	農業産出額 (億円)	海面漁業漁獲量 (百t)
(ア)	971	35,415	993	236
(イ)	1,376	35,010	432	—
(ウ)	1,416	57,501	618	—
(エ)	1,825	70,919	1,114	1,591
(オ)	2,610	98,456	696	111
(カ)	5,541	183,136	1,476	573
(キ)	8,836	366,000	331	179

※ 人口は2014年10月1日、県内総生産は2011年度、農業産出額、海面漁業漁獲量は2013年。
〔日本国勢図会2015/16〕より作成

問6 下線部(f)について、この名は海流の「黒潮」からとられています。黒潮の別名を漢字で答えなさい。

問7 下線部(g)について、この温泉は四国地方に所在しています。次の表は、この地方の4県の2013年における、みかん、ぶどう、日本なし、ももの生産量を示したものです。このうち、この温泉の所在する県にあたるものを(ア)～(エ)から1つ選び、記号で答えなさい。

県	みかん	ぶどう	日本なし	もも
(ア)	7,340	—	—	—
(イ)	13,900	—	6,370	—
(ウ)	15,900	1,570	551	1,430
(エ)	137,800	1,190	—	530

※ 単位はt。〔日本国勢図会2015/16〕より作成

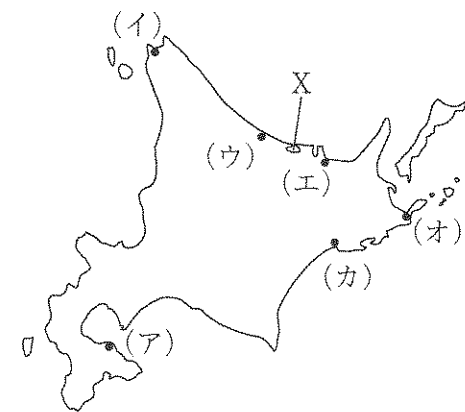
問8 下線部(h)について、次の各問いに答えなさい。

(1) この都市とほぼ同じ経度にある都市を次の(ア)～(エ)から1つ選び、記号で答えなさい。

- (ア) 出雲市 (イ) 北九州市 (ウ) 千葉市 (エ) 鳥取市

(2) この都市の所在する四国地方で、県名と県庁所在地名が異なっている県の数を数字で答えなさい。

問9 下線部(i)について、次の地図をみて、下の各問いに答えなさい。



(1) 2013年現在で、水揚げ量の最も多い漁港を(ア)～(カ)から1つ選び、記号で答えなさい。また、その漁港のある都市の名を答えなさい。

(2) Xの湖でさかんに養殖されているものを次の(ア)～(エ)から1つ選び、記号で答えなさい。

- (ア) うなぎ (イ) くるまえび (ウ) はまち (エ) ほたて貝

問10 下線部(j)について、現在では、東京から京都までの東海道から、さらに大阪、神戸へと至るとき、三大工業地帯と東海工業地域を通ります。次の表の(ア)～(エ)は、各工業地帯、工業地域の製造品出荷額の移り変わりを示したものです。東京を出発して、神戸まで至るときに通る順に、記号で並べかえなさい。

	1990年	2000年	2010年	2013年
(ア)	164,646	167,811	158,848	157,766
(イ)	405,725	325,518	301,386	303,212
(ウ)	445,033	427,472	481,440	525,982
(エ)	515,908	402,530	257,710	253,544

※ 単位は億円。

(『日本国勢図会2015/16』より作成)


問11 下線部(k)について、この山が所在する県の県庁所在地にある貿易港に関して述べた文として正しいものを次の(ア)～(エ)から1つ選び、記号で答えなさい。

- (ア) アジアを中心に世界の数十カ国とコンテナ船による定期航路で結ばれている。輸入品は魚介類やコンピューター、家具が多い。
- (イ) 自動車の輸出港として有名で、完成車だけでなく、内燃機関、自動車部品の輸出も多い。中部地方を代表する港である。
- (ウ) 日本の海の玄関となっており、自動車や自動車部品の輸出が多く、石油のほか衣類の輸入も比較的多い。
- (エ) 日本有数の貿易港として古くから発達した。山地が海にせまっているため、これをけずった土砂で巨大な港湾施設をもつ人工島がつけられた。

問12 下線部(l)について、この温泉が所在する地方にある「日本一」を次の(ア)～(エ)から1つ選び、記号で答えなさい。



(ア) 日本最高峰の山

(イ) 日本最大のカルスト高原



(ウ) 日本最大のカルデラ火山

(エ) 日本最大の湿原



問13 大阪から車で行く場合、次の経路をたどるのはどの温泉ですか。[A]～[G]から1つ選び、記号で答えなさい。

吹田インターチェンジ → (名神高速道路) → 小牧ジャンクション → (東名高速道路) → 御殿場インターチェンジ → 温泉

2 次の【A】～【E】の文は、世界遺産に登録された建物について述べたものです。これを読み、後の各問いに答えなさい。


<p>【A】 (a)平清盛が瀬戸内海の航行の安全を願って造りました。(b)寝殿造の形式を取り入れた社殿は、潮が満ちると海に浮かんでいるように見えます。社殿の先には約16メートルの大鳥居がありますが、これは(c)1875年に再建されたものです。</p>
<p>【B】 (d)江戸幕府を開いた徳川家康をご神体としてまつています。現在の豪華な建物になったのは、3代目将軍(X)のときです。建物には猿や猫などの動物の木彫像がみられますが、これらの動物のほとんどは平和を象徴しているといわれています。</p>
<p>【C】 白いしっくい<small>しらすきじょう</small>の壁の美しさから別名「白鷺城」とも呼ばれ、戦国武将の(e)池田輝政<small>いけだてるまさ</small>によって完成しました。江戸時代には西国を監視する西国探題が設置されました。(f)太平洋戦争中の空襲でも焼失をまぬがれ、現在も建設当時の姿を残しています。</p>
<p>【D】 (g)聖徳太子が創建した寺院で、世界最古の木造建築として知られています。また、建物以外にも、飛鳥時代・(h)奈良時代の仏像や工芸品が多数残っていて、大変貴重です。</p>
<p>【E】 地元の物産陳列館として(i)1915年に完成しました。(j)太平洋戦争の末期にこの地に原子爆弾が投下されましたが、奇跡的に倒壊はまぬがれ、原子爆弾の悲惨さを今に伝える「負の遺産」として1996年に登録されました。1960年代に建物の保存運動が高まり、永久保存されることになりました。</p>

問1 下線部(a)について、この人物に関して述べた文として正しいものを次の

- (ア)～(エ)から1つ選び、記号で答えなさい。
- (ア) 平治の乱では、源義朝とともに後白河天皇側について勝利した。
 (イ) 平治の乱のあとにおこった保元の乱でも勝利をおさめた。
 (ウ) 中国の明との貿易をさかんにおこなった。
 (エ) 武士として初めて太政大臣の地位についた。

問2 下線部(b)について、この様式が生まれた時代に建てられたものを次の(ア)～(エ)から1つ選び、記号で答えなさい。


(ア)



(ウ)



(イ)



(エ)



問3 下線部(c)について、この年に日本はロシアと国境を決める条約を結びました。この条約の内容に関して正しいものを次の(ア)～(エ)から1つ選び、記号で答えなさい。

- (ア) 樺太の南半分は日本領になった。
 (イ) 千島列島のうち、国後島と択捉島は日本領となった。
 (ウ) 千島列島のすべてがロシア領となった。
 (エ) 樺太はロシア領になった。

問4 下線部(d)について、次の各問いに答えなさい。

(1) 次の(ア)～(エ)は江戸幕府によって出された法令です。これらが発布された年代の古い順に並べかえなさい。

- (ア) 上げ米の制 (イ) 人返しの法
 (ウ) 生類憐れみの令 (エ) 異国船打払令

(2) この時代の文化の名と代表的な人物の組み合わせとして正しいものを次の(ア)～(エ)から1つ選び、記号で答えなさい。

- (ア) 元禄文化 — 葛飾北斎 (イ) 元禄文化 — 近松門左衛門
 (ウ) 化政文化 — 菱川師宣 (エ) 化政文化 — 松尾芭蕉

問5 (X) にあてはまる人物の名を漢字で答えなさい。

問6 下線部(e)について、池田輝政の生涯〔1564～1613〕におきた出来事に関して述べた文として正しいものを次の(ア)～(エ)から1つ選び、記号で答えなさい。

- (ア) イエズス会のフランシスコ＝ザビエルがキリスト教を布教した。
- (イ) 織田信長が長篠の戦いで武田信玄に勝利した。
- (ウ) 徳川家康は武家諸法度を発布して、違反した大名をきびしく処罰した。
- (エ) 豊臣秀吉は中国の征服を計画して、朝鮮出兵をおこなった。

問7 下線部(f)について、次の各問いに答えなさい。

(1) この戦争が始まる前年、日本はヨーロッパの2つの国と同盟を結びました。これらの国を次の(ア)～(カ)から2つ選びなさい。

- (ア) イタリア (イ) フランス (ウ) イギリス
- (エ) スペイン (オ) ドイツ (カ) ロシア

(2) 戦時体制下の状況に関して述べた文として誤っているものを次の(ア)～(エ)から1つ選び、記号で答えなさい。

- (ア) 戦争に反対した人々は、治安維持法によって処罰された。
- (イ) 空襲がはげしくなると、都会の小学生は地方へ集団疎開した。
- (ウ) 太平洋戦争が始まると同時に、大学生たちも軍隊に召集された。
- (エ) 政府は議会の承認なしに経済や国民生活を統制できた。

問8 下線部(g)について、次の文章は、遣隋使が中国に持参した手紙の一部です。二重線部(i)、(ii)の人物の組み合わせとして正しいものを次の(ア)～(エ)から1つ選び、記号で答えなさい。

・ (i)日出づる処の天子が、(ii)日没する処の天子に手紙を送ります。お元気ですか。

- (ア) (i)持統天皇 (ii)煬帝 (イ) (i)推古天皇 (ii)煬帝
- (ウ) (i)煬帝 (ii)推古天皇 (エ) (i)煬帝 (ii)持統天皇

問9 下線部(h)について、この時代の出来事として正しいものを次の(ア)～(エ)から1つ選び、記号で答えなさい。

- (ア) 神話や伝承をまとめた歴史書の『古事記』が完成した。
- (イ) 家柄にとらわれず、個人の能力に応じて12種類の位を与え、冠の色で区別した。
- (ウ) 東北地方の蝦夷をたおすために、坂上田村麻呂を征夷大將軍に任命して派遣した。
- (エ) 班田収授の法で口分田を6歳以上の男子だけに与えて、税を取り立てた。

問10 下線部(i)について、この時期、日本は第一次世界大戦に参戦していました。これに関して次の各問いに答えなさい。

(1) 日本はヨーロッパのある国と同盟を結んでいたことを理由に参戦しました。その国の名を答えなさい。

(2) 次の年表は、第一次世界大戦をまとめたものです。米騒動がおこった時期として正しいものを年表中の(ア)～(エ)から1つ選び、記号で答えなさい。

年	出来事
1914年	(ア) サラエボ事件がおこる
1915年	(イ) 中国に二十一か条の要求を伝える
1917年	(ウ) ロシア革命がおこる
1919年	(エ) ベルサイユ条約を結ぶ

問11 下線部(j)について、この地に原爆が投下された年月日を答えなさい。

問12 【A】～【E】のうち同じ都道府県にあるものをすべて答えなさい。また、その都道府県の名を答えなさい。

問13 2015年に「明治日本の産業革命遺産 製鉄・製鋼・造船・石炭産業」が世界遺産として登録されました。その1つに日本の近代化・産業化に貢献する人材を出した松下村塾があります。これについて、次の各問いに答えなさい。

- (1) この塾で多くの門下生を育てた後、安政の大獄で処刑された人物の名を答えなさい。
- (2) ここで勉強した人物に伊藤博文と山県有朋がいます。これらの人物について述べた文として正しいものを次の(ア)～(エ)から1つ選び、記号で答えなさい。
 - (ア) 伊藤博文は、君主の権力が強いフランスの憲法を手本にして憲法の草案を作った。
 - (イ) 伊藤博文は、国会開設を求める民選議院設立の建白書を政府に提出した。
 - (ウ) 山県有朋は、満20歳以上の男子に3年間の兵役義務を負わせる徴兵制をおこなった。
 - (エ) 山県有朋は、税収を安定させるために、地租改正をおこなった。

3 次の文章を読み、後の各問いに答えなさい。

国の政治は、国会・内閣・裁判所が大切な役割を分担して、お互いに見張り合いながら進めていきます。このようなしくみを()とといいます。国の政治のしくみは(a)日本国憲法に定められています。(b)国会のはたらきは、法律を制定すること、(c)予算を決定することなどです。(d)内閣は、国会が決めた法律や予算をもとに、景気対策、(e)高齢社会、(f)地球環境問題などさまざまな課題に取り組んでいます。裁判所は、個人どうしの法律的な問題を解決したり、罪をおかした疑いのある人が有罪か無罪かを判断することによって、(g)国民の権利を守っています。なお、司法制度改革の1つとして、2009年5月から(h)国民が裁判に参加する制度が取り入れられました。

問1 文中の()にあてはまる語を漢字4字で答えなさい。

問2 下線部(a)について、日本国憲法の三大原理の1つである国民主権にあたらぬものを、次の(ア)～(エ)から1つ選び、記号で答えなさい。

- (ア) 首長の解職を請求すること
- (イ) 国会議員を選ぶこと
- (ウ) 憲法改正の国民投票をすること
- (エ) 最高裁判所の裁判官を選ぶこと

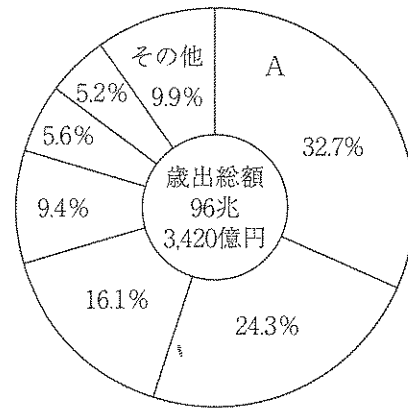
問3 下線部(b)について、これは2つの議院から成り立っています。右の説明にあてはまる議院を次の(ア)～(エ)から1つ選び、記号で答えなさい。

- (ア) 衆議院 (イ) 参議院
- (ウ) 貴族院 (エ) 枢密院

・議員数：242名
・任期：6年
・選挙される人：満30歳以上

問4 下線部(c)について、下のグラフは2015年度当初予算における国の歳出をあらわしたものです。グラフ中のAにあたるものとして正しいものを次の(ア)～(エ)から1つ選び、記号で答えなさい。

- (ア) 教育や科学をさかんにするお金
- (イ) 都道府県や市町村に支給するお金
- (ウ) 公共施設や道路をつくるお金
- (エ) 高齢者や障がいのある人を助けるお金



(財務省資料より作成)

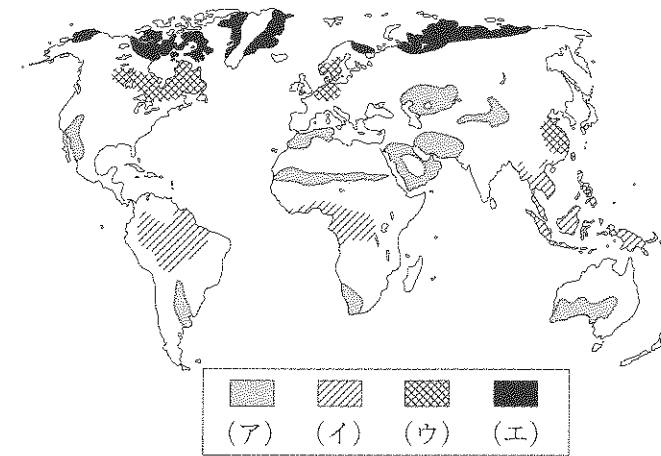
問5 下線部(d)について、2015年10月7日に成立した第3次安倍改造内閣は二つの政党によって成り立っています。この二つの政党の組み合わせとして正しいものを次の(ア)～(エ)から1つ選び、記号で答えなさい。

- (ア) 自由民主党 — 民主党
- (イ) 自由民主党 — 公明党
- (ウ) 社会民主党 — 公明党
- (エ) 社会民主党 — 民主党

問6 下線部(e)について、この進展にともなって交通機関や公共施設においてはバリアフリーのくふうが進められています。このようなくふうとして正しいものを次の(ア)～(エ)から1つ選び、記号で答えなさい。

- (ア) 木造の建物にする。
- (イ) エレベーターをなくして階段をつくる。
- (ウ) 車道と歩道の段差をなくす。
- (エ) まわりに樹木を植える。

問7 下線部(f)について、酸性雨の被害により木がかれて森林が減少したり建造物などにも被害が出たりしている地域を下の地図中の(ア)～(エ)から1つ選び、記号で答えなさい。



問8 下線部(g)について、次の各問いに答えなさい。

(1) 日本国憲法が保障する自由権として正しいものを次の(ア)～(エ)から1つ選び、記号で答えなさい。

- (ア) 働きたい会社の採用試験を受け、採用されるとそこで働けること。
- (イ) 自分の性別や出身地を理由として、働いて得られる収入は差別されないこと。
- (ウ) 働いている会社の経営者に対して、社員仲間と団結して職場環境の改善を求めること。
- (エ) 知識や技術、能力を身につけ、社会に出て活躍できるような教育を受けること。

(2) 日本国憲法で国民の義務として定められ、国民が国や地方に納めているものは何か漢字2字で答えなさい。

問9 下線部(h)について、この制度を何というか答えなさい。

社会(1次)解答用紙 ※印の箇所には記入しないで下さい。

1

問1	(1)		(2)	(i)		(ii)	
----	-----	--	-----	-----	--	------	--

問2	→	→	問3		問4	
----	---	---	----	--	----	--

問5		問6		問7	
----	--	----	--	----	--

問8	(1)		(2)		個
----	-----	--	-----	--	---

問9	(1)	記号		都 市 名		(2)	
----	-----	----	--	-------------	--	-----	--

問10	→	→	→
-----	---	---	---

問11		問12		問13	
-----	--	-----	--	-----	--

※

2

問1		問2		問3	
----	--	----	--	----	--

問4	(1)	→	→	→	(2)		問5	
----	-----	---	---	---	-----	--	----	--

問6		問7	(1)		(2)		問8	
----	--	----	-----	--	-----	--	----	--

問9		問10	(1)		(2)	
----	--	-----	-----	--	-----	--

問11		年		月		日	問12	記号		都 道 府 県 名	
-----	--	---	--	---	--	---	-----	----	--	-----------------------	--

問13	(1)		(2)	
-----	-----	--	-----	--

※

3

問1		問2		問3	
----	--	----	--	----	--

問4		問5		問6	
----	--	----	--	----	--

問7		問8	(1)		(2)	
----	--	----	-----	--	-----	--

問9	
----	--

※

受 験 番 号		氏 名	
------------------	--	--------	--

得 点	※
--------	---