

1 次の[A]～[G]それぞれの文章は、わが国の7地方の産業について述べたものです。これを読んで、後の各問いに答えなさい。

[A] わが国有数の工業地帯があり、機械工業を中心に各種の産業がさかんである。水の便の悪い武蔵野、相模原などの台地では、麦類、さつまいも、茶、野菜などの畑作が行われてきた。千葉県の(①)半島などでは、(a)近郊農業が行われており、野菜や草花の栽培がなされている。
[B] 西日本最大の工業地帯が広がっている。長い間都があったところであり、(b)伝統工芸品の生産でも知られている。太平洋側には(②)海流が流れており、かつお、まぐろ漁業が行われている。
[C] 北部にはわが国有数の工業地帯が発達したが、(c)現在その地位は低下している。地方各地で電子工業の発達がめざましく、IC工場が多い。畜産もさかんで、火山のすそ野や高原で肉牛の放牧が行われている。南部一帯の(③)台地とよばれる火山灰の土地では、さつまいも、たばこ、茶などが生産されている。
[D] 日本海側では稲作中心の農業が行われている。瀬戸内海側では機械工業、鉄鋼業、石油化学工業などが発達している。太平洋側の(④)平野では、(d)暖かい気候を利用し、ビニルハウスを使った野菜作りが行われている。
[E] わが国1位の生産額をほこる(⑤)工業地帯がある。さらに東には東海工業地域が発達している。焼津、清水の各港は遠洋漁業の基地となっている。(e)浜名湖は養殖で知られている。菅平や八ヶ岳山ろくの野辺山原などでは夏のすずしい気候を利用して、野菜のおそ作りが行われている。
[F] 稲作中心の農業が行われているが、(f)くだもの、野菜作りもさかんである。国有林が広い面積をしめ、木材の生産が多い。三陸沖は(⑥)海流と(⑦)海流が出会う潮目であり、かつお、まぐろ、さんまなどの漁場となっている。
[G] 農家1戸あたりの耕地面積が広く、トラクターなどの大型機械を使った農業が進められている。広い土地を使って、乳牛を飼い、乳製品が多く生産されている。オホーツク海、ベーリング海などで、たら、さけ、ます、かになどをとる遠洋漁業は(⑦)漁業とよばれている。また、(g)地元の原料と結びついた工業も行われている。

問1 文中の(①)～(⑦)にあてはまる語を答えなさい。

問2 下線部(a)について、この農業の利点を30字以上40字以内で答えなさい。

問3 下線部(b)について、この地方で生産されているものとして誤っているものを次の(ア)～(エ)から1つ選び、記号で答えなさい。

(ア) 信楽焼 (イ) 有田焼 (ウ) 西陣織 (エ) 友禅染

問4 下線部(c)について、この理由として誤っているものを次の(ア)～(エ)から1つ選び、記号で答えなさい。

(ア) 周辺の100万人規模の大都市の人口流出があったから。
 (イ) 1960年代以降、エネルギー源が石炭から石油に移ったから。
 (ウ) 近くの炭鉱が閉山したから。
 (エ) 鉄鉱石を中国から輸入していたが、輸入先に変化があったから。

問5 下線部(d)について、これを何というか漢字で答えなさい。

問6 下線部(e)について、ここでの養殖で有名なものを答えなさい。

問7 下線部(f)について、次の表は、この地方の6県の2012年における、りんご、日本なし、もも、キャベツの生産量を示したものです。このうち、福島県にあたるものを表中の(ア)～(カ)から1つ選び、記号で答えなさい。

県	りんご	日本なし	もも	キャベツ
(ア)	3,810	2,800	…	9,610
(イ)	23,700	2,870	…	9,810
(ウ)	28,100	17,800	27,500	6,080
(エ)	45,000	1,800	7,840	4,560
(オ)	48,800	…	…	31,500
(カ)	446,000	…	…	13,900

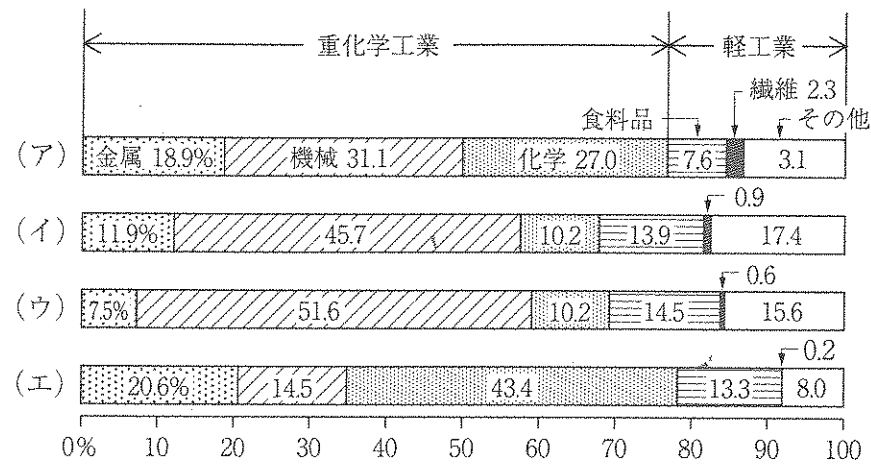
※ 単位はt。

(『日本国勢図会2014/15』より作成)

問8 下線部(8)について、この内容とそれが行われている都市の組み合わせとして誤っているものを次の(ア)～(エ)から1つ選び、記号で答えなさい。

- (ア) 製塩-旭川 (イ) 製紙・パルプ-苫小牧
 (ウ) 製糖-帯広 (エ) ビール-札幌

問9 二重線部について、次のグラフは、2012年における、東海工業地域、瀬戸内工業地域、関東内陸工業地域、京葉工業地域の製造品出荷額の構成を示したものです。このうち、東海工業地域にあたるものを次の(ア)～(エ)から1つ選び、記号で答えなさい。



問10 次の(i)、(ii)の図は、ある都道府県の形を示したものです。それぞれの地方に属する都道府県ですか。[A]～[G]の記号で答えなさい。なお、それぞれ縮尺は一定ではなく、周辺の島々はえがかれていません。

(i)



(ii)



問11 次の(i)、(ii)の文章は、ある都道府県について説明したものです。それぞれの地方に属する都道府県ですか。[A]～[G]の記号で答えなさい。

(i) 日本三大美林の一つにあげられる「すぎ」を使った工芸品が作られている。北緯40度、東経140度の線が通っている。新米をたいてつぶしてできる「きりたんぼ」が有名である。

(ii) わが国で一番面積の小さな県である。平野部では、大きな川がなく、年間を通じて雨が少ないので、水不足が深刻である。用水などで水を確保している。はまちの養殖が行われている。

2 たかし君は日本でおきた戦いや反乱についてカードにまとめました。これを見て、後の各問いに答えなさい。

【カード①】

後鳥羽上皇が(a)幕府をたおそうとしておこした反乱。上皇側は、結束を固めた幕府の御家人たちに攻められて敗北した。

【カード②】

瀬戸内海で、四国の伊予国の国司だった(あ)が海賊をひきいておこした反乱。一時は(b)大宰府を攻めるほどの勢力だったが、やがて朝廷の命令で派遣された武士によってたおされた。

【カード③】

(c)士族の不满が高まり、西郷隆盛がおこした士族による最大で最後の反乱。政府の軍隊によってたおされたあと士族たちは、武力ではなく(d)言論による抵抗をおこなった。

【カード④】

東軍をひきいる徳川家康と、西軍をひきいる(い)が対決した天下分け目の戦い。東軍が勝利し、徳川家康の権力が確立した。

【カード⑤】

(e)天智天皇の死後、あとつぎをめぐる戦い。大海人皇子が勝利して(f)新たな天皇に即位した。

【カード⑥】

ききんが続いて人びとが苦しむなか、大坂で町奉行の元役人が同志とともにおこした反乱。反乱は1日でしずめられたが、社会不安が高まり、(g)水野忠邦は改革をおこなった。

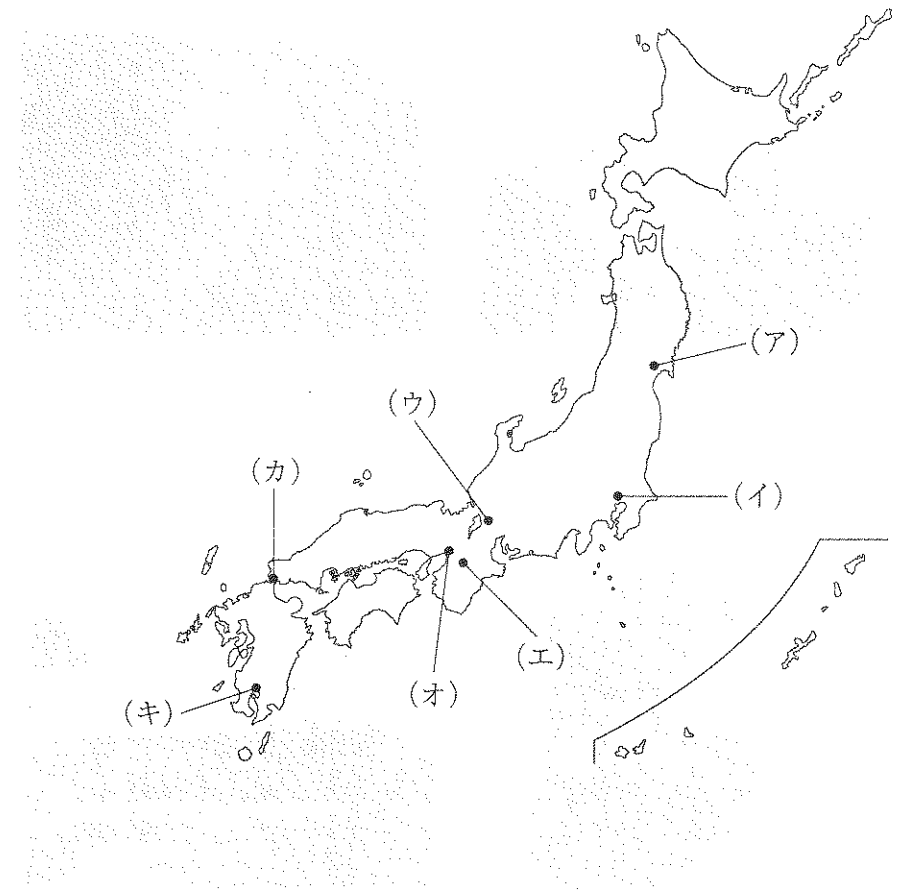
【カード⑦】

(h)アメリカ軍と日本軍との沖縄をめぐる戦い。多数の一般市民も巻きこまれ、約10万人の死者を出した。終戦後もアメリカが占領していたが、(i)のちに日本に返還された。

【カード⑧】

源氏と(j)平氏の最後の戦い。戦いに敗れた平氏一門の多くは海中に身を投げてほろんだ。

問1 【カード④】と【カード⑧】の戦いのあった場所を次の地図中の(ア)～(キ)からそれぞれ1つずつ選び、記号で答えなさい。



問2 【カード①】について、次の各問いに答えなさい。

(1) 下線部(a)について、この幕府のときに成立した文化ともっとも関係の深いものを次の(ア)～(エ)から1つ選び、記号で答えなさい。


(ア)




(イ)



(ウ)



(エ)



(2) この反乱の影響について述べた文として正しいものを次の(ア)～(エ)から1つ選び、記号で答えなさい。

(ア) 御家人たちは幕府から十分な恩賞をもらうことができず、生活は苦しくなった。

(イ) 幕府は朝廷を監視するために、京都所司代を設置した。

(ウ) 敗北した後鳥羽上皇は、現在の島根県の^{おきのしま}隠岐島に流された。

(エ) 幕府は反乱がおきないように全国に守護と地頭を設置して、支配を強化した。

問3 【カード②】について、次の各問いに答えなさい。

(1) (あ)にあてはまる人物の名を答えなさい。

(2) 下線部(b)について、10世紀初めに藤原氏の策略でここに流され、亡くなった人物に関して述べた文として正しいものを次の(ア)～(エ)から1つ選び、記号で答えなさい。

(ア) 遣唐使の派遣を中止した。

(イ) 摂政と関白の地位に就いて、天皇を補佐した。

(ウ) 死後、都では異変があいついだため、たたりをしずめるために巖島神社を建てた。

(エ) 都を去るときに、「天の原ふりさけみれば春日なる三笠の山に出でし月かも」と歌った。

問4 【カード③】について、次の各問いに答えなさい。

(1) 下線部(c)について、これに関して述べた文として誤っているものを次の(ア)～(エ)から1つ選び、記号で答えなさい。

(ア) 士族の不满を海外に向かせるために、征韓論が唱えられた。

(イ) 政府は廃刀令を出して軍人と警官以外が刀を持つことを禁止した。

(ウ) 政府は失業した士族を屯田兵として北海道に移住させ、開拓と警備の仕事につかせた。

(エ) 特権をうしなった士族の中には商売をおこなって、「士族の商法」とよばれるほど成功する者もいた。

(2) 下線部(d)について、これは特に国会の開設をめぐる運動で高まりました。この運動の名を解答用紙の表現にあうように、漢字4文字で答えなさい。

問5 (い)にあてはまる人物の名を答えなさい。

問6 【カード⑤】について、次の各問いに答えなさい。

(1) 下線部(e)について、この人物に関して述べた文として正しいものを次の(ア)～(エ)から1つ選び、記号で答えなさい。

(ア) 皇太子のとき、百濟を助けるために朝鮮半島に出兵するが、白村江の戦いで敗れた。

(イ) 蘇我蝦夷と入鹿の父子をたおすとすぐに天皇に即位して、政治改革をおこなった。

(ウ) 中国に遣隋使を送って、中国のすぐれた政治のしくみや文化について学んだ。

(エ) 大宝律令を制定し、律令政治が確立された。

(2) 下線部(f)について、この天皇の名を漢字で答えなさい。

問7 下線部(g)について、この改革の内容に関して述べた文として正しいものを次の(ア)～(エ)から1つ選び、記号で答えなさい。

- (ア) 商工業の同業組合である株仲間の結成をみとめた。
- (イ) 一般の人の意見を知るために目安箱を置いた。
- (ウ) 農村から都市に出かせぎに来た農民を村に帰す人返しの法を制定した。
- (エ) ききんなどの災害にそなえるために、各地に米をたくわえる囲い米の制をおこなった。

問8 【カード⑦】について、次の各問いに答えなさい。

(1) 下線部(h)について、これに関して述べた文として誤っているものを次の

(ア)～(エ)から1つ選び、記号で答えなさい。

- (ア) ミッドウェーの海戦で日本に勝利した。
- (イ) 長崎市につづいて広島市にも原子爆弾を投下した。
- (ウ) B29を飛ばして、日本各地で空襲をおこなった。
- (エ) ハワイの真珠湾で日本軍の攻撃を受けた。

(2) 下線部(i)について、これと同じ年に、田中角栄首相のもとで国交を回復した国の名を次の(ア)～(エ)から1つ選び、記号で答えなさい。

- (ア) 中国 (イ) 韓国 (ウ) ソ連 (エ) 北朝鮮

問9 下線部(j)について、平氏政権は中国との貿易に力を入れました。当時の中国の王朝の名を次の(ア)～(エ)から1つ選び、記号で答えなさい。

- (ア) 宋 (イ) 元 (ウ) 明 (エ) 清

問10 たかし君は【カード①】から【カード⑧】を戦いがおこった年代順に並びかえました。次の各問いに答えなさい。

(1) 古い方から3番目と6番目にくるカードの番号をそれぞれ答えなさい。

(2) 【カード③】から【カード⑦】までの期間には、日本は海外へ出兵して何度か戦いをしています。次の文章は、ある戦争の講和条約の一部です。この戦争の名を下の(ア)～(エ)から1つ選び、記号で答えなさい。

- ・朝鮮の独立を認めること
- ・日本へ台湾、遼東半島、澎湖諸島^{ほうこ}をゆずること
- ・賠償金を日本に支払うこと

- (ア) 日露戦争 (イ) 日中戦争 (ウ) 甲午農民戦争 (エ) 日清戦争

(3) 次の【カード⑨】を追加したいとき、どのカードの間に入れるとよいですか。下の(ア)～(エ)から1つ選び、記号で答えなさい。

【カード⑨】

将軍や管領のあとつぎ争いと、守護大名の政治の実権をめぐる対立などで東軍と西軍にわかれて11年間つづいた戦い。この戦いで都は焼け野原になった。

- (ア) ②と⑧の間 (イ) ①と④の間
- (ウ) ⑧と①の間 (エ) ④と⑥の間

3 次の文章を読んで、後の各問いに答えなさい。

「子どもの権利条約（児童の権利に関する条約）」を聞いたことがありますか。世界には、戦争に巻き込まれてしまったり、防げる病気で命をうしなってしまうたり、つらい仕事で1日が終わってしまったり、厳しい暮らしをしている子どもたちがいます。そのような子どもたちを守るために、1989年に(a)国際連合で採択され、1990年に国際条約として発効しました。わが国も(b)日本国憲法の三大原則の1つである基本的人権の尊重と同じ立場にあるため、1994年4月22日に(c)批准し、1994年5月22日に発効しています。現在では、国際連合に加盟しているほとんどの国が結んでいます。

この条約は、世界中のすべての子どもたちがもっている「権利」を定めており、その権利を守るために、が中心となって活動しています。

子どもの権利は、大きく4つに分けられます。

1つ目は、生きる権利です。子どもたちは健康に生まれ、安全な水や十分な栄養を得て、健やかに成長する権利を持っています。

2つ目は、育つ権利です。教育を受け、休んだり遊んだりできること、考えや信じることの自由が守られ、自分らしく育つことができることなどです。

3つ目は、守られる権利です。あらゆる種類の虐待や搾取などから守られなければなりません。(d)障がいをもつ子ども、少数民族の子どもなどは特別に守られる権利もっています。

4つ目は、参加する権利です。自分に関係のある事柄について自由に意見を表したり、集まってグループを作ったり、活動することができます。そのときには、家族や地域社会の一員としてルールを守って行動する(e)義務があります。

この条約を通じて、(f)日本国憲法に定められている基本的人権についての理解を深め、守っていきましょう。

問1 文中のには、子どもの権利条約をつくったり、世界中の子どもたちの命と健康を守るために活動している国際連合の機関名が入ります。これにあたるものを次の(ア)～(エ)から1つ選び、記号で答えなさい。

(ア) ユニフェム (イ) ユニセフ (ウ) ユネスコ (エ) ユネップ

問2 下線部(a)について、国際連合の加盟国数(2014年1月現在)を次の(ア)～(エ)から1つ選び、記号で答えなさい。

(ア) 99 (イ) 179 (ウ) 193 (エ) 208

問3 下線部(b)について、公布または施行された日と国民の祝日の組み合わせとして正しいものを次の(ア)～(エ)から1つ選び、記号で答えなさい。

(ア) 公布-5月3日、文化の日 (イ) 公布-11月3日、憲法記念日
(ウ) 施行-5月3日、憲法記念日 (エ) 施行-11月3日、文化の日

問4 下線部(c)について、批准とは、^{ひじょう}条約や協定などの国と国との取り決めに最終的に国として確認・同意することです。日本国憲法で条約を承認するのはどれですか、次の(ア)～(エ)から1つ選び、記号で答えなさい。

(ア) 国会 (イ) 内閣 (ウ) 裁判所 (エ) 天皇

問5 下線部(d)について、障がいのある人や高齢者にとっての身体的・精神的・社会的障壁をとりぞくことを何というかカタカナで答えなさい。

問6 下線部(e)について、次の文は日本国憲法第26条第2項です。()に共通する語を答えなさい。

すべて国民は、法律の定めるところにより、その保護する子女に普通()を受けさせる義務を負う。義務()はこれを無償とする。

問7 下線部(f)について、下にあげた(1)～(4)の場合は、日本国憲法の保障する、(ア)自由権 (イ)平等権 (ウ)社会権のどの権利に関わっているか、それぞれ(ア)～(ウ)の記号で答えなさい。

- (1) 会社の女性社員が、同時期に入社した男性と比べて昇格が遅く、賃金も低いのは女性差別だとして、その扱いの改善を求める場合。
- (2) 障がいにより車イス生活となった生徒が、高校を十分な成績で合格したにもかかわらず、障がいを理由に不合格となったので、その処分の取り消しを求める場合。
- (3) 会社から退職をせまられた人が、その理由がある宗教の信者であったからだとして、その取り消しを主張する場合。
- (4) 薬局を開こうと県に営業申請をしたが、法律や条例で定めた距離基準に合わないという理由で不許可となったので、その法律や条例は憲法違反であり不許可の取り消しを求める場合。

