

1 次の文を読み、後の問いに答えなさい。

イザベラ・バードという女性を知っているでしょうか。19世紀後半から20世紀初頭にかけて活動した(a)イギリス人の旅行家で、北米やアジア各地など世界中を旅行し、多くの紀行文を著した人物です。その数多くの旅行のなかで、イザベラ・バードは、1878（明治11）年、47歳のときに日本を訪れました。彼女は通訳兼従者をともなって(b)東京から北関東を^{あらわ}通って北陸へ、そして東北地方の日本海側を^{あらわ}通って北海道へと旅行し、その後、関西地方もめぐりました。そして、そのときの体験を『日本奥地紀行』2巻にまとめて出版しました。(c)文明開化を迎えていた明治時代の日本において、彼女はあえて文明開化の影響がまだおよばない地方を旅行し、率直な観察眼で見聞きしたことを記録しています。なかでも、明治政府の支配下におかれつつあった(d)アイヌに関する記録は他の文献には見られないもので、アイヌ研究において貴重な資料となっています。では、『日本奥地紀行』のなかから興味深い記述をいくつか紹介しましょう（以下、引用文は、イザベラ・バード、時岡敬子（訳）『イザベラ・バードの日本紀行 上・下』によっています）。

（①）は人口5万人の大都市で、越後という広くて大きい地方の主都である。(e)日本の日本海側にある唯一の開港場で、函館―長崎間にあつて、宣教師が住むことを許されており、プロテスタン

ト・キリスト教はこの前哨地^{ぜんしやうち}をファイソン氏とパーム医師という2名の力によって確保した。

日本の食材の範囲はほぼ際限がない。とはいえ、最下層の人々の必需食料品を成しているのは、米、粟、塩魚、大根である。(f)90種を超える海または川の魚が煮たり、焼いたり、あるいは生のままで食され、その大きさも^{かつお}鰹や^{くじら}鯨の切り身から、丸々一尾でもひと口より小さい小魚までであるが、小魚はふつう竹串に刺したものを宿屋の台所で多数見ることができる。

(g)米沢の平野は南に繁栄する米沢の町があり、北には湯治客の多い温泉町、赤湯があつて、申し分のないエデンの園で、「鋤ではなく画筆で耕作されて」おり、米、綿、とうもろこし、たばこ、麻、藍、大豆、茄子、くるみ、瓜、きゅうり、柿、あんず、ざくろをふんだんに産します。微笑みかけているような実り豊かな地です。繁栄し、自立した東洋のアルカディアです。

〔山形で〕ある(h)製糸工場を訪ねました。そこでは、主任も機械係もみんな洋服を着ているのに、ことのほか礼儀が正しくて話し好きでした。明るくて天井が高く、風通しのいい建物で、清潔で身なりもいい50人の娘たちが50台（近々100台に増える予定）の紡績機を動かしています。

蝦夷は、日本本土とは津軽海峡に、またサハリンとは（②）海峡に隔てられ、東経（③）度30分から146度、北緯（④）度20分から45度20分へと不規則な三角形に広がっており、最北点は英国ランズエンド岬よりかなり南にある。

「多毛のアイヌ」と呼ばれてきたこの未開人は、鈍くて、温和で、気立てがよくて、従順である。日本人とはまったく異なった民族である。肌の色はスペインやイタリア南部の人々に似ており、顔の表情や礼儀・好意の表し方は東洋的というよりむしろ西洋的である。

〔平取の〕崖のまさに縁、ジグザグ道を上がったてっぺんに、木造のお堂が建っています。本州のどこの森や小高い場所でも見られるようなお堂で、明らかに日本式の建て方ですが、この件に関して

アイヌの伝承はなにも語っていません。(中略) 漆^{うるし}の塗^ぬってない簡素なお堂で、奥に奥行きのある棚があり、そこに小さな祭壇^{まつ壇}があつて、象眼^{ぞうがん}を施^ほした真鍮^{しんちゅう}製の鎧^{よろい}を着た歴史的な英雄、(⑤)の像、金属製の御幣^{ごへい}、変色した真鍮製の燭台、帆掛け船を描いた中国式の色彩画が納まっています。

以上のように、イザベラ・バードは、19 世紀後半～20 世紀初頭という時代において、世界中を旅行したことに加えて、明治時代の日本、しかも当時あまり外国人が訪れることのなかった北海道に踏み入った女性として、きわめて稀^{まれ}な存在です。その記録は好奇心に満ち、なんでも見てやろうとする彼女の気持ちがよくあらわれています。とくに、アイヌと濃密に接した経験は彼女に強い印象を与えたようで、彼女はアイヌについて非常に貴重な記録を残しました。イザベラ・バードの記録を片手に、当時に思いをはせながら北海道をめぐるのもいいかもしれませんね。

(1) 文中の空らん (①) ～ (②) に適する語句を漢字で答えなさい。

(2) 文中の空らん (③) ～ (④) に適する数字の組み合わせを、次のア～エのうちから1つ選び、記号で答えなさい。

ア (③) —129 (④) —41

イ (③) —139 (④) —41

ウ (③) —129 (④) —31

エ (③) —139 (④) —31

(3) 文中の空らん (⑤) について、この「歴史的な英雄」は、平氏との戦いで活躍し、壇ノ浦の戦いで平氏を滅ぼしたものの、後に兄の頼朝と仲たがいで東北地方に逃れ、現在の岩手県平泉町にある衣川館で藤原泰衡に攻められて死去しました。しかし、後世の人々は、この人物は衣川で死んでおらず、ここから北に逃げたという伝説を生み出しました。東北地方の北部には、この伝説にまつわる遺跡や地名が数多くあり、また北海道の各地にもこの伝説が残されています。イザベラ・バードが平取で見た「木造のお堂」は、江戸時代半ばに創建されたこの人物を祀^{まつ}る神社だと思われます。この人物の名を答えなさい。

(4) 下線部(a)の国について述べた文として正しいものを、次のア～エのうちから1つ選び、記号で答えなさい。

ア 2019 年3月にヨーロッパ連合を脱退することを決めましたが、それに向けた準備が難航しています。

イ 共産党の指導で改革・開放政策が実施され、めざましい経済成長をとげています。

ウ 輸入品への関税を高くするなどの自国第一主義の姿勢が、各国から反発を受けています。

エ 2014年にクリミア半島を併合したことにより、国際社会から経済制裁を受けています。

- (5) 下線部(b)について、次の都市は、イザベラ・バードの東京から青森までの旅程を示しています。空らん (⑥) ～ (⑦) に適する都市の名の組み合わせとして適当なものを、下のア～エから1つ選び、記号で答えなさい。

東京 → (⑥) → [会津] 坂下 → 本文中の (①) → 山形
→ 天童 → 新庄 → (⑦) → 秋田 → 大館 → 碓ヶ関 → 青森

- ア (⑥) — 甲府 (⑦) — 横手
イ (⑥) — 甲府 (⑦) — 盛岡
ウ (⑥) — 日光 (⑦) — 横手
エ (⑥) — 日光 (⑦) — 盛岡

- (6) 下線部(c)の「文明開化」という言葉は、1875年に刊行された『文明論之概略』という書物に記されたのが最初とされています。この書物の著者は、他にも『西洋事情』『学問のすゝめ』などの作品を著し、また、社会のリーダーを育てるため、教育にも力を注ぎ私塾を開きました。この私塾から発展した現在の大学の名として適当なものを、次のア～エのうちから1つ選び、記号で答えなさい。

- ア 東京大学 イ 一橋大学 ウ ^{わ せ だ}早稲田大学 エ ^{けいおうぎじゅく}慶應義塾大学

- (7) 下線部(d)に関して、江戸時代の前期の1669年に、日高地方のアイヌ民族の首長が、和人の不正な交易や横暴に不満をいっていたアイヌの人々を率い、和人との戦いをおこしました。戦いはアイヌ側が優勢のうちに始まりましたが、幕府の介入や鉄砲隊の投入などにより次第に押され、ピポク (^{にいかつぶ}いまの ^{わぼく}新冠) で和睦しました。しかし、アイヌの首長は和睦の席でだまし討ちにあい、殺されました。このアイヌの首長の名を答えなさい。

- (8) 下線部(e)について、この港が実際に開かれたのは明治になってからでしたが、開港することが決められたのは、江戸幕府がある条約を結んだことによりました。この条約の名を漢字で答えなさい。

- (9) 下線部(f)に関して、現在の日本の漁業のうち、次の文で表された漁業は何と呼ばれますか。

日本近海の2～3日で帰れる範囲の海が漁場で、20～150トンくらいの漁船を使い、まきあみ漁などでイワシ、サンマ、サバ、アジ、イカなどをとります。漁獲量では、日本の漁業の中で占める割合は高く、約4割を占めています。しかし、とれ高は1980年代をピークに、1990年代から次第に減少しています。

(10) 下線部(g)について、山形県の農業に関する次の各問いに答えなさい。

- i) 山形県は稲作と果樹栽培が盛んですが、そのうち稲作が盛んな平野の名と、その平野を流れる河川の名の組み合わせとして適当なものを、次のア～エのうちから1つ選び、記号で答えなさい。

- ア 能代平野―最上川
イ 能代平野―雄物川
ウ 庄内平野―最上川
エ 庄内平野―雄物川

- ii) 山形県の内陸の盆地では、夏の気温が高く、また昼と夜の温度差が大きい気候を利用した果樹栽培が盛んです。次の表は、2017 年におけるリンゴ・サクランボ・ブドウの3つの果物の都道府県別収穫量と割合を、全国の上位5位までを表しています。表中の(A)～(C)に当てはまる果物の組み合わせとして適当なものを、下のア～カのうちから1つ選び、記号で答えなさい。

	(A)	(B)	(C)
1位	山形県 14,500t (75.9%)	山梨県 43,200t (24.5%)	青森県 415,900t (56.6%)
2位	北海道 1,520t (8.0%)	長野県 25,900t (14.7%)	長野県 149,100t (20.3%)
3位	山梨県 1,170t (6.1%)	山形県 16,700t (9.4%)	山形県 47,100t (6.4%)
4位	(以下統計データなし)	岡山県 16,700t (9.4%)	岩手県 39,600t (5.4%)
5位		福岡県 8,260t (4.7%)	福島県 27,000t (3.7%)

(農林水産省「作物統計」より作成)

- ア (A) ―サクランボ (B) ―ブドウ (C) ―リンゴ
イ (A) ―サクランボ (B) ―リンゴ (C) ―ブドウ
ウ (A) ―ブドウ (B) ―サクランボ (C) ―リンゴ
エ (A) ―ブドウ (B) ―リンゴ (C) ―サクランボ
オ (A) ―リンゴ (B) ―サクランボ (C) ―ブドウ
カ (A) ―リンゴ (B) ―ブドウ (C) ―サクランボ

(11) 下線部(h)に関して、次の文の空らん (⑧) ～ (⑨) に適する語句を答えなさい。

製糸業とは、^{かいこ}蚕の繭から絹織物の原材料となる (⑧) を生産する産業です。明治から昭和初期にかけて (⑧) と絹製品は、日本の重要な輸出品でした。なお、蚕が繭になるまで飼う産業を養蚕業^{えさ}といいますが、この産業では蚕の餌になる (⑨) の栽培が必要です。

2 次の文を読み、後の問いに答えなさい。

昨夏は全国的に猛暑日が続きましたが、一昨年(2017年)の夏も猛暑で、いつもは涼しい北海道でも一日の最高気温が30℃を超える真夏日が続き、7月15日には(a)帯広市で37.1℃と、平年より14℃も高い気温に見舞われました。北海道で7月の真夏日が11日連続となったのは23年ぶりだそうです。

気温が上がると、国内経済はどのような影響を受けるのでしょうか。実は、夏になると(b)胃腸薬が普段より多く売れると言われています。暑いときに冷たいものを食べたり飲んだりすることで、お腹の調子をくずしてしまう人が多いでしょう。また、当然ですが、清涼飲料水やビールなどの冷たい飲み物の売り上げも急増するようです。みなさんが好きなジュースや、お父さんお母さんが好きなビールですが、やはり飲みすぎは良くないですね。

さて、そのジュースやビールですが、みなさんやお父さんお母さんは、それらをどこで買うのでしょうか。もちろん(c)コンビニエンスストアやスーパーマーケットですよね。このような、皆さんが直接買い物に行きモノを購入するお店を「(①) 店」と呼びます。一方で、ジュースやビールなどを実際に作っている製造業者(メーカー)の方と(①) 店との間を仲介する業者を「(②) 店」と呼びます。商品というのは、「製造業者(メーカー) → (②) 店 → (①) 店 → 消費者」という流れで私たちの手に入るのですね。以下に(①) 店と商品の産地に関して、もう少し詳しく見ていきましょう。

ジュースやビールはどこで作られるのでしょうか。より具体的にいうと、ジュースやビールを作る工場というのは「どこ」に立地するのでしょうか。みなさんがジュース会社やビール会社の社長さんだとしたら、どこに工場を作りますか。考えてみましょう。

(d)企業であれば、作った飲み物の売り上げが少しでも多いところがいいと思いますよね。つまり、ジュースやビールであれば、「買ってくれる人が多いところ」、つまり「人がたくさんいる大都市」に立地するはずです。これを「(e)市場指向型工業」と呼びます(実際には都市部は土地の値段が高く、空いている土地も少ないため、都市の中心部からやや離れた「都市近郊」に立地することが多いようです)。しかし、ジュースでも例えばトマトジュースやオレンジジュースの工場は市場指向型ではありません。同じく、お酒でも国産のワインなどは、(f)市場指向型ではないのです。これはどういう理由なのでしょう。

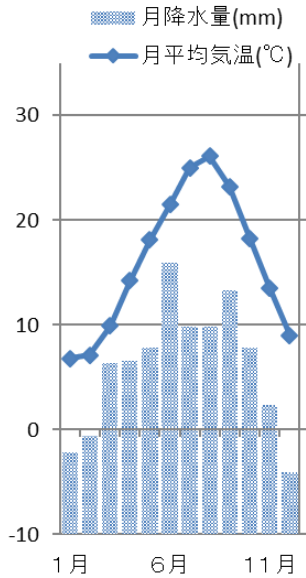
ほかにも、例えばみなさんが着ている衣服に注目すると、それを販売している(①) 店は日本の企業が多いですが、衣服のタグを見ると、「Made in China」(中国製)や「Made in Vietnam」(ベトナム製)が多く見られると思います。衣服の工場が海外にあるわけです。(g)これも理由は明らかですね。

現在日本には、およそ3万の職業があると言われています(厚生労働省による)。みなさんも将来は何らかの仕事に就き、社会に貢献していくと思います。変化が大きい現代社会の中で生きていく上では、多角的な視野を持って、世の中のいろいろなことに興味を持ってほしいと思います。その土台を、北嶺中学校・高校でしっかり身に付けてほしいと思います。

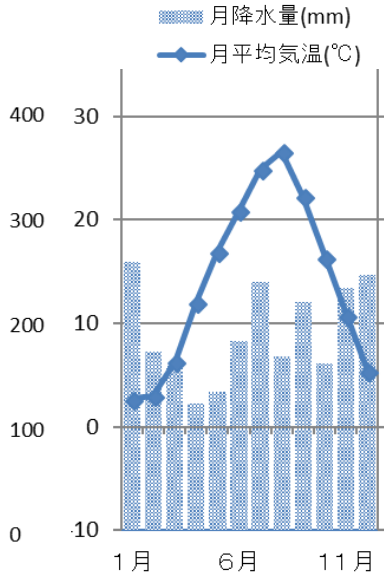
(1) 文中の空らん (①) ～ (②) に適する語句を答えなさい。

(2) 下線部(a)に関して、次の各問いに答えなさい。

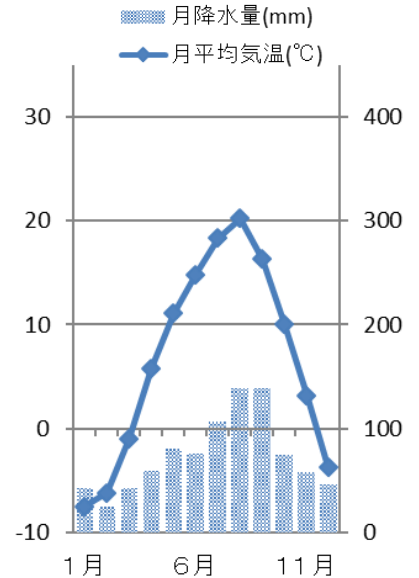
- i) 次の (A) ～ (C) の雨温図は、帯広市と、帯広市と姉妹都市の関係を保っている松崎町(静岡県)、および富山市(富山県)のいずれかのものです。雨温図の記号 (A) ～ (C) と都市名の組み合わせとして正しいものを、下のア～カから1つ選び、記号で答えなさい。



(A)



(B)



(C)

- | | | | |
|---|----------|----------|----------|
| ア | (A) 一帯広市 | (B) 一松崎町 | (C) 一富山市 |
| イ | (A) 一帯広市 | (B) 一富山市 | (C) 一松崎町 |
| ウ | (A) 一松崎町 | (B) 一帯広市 | (C) 一富山市 |
| エ | (A) 一松崎町 | (B) 一富山市 | (C) 一帯広市 |
| オ | (A) 一富山市 | (B) 一松崎町 | (C) 一帯広市 |
| カ | (A) 一富山市 | (B) 一帯広市 | (C) 一松崎町 |

- ii) 次の文ア～ウは帯広市・函館市・釧路市の特徴について述べたものです。帯広市について述べた文を1つ選び、記号で答えなさい。

ア この都市の人口は26万7千人です。暖流の対馬海流の影響を受け、冬でも他の北海道の都市に比べると降雪が少ないです。市街地の南には夜景の美しさで有名な山があり、多くの観光客が訪れます。

イ この都市の人口は16万7千人です。平地のおよそ半分が農地で、ジャガイモや小麦などの生産が盛んで大規模な畑作地帯となっています。明治期に農耕馬を競走させることから生まれたばんえい競馬が広く知られています。

ウ この都市の人口は17万6千人です。隣接する平野には日本最大の湿原が広がっています。夏になると濃い霧が発生し、極端な気温の上昇は見られません。また、タラヤサンマなどが水揚げされる日本有数の漁港があります。

- (3) 下線部(b)に関して、胃腸薬などの製品は市場では「医薬品」に分類されて流通します。医薬品を生産しているのは製薬会社ですが、製薬会社の売上世界ランキング(2016年)の上位3社のうち、2社はスイスにあります。スイスに関する次の各問いに答えなさい。

- i) 次の表中の(A)～(C)は、ドイツ、スペイン、スイスのいずれかの国の「人口」「面積」「一人あたりGNI(国民総所得)」を示しています。表中の(A)～(C)の国の名の組み合わせとして適当なものを、下のア～カのうちから1つ選び、記号で答えなさい。

	人口(万人)	面積(万 km ²)	一人あたりGNI(ドル)
(A)	837	4.1	84,720
(B)	4,606	50.6	29,390
(C)	8,068	35.7	47,590

- ア (A)ードイツ (B)ースペイン (C)ースイス
 イ (A)ードイツ (B)ースイス (C)ースペイン
 ウ (A)ースペイン (B)ードイツ (C)ースイス
 エ (A)ースペイン (B)ースイス (C)ードイツ
 オ (A)ースイス (B)ースペイン (C)ードイツ
 カ (A)ースイス (B)ードイツ (C)ースペイン

- ii) スイスは、みずから戦争を始めないこと、またほかの国家間のいかなる戦争にも参加せず、その争いの外に立つ立場であることを宣言しており、他国がそれを保障・承認している国家です。このような立場を宣言している国家のことを何といいますか。漢字5字で答えなさい。

(4) 下線部(c)に関して、次の表中の(A)～(C)は、「コンビニエンスストア」「総合スーパー」「専門店」のいずれかの「総店舗数」「年間商品販売額」「駅周辺に立地する割合」「住宅地区に立地する割合」を示しています(統計年次はすべて2014年)。表中の(A)～(C)が表す店舗の形態の組み合わせとして適当なものを、下のア～カから1つ選び記号で答えなさい。なお、「総合スーパー」とは、衣食住関連の商品を中心に、各種の商品を幅広く扱っており、量販店とも呼ばれる店舗の形態を示し、「専門店」とは、衣食住いずれかの専門の商品の割合が90%以上を占める店舗の形態を示します。

	総店舗数	年間商品販売額	駅周辺に立地する割合	住宅地区に立地する割合
(A)	35,096	64,805 億円	11.7%	30.4%
(B)	1,413	60,138 億円	22.7%	6.4%
(C)	430,158	431,576 億円	11.2%	22.1%

- ア (A) —コンビニエンスストア (B) —総合スーパー (C) —専門店
 イ (A) —コンビニエンスストア (B) —専門店 (C) —総合スーパー
 ウ (A) —総合スーパー (B) —専門店 (C) —コンビニエンスストア
 エ (A) —総合スーパー (B) —コンビニエンスストア (C) —専門店
 オ (A) —専門店 (B) —総合スーパー (C) —コンビニエンスストア
 カ (A) —専門店 (B) —コンビニエンスストア (C) —総合スーパー

(5) 下線部(d)に関して、次の各問いに答えなさい。

- i) 企業は、利益の追求を目的として経済活動を行います。近年は、利益だけを目的とするのではなく、企業が社会に与える影響に責任をもち、社会に対して貢献をしていくべきであるという考え方が広がっています。このような考え方を「企業の社会的責任(英語で略してCSR)」と呼びますが、次のア～エのうち、企業のCSR活動として**適当でないもの**を1つ選び、記号で答えなさい。

- ア 家具や寝具を製造するメーカーが、地震で被害を受けた地域への支援物資として、毛布や布団^{ふとん}を寄贈しました。
 イ 地域の企業が、ふるさとの文化や伝統などを継承・発展させる活動として、夏祭りのあんどんを作成する費用を支出しました。
 ウ 大手のスーパーマーケットが、再開発された鉄道駅に直結する大規模なショッピングセンターをオープンさせました。
 エ 都心部の大手不動産会社が、山間部の小さな小中学校や特別支援学校で、クラシック音楽のコンサートを行い、子どもたちが身近に音楽に触れられる機会をつくりました。

ii) 企業はその国の経済の大きな流れを作る、とても重要な組織です。しかし、企業には守らなければならないルールがいくつもあり、それからはみ出したことをしてしまうのは許されません。特に、その企業で働く人たちが、「自分たちの立場は守られるのだろうか」「突然解雇されたりしないだろうか」という不安な気持ちをもつことがあるかもしれません。そのような不安を解消するため、働く人たちは、団結して自分たちの立場を守る団体を結成する権利をもっています。この権利は憲法で保障され、法律でも厚く保護されています。このようにして結成される団体を何といいますか。漢字4字で答えなさい。

(6) 下線部(e)について、ここでいう「市場」とは「商品を買ってくれる人が多い大消費地」という意味です。現在世界では70億人を超える人々が生活しており、彼らの生活を支える多くの商品が日々生産されています。特に工業製品は、先進国を中心に人々の需要が高く、研究が盛んに行われている製品の一つです。右のグラフは、自動車の生産台数の国別推移を示したものです。グラフ中の空らん(A)に適する国の名を正式名称で答えなさい。



(7) 下線部(f)について、国産のワインを生産する工場が、都市にないのはなぜですか。次の文章を参考にして、それらがどこに立てられるのかを含めて、文章にして説明しなさい。

ビールは麦芽やホップなどを原料にしますが、大部分は水です。水は基本的にどこでも得られる原料ですが、そのような原料を「普遍原料」と呼びます。もし、ビールを都市から遠く離れた工場で生産すると、企業は製品の輸送費に高いお金を払うことになります。したがって、普遍原料を利用する場合には、輸送費を節約するために、市場から近いところを選んで工場を立地させることになるのです。

(8) 下線部(g)について、この理由を簡潔に説明しなさい。

(社会の試験問題は次のページに続きます。)

3 次の文を読み、後の問いに答えなさい。

みなさんは、「天下人」という言葉を聞いたことがありますか。天下人とは、全国を統一しようとした人です。それでは、天下人という言葉から、だれを想像しますか。織田信長・豊臣秀吉・徳川家康を考えた人が多いでしょう。その3人について、見ていきましょう。

まず、織田信長は、1534年に守護代の織田信秀の子として尾張に生まれました。18歳で家督を継いで、尾張、次いで(a)美濃を攻略します。その直後に「天下布武」の印章を使い始めました。そして、いよいよ1568年に、室町幕府の15代将軍となる足利義昭をたてて上京しました。その後は、常に政治の中心にあり、右大臣に就任しました。さらに1573年、足利義昭を追放し、室町幕府を滅亡させました。1576年には(b)安土城を築き始めて天下統一を進めていきます。しかし、1582年に家臣の(①)の謀反により、本能寺で死去しました。49歳でした。

信長の後を受けた秀吉は、信長より3年遅れた1537年に尾張の足輕、木下弥右衛門の子として生まれました。信長に出会い、その努力と機転のよさで、めきめきと頭角をあらわして信長の有力武将となっていきます。(c)信長亡き後、織田家の家臣間の争いを勝ち抜き、1585年に関白となり、翌年には(②)にまで上りつめました。そして1590年の小田原攻めと、その後の陸奥の会津への遠征により、とうとう(d)天下統一を成しとげるのです。ついで、「唐入り」を掲げて朝鮮に出兵しますが、その夢は果たすことができませんでした。1598年に(e)伏見城において62歳で亡くなりました。

最後に、徳川家康は、秀吉に遅れること5年、1542年に尾張の隣国である三河で戦国大名、松平広忠の子として生まれました。6歳から織田信秀、ついで今川義元の人質となりましたが、1560年の織田信長と今川義元の戦いの後に三河へ帰れました。それから、戦国大名として信長と同盟関係を結びますが、秀吉とは対立します。その後、1584年には秀吉と講和を結び、豊臣政権のもとで重要な地位を占めていきます。秀吉の死後に、(f)関ヶ原の戦いをへて、天下をほぼ治めることになるのです。ついで1603年、征夷大將軍に任じられて(g)江戸幕府を開きました。そして1615年には、大坂夏の陣で豊臣氏を滅ぼして、徳川の天下を確固たるものとします。翌年に(h)駿府城で75歳の生涯を閉じました。

織田信長・豊臣秀吉・徳川家康のそれぞれが天下統一に向けて、関係しているところや違いなどを少し取り上げました。3人の天下取りについて、江戸時代に次のような歌があります。

織田がつき、羽柴（豊臣）がこねし天下もち、座って食うは徳の川

この歌から君はどんなことを考えますか。彼らが思い通りに進められたこともあれば、困難にぶつかって考えを大きく変えざるをえないこともありました。それぞれの場面や生き方から学んでいきましょう。

(1) 文中の空らん(①)～(②)に適する語句を漢字で答えなさい。

(2) 下線部(a)について、このときに戦った武将の斎藤氏の説明として正しいものを、次のア～エのうちから1つ選び、記号で答えなさい。

- ア 守護大名として数カ国を領土とし、最強の騎馬隊を持っていました。
- イ 僧侶や油商人から守護代となり、守護大名を追い出しました。そうりよ
- ウ 守護代からのし上がり、5回にわたって川中島の戦いをしました。
- エ 出身はわからないところがありますが、関東の数カ国を支配しました。

(3) 下線部(b)に関して、次の史料は安土の城下町で出された「楽市楽座令」の一部です。この法令では、商人が京都へ往復する際は、安土を通らない「上街道」の通行が禁止され、安土を通り、城下町で宿泊することが定められました。この「上街道」とは、江戸時代の五街道では何街道にあたりますか。街道の名を答えなさい。

- 一、この城下町を楽市とする。座の規制や雑税などの諸税はすべて免除する。
- 一、商人は上街道の通行を禁止する。京都への往復には安土城下で宿をとること。
- 一、信長の領国において、借金などの廃棄を行っても、この町は除外する。

(4) 下線部(c)に関して、秀吉は（ ① ）の人物を山崎の合戦で破りました。山崎は京都盆地の西部にあり、古来水陸交通の要地で、山城も築かれました。山崎の合戦では、秀吉と（ ① ）の人物がこの山城をめぐる戦い、勝った秀吉が天下統一を実現していきました。この故事から、現在でもこの山の名が「勝敗や運命の重大な分かれ目」を^{ひゅ}を比喻する語として用いられます。この山の名を答えなさい。

(5) 下線部(d)に関して、秀吉は1583年に大坂城を築いて、ここを根拠地として天下を統一しました。現在の大坂城の天守閣は、昭和6年に完成した鉄筋コンクリート造りで、高さが54.8mある近代的な建築物です。次の図は、現在の大坂城を上空から撮影したものですが、このように高層建築物や原野などを上空から撮影でき、数年後には遠隔地に荷物を配送する計画もある小型無人機を何といいますか。カタカナで答えなさい。



(6) 下線部(e)に関して、伏見城は桃山文化を代表する城郭建築でしたが、当時のものは現存していません。桃山文化を現在に伝える城郭には、姫路城や犬山城があり、京都にある二条城の二の丸御殿も桃山文化を代表する建築です。二条城は、歴代の徳川将軍が京都に上った際の居城になりました。この二条城で、1867年に倒幕の動きが強まる中、第15代将軍の徳川慶喜は、前土佐藩主山内豊信の意見を入れて、どのようなことをしましたか。漢字で答えなさい。

(7) 下線部(f)について、この戦いが何年にあり、どのような人物を中心とする陣営で戦われ、どのような結果になったかを、文章にして説明しなさい。

(8) 下線部(g)に関して、江戸は1868年に東京と改められました。それからおよそ150年が経った2016年に、東京で初めて世界文化遺産の登録がありました。それは、近代建築の巨匠であるフランス人建築家ル・コルビュジエが設計した日本国内唯一の建築作品で、1959年に完成したものでした。次の図は、その建築作品です。世界遺産になったル・コルビュジエの建築作品は7か国17作品にまたがり、日本にある作品は、他の海外の16作品とともに、一括して世界文化遺産に登録されました。この建築作品（建物）の名を答えなさい。



(9) 下線部(h)に関して、家康が祀^{まつ}られている東照宮は駿府の久能山の他に、日光にもあります。日光東照宮には、無数の彫刻がほどこされた絢爛^{けんらん}な国宝の門があります。この門は、2017年に大規模な修復を終え、彫刻などが色鮮やかになりました。この門は、その素晴らしさに見とれて、いつまでも見飽^あきないことから、「日暮^{ひぐらし}の門」ともいわれます。この門の名を答えなさい。

(社会の試験問題は次のページに続きます。)

4 次の文を読み、後の問いに答えなさい。


(あ)



(い)



(う)



日本各地には、戦乱や災害などで亡くなった人々を供養する慰霊塔、首塚などと呼ばれるものが多くあります。図(あ)は蘇我入鹿の首塚とされている五輪塔で、(a)大化の改新の際、当時の都であった飛鳥板蓋宮で中大兄皇子らに殺害された時、入鹿の首が飛んできた場所、入鹿の首が(①)を追いかけてくるので、供養のために埋めた場所など諸説あります。しかし、五輪塔そのものは鎌倉時代から室町時代前半に建てられたと考えられています。この五輪塔は、奈良県高市郡明日香村にある蘇我氏の氏寺である(b)飛鳥寺の西門から約100mのところにあります。同じ明日香村の茂古森という所にも入鹿の首塚があり、ここも入鹿の首が飛んできたとの言い伝えがあります。さらに、奈良県の橿原市小綱町には入鹿神社があります。入鹿は、中国から帰国した南淵請安の開いた塾で儒教を学び、そこで(①)に並ぶ秀才であったことから、この神社で入鹿は(c)学問の神として祀られています。神社のある小綱町にも、やはり入鹿の首が飛んできたという言い伝えがあります。入鹿は鶏の鳴き声を合図に中大兄皇子や(①)が襲って首をはねたので、昔の小綱では鶏を飼わない、小綱で生まれた人が(①)を祀る談山神社のある奈良県桜井市多武峰に行くと腹痛を起こす、さらに入鹿の首が飛んできたことから、入鹿神社にお参りすると、首から上の病気にご利益があるとされています。橿原市は「蘇我」「曾我」という地名が残り、蘇我氏との縁の深さを物語ると同時に、694年に(d)持統天皇が唐の(②)を模倣し、

大和三山に囲まれた藤原京が営まれた地でもあります。さらに入鹿の首塚は、奈良県にとどまらず、三重県(e)松阪市飯高町^{いいたかちょう}にも入鹿の首塚と呼ばれる五輪塔があります。言い伝えでは、奈良県との境にある高見山に入鹿の首が飛んできたのを祀ったということですが、鎌を持って高見山に登ると、(①)を連想させるので禁じられており、禁を破ると必ずケガをする、また五輪塔に詣^もでると頭痛が治るなどとも言われているそうです。

図(い)は東京都千代田区にある(③)の首塚です。(③)の本拠は現在の茨城県猿島郡^{さしま}と考えられ、一族と争いを繰り返すうちに、国司とも対立するようになり、939年に反乱を起こしました。(③)は東国の大半を占領し、自らを新皇と称しましたが、同じ東国武士によって討たれました。首は平安京に運ばれてさらされましたが、首塚のある地に飛んできた、縁のある人が祀ったとも言われますが、(f)1923年の関東大震災により損壊しました。現在はオフィスビルに囲まれています。首塚一帯は木が茂り、多くの蛙^{かえる}の置物があります。平安京から飛んで帰ってきたという言い伝えから、「帰る」を「蛙」にかけているとされ、周辺のオフィスビルでも、首塚を見下ろすような窓を設けない、尻を向けて座らないようデスクの配置がされていたなどと言われていました。

鎌倉幕府の打倒を目指す後醍醐天皇が、「ある日、うたた寝をしていると、夢の中に広い庭が現れ、多くの役人や武士が庭園内の宴席に着いていく光景が見えた。自分の席を探していると、どこからともなく現れた美しい童子^{どうじ}が、『主上^{しゅじょう}の御座^{おざ}は、南向きのあの立派な大樹^{たいじゆ}の下に御座^{ござ}います』と言った。目を覚ました天皇は、これを神のお告げ^つと考えて謎解き^{なぞと}を行ったところ、あの夢は『南の木』すなわち『楠』という者を頼りとせよという神意^{しんい}に違いない、との心証を得た。側近に聞けば、この近くに(④)という武勇の者が住んでいるという。さっそくこの者を召し出すこととなった。」と『太平記』に記されています。図(う)はその(④)の首塚で、大阪府河内長野市の観心寺にあります。(④)は鎌倉時代の後半、近畿を中心に現れた荘園領主や幕府などの支配層に対して武力で抵抗する新興武士勢力の一人で、奇襲戦法^{かへい}を得意とし、「寡兵^{かへい}(少ない兵力)よく大軍を破る」を具現化した代表的な存在と言えるでしょう。

全国には慰霊塔や首塚だけでなく、さまざまな歴史的遺物や場所などがあります。言い伝えなど真実かどうか分からないものも多いですが、逆に分からないからこそ、想像したり調べたりする楽しさが、歴史にはあるのではないのでしょうか。

(1) 下線部(a)について述べた文として正しいものを、次のア～エのうちから1つ選び、記号で答えなさい。

ア 神の意志を聞くことに長けていたと考えられる巫女が、その呪術的権威を背景に政治を行うようになりました。

イ 中央・地方の豪族を大王中心の支配体制に組み入れるため、氏姓制度と呼ばれる家柄を重視する制度を定めました。

ウ 豪族たちに国家の官僚としての自覚を求めるとともに、仏教が新しい政治理念として重んじられました。

エ 公地公民制への移行を目指す政策方針が示され、中央への権力の集中を進める諸改革が実行されました。

(2) 文中の空らん (①) に関して、1934 年、大阪府高槻市の阿武山古墳から、60 歳くらいの金糸のきらびやかな装飾をまとった男性の遺骨が発見され、「貴人の墓」と話題を集めました。1982 年には、発見当時のX線写真が見つかり、また男性は肋骨を3本折っていたことがわかり、『日本書紀』に (①) の人物は、落馬後に亡くなったという記述があること、また、金糸の装飾は歴史上 (①) にしか与えられていない「大織冠」の可能性があることから、阿武山古墳に埋葬されていたのは、(①) ではないかという説へと発展しましたが、いまだ特定されるには至っていません。いずれにしても、中大兄皇子と協力して蘇我氏を倒し、死に際して天皇から「大織冠」という位と、「藤原」という姓を与えられたのが (①) の人物です。この人物の名を藤原という姓を使わずに漢字で答えなさい。

(3) 下線部(b)の寺は 596 年、入鹿の祖父にあたる蘇我馬子によって^{こんりゅう}建立された日本で最初の本格的な寺院で、3 つの金堂が塔を囲む大寺で、^{ほうこうじ}法興寺・^{がんこうじ}元興寺とも呼ばれます。平城京の遷都に際し、奈良の地に新たに元興寺が建立されて以降は、^{もとがんこうじ}本元興寺と呼ばれました。1196 年の落雷で発生した火災によって金堂と塔を焼失、現在の本堂は江戸時代後半の 1825 年に再建されました。本尊の^{しゃかによらいぞう}釈迦如来像は日本で最古の仏像であるとともに、「飛鳥大仏」の名で親しまれています。次のア～エのうちから、飛鳥寺釈迦如来像(飛鳥大仏)を 1 つ選び、記号で答えなさい。

ア



イ



ウ



エ



(4) 下線部(c)に関して、右大臣であった菅原道真の建議によって、長く続いた遣唐使が 894 年に廃止されました。遣唐使が廃止された理由には、どのようなことがありましたか。簡潔に説明しなさい。

(5) 下線部(d)に関して、鎌倉時代の歌人である藤原定家が、京都の小倉山^{おぐらやま}の別荘で、百人の歌人の和歌を一人一首ずつ選んでまとめたものを「小倉百人一首」といい、1 番の天智天皇の歌から 100 番の順徳上皇の歌まで、おおむね年代順に番号が付けられています。2 番が持統天皇の詠んだ歌ですが、次のア～エのうちから、持統天皇の詠んだ歌を 1 つ選び、記号で答えなさい。

- ア 田子の浦に うち出^いでて見れば 白妙^{しろたへ}の 富士^{たかね}の高嶺に 雪は降りつつ
イ 国々の 防人つどひ 船乗りて 別^{わか}るを見れば いともすべ無し
ウ 春過ぎて 夏^き来にけらし 白妙の 衣ほすてふ 天^{あま}の香具山^{かぐやま}
エ わが妻は いたく恋ひらし 飲み水に 影さへ見えて 世に忘れず

(6) 文中の空らん (②) に入る中国の古都は、藤原京だけでなく平城京・平安京の都造りの模範となりました。また、中国を統一した漢の首都となつて以降、多くの王朝の都となり、唐の時代に最も栄え、人口は 100 万人以上になったとされます。この古都は、シルクロードの起点ともされ、国際色豊かな都市でもありました。この都市の名を漢字で答えなさい。

(7) 下線部(e)に関して、1730 年に松坂の商人の家に生まれながら医師となり、医師として生活するかたわら、『源氏物語』など日本の古典や言葉を研究し、自宅を私塾「鈴の屋」として多くの弟子に講義しました。また『古事記』の研究に力を注ぎ、約 35 年かけて全 44 巻からなる『古事記伝』を作成しました。この人物の名を答えなさい。

(8) 文中の空らん (③) と同じころ、瀬戸内海^{せと}の海賊と結んで、元国司だった藤原純友^{すみとも}が西国で反乱を起こしました。(③) と藤原純友^{すみとも}の反乱を合わせて当時の元号から「承平^{じょうへい}・天慶^{てんぎょう}の乱」と言います。(③) に入る人物の名を漢字で答えなさい。

(9) 下線部(f)に関して、次の各問いに答えなさい。

- i) 1923 年は大正 12 年ですが、大正～昭和初期にかけて都市化が進み、大衆文化と称されるように一般大衆が文化^{文化}の担い手となりました。また、大正デモクラシーの風潮の下で欧米諸国の思想や文学などが紹介され、人々の間に広まりました。このころの社会や文化について、次のア～エのうちから**適当でないもの**を 1 つ選び、記号で答えなさい。

- ア 電灯が農村部も含めて一般家庭に広く普及し、都市では水道やガスの供給事業が本格化しました。
イ 「サンデー毎日」や「週刊朝日」などの週刊誌、「主婦之友」などの女性雑誌のほか、一般の投資家向けに「週刊ダイヤモンド」なども刊行されました。
ウ それまでの太陰暦が廃止され、欧米諸国にならって太陽暦を採用し、1 日を 24 時間とし、日曜を休日とするなど、長く続いた慣習が改められました。
エ 東京の銀座、大阪の心斎橋^{なんば}などでは、断髪^{だんぱつ}にスカート、山高帽^{やまたかぼう}にステッキといったファッションのモダンガールやモダンボーイが現れました。

- ii) 9月1日は関東大震災が起きた日であること、1959年9月の紀伊半島から東海地方を中心とした台風で全国的に大きな被害が出たことから、1960年に「政府、地方公共団体等関係諸機関をはじめ、広く国民が台風、高潮、津波、地震等の災害についての認識を深め、これに対処する心構えを準備する」という目的で、防災の日と定められました。防災の日を定める原因となった1959年9月の台風を何とといいますか。正しいものを次のア～エのうちから1つ選び、記号で答えなさい。

ア ^{とうや}洞爺丸台風 イ 伊勢湾台風 ウ 狩野川台風 エ ^{おきのえらぶ}沖永良部台風

- iii) 地震や台風などの自然現象を監視・予測し、的確な情報を国民に伝達する官庁で、国土交通省に所属する機関の名を漢字3字で答えなさい。

- iv) 1921年～22年にかけて開かれた初の軍縮に関する会議であるワシントン会議で、太平洋地域の平和に関する条約が結ばれました。この際に、1902年に日本がある国と結んだ同盟が廃棄されることになり、1923年8月に失効しました。この同盟の名を漢字で答えなさい。

- (10) (④) の人物についての説明として正しいものを、次のア～エのうちから1つ選び、記号で答えなさい。

ア 御家人の統率や軍事を担当する侍所の長官でしたが、北条氏と対立し、鎌倉で市街戦を展開しました。しかし、敗れて一族はほぼ滅亡しました。

イ 源氏の血を引く御家人でしたが、幕府に反旗を^{ひるがえ}翻し、1333年に鎌倉を攻めました。その際、^{いなわらがさき}稲村ヶ崎で^{たち}太刀を海に投じると、龍神が潮を引かせたという伝説もあります。

ウ 源氏の血を引く御家人でしたが、幕府に反旗を翻し、1333年に六波羅探題を滅ぼしました。後醍醐天皇が亡くなると、冥福を祈るため天龍寺を建てました。

エ 赤坂城や千早城で鎌倉幕府の大軍を相手に奮戦した悪党で、1333年の幕府打倒の立役者の一人になりましたが、1336年の湊川の戦いで敗死しました。

1

(1)

①

②

(2)

(3)

(4)

(5)

(6)

(7)

(8)

(9)

(10)

i)

ii)

(11)

⑧

⑨

2

(1)

①

②

(2)

i)

ii)

(3)

i)

ii)

(4)

(5)

i)

ii)

(6)

(7)

(8)

3

(1)

①

②

(2)

(3)

(4)

(5)

(6)

(7)

(8)

(9)

4

(1)

(2)

(3)

(4)

(5)

(6)

(7)

(8)

(9)

i)

ii)

iii)

iv)

(10)

			得点
受験番号	小学校名	氏名	
	小学校		