

令和8年度 前期入学試験問題

社 会

答えは解答用紙に記入すること。

受 験 番 号

1 次の文章を読んで、後の問いに答えなさい。

昨年は、①世界中から多くの人々が日本をおとずれました。2020年1月からの新型（あ）ウイルスによる感染拡大の影響を受け、一時期外国人観光客は減少しましたが、最近では日本に興味を持ち、国土のおよそ（い）が山地である②自然豊かな日本をおとずれたいと願う外国人が増えているそうです。③日本の国土は領土の面積では世界で61位ですが、領海と（う）を足した面積だと世界で6位の広さになり、自然だけでなく水産資源に恵まれた国でもあります。

また、日本は、外国との④貿易がさかんで、さまざまなものを⑤輸入または⑥輸出しています。その中で、最近では、⑦貿易に関わる制限を減らし、自由な貿易を行うことで、各国の産業や交流をさかんにしようとする動きが活発化しています。

現在、経済的に豊かな日本ではありますが、これからますます、<sup>しょうしこうれいか</sup>少子高齢化が進むため、⑧情報通信技術を生かした社会づくりを進めていかなければなりません。また、世界の中でも⑨自然災害の多い日本では、災害への備えも十分に行う必要があります。

社会のすべての人々がしあわせに暮らしていくために、私たちに何ができるのか、一人一人が<sup>しんけん</sup>真剣に考えていくことが大切です。

(1) 文章中（あ）にあてはまる語句を答えなさい。

(2) 下線部①について、以下の国々に関連する最も適した写真を次のア～エの中から1つずつ選び、それぞれ記号で答えなさい。

【フランス】

【ペルー】

【エジプト】

【オーストラリア】

ア




イ



ウ



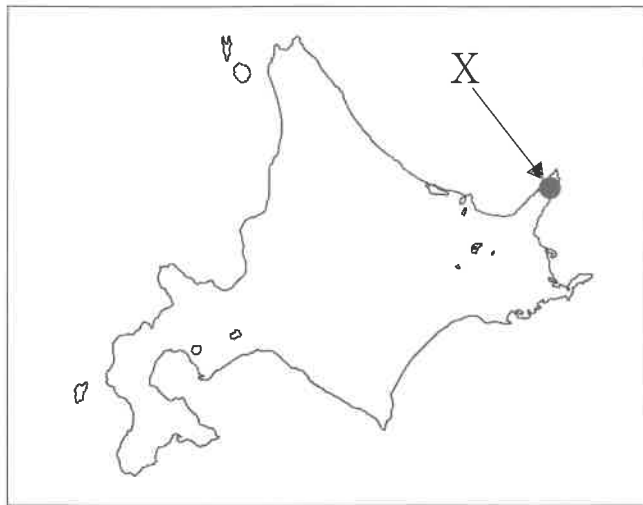
エ



(3) 文章中 ( い ) にあてはまる数字として正しいものを次のア～エの中から1つ選び、記号で答えなさい。

- ア 4分の3      イ 5分の3      ウ 6分の5      エ 2分の1

(4) 下線部②について、地図中Xの世界自然遺産の名称を漢字2字で答えなさい。



(5) 下線部③について、次のア～エの中から正しいものを1つ選び、記号で答えなさい。

- ア 日本はユーラシア大陸の東に位置する。  
イ 日本の北のはしのはしの沖ノ鳥島から西のはしの与那国島まで約3300 kmである。  
ウ 日本は、東と南が大西洋に面している。  
エ 択捉島<sup>えとろふとう</sup>は、現在中国が不法に占拠<sup>せんきょ</sup>している。

(6) 文章中 ( う ) は、領海の外側に位置する水産資源や鉱産資源を自分の国だけが利用できる水域があてはまります。この水域の名称を漢字で答えなさい。

(7) 下線部④について、日本で一番貿易額が大きい港として正しいものを、次のア～エの中から1つ選び、記号で答えなさい。(2021年 財務省資料より)

- ア 横浜港      イ 関西国際空港      ウ 成田国際空港      エ 名古屋港

(8) 下線部⑤について、日本は多くの食料を輸入に頼<sup>たよ</sup>っています。日本が食料を輸入している主な相手先とその食料の組み合わせとしてあやまっているものを次のア～エの中から1つ選び、記号で答えなさい。

- ア アメリカー大豆      イ 中国ー野菜  
ウ ブラジルーとり肉      エ フィリピンー小麦

(9) 下線部⑥について、日本は多くの工業製品を輸出しています。日本の工業の特色についてあやまって述べているものを次のア～エの中から1つ選び、記号で答えなさい。

(2021年 経済産業省資料より)

ア 日本にある工場の約98%は中小工場である。

イ 1985年から、日本国内の工場数は増え続けている。

ウ 生産額の大きさでは、大工場が全体の半分以上をしめている。

エ 日本の工業地帯・地域の中で、工業生産額第1位は、中京工業地帯である。

(10) 下線部⑦について、このことを何といいますか。

(11) 下線部⑧について、多くの店で使われている、店の商品の売れ行きの情報を、情報通信技術を活用して管理するためのしくみを何といいますか。

(12) 下線部⑨について、あやまって述べているものを次のア～エの中から1つ選び、記号で答えなさい。

ア 大雪の被害は日本海側で多く発生している。

イ 台風の被害は沖縄や九州、四国地方に多い。

ウ 地震は北海道から九州まで広く発生している。

エ 火山による被害は、近畿地方に多い。

2 次の1～15の文を読んで、後の問いに答えなさい。

- 1 聖徳太子は天皇を中心とした政治のしくみをととのえ、①中国には（あ）たちを使者として送り、対等な国の交わりを結ぼうとしました。
- 2 中国や朝鮮半島での争いをのがれ、日本に移り住んだ（い）たちは、はた織りや土器づくりなどの進んだ技術や漢字、仏教などの文化を伝えました。
- 3 （う）と中臣鎌足は天皇をしのぐほどの勢力を強めた蘇我氏をほろぼし、天皇を中心とする強力な国づくりを進めました。

(1) （あ）～（う）にあてはまる語句をすべて漢字で答えなさい。なお、（あ）、（う）は人物名を答えなさい。

(2) 下線部①の中国の王朝を次のア～エの中から1つ選び、記号で答えなさい。

ア 宋                      イ 元                      ウ 隋                      エ 明

(3) 1～3を時代の古い順に正しくならべかえたものを次のア～カの中から1つ選び、記号で答えなさい。

ア 1→2→3              イ 1→3→2              ウ 2→1→3  
エ 2→3→1              オ 3→1→2              カ 3→2→1

4 学者の（ え ）は、天皇に重く用いられ、遣唐使<sup>けんとうし</sup>を取りやめるように意見をするほどでしたが、それをよく思わない貴族によって、九州へ送られました。

5 将軍と御家人<sup>ごけにん</sup>の関係は、先祖代々の領地を認めたり、新しく領地をあたえるという御恩と、戦いが起これば、「いざ鎌倉<sup>かまくら</sup>」と将軍のもとへかけつけ命がけで戦う（ お ）という強い結びつきによって成り立っていました。

6 （ か ）は仏教の力で社会の不安をはずめて国を治めようと全国に国分寺と国分尼寺<sup>こくぶんにじ</sup>、都には②東大寺をつくりました。

（4）（ え ）～（ か ）にあてはまる語句をすべて漢字で答えなさい。

（5）下線部②について、大仏づくりにもっとも協力した僧<sup>そう</sup>を次のア～エの中から1つ選び、記号で答えなさい。

ア 鑑真<sup>かんじん</sup>                      イ 雪舟                      ウ 空海                      エ 行基

（6）4～6を時代の古い順に正しくならべかえたものを次のア～カの中から1つ選び、記号で答えなさい。

ア 4→5→6                      イ 4→6→5                      ウ 5→4→6  
エ 5→6→4                      オ 6→4→5                      カ 6→5→4

7 ( き ) は徳川家康とともに多数の鉄砲隊<sup>てっぽうたい</sup>をならべて、騎馬隊<sup>きばたい</sup>を中心とする武田軍を破りました。

8 8代将軍 ( く ) のとき、応仁の乱という11年間におよぶ大きな戦乱が起こり、幕府の力は弱まっていきました。

9 ( け ) は百姓<sup>ひやくしょう</sup>への支配を固めるために、各地で検地や刀狩を行い、武士と百姓が区別されていきました。

(7) ( き ) ~ ( け ) にあてはまる人物名をすべて漢字で答えなさい。

(8) ( く ) の人物に最も関連の深い資料を次のア~エの中から1つ選び、記号で答えなさい。

ア



イ



ウ



エ



(9) 7~9を時代の古い順に正しくならべかえたものを次のア~カの中から1つ選び、記号で答えなさい。

ア 7→8→9

イ 7→9→8

ウ 8→7→9

エ 8→9→7

オ 9→7→8

カ 9→8→7

- 10 ③徳川家光は全国の大名に対して1年おきに江戸に住み、将軍を守ることを命じる（こ）の制度を武家諸法度に加えました。
- 11 政府は国会開設に備えて（さ）らをヨーロッパに送り、ドイツなどの憲法を調べさせました。（さ）は内閣の制度をつくり、初代内閣総理大臣となりました。
- 12 もと幕府の役人の（し）は、生活に苦しむ人々を救うために兵をあげ、大阪の大商人のやしきなどに攻め入り、幕府をたいへんおどろかせました。

(10)（こ）～（し）にあてはまる語句をすべて漢字で答えなさい。

(11) 下線部③の人物に最も関連の深い文を、次のア～エの中から1つ選び、記号で答えなさい。

- ア 大名や商人に海外に行くことを許可する許可状（朱印状）をあたえ、貿易に力を入れました。
- イ 関ヶ原の戦いに勝利し、全国の大名を従える幕府の基礎を築いていきました。
- ウ 中国との貿易をするために、兵庫の港をととのえるなど、積極的な政治を行いました。
- エ 九州の島原や天草でキリスト教信者が一揆を起こしましたが、幕府の大軍をもって、これをおさえました。

(12) 10～12を時代の古い順に正しくならべかえたものを次のア～カの中から1つ選び、記号で答えなさい。

- ア 10→11→12      イ 10→12→11      ウ 11→10→12  
エ 11→12→10      オ 12→10→11      カ 12→11→10

- 13 日本とロシアは（ す ）と満州に対する支配権をめぐる対立し、④ <sup>にちろせんそう</sup>日露戦争が起きました。  
日露戦争後、日本は、（ す ）に対する支配を強め、外交や政治の実権をにぎり植民地としました。
- 14 1941年12月8日、日本はイギリス領マレー半島とハワイの <sup>しんじゆわん</sup>真珠湾にあったアメリカ軍基地を <sup>こうげき</sup>攻撃し、  
（ せ ）戦争が始まりました。
- 15 1945年4月アメリカ軍は⑤ 沖縄島に上陸し、3か月におよぶ激しい地上戦が行われました。そして、  
8月6日には広島、8月9日には長崎に人類史上初の（ そ ）を投下しました。

(13) （ す ）～（ そ ）にあてはまる語句をすべて漢字で答えなさい。ただし、（ す ）は漢字2字、  
（ そ ）は漢字4字でそれぞれ答えなさい。

(14) 下線部④が起こる前に、日本が同盟を結んだ国はどこですか。次のア～エの中から1つ選び、記号で  
答えなさい。

ア アメリカ                      イ イギリス                      ウ フランス                      エ ドイツ

(15) 下線部⑤について述べた文として **あやま**っているものを、次のア～エの中から1つ選び、記号で答え  
なさい。

- ア 戦前、生活に苦しむ農民や仕事を失った人たちが沖縄での豊かな暮らしを夢見て移住した人が多  
かった。
- イ 沖縄戦では、子どもや女性、高齢の住民までもが <sup>せんとう</sup>戦闘に <sup>こ</sup>巻き込まれ多くの <sup>ぎせいしゃ</sup>犠牲者がでた。
- ウ 沖縄は戦争が終わってから20年以上たってアメリカから日本に <sup>へんかん</sup>返還された。
- エ 沖縄では現在も多くのアメリカ軍基地が残されている。

3 2025年日本国際博覧会（大阪・関西万博）に行った小学6年生の近中育三さんは、アメリカ館を訪れ、日本とアメリカとの関係について、これまでに習ったことを思い出したり、さらに調べたりして、その内容をまとめました。次の文章を読んで、後の問いに答えなさい。

日本にとってアメリカは最も関係の深い国の一つです。江戸時代終わりに開国して以来、さまざまなことが日米間でありました。日本にとって  自主権がないなどの不平等な内容の条約を結び、貿易を始めることになりました。また、①戦争をしたこともありました。

1970年に②大阪府で開かれた日本万国博覧会では、アメリカ館に「月の石」が展示され、連日、長い列ができるほどの人気を集めました。「月の石」は、③2025年の大阪・関西万博でもアメリカ館で再び展示されました。そして、④2011年の東日本大震災の際は、トモダチ作戦を展開し、支援してくれました。現在はとても密接な関係を築いています。

しかし、まったく問題がないわけではありません。再度、大統領に就任したドナルド・トランプは、アメリカ経済に悪影響を与え、不公平な負担を強いると主張して、⑤気候変動に関する国際的な枠組みから脱退すると表明したり、アメリカへの輸入品に対する大幅な  の引き上げを発表したりしました。これらのことは、日本のさまざまな会社や私たちの暮らしにも影響があるはずです。次はこのことについて気になるので、調べていきたいです。

(1) 下線部①について、アメリカとの戦争後、日本では新しい憲法が公布されました。日本国憲法の3つの原則のうち、外国との争いごとを武力で解決せず、そのための戦力をもたないとする考えを何といいますか、漢字で答えなさい。また、その内容が記されているのは日本国憲法の第何条ですか、数字を答えなさい。

(2) 下線部②について、大阪府をはじめ、日本のそれぞれの地域にはさまざまな課題があり、地域の人たちの願いを実現していくうえで多くのお金（予算）が必要になります。そのことについて、次の問いに答えなさい。

I 住民や会社などから集められ、地域住民の代表が集まる議会の話し合いによってその使い道が決められるお金を何といいますか、漢字2字で答えなさい。

II 日本における国の予算の中で最も多くを占めているものを、次のア～エの中から1つ選び、記号で答えなさい。

ア 子育て支援や高齢者福祉など

イ 学校教育の充実など

ウ 道路や公園の整備など

エ 借りたお金を返すための費用

(3) 下線部③について、2025年大阪・関西万博のテーマは何ですか、次のア～エの中から1つ選び、記号で答えなさい。

ア 人類の進歩と調和

イ いのち輝く未来社会のデザイン

ウ 水と持続可能な開発

エ 心をつなぎ、未来を創る

(4) 下線部④について、このときの地震とその後の津波により、太平洋沿岸にある原子力発電所が爆発事故を起こし、大量の放射性物質がもれ出す大きな被害をもたらしました。この発電所がある都道府県はどこですか、次のア～エの中から1つ選び、記号で答えなさい。

- ア 岩手県                      イ 宮城県                      ウ 福島県                      エ 茨城県

(5) 下線部⑤について、2025年1月にアメリカが脱退を表明した、2020年以降の地球温暖化対策の目標を定めた気候変動に関する国際的な枠組みを何とといいますか、次のア～エの中から1つ選び、記号で答えなさい。

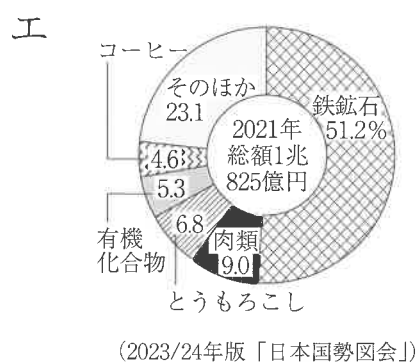
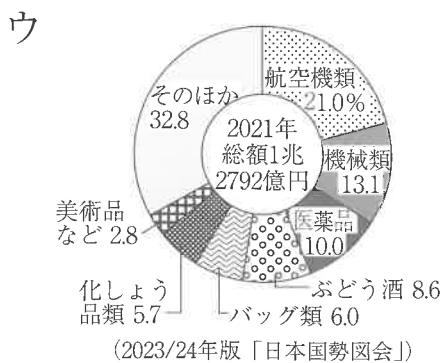
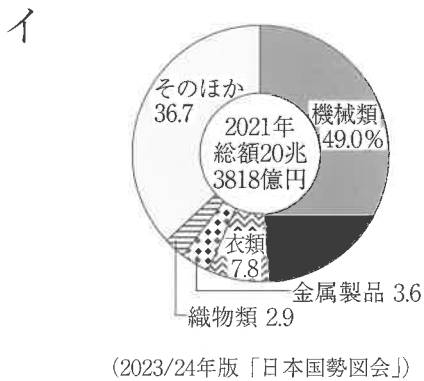
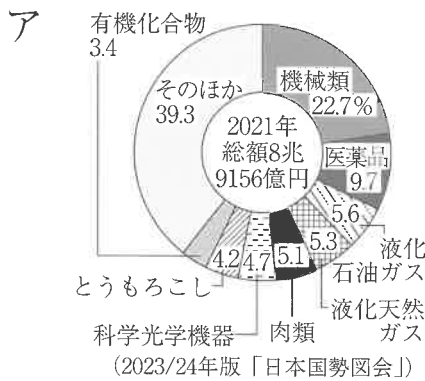
- ア ラムサール条約                      イ パリ協定  
ウ 世界自然遺産条約                      エ COVID-19

(6) 文章中の A に入る適切な語句を漢字で答えなさい。

(7) アメリカについて、次の問いに答えなさい。

I アメリカは建国以来、多くの移民を受け入れてきたこともあり、ますますグローバル化が進んでいます。仕事をはじめ、さまざまな理由で多くの人々が集まってできている社会を何とといいますか、漢字で答えなさい。

II 日本のアメリカからの輸入品をあらわしたグラフを、次のア～エの中から1つ選び、記号で答えなさい。





受験番号		名前	
------	--	----	--

26113

↓ここにシールを貼ってください↓

令和8年度〔社会〕前期入学試験問題 解答用紙



1

(1)												
(2)	フランス			ペルー			エジプト			オーストラリア		
(3)		(4)		(5)								
(6)							(7)		(8)		(9)	
(10)							(11)				(12)	

2

(1)	あ		い		う		(2)		(3)	
(4)	え		お		か		(5)		(6)	
(7)	き		く		け		(8)		(9)	
(10)	こ		さ		し		(11)		(12)	
(13)	す		せ		そ		(14)		(15)	

3

(1)					第				条	
(2)	I		II		(3)			(4)		
(5)			(6)							
(7)	I				II					