

令和6年度 前期入学試験問題

# 社 会

答えは解答用紙に記入すること。

受 験 番 号

1 次の資料を見て、後の問いに答えなさい。

[資料1：都道府県の特徴]

- A. この都道府県は、昔から①造船業がさかんに行われていました。人類史上最初の原子爆弾<sup>ばくだん</sup>が投下され、原爆ドームは世界遺産に認定されました。また、2023年5月には先進国首脳会議（サミット）が開催<sup>かいさい</sup>されました。
- B. この都道府県は、冬に開催される「雪まつり」などのイベントや豊かな②自然を見に、多くの観光客が訪れます。また、十勝地方では広い面積を生かした③農業が、根室市では④漁業がさかんに行われています。
- C. この都道府県の海津市<sup>かいづ</sup>の、揖斐川<sup>いび</sup>・（あ）川・木曾川<sup>きそ</sup>にはさまれた土地の多くは、海面より低く、日本を代表する低地の一つです。低地であるためにこう水などの⑤水害が多く発生していましたが、治水工事を行うことで水害を大きく減らすことに成功しました。
- D. この都道府県は、北九州工業地帯の中心で、荻田町<sup>かんだまち</sup>にある工場では、大量の自動車を生産しています。久留米市<sup>くろめし</sup>では⑥自動車の部品であるタイヤが生産されています。
- E. この都道府県の⑦鯖江市<sup>さばえ</sup>では昔から、ある工業製品の生産がさかんです。国内生産の90%以上をこの都道府県がしめ、鯖江市はその中心となる産地となっています。産地ブランドとして「THE 291」をつくり、全国に流通しています。

(1) 資料1で説明されているA～Eの都道府県名をそれぞれ漢字で答えなさい。

(2) 下線部①について、Aの都道府県で造船業がさかんな場所として正しいものを次のア～エの中から1つ選び、記号で答えなさい。

ア 呉市<sup>くれ</sup>                      イ 堺市<sup>さかい</sup>                      ウ 掛川市<sup>かけがわ</sup>                      エ 盛岡市

(3) 下線部②について、水鳥などのすみかとして大切な湿地を守るための国際的な取り決めに何といますか、答えなさい。

(4) 下線部③について、資料2のように、作物の病気を防ぐために、一つの畑に去年と違うものを植える農業のやりかたを何といいますか、漢字で答えなさい。

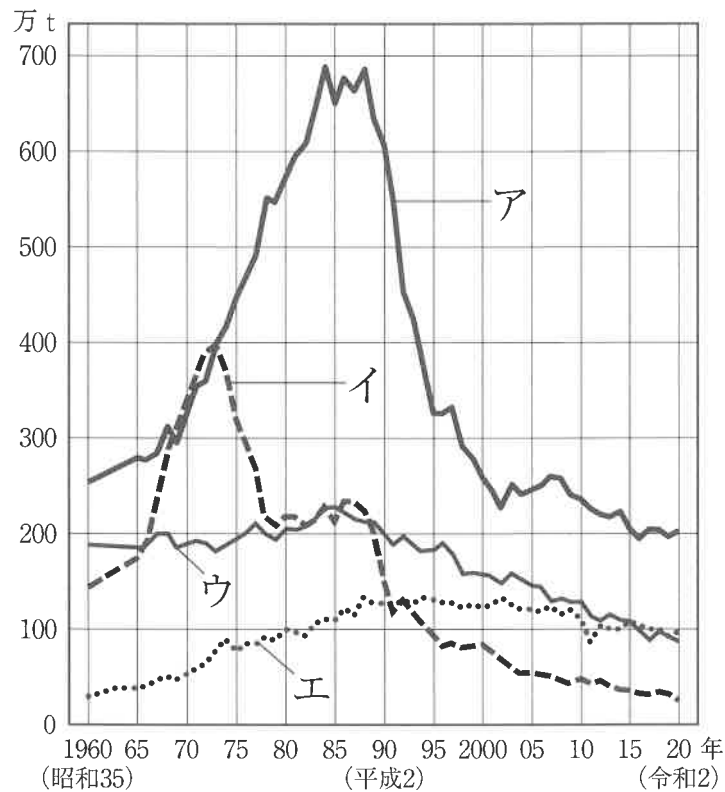
〔資料2〕

	畑 a	畑 b	畑 c	畑 d	畑 e
1年目	じゃがいも	小麦	てんさい	スイートコーン	あずき
2年目	小麦	てんさい	スイートコーン	あずき	じゃがいも
3年目	てんさい	スイートコーン	あずき	じゃがいも	小麦
4年目	スイートコーン	あずき	じゃがいも	小麦	てんさい
5年目	あずき	じゃがいも	小麦	てんさい	スイートコーン

(5) 下線部④について、プランクトンが豊富で魚が多く集まる水深が200mぐらいまでのゆるやかな斜面の海底を何といいますか、答えなさい。

(6) 下線部④について、資料3は漁業別の生産量の変化を表したものです。遠洋漁業について表しているものを資料3中のア～エの中から1つ選び、記号で答えなさい。

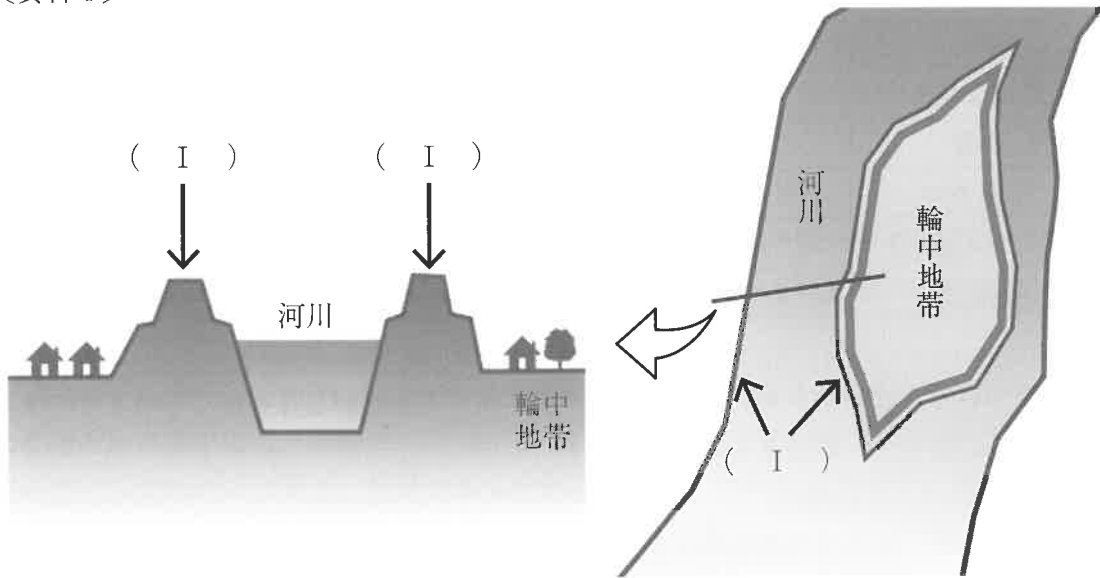
〔資料3〕



(農林水産省「漁業・養殖業生産統計」より)

- (7) 下線部⑤について、資料4の( I )のような、水害から人々の生活を守るために土地を囲むように土砂を盛り上げてつくられたものを何といいますか、漢字2文字で答えなさい。

[資料4]



- (8) 資料1中の( あ )に当てはまる語句を漢字で答えなさい。

- (9) 下線部⑥について、自動車の部品をつかって自動車工場へおさめる工場を何といいますか、<sup>かいとうらん</sup>解答欄に合わせて漢字で答えなさい。

- (10) 下線部⑥について、自動車の組み立てに必要な部品を必要な時刻までに必要な数と種類だけ組み立て工場に届けるといふ考え方を何といいますか。次のア～エの中から正しいものを1つ選び、記号で答えなさい。

ア ハザードマップ

イ スマートコミュニティ

ウ バイオマス

エ ジャスト・イン・タイム

- (11) 下線部⑦について、鯖江市でおもに生産されているものとして正しいものを次のア～エの中から1つ選び、記号で答えなさい。

ア かばん

イ 着物

ウ めがね

エ <sup>はもの</sup>刃物

2 次の1～15の文を見て、後の問いに答えなさい。

- 1 大阪府にあるこの古墳<sup>こふん</sup>は、日本で最も大きな前方後円墳であり、つくられた当時は表面に石がしきつめられ、数多くのはにわが並べられていたとされています。
- 2 静岡県にあるこの遺跡<sup>いせき</sup>には、水田やむらのあとが残されており、人々は集団で生活しながら①米づくりをさかんにおこなっていたことがわかります。
- 3 青森県にあるこの遺跡<sup>いせき</sup>には、竪穴住居<sup>たてあな</sup>を建てて多くの人々が生活していた集落のあとが見つかっており、くりやくるみなどをさいばいしていたこともわかっています。

(1) 1～3の遺跡、および古墳<sup>こふん</sup>の名称<sup>めいしょう</sup>をすべて漢字で答えなさい。

(2) 下線部①と関連が深いものとしてあやまっているものを次のア～エの中から1つ選び、記号で答えなさい。

ア 田げた                      イ 高床倉庫                      ウ 鉄刀                      エ 石包丁

(3) 1～3を時代の古い順に正しくならべかえたものを次のア～カの中から1つ選び、記号で答えなさい。

ア 1→2→3                      イ 1→3→2                      ウ 2→1→3  
エ 2→3→1                      オ 3→1→2                      カ 3→2→1

- 4 聖徳太子は豪族の蘇我氏とともに天皇を中心とする政治のしくみを整えていき、役人の位を12段階に分けて家柄ではなく能力によって取り立てる（あ）の制度をつくりました。
- 5 中国や朝鮮半島から日本に移り住んだ（い）によって、鍛冶や建築などの進んだ技術や、漢字といった新しい文化が日本にもたらされました。
- 6 ② 聖武天皇が仏教の力によって社会の不安をはずめて国を治めようとしていたころ、（う）という僧が農民に仏教の教えを説くとともに、道路やため池などをつくって農民の暮らしを助けていました。

(4) (あ)～(う)にあてはまる語句をすべて漢字で答えなさい。

(5) 下線部②について、最も関連の深い写真を次のア～エの中から1つ選び、記号で答えなさい。

ア



イ



ウ



エ



(6) 4～6を時代の古い順に正しくならべかえたものを次のア～カの中から1つ選び、記号で答えなさい。

- |         |         |         |
|---------|---------|---------|
| ア 4→5→6 | イ 4→6→5 | ウ 5→4→6 |
| エ 5→6→4 | オ 6→4→5 | カ 6→5→4 |

- 7 元寇<sup>げんこう</sup>において、日本の武士たちは元軍の集団戦術や、火薬兵器である（ え ）に苦戦しながらも、  
③幕府からの恩賞を得るために必死に戦い、2度にわたり元軍を退けることができました。
- 8 全国の大名を取りしめる（ お ）という決まりをつくり、また各地の大名を親藩<sup>しんぱん</sup>・譜代<sup>ふだい</sup>・外様<sup>とざま</sup>に分けて  
配置するなどして、幕府のしくみを整えていきました。
- 9 幕府によって明との貿易が積極的におこなわれる中で、文化や芸術も保護され、例えば障子やふすまをそ  
なえた（ か ）といった建築様式など、現在の日本でも見られる文化が発達しました。

(7) ( え ) ~ ( か ) にあてはまる語句をそれぞれ答えなさい。ただし ( お ), ( か ) は漢  
字で答えなさい。

(8) 下線部③に関して、もともとは幕府から与えられた恩賞（領地）を命がけで守ることを意味する四字  
熟語を次のア～エの中から1つ選び、記号で答えなさい。

ア 一騎当千<sup>いっきとうせん</sup>      イ 一所懸命<sup>いっしょけんめい</sup>      ウ 一期一会      エ 絶体絶命

(9) 7～9を時代の古い順に正しくならべかえたものを次のア～カの中から1つ選び、記号で答えなさい。

ア 7→8→9      イ 7→9→8      ウ 8→7→9  
エ 8→9→7      オ 9→7→8      カ 9→8→7

- 10 朝鮮をめぐって対立が深まっていた日本とロシアの間で日露戦争が始まると、日本は多くの戦死者を出しながらも、日本海の戦いを指揮した（き）の活やくによりロシアの大艦隊を破りました。
- 11 外務大臣の（く）によって関税自主権の回復がなされ、日本は欧米諸国と対等な関係を築くことができました。
- 12 政府に対して国会の開設と憲法の作成を求める板垣退助らの動きは、やがて（け）運動として各地に広がっていきました。

(10)（き）～（け）にあてはまる語句をすべて漢字で答えなさい。

(11) 明治・大正時代に活やくした人物について述べた文としてあやまっているものを次のア～エの中から1つ選び、記号で答えなさい。

- ア 福沢諭吉は「学問のすゝめ」を書き、その中で、人はみな生まれながらに平等であると説きました。
- イ 北里柴三郎は医学者として、当時死亡する人が多かった破傷風という病気の治療法を発見しました。
- ウ 渋沢栄一は国学の研究を通して、社会や政治にも目を向け、政治をおこなう人の心構えを説きました。
- エ 津田梅子は岩倉使節団とともにアメリカに渡り、留学から帰国後は日本の女子教育に力を注ぎました。

(12) 10～12を時代の古い順に正しくならべかえたものを次のア～カの中から1つ選び、記号で答えなさい。

- ア 10→11→12      イ 10→12→11      ウ 11→10→12  
エ 11→12→10      オ 12→10→11      カ 12→11→10

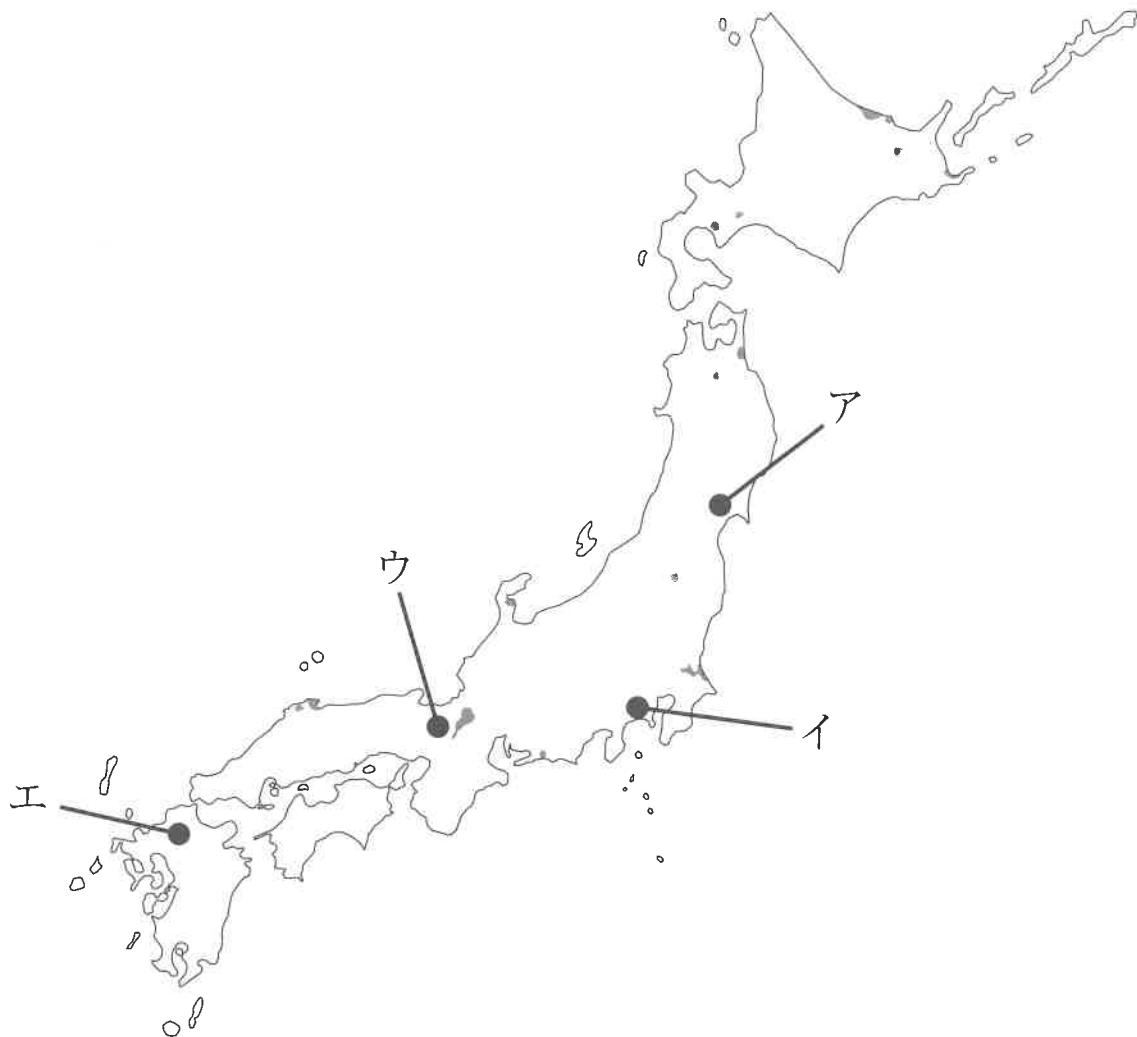
13 この人物は「<sup>あま</sup>尼将軍」と呼ばれ、将軍の<sup>ごおん</sup>御恩を説いて御家人たちに団結することをうったえ、④ 朝廷から攻めてきた軍を打ち破るにあたり大きな役割をはたしました。

14 この人物は天皇のきさきに仕えた人物で、かな文字を用いてすぐれた<sup>ずいひつ</sup>随筆を書き、当時の<sup>きやうてい</sup>宮廷の生活や自然の変化などを生き生きと表現しました。

15 この人物は武士の家に生まれ、歴史上の物語や実際に起きた事件を題材にしたしばいの台本を書き、町人の義理人情をえがいた作品は多くの人々に親しまれました。

(13) 13～15の人物名をそれぞれ漢字で答えなさい。

(14) 下線部④の戦いの後に新たにつくられた役所がおかれた場所として正しいものを、次の地図中のア～エの中から1つ選び、記号で答えなさい。



(15) 13～15を時代の古い順に正しくならべかえたものを次のア～カの中から1つ選び、記号で答えなさい。

- |            |            |            |
|------------|------------|------------|
| ア 13→14→15 | イ 13→15→14 | ウ 14→13→15 |
| エ 14→15→13 | オ 15→13→14 | カ 15→14→13 |

本校の学園歌の歌詞を読んで、後の問いに答えなさい。

金剛山こんごうざんはほのぼのと  
 明けて生駒いこまも目ざめたり  
 ① 世界の平和祈りつつ  
 ② 文化の鐘かねを高鳴らす  
 若き学徒がくとを讃たたえずや  
 近畿きんき 近畿 近畿  
 近畿大学 おお近畿

③ 開けゆく代のさきがけと  
 進む行く手に④ 栄あれ  
 ⑤ 理想の光あいおいて  
 真実一路あこがれの  
 若き学徒ほこに誇りあり  
 近畿 近畿 近畿  
 近畿大学 おお近畿

⑥ 外国とつくにまでも響けよと  
 高き文化の足音を  
 互いに誓ちかい競い立ち  
 真理に愛たまに魂結ぶ  
 若き学徒にほまれあれ  
 近畿 近畿 近畿  
 近畿大学 おお近畿

(1) 下線部①について、次の問いに答えなさい。

I 2022年2月にロシア連邦れんぽうが軍事侵攻しんこうを開始した国を答えなさい。

II 世界の平和と安全を守り、人々の暮らしをよりよいものにするために、1945年に51か国が参加して発足した組織そしきを何とといいますか、漢字4文字で答えなさい。

(2) 下線部②について、次の問いに答えなさい。

I 国民の祝日に関する法律により、11月3日は文化の日と定められています。文化の日と定められた理由として正しいものを次のア～エの中から1つ選び、記号で答えなさい。

- ア 日本国憲法の施行しこうを記念し、国の成長を願う。
- イ 日本国憲法の公布を記念し、自由と平和を愛する。
- ウ 国がつくられた昔を思い、国を愛する心を養う。
- エ 長い間社会につくしてきたお年寄りを敬愛し、長生きを祝う。

II 世界遺産の登録や修復活動などを行い、教育、科学、文化を通じて平和な社会をつくることを目的としている国際的な組織を何とといいますか、カタカナで答えなさい。

(3) 下線部③に関連して、次の問いに答えなさい。

I 国際社会は豊かな生活と環境とのバランスを考えながら持続可能な社会を実現していくことを考えている中、2015年、ニューヨークで「持続可能な開発サミット」が開かれ、持続可能な社会を実現するための2030年までの行動計画が立てられました。その中心として示された「持続可能な開発目標」のことをアルファベットで答えなさい。

II 2015年、フランスのパリで国連気候変動枠組条約を結んだ国々の会議に関する次の文の  X  に入る語句として正しいものを、後のア～エの中から1つ選び、記号で答えなさい。

この会議では、地球温暖化の対策について話し合いが行われ、  X  の削減目標などが定められました。

ア レジ袋

イ 温室効果ガス

ウ 海洋プラスチックごみ

エ 熱帯林を含む森林伐採

(4) 下線部④に関連して、天皇は国の繁栄や安寧、国民のためにお祈りをしています。日本国憲法で規定されている天皇の主な仕事としてあやまっているものを次のア～エの中から1つ選び、記号で答えなさい。

ア 参議院を解散すること。

イ 国会を召集すること。

ウ 憲法改正や法律を公布すること。

エ 外国の大使などをもてなすこと。

(5) 下線部⑤に関連して、次の問いに答えなさい。

I 我が国の憲法は戦後、理想を求めて定められたところもあります。その原則の一つである基本的人権について保障するとともに、国民が果たさなければならない義務についても定めています。国民の義務としてあやまっているものを次のア～エの中から1つ選び、記号で答えなさい。

ア 仕事に就いて働く義務

イ 税金を納める義務

ウ 政治に参加する義務

エ 子どもに教育を受けさせる義務

II 我が国の現状としてあやまっているものを次のア～エの中から1つ選び、記号で答えなさい。

ア 選挙権が18歳以上の国民に認められるようになってから、衆議院議員選挙の投票率は年々上昇しています。

イ 国の予算は国民から集められた税金のほか、予算の約2分の1を借金で補われています。

ウ 国民も裁判に参加する裁判員制度が導入されています。

エ 全国の市町村の収入において、ある程度は市民の税金で、他に国や県の予算の中から出される補助金などがあります。

(6) 下線部⑥について、外国との条約に関する次の文の  Y  に入る語句を、漢字2文字で答えなさい。

Y  が結んだ外国との条約を、国会が承認する。




受験番号		名前	
------	--	----	--

24113

↓ここにシールを貼ってください↓

令和6年度〔社会〕前期入学試験問題 解答用紙



1

(1)	A	B	C
	D	E	
(2)	(3)		
(4)	(5)	(6)	
(7)	(8)		
(9)	工場	(10)	(11)

2

(1)	1	2	3	(2)	(3)
(4)	あ	い	う	(5)	(6)
(7)	え	お	か	(8)	(9)
(10)	き	く	け	(11)	(12)
(13)	13	14	15	(14)	(15)

3

(1)	I	II		
(2)	I	II		
(3)	I	II	(4)	
(5)	I	II	(6)	

