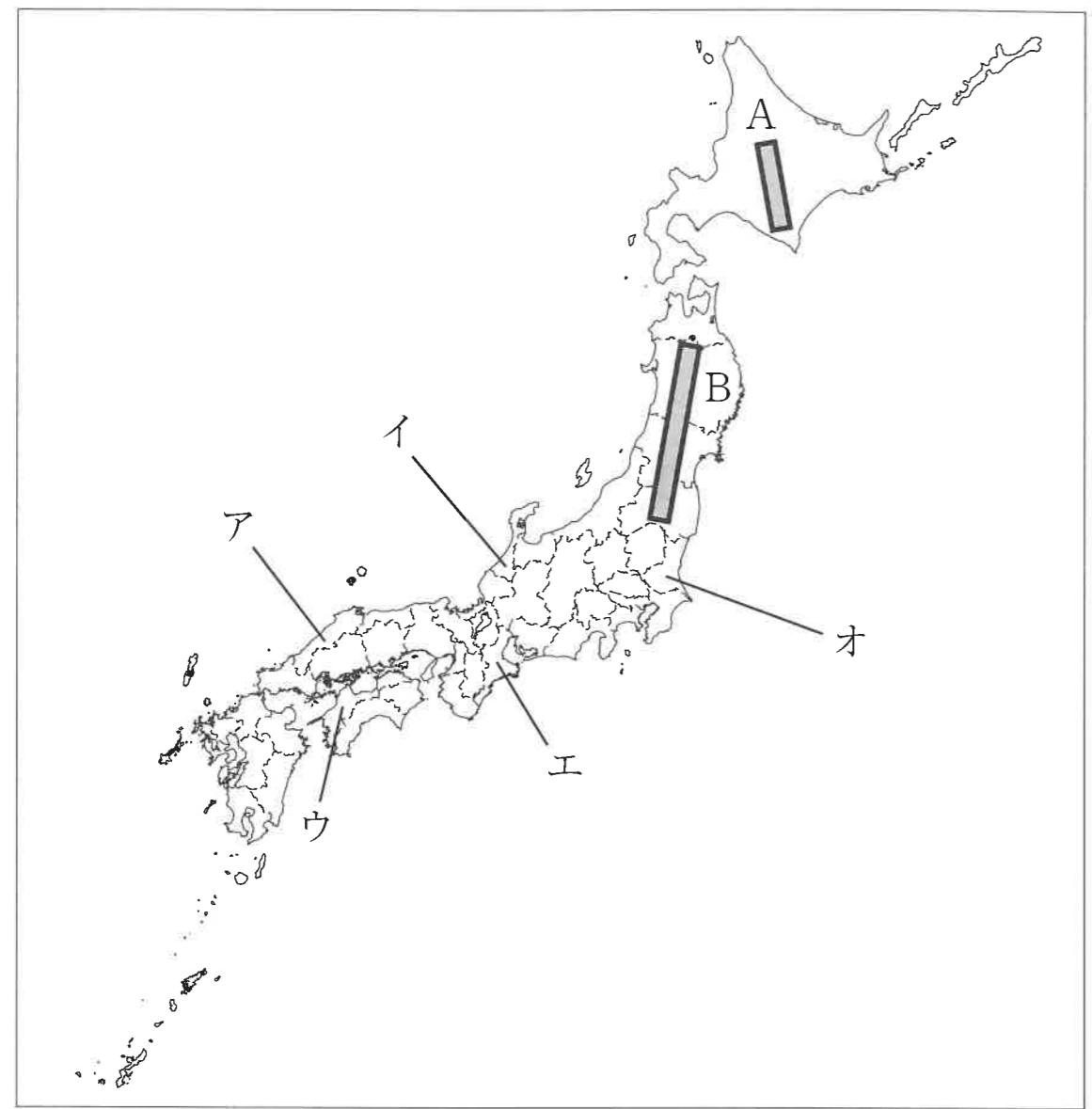


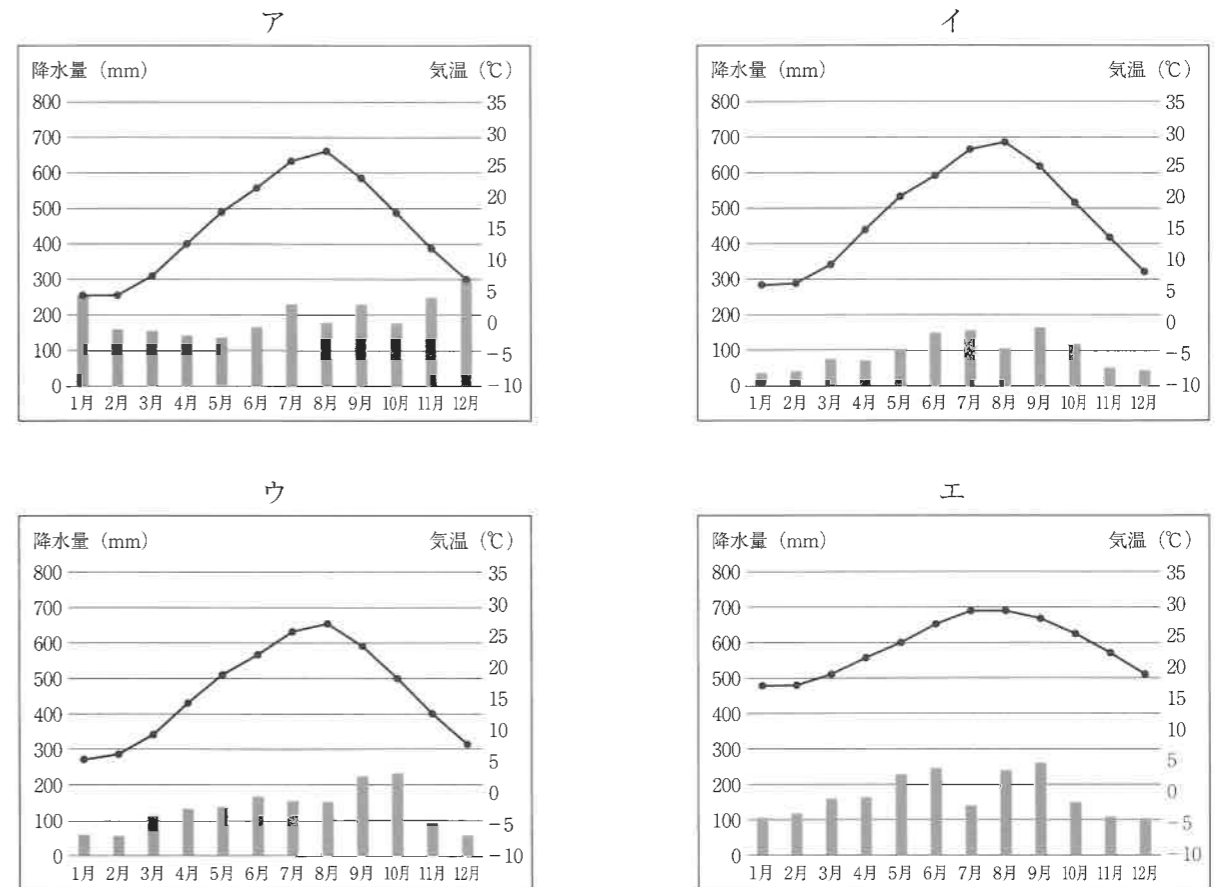
1 大阪府に住んでいる小学6年生の春馬さんと担任の秋子先生が、日本地図を見ながら会話をしています。下の地図と2人の会話文について、後の問いに答えなさい。



春馬くん：こうやって地図で見ると、日本は本当に細長い形をしているなあ。
 秋子先生：北のはしから南のはしまでは、およそ3000kmもあります。そして島の数も多く、本州、北海道、九州、①四国の大きな島と、およそ6800の島々で形づくられているのが日本です。それでは、ここで問題です。日本で一番南のはしの島はどここの都道府県にあると思いますか。
 春馬くん：そんなの簡単だよ。②沖縄県でしょ！
 秋子先生：本当にそれが正解かな？ 日本の南のはしにある島は（③）島とって、実は東京都の島とされています。
 春馬くん：え、東京都の島なんですか？
 秋子先生：ちなみに、日本の東のはしとされている（④）島も、東京都の島となっています。
 春馬くん：そうなんだ。東京都の島って、いったいいくつあるんだろう。
 秋子先生：無人島もあわせると、330ほどの島が東京都の島として区分されていますね。ただし、⑤海を埋め立ててつくられたものは、ここでは島として数えていませんが、それでも島の多い都道府県でいうと、東京都は全国で6番目に多いとされていますよ。

春馬くん：つまり、自然にできた島の数ってことなんですね。それで東京都が6番目に多いだなんて、知らなかったなあ。
 秋子先生：では、日本で1番島が多い都道府県はどこでしょうか？ ヒントは⑥九州にある県ですよ。
 春馬くん：地図を見ると、島がたくさんありそうなのは⑦鹿児島県か、それとも長崎県かなあ。
 秋子先生：鹿児島県の島の数は605で、全国で2番目に島が多いとされています。そして長崎県は、日本で最も島の数が多い都道府県であり、その数はなんと971にもなります。
 春馬くん：そんなにたくさんの島が長崎県にあるんだ！
 秋子先生：では反対に、島の数最も少ない都道府県はわかりますか？
 春馬くん：うーん、どこだろう。やっぱり海に面していない都道府県なのかな。
 秋子先生：春馬くんの言うとおり、海に面していない県は日本に8県ありますが、そうした県はすべて、島数が0となっています。つまり島がないということですね。でも、海に面しているのに島が1つもない都道府県が、実は1か所だけあるのですよ。
 春馬くん：えー、いったいどこの都道府県なんですか？
 秋子先生：わたしたちが住んでいるここ、⑧大阪府です。

- 地図中A, Bの山脈の名称を、^{めいしょう} ^{かいとうらん} 解答欄にあうようにそれぞれ漢字で答えなさい。
- 地図中ア～オの都道府県の県庁所在地となっている市を、解答欄にあうようにそれぞれ漢字で答えなさい。
- 下線部①について、香川県高松市の雨温図として正しいものを、次のア～エの中から1つ選び、記号で答えなさい。



(気象庁データより作成)

(4) 下線部②について、沖縄県で見られることがらとして正しいものを、次のア～エの中から1つ選び、記号で答えなさい。

ア 水はけのよい土地では、雨の量が少なく、また昼と夜の気温の差が大きい気候を生かして、ぶどうの栽培がさかんに行われています。

イ 高さ1000m以上の山地があり、山の上は夏の間もすずしいため、レタスやはくさい、キャベツといった高原野菜が栽培されています。

ウ 近くの海が、南から流れるリマン海流の通り道となっており、まぐろやかじきなどの水あげ量が多く、とてもよい漁場となっています。

エ 水不足になやまされることがあったため、家の屋根にタンクを置いて、水をためておけるようにしています。

(5) (③) と (④) にあてはまる島の名称を、解答欄にあうようにそれぞれ漢字で答えなさい。

(6) 下線部⑤について、日本では海を埋め立てて港として整備し、外国とさかんに貿易を行っています。貿易額をみた時、その額が最も多い貿易港として正しいものを、次のア～エの中から1つ選び、記号で答えなさい。(2019年現在)

ア 横浜港 イ 名古屋港 ウ 成田国際空港 エ 関西国際空港

(7) 下線部⑥について、九州北部から中国・四国、近畿、東海、関東地方の南部にかけて、太平洋側の海岸ぞいを中心に工業のさかんな地域が帯のように広がっています。この地域を何とといいますか。答えなさい。

(8) 下線部⑦について、鹿児島県垂水市ではかんぱちの養殖がさかんに行われており、育てている間のようにすを記録しておくことで、質がよく、また安心して食べられる魚づくりが実現されています。このように、食品がどのようにして生産・出荷されたかについて、それらの情報を確認することができるようにしたしくみのことを何とといいますか。カタカナで答えなさい。

(9) 下線部⑧について、大阪府には多くの中小工場があり、生産した部品などを大工場におさめることで製造を支えています。特に日本の自動車工業では、自動車を組み立てるための部品を、必要な時に必要な量を、関連する中小工場が自動車工場におさめるという方式が多く取り入れられています。このように「必要な部品を、必要な時に、必要な量だけおさめる」という考え方を何とといいますか。次のア～エの中から正しいものを1つ選び、記号で答えなさい。

ア スマートコミュニティ イ ジャスト・イン・タイム
ウ パブリックコメント エ ソーシャル・ネットワーク・サービス

2 次の1～15の文あるいは資料を見て、後の問いに答えなさい。

1 大名家同士の結婚や城の修理について幕府に届け出ることなど、大名を取りしめるきまりがつくられました。

2 役人の階級を12段階に分け、家がらにこだわらず、個人の能力によって採用するしくみがつくられました。

3 ドイツの憲法を参考に天皇が国を治める主権を持ち、軍隊をひきいることなどを定めるきまりがつくられました。

(1) 1～3で説明されているきまりやしくみをすべて漢字で答えなさい。

(2) 1に関連して、1のきまりに大名の江戸への参勤などを付け加えた人物として正しいものを次のア～エの中から1つ選び、記号で答えなさい。

ア 伊能忠敬 イ 徳川家光 ウ 杉田玄白 エ 徳川慶喜

(3) 1～3を時代の古い順に正しくならべかえたものを次のア～カの中から1つ選び、記号で答えなさい。

ア 1→2→3 イ 1→3→2 ウ 2→1→3
エ 2→3→1 オ 3→1→2 カ 3→2→1


4



5



6



- 4 4の絵のように歌舞伎役者や人々の日常の風景を色あざやかにえがいた版画を（あ）といいます。
- 5 5の絵は、墨一色で自然のようすなどをえがく（い）といい、中国から伝わりました。
- 6 6の絵に描かれているような貴族を主人公にして、紫式部は『（う）』という物語を書きました。

(4) (あ)～(う)にあてはまる語句をすべて漢字で答えなさい。

(5) 4の絵がえがかれた時期に、町人の苦しみや悲しみを芝居の台本にした人物として正しいものを次のア～エの中から1つ選び、記号で答えなさい。

- ア 歌川広重 イ 松尾芭蕉 ウ 近松門左衛門 エ 大塩平八郎

(6) 4～6の絵がえがかれた時期を古い順に正しくならべかえたものを次のア～カの中から1つ選び、記号で答えなさい。

- ア 4→5→6 イ 4→6→5 ウ 5→4→6
エ 5→6→4 オ 6→4→5 カ 6→5→4

7 モンゴルは、朝鮮半島を支配すると日本にも従うようにと何度も使者を送り、従わない日本に対して二度にわたって九州北部に攻め込みました。

8 小野妹子は、中国の進んだ政治のしくみや文化を取り入れるために（え）として中国に送られました。

9 対馬藩を窓口に関係を改善した朝鮮からは、将軍の代がわりの時など12回にわたって（お）が日本を訪れました。

(7) 7のできごとを漢字で答えなさい。

(8) (え)(お)にあてはまる語句をすべて漢字で答えなさい。

(9) 9に関連して、使いが日本を訪れた際に日本に伝わったとされる行事として正しいものを次のア～エの中から1つ選び、記号で答えなさい。

- ア 阿波踊り イ 祇園祭 ウ 唐子踊 エ 七夕祭

(10) 7～9を時代の古い順に正しくならべかえたものを次のア～カの中から1つ選び、記号で答えなさい。

- ア 7→8→9 イ 7→9→8 ウ 8→7→9
エ 8→9→7 オ 9→7→8 カ 9→8→7

10



12



11



- 10 東大寺におかれた10の建物には、聖武天皇の持ち物などが収められています。
- 11 足利義満の孫の義政は、東山に11の建物を建てました。
- 12 藤原頼通は、父親である道長の別荘^{べっそう}を建てかえて12の建物を建てました。

(11) 10～12の建物の名称をすべて漢字で答えなさい。

(12) 10の建物が建てられた時期に日本の仏教制度を整えるために、中国から招かれた高僧^{こうそう}として正しいものを次のア～エの中から1つ選び、記号で答えなさい。

- ア 行基 イ 千利休 ウ 雪舟 エ 鑑真

(13) 11の建物には、現在の和室の造りにつながる建築様式が用いられています。この建築様式を何といいますか。正しいものを次のア～エの中から1つ選び、記号で答えなさい。

- ア 書院造 イ 武家造 ウ 校倉造^{あぜくら} エ 寢殿造^{しんでん}

- 13 私は、日本の古典をもとに日本人の考え方を明らかにする研究をして『古事記伝』を書き上げました。
- 14 私は、民主主義の考え方が広まる中で「もとは、女性は太陽だった。・・・」と呼びかけ、女性の地位向上を目指す運動を続けました。
- 15 私は、かな文字を使って、^{きゆうてい}宮廷での生活や自然の変化を表現した『枕草子』を書き上げました。

(14) 13～15の私にあてはまる人物名を答えなさい。ただし、(13) (15) は漢字で答えなさい。

(15) 13に関連して、当時の町や村で百姓や町人の子どもが「読み・書き・そろばん」などを学んだ場所を何といいますか。正しいものを次のア～エの中から1つ選び、記号で答えなさい。

- ア 藩校 イ 寺子屋 ウ 私塾^{しじゅく} エ 青空教室

(16) 13～15の人物がかつやくした時期を古い順に正しくならべかえたものを次のア～カの中から1つ選び、記号で答えなさい。

- ア 13→14→15 イ 13→15→14 ウ 14→13→15
- エ 14→15→13 オ 15→13→14 カ 15→14→13

3 次の資料を見て、後の各問いに答えなさい。



(1) 上の資料は、「(X)な開発目標」といい、今だけでなく、未来にわたってより多くの人々がよりよい生活を送ることができる「(X)な社会」を実現するために2015年に国連サミットで定められました。

(X)にあてはまる語句を、解答欄にあわせて漢字4文字で答えなさい。

(2) 「1 貧困をなくそう」について、戦争や食糧不足による飢えなど、困難な状況にある子どもたちを守るために、中心となって活動している国際連合の機関を何といますか。カタカナで答えなさい。

(3) 「3 すべての人に健康と福祉を」について、国民の暮らしに関わる法律をつくる機関が国会です。国会のしくみとして正しくのべたものを次のア～エの中から1つ選び、記号で答えなさい。

- ア 衆議院、参議院ともに解散があります。
- イ 法律は、衆議院のみで話し合われます。
- ウ 18才以上の国民に選挙権が与えられ、国会議員が選ばれています。
- エ 国会の一番大切な仕事は、外国と条約を結ぶことです。

(4) 「5 ジェンダー平等を実現しよう」について、すべての人々の平和や人権・環境問題などを解決するために、国のちがいをこえて協力して活動している民間の団体を何といますか。アルファベットで答えなさい。


(5) 「8 働きがいも経済成長も」について、豊かな資源と多くの労働力を活用し、技術力を向上させて世界有数の工業国に発展し、現在(2019年)、日本にとって1番の輸入相手国となっている国はどこですか。正しいものを次のア～エの中から1つ選び、記号で答えなさい。また、この国の国旗として正しいものを次のカ～ケの中から1つ選び、記号で答えなさい。

- ア 韓国
- イ 中国
- ウ アメリカ
- エ サウジアラビア


カ




キ



ク



ケ



(6) 「11 住み続けられるまちづくりを」について、2011年3月11日、宮城県沖を震源とする地震が起きました。この地震を何といますか。漢字で答えなさい。

また、この地震による被害およびその後の復興について、正しくのべたものを次のア～エの中から1つ選び、記号で答えなさい。

- ア この地震では、国内から多くのボランティアが被災地にかけつけましたが、海外からの支援は全くありませんでした。
- イ この地震では、津波が発生しなかったため、水産業は被害を受けませんでした。
- ウ この地震により、岩手県にある原子力発電所では爆発事故が起り、大量の放射性物質がもれだしました。
- エ この地震での被災地に長期的、計画的に支援を行うために、復興庁という新しい役所が設置されました。

(7) 「13 気候変動に具体的な対策を」について、現在起こっている環境問題について、あやまったのべているものを次のア～エの中から1つ選び、記号で答えなさい。

- ア 地球温暖化の影響で海水面が上昇し、水没の危機にある地域があります。
- イ 自動車のはい出ガスは、地球温暖化の原因ではないと考えられています。
- ウ 中国では、深刻な大気汚染が問題になっており、周辺国々にも被害をおよぼしています。
- エ 太陽光・地熱などのエネルギーの研究・開発が、日本でも積極的に進められています。

(8) 「16 平和と公正をすべての人に」について、日本国憲法には、平和主義の原則が定められています。平和主義について書かれているのは、憲法第何条ですか。解答欄にあわせて、数字で答えなさい。



受験番号		名前	
------	--	----	--

22113

↓ここにシールを貼ってください↓

令和4年度〔社会〕前期入学試験問題 解答用紙



1

(1)	A	山脈	B	山脈		
(2)	ア	市	イ	市	ウ	市
	エ	市	オ	市	(3)	(4)
(5)	③	島	④	島	(6)	
(7)		(8)		(9)		

2

(1)	1	2	3	(2)	(3)
(4)	あ	い	う	(5)	(6)
(7)		(8) え	お	(9)	(10)
(11)	10	11	12	(12)	(13)
(14)	13	14	15	(15)	(16)

3

(1)				(2)	
(3)	(4)		(5)	国	国旗
(6)		記号	(7)	(8)	第 条