

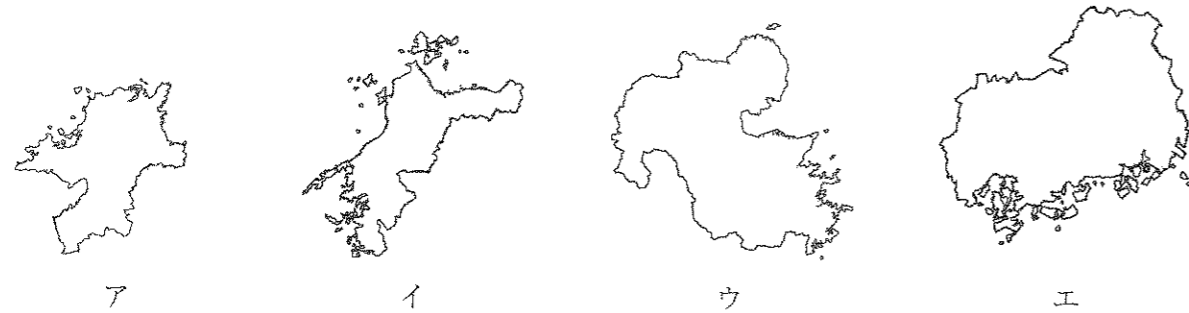
1 次の文章を読んで、後の問いに答えなさい。

昨年7月に、①福岡県の（ A ）が世界遺産に登録されました。当時福岡県は大雨による②災害で多くの人々が傷ついていたため、（ A ）の世界遺産登録は人々に希望と勇気を与える③ニュースとなりました。福岡県をふくむ④九州地方は、良質の⑤石炭が取れたことから⑥工業が早くから発展した地域でした。過去には深刻な⑦公害を出したこともありましたが、国をあげて公害を防ぐための取り組みを行った結果、環境は改善されてきています。現在では、環境を破壊しないように気をつけながら、⑧自動車工業や先端技術産業を中心に栄え、多くの工業製品を⑨海外に輸出しています。

(1) 文中（ A ）にあてはまるものとして正しいものを、次のア～エの中から1つ選び、記号で答えなさい。

- ア 富士山 イ 沖ノ島 ウ 軍艦島 エ 福岡製糸場

(2) 下線部①について、次のア～エのうち、福岡県はどれですか。正しいものを1つ選び、記号で答えなさい。



(3) 下線部①について、福岡県は都道府県名と県庁所在地名が同じですが、中には都道府県名と県庁所在地名が異なる都道府県もあります。都道府県名と県庁所在地名が異なるものを次のア～エの中から1つ選び、記号で答えなさい。

また、その都道府県の正しい県庁所在地名を漢字で答えなさい。

- ア 青森県 イ 静岡県 ウ 茨城県 エ 山口県

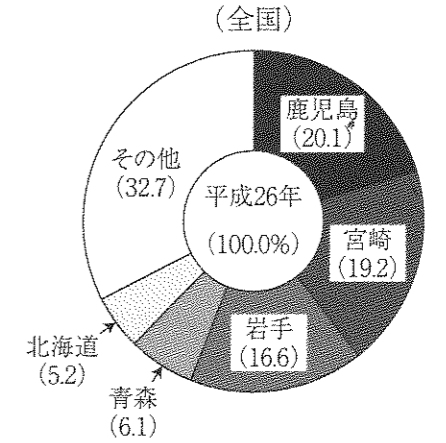
(4) 下線部②について、日本の自然災害について正しくのべたものを、次のア～エの中から1つ選び、記号で答えなさい。

- ア 地震のゆれによって地盤と水が入りまじる、液状化現象も山地で多く発生します。
 イ 台風の時には大雨による被害だけでなく、海面が盛り上がる津波などの被害がおこることもあります。
 ウ 現在、市町村ではハザードマップをつくり、住民に注意を呼びかけたり、ひなん訓練をしたりしています。
 エ 冬の気温が低くなりすぎて、農作物の生育が悪くなったりみのらなかつたりする冷害にも、たびたび悩まされてきました。

(5) 下線部③について、新聞やテレビ、ラジオなどのように多くの人に一度に情報を送る方法のことを何といますか。次のア～エの中から1つ選び、記号で答えなさい。

- ア デジタルデバインド イ ソーシャルネットワーク
 ウ トレーサビリティ エ マスメディア


(6) 下線部④について、九州地方は畜産業もさかんです。右の円グラフはある家畜の都道府県別出荷量割合をあらわしたものです。この家畜は何ですか、答えなさい。



注：割合の計が100%とならないのは、四捨五入によるものである。

(農林水産省データより作成)

(7) 下線部⑤について、日本の石炭輸入先第1位の国の国旗として正しいものを次のア～エの中から1つ選び、記号で答えなさい。



(8) 次の文は(7)で選んだ国について説明したものです。文中（ X ）,（ Y ）にあてはまる語句をそれぞれ漢字で答えなさい。

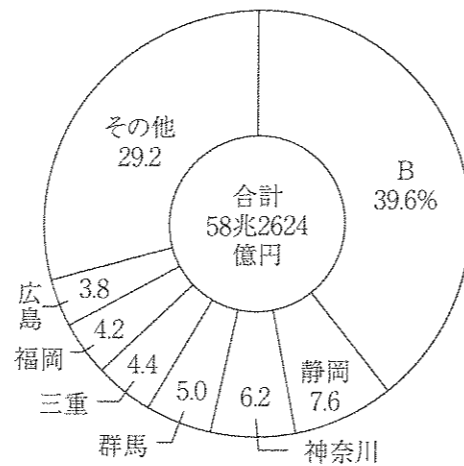
この国の東側には（ X ）洋が広がり、日本と同じく東（ Y ）135度の（ Y ）線が通っているため、日本との時差はほとんどありません。

(9) 下線部⑥について、工業地帯や工業地域が帯のようにつらなって広がる地域を何といますか。答えなさい。

(10) (9)の地域に含まれない工業地帯・工業地域を次のア～エの中から1つ選び、記号で答えなさい。
 ア 北陸工業地域 イ 東海工業地域 ウ 阪神工業地帯 エ 京葉工業地域

(11) 下線部⑦について、1967年につくられた公害の種類や守るべき基準などを決めた法律を何といますか。漢字で答えなさい。

- (12) 下線部⑧について、右のグラフは自動車などの輸送用機械の都道府県別生産額割合を表したものです。グラフ中Bにあてはまる都道府県名を漢字で答えなさい。また、その都道府県の説明として正しいものを次のア～エの中から1つ選び、記号で答えなさい。



(経済産業省資料より 2013)

- ア 濃尾平野が広がるこの都道府県では、水害がしばしば起こったため、集落全体を堤防で囲った輪中が昔から作られました。
 イ 台風の被害や暑さを防ぐためしっくいで屋根を固めたり、戸口を広くして風通しをよくするなどの工夫をしています。
 ウ この県を含む工業地帯は、特に化学製品の生産がさかんであり、ここ数年日本一の出荷額をほこります。
 エ 夏でもすずしい気候を生かしたキャベツ作りが盛んに行われており、7月から10月ごろに収穫したキャベツを、大都市の多い地方に出荷しています。

- (13) 下線部⑨について、外国から入ってくる品物に対してかける税金を何といいますか。漢字で答えなさい。

- (14) 日本の貿易についてのべているものとしてあやまっているものを、次のア～エの中から1つ選び、記号で答えなさい。

- ア 日本の貿易は、1980年をすぎたころから2010年まで輸出額が輸入額を上回っていました。
 イ 最近日本よりもすぐれた製品を大量に生産する、アジアの国々の増加によって日本の貿易は輸入額が大きくなってきています。
 ウ 日本は多くの地域と自由に貿易をできる取り決めを結んでおり、TPP協定にも参加しています。
 エ 日本は世界中の国々と貿易を行っていますが、特に中国、韓国との貿易額が多くなっています。

- 2 次の1～15を読み、後の問いに答えなさい。

- 1 日本軍は鉄道の線路を爆破し、これを中国軍のしわざだとして(あ)をおこしました。
 2 3代将軍の(い)は、中国との国交を開き、貿易を始め、この貿易によって大きな利益を得ました。
 3 聖徳太子は、(う)らを中国に送って、対等な国の交わりを結ぼうとしました。

(1) (あ)～(う)にあてはまる語句をすべて漢字で答えなさい。

- (2) 1に関連して、このころの日本の様子として正しいものを次のア～エの中から1つ選び、記号で答えなさい。

- ア 朝鮮戦争により、日本の産業が活気づき、経済が立ち直りました。
 イ サッカーワールドカップを韓国と共同で開くなど、世界の国々と友好を強めました。
 ウ 満25才以上のすべての男子が選挙権を得ましたが、軍人が政治を支配するようになりました。
 エ 産業をさかんにするため、欧米から技術者を招き、進んだ機械を買い入れ国営の工場をつくりました。

- (3) 1～3を時代の古い順に正しくならびかえたものを次のア～カの中から1つ選び、記号で答えなさい。

- ア 1→2→3 イ 1→3→2 ウ 2→1→3
 エ 2→3→1 オ 3→1→2 カ 3→2→1

- 4 貴族は広大な(え)のやしきに住み、和歌や舞曲・絵合わせ・けまりなどの遊びを楽しみました。

- 5 銀閣の1階の(お)の部屋は、ふすまや障子でしきられ、たたみがしきつめられています。

- 6 欧米の制度や生活様式を取り入れた(か)が広まり、新聞や雑誌の発行もさかんにになりました。

(4) (え)～(か)にあてはまる語句をすべて漢字で答えなさい。

- (5) 5に関連して、このころの日本の様子として正しいものを次のア～エの中から1つ選び、記号で答えなさい。

- ア 伝染病がはやり、貴族の反乱がおこるなど世の中が乱れたので、大仏がつくられました。
 イ 藤原氏がむすめを天皇のきさきとし、生まれた子を天皇に立てて、天皇に代わって政治を進めました。
 ウ 京都の南部では、村の人々が団結を強めて、8年間にわたって自分たちの手で政治を行いました。
 エ 農民は、千歯こきやとうみなどの進んだ農具を発明し、農作業を速く楽にできるようになりました。

- (6) 4～6を時代の古い順に正しくならびかえたものを次のア～カの中から1つ選び、記号で答えなさい。

- ア 4→5→6 イ 4→6→5 ウ 5→4→6
 エ 5→6→4 オ 6→4→5 カ 6→5→4

7 (き)は、関ヶ原の戦いで勝利し、江戸城を中心に全国を治めました。

8 (く)は、琵琶湖のほとりの安土に大きな城をきずきました。

9 (け)は、大阪に大きな城をきずいて全国を治めました。

(7) (き)～(け)にあてはまる人物をすべて漢字で答えなさい。

(8) 9に関連して、その大阪の城は、(く)と10年にわたり戦い、降伏したある寺のあとにきずかれました。その寺を次のア～エの中から1つ選び、記号で答えなさい。

ア 唐招提寺 イ 本能寺 ウ 石山本願寺 エ 法隆寺

(9) 7～9を時代の古い順に正しくならびかえたものを次のア～カの中から1つ選び、記号で答えなさい。

ア 7→8→9 イ 7→9→8 ウ 8→7→9
エ 8→9→7 オ 9→7→8 カ 9→8→7

10 幕府は大名に対し、かつてに結婚してはならないなど、(こ)というきまりを定め、これにそむいた大名を厳しく罰しました。

11 政府は(さ)を出し、20才以上の男子に軍隊に入ることを義務づけました。

12 朝廷の役人を家からではなく、能力によって取り立てる(し)の制度が定められました。

(10) (こ)～(し)にあてはまる語句をすべて漢字で答えなさい。

(11) 10に関連する、あやまっている文を次のア～エの中から1つ選び、記号で答えなさい。

ア 本居宣長は『古事記』の研究を進めるとともに、仏教や儒学が伝わる前の日本人の考え方を明らかにしようとした。
イ 伊能忠敬は西洋の天文学や測量術を学び、はじめて正確な日本地図をつくりました。
ウ 杉田玄白と前野良沢は、ドイツ語で書かれた人体かいぼう書のほん訳を行い、『解体新書』を出版しました。
エ 歌川(安藤)広重は、江戸から京都までの風景をえがいた浮世絵『東海道五十三次』を完成させました。

(12) 10～12を時代の古い順に正しくならびかえたものを次のア～カの中から1つ選び、記号で答えなさい。

ア 10→11→12 イ 10→12→11 ウ 11→10→12
エ 11→12→10 オ 12→10→11 カ 12→11→10

13 岩倉使節団について7才のときにアメリカにわたり、11年間の勉強を終えて帰国し、日本女性のための高等教育につくす決意を固めました。

14 「みな心を一つにして聞きなさい。これが最後の言葉です。頼朝様が平氏をたおして幕府を開いてからの御恩は、山よりも高く、海よりも深いものです。お前たちも御恩にむくいる気持ちがあるでしょう。ところが、朝廷は、幕府をたおせという命令を出しました。名誉を大切に^{めいよ}する者は、京都に向かつて^{しゅつじん}出陣し、源氏3代の将軍がきずきあげたものを守りなさい。」

15 「もともと、女性は太陽であった。しかし今、女性は月である。他によって生き、他の光によってかがやく、病人のような青白い顔色の月である。わたしたちは、かくれてしまったわたしたちの太陽を取りもどさなければならない。」

(13) 13に関連して、条約改正のため派遣された岩倉使節団の一員でない人物を、次のア～エの中から1つ選び、記号で答えなさい。

ア 木戸孝允 イ 伊藤博文 ウ 大久保利通 エ 西郷隆盛

(14) 14について、このようにうったえた人物を漢字で答えなさい。

(15) 15について、このように考え、女性の自由と権利のかくごいをめざす運動を続けた人物を答えなさい。

(16) 15の人物は文学でも雑誌をつくるなど活やくしましたが、平安時代に漢字をもとにした、日本独自のひらがなとかたかななどの、おもに女性のあいだで使われていた文字を何といいますか。答えなさい。

(17) 13～15を時代の古い順に正しくならびかえたものを次のア～カの中から1つ選び、記号で答えなさい。

ア 13→14→15 イ 13→15→14 ウ 14→13→15
エ 14→15→13 オ 15→13→14 カ 15→14→13

3 次の文章を読んで、後の問いに答えなさい。

「日本国憲法の前文の一部（要約）」

日本国民は、わたしたちと子孫のために、世界の人々と仲よく協力し合い、①自由のもたらす^{めぐ}恵みを国土の全体にわたって確かなものにし、②政府の手によって再び戦争の災いがおこることのないように決意しました。そして、わたしたちは、③主権が国民にあることを宣言して、この憲法をつくりあげました。

(1) 日本国憲法が公布されたのはいつですか。正しいものを次のア～エの中から1つ選び、記号で答えなさい。

ア 1946年11月3日

イ 1946年5月3日

ウ 1947年11月3日

エ 1947年5月3日

(2) 日本国憲法が公布された日は、現在何という祝日になっていますか。答えなさい。

(3) 下線部①について、日本国憲法では、さまざまな権利が基本的人権として保障され、また、国民が果たさなければならない義務についても定められています。

そこで、次のア～ウの文を読んで、国民の権利にあたるものにはA、国民の義務にあたるものにはBと、それぞれ記号で答えなさい。

ア 自分の応援している政党に投票する。

イ 商品を購入するときに消費税を払う。

ウ 職業などで男性と女性が差別されない。

(4) 下線部②について、次の文章を読んで、後の問いに答えなさい。

「日本国憲法の前文の一部（要約）」

わたしたちは、世界がいつまでも平和であることを、心から願います。わたしたちは（ X ）と（ Y ）を愛する世界の人々の心を信頼して、平和を守っていきたいと思います。

I 文中（ X ）と（ Y ）に入る、語句の組み合わせとして、正しいものを次のア～エの中から1つ選び、記号で答えなさい。

ア 夢と希望

イ 富と名声

ウ 平和と正義

エ 利益と幸福

II 日本の終戦記念日は何月何日ですか。答えなさい。

(5) 下線部③について、主権が国民に移ることで天皇の地位はどう変わりましたか。下の文中の（ Z ）にあてはまる語句を漢字で答えなさい。

「天皇は日本の国や国民のままとまりの（ Z ）である。」

(6) 下線部③について、大日本帝国憲法で主権者であった天皇は、日本国憲法では政治については権限をもたないとされました。そこで、天皇が行う主な仕事として、あやまっているものを次のア～キの中から2つ選び、記号で答えなさい。

ア 国会を召集する。

イ 衆議院を解散する。

ウ 勲章などの授与。

エ 国の予算を決める。

オ 外国の大使などに会う。

カ 内閣総理大臣の任命。

キ 内閣総理大臣の指名。

受験番号		氏名	
------	--	----	--

平成30年度〔社 会〕前期入学試験問題 解答用紙

1

(1)	A	(2)		(3)	記号	県庁所在地	市
(4)		(5)		(6)		(7)	
(8)	X	Y		(9)		(10)	
(11)		(12)	都道府県		記号	(13)	
(14)							

2

(1)	(あ)	(い)	(う)	(2)		(3)	
(4)	(え)	(お)	(か)	(5)		(6)	
(7)	(き)	(く)	(け)	(8)		(9)	
(10)	(こ)	(さ)	(し)	(11)		(12)	
(13)	(14)	(15)	(16)				
(17)							

3

(1)	(2)	(3)	ア	イ	ウ	
(4)	I	II	月	日	(5)	(6)