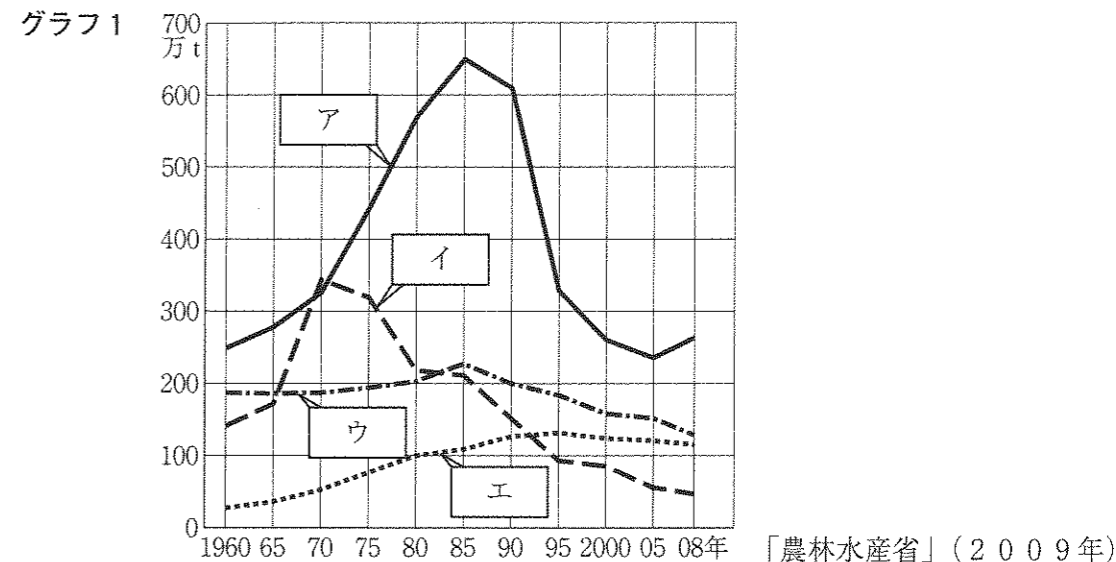


1 次の近大生の兄の裕輔くんと、近中を受験する妹の由紀ちゃんの会話を読み、後の問いに答えなさい。

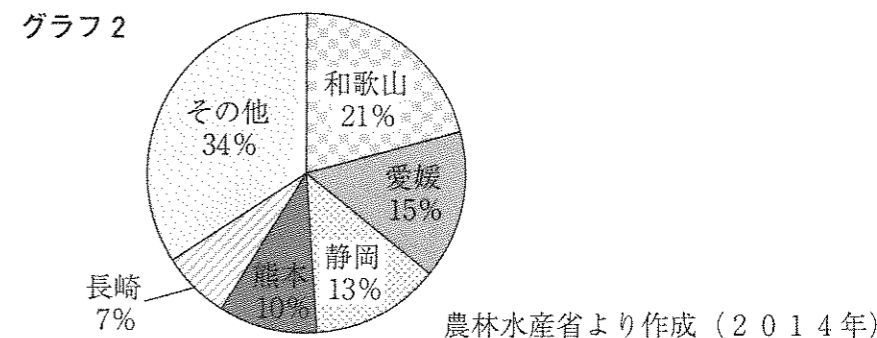
由紀：お兄ちゃん、近大ってすごいね。全国の大学で、志願者数が2014年から3年連続1位だなんて。  
 裕輔：そうなんだよ。近大ってそれだけ人気なんだよ。  
 由紀：その知名度アップに役立ったのは、やはり近大①マグロでしょ？  
 裕輔：そうだね。完全②養殖に成功したクロマグロを食べられるお店はグランフロント大阪だけでなく、東京にも出店し、にぎわっているんだよ。  
 由紀：クロマグロの完全養殖ってすごいわねえ・・・すぐできそうにないと思うけど。  
 裕輔：③和歌山県の水産研究所で日夜研究が行われ、32年もの年月をかけて成果が実ったんだよ。それぐらい物事をなすとげるには、こつこつと地道な努力を続けていくことが大切なんだってことだね。  
 近大の水産研究所は和歌山県の他にも④富山県と⑤鹿児島県の⑥奄美大島にもあるんだよ。  
 由紀：へえ、知らなかったわ。最近テレビで見たのは、( A )味のナマズを試験販売したとか・・・。  
 裕輔：よく知っているね。研究の成果を実用化し、天然稚魚の漁かく量減少で苦しむ( A )を養殖する業者と積極的に共同でお仕事をする事で、地方を元気付ける地方創生への後押しも期待されているんだよ。  
 由紀：近大って、研究を実社会に生かしているのね。  
 裕輔：そう！そうなんだ！！そんな実生活に役立つ学問を「実学」というんだよ。他に、エネルギーの分野でも近大では実用的な研究が行われているんだよ。  
 由紀：知ってる・・・バイオコークスでしょ。⑦石炭コークスに代わる燃料として開発した新しいバイオマス固形燃料で、植物由来だから二酸化炭素を実質出さないことと同じなんだよね。  
 裕輔：よく知ってるねえ・・・小学生なのにそんな難しいこと。で、その近大が開発したバイオコークスで、⑧北海道沿岸で採れたホタテ貝を焼くイベントも行われたりしたんだよ。このような実学は⑨資源が少ない日本ならではの工夫だね。  
 由紀：日本は資源が少ないだけでなく、世界と比べると⑩国土もせまいのよね。  
 裕輔：そうだね。また日本は⑪食料も外国からの輸入に頼っている部分が多いし、⑫最近では工業製品も輸入にせざる割合が増えてきたからね。だからこそ、こうした実学の精神ってこれからの時代、大事なんだよね。  
 一方で、近大はスポーツ選手も多く出しているね。  
 由紀：⑬昨年のオリンピックにも学生や卒業生が出場していたわね。  
 裕輔：また2015年のデータだと近大を卒業して社長になった人数は全国で7位らしいよ。  
 由紀：まあすごい！お兄ちゃんも将来は社長ね。

- (1) 文中( A )にあてはまる魚介類は、昔から静岡県の浜名湖などでさかんに養殖されてきました。その魚介類は何ですか、答えなさい。
- (2) 下線部①について、マグロはあたたかい海にすむ魚です。日本海側を流れる暖流名を漢字で答えなさい。

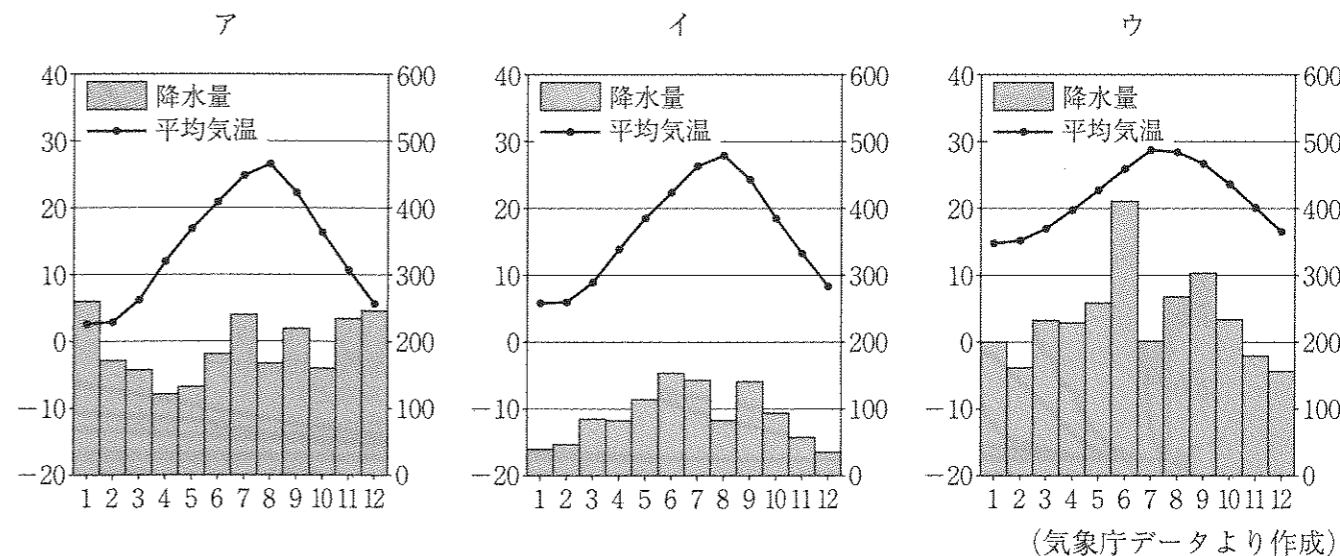
(3) 下線部②について、次のグラフ1は日本の漁業別漁かく量のうつり変わりを表しています。養殖業にあてはまるものをア～エから1つ選び、記号で答えなさい。



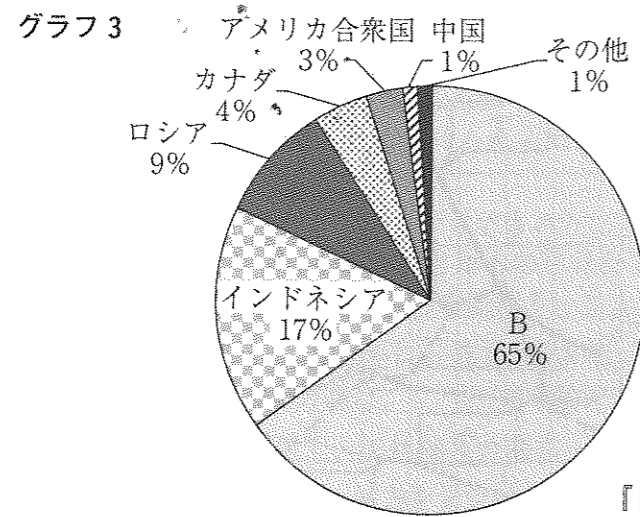
(4) 下線部③について、次のグラフ2は和歌山県が全国有数の生産量をほこるある農産物のグラフです。その農産物の名前を答えなさい。



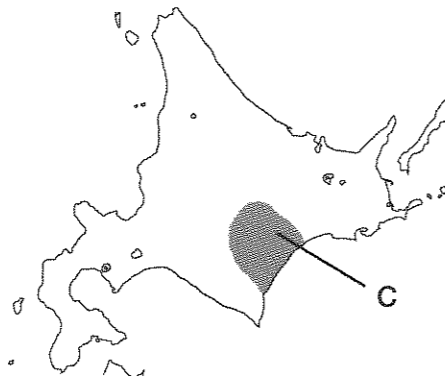
- (5) 下線部④について、神通川上流から出されたカドミウムが原因で起こった四大公害病を答えなさい。
- (6) 下線部⑤について、鹿児島県に属する世界自然遺産の鳥名を漢字で答えなさい。
- (7) 下線部⑥について、奄美大島をふくむ南西諸島の気温と降水量のグラフを次のア～ウの中から1つ選び、記号で答えなさい。



(8) 下線部⑦について、日本は石炭の多くを外国からの輸入に頼っていますが、グラフ3のBにあてはまる国を答えなさい。



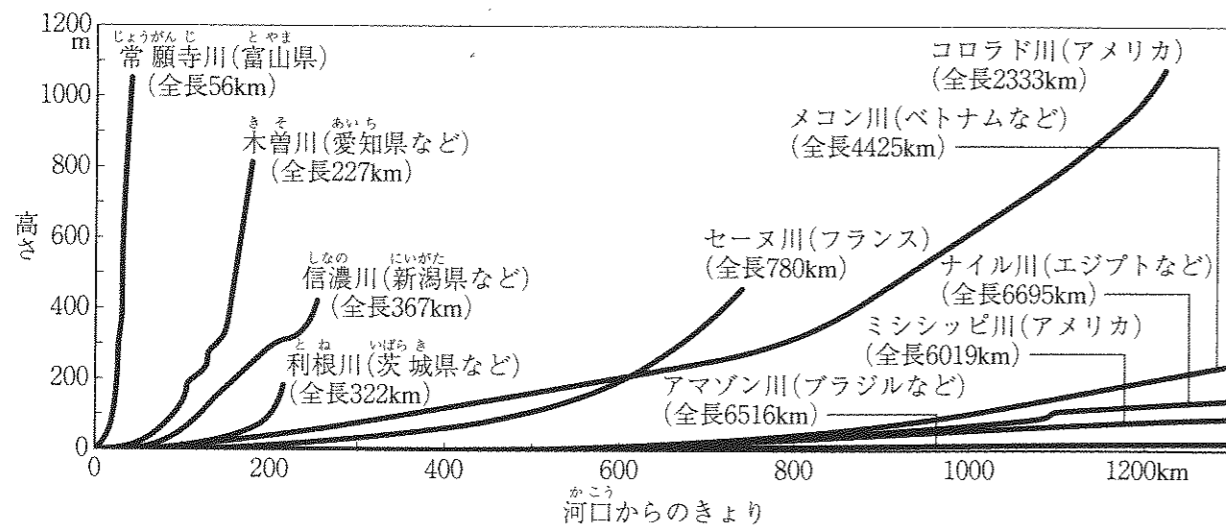
(9) 下線部⑧について、次の地図に示した地域Cはじゃがいもやてんさいなどの作物を多く生産しています。この地域を解答欄に合うように漢字で答えなさい。



(10) 下線部⑨について、外国から原料を輸入し、すぐれた技術で工業製品を作り、外国に輸出することを何といいますか。漢字で答えなさい。

(11) 下線部⑩について、日本の東のはしにある島名を漢字で答えなさい。

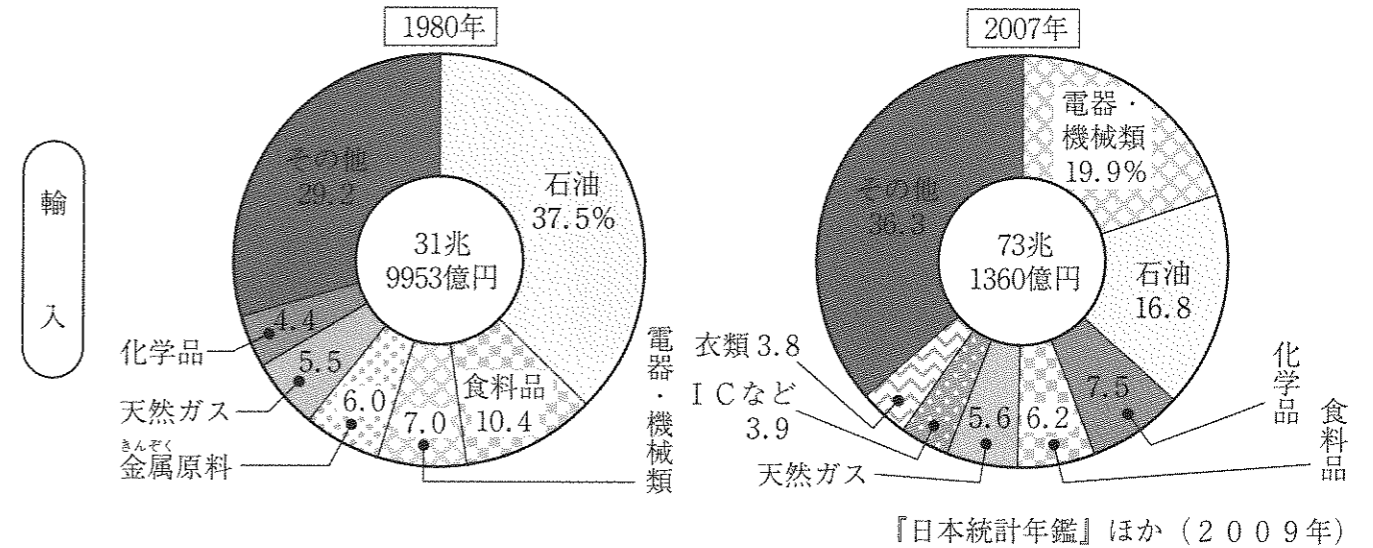
(12) 下線部⑪について、次の資料を見て外国の川と比べて、日本の川の特ちょうを短くまとめて答えなさい。



(13) 下線部⑬について、食料輸入における問題としてあやまっているものを、次のア～エの中から1つ選び、記号で答えなさい。

- ア 日本での使用が認められていない農薬を使っている農産物がふくまれている可能性があります。
- イ 日本向けの食料生産のため、輸出国の自然が破壊されています。
- ウ 世界の人口が増えています、日本の人口は減少しているので、食料輸入に関して影響はありません。
- エ 農産物から燃料が作られるようになったので、食料として使われる農産物の量が減ってしまう可能性があります。

(14) 下線部⑭について、次の資料から以前に比べ電器・機械類や衣類などの工業製品の輸入が多くなったことがわかります。その理由を短くまとめて答えなさい。



(15) 下線部⑮について、昨年のオリンピックが開かれた都市名を答えなさい。(ただし、正式名称でなくてもよいです。)また、その都市がふくまれる国を次の地図中のア～エの中から1つ選び、記号で答えなさい。



2 次の1～15を読み、後の問いに答えなさい。

1 このころの中国は（あ）を通じてインドや西アジアとの交流がさかんであり、東大寺正倉院には、日本から派遣された使いが中国から持ち帰ったと考えられるインドや西アジアのものも多く残されています。

2 天下統一をなしとげた（い）は、さらにこのころの中国を従えようと考え、当時中国にっていた朝鮮に2度にわたって兵を送りこみました。

3 朝鮮で農民の反乱が起これ、朝鮮政府がこのころの中国に援軍を求めると、日本も対抗して軍隊を送りました。この後日本と中国との間で（う）戦争が起これ、日本が勝利しました。

(1) (あ)～(う)にあてはまる語句を答えなさい。ただし、(い)、(う)は漢字で答えなさい。

(2) 2に関連する、正しい文を次のア～エの中から1つ選び、記号で答えなさい。

ア 刀狩が行なわれ、貴族の反乱はなくなりました。

イ 全国の田畑の面積や土地のよしあしや収穫高を調べる検地が行なわれました。

ウ 自分のむすめを天皇のきさきにし、生まれた子を天皇にたてて天皇に代わって政治を進めました。

エ 中国を手本としながら、土地や人々は国のものとするなど、新しい政治のしくみがととのえられていきました。

(3) 1～3を時代の古い順に正しくならびかえたものを次のア～カの中から1つ選び、記号で答えなさい。

ア 1→2→3      イ 1→3→2      ウ 2→1→3

エ 2→3→1      オ 3→1→2      カ 3→2→1

4 (え)戦争が始まると、アメリカが大量の物資を日本に注文したため、日本の産業が活気づき、経済が立ち直りだしました。

5 4月になるとアメリカは(お)への上陸を開始し、3ヶ月にもわたって各地で激しい地上戦が行なわれ、多くの地元の住民が戦闘に巻き込まれました。

6 アメリカ大統領の手紙を持って日本にやってきたペリーの強い態度におされ、翌年(か)条約が結ばれました。

(4) (え)～(か)にあてはまる語句をすべて漢字で答えなさい。

(5) 5に関連する、正しい文を次のア～エの中から1つ選び、記号で答えなさい。

ア 現在でも日米安全保障条約に基づいて、多くの米軍基地が残っています。

イ 古くから住んでいたアイヌの人々は、土地を失い伝統的な生活様式を否定されました。

ウ このあとソ連に占領され、1972年に日本に復帰しました。

エ 琉球王国が約400年にわたって栄えていましたが、文明開化によりその支配は終わりました。

(6) 4～6を時代の古い順に正しくならびかえたものを次のア～カの中から1つ選び、記号で答えなさい。

ア 4→5→6      イ 4→6→5      ウ 5→4→6

エ 5→6→4      オ 6→4→5      カ 6→5→4

7 絵画では、浮世絵が多くの人々に喜ばれ、代表的な浮世絵師の一人、(き)は「東海道五十三次」を完成させました。

8 (く)は、町人の苦しみや悲しみをしばいの台本にえがき、歌舞伎や人形しばいを大きく発展させました。

9 (け)はかな文字を使って、宮廷の生活や自然の変化を生き生きと表現した「枕草子」を書きました。


(7) (き)～(け)にあてはまる語句をすべて漢字で答えなさい。

(8) 7について、浮世絵として正しいものを次のア～ウの中から1つ選び、記号で答えなさい。

ア

イ

ウ



(9) 7～9を時代の古い順に正しくならびかえたものを次のア～カの中から1つ選び、記号で答えなさい。


ア 7→8→9      イ 7→9→8      ウ 8→7→9

エ 8→9→7      オ 9→7→8      カ 9→8→7

- 10 中国の古い歴史の本のなかで、「卑弥呼のおさめる（こ）が、30ほどの国を従えている」と書かれています。
- 11 古墳が作られはじめたころから、朝鮮半島や中国から移り住む（さ）が増えました。
- 12 人々は川や海の近くに住み、住居近くには貝がらがすてられて積もったあとが見つかることがあります、これを（し）といいます。

(10) (こ)～(し)にあてはまる語句をすべて漢字で答えなさい。

- (11) 下の写真と最も関係が深いのは、10～12のうちのどれですか。  
10～12の中から1つ選び、数字で答えなさい。



- (12) 10～12を時代の古い順に正しくならびかえたものを次のア～カの中から1つ選び、記号で答えなさい。
- |            |            |            |
|------------|------------|------------|
| ア 10→11→12 | イ 10→12→11 | ウ 11→10→12 |
| エ 11→12→10 | オ 12→10→11 | カ 12→11→10 |

- 13 (す)は、朝廷にせまって、家来となった武士を地方の守護や地頭につけ、地方にも力がおよぶようにしました。
- 14 徳川家光は、武家諸法度に(せ)という制度を付け加え、大名の妻子も人質として、江戸で生活させました。
- 15 (そ)はヨーロッパに渡り、天皇中心の政治のしくみをつくるためドイツの憲法などを学びました。帰国後、初代内閣総理大臣となって憲法草案をつくりあげました。

(13) (す)～(そ)にあてはまる語句を漢字で答えなさい。

- (14) 次の文は13～15のうち、どの時代の様子をのべたものですか。正しいものを13～15の中から1つ選び、数字で答えなさい。

農民は千歯こきや備中ぐわなどの進んだ農具を<sup>びつちゅう</sup>発明し、農産物の生産を高めていきました。また、商人や村の有力者のなかには小さな工場を建て綿織物・しょうゆ・酒などをつくるものがあられ、各地の特産物となっていきました。

- (15) 13～15を時代の古い順に正しくならびかえたものを次のア～カの中から1つ選び、記号で答えなさい。
- |            |            |            |
|------------|------------|------------|
| ア 13→14→15 | イ 13→15→14 | ウ 14→13→15 |
| エ 14→15→13 | オ 15→13→14 | カ 15→14→13 |

3 次の資料を読んで、後の問いに答えなさい。

わが国の①政治は②選挙で選ばれた国民の代表で構成されている③国会と④内閣、⑤裁判所の⑥三つの機関が分担して進めています。しかし、⑦すべての人が安心してくらせる社会をつくるためには⑧地方政治の役割も重要であるといえます。

- (1) 下線部①について、政治や社会に対して、多くの人々が共通してもっている意見のことを何といいますか、漢字で答えなさい。
- (2) 下線部②について、市町村や都道府県、国の議員を選ぶ選挙権は満何歳からあたえられていますか、答えなさい。
- (3) 下線部③について「山に親しむ機会を得て、山のめぐみに感謝する」という目的からつくられた国民の祝日を何といいますか、答えなさい。
- (4) 下線部④について、次の問いに答えなさい。
- i 内閣で開かれる国務大臣の会議を何といいますか、漢字で答えなさい。
- ii 内閣の主な仕事に関するものとして、あやまっているものを次のア～エの中から1つ選び、記号で答えなさい。
- ア 国の収入と支出を決める。                      イ 外国と条約を結ぶ。  
ウ 最高裁判所の長官を指名する。                  エ 衆議院の解散を決める。
- (5) 下線部⑤について、法律が憲法に違反していないかを審査する権限を何といいますか、漢字で答えなさい。
- (6) 下線部⑥について、一つのところに権力が集中しないようにくふうされた政治のしくみを何といいますか、漢字で答えなさい。
- (7) 下線部⑦について、障がいの有無に関係なくすべての人が安心してくらせる社会を目指す考え方を何といいますか、正しいものを次のア～エの中から1つ選び、記号で答えなさい。
- ア メディアリテラシー                      イ ノーマライゼーション  
ウ トレーサビリティ                      エ ライフライン
- (8) 下線部⑧について、次の問いに答えなさい。
- i 地方の政治を行う費用はおもに市民が納める税金によってまかなわれていますが、そのうち土地や建物などにかかる税金を何といいますか、漢字で答えなさい。
- ii 地方公共団体が、国の法律とは別に定める決まりを何といいますか、漢字で答えなさい。

受験番号		氏名	
------	--	----	--

平成29年度〔社 会〕前期入学試験問題 解答用紙

1

(1)		(2)		(3)	
(4)		(5)		(6)	
(7)		(8)		(9)	平野
(10)		(11)			
(12)	日本の川は外国の川と比べて,			(13)	
(14)					
(15)	都市			記号	

--

2

(1)	(あ)	(い)	(う)	(2)		(3)	
(4)	(え)	(お)	(か)	(5)		(6)	
(7)	(き)	(く)	(け)	(8)		(9)	
(10)	(こ)	(さ)	(し)	(11)		(12)	
(13)	(す)	(せ)	(そ)	(14)		(15)	

--

3

(1)		(2)	満 歳	(3)	
(4)	i	ii			
(5)		(6)		(7)	
(8)	i	ii			

--