

1 しょうやくんの家族が春休みの旅行の計画について話をしています。次の会話文を読みながら、後の問いに答えなさい。

しょうや：今年の春休みは、小学生最後の春休みだから、ぜひ日本の①世界遺産を訪れてみたいよ。
新しく（あ）県の軍艦島も世界遺産に登録されたことだし。

お父さん：しょうや、よく知っているね。何で知ったの？

しょうや：②新聞やテレビで報道されていたよ。

お父さん：そうだったんだね。③たくさんある情報の中で自分に必要な情報を選び出し、活用する能力はこれからとても大切な能力だと考えられているんだよ。

お母さん：さて、どこがいいかしら。

日本の中で、一番東にある世界自然遺産の（い）なんてどう？

④おいしいものもたくさんあるそうよ。

ゆりこ：それもいいけど、沖縄もいいな。昔から独特の文化が栄えていたと聞いたよ。

日本最西端の（う）島にも行きたいな。

お父さん：沖縄は気候も特徴的で、⑤独特の農業がさかんだよね。

しょうや：ぼくは、戦争の恐ろしさを後世に伝えるために世界遺産として登録されている（え）を見てみたいよ。

お母さん：（え）なら、大阪から車で海沿いの（お）自動車道を通ればいけるよね。

気候も（か）という特徴だったよね。

お父さん：この都道府県での⑥養殖が有名な（き）も、食べてみたいしな。

お母さん：じゃあ、決まり！

今年の春休みは、戦争の悲惨さを改めてまなぶ旅行にしましょう。

(1) 下線部①の登録を行う、国際連合の機関を何といいますか。カタカナで答えなさい。

(2) 文中（あ）にあてはまる語句を、漢字で答えなさい。

(3) 下線部②のような、同じ情報を送り手から多くの人に一度に送る方法を何といいますか。

(4) 下線部③を何といいますか。正しいものを次のア～エの中から1つ選び、記号で答えなさい。

ア メディアリテラシー イ ユニバーサルデザイン
ウ インターネット エ 情報通信技術

(5) 文中（い）にあてはまる語句を、漢字で答えなさい。

(6) 下線部④について、（い）がある都道府県での生産が全国1位となっているものとしてあやまっているものを次のア～エの中から1つ選び、記号で答えなさい。（2014年現在）

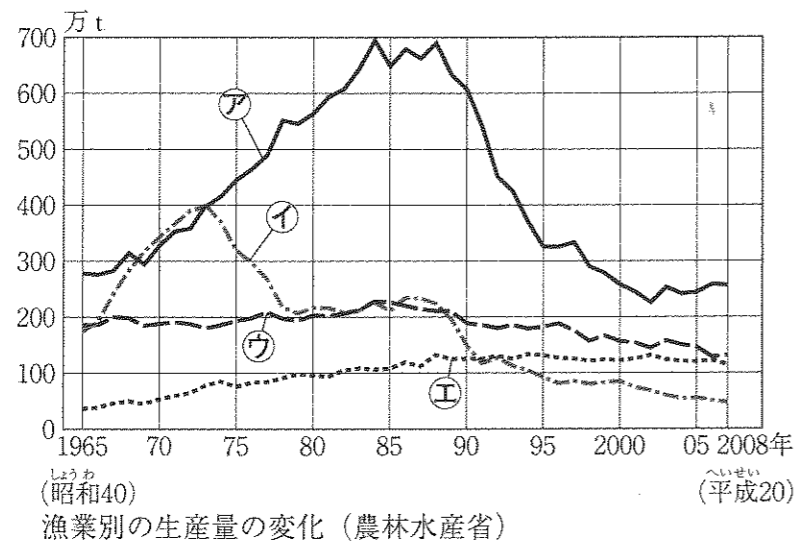
ア 肉牛 イ 小麦 ウ りんご エ ジャがいも

(7) 文中（う）にあてはまる語句を、漢字で答えなさい。

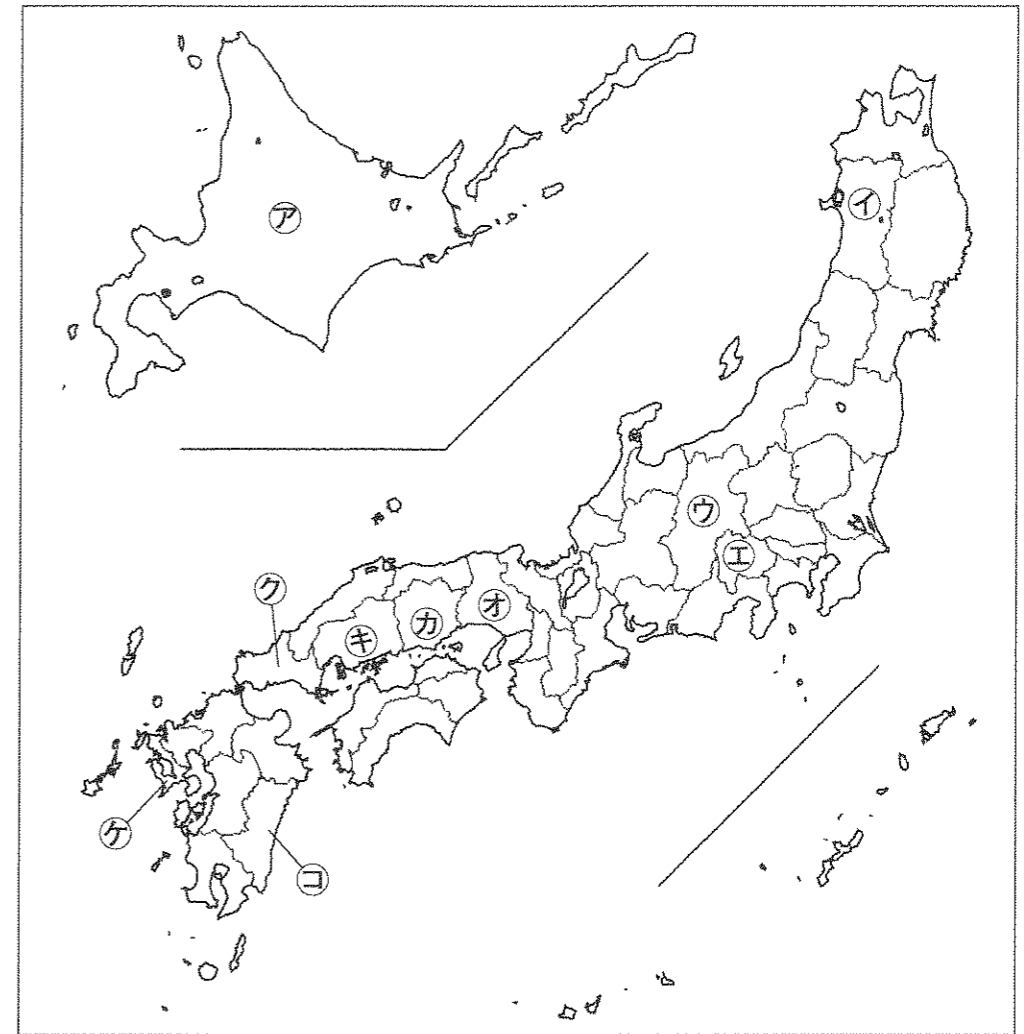
(8) 下線部⑤について、沖縄でさかんに栽培されている作物としてあやまっているものを次のア～エの中から1つ選び、記号で答えなさい。

ア さとうきび イ きく ウ キャベツ エ パイナップル

- (9) 文中(え)にあてはまる語句を、答えなさい。
- (10) 文中(お)にあてはまる語句を、漢字で答えなさい。
- (11) 文中(か)にあてはまる説明として正しいものを次のア～エの中から1つ選び、記号で答えなさい。
 ア 1年を通して雨が少なく、あたたかい。
 イ 冬に雪が多い。
 ウ 1年を通して雨が少なく、夏と冬の気温差が大きい。
 エ 1年を通して降水量が多く、暑い。
- (12) 文中(き)にあてはまる語句として正しいものを次のア～エの中から1つ選び、記号で答えなさい。
 ア ほたて イ かき ウ わかめ エ まぐろ
- (13) 下線部⑥について、下の漁業別の生産量の変化を表すグラフのうち、養殖漁業をあらわしているものとして正しいものをグラフ中の㉑～㉔の中から1つ選び、記号で答えなさい。



- (14) 文中(い)(え)がある都道府県名を答え、さらにその位置を右の地図中㉑～㉔の中から1つずつ選び、記号で答えなさい。



2 次の1～17を読み、後の問いに答えなさい。

- 1 今から1万2000年ほど前、人々は食べ物をにたきしたり、たくわえたりするために、厚くてもろく、なわを転がしてつくった模様の入った(あ)土器を使っていました。
 - 2 今から2400年ほど前に、稲作は中国や朝鮮半島から伝わり、かり取られた米は(い)で保存されていました。
 - 3 古墳がつくられ始めたころから、朝鮮半島や中国から日本に移り住む(う)が増え、はた織りや土器づくり、土木建築などの進んだ技術や、漢字や仏教などの新しい文化を伝えました。
- (1) (あ)～(う)にあてはまる語句を漢字で答えなさい。
 - (2) 2に関連し、中国の歴史書の中に書かれた邪馬台国の女王は誰か、漢字で答えなさい。
 - (3) 3に関連し、古墳の周りに置かれた人や家、動物などをかたどった土器を答えなさい。
 - (4) 1の時代を代表する三内丸山遺跡(①)、2の時代を代表する吉野ヶ里遺跡(②)、3の時代を代表する大仙古墳(③)はそれぞれ下の地図のどこにあたるか、正しい組み合わせを次のア～カの中から1つ選び、記号で答えなさい。



	三内丸山遺跡	吉野ヶ里遺跡	大仙古墳
ア	①=A	②=B	③=C
イ	①=A	②=C	③=B
ウ	①=B	②=A	③=C
エ	①=B	②=C	③=A
オ	①=C	②=A	③=B
カ	①=C	②=B	③=A

- 4 (え)氏はむすめを天皇のきさきとし、生まれた子を天皇にたて、天皇にかわって政治を進めました。
 - 5 聖徳太子は(お)氏と協力して、天皇を中心とする政治のしくみをととのえようとしました。
 - 6 仏教の力で国じゅうが幸せになることを願った(か)天皇は都に大仏をつくりました。
- (5) (え)～(か)にあてはまる語句を漢字で答えなさい。
 - (6) 4の時代に関連する正しい文を次のア～エの中から1つ選び、記号で答えなさい。
 ア 住居の近くには貝がらや木の実、動物や魚の骨が捨てられていた貝塚がありました。
 イ 西アジアやヨーロッパとシルクロードを通じての交流がさかんで、広く世界の文化とつながりをもっていました。
 ウ 貴族は和歌や舞曲・絵合わせ・けまりなどの遊びを楽しみ、その教養をきそいました。
 エ 『浦島太郎』などのおとぎ話の絵本がつくられ、人々に親しまれました。
 - (7) 5の時代に関連する、あやまっている文を次のア～エの中から1つ選び、記号で答えなさい。
 ア 聖徳太子は朝廷の役人を12段階に分けて、家がらではなく、能力によって取り立てました。
 イ 聖徳太子は仏教を広めるため、法隆寺を建てました。
 ウ 中大兄皇子は小野妹子らを隋に送って、対等な国の交わりを結ぼうとしました。
 エ 中大兄皇子は中国の政治のしくみを学んできた留学生とともに、天皇を中心とする強力な国づくりを進めました。
 - (8) 4～6を時代の古い順に正しくならびかえたものを次のア～カの中から1つ選び、記号で答えなさい。
 ア 4→5→6 イ 4→6→5 ウ 5→4→6
 エ 5→6→4 オ 6→4→5 カ 6→5→4

- 7 (き) は、力をつけてきた大名をおさえ、明との国交を開き、貿易をはじめました。
- 8 元軍は2度にわたって九州北部におしよせてきましたが、(く) の命令を受けて守りについていた御家人たちが応戦しました。

9 (け) は朝廷の重要な地位を一族で独占し、武士として初めて中央の政治を行いました。

(9) (き) ~ (け) にあてはまる人物を漢字で答えなさい。

(10) 7の時代に関連する、正しい文を次のア~エの中から1つ選び、記号で答えなさい。

- ア 14世紀前半に鎌倉に幕府が開かれました。
 イ 3代将軍は京都の北山に銀閣を建てました。
 ウ 8代将軍は京都の東山に金閣を建てました。
 エ 15世紀に、将軍のあとつぎをめぐり、京都で応仁の乱がおこりました。

(11) 8の時代に関連する、あやまっている文を次のア~エの中から1つ選び、記号で答えなさい。

- ア 平治の乱で敗れた源義経は伊豆に流されました。
 イ この時代の幕府政治は御恩と奉公という、将軍と御家人の強い結びつきによって成り立っていました。
 ウ 源頼朝の妻の北条政子は、朝廷と対決する勇気をふるい立たせる演説を御家人にしました。
 エ 元との戦いから50年ほどのちに、幕府は有力御家人らによってたおされました。

(12) 7~9を時代の古い順に正しくならびかえたものを次のア~カの中から1つ選び、記号で答えなさい。

- ア 7→8→9 イ 7→9→8 ウ 8→7→9
 エ 8→9→7 オ 9→7→8 カ 9→8→7

10 織田信長の家来であった(こ) は、信長の死後わずか8年で天下統一をなしとげました。

11 (さ) は武家諸法度に参勤交代の制度を加え、幕府の力を強くしました。

12 (し) は前野良沢らと苦勞を重ねて、オランダ語の人体かいぼう書のほん訳をし、『解体新書』を出版しました。

(13) (こ) ~ (し) にあてはまる人物を漢字で答えなさい。

(14) 10に関連し、織田信長に関する正しい文を次のア~オの中からすべて選び、記号で答えなさい。

- ア 今川義元の大軍を桶狭間の戦いで破り、全国にその名を広めました。
 イ 一向宗の中心地である大阪の石山本願寺を降伏させ、その跡地に天下統一の拠点となる大きな城を築きました。
 ウ 武士と農民・町人の身分をはっきりさせて、武士が支配する社会のしくみをつくり直していきました。
 エ 信長が治める領内では、キリスト教を禁止し、商人や職人はだれでも自由に商工業をできるようにしました。
 オ 京都の本能寺で家来の明智光秀にせめられました。

(15) 11の時代に関連する、あやまっている文を次のア~エの中から1つ選び、記号で答えなさい。

- ア 九州の島原や天草で、キリスト教信者をふくむ農民が一揆をおこしたので、幕府は農民が持つ刀や鉄砲を取り上げる刀狩を行い、農業に専念させるようにしました。
 イ 武士には名字を名乗り、刀をさす特権があり、女性の地位を男性よりも低くみるならわしが強まりました。
 ウ 農民は備中ぐわを使って土を深く耕し、千歯こきやとうみなどの進んだ農具を発明し、ほしかなどの肥料を使ったりして、農産物の生産を高めていく一方で、新田の開発もしました。
 エ 大阪は「天下の台所」とよばれ、街道や航路によって全国から運び込まれた米や特産物が商人に買い取られ、製品に加工されるなどして各地に売りさばかれるなど、日本の商業の中心地でした。

(16) 12の時代の終わりごろを表している、正しい文を次のア~エの中から1つ選び、記号で答えなさい。

- ア 1854年、幕府は貿易のためアメリカとの間に日米和親条約を結び、下田と函館の二港を開きました。
 イ 開国して貿易が始まると、物の値段も安定しており、人々の生活に大きな影響はありませんでしたが、外国と結んだ通商条約が不平等であったので、幕府への不満が高まりました。
 ウ 幕府への不満が高まる中、幕府をたおして天皇中心の国家をつくる運動を長州藩や薩摩藩などの下級武士たちがおこしました。
 エ 1867年、15代将軍徳川家康は、これ以上幕府政治を続けられないとして、政権を天皇に返しました。

- 13 日本は、清から得た賠償金などを使って軍備を増強し、イギリスと同盟を結び、ロシアとの戦争に入りました。
- 14 ^{ペキン}北京の近くで日本軍と中国軍とのしょうとつがおこり、これがきっかけとなって中国との全面戦争になりました。
- 15 日本は、韓国を併合した後、第一次世界大戦に加わり、中国や太平洋に勢力をのぼしました。

(17) 13に関連し、ロシア艦隊を破った日本の連合艦隊の司令官を次のア～エの中から1つ選び、記号で答えなさい。

- ア 伊藤博文 イ 東郷平八郎 ウ 大塩平八郎 エ 陸奥宗光

(18) 14に関連する、あやまっている文を次のア～エの中から1つ選び、記号で答えなさい。

- ア この戦争にゆきづまった日本はドイツ・イタリアと軍事同盟を結び、中国を支援するアメリカやイギリスとの対立が深まりました。
- イ 資源の少ない日本では、戦時中に米やさとうなどの生活必需品は切符制・配給制となりました。
- ウ 長引く戦争により、中学生や女学生は兵器工場に動員され、大学生は兵士として動員されました。
- エ 8月8日にソ連が日本に宣戦し、原子爆弾が9日に広島に、14日に長崎に投下され、天皇は無条件降伏することを15日に国民にラジオ放送で伝えました。

(19) 15のころの様子として、正しい文を次のア～エの中から1つ選び、記号で答えなさい。

- ア 町にはくつをはき、洋服を着る人もあられ、牛肉も食べられるようになりました。
- イ デパートの店員や、タイピストやバスの車掌、電話の交換手など、これまでになかった新しい仕事につく女性が増えていきました。
- ウ 「ぜいたくは敵だ」という標語が生まれ、朝鮮では朝鮮の人々の姓名を日本名に改めさせる政策がおし進められました。
- エ 民主的で男女平等の社会の実現をめざし、女性に参政権を与える法律が平塚らいてうらによってつくられました。

(20) 13～15を時代の古い順に正しくならびかえたものを次のア～カの中から1つ選び、記号で答えなさい。

- ア 13→14→15 イ 13→15→14 ウ 14→13→15
エ 14→15→13 オ 15→13→14 カ 15→14→13

16 1951年、講和会議で平和条約を、また同日に安全保障条約を結び、日本独立後もこの国の基地が日本にとどまることになりました。

17 1965年に国交を結び、2002年にサッカーワールドカップを共同で開くなど、友好を強めてきました。

(21) 16・17にあてはまる国を次のア～オの中から1つずつ選び、それぞれ記号で答えなさい。

- ア 中国 イ 韓国 ウ 北朝鮮 エ アメリカ オ ソ連

3 私たちの生活と政治について、後の問いに答えなさい。

日本では、政治権力が一箇所に集中して独占されないように、①司法、立法、行政のそれぞれが②互いを抑制しあう仕組みがとられており、これらのそれぞれの機関では、③私たちの生活に関わる多くのことが決められ実行されています。そのための費用の一部には、私たちが納めた④税金が利用されています。国の政治のあり方の最終決定権は国民が持っており、⑤議員を選挙したり、政治のあり方に様々な評価を下すなど、⑥政治に参加することができます。⑦少子高齢化や⑧グローバル化が進む現在、より良い暮らしを実現するためにも積極的に考え参加していくことが大切です。

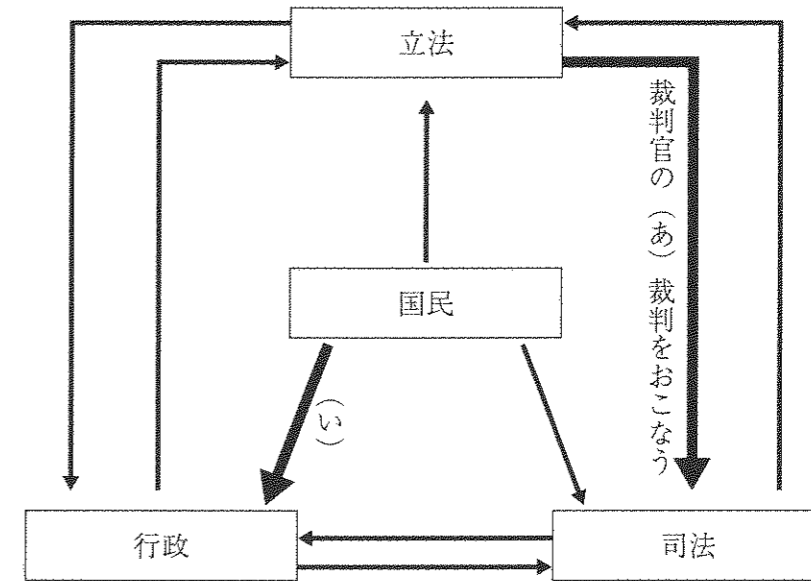
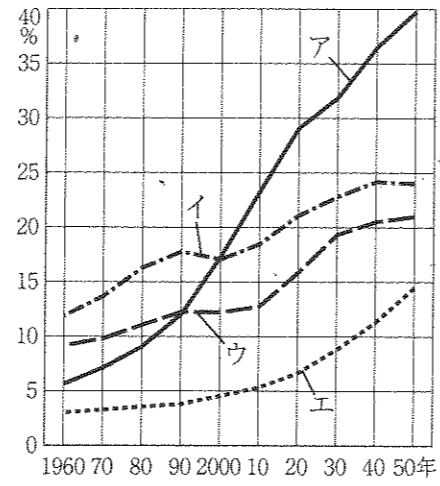


図1 三権分立と国民のかかわり

- (1) 下線部①について、行政を担当する機関を何といいますか。漢字で答えなさい。
- (2) 下線部①について、司法に国民が関わる仕組みとして、選出された国民が裁判官と共に裁判に参加し判決の決定に加わる仕組みを何といいますか。漢字で答えなさい。
- (3) 下線部②について、図1では、それぞれの立場での影響力を示しています。図1中の(あ)、(い)にあてはまる語句を漢字で答えなさい。
- (4) 下線部③について、法律の改正で、みどりの日がこれまでの4月29日から5月4日に変更されました。では、新たに4月29日に設けられた祝日とは何ですか。答えなさい。
- (5) 下線部④について、住んでいる地域に納める税金を何といいますか。次のア～エの中から1つ選び、記号で答えなさい。
ア 所得税 イ 法人税 ウ 消費税 エ 住民税
- (6) 下線部⑤について、2015年6月17日の法改正で、選挙権の年齢が変更になりました。満20歳から何歳に変更になりましたか。答えなさい。
- (7) 下線部⑥について、国の政治だけではなく、地域での重要事項を決定する際に、その地域で暮らす住民の意思を問う制度を何といいますか。漢字で答えなさい。

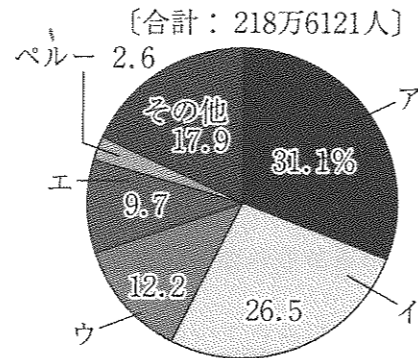
(8) 下線部⑦について、グラフ1は各国の高齢化率を示したグラフです。日本を示したものとして正しいものを、グラフ1中のア～エの中から1つ選び、記号で答えなさい。



おもな国の65才以上の人口の割合の変化(厚生労働省資料)

グラフ1 (2010年厚生労働省資料)

(9) 下線部⑧について、グラフ2は日本で暮らす外国人の割合を国別に示したものです。韓国・朝鮮の割合を示したものとして正しいものを、グラフ2中のア～エの中から1つ選び、記号で答えなさい。



グラフ2 日本に住む外国人 (2009年 外務省・法務省)

受験番号		氏名	
------	--	----	--

平成28年度〔社 会〕前期入学試験問題 解答用紙

1

(1)		(2)		(3)	
(4)		(5)		(6)	
(7)		(8)		(9)	
(10)		(11)		(12)	
(13)		(14)	(い)都道府県		記号
(え)都道府県			記号		

--

2

(1)	あ	い	う
(2)		(3)	(4)
(5)	え	お	か
(6)		(7)	(8)
(9)	き	く	け
(10)		(11)	(12)
(13)	こ	さ	し
(14)		(15)	(16)
(17)		(18)	(19)
(20)		(21)	16
			17

--

3

(1)		(2)		(3)	あ
(3)	い	(4)		(5)	
(6)	満 歳	(7)		(8)	
(9)					

--