

2025年度  
中等部入学試験問題  
社 会  
(30分間)

【注 意】

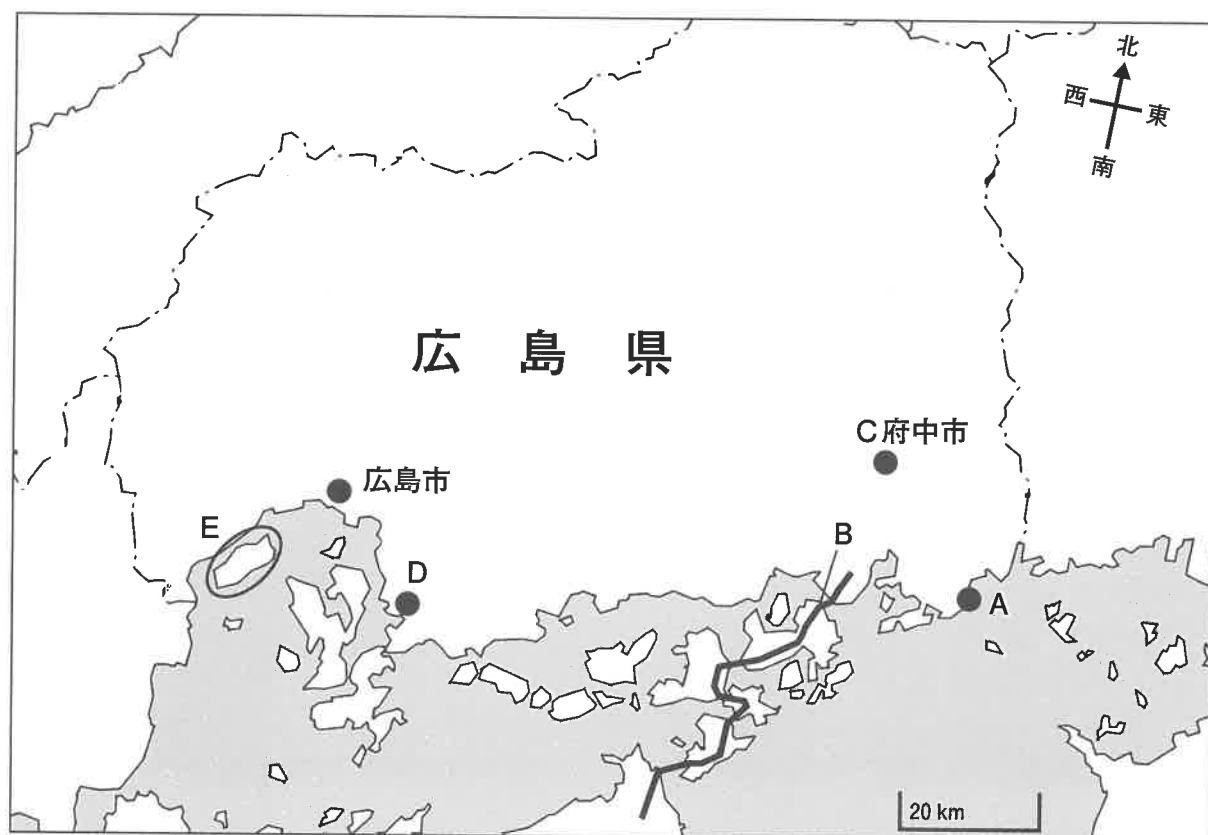
1. 解答は、すべて別紙の解答用紙に記入しなさい。
2. 解答は、とくに指示がない限り、漢字で書くべきところは正しい漢字を使って答えなさい。
3. 複数の解答がある場合には、とくに指示がない限り、答える順番は問いません。

【注意】 受験番号は、算用数字で横書きにすること。

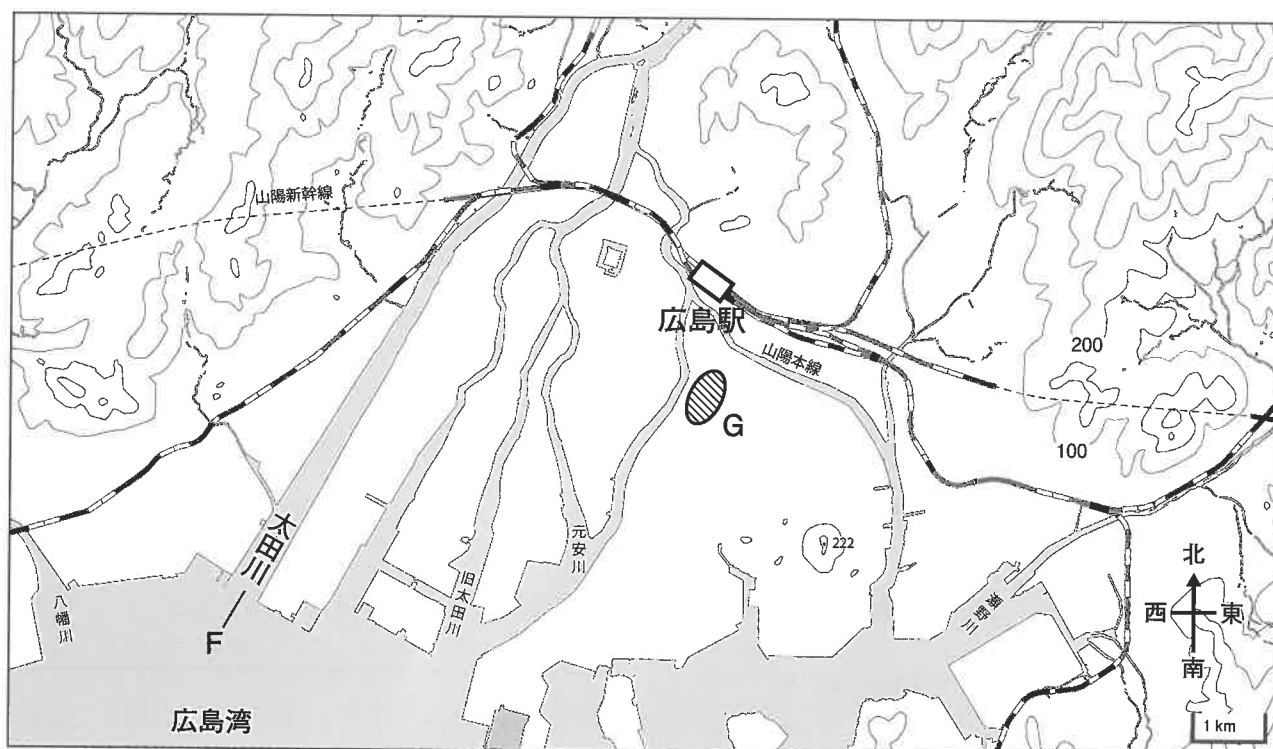
受 験 番 号				

氏 名	
--------	--

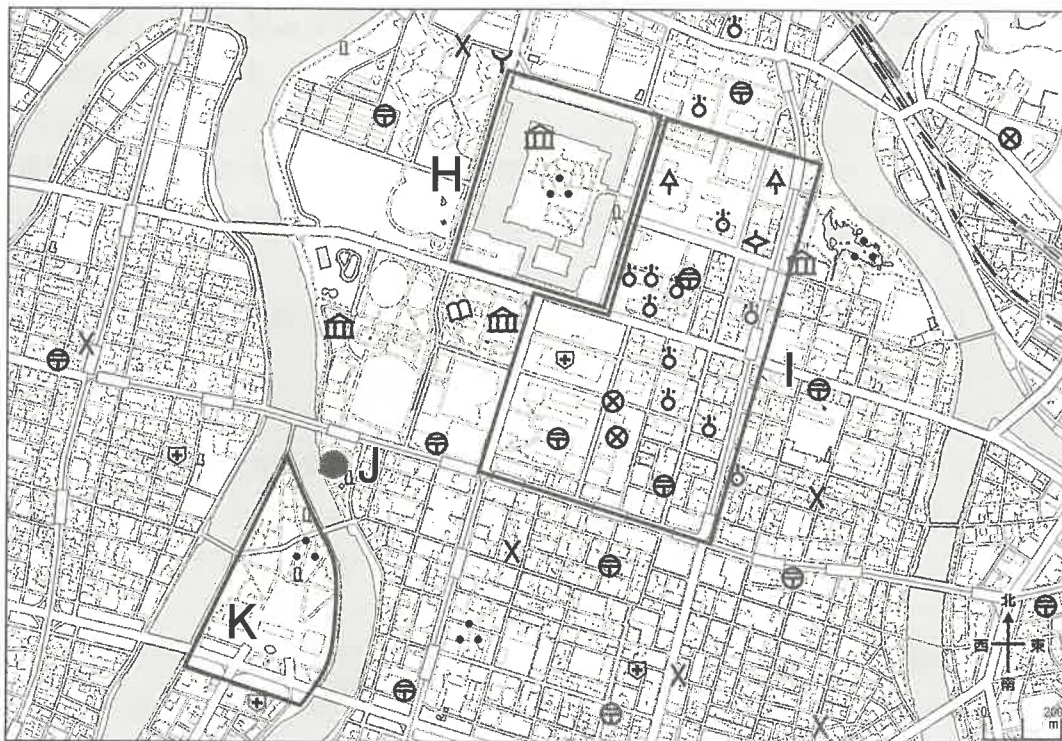
次の地図 1 ～ 3 は、地理院地図で広島県やその周辺を様々な縮尺であらわしたものです。地図を見て以下の問いに答えなさい。



地図 1



地図 2



地図3 広島市中心部

問1 地図1のAは鞆（<sup>とも</sup>鞆の浦）です。この地について、次の問いに答えなさい。

- ① この地は、1573年に織田信長によって京都を追放された室町幕府の将軍が、その後に拠点とした場所として知られています。この将軍の名前を答えなさい。
- ② この地は、江戸時代に他国からの外交使節が立ち寄る場所となっていたことで知られています。この外交使節が立ち寄った場所の中には、その文化の影響を受けた右の写真のようなおどり（岡山県瀬戸内市の<sup>からこ</sup>唐子踊）が祭りとして残っている場所もあります。この外交使節のことを何と呼ぶか、漢字5字で答えなさい。



問2 地図1のBは、本州と四国を結ぶ3本のルートの中の1つです。このルートを写した右の写真を参考にして、次の問いに答えなさい。

- ① このルートは、「瀬戸内  海道」の愛称で知られています。空欄に入る言葉を1つ選び、記号で答えなさい。

ア. しおかぜ    イ. ゆめしま    ウ. しまなみ  
エ. とびしま    オ. うずしお



② このルートの特徴を述べた文として正しいものを1つ選び、記号で答えなさい。

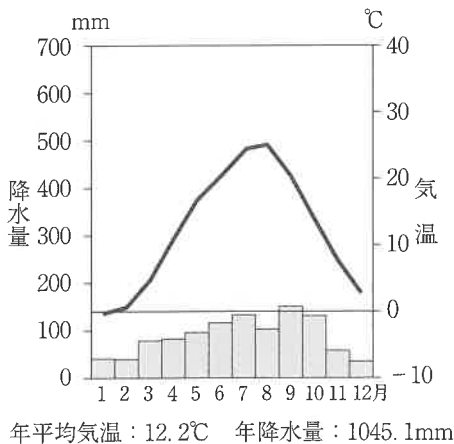
- ア. 自動車と鉄道の両方が通ることができる構造になっており、3本のルートの中で最も早く開通した。
- イ. 非常に長い一本のつり橋であり、近年まで世界最長としてギネス世界記録に認定されていた。
- ウ. ほとんどに自転車歩行者道が併設されており、サイクリングを核とした観光地づくりが行われている。
- エ. 橋とトンネルによって構成されており、その接続部分に「海ほたる」と呼ばれる大きな人工島がある。

③ このルートは、いくつかの島を通過しています。それらの島々の特産品を使用した土産物として正しいものを1つ選び、記号で答えなさい。

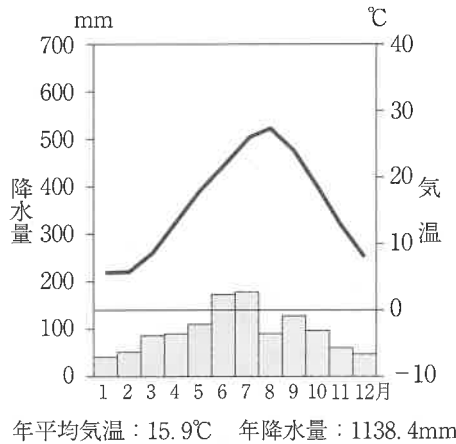
- ア. マンゴープリン      イ. りんごパイ      ウ. パイナップルケーキ
- エ. レモンケーキ      オ. さくらんぼゼリー

④ ③の土産物は、この地域の気候と深い関係があります。次の雨温図は札幌・松本（長野県）・静岡・生口島（広島県）・松江のものです。生口島の雨温図をあらわしたものを1つ選び、記号で答えなさい。

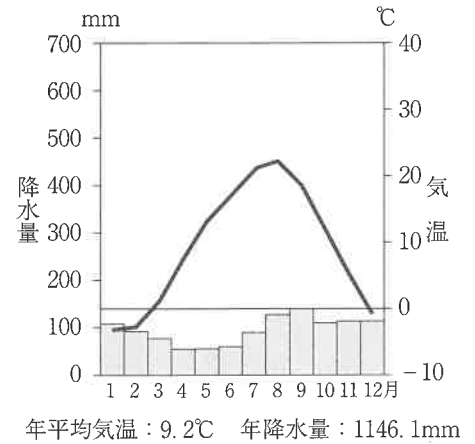
ア.



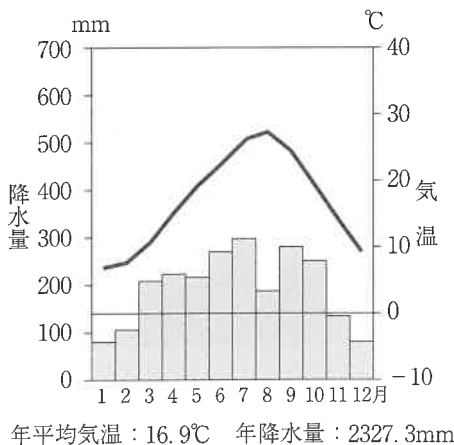
イ.



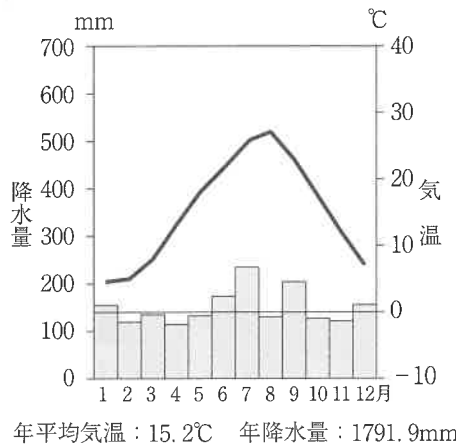
ウ.



エ.



オ.



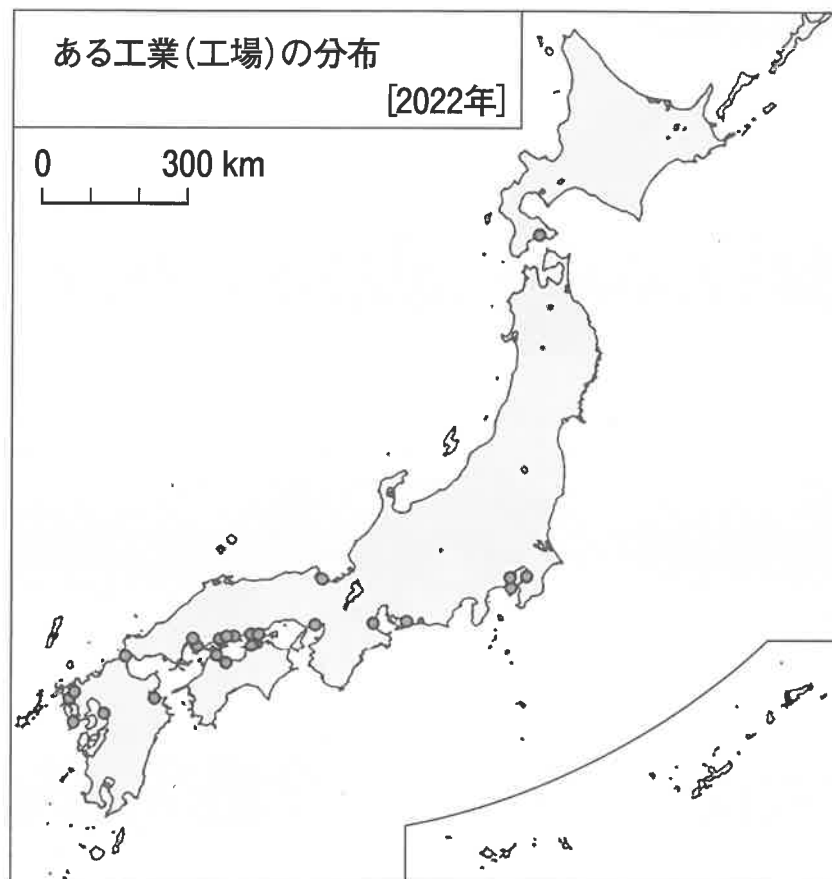
（1991～2020年の平均値 気象庁データより）

問3 地図1のCは、かつて備後国<sup>びんご</sup>の国府がおかれたことから、このような地名になったと考えられます。律令制度における国府や、そこで政治を行う国司について説明したものとして正しいものを1つ選び、記号で答えなさい。

- ア. 各国の国司は、その地の豪族の中から任命された。
- イ. 各国の国司は、農民たちを防人として自分のもとで労働させることができた。
- ウ. 各国に国府を置くことは、聖武天皇によって741年に定められた。
- エ. 各国の国府には、口分田から収穫した稲の約3%が租として納入された。

問4 地図1のDは、かつての日本軍の拠点がおかれて発展した都市で、特にある工業が発展しました。下の図は、その工業（工場）の分布を示したものです。その工業としてふさわしいものを次から1つ選び、記号で答えなさい。

- ア. 自動車工業    イ. 造船業    ウ. 製鉄業    エ. 精密機械工業    オ. 製糸業



問5 地図1のEの島には、世界文化遺産に登録されている神社があります。この神社に関する次の問いに答えなさい。

① この神社の写真として正しいものを1つ選び、記号で答えなさい。

ア.



イ.



ウ.



エ.



② この神社は、平安時代に平清盛ら平氏一門の信仰を集めたことでも知られています。平清盛について述べたものとして誤っているものを1つ選び、記号で答えなさい。

ア. 平清盛は保元の乱で源義朝を破り、その子源頼朝を伊豆に追放した。

イ. 平清盛は太政大臣となり、他の平氏一門の武士も朝廷の重要な役職についた。

ウ. 平清盛は自分の娘を天皇の<sup>きさき</sup>后にし、その后が産んだ子を天皇にした。

エ. 平清盛は日宋貿易を推進し、その拠点として大輪田泊を修築した。



- ③ 世界文化遺産とは、UNESCOで採択された世界遺産条約第1条に基づいて、世界遺産リストに登録された物件のことです。国連にはUNESCOの他に以下の(1)～(3)の機関がありますが、その役割として正しいものを1つずつ選び、記号で答えなさい。

(1) UNICEF                      (2) WFP                      (3) WHO

- ア. 国際的な保健活動の指示と調整を行う。また、病気の予防に関する研究も促進、調整する。  
イ. 労働者の基本的人権を促進し、労働と生活の条件を改善し、雇用機会を広げるための政策やプログラムを作成する。  
ウ. 子どもの権利を擁護、推進、保障する中心的な国連機関。世界でもっとも恵まれない子どもたちを保護する活動も行う。  
エ. 人災や自然災害の被害者に食糧を届け、一生の中でも重要な時期に、もっとも弱い立場に置かれた人々の栄養と生活の質を改善し、人々や地域社会の自立を促進する。  
オ. 難民を法的に保護する一方で、自国への自発的な帰還または他国への定住を援助することによって、難民問題の持続可能な解決を図る。

- ④ 2024年7月、日本から新たな場所が世界遺産リストに登録されることが決定しました。その場所の名称を、解答用紙に合うように答えなさい。

問6 地図1のEの島の近くには、下の写真のようないかだがたくさん浮かんでいます。このいかだを使った水産業に関する次の問いに答えなさい。



図1



図2

- ① このいかだを利用して養殖され、広島県が全国の生産量1位を占める水産物をカタカナで答えなさい。
- ② Eの島の近くで生産される①の水産物には、図1のマークがつけられています。また、岡山県の同じ水産物には、図2のマークがつけられているものもあります。これらのマークは、水産資源や海の環境を守りながら生産された水産物であることを示しています。図1と図2の X に共通する言葉をカタカナで答えなさい。

問7 地図2から読み取れることとして正しいものを1つ選び、記号で答えなさい。

- ア. 山陽本線の南側の平野には、標高が100m以上のところはない。
- イ. 広島駅と旧太田川の河口との標高差は100m以下である。
- ウ. 太田川の川幅は1 km以上である。
- エ. 広島駅から広島湾までもっとも近いところは2 kmである。

問8 地図2のFの太田川を見ると、広島市を流れる他の河川に比べて明らかに異なる特徴があります。その特徴を2つ示し、そのような河川になった理由を答えなさい。

問9 地図2のGには、比治山<sup>ひじやま</sup>と呼ばれる小高い丘があります。次の3つの文は、この丘にある比治山貝塚という遺跡の出土品について説明したものです。これらの情報から、比治山周辺の地形がいつ、どのように変化したことがわかりますか。地図2からわかることも踏まえて説明しなさい。

**出土品1 縄文土器**

縄文時代の人びとがつくり、使用していた土器。比治山貝塚の下層からは縄文時代後期の縄文土器が出土し、上層からは縄文時代晩期の縄文土器が出土する。

**出土品2 アサリの貝がら**

塩分濃度が濃い海水に生息する貝。比治山貝塚では、下層から上層になるにつれて出土する数が減少する。

**出土品3 ハイガイの貝がら**

河口など淡水の入り込むところに多く生息する貝。比治山貝塚では、下層から上層になるにつれて出土する数が増加する。

問10 地図2の広島市周辺には路面電車が運行し、その路線は日本最大規模を誇<sup>ほこ</sup>っています。路面電車に関する次の問いに答えなさい。

- ① 広島の路面電車の路線には、最新の車両だけでなく、右の写真のような原子爆弾投下の際に被爆した車両や、引退した後の日本各地の車両などバラエティに富<sup>と</sup>んだ車両が走っています。このことから、広島の路面電車は「走る Y」や「動く電車の Y」などと呼ばれています。Yに入れるのにふさわしい施設の地図記号を地図3から探して、解答欄に地図記号を書きなさい。



- ② 路面電車の走っている都市は少なくなりましたが、2023年8月に、関東のある都市で75年ぶりに新しいLRT（次世代型路面電車）が開通しました。その都市名を答えなさい。



- ③ ②の都市がLRTを導入したことは、SDGsの「住み続けられるまちづくりを」を実現することにつながると期待されています。例えば、下の写真のようにLRTの停留場のホームはとても低く、車両とホームとの間にほとんど段差がありません。こうしたホームや車両の特徴により、外出をしやすくなる人びとがいますと考えられます。それはどのような人びとですか。高齢者、けがや障がいのある人びとの他に具体例を1つあげなさい。



問11 地図3のHについて、次の問いに答えなさい。

- ① この場所では、中国地方を治めた大名によって1589年に築城が開始されました。その大名の名前を1つ選び、記号で答えなさい。

ア. 上杉景勝    イ. 宇喜多秀家    ウ. 徳川家康    エ. 毛利輝元    オ. 前田利家

- ② 江戸時代の初めにこの場所を拠点とした大名の福島正則は、次の法令に違反したとして江戸幕府から改易処分を受けました。この法令を漢字5字で答えなさい。

一、諸国の城は、補修するといっても必ず届け出ること。  
まして城の新築は絶対にしてはならない。

- ③ この場所には、右の写真の石碑が立っています。この石碑には「明治二十七八年戦役広島大本営」とあり、ある出来事に際して大本営※が設置されていたことを示しています。ある出来事とは何か答えなさい。

※戦時中に設置される最高指揮機関のこと。



問12 地図3の1の場所には県庁や裁判所などがあり、広島県政の中心となっています。このことについて、以下の問いに答えなさい。

- ① 広島県をはじめ、各都道府県には独自の政治が認められる地方自治の原則がある一方、国の政治と似た部分もあります。それらを説明したものとして正しいものをすべて選び、記号で答えなさい。

ア. 知事の被選挙権は参議院議員の被選挙権と同じであり、都道府県議会議員の被選挙権は衆議院議員の被選挙権と同じである。

イ. 知事や都道府県議会議員に対しては、住民投票で過半数の賛成があれば辞めさせることができるリコールという制度があるが、首相や国会議員に対してはリコールする制度がない。

ウ. 首相は必ず国会議員の中から選ばれることになっているが、知事の場合は都道府県議会議員であってはならないので、知事に立候補する際には都道府県議会議員を辞めなくてはならない。

エ. 衆議院から首相に不信任が出されたり、首相が衆議院を解散させたりすることはあるが、都道府県議会から知事に不信任が出されたり、知事が都道府県議会を解散させたりすることはできない。

オ. 国の法律を制定するのは国会の仕事だが、都道府県議会もその地域だけに限定して適応する地方特別法を制定することができる。

- ② この場所の中には、広島県にある複数の種類の裁判所が集められています。広島県には無い裁判所についての説明を2つ選び、記号で答えなさい。

ア. 簡易裁判所からはじまった民事裁判の第三審が行われる。

イ. 地方裁判所からはじまった刑事裁判の第三審が行われる。

ウ. 重大な刑事事件において裁判員裁判が行われる。

エ. 法律が憲法違反かどうかを審査する裁判の第一審が行われる。

オ. 職務上の非行や違反行為をした裁判官に対する弾劾裁判が行われる。

問13 地図3のJは、原爆ドームです。広島への原子爆弾投下に関する次の問いに答えなさい。

- ① 原子爆弾の投下前に、ポツダム宣言が発表されました。以下の資料はポツダム宣言の一部です。ここから読み取ることのできる情報としてもっとも適切なものを1つ選び、記号で答えなさい。

- 1、アメリカ・中国・イギリスは協議して、日本に戦争を終結する機会をあたえることに意見が一致した。

8、日本の主権は本州、北海道、九州、四国と、連合国が決める諸小島に限る。

9、日本の軍隊は完全に武装を解除する。

10、戦争犯罪人は、厳しく処罰する。日本政府は、言論・宗教・思想の自由、並びに、基本的人権の尊重を確立すること。

13、われらは、日本政府が日本軍の無条件降伏を宣言することを求める。これ以外の選択は完全な壊滅があるのみ。

- ア. 日本の主権が及ぶ範囲のうち、連合国が決めた諸小島には台湾や沖縄本島が含まれている。
- イ. 日本軍を解散させ、武装解除させた後、新たに自衛隊を設置することが決められている。
- ウ. 戦争犯罪人には裁判を行い、当時の首相や天皇は死刑にして、国民に主権を持たせることが決められている。
- エ. アメリカ・中国・イギリスは、日本政府に対し何の条件も出さずに降伏することを求めている。
- ② もし、広島に原子爆弾が投下される前日に、Jの場所の近くにあなたが今の年齢で生きていたら、どのような状況に出くわしていると想定できますか。以下の当時の日記の中からもっともふさわしいものを1つ選び、記号で答えなさい。
- ア. 今日は学徒出陣として軍隊に配属される日だ。明日からは毎日厳しい訓練をし、来週からはいよいよ戦地に向かい、アメリカ兵を倒しに行かなければならない。
- イ. 今日の夕方、赤紙と呼ばれる臨時召集令状が届いた。この手紙が届いたら軍隊に入隊しなければならない。お母さんや兄弟と離れ離れになるのがさみしくて、夜はこっそり泣いた。
- ウ. 今日は学校で、教科書の内容の一部を墨で黒くぬりつぶした。軍事教育は国の方針としてやめましょう、ということになったらしい。
- エ. 明日はいよいよ学校のみんなどと一緒に、地方のお寺へ疎開しなければならない。お母さんと離れて暮らすのは初めてだから、緊張とさみしさと胸がいっぱいだ。

問14 地図3のKは平和記念公園です。この公園に関する次の問いに答えなさい。

① この公園は、1949年に制定された広島平和記念都市建設法に基づいて建設されました。この法律は日本国憲法第95条に規定される特別法にあたりますが、その成立に必要な条件を1つ選び、記号で答えなさい。

- ア. その特別法が関係する都道府県知事の同意
- イ. その特別法が関係する地方自治体の議会での過半数の同意
- ウ. その特別法が関係する地方自治体の住民の投票での過半数の同意
- エ. 内閣総理大臣の同意
- オ. 国会の衆参各議院の総議員の3分の2以上の同意
- カ. 国民投票での過半数の同意

② この公園内にあった広島市公会堂では、1955年に第1回原水爆禁止世界大会が開催されました。この大会よりも後の出来事を2つ選び、記号で答えなさい。

- ア. サンフランシスコ平和条約が結ばれ、日本は独立を回復した。
- イ. 日ソ共同宣言により、日本はソビエト連邦との国交を回復した。
- ウ. 朝鮮戦争がはじまり、日本は特需景気と呼ばれる好景気にわいた。
- エ. 日韓基本条約が結ばれ、日本は大韓民国との国交を樹立した。
- オ. 日米安全保障条約が結ばれ、日本国内にアメリカ軍がとどまることになった。

③ この公園は、2023年5月に開催された国際会議の際に、参加者の集合写真を撮影した場所です。この会議は「G7広島  
」と呼ばれていますが、空欄に入る言葉を答えなさい。



④ 広島市や長崎市では、毎年原子爆弾の投下日に平和式典が行われています。2024年、広島市で行われた式典にはアメリカの駐日大使が出席したのに対し、その数日後に長崎市で行われた式典ではアメリカの駐日大使が欠席しました。その理由を簡潔に説明しなさい。

〔以下 余 白〕