

社会

平成24年度

中学校入学試験 A

2月1日午前実施

受験上の注意

1. 問題は から まで全部で6ページあります。
2. 試験時間は社会と理科で合わせて50分です。
(問題は社会と理科それぞれ一冊ずつあります。)
3. 声を出して読むではいけません。
4. 答えはすべて解答用紙に記入しなさい。
5. 受験番号と氏名を問題用紙と解答用紙の決められたらんに記入しなさい。
6. 問題用紙・解答用紙のことで質問があれば、手をあげて係の先生に聞いてください。

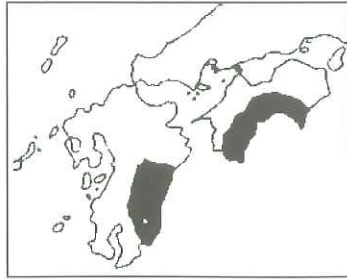
受 験 番 号	氏 名



1 次の各問いに答えなさい。

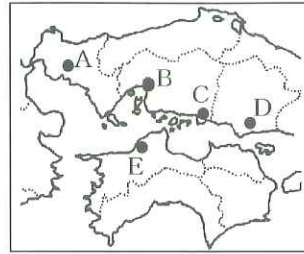
問1 略地図の  で示した2つの県に共通する説明として正しいものはどれか、記号で答えなさい。

- ア. 米の全国有数の産地である。
- イ. ピーマンなどの野菜の促成栽培がさかんである。
- ウ. 肉牛や豚の全国有数の産地である。
- エ. ジャガイモなどの大規模な畑作がさかんである。



問2 次はある都市についてまとめたものの一部である。この文にあてはまる都市を、地図中のA~Eから1つ選び、記号とその都市名を答えなさい。

- ・三角州に発達した都市である。
- ・江戸時代は城下町として、明治以降は軍事的な都市として発展した。
- ・第二次世界大戦末期、原子爆弾が投下され多大な被害を受けた。
- ・臨海部を中心に自動車の生産などの機械工業がさかんである。
- ・プロ野球の球団やプロサッカーチームが本拠地としている。

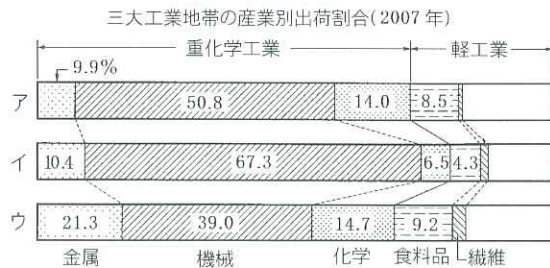


問3 右のグラフは、みかんの生産量の都道府県別割合を示したものです。グラフ中のXにあてはまる都道府県の名を答えなさい。



【農林水産省 農林水産統計データ / 2010】

問4 中京工業地帯の製造品出荷額の構成を表しているのは、図のア~ウのどれか、記号で答えなさい。




【日本国勢図会 / 2009】

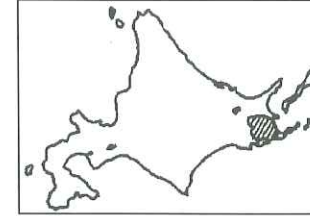
問5 右の表は、東京都・千葉県・茨城県・埼玉県の夜間と昼間人口に関するものです。表の中で、東京都の様子を表しているものを記号で答えなさい。

(昼人口) ÷ (夜人口)	
ア	1.21
イ	0.88
ウ	0.89
エ	0.97

(2005年)

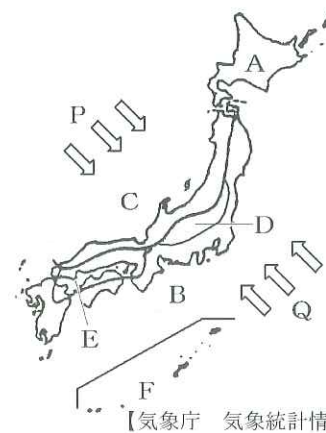
【国勢調査報告】

問6 図中の  で示した地域について説明した文として、最も適当なものを下のア~エから1つ選び、記号で答えなさい。

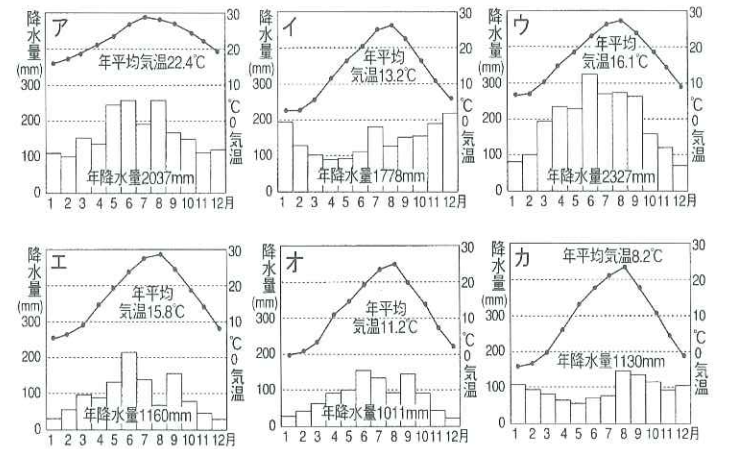


- ア. ^{でいたんち}泥炭地の原野に排水路を設け、土を入れて水田がつくられている。
- イ. シラスという火山噴出物が積もったこの地域では畑作がさかんである。
- ウ. 火山灰地であるこの地域は、新酪農村の建設で大規模な酪農地に発展した。
- エ. 広い砂丘にかんがい施設などを整備した結果、砂丘農業が発達した。

2 わが国の気候に関して、各問いに答えなさい。



【気象庁 気象統計情報】

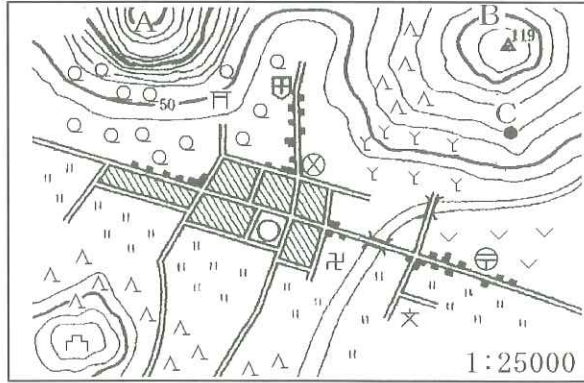


問1 地図のA~Fの地域にあてはまる雨温図をア~カからそれぞれ選び、記号で答えなさい。

問2 時期によって風向きが変わるP、Qの風を何というか、答えなさい。

問3 夏の風を示すのは、P、Qのどちらか。記号で答えなさい。

3 下の図を見て各問いに答えなさい。



問1 地図中にみられる次の①～③の地図記号は何を表しているか答えなさい。

- ① ② ③

問2 地図中の警察署からみて神社はどの方位にありますか、8方位で答えなさい。

問3 地図中のA山とB山はどちらの山の傾斜がゆるやかか記号で答えなさい。

4 次の文を読み、各問いに答えなさい。

右の絵は、鎌倉時代に(あ)時宗という仏教を広めた 1 という僧の活動を描いた絵です。絵の中央で武士と話す僧が 1 です。この絵からは、鎌倉時代の武士の様子がよくわかります。例えば、武士は館と呼ばれる建物で生活し、その門には門番をする武士がいます。獲物を狩るための鷹が飼われていたり、建物は板敷きで質素なつくりになっています。館の脇には畑があり、この時代の武士が農業をいとなみながら武芸をみがいていたことがわかります。



鎌倉時代は武士の時代だといわれますが、鎌倉幕府が成立する前にはじめて武士として政権をにぎったのが 2 です。2 は、1156年に起こった 3 の乱と1159年の平治の乱という二度の戦いで勝利し、後白河法皇より太政大臣に任命されて政治を行いました。一方で、平治の乱で敗れた源氏は、その後、東国で力をつけ、伊豆に流されていた 4 が1180年に兵をあげると、(い)奥州藤原氏のもとで成長した弟の源義経とともに、1185年、(う)壇ノ浦の戦いで平氏を滅亡させました。こうして、4 によって鎌倉に幕府がひらかれ、武士の時代である鎌倉時代が到来しました。

問1 文中の空欄1～4にあてはまる語句を次の語群から選んで、記号で答えなさい。

【語群】

- ア. 平清盛 イ. 平忠盛 ウ. 源義仲 エ. 源頼朝 オ. 承久
カ. 一遍 キ. 空也 ク. 保元

問2 文中の下線部(あ)について、この宗派は下の絵のような形で念仏を唱えることを広めました。この念仏のことを何とよいか答えなさい。

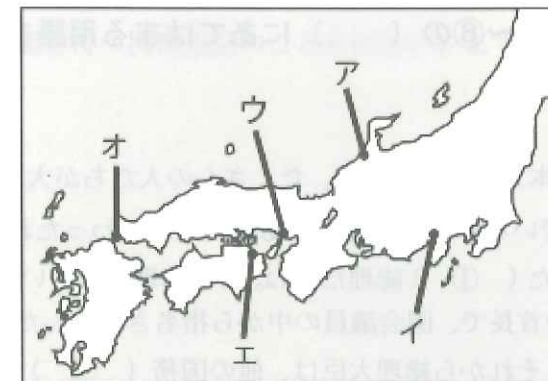


問3 文中の下線部(い)について、この一族が建設した寺院群が2011年6月に世界文化遺産に登録されました。この寺院群がある岩手県の地名を答えなさい。

問4 日本国内の遺跡のうち、世界文化遺産に登録されていないものを次から1つ選び、記号で答えなさい。

- ア. 法隆寺地域の仏教建造物 イ. 三内丸山遺跡
ウ. 石見銀山遺跡とその文化的景観 エ. 原爆ドーム

問5 文中の下線部(う)が起こった場所を、下の地図中のア～オから選び記号で答えなさい。



5 次の文を読み、各問いに答えなさい。

2011 年は、外務大臣小村寿太郎が、アメリカとの交渉のすえ、①外国に対して自由に関税を課す権利を認めさせ、(あ)江戸時代に諸外国と結んだ条約の改正に成功してからちょうど 100 周年にあたります。その 17 年前の 1894 年には、(い)中国との戦争の直前に外務大臣陸奥宗光がイギリスとの交渉で、②外国人を日本の法律ではなく、その国の法律で裁くことができる権利を撤廃することに成功していました。つまり、日本が欧米諸国と平等な条件でつきあえるようになってから、まだ 100 年しか経っていないということになります。

その後、日本は中国や朝鮮をはじめとするアジア諸国に侵略し、日中戦争・(う)太平洋戦争と長期間の戦争を行った結果、多大な被害をアジア全域に与えてしまいました。さらに、太平洋戦争に敗れた日本は、連合国軍の統治下に入り、民主主義の国家として再建されることになりました。そして、2011 年の今年からちょうど 60 年前、日本は(え)アメリカ合衆国で開かれた講和会議で 48 カ国と平和条約を結び、翌年に独立を回復しました。

問 1 文中の二重下線部①と②の権利をそれぞれ何と呼びますか、①は漢字 5 字で、②は漢字 4 字で答えなさい。

問 2 文中の下線部(あ)は、1858 年にアメリカと結ばれた条約です。この条約の名前を答えなさい。

問 3 文中の下線部(い)の戦争を何と呼びますか、答えなさい。

問 4 文中の下線部(う)は、日本軍がアメリカの基地を奇襲攻撃して始まりました。この基地のある地名を解答用紙に合う形で答えなさい。

問 5 文中の下線部(え)の会議が開かれた地名を答えなさい。

6 次の会話文を読み、①～⑧の()にあてはまる用語を語群から選び、それぞれ記号で答えなさい。

父「2011 年の 3 月には東日本大震災があつて、たくさんの人たちが大変な思いをしたね。日本の政府も復興に取り組んでいるけれど、途中で総理大臣がかわったね。」

子「2011 年に新たに就任した(①)総理だよ。でも総理大臣というのは、どういう人なの？」

父「総理大臣は(②)の首長で、国会議員の中から指名されるんだ。そして総理大臣を任命するのは(③)だよ。それから総理大臣は、他の国務(④)を任命したりやめさせたり

することができるんだ。」

子「すごいね。外国でも政治のしくみは同じなの？」

父「国によってしくみは違うよ。このところは中東革命とか(⑤)の春といわれる動きがさかんで、そういう地域では新しい政治のしくみをつくらなくてはならないんだ。」

子「(⑥)でカダフィ大佐が亡くなったニュースもその 1 つ？」

父「そうだね。また政治だけでなく、経済にも目を向けることが必要だよ。ヨーロッパでは、(⑦)の財政危機への対応がたいへんなんだ。」

子「円高のニュースとも関係あるの？」

父「そうだよ。外国のお金に対して円の価値が高い方を円高、安い方を円安というんだ。だから、1 ドル 100 円より 1 ドル 75 円の方が(⑧)ということになるんだよ。」

【語群】

ア. 内閣 イ. 国会 ウ. 大臣 エ. 天皇 オ. 野田佳彦
カ. 菅直人 キ. ギリシャ ク. リビア ケ. アラブ コ. 円高
サ. 円安

7 次の文を読み、各問いに答えなさい。

問 1 東日本大震災で大きな被害をうけた原子力発電所は何県にあるか、答えなさい。

問 2 日本の立法機関を答えなさい。

問 3 2011 年 7 月 24 日、一部の地域を除いて、テレビのアナログ放送が終了しました。現在は何放送となっているか、答えなさい。

問 4 日経トレンディの 2011 年ヒット商品第 1 位に選ばれた、パソコンの機能をベースとして作られた多種多様な機能を持つ携帯電話のことを何といいますか、カタカナ 7 文字で答えなさい。

1	問1	問2	記号	都市名	問5	問6
	問3	問4	問5	問6		

2	問1	A	B	C	D	E	F
	問2	問3	問4	問5	問6	問7	問8

3	問1	①	②	③	
	問2	問3	山	問4	問5

4	問1	1	2	3	4	
	問2	問3	問4	問5	問6	問7

5	問1	①	②	③	④	⑤	⑥
	問2	問3	条約	戦争	問4	問5	問6

6	①	②	③	④	⑤	⑥
	⑦	⑧	⑨	⑩	⑪	⑫

7	問1	県	問2	問3	問4
	問5	問6	問7	問8	問9

受験番号	氏名	得点
		/50