

2025年度 第1回入試  
(1月10日午前実施)

# 一般入学試験問題

## 社 会

(制限時間 理科とあわせて50分)

### 注 意

- (1) 係の先生の指示に従って、所定のらんに受験番号、氏名を書きなさい。
- (2) 答えはすべて解答用紙のきめられたところに、はっきりと書きなさい。
- (3) 問題は1ページから10ページまであります。
- (4) 印刷のはっきりしないところは、手をあげて係の先生に聞きなさい。
- (5) 途中でトイレに行きたくなったり、気分が悪くなったりした場合は手をあげて、係の先生の指示に従いなさい。
- (6) 制限時間は、理科とあわせて50分です。

受験番号	氏名

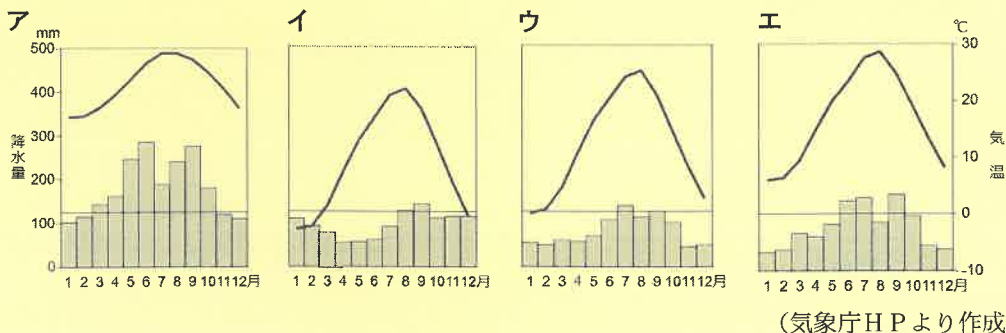


昌平中学校

1 次のA～Hの文章を読んで、あとの問いに答えなさい。

- A 信濃川は、新潟県と①長野県を流れる日本最長の河川である。長野県を源流とするこの河川は、長野・新潟県境で千曲川から信濃川に名前を変え、新潟県の②を通過して日本海に注いでいる。
- B ③熊本県の八代平野を流れる球磨川は、富士川、最上川とともに日本三大急流の一つに数えられている。球磨川を木船に乗って下る急流下りが人気である。
- C 高知県の西部を流れる四万十川は、④四国最長の河川である。本流に大規模なダムが建設されていないことから「日本最後の清流」と呼ばれ、柿田川・長良川とともに日本三大清流の一つに数えられている。
- D ⑤北海道の中西部を流れる石狩川は、流域面積が全国第2位、長さが全国第3位の河川である。中下流部に広がる石狩平野はかつて泥炭地であったが、治水工事による土地改良が行われ、現在は⑥稲作がさかんである。
- E 最上川は、源流から河口まで⑦山形県を流れている。江戸時代には、紅花をはじめとするさまざまな特産物がこの河川の舟運で集められ、関西地方へ運ばれた。
- F 利根川は、大水上山を水源として⑧関東地方を北から東へ流れ、太平洋に注いでいる。流域面積は日本最大で、首都圏の水源として重要な役割を果たしている。
- G 淀川は、⑨を水源として滋賀県、京都府、⑩大阪府を流れ大阪湾に注ぐ河川である。瀬戸内海に流入する河川の中で流域面積が最も広く、流域人口は西日本で最も多い。
- H 太田川は、冠山を源流として⑪広島県西部を流れ、広島湾に注ぐ河川である。河口付近には、上流から運ばれてきた細かい土砂や小石などがたい積してできた⑫と呼ばれる地形が広がり、そこが広島市として発達した。

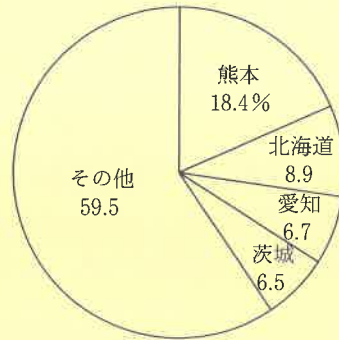
問1 下線部①について、長野県の県庁所在都市である長野市の雨温図として正しいものを、次のア～エから1つ選び、記号で答えなさい。



問2 ②にあてはまる平野名として正しいものを、次のア～エから1つ選び、記号で答えなさい。

- ア 越後平野      イ 庄内平野      ウ 濃尾平野      エ 筑紫平野

問3 下線部③について、次のグラフは、2022年に熊本県の収穫量が全国1位であった農産物のグラフです。その農産物として正しいものを、あとのア～エから1つ選び、記号で答えなさい。



(『日本国勢図会2024/25』より作成)

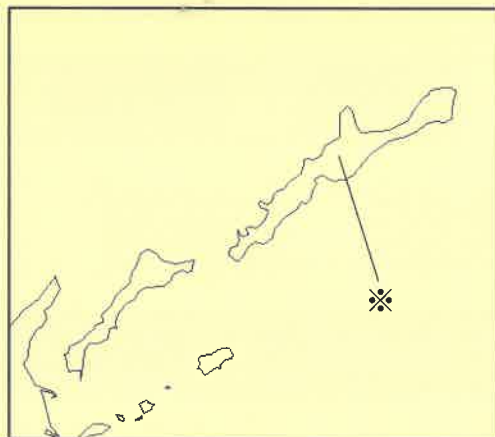
- ア みかん      イ レタス      ウ メロン      エ トマト

問4 下線部④について、次の表は、四国4県の2022年の人口、面積、2021年の製造品出荷額、漁業生産量を示したものです。高知県の資料として正しいものを、表中のア～エから1つ選び、記号で答えなさい。

	人口 (千人)	面積 (km <sup>2</sup> )	製造品出荷額 (億円)	漁業生産量 (t)
ア	1,306	5,676	47,582	142,484
イ	676	7,103	6,015	83,744
ウ	704	4,147	20,578	20,920
エ	934	1,877	28,014	25,497

(『データでみる県勢 2024』より作成)

問5 下線部⑤について、次の地図は、北海道に属する北方領土を示したものです。地図中の※の島の名前として正しいものを、あとのア～エから1つ選び、記号で答えなさい。



- ア 国後島      イ 色丹島      ウ 与那国島      エ 択捉島

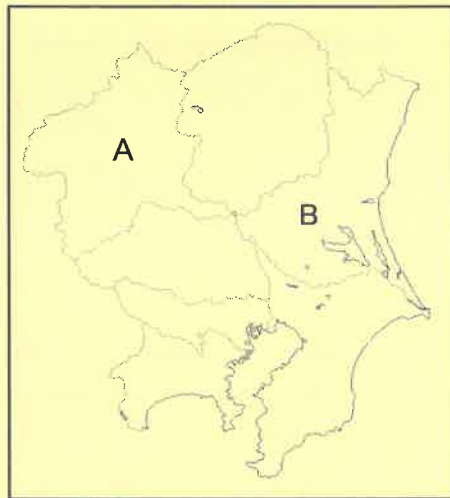
問6 下線部⑥について、作付面積が全国で最大である「コシヒカリ」は、1944年にある都道府県でそのルーツとなる株がつけられました。この都道府県名として正しいものを、次のア～エから1つ選び、記号で答えなさい。

- ア 静岡県      イ 富山県      ウ 新潟県      エ 秋田県

問7 下線部⑦について、山形県で行われる祭りとして正しいものを、次のア～エから1つ選び、記号で答えなさい。

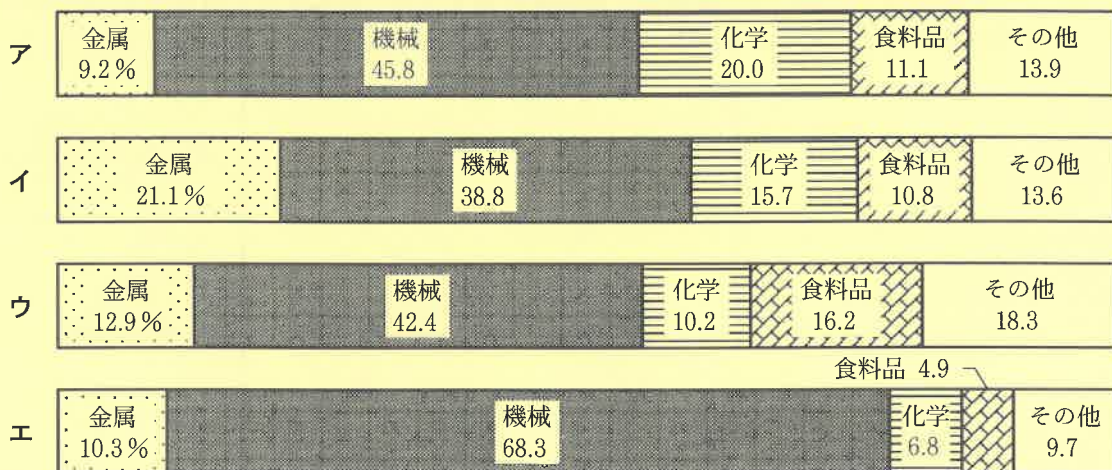
- ア はながさ花笠まつり      イ ねぶた祭      ウ かんとう竿燈まつり      エ たなばた七夕まつり

問8 下線部⑧について、次の関東地方の地図中のA、Bにあてはまる都道府県名をそれぞれ答えなさい。



問9 ⑨にあてはまる、面積が日本で最も広い湖の名前を答えなさい。

問10 下線部⑩について、次のグラフは、三大工業地帯と関東内陸工業地域の2021年の製造品出荷額の構成を示したものです。大阪府を中心とする阪神工業地帯のグラフとして正しいものを、グラフ中のア～エから1つ選び、記号で答えなさい。



(『日本国勢図会2024/25』より作成)

問11 下線部⑪について、広島県の説明として誤っているものを、次のア～エから1つ選び、記号で答えなさい。

- ア 広島県には、原爆<sup>げんぼく</sup>ドームと厳島<sup>いつくしま</sup>神社の2つの世界遺産がある。
- イ 県庁所在都市の広島市は、人口100万人以上の政令指定都市である。
- ウ 2023年5月に、広島市でG7サミットが<sup>かいさい</sup>開催された。
- エ 広島県では、3つの産業のうち第2次産業に従事する人の数が最も多い。

問12 ⑫ にあてはまる地形の名前を答えなさい。

2 次の A ~ J の資料を見て、あとの問いに答えなさい。

A

この世をば  
わが世とぞ思う  
もち月の  
かけたることも  
なしと思えば

B



C



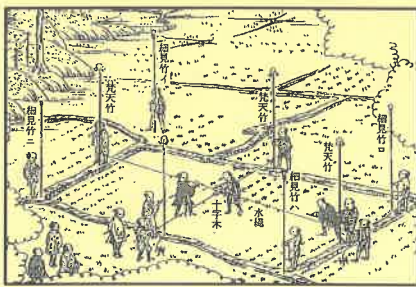
D



E



F



G



H



I

- ・租  
収穫量の約3%の稲を納める。
- ・※  
地方の特産物を納める。
- ・庸  
労役の代わりに麻の布を納める。

J



問1 資料 A について、この和歌をよんだ人物の名前として正しいものを、次のア～エから1つ選び、記号で答えなさい。

ア 源頼朝

イ 藤原道長

ウ 平清盛

エ 後醍醐天皇

問2 資料 **B** について、この仏像が収められている寺院として正しいものを、次のア～エから1つ選び、記号で答えなさい。

ア



イ



ウ



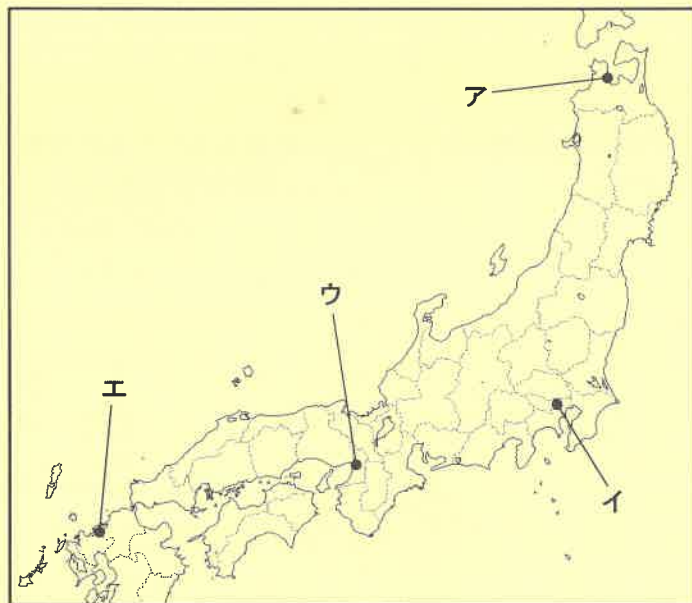
エ



問3 資料 **C** について、この人物の説明として正しいものを、次のア～エから1つ選び、記号で答えなさい。

- ア 猿楽さるがくに芸能の要素を取り入れた能（能楽）を大成した。
- イ 中国で水墨画すいぼくがを学び、すぐれた絵画を残した。
- ウ 質素な風情をくふうして楽しむ、茶の湯ふぜいを大成した。
- エ 上皇の命を受け、中心となって『新古今和歌集こきん』をまとめた。

問4 資料 **D** について、この遺跡いせきがある場所として正しいものを、次の地図中のア～エから1つ選び、記号で答えなさい。



問5 資料 **E** について、この墓がつくられた時代の説明として正しいものを、次のア～エから1つ選び、記号で答えなさい。

- ア 卑弥呼が魏に使いを送った。
- イ 縄目の文様をつけた厚手の土器が使われた。
- ウ 王と有力な豪族たちからなる大和朝廷が現れた。
- エ 厩戸王（聖徳太子）が十七条の憲法を定めた。

問6 資料 **F** について、次の問いに答えなさい。

- (1) これは太閤検地の様子を表したものです。太閤検地の説明として誤っているものを、次のア～エから1つ選び、記号で答えなさい。
- ア 各地に役人が派遣され、全国で実施された。
  - イ 実際に耕作している人の名前が検地帳に記録された。
  - ウ ものさしを使って田畑の面積を測った。
  - エ 予想される米の収穫量を「両」という単位で表した。

(2) 太閤検地を行った人物の名前として正しいものを、次のア～エから1つ選び、記号で答えなさい。

- ア 織田信長
- イ 豊臣秀吉
- ウ 武田信玄
- エ 明智光秀

問7 資料 **G** について、この寺院を建てた人物が行ったこととして誤っているものを、次のア～エから1つ選び、記号で答えなさい。

- ア 明との間で勘合貿易を始めた。
- イ 二つに分かれた朝廷を一つにまとめた。
- ウ 加賀の一向一揆を制圧した。
- エ 室町幕府の全盛期を築いた。

問8 資料 **H** について、この人物は鎌倉幕府をたおそうとして兵を挙げました。このできごとの名前として正しいものを、次のア～エから1つ選び、記号で答えなさい。

- ア 承久の乱
- イ 平治の乱
- ウ 応仁の乱
- エ 保元の乱

問9 資料 **I** について、これは大宝律令が完成した時代における農民の税の負担について説明したものです。**※** にあてはまる税の名前を答えなさい。

問10 資料 **J** について、この地図は  の航路を示したものです。 にあてはまることばを答えなさい。

問11 **A** , **B** , **C** , **D** , **E** の資料を、時代の古いものから順に並べかえ、記号で答えなさい。

**3** 次の年表を見て、あとの問いに答えなさい。

年	できごと	
1615年	武家諸法度 <small>ぶけしよほつど</small> が定められる	…A
1641年	平戸 <small>ひらど</small> の <input type="text"/> 商館 <small>しょうくわん</small> を出島 <small>でしま</small> に移す	…B
1798年	『古事記伝』が完成する	…C
1873年	地租改正 <small>ちそせいせい</small> が行われる	…D
	↑ E ↓	
1894年	日清戦争 <small>にっしんせん</small> が起こる	…F
1911年	不平等条約 <small>ふびんとうじょうやく</small> が完全に改正される	…G
1925年	普通選挙法 <small>ふつうせんきよほう</small> が公布される	…H
1937年	日本が <input type="text"/> と戦争を始める	…I
1972年	沖縄が日本に復帰する	…J
1997年	地球温暖化防止 <input type="text"/> 会議 <small>かいぎ</small> が開催される	…K

問1 年表中のAについて、この法律は江戸幕府が大名を統制するために定めました。大名のうち、関ヶ原の戦い以降に徳川氏に従った大名を  大名といいます。  にあてはまることばを、漢字2字で答えなさい。

問2 年表中のBの  にあてはまる国として正しいものを、次のア～エから1つ選び、記号で答えなさい。

- ア イギリス      イ オランダ      ウ ポルトガル      エ アメリカ

問3 年表中のCについて、この書物をあらわした人物の名前として正しいものを、次のア～エから1つ選び、記号で答えなさい。

- ア 伊能忠敬いのうただたか      イ 杉田玄白すぎたげんぱく      ウ 本居宣長もとりのりなが      エ 歌川(安藤)広重うたがわ あんどう ひろしげ

問4 年表中のDについて、このときに定められた地租の内容として正しいものを、次のア～エから1つ選び、記号で答えなさい。

- ア 地価の3%にあたる額を現金を納めた。  
 イ 地価の3%にあたる収穫量しゆかくりやうりやうりやうの米を納めた。  
 ウ 地価の5%にあたる額を現金で納めた。  
 エ 地価の5%にあたる収穫量の米を納めた。

問5 年表中のEの期間に起こった次のア～エのできごとを、時代の古いものから順に並べかえ、記号で答えなさい。

- ア 大日本帝国憲法ていこくけんぽうが公布される      イ 西南戦争が起こる  
 ウ 板垣退助いたがきたいすけが自由党を結成する      エ 第一回帝国議会議が開かれる

問6 年表中のFについて、この戦争の説明として正しいものを、次のア～エから1つ選び、記号で答えなさい。

ア 日本は清に敗れ、朝鮮から撤退した。

イ アメリカの仲介でポーツマス条約を結んだ。

ウ 講和条約により領土を得たが、賠償金を得ることはできなかった。

エ 台湾などの領土を日本にゆずりわたすことを清に認めさせた。

問7 年表中のGについて、小村寿太郎はアメリカとの交渉によって  の回復に成功しました。 にあてはまることばを、漢字5字で答えなさい。

問8 年表中のHについて、このときに選挙権を得た人として正しいものを、次のア～エから1つ選び、記号で答えなさい。

ア 満25才以上のすべての男女      イ 満25才以上のすべての男子

ウ 満20才以上のすべての男女      エ 満20才以上のすべての男子

問9 年表中のIの  にあてはまる国の名前として正しいものを、次のア～エから1つ選び、記号で答えなさい。

ア ドイツ      イ イタリア      ウ アメリカ      エ 中国

問10 年表中のJについて、沖縄の日本復帰と同じ年に起こったできごととして正しいものを、次のア～エから1つ選び、記号で答えなさい。

ア 東京でアジア初の夏季オリンピック大会が開催された。

イ 大阪でアジア初の万国博覧会が開催された。

ウ 札幌で冬季オリンピック大会が開催された。

エ 東海道新幹線が開通した。

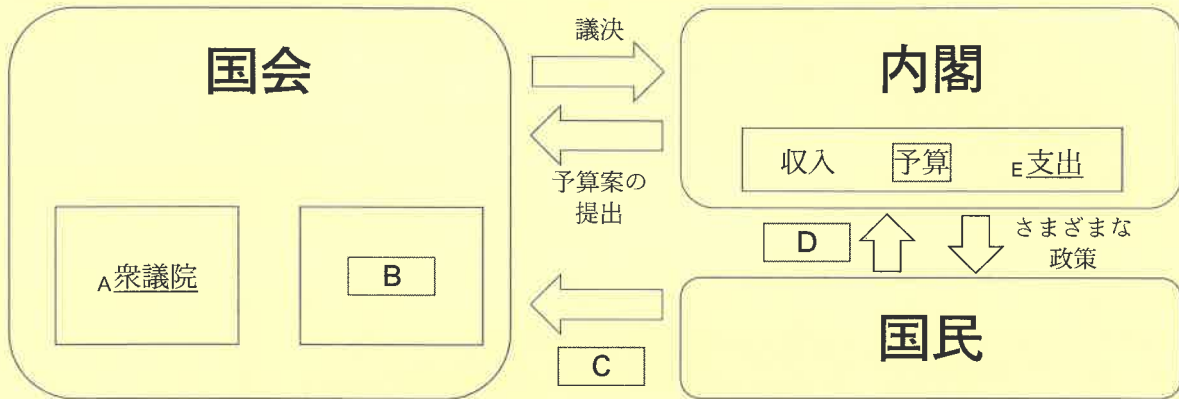
問11 年表中のKの  にあてはまる地名として正しいものを、次のア～エから1つ選び、記号で答えなさい。

ア 東京      イ 大阪      ウ 福岡      エ 京都

**4** 次の問いに答えなさい。

問1 次の図は、国会、内閣、国民の関係を模式的に示したものです。これを見て、あとの問いに答えなさい。

図



- (1) 図中の下線部Aについて、衆議院の説明として誤っているものを、次のア～エから1つ選び、記号で答えなさい。
- ア 衆議院議員の任期は6年で、解散がある。
  - イ 衆議院議員の定数は、2024年12月現在で465人である。
  - ウ 衆議院は、内閣不信任の議決を行うことができる。
  - エ 衆議院は、予算を先に審議する権利をもっている。
- (2) 図中の **B** にあてはまることばを、漢字3字で答えなさい。
- (3) 図中の **C** にあてはまることばを、漢字2字で答えなさい。
- (4) 図中の **D** にあてはまることばを、漢字2字で答えなさい。
- (5) 図中の下線部Eについて、2023年度の当初予算において最も支出額が多かった項目として正しいものを、次のア～エから1つ選び、記号で答えなさい。
- ア 地方交付税交付金      イ 国債費
  - ウ 防衛関係費              エ 社会保障関係費

問2 2024年6月にイタリアでG7サミットが開催されました。G7サミットのメンバー国として誤っているものを、次のア～エから1つ選び、記号で答えなさい。

- ア フランス      イ ドイツ      ウ ロシア      エ カナダ

問3 2024年現在、各国が取り組んでいるSDGsとは、「可能な開発目標」の略称です。にあてはまることばを、漢字2字で答えなさい。

【ここで問題は終わりです】







SHOHEI

2025 年度 第 1 回入試  
一般入学試験問題  
(1 月 10 日午前実施)

氏 名

受験番号

得 点

# 社 会

解答用紙

1	問 1	問 2	問 3	問 4	問 5	問 6
	問 7	問 8				
		A	B			
		問 9	問 10	問 11		
		問 12				

2	問 1	問 2	問 3	問 4	問 5	
		問 6	問 7	問 8	問 9	
	(1)	(2)				
		問 10	問 11			
			→	→	→	→

3	問 1	問 2	問 3	問 4	問 5		
					→	→	→
	問 6	問 7		問 8	問 9		
	問 10	問 11					

4	問 1							
	(1)	(2)	(3)	(4)	(5)			
	問 2	問 3						