

2023年度 第1回入試
(1月10日午前実施)

一般入学試験問題

社 会

(制限時間 理科とあわせて50分)

注 意

- (1) 係の先生の指示に従って、所定のらんに受験番号、氏名を書きなさい。
- (2) 答えはすべて解答用紙のきめられたところに、はっきりと書きなさい。
- (3) 問題は1ページから10ページまであります。
- (4) 印刷のはっきりしないところは、手をあげて係の先生に聞きなさい。
- (5) 途中でトイレに行きたくなったり、気分が悪くなったりした場合は手をあげて、係の先生の指示に従いなさい。
- (6) 制限時間は、理科とあわせて50分です。

受験番号	氏 名

1 次のA～Fの文章を読んで、あとの問いに答えなさい。

- A 中京工業地帯は、愛知県・岐阜県・①三重県に広がる日本最大の工業地帯で、自動車工業を中心とした機械工業がさかんです。愛知県にある ②市は製造品出荷額が全国で第1位です。
- B 大阪府と③兵庫県に広がる阪神工業地帯は、製造品出荷額が全国で第2位の工業地帯です。金属工業やせんい工業の割合が高く、④中小工場が多いことで知られています。
- C 京浜工業地帯は、日本の首都である⑤東京都や、神奈川県⑥横浜市、川崎市などを中心に発達している工業地帯です。工業用地の不足などの理由から、その地位は低下しています。
- D 北九州工業地域は、1901年に操業を始めた ⑦製鉄所を中心に鉄鋼業から発達しました。筑豊炭田などの国産の石炭を利用していましたが、炭田が閉山してからは、⑧石炭を外国からの輸入にたよっています。
- E ⑨中国・四国地方の県に広がる瀬戸内工業地域は、瀬戸内海の水運が利用できたこと、広い工業用地があったことなどの理由で発達してきました。石油化学工業などの重化学工業がさかんです。
- F ⑩静岡県に広がる東海工業地域は、富士市の製紙・パルプ工業、浜松市の楽器・オートバイ工業、⑪焼津市のかんづめ・水産加工業など、特色のある工業都市が多いです。

問1 下線部①について、1960年ごろに三重県で発生した四大公害病のひとつを何というか、答えなさい。

問2 ②にあてはまる都市の名前を答えなさい。

問3 下線部③について、兵庫県にある世界遺産として正しいものを、次のア～エから1つ選び、記号で答えなさい。

ア



イ




ウ



エ



問4 下線部④に関連して、次のグラフは、日本の大規模工場と中小工場の事業所数(2020年)、従業者数(2020年)、製造品出荷額(2019年)の割合を示したものです。A、B、Cの項目の組み合わせとして正しいものを、あとのア～カから1つ選び、記号で答えなさい。



(『日本国勢図会 2022/23』より作成)

- ア A 事業所数 B 従業者数 C 製造品出荷額
 イ A 事業所数 B 製造品出荷額 C 従業者数
 ウ A 従業者数 B 事業所数 C 製造品出荷額
 エ A 従業者数 B 製造品出荷額 C 事業所数
 オ A 製造品出荷額 B 事業所数 C 従業者数
 カ A 製造品出荷額 B 従業者数 C 事業所数

問5 下線部⑤について、東京都の都心部の周りに発達した、都心に代わって重要な機能をになっている、新宿・渋谷・池袋などの地区を何といいますか。漢字3字で答えなさい。

問6 下線部⑥について、横浜市には日本有数の港があります。次の表は、横浜港、成田国際空港、神戸港、名古屋港の4つの港の輸出入総額の全国順位と、おもな輸出入品目を示したものです。横浜港にあてはまるものを、表中のア～エから1つ選び、記号で答えなさい。

	順位	おもな輸出品目	おもな輸入品目
ア	1位	半導体等製造装置、金	通信機、医薬品
イ	3位	自動車、自動車部品	液化ガス、衣類
ウ	4位	自動車、プラスチック	石油、有機化合物
エ	7位	プラスチック、建設・鉱山用機械	たばこ、衣類

(『日本国勢図会 2022/23』より作成)

問7 ⑦にあてはまる製鉄所の名前を答えなさい。

問8 下線部⑧について、日本は石炭を 〇 から最も多く輸入しており、2020年には石炭の輸入額全体の60.2%をしめていました。〇にあてはまる国名として正しいものを、次のア～エから1つ選び、記号で答えなさい。

- ア オーストラリア イ 中国 ウ ブラジル エ アメリカ合衆国

問9 下線部⑨について、次の問いに答えなさい。

(1) 中国・四国地方の自然について正しく説明した文を、次のア～エから1つ選び、記号で答えなさい。

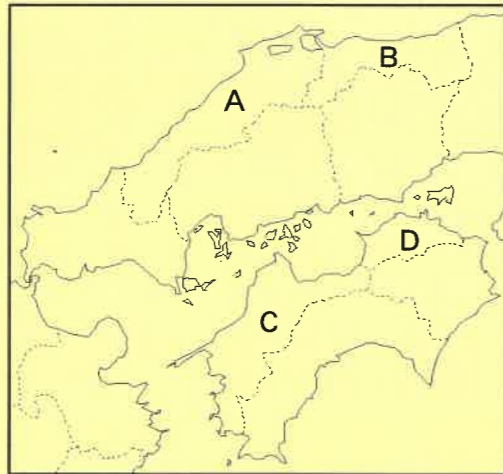
ア 山陽地方と山陰地方を区分する中国山地は、標高が高く、険しい山が多い。

イ 四国山地は、なだらかな山々が連なっており、太平洋側では一年を通して雨が多く、瀬戸内側は一年を通して雨が少ない。

ウ 高知県を流れる四万十川は、四国地方で最も長い川で、日本三大急流のひとつに数えられている。

エ 一年を通して降水量が少ない香川県には多くのため池があり、県の総面積に対するため池の密度は全国1位である。

(2) 次の地図のA～Dにあてはまる県の組み合わせとして正しいものを、あとのア～エから1つ選び、記号で答えなさい。

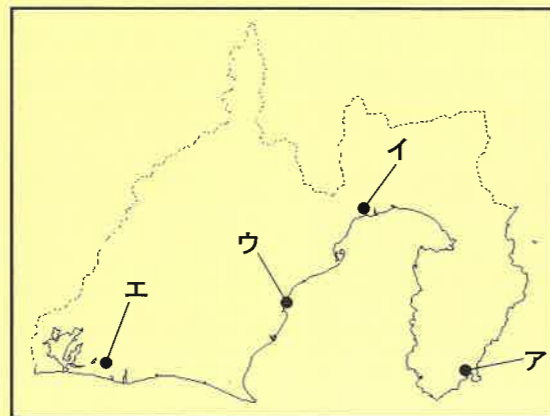


- | | | | | |
|---|-------|-------|-------|-------|
| ア | A 島根県 | B 鳥取県 | C 香川県 | D 愛媛県 |
| イ | A 島根県 | B 鳥取県 | C 愛媛県 | D 香川県 |
| ウ | A 鳥取県 | B 島根県 | C 香川県 | D 愛媛県 |
| エ | A 鳥取県 | B 島根県 | C 愛媛県 | D 香川県 |


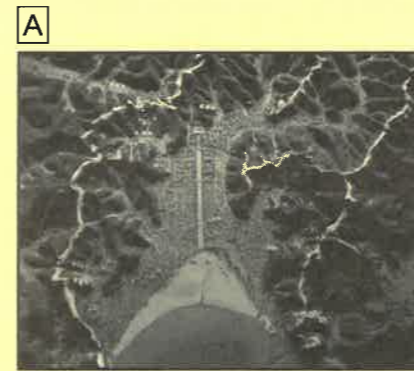
問10 下線部⑩について、静岡県が2020年の収穫量全国1位である農産物として正しいものを、次のア～エから1つ選び、記号で答えなさい。

- ア さとうきび イ いぐさ ウ 茶 エ てんさい

問11 下線部⑪について、焼津港の位置として正しいものを、次の地図中のア～エから1つ選び、記号で答えなさい。




2 次のA～Gの資料を見て、あとの問いに答えなさい。



第一条 人の和を大切に、争うことをやめなさい。

第二条 仏の教えをあつく敬いなさい。

第三条 の命令には、必ず従いなさい。



問1 資料Aは、ある幕府が開かれた地域の様子を復元した模型です。この幕府を開いた人物の名前として正しいものを、次のア～エから1つ選び、記号で答えなさい。

- ア 足利尊氏 イ 源頼朝 ウ 北条義時 エ 北条時政

問2 資料Bは、ふすまや障子で部屋を仕切るなど、現在の和室に似たつくりの建築様式を示したものです。この建築様式を何というか、答えなさい。

問3 資料[C]について、次の問いに答えなさい。

(1) この写真は、6度目の航海でようやく日本にたどりつき、日本の仏教の発展に大きな役割を果たした僧の像です。この僧の出身国の名前として正しいものを、次のア～エから1つ選び、記号で答えなさい。

ア 隋 イ 宋 ウ 唐 エ 元

(2) この僧が開いた寺院として正しいものを、次のア～エから1つ選び、記号で答えなさい。

ア



イ



ウ



エ



問4 資料[D]について、次の問いに答えなさい。

(1) この写真は、堀やさくで囲まれたむらの様子を復元した遺跡です。この遺跡がある県名を答えなさい。

(2) この遺跡の時代の説明として正しいものを、次のア～エから1つ選び、記号で答えなさい。

- ア 人々の間に、富を持つ者とそうでない者のように、貧富の差が広がってきた。
- イ 大王を中心とした政権が、関東地方から九州中部におよぶ支配体制を形成した。
- ウ 人々は打製石器を使い、ナウマンゾウなどの大型動物を狩って暮らしていた。
- エ 人々はなわ目の模様のある厚手の土器を使い、食べ物をにたりたくわえたりした。

問5 資料[E]について、次の問いに答えなさい。

(1) この寺院を建てた人物の名前として正しいものを、次のア～エから1つ選び、記号で答えなさい。

ア 聖武天皇 イ 菅原道真 ウ 平清盛 エ 藤原頼通

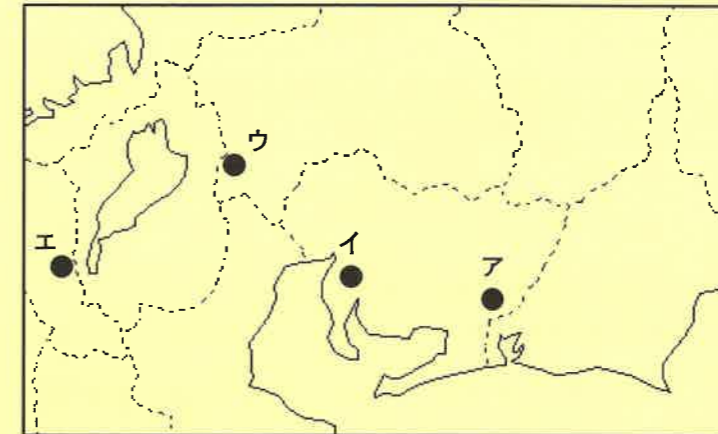
(2) この寺院が建てられた時代の文化の説明として正しいものを、次のア～エから1つ選び、記号で答えなさい。

- ア 武士や貴族の間で、茶の湯や生け花がさかんになった。
- イ 雪舟が、中国から伝わったすみ絵を日本風の様式に完成させた。
- ウ 運慶が、金剛力士像などの力強い作品を数多く残した。
- エ 貴族の間で和歌が流行し、『古今和歌集』が編さんされた。

問6 資料[F]の [] にあてはまることばを、漢字2字で答えなさい。

問7 資料[G]について、次の問いに答えなさい。

(1) この屏風にえがかれた戦いが行われた場所を、次の地図中のア～エから1つ選び、記号で答えなさい。



(2) この戦いでは、鉄砲が大量に用いられました。鉄砲を日本に伝えた人物の出身国として正しいものを、次のア～エから1つ選び、記号で答えなさい。

ア スペイン イ オランダ ウ ポルトガル エ イギリス

問8 [A], [B], [C], [D], [E]の資料を、時代の古いものから順に並べかえ、記号で答えなさい。

3 次の年表を見て、あとの問いに答えなさい。

年	できごと	
1635年	参勤交代の制度が始まる	…A
1798年	『古事記伝』が完成する	…B
	↑ C ↓	
1873年	地租改正が実施される	…D
1877年	西南戦争が起こる	…E
1904年	□との間で戦争が始まる	…F
1925年	普通選挙制が実施される	…G
1937年	日中戦争が始まる	…H
1945年	2つの都市に原子爆弾が投下される	…I
1972年	沖縄が日本に復帰する	…J
1988年	瀬戸大橋が開通する	…K

問1 年表中のAについて、参勤交代の制度を定めた人物の名前として正しいものを、次のア～エから1つ選び、記号で答えなさい。

- ア 徳川家康 イ 徳川家光 ウ 徳川綱吉 エ 徳川吉宗

問2 年表中のBについて、『古事記伝』を完成させた人物として正しいものを、次のア～エから1つ選び、記号で答えなさい。



問3 年表中のCの期間に起こった次のア～エのできごとを、時代の古いものから順に並べかえ、記号で答えなさい。

- ア 幕府が政権を朝廷に返す。 イ 大塩平八郎の乱が起こる。
ウ 日米和親条約を結ぶ。 エ 日米修好通商条約を結ぶ。

問4 年表中のDについて、明治政府は国の収入を安定させるため、これまでの□に代わって、土地の価格に応じた地租という税金を現金で納めさせるようにしました。□にあてはまることばを答えなさい。

問5 年表中のEについて、薩摩藩の士族におかれて兵を挙げた人物の名前として正しいものを、次のア～エから1つ選び、記号で答えなさい。

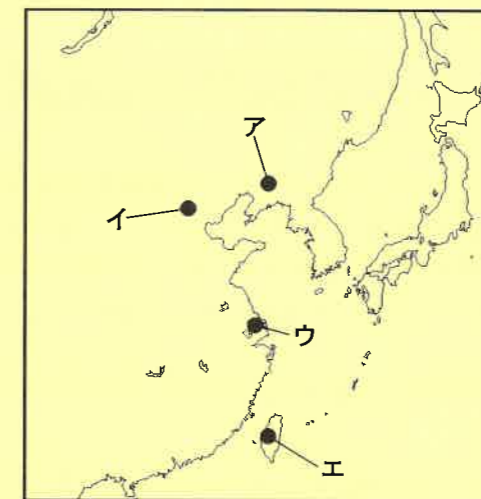
- ア 大久保利通 イ 木戸孝允 ウ 西郷隆盛 エ 坂本龍馬

問6 年表中のFの□にあてはまる国の名前を答えなさい。

問7 年表中のGについて、このとき選挙権が認められた範囲として正しいものを、次のア～エから1つ選び、記号で答えなさい。

- ア 満20才以上のすべての男女 イ 満20才以上のすべての男子
ウ 満25才以上のすべての男女 エ 満25才以上のすべての男子

問8 年表中のHについて、日中戦争のきっかけとなった日本軍と中国軍の衝突が起こった場所として正しいものを、次の地図中のア～エから1つ選び、記号で答えなさい。



問9 年表中のIについて、原子爆弾が投下された都市として正しいものを、次のア～カから2つ選び、記号で答えなさい。

- ア 東京都区部 イ 長崎市 ウ 大阪市
エ 広島市 オ 福岡市 カ 横浜市

問10 年表中のJについて、この年に起こったできごととして正しいものを、次のア～エから1つ選び、記号で答えなさい。

- ア 冬季オリンピック札幌大会が開かれる。
イ 日中平和友好条約が結ばれる。
ウ 大阪で万国博覧会が開かれる。
エ 日本が国際連合に加盟する。

問11 年表中のKについて、瀬戸大橋で結ばれている2つの都市の組み合わせとして正しいものを、次のア～エから1つ選び、記号で答えなさい。

- ア 広島県呉市 - 愛媛県松山市 イ 岡山県倉敷市 - 愛媛県松山市
ウ 広島県呉市 - 香川県坂出市 エ 岡山県倉敷市 - 香川県坂出市

4 はるかさんとゆうきさんは、選挙制度について話し合っています。これを読んで、あとの問いに答えなさい。

はるか：7月10日に①参議院議員の選挙が行われたね。
 ゆうき：ぼくの両親や姉は、投票をするために出かけたよ。
 はるか：ゆうきさんのお姉さんは、選挙権を持つ満②才以上だったんだね。
 ゆうき：そうだよ。生まれて初めての投票だと言っていたよ。
 はるか：③テレビで見ただけで、④与党が選挙前よりも多くの議席を得たようだね。
 ゆうき：日本は⑤議院内閣制をとっていて、大統領制をとっているアメリカやフランス、⑥韓国などは選挙の形がちがっているよ。
 はるか：⑦アメリカの大統領は地位が高く、権限が強いと聞いたことがあるよ。どうしてなのかな。
 ゆうき：大統領は、議会の議員とは別の国民選挙で選ばれているからだよ。

問1 会話中の下線部①について、参議院の説明として誤っているものを、次のア～エから1つ選び、記号で答えなさい。

- ア 参議院議員の任期は6年で、3年ごとに半数が改選される。
- イ 参議院議員は、比例代表選挙と選挙区選挙によって選ばれる。
- ウ 参議院議員の被選挙権は、満30才以上である。
- エ 参議院は重要な決定について、衆議院より強い権限を持っている。

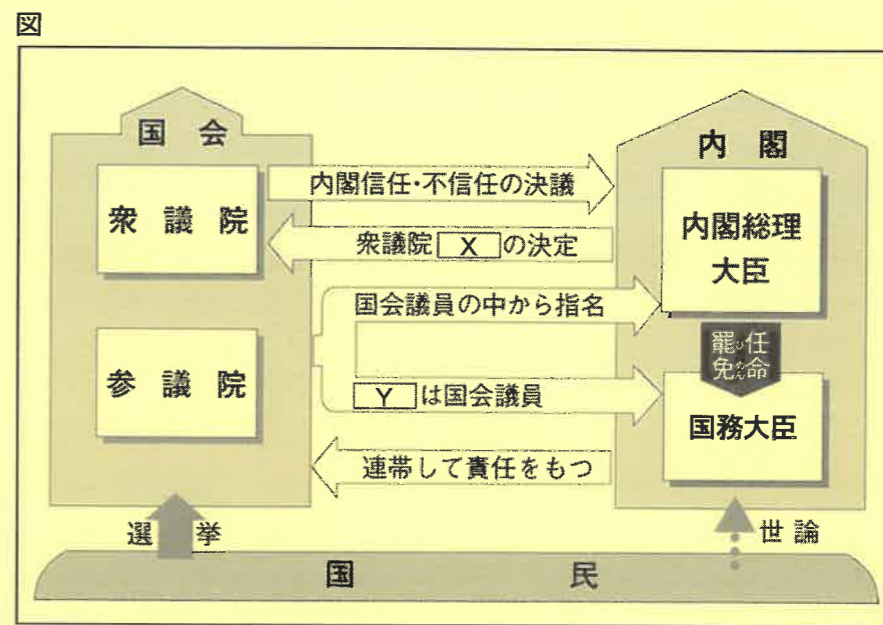
問2 会話中の②にあてはまる数字を答えなさい。

問3 会話中の下線部③について、テレビなどのメディアを通して、不特定多数の人々に大量の情報を伝達することを何といいますか。カタカナ4字の略称で答えなさい。

問4 会話中の下線部④について、2022年の参議院議員選挙の時点で与党である政党として正しいものを、次のア～オから2つ選び、記号で答えなさい。

- ア 自由民主党 イ 立憲民主党 ウ 日本維新の会
- エ 公明党 オ 日本共産党

問5 会話中の下線部⑤について、次の図は、議院内閣制のしくみを表したものです。これを見て、あとの問いに答えなさい。




(1) 図中の X にあてはまることばを、漢字2字で答えなさい。

(2) 図中の Y にあてはまることばとして正しいものを、次のア～エから1つ選び、記号で答えなさい。

- ア 3分の1以上 イ 過半数 ウ 3分の2以上 エ 4分の3以上

問6 会話中の下線部⑥について、韓国の国旗として正しいものを、次のア～エから1つ選び、記号で答えなさい。



問7 会話中の下線部⑦について、2022年11月現在のアメリカ大統領の名前として正しいものを、次のア～エから1つ選び、記号で答えなさい。

- ア バラク・オバマ イ ドナルド・トランプ
- ウ ジョー・バイデン エ ジョージ・ブッシュ

【ここで問題は終わりです】



2023年度 第1回入試
一般入学試験問題
(1月10日午前実施)

氏名

受験番号

得点

社 会

解答用紙

1	問1	問2	問3	問4
	問5	問6	問7	問8
	問9	問10	問11	
	(1)	(2)		

2	問1	問2	問3	
			(1)	
	問4	問5	問6	
	(1)	(2)	(1)	
問7	問8	→ → → →		
(1)	(2)			

3	問1	問2	問3	問4	
			→ → →		
	問5	問6	問7	問8	問9
	問10	問11			

4	問1	問2	問3	問4
	問5	問6	問7	
(1)	(2)			