

1 次のA～Fの文章を読んで、あとの問いに答えなさい。

- A ①千葉県の大部分をしめ、太平洋に面した②は、豊富な自然環境にめぐまれており、海水浴場や別荘地として発達しています。その一方で、東京湾岸では、工業地域の造成が進み、急速に工業化しました。
- B オホーツク海の南端に突き出た北海道の知床半島は、③北半球における流水の南限であり、植物性のプランクトンの大増殖を基礎とした食物網を通して、多種多様な生物が生息する地域で、2005年に④世界遺産に登録されました。
- C 九州南部に位置し、⑤鹿児島県にある大隅半島は、1914年の噴火により活火山である⑥桜島とは陸続きになりました。半島の東部にはロケット発射場があり、1970年に日本初の人工衛星「おおすみ」を搭載したロケットが打ち上げられました。
- D ⑦秋田県の北西部にあり、日本海に突き出た男鹿半島の付け根には八郎潟があります。八郎潟は、かつて琵琶湖に次いで日本で2番目に広い面積をもつ湖でしたが、大部分の水域が⑧によって陸地化されました。
- E 本州中央部から南に突き出た⑨紀伊半島は、日本最大の半島です。夏から秋にかけて多くの⑩台風が襲来することで知られており、伊勢湾台風や平成23年の台風第12号によって、大きな被害がもたらされました。
- F ⑪北陸地方の中央付近から日本海へ北に向けて突き出た能登半島は、日本海側の海岸線で最も突出面積が大きい半島です。北部にある輪島市では、日本の伝統工芸品である⑫が生産されています。

- 問1 下線部①について、千葉県の生産高が全国1位の農産物として誤っているものを、次のア～エから1つ選び、記号で答えなさい。
ア らっかせい イ ほうれんそう ウ ねぎ エ レタス
- 問2 ②にあてはまる半島として正しいものを、次のア～エから1つ選び、記号で答えなさい。
ア 知多半島 イ 房総半島 ウ 三浦半島 エ 渥美半島
- 問3 下線部③について、北半球にある国として正しいものを、次のア～エから1つ選び、記号で答えなさい。
ア オーストラリア イ アルゼンチン ウ インド エ ニューゼーランド
- 問4 下線部④について、世界遺産を採択する国際連合の専門機関の名前をカタカナで答えなさい。
- 問5 下線部⑤について、鹿児島県の飼育数が最も多い家畜として正しいものを、次のア～エから1つ選び、記号で答えなさい。
ア 豚 イ 肉用牛 ウ 乳用牛 エ 採卵鶏

問6 下線部⑥について、次の地図は日本の主な活火山の位置を示したものです。Xにあてはまる活火山の名前を答えなさい。



- 問7 下線部⑦について、秋田市が県庁所在都市である秋田県は東北地方にあります。東北地方の6県のうち、県名と県庁所在都市名が異なる2県と県庁所在都市の都市名をそれぞれ答えなさい。
- 問8 ⑧には、「遠浅の海や水深の浅い湖などを仕切り、その場の水を抜き取ったり干上がらせたりするなどして陸地にすること」を表すことばが入ります。そのことばを答えなさい。
- 問9 下線部⑨について、紀伊半島に位置する都道府県として誤っているものを、次のア～エから1つ選び、記号で答えなさい。
ア 奈良県 イ 三重県 ウ 兵庫県 エ 和歌山県
- 問10 下線部⑩について、台風の被害をできるだけ少なくするために、次の写真のような伝統的な家がある都道府県名を答えなさい。




問11 下線部⑩について、次のグラフは北陸工業地域、東海工業地域、京葉工業地域の製造品出荷額の構成割合を示したものです。北陸工業地域の構成割合として正しいものを、次のア～ウから1つ選び、記号で答えなさい。

ア	金属 16.8%	機械 40.7	化学 12.8	食料品 9.4	その他 20.3
イ	金属 7.8%	機械 51.7	化学 11.0	食料品 13.7	その他 15.8
ウ	金属 21.5%	機械 13.1	化学 39.9	食料品 15.8	その他 9.7

(『日本国勢図会2020/21』より作成)

問12 ⑫にあてはまる伝統工芸品の写真として正しいものを、次のア～エから1つ選び、記号で答えなさい。



2 次のA～Gの資料を見て、あとの問いに答えなさい。

A

みな、心を一つにして聞きなさい。これは私の最後のことばです。源頼朝殿が、朝敵である平家一門をほろぼし、ここ関東にわれわれの幕府をつくりました。そのご恩は山よりも高く海よりも深いほです。しかし、今、そのご恩を忘れ、天皇や上皇をたぶらかす者があらわれ、朝廷より理不尽な幕府討伐命令が出ました。

B



C




D



E



F



G



問1 資料Aについて、次の問いに答えなさい。

- (1) この資料は、朝廷から幕府を討伐する命令が出たときに、武士の団結をうたえるために行われた演説の一部です。この演説を行った人物の名前を漢字で答えなさい。
- (2) 下線部の幕府の名前を答えなさい。

問2 資料Bについて、この人物は日本にキリスト教を伝えました。この人物の名前を答えなさい。

問3 資料Cについて、次の問いに答えなさい。

- (1) この建物を建てた人物の名前を答えなさい。

(2) この人物が行った政治の説明として正しいものを、次のア～エから1つ選び、記号で答えなさい。

- ア 太政大臣の地位につき、武士の成長を背景に権力を強めた。
- イ 政治を行う役人の心構えを書いた十七条の憲法を制定した。
- ウ 中国から帰国した留学生や僧と協力して天皇を中心とした国づくりを始めた。
- エ 50年の長きにわたって関白の地位をつとめ、一族の全盛期を築いた。

問4 資料Dについて、この器物は古墳の上やまわりに置かれた素焼きの土製品です。この器物の名前を答えなさい。

問5 資料Eについて、これは中に大仏が安置された寺院です。この寺院として正しいものを、次のア～エから1つ選び、記号で答えなさい。

- ア 法隆寺 イ 東大寺 ウ 唐招提寺 エ 薬師寺

問6 資料Fについて、次の問いに答えなさい。

(1) この資料は、銀閣のとなりにある東求堂の中にある部屋の写真です。この部屋のようなつくりを何というか、漢字3字で答えなさい。

(2) 銀閣を建てた人物の説明として正しいものを、次のア～エから1つ選び、記号で答えなさい。

- ア 室町幕府の初代の征夷大將軍となった。
- イ 中国の明との貿易を行い、幕府の財政を安定させた。
- ウ 後継ぎの問題などがきっかけで応仁の乱が起こった。
- エ 室町幕府の最後の將軍で、織田信長によって追放された。

問7 資料Gについて、次の問いに答えなさい。

(1) この資料は、弥生時代の大規模な集落の跡である吉野ヶ里遺跡です。この遺跡がある都道府県名を答えなさい。

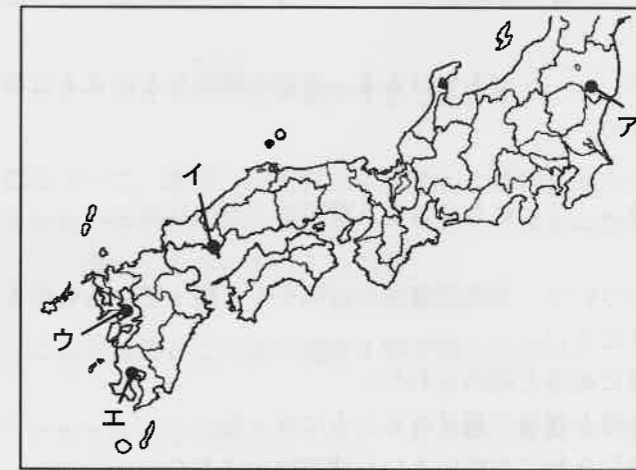
(2) その弥生時代に邪馬台国という国を治めた女王の名前を答えなさい。

問8 A, B, C, D, Eの資料を、時代の古いものから順に並べかえ、記号で答えなさい。

3 次の年表を見て、あとの問いに答えなさい。

年	できごと	
1637年	島原・天草一揆が起こる	…A
1858年	日米修好通商条約が結ばれる	…B
1869年	五か条の御誓文が發布される	…C
		↕ D
1904年	日露戦争が起こる	…E
1911年	関税自主権が回復する	…F
1923年	□□□□が起こる	…G
1945年	広島と□□□□に原爆が投下される	…H
1946年	日本国憲法が公布される	…I
1951年	日本と□□□□の間で安全保障条約が結ばれる	…J
1998年	冬季オリンピックが□□□□で開かれる	…K

問1 年表中のAについて、島原・天草一揆が起こった場所として正しいものを、次のア～エから1つ選び、記号で答えなさい。



問2 年表中のBについて、日米修好通商条約を結んだ人物の名前として正しいものを、次のア～エから1つ選び、記号で答えなさい。

- ア 井伊直弼 イ 本居宣長 ウ 新井白石 エ 大塩平八郎

問3 年表中のCについて、次の五か条の御誓文の資料の X と Y にあてはまることばをそれぞれ漢字2字で答えなさい。

- 一 政治のことは X を開いて、みんなの意見を聞いて決めよう。
- 一 みんなが心を合わせて、国の政策を行おう。
- 一 みんなの志がかなえられるようにしよう。
- 一 これまでのよくないしきたりは改めるようにしよう。
- 一 新しい知識を Y に学び、国を栄えさせよう。

問4 年表中のDの期間に起こった次のア～エのできごとを、時代の古いものから順に並べかえ、記号で答えなさい。

- ア 日清戦争が起こる
- イ 富岡製糸場がえられる
- ウ 第一回帝国議会が開かれる
- エ 自由党がえられる

問5 年表中のEについて、この戦争に先立ってロシアの南下をおさえるために、日本と同盟を結んだ国として正しいものを、次のア～エから1つ選び、記号で答えなさい。

- ア フランス
- イ アメリカ
- ウ イタリア
- エ イギリス

問6 年表中のFについて、関税自主権の回復に成功した人物の名前として正しいものを、次のア～エから1つ選び、記号で答えなさい。

- ア 板垣退助
- イ 小村寿太郎
- ウ 大久保利通
- エ 陸奥宗光

問7 年表中のGの にあてはまる、東京や横浜などに大きな被害をあたえた自然災害の名前を答えなさい。

問8 年表中のHの にあてはまる都市名を答えなさい。

問9 年表中のIについて、日本国憲法の説明として誤っているものを、次のア～エから1つ選び、記号で答えなさい。

- ア 主権は天皇にあると決められた。
- イ 都道府県知事が選挙で選ばれることになった。
- ウ 再び戦争を引き起こさないという決意が示された。
- エ 基本的人権の尊重が柱の一つと定められた。

問10 年表中のJの にあてはまる国名を答えなさい。

問11 年表中のKの にあてはまる都市名を、次のア～エから1つ選び、記号で答えなさい。

- ア 東京
- イ 札幌
- ウ 岐阜
- エ 長野

4 やすよさんは、日本国憲法について調べて、国会・内閣・裁判所について、次の資料を作りました。この資料を見て、あとの問いに答えなさい。

国会

第41条 国会は、国権の最高機関であって、国の唯一の A 機関である。

第42条 国会は、衆議院及び B の両議院でこれを構成する。

第44条 両議院の議員及びその C 選挙人の資格は、法律でこれを定める。

内閣

第66条第1項 内閣は、法律の定めるところにより、その首長たる内閣総理大臣及びその他の D でこれを組織する。

第69条 内閣は、衆議院で不信任の決議案を可決し、又は信任の決議案を否決したときは、E 以内に衆議院が解散されない限り、総辞職をしなければならない。

第73条 F 内閣は、他の一般行政事務の外、左の事務を行ふ。

裁判所

第76条第1項 すべて司法権は、G 及び法律の定めるところにより設置する下級裁判所に属する。

第3項 H すべて裁判官は、良心に従ひ独立してその職権を行ひ、この憲法及び法律にのみ拘束される。

問1 資料中の A には、法律を制定する仕事を表すことばが入ります。このことばを漢字2字で答えなさい。

問2 資料中の B にあてはまることばを漢字3字で答えなさい。

問3 資料中の下線部Cについて、選挙人の資格とは選挙する権利をもつ人のことを表しています。現在の日本の選挙権を説明した次の文の にあてはまる数字を答えなさい。
日本国民で満 歳以上の者にあたえられる。

問4 資料中の D にあてはまることばを漢字4字で答えなさい。

問5 資料中の E にあてはまる日数として正しいものを、次のア～エから1つ選び、記号で答えなさい。
ア 10日 イ 15日 ウ 20日 エ 30日

問6 資料中の下線部Fについて、内閣の仕事として誤っているものを、次のア～エから1つ選び、記号で答えなさい。

- ア 条約を締結する。
- イ 予算を作成して国会に提出する。
- ウ 弾劾裁判所を設置する。
- エ 天皇の国事行為に助言や承認をあたえる。

問7 資料中の **G** にあてはまることばを漢字5字で答えなさい。

問8 資料中の下線部**H**について、裁判所が独立して職務を行うことが示されているように、国の権力は国会、内閣、裁判所の三つの機関が独立して担当しています。このことを何というか、漢字4字で答えなさい。

【ここで問題は終わりです】



2021年度 第1回入試
 一般入学試験問題
 (1月10日午前実施)

氏名

受験番号

得点

社 会

解答用紙

1	問1	問2	問3	問4	問5	
	問6		問7			
	県名		県	県庁所在地		
	市		問8			
	問9		問10	問11	問12	
	県名		県	県庁所在地		
	市					

2	問1		問2		
	(1)	(2)	幕府		
	問3		問4		問5
	(1)	(2)			
	問6		問7		
	(1)	(2)	(1)	(2)	
問8					
→ → → →					

3	問1	問2	問3		問4			
		X	Y	→ → →				
	問5		問6	問7		問8		
	問9		問10		問11			

4	問1	問2		問3	問4			
	問5	問6	問7					
	問8							