

1 次のA～Iの文章を読んで、あとの問いに答えなさい。

- A 琵琶湖は、①の面積の約6分の1をしめる日本最大の湖です。戦国時代には、②織田信長がこの湖の近くに城を築き、全国統一の拠点としました。
- B ③鹿児島県にある池田湖は、周囲が約15km、水深が233mの九州最大のカルデラ湖です。湖の周辺から「薩摩富士」とよばれる開聞岳をのぞむことができます。
- C ④富山県の黒部湖は、黒部ダムによって峡谷をせきとめたことによってできた巨大な人工湖です。背後には⑤立山・後立山連峰が広がっています。
- D 穴道湖は、島根県の⑥県庁所在都市と出雲市にまたがる湖です。汽水湖であるため、魚種が豊富で、2017年、⑦の収穫量は全国1位でした。
- E ⑧北海道の摩周湖は、火山の爆発によって生まれた火山湖です。日本で最も透明度の高い湖の1つとして知られています。
- F ⑨栃木県にある中禅寺湖は、2万年前に男体山が噴火してできた湖で、その景色の美しさから、日本百景に選定されています。
- G 浜名湖は、⑩浜松市と湖西市に位置する湖で、面積では日本10位の広さを持ちます。うなぎの養殖地として知られています。
- H ⑪茨城県の東南部に位置する霞ヶ浦は、日本で2番目の面積の広い湖です。帆引きのワカサギ漁で知られていますが、近年は水質汚濁がすすんでいます。
- I ⑫秋田県の田沢湖は、日本で一番深い湖であり、その水深は423.4mです。豊富な水量は湖底のわき水が支えているものと考えられています。

問1 ①にあてはまる都道府県名を答えなさい。

問2 下線部②について、この城が築かれた場所として正しいものを、次のア～エから1つ選び、記号で答えなさい。

- ア 姫路 イ 長浜 ウ 安土 エ 坂本

問3 下線部③について、次の表は乳用牛、肉用牛、豚、肉用若鶏の飼育頭数上位都道府県の3位までを示したものです。表中のA～Fの中から、鹿児島県を示すものを1つ選び、記号で答えなさい。

	乳用牛	肉用牛	豚	肉用若鶏
1位	A	A	D	E
2位	B	D	E	D
3位	C	E	A	F

問4 下線部④について、富山県では四大公害病の1つであるイタイイタイ病が発生しました。イタイイタイ病が発生した河川名として正しいものを、次のア～エから1つ選び、記号で答えなさい。

- ア 神通川 イ 長良川 ウ 阿賀野川 エ 渡良瀬川

問5 下線部⑤について、立山は「北アルプス」と呼ばれる山脈の北部にあります。この山脈名として正しいものを、次のア～エから1つ選び、記号で答えなさい。

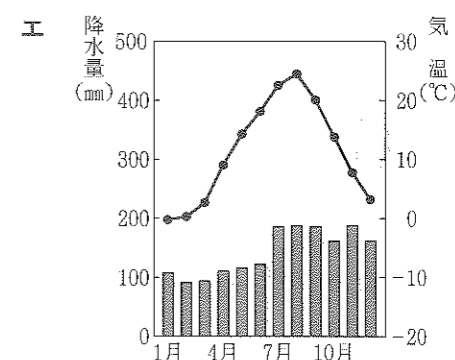
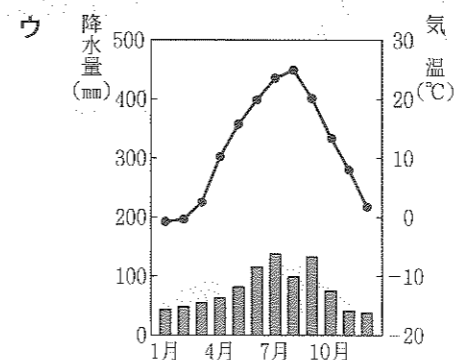
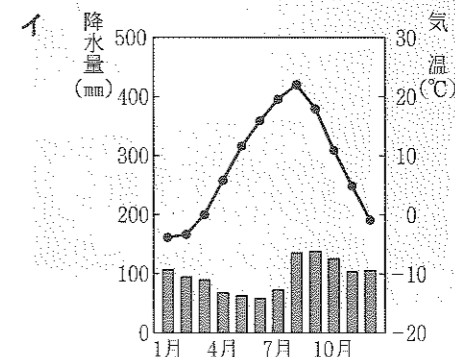
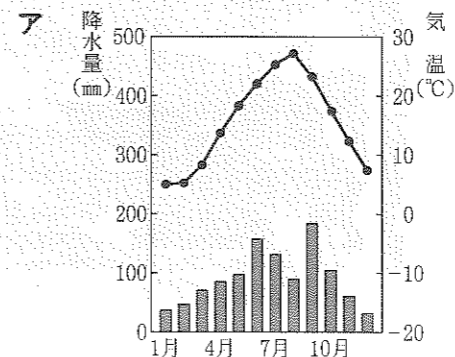
- ア 鈴鹿山脈 イ 赤石山脈 ウ 木曾山脈 エ 飛騨山脈

問6 下線部⑥について、この都市名を漢字で答えなさい。


問7 ⑦にあてはまる魚介類として正しいものを、次のア～エから1つ選び、記号で答えなさい。

- ア かき イ わかめ ウ のり エ しじみ

問8 下線部⑧について、北海道の札幌市の雨温図として正しいものを、次のア～エから1つ選び、記号で答えなさい。



問9 下線部⑨について、栃木県にある建造物として正しいものを、次のア～エから1つ選び、記号で答えなさい。




問10 下線部⑩について、浜松市と湖西市がある都道府県の生産量が全国第1位の工業製品として正しいものを、次のア～エから1つ選び、記号で答えなさい。

ア ピアノ イ タオル ウ 携帯電話 エ 合成ゴム


問11 下線部⑪について、茨城県の生産が全国第1位の農作物として正しいものを、次のア～エから1つ選び、記号で答えなさい。

ア すいか イ ぶどう ウ メロン エ いちご

問12 下線部⑫について、秋田県の伝統工芸品として正しいものを、次のア～エから1つ選び、記号で答えなさい。



2 次のア～Gの資料を見て、あとの問いに答えなさい。



問1 資料Aについて、次の問いに答えなさい。

(1) この資料は、ある天皇の宝物です。宝物が納められている、東大寺大仏殿の北北西に位置する高床式倉庫の名前を漢字3字で答えなさい。

(2) この天皇の名前として正しいものを、次のア～エから1つ選び、記号で答えなさい。

ア 推古天皇 イ 聖武天皇 ウ 桓武天皇 エ 持統天皇

問2 資料Bについて、次の問いに答えなさい。

(1) この資料は、西洋の国々との貿易の様子を表したものです。この貿易を何といいますか、答えなさい。

(2) この貿易を行った相手国として正しいものを、次のア～エから2つ選び、記号で答えなさい。

ア スペイン イ アメリカ ウ イギリス エ ポルトガル

問3 資料[C]について、次の問いに答えなさい。

(1) この人物は、摂政の地位について、むすめを天皇のきさきにして天皇との結びつきを強くすることで大きな権力を持ち、この人物と息子の時に、この政治の形態で最盛期をむかえました。この人物の名前を答えなさい。

(2) この人物のむすめの教育係として仕え、『源氏物語』を書いた人物の名前を答えなさい。

問4 資料[D]について、次の問いに答えなさい。

(1) この絵画は、中国から伝えられた水墨画を芸術として大成した人物が描いたものです。その人物の名前を答えなさい。

(2) この絵画が描かれた時代の文化の説明として正しいものを、次のア～エから1つ選び、記号で答えなさい。

ア 清少納言が『枕草子』というすぐれた随筆を書いた。

イ 4500首以上の歌を集めた万葉集が編さんされた。

ウ 貴族の生活ぶりを描いた大和絵が最盛期を迎えた。

エ 能が、観阿弥・世阿弥によって大成された。

問5 資料[E]について、これは日本で最も古い大仏です。この大仏がある寺院として正しいものを、次のア～エから1つ選び、記号で答えなさい。

ア 飛鳥寺 イ 唐招提寺 ウ 法隆寺 エ 薬師寺

問6 資料[F]について、この資料は昔の人々が食べた貝がらや動物の骨が累積した遺跡の写真です。このような遺跡を何といいますか、答えなさい。

問7 資料[G]について、この地図は遣唐使の主な航路を示したものです。遣唐使が目指した唐の都の名前を漢字2字で答えなさい。

問8 [A]、[B]、[C]、[D]、[E]の資料を、時代の古いものから順に並べかえ、記号で答えなさい。

3 次の年表を見て、あとの問いに答えなさい。

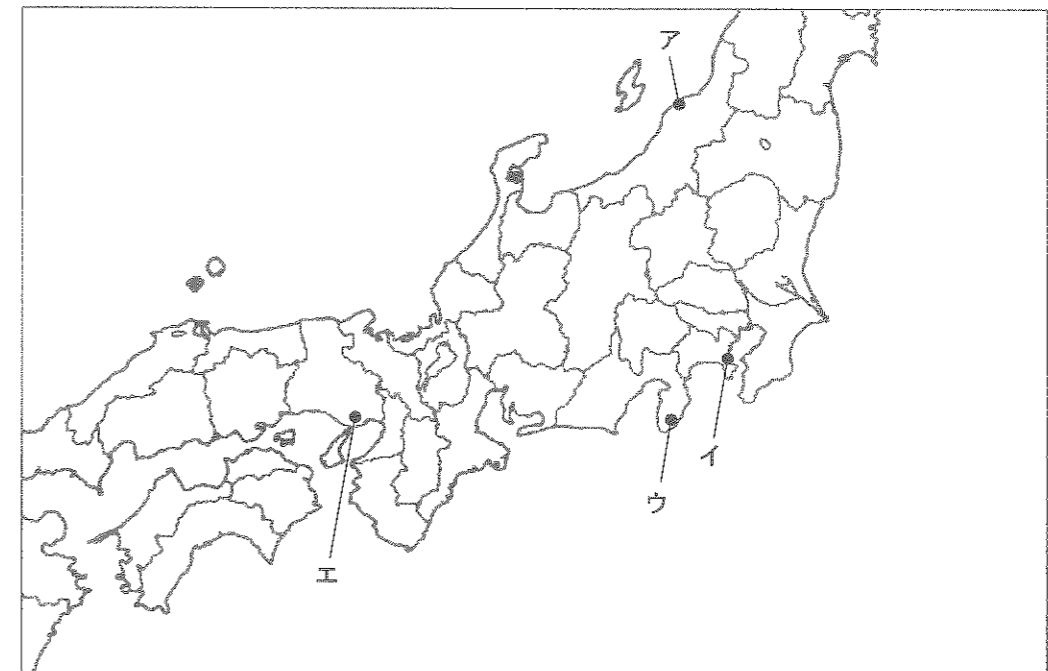
年	できごと	
1603年	<input type="text"/> が征夷大将軍になる	…A
1639年	<input type="text"/> 人の来航を禁止する	…B
1853年	ペリーが来航する	…C
	⇕ D	
1901年	<input type="text"/> 製鉄所が操業を開始する	…E
1914年	第一次世界大戦が始まる	…F
1925年	普通選挙制度が定められる	…G
1941年	太平洋戦争が始まる	…H
1956年	日本が <input type="text"/> に加盟する	…I
1972年	冬季オリンピック <input type="text"/> 大会が開かれる	…J
2004年	イラクの復興支援で <input type="text"/> が派遣される	…K

問1 年表中のAのにあてはまる人物の名前を答えなさい。

問2 年表中のBのにあてはまる国を、次のア～エから1つ選び、記号で答えなさい。

ア スペイン イ ポルトガル ウ イギリス エ オランダ

問3 年表中のCについて、ペリーが来航した場所として正しいものを、次の地図のア～エから1つ選び、記号で答えなさい。



問4 表中のDの期間に起こった次のア～エのできごとを、時代の古いものから順に並べかえ、記号で答えなさい。

- ア 西南戦争が起こる イ 薩長同盟が成立する
ウ 五か条の御誓文が出される エ 大日本帝国憲法が発布される

問5 年表中のEの にあてはまることばを答えなさい。

問6 年表中のFについて、第一次世界大戦の説明として誤っているものを、次のア～エから1つ選び、記号で答えなさい。

- ア この戦争はヨーロッパを中心に行われた。
イ 日本はこの戦争に加わり、戦勝国となった。
ウ 1919年にパリでこの戦争の講和会議が開かれた。
エ 与謝野晶子がこの戦争に反対する詩を発表した。

問7 年表中のGについて、この結果、選挙権を持つようになった人として正しいものを、次のア～エから1つ選び、記号で答えなさい。

- ア 20歳以上の男子 イ 20歳以上の男女
ウ 25歳以上の男子 エ 25歳以上の男女

問8 年表中のHについて、1941年に日本が攻撃した国の組み合わせとして正しいものを、次のア～エから1つ選び、記号で答えなさい。

- ア イタリアとイギリス イ アメリカとドイツ
ウ アメリカとイギリス エ イタリアとドイツ

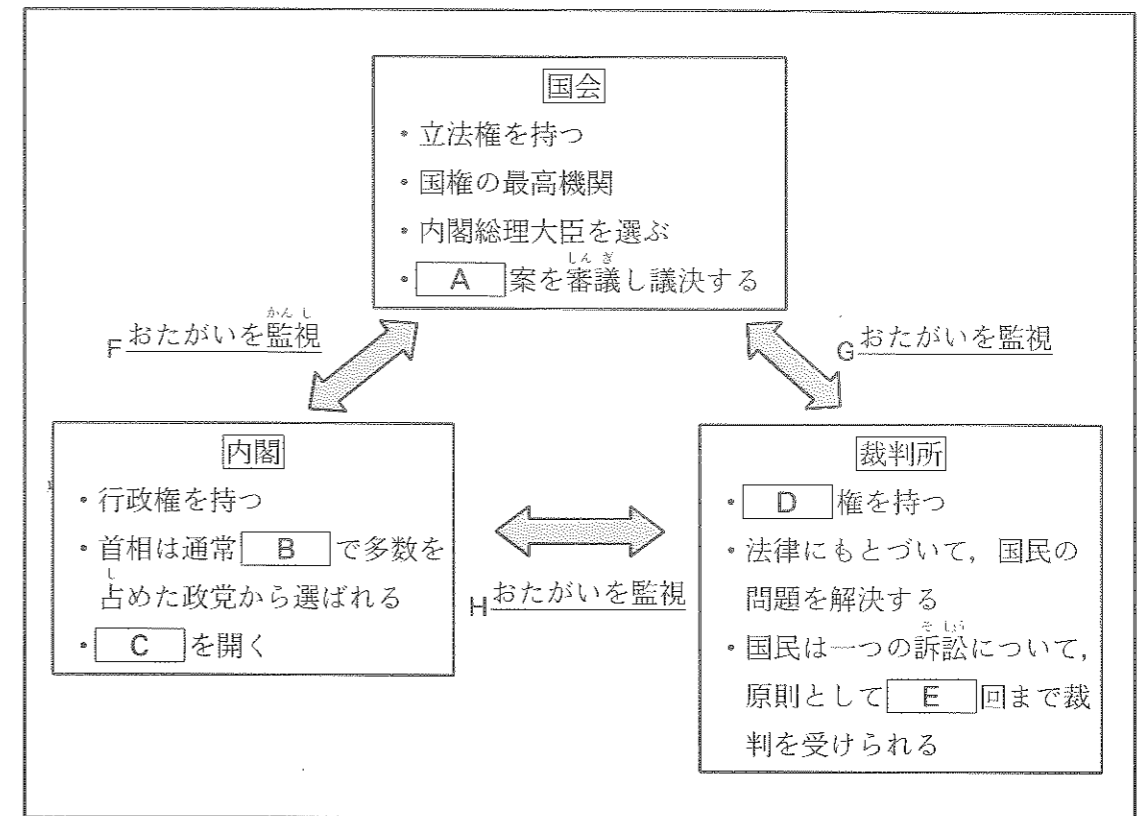
問9 年表中のIの にあてはまる組織の名前を漢字4字で答えなさい。

問10 年表中のJの にあてはまる都市名を、次のア～エから1つ選び、記号で答えなさい。

- ア 札幌 イ 長野 ウ 新潟 エ 金沢

問11 年表中のKの にあてはまることばを漢字3字で答えなさい。

4 たかしさんは、国会・内閣・裁判所について調べて、次の資料を作りました。この資料を見て、あとの問いに答えなさい。



問1 資料中の A には、国の収入や支出の計画を表すことばが入ります。このことばを漢字2字で答えなさい。

問2 資料中の B にあてはまることばを漢字3字で答えなさい。

問3 資料中の C には、内閣総理大臣と国務大臣が開く会議を表すことばが入ります。このことばを漢字2字で答えなさい。

問4 資料中の D にあてはまることばを漢字2字で答えなさい。

問5 資料中の E にあてはまる数字を答えなさい。

問6 資料中の下線部Fについて、国会は内閣に対して、内閣不信任決議を出すことができます。内閣不信任決議が可決された場合にどのようなことが行われますか。その説明として正しいものを、次のア～エから1つ選び、記号で答えなさい。

- ア 内閣不信任決議が可決されると、内閣はすぐに総辞職しなければならない。
イ 内閣は総辞職するか、10日以内に衆議院を解散するかを選択しなければならない。
ウ 内閣は総辞職するか、10日以内に衆議院と参議院を解散するかを選択しなければならない。
エ 内閣不信任決議が可決されると、内閣はすぐに衆議院を解散しなければならない。

問7 資料中の下線部Gについて、裁判所は、法律が に違反していないかを調べる権利
をもっています。 にあてはまることばを漢字2字で答えなさい。

問8 資料中の下線部Hについて、内閣が裁判所に対してもっている権利として正しいものを、
次のア～エから1つ選び、記号で答えなさい。

- ア 最高裁判所の長官とその他の裁判官を任命する。
- イ 最高裁判所の長官とその他の裁判官を指名する。
- ウ 最高裁判所の長官を任命し、その他の裁判官を指名する。
- エ 最高裁判所の長官を指名し、その他の裁判官を任命する。

【ここで問題は終わりです】

氏 名



2020 年度 第 1 回入試
 一般入学試験問題
 (1月10日午前実施)

受験番号					

得 点		

社 会

解答用紙

1	問 1		問 2	問 3	問 4	問 5
	問 6		問 7	問 8	問 9	問10
	問11	問12				

--

2	問 1			問 2		
	(1)	(2)	(1)	(2)		
	問 3					
	(1)			(2)		
	問 4		問 5	問 6		
	(1)		(2)			
問 7	問 8					
	→	→	→	→		

--

3	問 1		問 2	問 3	問 4		
					→	→	→
	問 5		問 6	問 7	問 8		
	問 9		問10	問11			

--

4	問 1	問 2		問 3	問 4	問 5
	問 6		問 7	問 8		

--