
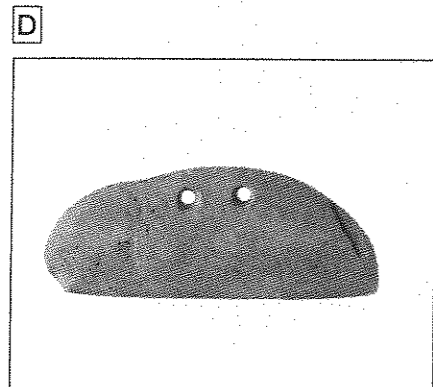
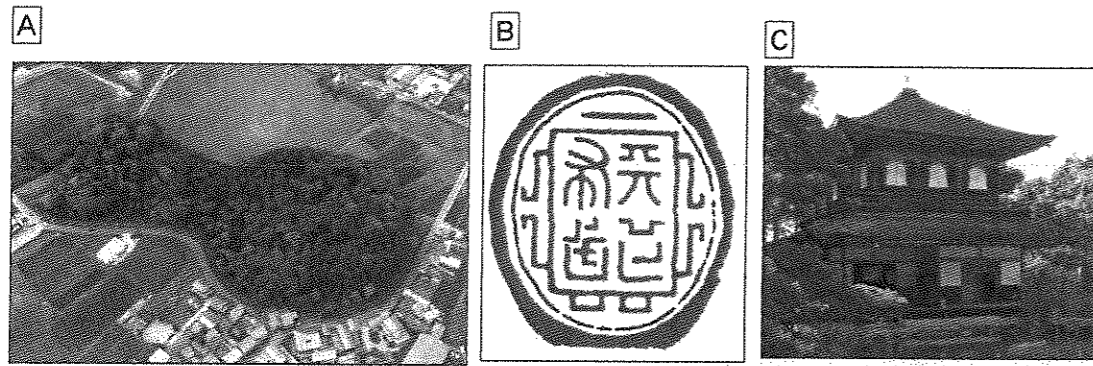


2 次のA～Gの資料を見て、あとの問いに答えなさい。



問1 資料Aについて、この資料のような古墳の形を何というか答えなさい。

問2 資料Bについて、次の問いに答えなさい。

(1) この資料の印には、武力で全国を統一しようという意気ごみを示した「()布武」という文字がほられています。()にあてはまる文字を漢字2字で答えなさい。

(2) この資料の印を使用した人物を、次のア～エから1つ選び、記号で答えなさい。
 ア 徳川家康 イ 武田信玄 ウ 豊臣秀吉 エ 織田信長

問3 資料Cについて、次の問いに答えなさい。

(1) 資料の建築物を建てた人物を、次のア～エから1つ選び、記号で答えなさい。
 ア 足利義満 イ 足利義政 ウ 足利尊氏 エ 足利義昭

(2) この建築物の東求堂のような、たたみや障子、ふすまなどを使った日本独自の建築様式を何というか答えなさい。

問4 資料Dについて、次の問いに答えなさい。

(1) この資料の道具の名前を答えなさい。

(2) この資料の道具が使われた時代の説明として正しいものを、次のア～エから1つ選び、記号で答えなさい。

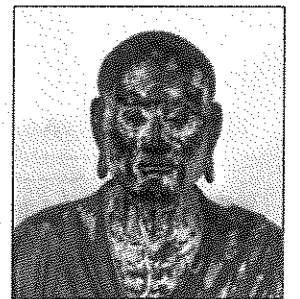
- ア 青森県の三内丸山遺跡はこの時代の代表的な遺跡である。
- イ 中国の文化を学ぶために、遣隋使が派遣された。
- ウ 仮名文字が作られ、日本特有の文化が生まれた。
- エ 卑弥呼という女王が邪馬台国を治めていた。

問5 資料Eについて、次の問いに答えなさい。

(1) この仏像がある寺院として正しいものを、次のア～エから1つ選び、記号で答えなさい。

- ア 唐招提寺 イ 東大寺
- ウ 平等院 エ 飛鳥寺

(2) この仏像づくりに協力した、右の写真の人物の名前を答えなさい。



問6 資料Fについて、これは源平合戦の屋島の戦いの様子を表したものです。屋島が今ある都道府県として正しいものを、次のア～エから1つ選び、記号で答えなさい。

- ア 神奈川県 イ 広島県 ウ 香川県 エ 京都府

問7 資料Gについて、この絵の右側で馬に乗って戦っている武士の名前を、次のア～エから1つ選び、記号で答えなさい。

- ア 竹崎季長 イ 新田義貞 ウ 楠木正成 エ 北条時宗

問8 資料のうち、A、B、C、D、Eの5つを、時代の古いものから順に並べかえ、記号で答えなさい。

3 次の年表を見て、あとの問いに答えなさい。

年	できごと	
1641年	平戸 <small>ひらど</small> のオランダ商館を <input type="text"/> に移す	…A
	↑ ↓ B	
1867年	徳川慶喜 <small>とくがわよしのぶ</small> が政権を朝廷に返す	…C
1890年	第一回帝国議会在開かれる	…D
1894年	日清戦争が起こる	…E
1911年	不平等条約を完全に改める	…F
1923年	東京・横浜を中心に <input type="text"/> が起こる	…G
1933年	日本が <input type="text"/> を脱退 <small>だつたい</small> する	…H
1946年	日本国憲法が公布される	…I
1964年	東京・大阪間に <input type="text"/> が開通する	…J

問1 年表中のAの にあてはまる場所の名前を漢字2字で答えなさい。

問2 表中のBの期間におこった次のア～エのできごとを、時代の古いものから順に並べかえ、記号で答えなさい。

- ア ペリーペリが浦賀うらがに来航する イ 大塩平八郎の乱が起こる
ウ 享保きやうほの改革が行われる エ 寛政かんせいの改革が行われる

問3 年表中のCについて、このできごとを何といいますか。漢字4字で答えなさい。

問4 年表中のDについて、帝国議会の説明として誤っているものを、次のア～エから1つ選び、記号で答えなさい。

- ア 帝国議会は衆議院と貴族院の二院で構成されていて、同等の権限を持っていた。
イ 衆議院議員の選挙権は、満25歳以上の男女で直接国税15円以上を納める者に限られていた。
ウ 衆議院議員のうち、自由民権運動を進めてきた人々が過半数をしめていた。
エ 自由党や立憲改進黨の議員は地租の軽減を主張した。

問5 年表中のEについて、この戦争によって、日本が清から得た場所として正しいものを、次のア～エから1つ選び、記号で答えなさい。

- ア 朝鮮 イ 北京 ウ 台湾 エ 天津

問6 年表中のFについて、日本が輸入品に自由に関税をかける権利を持つことに成功した人物として正しいものを、次のア～エから1つ選び、記号で答えなさい。

- ア 小村寿太郎 イ 伊藤博文 ウ 大隈重信 エ 陸奥宗光

問7 年表中のGの にあてはまる災害名を答えなさい。

問8 年表中のHの にあてはまる組織名を答えなさい。

問9 年表中のIについて、この憲法の説明として誤っているものを、次のア～エから1つ選び、記号で答えなさい。

- ア この憲法は国民主権・基本的人権の尊重・平和主義を3つの柱としている。
イ この憲法において天皇は国民および国民統合の象徴とされている。
ウ この憲法は日本政府が作成した草案を連合国軍総司令部が承認してつくられた。
エ この憲法は1947年5月3日に施行された。

問10 年表中のJの にあてはまることばを答えなさい。

4 まゆみさんは、日本の政治を進めている国会・内閣・裁判所について調べてまとめました。まゆみさんがまとめた次の資料を見て、あとの問いに答えなさい。

国会

- 国会は国権の最高機関であり、唯一の **A** 機関である。
- 衆議院と参議院には、さまざまなちがいがある。
- 国会には、裁判所の裁判官に対して **C** 裁判を行う権利がある。

内閣

- 内閣は、内閣総理大臣と **D** とで構成され、行政をつかさどっている。
- 内閣の省庁は、仕事を分担して行っている。
- 内閣は、国会の信任に基づいてつくられ、国会に対して責任を負っている。

裁判所

- 日本では慎重に裁判を行うため、同じ事件について三段階の裁判を求めることができる **G** がとられている。
- 2009年から、国民が裁判に参加する裁判員制度が始まった。

問1 資料中の **A** にあてはまることばを漢字2字で答えなさい。

問2 資料中の下線部Bについて、衆議院と参議院のちがいの説明として正しいものを、次のア～エから1つ選び、記号で答えなさい。

- ア 内閣総理大臣の指名については、参議院には衆議院よりも強い権限がある。
- イ 参議院議員の任期は衆議院議員より長く、参議院には解散がある。
- ウ 衆議院議員選挙には、小選挙区比例代表並立制がとられている。
- エ 内閣不信任の議決ができるのは、参議院だけである。

問3 資料中の **C** にあてはまることばを漢字2字で答えなさい。

問4 資料中の **D** にあてはまることばを漢字4字で答えなさい。

問5 資料中の下線部Eについて、幼稚園と保育所を担当している省の組み合わせとして正しいものを次のア～エから1つ選び、記号で答えなさい。

- ア 幼稚園：文部科学省 保育所：文部科学省
- イ 幼稚園：文部科学省 保育所：厚生労働省
- ウ 幼稚園：厚生労働省 保育所：文部科学省
- エ 幼稚園：厚生労働省 保育所：厚生労働省

問6 資料中の下線部Fについて、この制度を何というか、漢字5字で答えなさい。

問7 資料中の **G** にあてはまることばを漢字3字で答えなさい。

問8 資料中の下線部Hについて、裁判員制度の説明として誤っているものを、次のア～エから1つ選び、記号で答えなさい。

- ア 裁判員は重要な民事裁判にのみ参加する。
- イ 裁判員は1つの裁判に6名参加する。
- ウ 裁判員は有権者の中からくじで選ばれる。
- エ 裁判員は裁判官とともに有罪か無罪かの判決を下す。

【ここで問題は終わりです】

氏名



2019年度 第1回入試
 一般入学試験問題
 (1月10日午前実施)

受験番号				

得点		

社 会

解答用紙

1	問1	問2		問3	問4
	問5	問6	問7	問8	問9
	問10	問11	問12		

2	問1	問2		問3		
		(1)	(2)	(1)		
	問3	問4				
	(2)	(1)		(2)		
	問5		問6	問7		
	(1)	(2)				
	問8					

3	問1	問2		問3		問4
		→	→	→		
	問5	問6	問7		問8	
	問9	問10				

4	問1	問2	問3	問4		問5
	問6			問7		問8