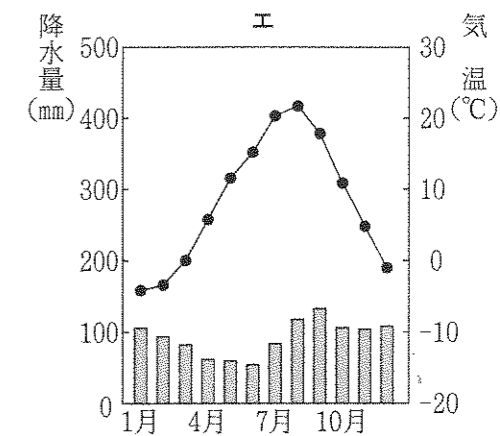
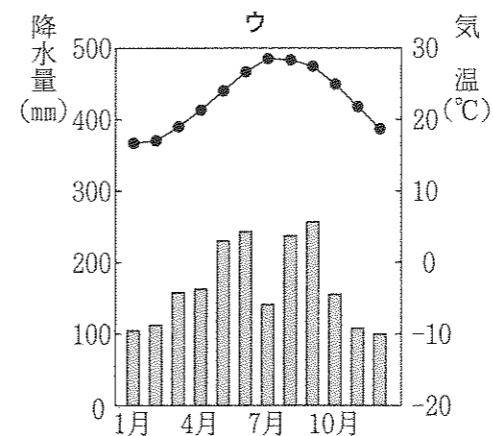
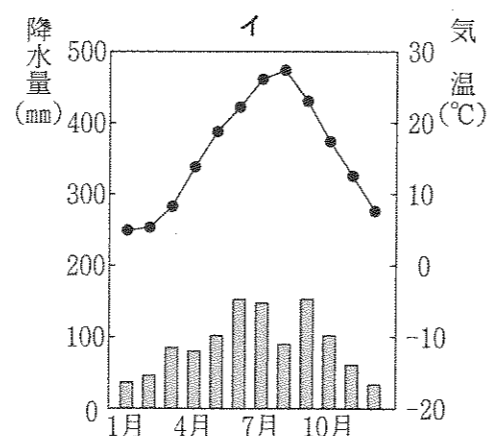
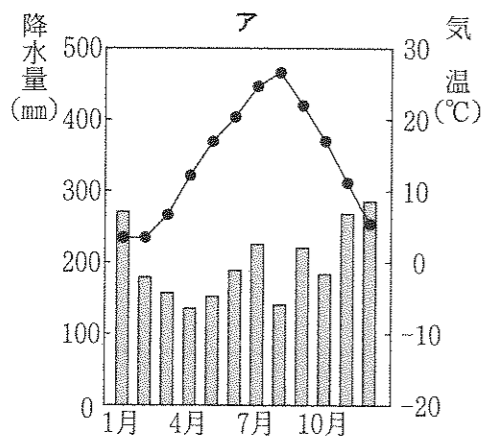


1 次のA～Dの文章を読んで、あとの問いに答えなさい。

- A 日本では、全国各地のいろいろな場所で米づくりが行われています。2015年産で米の収穫量が最も多かったのが①新潟県で、ついで②北海道、秋田県、山形県、福島県、③宮城県といった順になっています。米づくりの作業は、④という順序で行われます。
- B 日本の野菜づくりには、地域によって特色があります。高知県や宮崎県のように、冬でもあたたかい地域では、ほかの産地からの出荷が減る⑤に出荷ができるようになります。ピーマン、きゅうりなどの野菜がビニールハウスを利用してつくられています。また、千葉県、茨城県、⑥愛知県などでは、季節の野菜を栽培し、近くにある大都市に出荷する⑦農業がさかんです。
- C 日本の漁業は、1984年に1282万トンの生産量がありましたが、その後は魚のとりすぎや環境の変化などにより、⑧日本近海の魚が減ってきたことなどから、漁獲量は減少していきました。2013年に水あげ量が多かった港には、千葉県の銚子港や⑨県の焼津港があります。
- D 日本は国土の約⑩が山地で、森林資源が豊富にあります。しかし、植林してから伐採するまでに40年以上の時間がかかる、⑪作業がきびしいわりに収入が低いなどの理由から、林業は、従事者が減り、高齢化が進むなどの問題をかかえています。森林には、水をたくわえて山くずれなどの災害を防ぐ、きれいな水を生み出す、地球温暖化の原因となっている⑫を吸収するなどの働きがあり、豊かな森林を守っていくことは大切です。

問1 下線部①について、新潟県にある都市の雨温図として正しいものを、次のア～エから1つ選び、記号で答えなさい。



(『日本国勢図会 2016/17』より作成)

問2 下線部②について、北海道にある世界自然遺産として正しいものを、次のア～エから1つ選び、記号で答えなさい。

- ア 白神山地    イ 屋久島    ウ 小笠原諸島    エ 知床

問3 下線部③について、宮城県の県庁所在地である、東北地方最大の都市の名前を答えなさい。

問4 ④にあてはまる手順として正しいものを、次のア～エから1つ選び、記号で答えなさい。

- ア 田植え→代かき→田おこし→稲かり  
 イ 田おこし→田植え→稲かり→代かき  
 ウ 田おこし→代かき→田植え→稲かり  
 エ 代かき→田おこし→田植え→稲かり

問5 ⑤にあてはまることばとして正しいものを、次のア～エから1つ選び、記号で答えなさい。

- ア 春から夏    イ 夏から秋    ウ 秋から冬    エ 冬から春

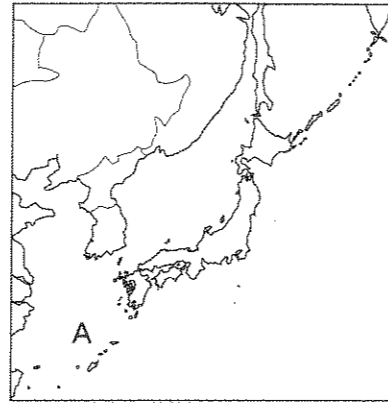
問6 下線部⑥について、愛知県を中心に広がる中京工業地帯の製造品出荷額の構成を示したグラフとして正しいものを次のア～エから1つ選び、記号で答えなさい。

ア	金属 8.8%	機械 46.5	化学 20.3	その他 24.4
イ	金属 19.0%	機械 11.2	化学 48.4	その他 21.4
ウ	金属 10.1%	機械 66.7	化学 8.0	その他 15.2
エ	金属 21.4%	機械 35.6	化学 17.7	その他 25.3

(『日本国勢図会 2016/17』より作成)

問7 ⑦にあてはまることばを答えなさい。

問8 下線部⑧について、右の地図中のAにあてはまる海の名前を答えなさい。



問9 ⑨にあてはまる都道府県名として正しいものを、次のア～エから1つ選び、記号で答えなさい。

- ア 青森県    イ 静岡県    ウ 鹿児島県    エ 和歌山県

問10 ⑩にあてはまる数値として正しいものを、次のア～エから1つ選び、記号で答えなさい。

- ア 3分の1    イ 3分の2    ウ 4分の3    エ 5分の4

問11 下線部⑪について、成長にともなって混みすぎた森林の一部を抜いたり、切ったりする作業を何というか答えなさい。


問12 ⑫にあてはまる物質の名前を答えなさい。

2 次のA～Gの資料を見て、後の問いに答えなさい。


A

一 諸国の百姓が、刀、やり、鉄砲などの武器をもつことを、かたく禁止する。武器をたくわえ、年貢を出ししぶり、①をくわだてて領主に反抗する者は、厳しく処罰される。

B



C



D




E

この世をば  
わが世とぞ思ふ  
もち月の  
かけたることも  
なしと思へば

F



G



問1 資料Aについて、次の問いに答えなさい。

(1) この資料中の①にあてはまることばを漢字二字で答えなさい。

(2) この命令を出した人物の名前として正しいものを、次のア～エから1つ選び、記号で答えなさい。

- ア 織田信長    イ 明智光秀    ウ 豊臣秀吉    エ 徳川家光

問2 資料Bについて、次の問いに答えなさい。

(1) この建物を建てた人物の名前として正しいものを、次のア～エから1つ選び、記号で答えなさい。

- ア 北条義時    イ 平清盛    ウ 源頼朝    エ 足利義満

(2) この建物が建てられた時代の文化の説明として正しいものを、次のア～エから1つ選び、記号で答えなさい。

- ア 日本の伝統的な芸能の能が、観阿弥・世阿弥の父子の手によって大成された。
- イ かな文字が生まれ、紫式部がかな文字を使って『源氏物語』を書いた。
- ウ 遣唐使や留学生によって、中国のすすんだ文化が日本へもたらされた。
- エ 中国や朝鮮から日本へわたってきた渡来人が漢字や仏教を日本に伝えた。

問3 資料Cについて、次の問いに答えなさい。

(1) この遺跡がある都道府県として正しいものを、次のア～エから1つ選び、記号で答えなさい。

- ア 佐賀県
- イ 静岡県
- ウ 北海道
- エ 青森県

(2) この遺跡の時代の説明として正しいものを、次のア～エから1つ選び、記号で答えなさい。

- ア 邪馬台国の女王である卑弥呼が中国の魏に使いを送った。
- イ 食料や用水などをめぐって、むらとむらの間で争いが起こるようになった。
- ウ 遣隋使として、小野妹子らが中国に送られた。
- エ 人々はたて穴住居に住み、動物や木の実、魚や貝などを手に入れてくらしした。

問4 資料Dについて、次の問いに答えなさい。

(1) この資料にえがかれた人物の名前を答えなさい。

(2) この人物が行ったこととして正しいものを、次のア～エから1つ選び、記号で答えなさい。


- ア 今の神奈川県に鎌倉幕府をつくった。
- イ 平氏を壇ノ浦の戦いでほろぼした。
- ウ 京都に平等院鳳凰堂を建てた。
- エ 大化の改新で蘇我氏をほろぼした。

問5 資料Eの歌をよんだ人物の名前として正しいものを、次のア～エから1つ選び、記号で答えなさい。


- ア 聖武天皇
- イ 藤原頼通
- ウ 藤原道長
- エ 天智天皇

問6 資料Fの銅像の人物が建てた建造物として正しいものを、次のア～エから1つ選び、記号で答えなさい。


ア



イ



ウ



エ



問7 資料Gに見られる古墳の形を何というか、漢字5字で答えなさい。

問8 A～Gの資料を、時代の古いものから順に並べかえ、記号で答えなさい。

3 次の年表を見て、あとの問いに答えなさい。

年	できごと	
1600年	関ヶ原の戦いが起こる	…A
1635年	□が制度化される	…B
	↑↓ C	
1872年	東京・□間に鉄道が開通する	…D
1894年	日清戦争が起こる	…E
1911年	日本が□を回復する	…F
1940年	日本が□・イタリアと同盟を結ぶ	…G
1948年	日本国憲法が公布される	…H
1964年	東京・大阪間に新幹線が開通する	…I
1988年	瀬戸大橋が開通する	…J

問1 年表中のAについて、この戦いが行われた都道府県として正しいものを、次のア～エから1つ選び、記号で答えなさい。

ア 静岡県    イ 岐阜県    ウ 神奈川県    エ 愛知県

問2 年表中のBの□には、大名が領地と江戸を1年おきに行き来する制度があてはまります。この制度を何とよぶか、漢字4字で答えなさい。

問3 年表中のCの期間におこった次のア～エのできごとを、時代の古いものから順に並べかえ、記号で答えなさい。

ア ペリーが浦賀に来る。                      イ 鎖国が完成する。  
ウ 藩を廃止して県が置かれる。              エ 日米修好通商条約が結ばれる。

問4 年表中のDの□にあてはまる地名を答えなさい。

問5 年表中のEについて、日清戦争の説明として誤っているものを、次のア～エから1つ選び、記号で答えなさい。

ア 日本海海戦で、日本は清の艦隊を破った。  
イ 日本は清から台湾をゆずり受けた。  
ウ 日本は清から多額の賠償金を得た。  
エ 日本は清に朝鮮の独立を認めさせた。

問6 年表中のFの□には、輸入品に自由に税金をかける権利を表すことばがあてはまります。このことばを、漢字5字で答えなさい。

問7 年表中のGの□にあてはまる国名として正しいものを、次のア～エから1つ選び、記号で答えなさい。

ア イギリス    イ フランス    ウ ドイツ    エ アメリカ

問8 年表中のHについて、日本国憲法の三つの柱は、□・平和主義・基本的人権の尊重です。□にあてはまることばを答えなさい。

問9 年表中のIについて、新幹線の開通と同じ年に起こったできごととして正しいものを、次のア～エから1つ選び、記号で答えなさい。

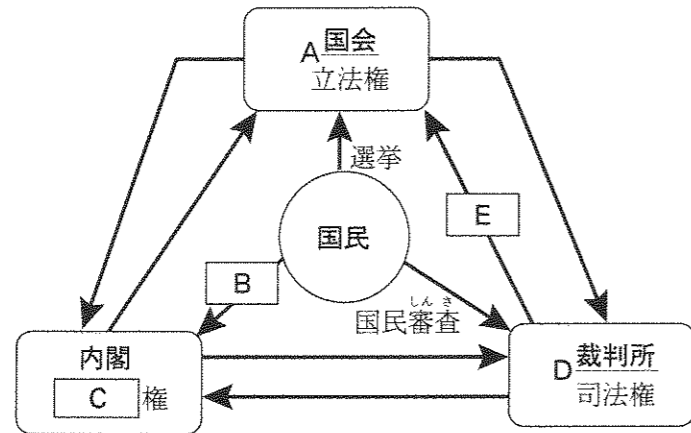
ア 大阪で万国博覧会が開催される  
イ 沖縄が日本に復帰する  
ウ 中国との国交が正常化する  
エ オリンピック東京大会が開催される

問10 年表中のJについて、瀬戸大橋は何県と何県とを結んでいますか。正しいものを、次のア～エから1つ選び、記号で答えなさい。

ア 岡山県と愛媛県    イ 広島県と愛媛県    ウ 岡山県と香川県    エ 広島県と香川県

4 政治や国際関係について、次の問いに答えなさい。

問1 次の図は、国会・内閣・裁判所の仕事の分担について示したものです。これを見て、後の問いに答えなさい。



(1) 図中の下線部Aについて、国会の働きとして誤っているものを、次のア～エから1つ選び、記号で答えなさい。

- ア 国の予算を話し合って決める。
- イ 外国と結んだ条約を承認する。
- ウ 天皇の国事行為に助言と承認をあたえる。
- エ 裁判官を裁く裁判所をつくる。

(2) 図中の  B にあてはまることばを漢字2字で答えなさい。

(3) 図中の  C にあてはまることばを漢字2字で答えなさい。

(4) 図中の下線部Dについて、国民はだれでも裁判を受ける権利を持っていて、判決の内容に不服がある場合は  回まで裁判を受けられます。  にあてはまる数字を答えなさい。

(5) 図中の  E にあてはまる文として正しいものを、次のア～エから1つ選び、記号で答えなさい。

- ア 衆議院の解散を決める。
- イ 政治が憲法に違反していないかを調べる。
- ウ 国会の召集を決める。
- エ 法律が憲法に違反していないかを調べる。

問2 2016年に夏季オリンピック大会が開催されたりオデジャネイロはこの国の都市ですか。国名を答えなさい。

問3 2015年に日本が最も多くの石油を輸入した国として正しいものを、次のア～エから1つ選び、記号で答えなさい。

- ア アメリカ
- イ オーストラリア
- ウ ロシア
- エ サウジアラビア

問4 国際連合の本部がある都市として正しいものを、次のア～エから1つ選び、記号で答えなさい。

- ア ニューヨーク
- イ ジュネーブ
- ウ アムステルダム
- エ ベルリン

【問題は、ここで終わります。】



2017年度 第1回入試  
 昌平中学校入学試験問題  
 (1月10日午前実施)

氏名

受験番号						
<table border="1" style="width: 100%; border-collapse: collapse;"> <tr> <td style="width: 15%; height: 20px;"> </td> <td style="width: 15%;"> </td> <td style="width: 15%;"> </td> <td style="width: 15%;"> </td> <td style="width: 15%;"> </td> <td style="width: 15%;"> </td> </tr> </table>						

得点			
<table border="1" style="width: 100%; border-collapse: collapse;"> <tr> <td style="width: 33%; height: 20px;"> </td> <td style="width: 33%;"> </td> <td style="width: 33%;"> </td> </tr> </table>			

# 社 会

解答用紙

<b>1</b>	問1	問2	問3		問4	問5	
						市	
	問6	問7		問8		問9	
			問11		問12		

<b>2</b>	問1		問2		問3	
	(1)	(2)	(1)	(2)	(1)	(2)
	問4			問5	問6	
	問7		問8			
			→		→	→

<b>3</b>	問1	問2		問3			
			→		→	→	
	問4		問5	問6		問7	
	問8		問9	問10			

<b>4</b>	問1					
	(1)	(2)	(3)	(4)	(5)	
	問2		問3	問4		