

1 次のA～Gの文は、日本の川、山、山地、湖、島など、自然地形について説明したものです。これを読んで、あとの問いに答えなさい。

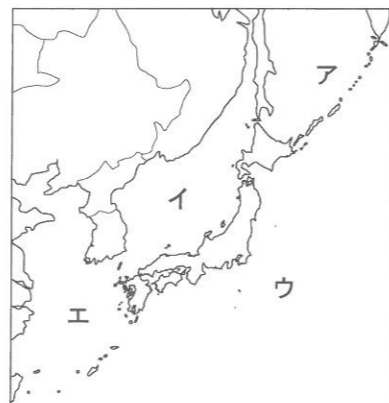
- A ①この川は、全長が367 kmあって日本で最も長い川です。この川は新潟県と②長野県を流れています。
- B この川は関東地方を北から東へ流れ、③太平洋に注いでいます。流域面積が日本で最大であり、首都圏の水源となっています。
- C 熊本県にある④この火山は、世界最大級のカルデラがあることで知られ、熊本県のシンボリックな存在です。
- D ⑤静岡県と⑥山梨県にまたがっているこの山は、日本で最も高い山です。2013年には関連する文化財群とともに、⑦世界文化遺産に登録されました。
- E 青森県から秋田県にかけて広がっているこの山地は、⑧の天然林で知られ、世界自然遺産に登録されています。
- F 日本で最大の面積と貯水量をもつこの湖は、この湖がある⑨県の総面積の約6分の1をしめています。
- G 日本の北のはしに位置する⑩この島は、国後島、色丹島、歯舞群島とともに⑪に不法に占拠されている北方領土の1つです。

問1 下線部①の川の名前を答えなさい。

問2 下線部②について、長野県の説明として正しいものを、次のア～エから1つ選び、記号で答えなさい。

- ア 果物の栽培がさかんで、りんごの生産量は全国1位である。
- イ 海に面していない内陸県で、陸では8つの県と接している。
- ウ 伝統工芸品である輪島塗で知られている。
- エ 四大公害病の1つであるイタイイタイ病が発生した。

問3 下線部③について、太平洋を示すものを、右の地図中のア～エから1つ選び、記号で答えなさい。

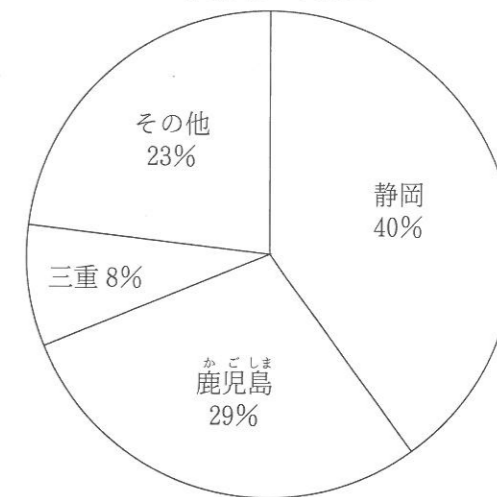


問4 下線部④について、この火山の名前として正しいものを、次のア～エから1つ選び、記号で答えなさい。

- ア 桜島
- イ 雲仙普賢岳
- ウ 有珠山
- エ 阿蘇山

問5 下線部⑤について、右のグラフは静岡県の収穫量が日本1位である農作物の都道府県別収穫量を示したものです。この農作物の名前を答えなさい。

グラフ ある農作物の収穫量



(『日本国勢図会 2015/16』より)

問6 下線部⑥について、山梨県の県庁所在地がある都市の名前を答えなさい。

問7 下線部⑦について、2015年7月に「明治日本の〇〇遺産 製鉄・製鋼、造船、石炭産業」が世界文化遺産に登録されました。〇〇には、「技術革新によって産業、社会、経済が大きく変化すること」という意味のことばがあてはまります。このことばを答えなさい。

問8 ⑧にあてはまる木の種類として正しいものを、次のア～エから1つ選び、記号で答えなさい。

- ア すぎ
- イ まつ
- ウ ぶな
- エ ひのき

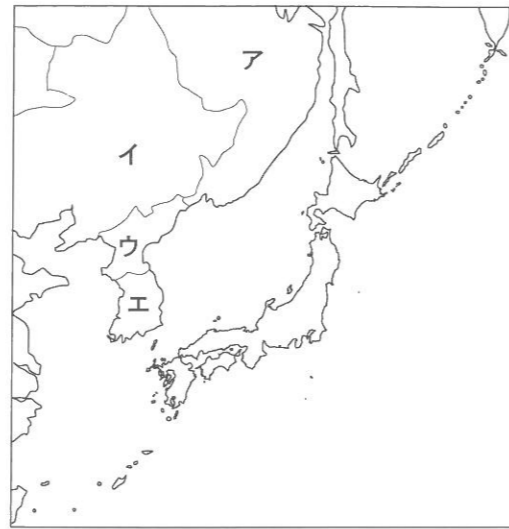
問9 ⑨にあてはまる県の説明として誤っているものを、次のア～エから1つ選び、記号で答えなさい。

- ア 近畿地方の県である。
- イ この県内には東海道新幹線の駅がある。
- ウ 海に面していない県である。
- エ 県名と県庁所在地の都市名が同じである。

問10 下線部⑩について、この島の名前として正しいものを、次のア～エから1つ選び、記号で答えなさい。

- ア 択捉島 イ 与那国島 ウ 南鳥島 エ 沖ノ鳥島

問11 ⑪にあてはまる国の位置として正しいものを、右の地図中のア～エから1つ選び、記号で答えなさい。



問12 A～Gの文で説明された自然地形のうち、最も西にあるものを、A～Gから1つ選び、記号で答えなさい。

2 次のA～Gの資料を見て、あとの問いに答えなさい。

A

第1条 人の和を大切にしなければなりません。
 第2条 仏教をあつく信仰しなさい。
 第3条 ①の命令は必ず守りなさい。

B



C



D



E



F



G



問1 資料Aについて、次の問いに答えなさい。

- (1) この資料は十七条の憲法の一部です。①にあてはまることばを、漢字2字で答えなさい。
- (2) 十七条の憲法を定めた人物の説明として誤っているものを、次のア～エから1つ選び、記号で答えなさい。
- ア 当時、大きな勢力をもっていた藤原氏とともに新しい国づくりにとりかかった。
- イ 冠位十二階を定め、家柄や出身地にかかわらず能力や功績で役人に取り立てた。
- ウ 小野妹子を遣隋使として、隋の都の長安へつかわした。
- エ 法隆寺などを建てて、仏教の教えを人々に広めようとした。

3 次の年表を見て、あとの問いに答えなさい。

年	できごと	
1612年	キリスト教を禁止する	…A
1641年	平戸のオランダ商館を長崎の <input type="text"/> に移す	…B
	↑ C ↓	
1889年	大日本帝国憲法が発布される	…D
1890年	初めての選挙が行われた	…E
1911年	関税自主権を回復する	…F
1945年	<input type="text"/> ・長崎に原子爆弾が落とされる	…G
1951年	日米安全保障条約が結ばれる	…H
1972年	沖縄が日本に復帰する	…I
2004年	イラクの復興支援に <input type="text"/> が派遣される	…J

問1 年表中のAについて、幕府は右の資料のようなものを使ってキリスト教信者をとりしまりました。このような方法を何というか答えなさい。



問2 年表中のBの にあてはまることばを答えなさい。

問3 年表中のCの期間におこった次のア～エのできごとを、時代の古いものから順に並べかえ、記号で答えなさい。

- ア 地租改正が行われた イ 西南戦争がおこった
ウ 大政奉還が行われた エ 日米和親条約が結ばれた

問4 年表中のDについて、大日本帝国憲法の説明として誤っているものを、次のア～エから1つ選び、記号で答えなさい。

- ア ドイツの憲法を参考にしてつくられた。
イ 天皇が国民にあたえるという形で発布された。
ウ 国をおさめる主権をもつのは天皇だった。
エ 国民の言論の自由はいっさい認められなかった。

問5 年表中のEについて、この選挙で選挙権をもっていたのはどのような人でしたか。正しいものを、次のア～エから1つ選び、記号で答えなさい。

- ア 一定の税金を納めた25歳以上の男子
イ 25歳以上のすべての男子
ウ 一定の税金を納めた25歳以上の男女
エ 20歳以上のすべての男女

問6 年表中のFについて、このときの外務大臣の名前として正しいものを、次のア～エから1つ選び、記号で答えなさい。

- ア 陸奥宗光 イ 伊藤博文 ウ 小村寿太郎 エ 板垣退助

問7 年表中のGの にあてはまる地名を答えなさい。

問8 年表中のHについて、この条約と同じ日に結ばれた条約として正しいものを、次のア～エから1つ選び、記号で答えなさい。

- ア 日中平和友好条約 イ サンフランシスコ平和条約
ウ 日韓基本条約 エ ベルサイユ条約

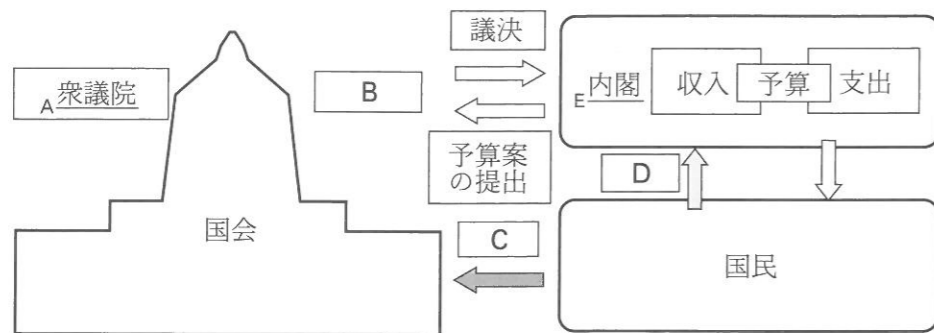
問9 年表中のIについて、沖縄はどこの国から返還されましたか。その国名として正しいものを、次のア～エから1つ選び、記号で答えなさい。

- ア イギリス イ フランス ウ 中国 エ アメリカ

問10 年表中のJの にあてはまることばを答えなさい。

4 政治や国際関係について、次の問いに答えなさい。

問1 次の図は、国民と国会、^{ないかく}内閣の関係について示したものです。これを見て、後の問いに答えなさい。



(1) 図中の下線部Aについて、平成28年1月現在における衆議院議員の議員数として正しいものを、次のア～エから1つ選び、記号で答えなさい。

- ア 242人 イ 360人 ウ 475人 エ 500人

(2) 図中の **B** にあてはまる議院の名前を漢字3字で答えなさい。

(3) 図中の **C** にあてはまることばを漢字2字で答えなさい。

(4) 図中の **D** にあてはまることばを漢字2字で答えなさい。

(5) 図中の下線部Eについて、内閣の説明として誤っているものを、次のア～エから1つ選び、記号で答えなさい。

- ア 内閣の中心となる内閣総理大臣は、国民の投票で選ばれる。
 イ 内閣総理大臣は、それぞれ専門的な仕事を担当する国務大臣を任命する。
 ウ 内閣総理大臣と国務大臣が集まって開く会議を閣議という。
 エ 外国との条約を結ぶのは内閣の仕事である。

問2 主権者である国民が裁判への関心をもつとともに、国民の感覚や視線を裁判に生かすために、国民が裁判に加わる 制度が、2009年から始まりまし。 にあてはまることばを、漢字3字で答えなさい。

問3 ^{いりょう}医療や^{かんきょう}環境など、専門性を生かした分野において世界各地で活動する、各国の政府や国際連合から独立している民間の団体の名称として正しいものを、次のア～エから1つ選び、記号で答えなさい。

- ア ODA イ NGO ウ IMF エ WHO

問4 2015年8月に化学物質が保管されている倉庫で大規模な爆発がおこって、多くの死者を出した中国の都市として正しいものを、次のア～エから1つ選び、記号で答えなさい。

- ア 北京 イ 南京 ウ 上海 エ 天津

【問題は、ここで終わります。】



2016年度 第1回入試
昌平中学校入学試験問題
(1月10日午前実施)

氏名

受験番号				

得点		

社 会

解答用紙

1	問1	問2	問3	問4	問5
	川				
	問6	問7		問8	問9
	市				
	問10	問11	問12		

--

2	問1	問2	問3		
	(1)	(2)	(1)	(2)	
	問4	問5	問6		
		(1)	(2) → → →		
	問7	問8			
	→ → → → → →				

--

3	問1	問2	問3		
			→ → →		
	問4	問5	問6	問7	問8
	問9	問10			

--

4	問1				
	(1)	(2)	(3)	(4)	(5)
	問2		問3	問4	

--