



2015年度 第1回入試
(1月10日午前実施)

昌平中学校入学試験問題

社 会

(制限時間 理科とあわせて50分)

注 意

- (1) 係の先生の指示に従って、所定のらんに受験番号、氏名を書きなさい。
- (2) 答はすべて解答用紙のきめられたところに、はっきりと書きなさい。
- (3) 問題は1ページから7ページまであります。
- (4) 印刷のはっきりしないところは、手をあげて係の先生に聞きなさい。
- (5) 途中でトイレに行きたくなったり、気分が悪くなったりした場合は手をあげて、係の先生の指示に従いなさい。
- (6) 制限時間は、理科とあわせて50分です。

受験番号	氏名

1 次の表は、北海道地方、東北地方、関東地方、中部地方、近畿地方、中国地方、四国地方、九州地方の各地方において、面積が最大である都道府県のさまざまな統計を示したものです。これを見て、あとの問いに答えなさい。

都道府県名	県(道)庁 所在都市	面積 (km ²)	人口 (万人)	食料自給率 (%)	農業産出額 (億円)	製造品出荷額 (億円)
北海道	札幌	83,457	546	191	10,137	61,367
岩手	盛岡	15,279	130	104	2,387	19,296
栃木	宇都宮	6,408	199	75	2,659	76,422
長野	長野	13,562	213	52	2,268	53,352
兵庫	A	8,396	557	16	1,461	144,455
広島	広島	8,480	285	24	1,074	87,875
高知	高知	7,105	75	49	958	5,026
鹿児島	鹿児島	9,189	169	85	4,069	18,532
全国	—	377,960	12,752	39	82,463	2,873,152

(『データでみる県勢 2014』より)

問1 表中のAにあてはまる都市の名前を答えなさい。

問2 次の(1)~(3)の説明にあてはまる都道府県を表中からそれぞれ1つ選び、その都道府県名を答えなさい。

- (1) 海に面しておらず、都道府県境を8つの県と接している。
- (2) 伝統的工芸品である南部鉄器が生産されている。
- (3) 過去に30回以上の大規模な噴火をした桜島がある。

問3 北海道の面積は全国の面積の約何%をしめていますか。小数点第2位を四捨五入して、小数点第1位までの数で答えなさい。

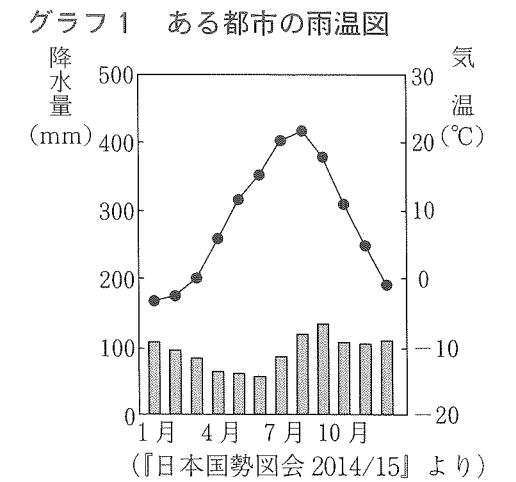
問4 表中の広島市は、右の写真にみられるように、河川が運んできた土砂が河口付近で積もってつくられた地形の上に市街地があります。このような地形を何というか、答えなさい。



問5 表中の都道府県のうち、食料自給率が全国平均よりも高い都道府県はいくつありますか。数字で答えなさい。

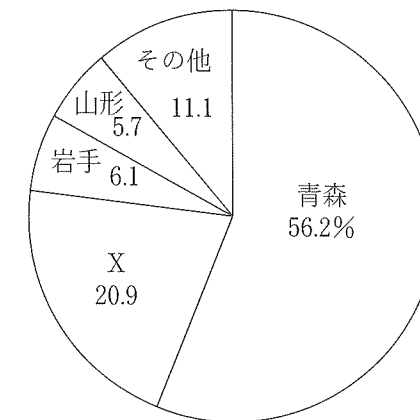
問6 右のグラフ1は表中にあるいずれかの都市の月ごとの降水量と平均気温を示したものです。この都市としてあてはまるものを、次のア~エから1つ選び、記号で答えなさい。

ア 札幌 イ 長野 ウ 広島 エ 鹿児島



問7 下のグラフ2は、りんごの都道府県別の生産高を示したものです。グラフ2中のXにあてはまる都道府県を表中から1つ選び、都道府県名を答えなさい。

グラフ2 りんごの生産高



(『日本国勢図会 2014/15』より)

問8 表中の広島県がふくまれる工業地域の名前を答えなさい。



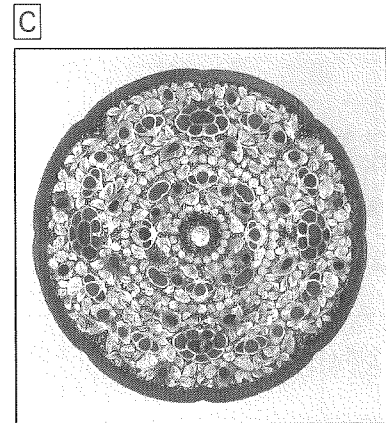


グラフ3 製造品出荷額割合

	金属	機械	化学	その他
ア	8.9	46.9	18.5	25.7
イ	20.5	36.2	18.1	25.2
ウ	10.4	65.8	7.5	16.3

(『日本国勢図会 2014/15』より)

問9 右上のグラフ3は、三大工業地帯の工業種類別の製造品出荷額の割合を示したものです。表中の兵庫県がふくまれる工業地帯のグラフを、グラフ3中のア~ウから1つ選び、記号で答えなさい。

2 次の[A]~[G]の資料を見て、あとの問いに答えなさい。



G

今はなき頼朝どのが平氏をほろぼして幕府を開いてから、あなたたちにあたえたご恩は山よりも高く、海よりも深いほどです。ご恩に感じて名誉を大切にする武士ならば、よからぬものをうちとり、幕府を守ってくれるにちがいありません。

- ア この制度によって、大名は江戸と領地を1年おきに行き来しなければならなかった。
- イ 大名が江戸にいるときも、大名の妻や子どもは、領地に残さなければならなかった。
- ウ 参勤交代によって、大名は経済的に大きな負担を負った。
- エ この制度を定めたのは、江戸幕府の3代将軍徳川家光であった。

- 問5 資料[E]について、次の問いに答えなさい。
- (1) 資料[E]は、検地の様子を表したものです。武士と百姓の身分をはっきりと区別するために、全国で検地を行った人物の名前を答えなさい。
 - (2) (1)で答えた人物が行ったこととして正しいものを、次のア~エから1つ選び、記号で答えなさい。
 - ア 中国を征服しようとし、2度にわたって朝鮮に大軍を送った。
 - イ 足利氏の将軍を追放し、室町幕府をほろぼした。
 - ウ 関ヶ原の戦いで勝利し、全国の大名を従えた。
 - エ 中国の明と貿易を行い、大きな利益を得た。

- 問6 資料[F]は、佐賀県にある弥生時代後期の遺跡です。この遺跡の名前を答えなさい。
- 問7 資料[G]は、朝廷が幕府をたおす命令を出したとき、ある人物が幕府をまとめるためにうったえた言葉です。この人物の名前を答えなさい。
- 問8 [A]~[G]の資料を、時代の古い順に並べかえ、記号で答えなさい。

- 問1 資料[A]の神社を一族の守り神としてまつり、海上交通の安全をいのった人物の名前として正しいものを、次のア~エから1つ選び、記号で答えなさい。
- ア 源義経 イ 平清盛 ウ 北条時宗 エ 足利義満
- 問2 資料[B]は、すみ絵(水墨画)を芸術として大成した人物の作品です。この人物の名前として正しいものを、次のア~エから1つ選び、記号で答えなさい。
- ア 松尾芭蕉 イ 葛飾北斎 ウ 観阿弥 エ 雪舟
- 問3 資料[C]は、大仏の開眼式の時に使われた道具や、聖武天皇の持ち物などが収められた倉庫の中にある宝物の1つです。この倉庫の名前を答えなさい。
- 問4 資料[D]は、参勤交代の様子を表したものです。参勤交代の説明として誤っているものを、次のア~エから1つ選び、記号で答えなさい。

3 次の年表を見て、あとの問いに答えなさい。

年	できごと
1639年	ポルトガル船の来航を禁止する … A
1858年	日米修好通商条約が結ばれる … B
	↑ ↓ C
1890年	第1回の国会が開かれる … D
1904年	日露戦争が起こる … E
1910年	日本が [] を併合する … F
1914年	第一次世界大戦が起こる … G
1925年	普通選挙制が定められる … H
1956年	国際連合に加盟する … I
1964年	[] 東京大会が開かれる … J

問1 年表中のAについて、この後も中国船とオランダ船には貿易を許しましたが、貿易が行われた港として正しいものを、次のア～エから1つ選び、記号で答えなさい。

ア 長崎 イ 平戸 ウ 兵庫 エ 横浜

問2 年表中のBについて、この条約は2つの点で不平等なものでした。その1つはアメリカに治外法権を認めたことですが、もう1つの点を説明した次の文の [] にあてはまる言葉を、漢字5字で答えなさい。

日本に [] が認められていなかった。

問3 年表中のCの期間におこった次のア～エのできごとを、時代の古いものから順に並べかえ、記号で答えなさい。

ア 大日本帝国憲法が公布される イ 明治政府が五か条の御誓文を公表する
ウ 岩倉使節団が外国を訪問する エ ノルマントン号事件が起こる

問4 年表中のDについて、第1回の国会が開かれた時、国会は2つの議院で構成されていました。1つは衆議院でしたが、あと1つは何だったか、答えなさい。

問5 年表中のEについて、この戦争の講和条約として正しいものを、次のア～エから1つ選び、記号で答えなさい。

ア 日朝修好条規 イ 下関条約 ウ ポーツマス条約 エ ベルサイユ条約

問6 年表中のFについて、 [] にあてはまる国の名前を答えなさい。

問7 年表中のGについて、第1次世界大戦では、日本はある国と同盟を組んでいたことを理由に、ドイツに宣戦布告しました。その国として正しいものを、次のア～エから1つ選び、記号で答えなさい。

ア イギリス イ アメリカ ウ ロシア エ フランス

問8 年表中のHについて、この普通選挙制について説明した、次の文の [X] にあてはまる数字、 [Y] にあてはまることばを、それぞれ答えなさい。

満 [X] 歳以上の [Y] すべてに選挙権があたえられた。

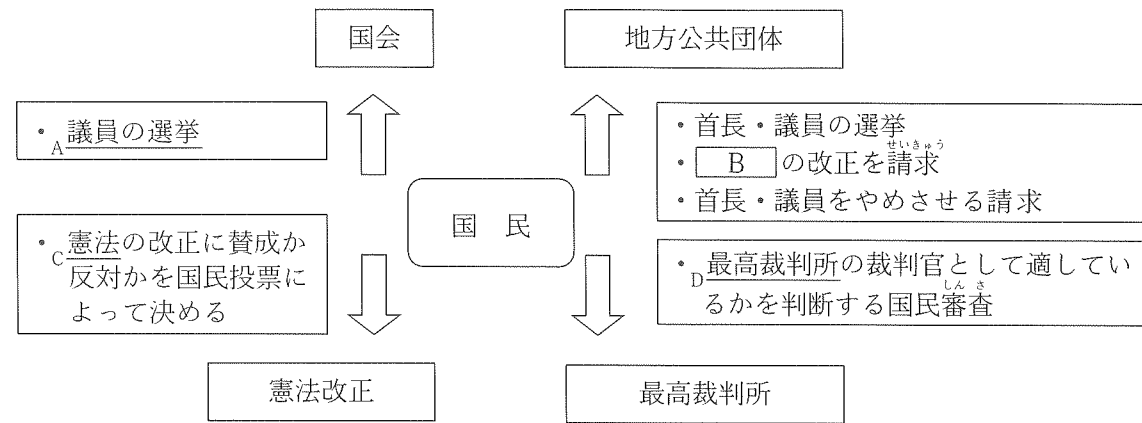
問9 年表中のIについて、同じ年に日本が国交を回復した国を、次のア～エから1つ選び、記号で答えなさい。

ア アメリカ イ ソ連 ウ 中国 エ 韓国

問10 年表中のJの [] にあてはまることばを答えなさい。

4 次の問いに答えなさい。

問1 次の図は、日本国憲法の国民主権にもとづく国民が持つ権利について示したものです。これを見て、後の問いに答えなさい。



- (1) 図中の下線部Aについて、衆議院議員の被選挙権（選挙に立候補することができる資格）として正しいものを、次のア～エから1つ選び、記号で答えなさい。
ア 満20歳以上 イ 満25歳以上 ウ 満30歳以上 エ 満35歳以上
- (2) 図中の B には、その地方公共団体にだけ適用されるきまりを表すことばがあてはまります。そのことばを答えなさい。
- (3) 図中の下線部Cについて、日本国憲法の三大原則は、国民主権・ の尊重・平和主義です。 にあてはまることばを漢字5字で答えなさい。
- (4) 図中の下線部Dについて、裁判の説明として誤っているものを、次のア～エから1つ選び、記号で答えなさい。
ア 同じ事件について、三段階で裁判を求めることができる三審制がしかれている。
イ 国民が裁判に参加する裁判員制度は、重大な民事裁判について行なわれる。
ウ 最高裁判所は、日本に1か所しかなく、東京に置かれている。
エ 下級裁判所には、高等裁判所、地方裁判所、家庭裁判所、簡易裁判所がある。

問2 国民は、健康で文化的な生活を営む権利を保障されています。この権利を何というか、漢字3字で答えなさい。

問3 2014年6月、「 と絹産業遺跡群」が世界遺産の文化遺産に登録されました。 にあてはまる工場の名前を答えなさい。

問4 国内の一部の地域が独立を宣言して、ロシア連邦への編入を求めているという問題が起こっている国として正しいものを、次のア～エから1つ選び、記号で答えなさい。
ア クロアチア イ ウズベキスタン ウ ウクライナ エ ベラルーシ

【問題は、ここで終わります。】



2015 年度 第 1 回入試
 昌平中学校入学試験問題
 (1 月 10 日午前実施)

氏 名

受験番号				
<table style="width: 100%; border-collapse: collapse;"> <tr> <td style="width: 25%; border-right: 1px dotted black; height: 40px;"> </td> <td style="width: 25%; border-right: 1px dotted black;"> </td> <td style="width: 25%; border-right: 1px dotted black;"> </td> <td style="width: 25%;"> </td> </tr> </table>				

得 点		
<table style="width: 100%; border-collapse: collapse;"> <tr> <td style="width: 50%; border-right: 1px dotted black; height: 40px;"> </td> <td style="width: 50%;"> </td> </tr> </table>		

社 会

解答用紙

1	問 1	問 2			
		(1)	(2)	(3)	
	問 3	問 4		問 5	問 6
	%				
	問 7	問 8		問 9	
	工業地域				

2	問 1	問 2	問 3		問 4	
	問 5			問 6		問 7
	(1)	(2)			遺跡	
	問 8					
→ → → → → →						

3	問 1	問 2			問 3		
					→	→	→
	問 4		問 5	問 6		問 7	
	問 8				問 9	問 10	
X	Y						

4	問 1							
	(1)	(2)			(3)			(4)
	問 2		問 3			問 4		