



2014年度 第1回入試  
(1月10日午前実施)

# 昌平中学校入学試験問題

社 会

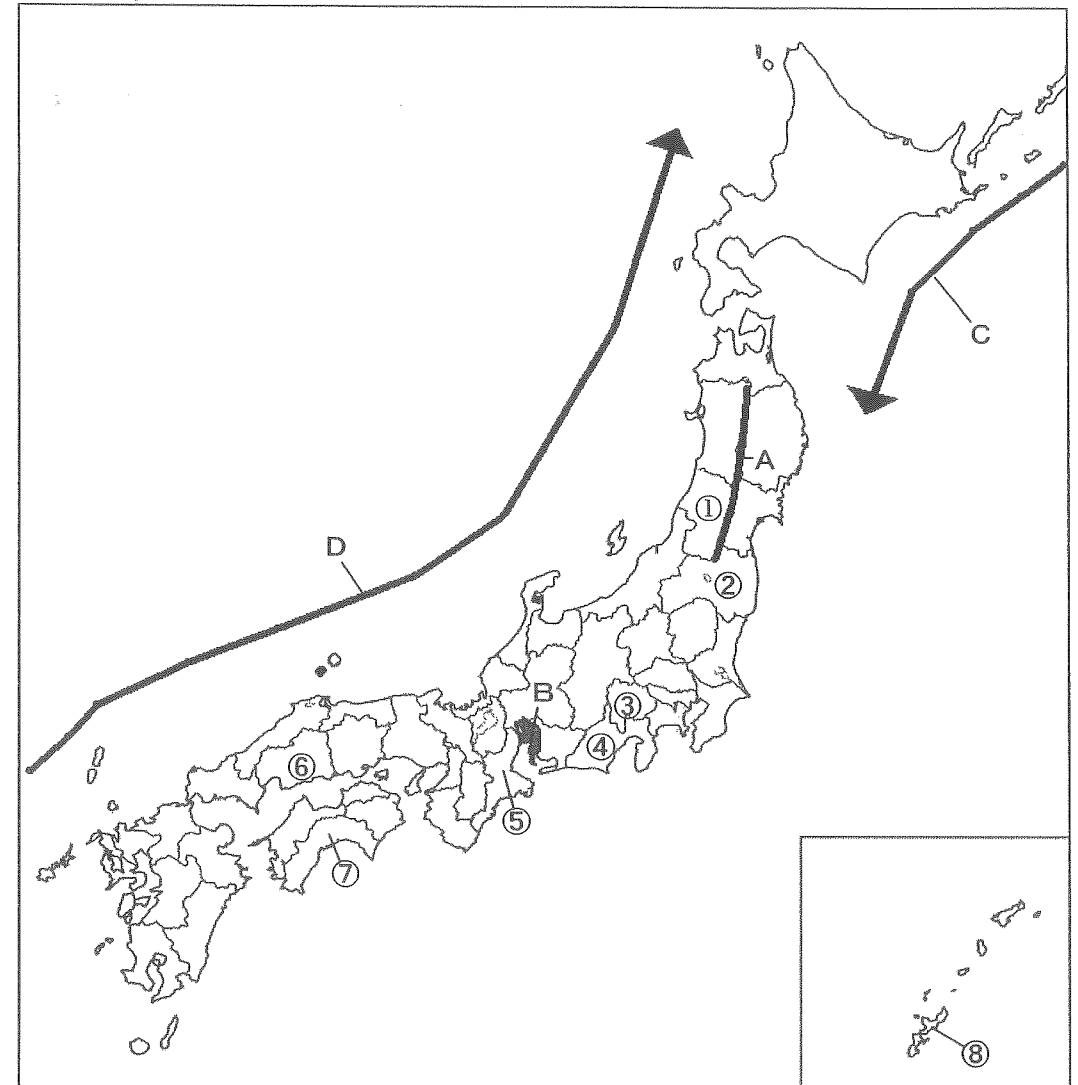
(制限時間 理科とあわせて50分)

## 注 意

- (1) 係の先生の指示に従って、所定のらんに受験番号、氏名を書きなさい。
- (2) 答はすべて解答用紙のきめられたところに、はっきりと書きなさい。
- (3) 問題は1ページから9ページまであります。
- (4) 印刷のはっきりしないところは、手をあげて係の先生に聞きなさい。
- (5) 途中でトイレに行きたくなったり、気分が悪くなったりした場合は手をあげて、係の先生の指示に従いなさい。
- (6) 制限時間は、理科とあわせて50分です。

受験番号	氏名

1 次の地図を見て、あとの問いに答えなさい。



問1 地図中のAの山脈、Bの平野の名前を答えなさい。

問2 地図中のC、Dの海流の名前の組み合わせとして正しいものを、次のア～エから1つ選び、記号で答えなさい。

- |   |         |        |   |         |        |
|---|---------|--------|---|---------|--------|
| ア | C 千島海流  | D 日本海流 | イ | C 千島海流  | D 対馬海流 |
| ウ | C リマン海流 | D 日本海流 | エ | C リマン海流 | D 対馬海流 |

問3 地図中①の県が全国で1位の生産量をほこる果実として正しいものを、次のア～エから1つ選び、記号で答えなさい。

- |   |      |   |    |   |       |   |    |
|---|------|---|----|---|-------|---|----|
| ア | 日本なし | イ | かき | ウ | さくらんぼ | エ | うめ |
|---|------|---|----|---|-------|---|----|





問4 地図中②と③の県がふくまれる地方の組み合わせとして正しいものを、次のア～エから1つ選び、記号で答えなさい。

- ア ② 関東地方 ③ 中部地方  
 ウ ② 東北地方 ③ 関東地方
- イ ② 関東地方 ③ 関東地方  
 エ ② 東北地方 ③ 中部地方

問5 地図中④の県を中心とする、機械工業、製紙・パルプ工業がさかんな工業地域の名前を答えなさい。

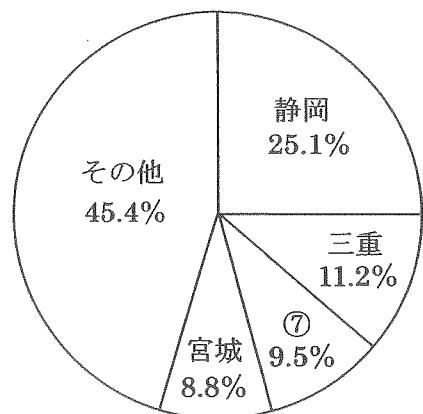
問6 地図中⑤の県で発生した、四大公害病の1つである公害病の名前を答えなさい。

問7 地図中⑥の県にある世界遺産の写真を、次のア～エから2つ選び、記号で答えなさい。



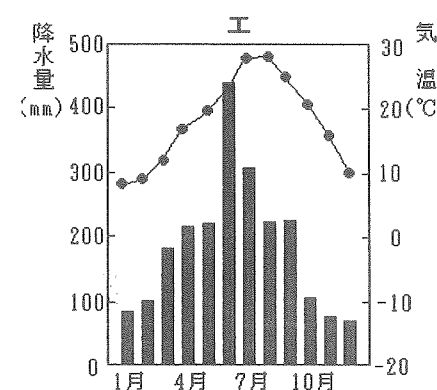
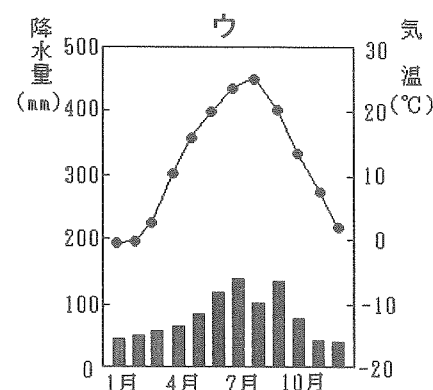
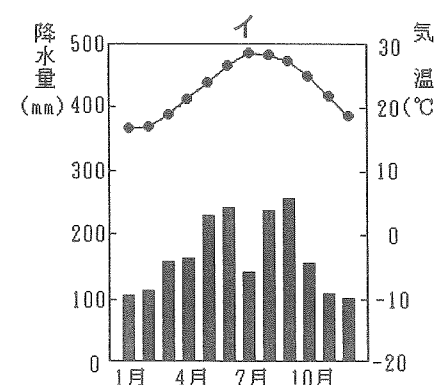
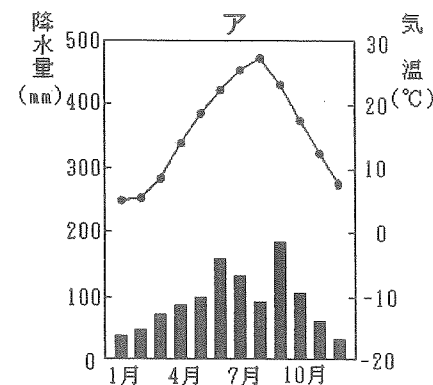
問8 右のグラフは、ある魚の種類<sup>ぎょかく</sup>の都道府県別漁獲量の割合を示したもので、グラフ中の⑦は、地図中の⑦の県である。この魚の種類として正しいものを、次のア～エから1つ選び、記号で答えなさい。

- ア さけ           イ まぐろ  
 ウ かつお       エ いわし



「データでみる県勢 2013」





問9 地図中の⑧の県の県庁所在都市の雨温図として正しいものを、次のア～エから1つ選び、記号で答えなさい。



「日本国勢図会 2013/14」

問10 地図中の①～⑧の県から、県庁名と県庁所在都市名が異なる県を3つ選び、番号で答えなさい。

2 次のA～Fの資料を見て、あとの問いに答えなさい。



問1 資料Aの絵の中で、馬に乗って戦っている人物として正しいものを、次のア～エから1つ選び、記号で答えなさい。

- ア 楠木正成      イ 竹崎季長      ウ 源義経      エ 新田義貞

問2 資料Bは、青森県にある遺跡の写真である。この遺跡の名前として正しいものを、次のア～エから1つ選び、記号で答えなさい。

- ア 三内丸山遺跡      イ 吉野ヶ里遺跡      ウ 板付遺跡      エ 登呂遺跡

問3 資料Cの建物を建てた人物の説明として誤っているものを、次のア～エから1つ選び、記号で答えなさい。

- ア 室町幕府の第三代将軍だった。      イ 幕府の力を強め、文化や芸術を保護した。  
ウ 中国の宋と勘合貿易を行った。      エ 南北朝の統一をなしとげた。

問4 資料Dについて、次の(1)、(2)の問いに答えなさい。

(1) 資料Dは、日本で最大の古墳である大仙古墳です。この古墳がある都道府県を、次のア～エから1つ選び、記号で答えなさい。

- ア 大阪府      イ 奈良県      ウ 三重県      エ 福岡県

(2) 資料Dのような、日本特有の形の古墳を何というか、答えなさい。

問5 資料Eの建物の説明として正しいものを、次のア～エから1つ選び、記号で答えなさい。

- ア 聖徳太子が仏教を広めるために建てた。  
イ 浄土信仰をもとにつくられた阿弥陀堂である。  
ウ 校倉造とよばれる建築方法でつくられている。  
エ 藤原頼通によって建てられた。

問6 資料Fについて、次の(1)、(2)の問いに答えなさい。


(1) 資料Fは、貴族のやしきを表した模型です。このような建築方法を何というか、答えなさい。

(2) このような建物が建てられた時代の文化の説明として誤っているものを、次のア～エから1つ選び、記号で答えなさい。

- ア かな文字が生まれ、「源氏物語」などの作品が書かれた。  
イ 中国で水墨画を学んだ雪舟が日本の美しい自然をえがいた。  
ウ 貴族の女性は十二単とよばれる服を身につけていた。  
エ 大陸の文化を取りこみながら、新たに生まれた日本風の文化だった。

問7 A～Fの資料を、時代の古い順に並べかえ、記号で答えなさい。

3 次の年表を見て、あとの問いに答えなさい。

年	できごと	
1543年	日本に鉄砲が伝わる	…A
1600年	関ヶ原の戦いがおこる	…B
	C 	
1798年	<input type="text"/> が「古事記伝」の原稿を完成させる	…D
1858年	日米修好通商条約を結ぶ	…E
1868年	江戸を <input type="text"/> と改める	…F
1894年	日清戦争が始まる	…G
1933年	日本が国際連盟を脱退する	…H
1951年	サンフランシスコ平和条約が結ばれる	…I
1972年	<input type="text"/> が日本に復帰する	…J

問1 年表中のAについて、鉄砲の伝来について説明した次の文のXにあてはまる国の名前、Yにあてはまる島の名前を、それぞれ答えなさい。

X人を乗せた貿易船がYに流れ着いたときに伝えられた。

問2 年表中のBについて、この戦いの説明として正しいものを、次のア～エから1つ選び、記号で答えなさい。

- ア たくさんの鉄砲を使って、織田信長が武田氏をやぶった。
- イ 豊臣秀吉が、主君をうらぎった明智光秀をやぶった。
- ウ 徳川家康が率いる軍が、石田三成が率いる軍をやぶった。
- エ 江戸幕府が大阪城を攻め、豊臣家をほろぼした。

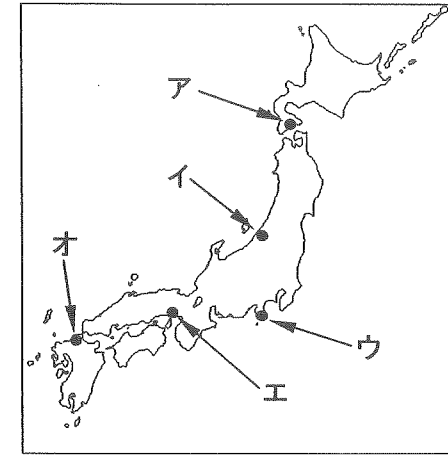
問3 年表中のCの期間におこった次のア～エのできごとを、時代の古いものから順に並べかえ、記号で答えなさい。

- ア 鎖国が完成する。
- イ 武家諸法度が定められる。
- ウ 島原・天草一揆がおこる。
- エ 参勤交代の制度が確立される。

問4 年表中のDのにあてはまる人物の名前として正しいものを、次のア～エから1つ選び、記号で答えなさい。

- ア 松尾芭蕉
- イ 本居宣長
- ウ 近松門左衛門
- エ 杉田玄白

問5 年表中のEについて、日米修好通商条約によって開かれた港として正しいものを、次の地図中のア～オからすべて選び、記号で答えなさい。



問6 年表中のFのにあてはまる地名を答えなさい。

問7 年表中のGについて、日清戦争の説明として誤っているものを、次のア～エから1つ選び、記号で答えなさい。

- ア 朝鮮でおこった反乱に清と日本の両軍が出兵したためにおこった。
- イ 与謝野晶子は戦場の弟を思い、戦争に疑問をいだく詩を発表した。
- ウ 日本は清をやぶり、台湾などを領土にし、多額の賠償金を得た。
- エ ロシアとフランス、ドイツが、日本に遼東半島の返還を要求した。

問8 年表中のHについて、日本が国際連盟を脱退した理由を説明した、次の文のに共通してあてはまることばを答えなさい。

国際連盟が、日本がつくった国を不承認とし、日本軍がから引き上げることを要求したから。

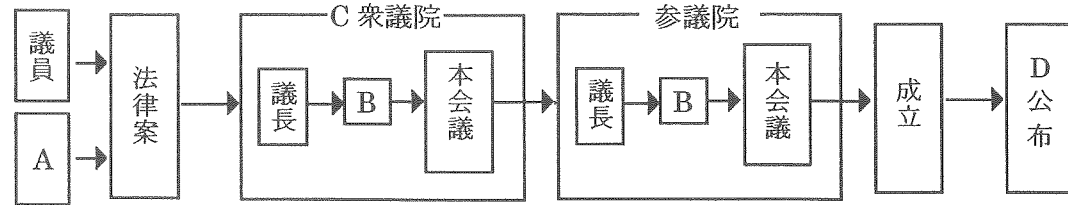
問9 年表中のIについて、この条約に署名した人物の名前として正しいものを、次のア～エから1つ選び、記号で答えなさい。

- ア 鳩山一郎
- イ 吉田茂
- ウ 佐藤栄作
- エ 田中角栄

問10 年表中のJのにあてはまる地名を答えなさい。

4 政治や国際関係について、あとの問いに答えなさい。

問1 下の図は法律ができるまでの流れを示したものです。これについて、次の(1)~(3)の問いに答えなさい。



- (1) 図中の A にあてはまることばを答えなさい。
- (2) 図中の B に共通してあてはまることばを、漢字 3 字で答えなさい。
- (3) 図中の C について、衆議院の説明として誤っているものを、次のア～エから 1 つ選び、記号で答えなさい。
  - ア 衆議院議員の議員数は 480 名である。
  - イ 衆議院議員の任期は 4 年で、解散がある。
  - ウ 衆議院議員の選挙権は 20 才以上である。
  - エ 衆議院議員の被選挙権は 30 才以上である。
- (4) 図中の D について、新しい法律は  によって公布されます。 にあてはまることばとして正しいもの、次のア～エから 1 つ選び、記号で答えなさい。
  - ア 内閣総理大臣
  - イ 最高裁判所長官
  - ウ 法務大臣
  - エ 天皇

問2 税金には、納税者が直接納める直接税と、納税を納める義務のある人と税金を負担する人が異なる間接税があります。間接税にあたるものを、次のア～エから 1 つ選び、記号で答えなさい。

- ア 法人税
- イ 所得税
- ウ 消費税
- エ 相続税

問3 地方公共団体が、その地域に住む人々の暮らしに深くかかわる問題について、住民の意思を問うための制度を何というか、漢字 4 字で答えなさい。

問4 困難な状況にある子どもたちを守るために、世界中の人々に募金を呼びかけ、それを子どもたちのために使うなどの活動をしている、国際連合の機関の略称として正しいものを、次のア～エから 1 つ選び、記号で答えなさい。

- ア UNICEF
- イ UNESCO
- ウ NGO
- エ WHO

問5 2001 年、テロによる攻撃を受けた世界貿易センタービルがあった都市として正しいものを、次のア～エから 1 つ選び、記号で答えなさい。

- ア ロサンゼルス
- イ サンフランシスコ
- ウ ニューヨーク
- エ シカゴ

問6 2013 年 7 月にヨーロッパ連合に新たに加盟した国として正しいものを、次のア～エから 1 つ選び、記号で答えなさい。

- ア スイス
- イ クロアチア
- ウ ウクライナ
- エ ノルウェー

【問題は、ここで終わります。】



2014 年度 第 1 回入試  
 昌平中学校入学試験問題  
 (1 月 10 日午前実施)

氏 名

受験番号						
<table style="width: 100%; border-collapse: collapse;"> <tr> <td style="width: 15%; border-right: 1px dashed black; height: 30px;"> </td> <td style="width: 15%; border-right: 1px dashed black;"> </td> <td style="width: 15%; border-right: 1px dashed black;"> </td> <td style="width: 15%; border-right: 1px dashed black;"> </td> <td style="width: 15%; border-right: 1px dashed black;"> </td> <td style="width: 15%;"> </td> </tr> </table>						

得 点			
<table style="width: 100%; border-collapse: collapse;"> <tr> <td style="width: 30%; border-right: 1px dashed black; height: 30px;"> </td> <td style="width: 30%; border-right: 1px dashed black;"> </td> <td style="width: 30%;"> </td> </tr> </table>			

# 社 会

解答用紙

1	問 1		問 2	問 3	問 4
	A	B			
	山脈	平野			
	問 5		問 6		問 7
	工業地域				
	問 8	問 9	問 10		

2	問 1	問 2	問 3	問 4		問 5
				(1)	(2)	
	問 6			問 7		
	(1)	(2)	→	→	→	→

3	問 1		問 2	問 3		
	X	Y		→	→	→
	問 4	問 5		問 6		問 7
	問 8		問 9	問 10		

4	問 1				問 2	
	(1)	(2)	(3)	(4)		
	問 3		問 4	問 5	問 6	