



2013 年度 第 1 回入試
(1 月 10 日 午前実施)

昌平中学校入学試験問題

社 会

(制限時間 理科とあわせて 50 分)

注 意

- (1) 係の先生の指示に従って、所定のらんに受験番号、氏名を書きなさい。
- (2) 答えはすべて解答用紙のきめられたところに、はっきりと書きなさい。
- (3) 問題は 1 ページから 8 ページまであります。
- (4) 印刷のはっきりしないところは、手をあげて係の先生に聞きなさい。
- (5) 途中でトイレに行きたくなったり、気分が悪くなったりした場合は手をあげて、係の先生の指示に従いなさい。
- (6) 制限時間は、理科とあわせて 50 分です。

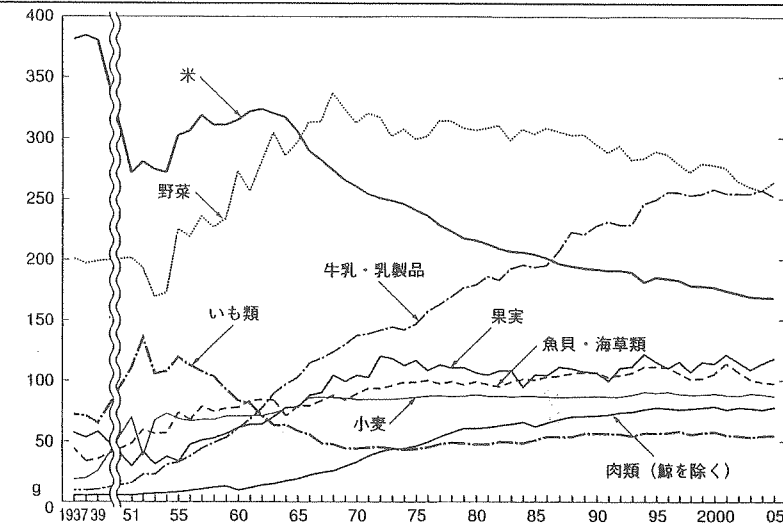
受験番号	氏 名

1 次の各問いに答えなさい。

問1 後の「1人あたりの1日の食料消費量の変化」の資料を見て、次の(1)～(3)の問いに答えなさい。

(1) この資料を見て、次の文の(A), (B)にあてはまる語句を資料中の語句から選び、答えなさい。

1960年代から、日本人の食生活の洋風化が進み、(A)が急速にのびて、現在では野菜とほぼ同じ消費量です。また、(B)ものびていますが、魚貝・海草類の80%程度になっています。



「数字で見る日本の食生活 100年 改訂第五版」

(2) 米の消費量は減少し続けています。そのため政府は米の生産を減らす政策を行いました。これを何政策といいますか。答えなさい。

(3) 日本の食料自給率は、先進国の中でも特に低くなっています。2010年現在、日本の食料自給率がわずか6%しかない農産物として正しいものを、次のア～エから1つ選び、記号で答えなさい。


- ア いも類
- イ だいず
- ウ 果実
- エ 卵

問2 日本の林業について、次の(1), (2)の問いに答えなさい。

(1) 日本の林業について説明した文として正しくないものを、次のア～エから1つ選び、記号で答えなさい。

- ア 紀伊山地や中国山地は、国有林が少ない。
- イ 日本の森林は、国土の約3分の2をしめている。
- ウ 林業はきびしい仕事だが、収入が高いため働き手は増えている。
- エ 森林の約7割がすぎやひのきなどの針葉樹である。

(2) 右のグラフは、日本の木材(パルプ・チップ、製材、丸太、合板)の輸入相手国を示しています。グラフ中のA国から日本は、石炭や鉄鉱石なども多く輸入しています。また、この国はオセアニアに位置しています。この国として正しいものを、次のア～エから1つ選び、記号で答えなさい。



「日本のすがた 2012」

ア インド イ フィリピン ウ オーストラリア エ ブラジル

問3 日本の漁業について、次の(1)、(2)の問いに答えなさい。

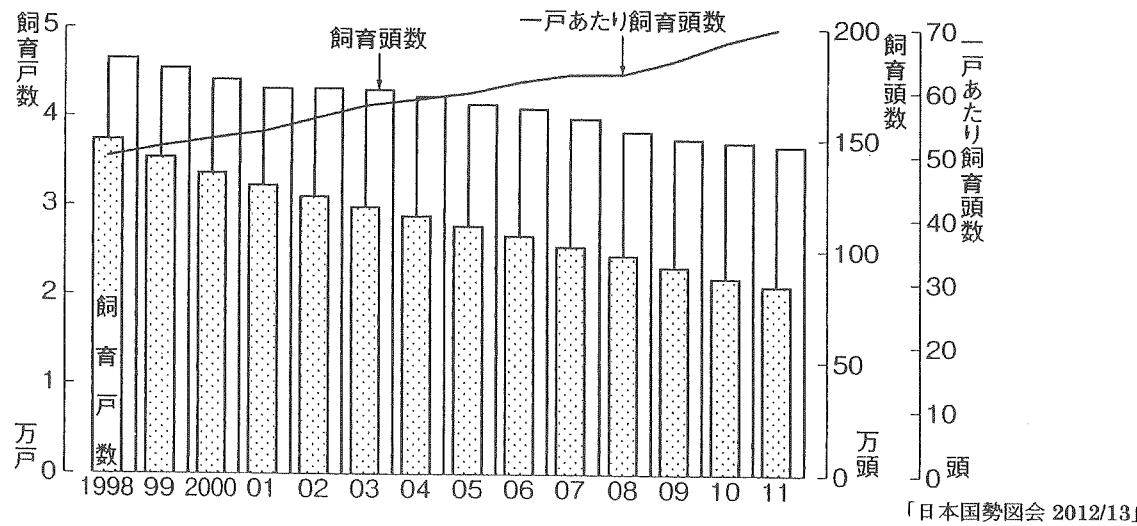
(1) 日本の沖合漁業の説明として正しいものを、次のA群のア～ウ、B群のエ～カから1つずつ選び、記号で答えなさい。

- A群 [ア 大型の船(100t以上)で行う。 イ 中型の船(10t以上)で行う。]
 [ウ 小型の船(10t未満)で行う。]
- B群 [エ 数日かけて行う。 オ 数か月から1年以上かけて行う。]
 [カ 日帰りで行う。]

(2) 主に遠洋漁業でとれ、暖流にいる魚として正しいものを、次のア～エから1つ選び、記号で答えなさい。

ア あじ イ いわし ウ さけ エ まぐろ

問4 日本の畜産業について、下の表は乳用牛の飼育頭数と飼育戸数の変化を示しています。この表を読み取ったものとして正しいものを、後のア～エから1つ選び、記号で答えなさい。



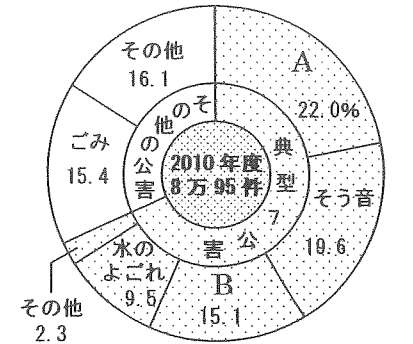
- ア 飼育戸数と乳牛の飼育頭数、1戸あたり飼育頭数のいずれも減少しているため、1戸あたりの経営規模は小さくなっている。
- イ 飼育戸数に対して乳牛の飼育頭数の減少は少なく、1戸あたり飼育頭数は増えているため、経営規模は大きくなっている。
- ウ 1戸あたり飼育頭数が増加しているため、全体の飼育頭数も少しずつ増えている。
- エ 全体の飼育頭数の増加とともに飼育戸数も増えているため、1戸あたりの経営規模に変化はない。

問5 日本の工業について、次の文が説明している工業地帯(域)として正しいものを、後のア～エから1つ選び、記号で答えなさい。

かつては製糸業がさかんでしたが、広い工業用地や豊かな労働力もあることから、1970年代に整備された高速道路沿いに工業団地が建設され、電気機械や自動車部品の生産がさかんです。

ア 京葉工業地域 イ 中京工業地帯 ウ 京浜工業地帯 エ 関東内陸工業地域

問6 日本の公害について、右のグラフは公害に対する苦情の内わけです。グラフ中のAとBの組み合わせとして正しいものを、次のア～エから1つ選び、記号で答えなさい。



「日本のすがた 2012」

- ア A-空気のごとれ B-ゆれ
- イ A-空気のごとれ B-いやな臭い
- ウ A-いやな臭い B-ゆれ
- エ A-いやな臭い B-空気のごとれ

2 次の各時代を説明したA～Dの文を読んで、後の問いに答えなさい。

A【日本の祖先】

かつて日本は、①大陸と陸続きでナウマン象などが大陸から渡って来ました。やがて②日本列島ができると人々は、弓矢を使って小さな動物を狩るようになりました。

B【国家の形成】

③渡来人とよばれる人々が日本にさまざまな文化を伝えました。また、6世紀になると、天皇を中心とする④政治の改革が行われました。

C【律令制度】

⑤奈良時代には律令制にもとづく⑥政治のしくみが整いましたが、口分田が不足すると朝廷は743年に開墾した土地の私有を認めました。その後⑦京都に都を移しました。

D【封建時代】

⑧鎌倉時代は、定期的に市場が開かれるようになり、貨幣経済が発達しました。

問1 下線①について、このころの時代の名称として正しいものを、次のア～エから1つ選び、記号で答えなさい。

ア 新石器時代 イ 弥生時代 ウ 旧石器時代 エ 縄文時代

問2 下線②について、このころの人々によってつくられ、使用されていたものとして正しいものを、次のア～エから1つ選び、記号で答えなさい。

ア 青銅器 イ 土偶 ウ 古墳 エ 石包丁

問3 下線③について、日本に仏教を伝えた国として正しいものを、次のア～エから1つ選び、記号で答えなさい。

ア 高麗 イ 新羅 ウ 高句麗 エ 百濟

問4 下線④について、この改革の内容として正しいものを、次のア～エから1つ選び、記号で答えなさい。

- ア 国家は、地方の有力な豪族に政治をゆだねた。
- イ 国家が、直接土地や人民を支配した。
- ウ 地方の人民が、直接土地や人民を支配した。
- エ 地方の豪族が、直接土地や人民を支配した。

問5 下線⑤について、次の(1)、(2)の問いに答えなさい。

(1) 現在の奈良県に都を置いた奈良時代は、どれくらい続きましたか。正しいものを次のア～エから1つ選び、記号で答えなさい。

- ア 約30年間 イ 約70年間 ウ 約150年間 エ 約200年間

(2) 奈良時代を代表する文化にあたるものとして正しいものを、次のア～エから1つ選び、記号で答えなさい。

- ア 古今和歌集 イ 竹取物語 ウ 日本書紀 エ 源氏物語

問6 下線⑥について、このころの税制度を説明した次の文の(①)～(③)にあてはまる語句の組み合わせとして正しいものを、後のア～エから1つ選び、記号で答えなさい。

人々は、収穫した稲の約3%を(①)に納める租や、特産物を(②)に納める(③)を、税として負担していました。

- ア ①-地方 ②-都 ③-調 イ ①-都 ②-地方 ③-調
- ウ ①-地方 ②-都 ③-庸 エ ①-都 ②-地方 ③-庸

問7 下線⑦について、次の(1)、(2)の問いに答えなさい。

(1) 次のA～Cは、京都に都が置かれた平安時代のできごとです。これらのできごとが古い順番に並んでいるものを後のア～エから1つ選び、記号で答えなさい。

A 白河上皇が院政を始める B 平清盛が太政大臣になる
C 藤原道長・頼通父子が摂関政治の全盛期をつくる

- ア A→B→C イ B→A→C ウ C→A→B エ C→B→A

(2) 国風文化の文化財として正しいものを、次のア～エから1つ選び、記号で答えなさい。

- ア 金閣 イ 法隆寺 ウ 平等院鳳凰堂 エ 東大寺南大門

問8 下線⑧について、鎌倉時代の社会のようすとして正しいものを、次のア～エから1つ選び、記号で答えなさい。

- ア 農民は備中ぐわを使って開墾を行った。
- イ 牛などを使って田畑を耕した。
- ウ 千歯こきという脱穀機が農作業に使用された。
- エ 市場で売る農産物は西廻り航路で運ばれた。

3 次の年表を見て、後の問いに答えなさい。

年	できごと
1333年	①鎌倉幕府が滅亡する
1334年	建武の新政が始まる
1392年	②南北朝時代が合一する
	A
1428年	正長の土一揆がおこる
	B
1485年	山城の国一揆がおこる
	C
1488年	加賀の一向一揆がおこる
	D
1577年	③楽市令が出される
1612年	禁教令が出される ……a
1615年	武家諸法度が出される ……b
1649年	慶安の御触書が出される ……c
1685年	生類憐みの令が出される ……d

問1 下線①の鎌倉を攻撃した人物として正しいものを、次のア～エから1つ選び、記号で答えなさい。

- ア 新田義貞 イ 北条義時 ウ 足利尊氏 エ 細川勝元

問2 下線②について、1392年に南北朝が合一したころのアジアのできごととして正しいものを、次のア～エから1つ選び、記号で答えなさい。

- ア 高麗が滅び、朝鮮国が朝鮮半島を統一する
- イ チンギス=ハンがモンゴル帝国を建国する。
- ウ 朝鮮半島に、新羅、百濟、加羅の三国が成立する。
- エ 中国では、明が滅び、清が中国を統一する。

問3 室町時代に起こった応仁の乱について、次の(1)、(2)の問いに答えなさい。

(1) 京都で11年間争った応仁の乱が起きた時期として正しいものを、年表中のA～Dから1つ選び、記号で答えなさい。

(2) 応仁の乱のころの文化の説明として正しいものを、次のア～エから1つ選び、記号で答えなさい。

- ア 足利義政が銀閣を建てる。 イ 出雲の阿国が歌舞伎をはじめる。
- ウ 栄西が臨済宗を広める。 エ 吉田兼好が徒然草を著す。

問4 室町時代に行われた日明貿易の説明として正しいものを、次のア～エから1つ選び、記号で答えなさい。

- ア 明と対等な立場で貿易を行った。
- イ この貿易で中国から日本へ禅宗が伝わった。
- ウ 倭寇と区別するために朱印状が使用された。
- エ この貿易は、やがて有力な守護大名が実権をにぎった。

問5 下線③の法令を出した織田信長が行った戦いの順番が、古い順に並んでいるものとして正しいものを、次のア～エから1つ選び、記号で答えなさい。

- ア 長篠の戦い → 比叡山の焼き討ち → 室町幕府を滅ぼす → 桶狭間の戦い
- イ 室町幕府を滅ぼす → 桶狭間の戦い → 長篠の戦い → 比叡山の焼き討ち
- ウ 桶狭間の戦い → 比叡山の焼き討ち → 室町幕府を滅ぼす → 長篠の戦い
- エ 比叡山の焼き討ち → 桶狭間の戦い → 長篠の戦い → 室町幕府を滅ぼす

問6 織田信長の死後、全国統一を果たした豊臣秀吉の宗教政策として正しいものを、次のア～ウから選び、記号で答えなさい。

- ア キリスト教を保護した。
- イ 鎖国政策をとりキリスト教を迫害した。
- ウ 初めはキリスト教を保護していたが、その後宣教師を追放した。

問7 豊臣秀吉の役職名として正しいものを、次のア～エから1つ選び、記号で答えなさい。

- ア 関白
- イ 執権
- ウ 摂政
- エ 征夷大將軍

問8 豊臣氏が滅んだ戦いとして正しいものを、次のア～エから1つ選び、記号で答えなさい。

- ア 関ヶ原の戦い
- イ 大阪夏の陣
- ウ 本能寺の変
- エ 山崎の戦い

問9 第五代将軍徳川綱吉によって発布された法令として正しいものを、年表中の a～d から1つ選び、記号で答えなさい。

4 次の先生と生徒の会話を読んで、後の問いに答えなさい。

生徒：日本国憲法では、国の政治のあり方を最終的に決めるのは(A)ですね。

先生：その通りだよ。とても大切な考え方で、日本国憲法の①三大原則の1つだよ。

生徒：このような考え方は、②大日本帝国憲法にもありましたか。

先生：大日本国憲法では、主権者は③天皇と定められていました。

生徒：このほかに、日本国憲法にはどんな原則があるのですか。

先生：④基本的人権の尊重という考え方があります。これは、自由権や平等権など国民がもつ権利を、⑤国は何よりも尊重しなければならないということです。

生徒：3つ目の原則は何ですか。

先生：平和主義の原則で、戦争の放棄を憲法の前文や、⑥第9条で規定しています。

問1 文中の(A)にあてはまる語句を答えなさい。

問2 下線①について、日本国憲法には、三大原則のほかに、国民の三大義務があります。三大義務として正しくないものを、次のア～エから1つ選び、記号で答えなさい。

- ア 納税の義務
- イ 子どもに教育を受けさせる義務
- ウ 勤労の義務
- エ 選挙にいく義務

問3 下線②について、次の(1)、(2)の問いに答えなさい。

(1) 大日本帝国憲法を作成するときに手本とした国として正しいものを、次のア～エから1つ選び、記号で答えなさい。

- ア イギリス
- イ ドイツ
- ウ アメリカ
- エ フランス

(2) 明治政府は、大日本帝国憲法を制定し、翌年には二院制の第1回帝国議会を開きました。この時の二院制の組み合わせとして正しいものを、次のア～エから1つ選び、記号で答えなさい。

- ア 衆議院と元老院
- イ 参議院と元老院
- ウ 衆議院と貴族院
- エ 参議院と貴族院

問4 下線③について、天皇は、日本国憲法の下では、国のどの機関の助言と承認により国事行為を行いますか。正しいものを次のア～エから1つ選び、記号で答えなさい。

- ア 国会
- イ 内閣
- ウ 裁判所
- エ 都道府県知事

問5 下線④について述べた次の憲法の条文の()にあてはまる語句として正しいものを、後のア～エから1つ選び、記号で答えなさい。

この憲法が国民に保障する基本的人権は、「^{おか}侵すことのできない()の権利」(憲法第11条)と規定されている。

- ア 永久
- イ 人類
- ウ 絶対
- エ 永遠

問6 下線⑤について、国に権力が集中しないように、国の仕事を国会や内閣、裁判所に分けています。このようなしくみを何といいますか。漢字4字で答えなさい。

問7 下線㉔について、次の(1)～(3)の問いに答えなさい。

- (1) 次の憲法第9条の条文の(A), (B)にあてはまる語句の組み合わせとして正しいものを、次のア～エから1つ選び、記号で答えなさい。

「陸海空軍その他の(A)は、これを認めない。国の(B)は、これを認めない。」

- ア A-防衛力 B-海外派遣^{ほくわん} イ A-戦力 B-海外派遣
ウ A-防衛力 B-交戦権 エ A-戦力 B-交戦権

- (2) 日本は核兵器^{かくへいき}について、「非核三原則^{ひかくさんげんそく}」という考え方をもっています。この原則を説明した次の文の()にあてはまる語句として正しいものを、次のア～エから1つ選び、記号で答えなさい。

非核三原則とは、1971年の国会で議決された核兵器を「もたず、つくらず、()」という原則である。

- ア 使用せず イ 保持せず ウ 追求せず エ 持ち込ませず

- (3) 非核三原則を国会で決議した翌年の1972年に、沖縄は日本に返還^{へんかん}され、昨年で40周年をむかえました。沖縄を日本に返還した国を答えなさい。

【問題は、ここで終わります。】

氏 名



2013 年度 第1 回入試
 昌平中学校入学試験問題
 (1 月 10 日午前実施)

受験番号				

得 点	

社 会

解答用紙

1	問 1	(1)		(2)			
		A	B	政策			
	問 3	(3)	問 2				
			(1)	(2)			
問 3	(1)		(2)	問 4	問 5	問 6	
	A 群	B 群					

2	問 1	問 2	問 3	問 4	問 5	
					(1)	(2)
	問 6	問 7		問 8		
	(1)	(2)				

3	問 1	問 2	問 3		問 4	問 5
			(1)	(2)		
	問 6	問 7	問 8	問 9		

4	問 1	問 2	問 3		問 4	
			(1)	(2)		
	問 5	問 6				
		(1)	(2)			
問 7						
	(1)	(2)	(3)			