

## 社 会

I 次の文を読み、問いに答えなさい。

い

古代、中国の医<sup>い</sup>薬<sup>やく</sup>の知識が朝鮮半島を通じて日本へ伝わってきました。①<sup>きんめい</sup>欽明天皇の時代には、日本は医<sup>い</sup>薬<sup>やく</sup>の知識を持つ学者を派遣<sup>はしけん</sup>してもらえるように百済に願い、その結果、学者が日本へやってきたことが分かっています。

②<sup>おのの</sup>小野妹子とともに隋<sup>いりやう</sup>にわたった使者は、隋で医<sup>い</sup>療<sup>りやう</sup>について学ぶとともに、多くの医学書を日本に持ちかえてきました。中国で、隋<sup>はら</sup>が滅び唐の時代になると、日本と大陸との関わりが多くなりました。中国の医療が日本の手本とされたので、大宝律令に残されている医療のしくみも中国のしくみと似ているところがあります。

奈良時代、聖武天皇の皇后である光<sup>こう</sup>明<sup>めい</sup>皇后は、奈良の③<sup>きうふく</sup>興福寺で薬草などを栽培し、それを病人に薬としてあたえる施<sup>せ</sup>薬<sup>やく</sup>院<sup>いん</sup>を設けるなど、積極的<sup>きふ</sup>に医療にかかわりました。また、④は、仏教だけでなく医療にもくわしく、唐から珍しい薬をたくさん持って日本にやってきました。④は日本にやってくる際に、何度も遭<sup>そう</sup>難<sup>なん</sup>して失<sup>しつ</sup>明<sup>めい</sup>したのですが、匂<sup>にお</sup>いで薬をかざわけることができたそうです。

問1 下線部①について。欽明天皇の時代について述べた説明文として正しいものを、次の(ア)～(エ)から一つ選び、記号で答えなさい。


- (ア) 魔<sup>ま</sup>よけや自然のめぐみを祈<sup>いの</sup>るために、土偶が使われた。
- (イ) 中国に使者を送り、中国の皇帝から「親魏倭王<sup>しんきわいわおう</sup>」という称号があたえられた。
- (ウ) 日本は朝鮮半島に上陸して高麗<sup>こうらい</sup>を攻撃したが、高麗に撃退された。
- (エ) 百済の王から日本へ仏像などがおくられて、日本へ公式に仏教が伝わった。

問2 下線部②について。607年に小野妹子が隋へ派遣された当時の隋の皇帝を、次の(ア)～(エ)から一つ選び、記号で答えなさい。

- (ア) 煬<sup>やうやう</sup>帝 (イ) 光<sup>こう</sup>武<sup>ぶ</sup>帝 (ウ) 永<sup>えい</sup>楽<sup>らく</sup>帝 (エ) 宣<sup>せん</sup>統<sup>とう</sup>帝

問3 下線部③について。興福寺ともっとも関係の深いものを、次の(ア)～(エ)から一つ選び、記号で答えなさい。

(ア)



(イ)



(ウ)



(エ)



問4 空欄④にあてはまる僧と、その僧の活動について述べた説明文の＜組合せ＞として正しいものを、次の(ア)～(ケ)から一つ選び、記号で答えなさい。

(a) 行基

(b) 鑑真

(c) 最澄

(X) 阿弥陀仏を信仰する浄土教の教えを広めた。

(Y) 律宗の寺院である唐招提寺を建立した。

(Z) 中国の仏教である天台宗を日本へ広めた。

(ア) (a) - (X)

(イ) (a) - (Y)

(ウ) (a) - (Z)

(エ) (b) - (X)

(オ) (b) - (Y)

(カ) (b) - (Z)

(キ) (c) - (X)

(ク) (c) - (Y)

(ケ) (c) - (Z)

ろ

平安時代に書かれた『源氏物語』には、⑤貴族たちの生活のようすが描かれています。平安時代のひとびとは、病気になったり、不幸なことがあると、しばしば、それを「物の怪」という怨霊のためであると考えることがありました。また、病気を治すために医師の治療を受けるだけでなく、加持祈禱をおこなうなど、仏教の力にたよることもありました。また、⑥『枕草子』には「物の怪」による体の不調だけではなく、⑦脚気などさまざまな病気が登場しています。

奈良・平安時代の医師は、一定の教育を受けて国家から任命された役人でした。しかし、鎌倉時代になると、律令制がおとろえ、能力があれば誰でも医者になることができました。また、鎌倉時代、⑧榮西によって書かれた『喫茶養生記』には、茶が薬としてすぐれていることが述べられています。

問5 下線部⑤について。平安時代の貴族たちの生活のようすについて述べた説明文として正しいものを、次の(ア)～(エ)から一つ選び、記号で答えなさい。

(ア) いくつもの建物が廊下で結ばれている、日本風の寝殿造を用いた。

(イ) 女子は十二単が、男子は狩衣が貴族の正式な服装であった。

(ウ) 食事は一日3回とり、牛肉を食べる習慣が広まった。

(エ) 御伽草子とよばれた絵入りの読み物を読んだ。

問6 下線部⑥について。『枕草子』の作者を、次の(ア)～(エ)から一つ選び、記号で答えなさい。

(ア) 紫式部

(イ) 清少納言

(ウ) 和泉式部

(エ) 小野小町

問7 下線部⑦について。脚気は、ビタミンB1(オリザニン)が不足することで発症する病気です。明治時代に、脚気の治療に必要なオリザニンを発見した人物を、次の(ア)～(エ)から一つ選び、記号で答えなさい。

(ア) 鈴木梅太郎

(イ) 福沢諭吉

(ウ) 新渡戸稲造

(エ) 野口英世

問8 下線部⑧について。榮西について述べた説明文として正しいものを、次の(ア)～(エ)から一つ選び、記号で答えなさい。

(ア) 臨済宗を広め、禅について述べた『興禅護国論』を著した。

(イ) 各地をまわり、踊念仏によって人びとに教えを広めた。

(ウ) 悪人こそがまさに救われる対象である、という悪人正機説をとらえた。

(エ) 法華信仰をもとに『立正安国論』で救いの道を説いた。

は

江戸時代になると、幕府によって医療のしくみが整えられました。医師は、専門職であっても武士の階級より下におかれていました。当時用いられた薬には、国内外のさまざまなものがありましたが、⑨その薬の一つについて、8代将軍徳川吉宗は国産化を目指しました。徳川吉宗が漢訳洋書の輸入をゆるしたこともあり、江戸時代には日本でオランダの学問が多く学ばれました。18世紀には杉田玄白と前野良沢が、『ターヘル・アナトミア』の翻訳をおこない、今までの漢方医学では明らかになっていなかった解剖学<sup>かいぼう</sup>の知識など、近代医学に関することを『解体新書』に記しました。また、19世紀には出島のオランダ商館の医者として、⑩ドイツ人のシーボルトが来日し、長崎に⑪を<sup>⑪</sup>開いて医学の教育などをおこないました。高野長英もこの⑪で学んだ一人です。

問9 下線部⑨について。8代将軍徳川吉宗が国産化を目指した薬は何ですか。次の(ア)～(エ)から一つ選び、記号で答えなさい。

- (ア) 朝鮮人参 (イ) 除虫菊<sup>じうちゅうきょく</sup> (ウ) ペニシリン (エ) タバコ

問10 下線部⑩について。ドイツと日本との関係について述べた説明文として正しいものを、次の(ア)～(エ)から一つ選び、記号で答えなさい。

- (ア) 二十一条の要求で、ドイツが中国に持っていた山東省<sup>さんとうしょう</sup>の権益<sup>けんえき</sup>を日本が受けつぐことを要求した。  
 (イ) 日露戦争直前の1902年、ロシアに対抗するために日本とドイツは同盟を結んだ。  
 (ウ) 1858年に修好通商条約を結び、開港場での自由な貿易をおこなうことを決めた。  
 (エ) 漂流民<sup>ひょうりゅうみん</sup>を届けに日本にやってきたモリソン号が、異国船打払令<sup>いこくせんうちばらいれい</sup>によって幕府に撃退<sup>げきたい</sup>された。

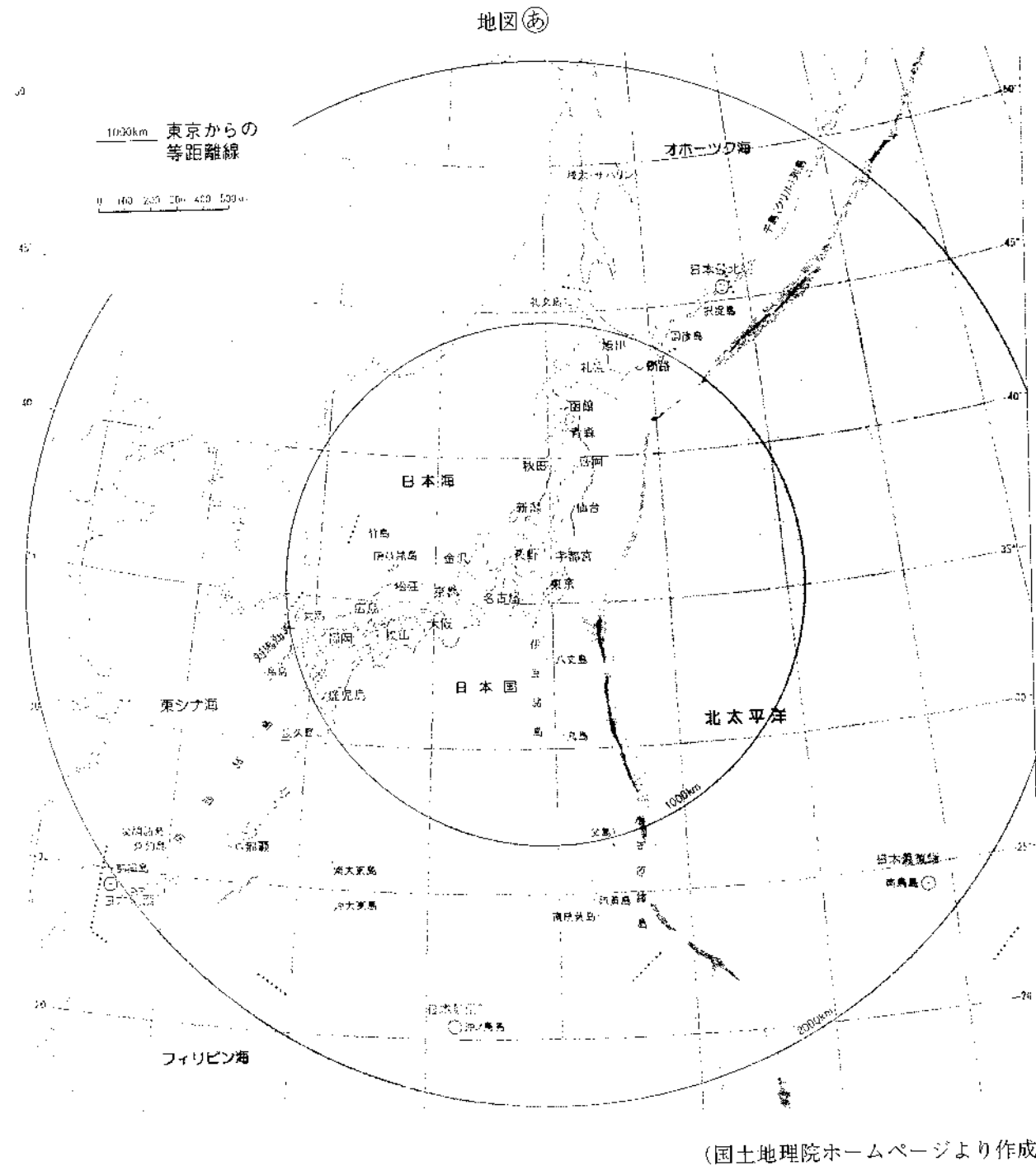
問11 空欄⑪にあてはまる語句を、次の(ア)～(エ)から一つ選び、記号で答えなさい。

- (ア) 松下村塾 (イ) 適塾 (ウ) 鳴滝塾 (エ) 懐徳堂<sup>かいとくどう</sup>

大問Ⅱは19ページからはじまります。

Ⅱ 次の文章を読み、地図をみて、あとの問いに答えなさい。

地図はいろいろなことを調べるきっかけになります。次の地図②は①日本全土を示した、東京からの距離と方位が正しい地図です。



地図を手がかりに都道府県や市町村を調べることもできます。ここでは沖縄県を調べることにしましょう。沖縄県は、面積が2,276km<sup>2</sup>、②人口139万人の小さな県です。

また、沖縄県は、最大の沖縄島をはじめとする、③150もの島からなる県です。亜熱帯性の気候で、もっとも暖かい月ともっとも寒い月の平均気温の差が小さいのが特徴です。④    礁などの⑤石灰岩地形が発達しています。2013年の夏は、気温が高かったために、④    の白化がみられたところもありました。

沖縄県には、「⑥王国のグスクおよび関連遺産群」として世界遺産に登録された首里城跡などの9つの建造物や遺跡があります。こうした建造物や遺跡をおとずれると、周辺諸国との交流で発展してきた⑥王国の歴史や文化を味わうことができます。

⑦第一次世界大戦時，サトウキビ産業は沖縄県の経済に大きな影響を与えました。現在でもサトウキビ産業は主要な産業です。また，観光業も沖縄県にとって大切な収入源の一つです。沖縄県をおとずれた観光客は，本土へ帰した〔⑧〕年には44万人でした。その後，1975（昭和50）年に沖縄国際海洋博覧会が開かれ，156万人へと増加し，2008（平成20）年には600万人をこえました。2012（平成24）年は⑨円相場の影響もあって584万人に減少しましたが，そのうち，⑩外国人観光客数は過去最高の38万人となりました。

一方、第二次世界大戦以降に沖縄県各地におかれるようになった⑪米軍基地は、現在でも沖縄県民、沖縄経済に大きな影響を与えています。

問1 下線部①について、地図②から読みとれることとして正しいものを、次の(ア)～(エ)から一つ選び、記号で答えなさい。

- (ア) 東京から与那国島、南鳥島、沖ノ鳥島までは 2,000km 以上ある。
- (イ) 東京から旭川までの距離と、東京から鹿児島までの距離はほぼ同じである。
- (ウ) 東京から 2,000km 以内にある国は、中国と北朝鮮と韓国だけである。
- (エ) 福岡から金沢までの距離は 1,000km 以上である。

問2 下線部②について。沖縄県の人口にもっとも近い人口の都市を次の(ア)～(エ)から一つ選び、記号で答えなさい。

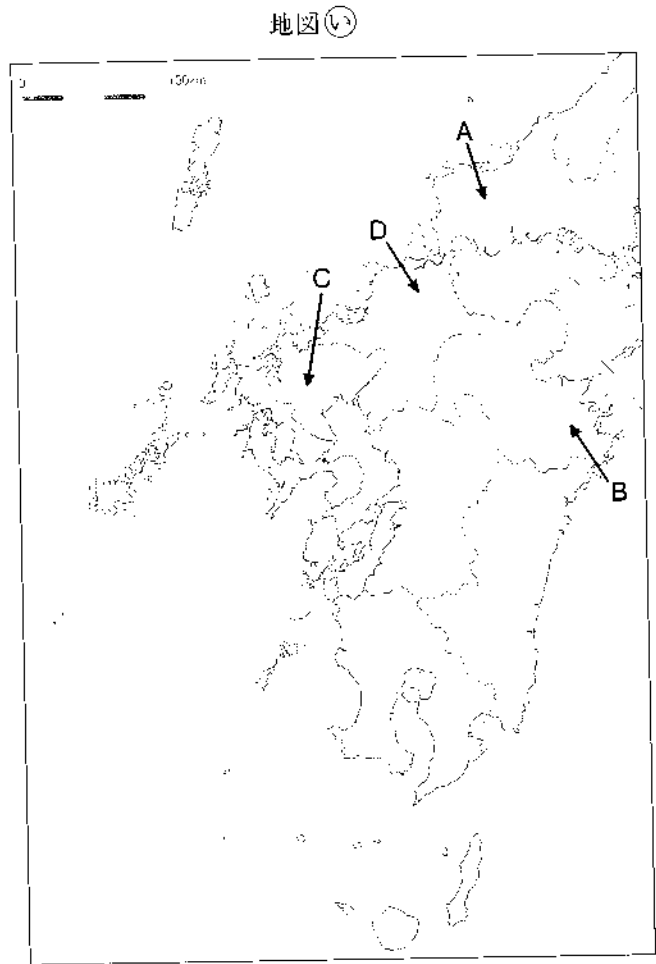
- (ア) 大阪市            (イ) 静岡市            (ウ) 福岡市            (エ) 横浜市

問3 下線部③について。沖縄県に属さない島を次の（ア）～（エ）から一つ選び、記号で答えなさい。

- (ア) 石垣島      (イ) 久米島      (ウ) 宮古島      (エ) 屋久島

問4 空欄④にあてはまる語句をカタカナで答えなさい。

問5 下線部⑤について。石灰岩によって形成される地形をカルスト地形といいます。日本で最大級の規模をほこるカルスト地形がみられる秋吉台の位置を、地図①中A～Dから一つ選び、記号で答えなさい。



(帝国書院ホームページより作成)

問6 空欄〔 ⑥ 〕にあてはまる語句を漢字で答えなさい。

問7 下線部⑦について。第一次世界大戦ごろの日本のようすについて述べた説明文として誤っているものを、次の(ア)～(エ)から一つ選び、記号で答えなさい。

- (ア) ロシアで革命がおこり、革命の影響を恐れて、日本はアメリカとともにロシアへ出兵した。
- (イ) 戦争によって、ヨーロッパにかわり、日本のアジア向け工業製品輸出額が著しく増加した。
- (ウ) 沖縄では日本で唯一の地上戦がおこなわれ、軍人以外にも多くの被害者をだした。
- (エ) 戦争後、国際連盟が発足し、日本は常任理事国に選ばれた。

問8 空欄〔 ⑧ 〕にあてはまる年を西暦で答えなさい。

問9 下線部⑨について。円相場について述べた説明文として正しいものを、次の(ア)～(エ)から一つ選び、記号で答えなさい。

- (ア) 例えば1ドルが80円から100円になることを円高といい、一般的に日本から外国への旅行価格は高くなる。
- (イ) 例えば1ドルが100円から80円になることを円高といい、一般的に日本から外国への旅行価格は安くなる。
- (ウ) 例えば1ドルが80円から100円になることを円安といい、一般的に日本から外国への旅行価格は安くなる。
- (エ) 例えば1ドルが100円から80円になることを円安といい、一般的に日本から外国への旅行価格は高くなる。

問10 下線部⑩について。次の表は沖縄を訪れた外国人観光客数を国別にあらわしたものです。2つの表に関する説明文として正しいものを、次の(ア)～(エ)から一つ選び、記号で答えなさい。

海外主要地域別入域状況(平成24年度・月別)(単位:人)

	4月	5月	6月	7月	8月	9月	10月	11月	12月	1月	2月	3月
台湾	14,200	17,800	14,500	23,200	17,300	15,500	15,800	5,100	5,100	4,100	8,200	8,600
韓国	2,100	1,600	2,200	2,500	2,400	1,900	2,300	2,600	5,500	7,900	8,600	5,500
中国本土	5,700	6,400	5,800	18,700	11,000	4,200	2,900	700	800	500	1,300	900
香港	4,400	4,700	6,700	8,200	7,300	5,400	3,400	2,000	3,000	1,800	4,000	5,300

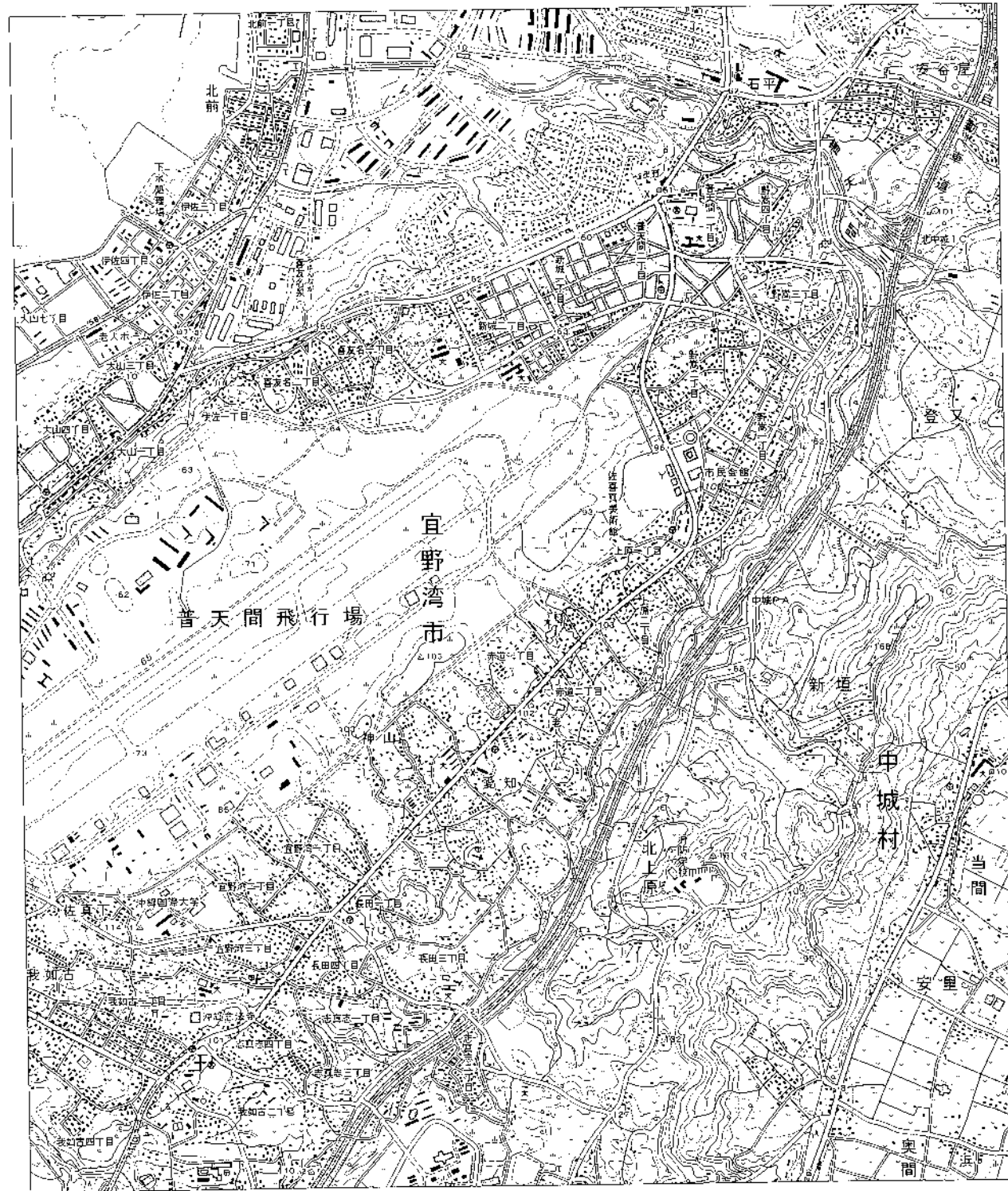
海外主要地域別入域状況(年度別)(単位:人)

	平成22年度	平成23年度	平成24年度
台湾	116,900	115,600	149,400
韓国	18,500	26,000	45,100
中国本土	23,800	44,500	58,900
香港	50,900	54,700	56,200

(沖縄県庁 ホームページ 資料を一部改編)

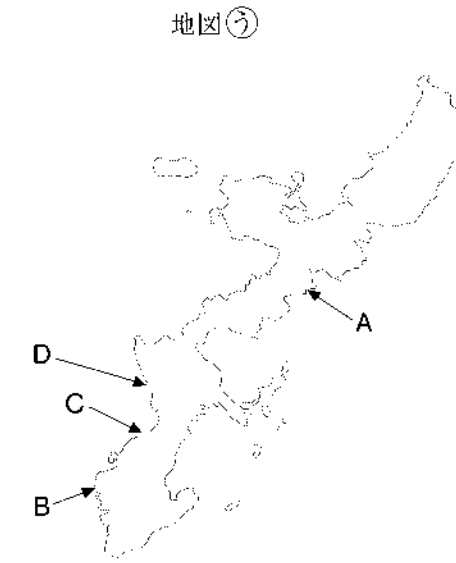
- (ア) 平成22年度と平成24年度を比べると、中国本土から沖縄を訪れた観光客数は2倍以上に増加している。
- (イ) 平成24年度に台湾から沖縄を訪れた観光客数は、夏よりも冬のほうが多くなっている。
- (ウ) 年度別の入域状況を見ると、観光客数はすべての地域、すべての年度において前年度に比べて増加している。
- (エ) 平成24年度に沖縄を訪れた観光客数は、すべての月で香港が韓国を上回っている。

問 11 下線部宜野湾市について。次の地形図には米軍基地（飛行場）がみられます。地形図を読み、あとの問いに答えなさい。



(国土地理院発行 地形図「沖縄市南部」をもとに作成)

(1) 普天間飛行場はどこにありますか。次の地図⑤中A～Dから一つ選び、記号で答えなさい。



(帝国書院ホームページより作成)

(2) この地形図や沖縄県の軍事基地について述べた説明文として正しいものを、次の(ア)～(カ)から一つ選び、記号で答えなさい。

- (ア) 地形図中の普天間飛行場は、沖縄県最大の飛行場である。
- (イ) 地形図中には小中学校がみられるが、高等学校や大学はまったくみられない。
- (ウ) 地形図中でもっとも標高が高い地点は、標高 150m をこえている。
- (エ) 沖縄県の米軍基地面積は、全国の米軍基地面積の約 25% を占めている。
- (オ) 地形図の縮尺は、計曲線が 50m ごとに引いてあるので、50,000 分の 1 である。
- (カ) 普天間飛行場は付近に住宅が多いことから、沖縄県外に移設することが決まっている。

Ⅲ 次の文を読み、問いに答えなさい。

最近の日本では、憲法が話題になることが多くなってきました。日本国憲法は、第二次世界大戦の敗戦後、日本がアメリカ合衆国を中心とする①連合国に占領されている期間に制定・施行されて以来70年近く経ちました。日本国憲法は、特に日本の戦争に対する態度を示したものとして、「平和憲法」とも呼ばれてきました。憲法はこのほかに国民主権の原理や②基本的人権の尊重をおもな内容としており、これらは日本社会にひろく定着してきた価値であるといえるでしょう。

しかし、いまの日本の社会が停滞・混乱しているという見方をする人たちの中には、③憲法の内容を見直すことを通じて、社会を大きく変えたい、と考えている人もいます。占領されているあいだに無理やり定めた憲法なのだから、本来なら④占領が終了したら、すぐにでも自分たちで憲法を定めなおすべきであった、という主張もあります。

たとえば、最近、ある政党は、個人の自由とか権利も大切であるが、「公共の利益を害したり公の秩序を乱したりしてはいけない」といった条文を憲法にいれるべきだ、という考えを示しています。また、「家族は互いに助け合わなければいけない」というような⑤義務を定めるべきだ、という主張もあります。

さまざまな議論の中心は、やはり平和主義に深く関わる⑥憲法前文と⑦第9条でしょう。ただし、世論調査を見ても、平和主義を守るべきだという考え方を持っている国民も少なくないようです。

また、⑧憲法第96条を変えようという提案もされています。ただし、この条文に定められていることをおこなうために必要な手続きを定めた法律が成立したのが2007年ですから、そもそもいままで第96条を変える必要性が強く感じられてこなかったという見方もできます。

国民が日常的に憲法を意識することはあまりないかもしれません。しかし、憲法について活発に議論をして、よりよくしていくことは大切なことでしょう。国民が世界に誇ることができる憲法とはどのような憲法なのでしょうか。よく考えたいものです。

問1 下線部①について。この期間のできごととして正しいものを、次の(ア)～(エ)から一つ選び、記号で答えなさい。

- (ア) 政府は「国民所得倍増計画」を発表し、めざましい経済成長が実現した。
- (イ) 朝鮮戦争がはじまり、日本はアメリカ軍に兵士を提供する条約をむすんだ。
- (ウ) アメリカやソ連があいついで核実験をおこない、太平洋上で第五福竜丸が被爆した。
- (エ) 土地を持つ農民を増やしたり、巨大企業を分割したりする政策がおこなわれた。

問2 下線部②について。日本国憲法に具体的に書かれている自由や権利について述べた説明文として誤っているものを、次の(ア)～(エ)から一つ選び、記号で答えなさい。

- (ア) 国民は、自分の職業や居住地などについて、自由に選んでよい。
- (イ) 文章や弁論、団体をつくることなどを通して、自由に自分の考えを発表してよい。
- (ウ) 特定の宗教を、政府が応援したり禁止したりすることはない。
- (エ) 国会議員や、地方議会の議員は、議会が開かれている間は逮捕されない特権がある。

問3 下線部③について。日本国憲法がいまの内容のままだと、実現できない政策の＜組合せ＞として正しいものを、あとの(ア)～(カ)から一つ選び、記号で答えなさい。

- (a) 首相を国民が直接に選挙をして選ぶようにする。
- (b) 女性が天皇となることを認める。
- (c) 選挙権を18歳以上の男女国民に認める
- (d) 参議院を廃止して、衆議院だけにする。

＜組合せ＞

- (ア) (a)と(b)                      (イ) (a)と(c)                      (ウ) (a)と(d)
- (エ) (b)と(c)                      (オ) (b)と(d)                      (カ) (c)と(d)

問4 下線部④について。占領が終了したことについて述べた説明文として正しいものを、(ア)～(エ)から一つ選び、記号で答えなさい。

- (ア) 占領の終了とは、独立国として、主権が回復するということである。
- (イ) 占領の終了とともに、日本に駐留していたアメリカ軍は沖縄を除いて撤退した。
- (ウ) 占領の終了と同時に、日本は国際連合に加盟し、国際社会に復帰した。
- (エ) 占領の終了にあたって、すべての国と日本とのあいだで平和条約が結ばれた。

問5 下線部⑤について。日本国憲法のなかで定められている義務について述べた説明文として正しいものを、次の(ア)～(エ)から一つ選び、記号で答えなさい。

- (ア) 国民の義務として、納税の義務、勤労の義務、国土防衛の義務が定められている。
- (イ) 天皇や大臣、国会議員、裁判官などは、憲法を尊重し擁護する義務があるとされる。
- (ウ) 国民は、「国旗や国歌に対しては敬意を払う義務がある」と定められている。
- (エ) 国民は、「公共の福祉」を重んじて、奉仕活動に参加する義務があると定められている。

問6 下線部⑥について。憲法前文の一部について、空欄にあてはまる語句の＜組合せ＞として正しいものを、次の（ア）～（エ）から一つ選び、記号で答えなさい。

そもそも国政は、国民の厳肅な信託によるものであつて、その□a□は国民に由来し、その□b□は国民の代表者がこれを行使し、その□c□は国民がこれを享受する。

＜組合せ＞

- |          |      |      |
|----------|------|------|
| （ア） a：権利 | b：決意 | c：成果 |
| （イ） a：責任 | b：実力 | c：恵沢 |
| （ウ） a：理想 | b：義務 | c：名誉 |
| （エ） a：権威 | b：権力 | c：福利 |

問7 下線部⑦について。憲法第9条について述べた説明文として正しいものを、次の（ア）～（エ）から一つ選び、記号で答えなさい。

- （ア）憲法第9条は、日本が軍隊を持たないことを定めているので、日本は戦車やミサイル、戦闘機などの兵器を保持していない。
- （イ）自衛隊はイラク戦争のときに初めて海外に派遣されたが、その時にこの派遣は憲法第9条違反ではないか、という議論がおこなわれ、裁判もおこされた。
- （ウ）憲法第9条があるため、外国同士が戦争をしている場合に、自衛隊が出動してその一方を助けることはできない、と考えられている。
- （エ）日本は戦争をしないので、外国から武力で攻撃された場合にどのように対処するかを定めた法律はない。

問8 下線部⑧について。第96条は何について定めた条文ですか。漢字四字で答えなさい。



※の欄には何も記入しないこと

I

問1		問2		問3		問4		問5	
問6		問7		問8		問9		問10	
問11									※

II

問1		問2		問3		問4	カタカナ	
問5		問6	漢字			問7		
問8				問9		問10		
問11	(1)	(2)						※

III

問1		問2		問3		問4		問5		
問6		問7		問8	漢字四字					
										※

受 験 番 号

得 点
※