

2024年度

目白研心中学校入学試験問題

【 第1回 】

社 会

<注 意>

- (1) 時間は社会・理科あわせて60分です。
- (2) 問題用紙は1ページから9ページまであります。最初に確認
しなさい。
- (3) 問題は1から3まであります。答えはすべて解答用紙に記入
しなさい。
解答欄の枠内におさまるように書くこと。はみ出たものは採点されません。
- (4) 筆記用具はHBの鉛筆かシャープペンシルと消しゴムを用意
しなさい。
- (5) 解答は特に漢字で答えなさいとある場合以外はひらがなで答
えてもよい。

受 験 番 号		氏 名	
------------------	--	------------	--

1 次の〔1〕・〔2〕の文章を読んで以下の問いに答えなさい。

〔1〕

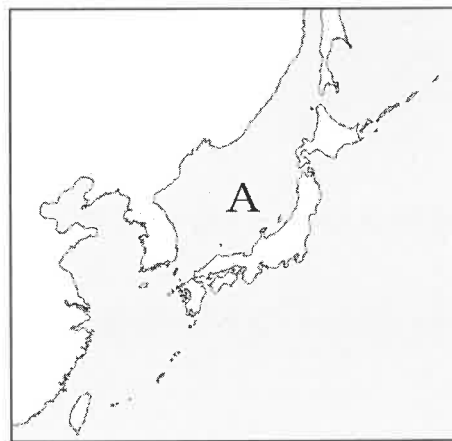
㉔日本はまわりを海に囲まれており、よい漁場も多いため昔から㉕漁業がさかんに行われてきました。たとえば、㉖宮城県は沖合に暖流である黒潮と寒流である親潮が出合う□□があり、国内でも有数の漁獲量をほこります。

しかし近年では、日本の漁獲量は減少しています。その背景として㉗自然環境の変化などにより沿岸部の魚が減っていることがあげられます。また、高齢化が進み㉘人口が減少している日本では、漁業で働く人が減っていることも課題となっています。

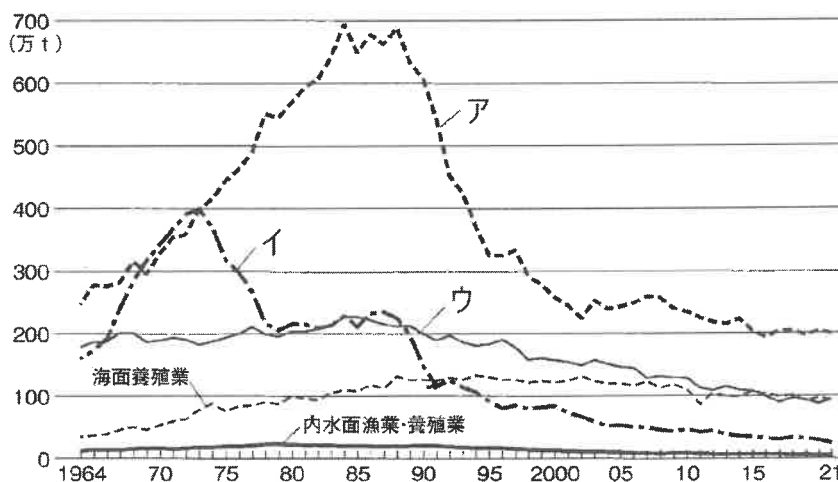
問1 文章中の□□にあてはまる語句を答えなさい。

問2 下線部㉕について、以下の【地図1】中のAの海を何というか答えなさい。

【地図1】



問3 下線部㉕について、以下のグラフは日本の漁業別の漁獲量のうつりかわりを示したものであり、ア～ウはそれぞれ遠洋漁業、沿岸漁業、沖合漁業のいずれかを示している。この中で遠洋漁業の漁獲量を示しているものを以下のア～ウから1つ選び記号で答えなさい。



(『日本のすがた 2023』より)

問4 下線部㉔について、宮城県に関する説明として正しいものを以下のア～エから1つ選び記号で答えなさい。

- ア、輪島塗^{わじまぬり}という伝統工芸品が有名である。
- イ、孺恋村^{つまごいむら}では高原野菜のキャベツやレタスの生産がさかんである。
- ウ、県庁所在地は「杜の都^{もりみやこ}」といわれ、夏には七夕まつりが開かれる。
- エ、日本で4番目に広い湖である猪苗代湖^{いなわしろこ}がある。

問5 下線部㉕について、青森県から秋田県にまたがる山地には、世界最大級のブナの原生林が分布している。世界自然遺産にも登録されているこの山地の名称を答えなさい。

問6 下線部㉖について、以下の資料は日本の総人口と年齢別人口^{ねんれい}の割合の移り変わりを示したものである。この資料から読み取れることとして最も適切なものを、以下のア～エから1つ選び記号で答えなさい。なお、2030年～2065年の値については予測値である。

西暦	総人口 (万人)	年齢別人口 (%)		
		0～14歳	15～64歳	65歳以上
2020年	12,615	11.9	59.5	28.6
2030年	11,913	11.1	57.7	31.2
2040年	11,092	10.8	53.9	35.3
2050年	10,192	10.6	51.8	37.7
2060年	9,284	10.2	51.6	38.1
2065年	8,808	10.2	51.4	38.4

(『日本のすがた 2023』より)

- ア、2020年は総人口の3分の1以上が65歳以上である。
- イ、2040年における0～14歳の割合は11%以上と予測されている。
- ウ、2060年では総人口が1億人を下回ると予測されている。
- エ、2065年は2060年に比べて15～64歳の割合が高くなると予測されている。

[2]

次の文章は、朝学習で生徒が発表した内容を深める授業の様子を記したものです。それぞれの会話を読んで、以下の問いに答えなさい。

先生： 研くんは小学校の給食で、地元の食材を食べてもらう工夫をしている地域について発表しましたね。

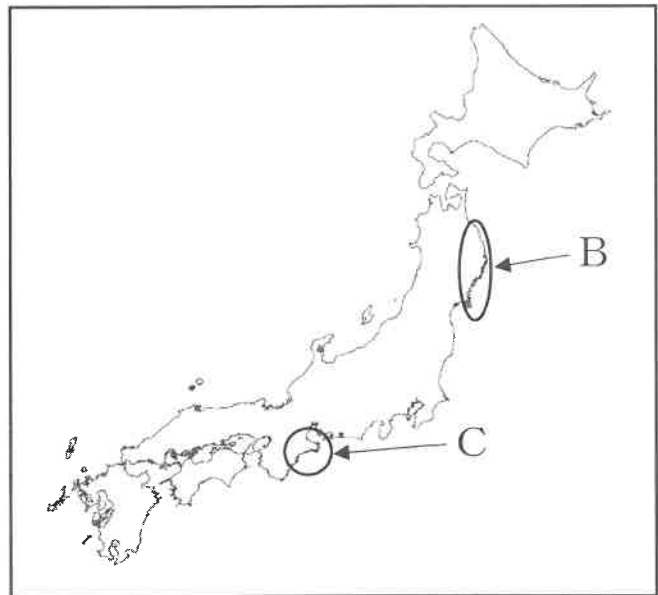
研くん： はい、そうです。給食で越前ガニが一人に丸ごと1杯出るといのはうらやましいと思いました。

先生： 越前とは福井県北部の古い言い方ですね。この福井県にある若狭湾は、山地が海面の上昇や地盤沈下で海中に落ち込み、残った陸地部分が複雑に入り組んだ海岸線をつくっています。㊦こうした海岸線は日本に何か所もありますが、いずれも豊富な魚類が獲れる漁場で、波が穏やかなので養殖業も盛んですね。

問7 下線部㊦に関して、【地図2】中のB・Cで示されている地域の名称と、そこでさかんに養殖されているものの組み合わせとして正しいものを以下のア～エから1つ選び記号で答えなさい。

- ア、B：三陸海岸・真珠
- イ、B：越前海岸・牡蠣
- ウ、C：大村湾・牡蠣
- エ、C：志摩半島・真珠

【地図2】



先生： 心さんは海外からの観光客が増えてきたことについて発表しましたね。

心さん： はい。以前の観光客は日本の物を買って帰ることに熱中していましたが、最近では体験や食事にお金を使う観光客が増えたということを発表しました。

研くん： この前、㊧観光客が来すぎてしまって、そこに住んでいる人たちが生活に不便を感じているということをニュースで見ました。

先生： たくさんの人が来てくれることはいいのですが、こういう状態は困りますね。

問8 下線部㊧のようなことを何と呼んでいますか。以下のア～エから1つ選び記号で答えなさい。

- ア、インバウンド
- イ、クラウドファンディング
- ウ、オーバーツーリズム
- エ、サステナブル

先生： 中さんは豪雨被害と少雨で農作物に影響が出ている地域があることを発表してくれました。

中さん： 私は令和5年の梅雨の終わりに豪雨被害が出た④島根県について発表しました。

先生： 8月には台風による豪雨と東海道・山陽新幹線のトラブルがあつて、旅行者に大きな影響がありました。

問9 下線部④について、①・②の問いに答えなさい。

①次のア～エの文章の中で、島根県について記したものを1つ選び記号で答えなさい。

ア、古くから人が住み着き、吉野ケ里遺跡などから当時の暮らしぶりを知ることができる。

みかんの栽培や有田焼に代表される焼き物づくりが盛んである。

イ、隠岐島や竹島もこの県に属している。大国主命をまつる出雲大社があり、宍道湖のしじみは日本有数の漁獲量を誇る。たたら製鉄が盛んに行われた地域でもある。

ウ、県の約75%を森林が占め、平野部を吉野川など豊かな水量の河川が多数流れている。

鳴門の渦潮も観光の目玉であり、強い潮流に育まれたわかめやタイが名産品である。

エ、古くは都が置かれ、観光業が盛んである。県の南部の険しい山地は雨量が多く、林業も盛んである。郷土料理の柿の葉寿司や書道で使う筆や墨の生産が有名である。

②島根県の県庁所在地を漢字で答えなさい。

先生： 最後に、学くんが発表した「日本で史上最も雪が積もった記録がある県」にはみんな驚いていましたね。

学くん： 発表しようとして調べたら、「日本」だけではなく「世界記録」だったことと、そこがそれほど雪が多いとは知らなかったのが意外で驚きました。⑦県だなんて。

先生： 11.82メートルの記録でしたね。そこはどうしてそんなに雪が降るのですか。

学くん： 北西の福井県側から入ってきた雪雲が、標高800～900メートル程度の山に勢力を保ったままぶつかるからでした。だから伊吹山のふもとに大雪が降るのです。

先生： この県では、豊かな雪解け水が多く、河川となって湖に流れ込み、古くから稲作が盛んでした。海はないものの湖の魚を食べる文化があります。湖は観光資源でもあり、古くは京都、大阪方面へ船で移動するための重要な交通路でもありました。この地を取ったものが天下を取るとして、織田信長が天守閣を備えた大きな城を作ったことでも有名ですね。

問10 ⑦にあてはまる県名を答えなさい。

2 次の〔1〕・〔2〕の文章を読んで以下の問いに答えなさい。

〔1〕

今年、2024年は新紙幣が20年ぶりに発行されて、現在使われているものからデザインが大きく変わります。現在、私たちが使っているお金（貨幣）には紙幣と硬貨があります。それでは、お金の歴史をふりかえってみましょう。

お金が生み出される前、人々は欲しいものがあるときには、自分の持っているものと欲しいものを取りかえる物々交換をしていました。④縄文時代に石器の材料となった黒曜石やサヌカイトといった特定の場所でしか産出されない石が全国各地で見ついているのも当時の人々が広い範囲で物々交換をしていた結果だと考えられています。

日本ではじめてつくられた貨幣は⑤飛鳥時代の「富本銭」だとされています。そののち、奈良に（ ③ ）京がつくられる2年前の西暦708年には「和同開珎」がつけられました。それから約250年の間に、あわせて12種類の銅銭（皇朝十二銭）がつけられましたが、その後の約600年間は日本で貨幣がつくられることはなく、中国から輸入した貨幣が使われていました。

都が現在の京都に移ってからのおよそ400年を⑥平安時代といいます。平安時代の前半に、日本と中国との正式な交流はなくなりましたが、両国を行き来する商人の活動は続いていました。

⑥平安時代の後半から鎌倉時代にかけては、中国を支配した宋との貿易で砂金を輸出し、かわりに宋の銅銭を輸入して日本国内で使っていました。

⑦室町時代になると、中国を支配した明と幕府との間で貿易が始まりました。銅銭は、ますます重要な輸入品となり、特に「永楽通宝」は、全国で流通していきました。この「永楽通宝」は⑧戦国時代に織田信長の旗印（戦場で目印として旗につけたマークや文字）のデザインとして用いられました。これは織田信長が経済や商業からの利益をととても重視していたことの表れだと言われています。

そして、天下を統一した⑨豊臣秀吉は金貨・銀貨をつくり、再び国産の貨幣が復活しました。しかしこの金貨・銀貨は主に褒美として用いられ日常的には流通しませんでした。

問1 下線部④について、縄文時代のくらしとして適切なものを以下のア～エから1つ選び記号で答えなさい。

- ア、律や令といった法律にもとづいた国づくりを進めようとしていた。
- イ、身分や貧富の差が生まれ、金属でできた武器を持つ支配者があらわれた。
- ウ、すぐれた文化を取り入れるため、海外へ使者が派遣されるようになった。
- エ、弓矢を使って狩りをしたり、木の実などをとって食料を得ていた。

問2 下線部⑤について、飛鳥時代の出来事として正しいものを以下のア～エから1つ選び記号で答えなさい。

- ア、蘇我馬子が法隆寺を建立した。
- イ、聖徳太子が御成敗式目を制定した。
- ウ、中大兄皇子らが蘇我氏をほろぼした。
- エ、聖武天皇が大仏を造立した。

問3 （ ③ ）にあてはまる語を漢字2字で答えなさい。

問4 下線部㊸について、この時代に活躍した人物が自己紹介をしている以下の文章を読み、それが誰のことであるかを答えなさい。

私の父は下級貴族でしたが、私は藤原道長の娘のひとりに仕えていました。親子ほど年の離れた男性と結婚しましたが、その男性はまもなく亡くなってしまいました。『源氏物語』は私の作品です。

問5 下線部㊸について、以下のア～ウの出来事を古いものから順にならべ記号で答えなさい。

ア、源頼朝が征夷大將軍になった。

イ、北条時宗が執権になった。

ウ、平清盛が太政大臣になった。

問6 下線部㊸について、室町時代に明で学び、帰国後、右のような水墨画を大成したのは誰か答えなさい。



問7 下線部㊸について、戦国時代の出来事として正しいものを以下のア～エから1つ選び記号で答えなさい。

ア、アメリカ人が種子島に鉄砲をもたらした。

イ、ザビエルが日本にキリスト教をつたえた。

ウ、足利義満が京都の北山に金閣を建てた。

エ、フビライの元軍が博多湾に攻めこんできた。

問8 下線部㊸について、豊臣秀吉のおこなったこととして正しいものを以下のア～エから1つ選び記号で答えなさい。

ア、明と戦うための案内をことわった朝鮮に出兵した。

イ、征夷大將軍に任命されて検地や刀狩を行った。

ウ、足利義昭を追放して室町幕府を滅ぼした。

エ、本能寺の変で織田信長にそむいて打ちたおした。

〔2〕

新紙幣の一万円札の肖像画には、明治から昭和にかけて活躍した実業家である渋沢栄一が選ばれました。㉞江戸幕府につかえ、パリ万博にも同行して、ヨーロッパの政治や経済について学びました。㉟明治時代に入ってからさまざまな制度・組織の設立などに関わった人物で「近代資本主義の父」ともよばれています。晩年は平和活動にも取り組み、ノーベル平和賞の受賞候補にもなりました。

五千円札の肖像画には、不平等条約の改正とヨーロッパやアメリカの政治や産業、社会の視察を目的とした（ 1 ）使節団とともに6歳でアメリカ合衆国にわたった津田梅子が選ばれました。帰国後には日本で女子教育の発展に力を尽くし、学校も設立した人物です。このように近代には教育や㉟文学などの分野で活躍する女性が登場してきました。

千円札の肖像画には、「近代日本医学の父」ともよばれる、北里柴三郎が選ばれました。明治時代に（ 2 ）するなど、大きな業績を残した人物です。現在の千円札に描かれている（ 3 ）は、北里柴三郎が所長をつとめる研究室で研究をしていたことがありました。

問 9 下線部㉞に関連した出来事についての説明として誤っているものを以下のア～エから1つ選び記号で答えなさい。

- ア、徳川家康は長篠の戦いで石田三成を打ちたおして江戸幕府を開いた。
- イ、徳川家光は大名が領地と江戸を往復する参勤交代の制度をつくりあげた。
- ウ、徳川吉宗は幕府の財政難を立て直すため享保の改革を行った。
- エ、徳川慶喜は政権を朝廷に返す大政奉還を行い、江戸幕府は滅んだ。

問 10 下線部㉟の出来事についての説明として誤っているものを以下のア～エから1つ選び記号で答えなさい。

- ア、政治の基本方針を定めた五箇条の御誓文が、天皇が神々に誓う形で発表された。
- イ、男性女性の区別なく国民全員に兵役の義務を負わせる徴兵令が出された。
- ウ、国民が政治に参加する権利を確立することを目指した自由民権運動が起こった。
- エ、東アジアでのロシアの勢力拡大を警戒して、日本とイギリスが日英同盟を結んだ。

問 11 下の【写真1】は文中の（ 1 ）使節団の代表となった人々が写っています。文中の（ 1 ）に入るものを以下のア～エから1つ選び記号で答えなさい。

【写真1】

- ア、木戸
- イ、伊藤
- ウ、岩倉
- エ、大久保



問 12 下線部㊸に関連して、歌人・詩人として知られるこの女性は戦場の弟を思い、以下のよ
うな戦争に反対する詩を発表した。その時の戦争とこの詩の作者である女性の名前を正し
く組み合わせているものを以下のア～エから1つ選び記号で答えなさい。

「君死にたまふことなかれ」

あゝをとうとよ、君を泣く、
君死にたまふことなかれ、
末に生れし君なれば
親のなさはまさりしも、
親は刃をにぎらせて
人を殺せとをしへしや、
人を殺して死ねよとて
二十四までをそだてしや。

ア、西南戦争・樋口一葉

イ、日露戦争・樋口一葉

ウ、西南戦争・与謝野晶子

エ、日露戦争・与謝野晶子

問 13 文中の（ 2 ）と（ 3 ）に入る言葉と人名として正しいものの組み合わせを以下
のア～エから1つ選び記号で答えなさい。

ア、（ 2 ）破傷風を予防・治療する方法を開発

（ 3 ）川端康成

イ、（ 2 ）『解体新書』を出版

（ 3 ）川端康成

ウ、（ 2 ）破傷風を予防・治療する方法を開発

（ 3 ）野口英世

エ、（ 2 ）『解体新書』を出版

（ 3 ）野口英世

3 次の文章を読んで以下の問いに答えなさい。

2023年5月19日から21日にかけて、日本でG7サミットが開かれました。G7サミットには、日本を含む主要7か国の首脳と、㉔ヨーロッパ連合の代表が参加しました。

今回のサミットでは、㉓国際連合のとなえる「持続可能な開発」の目標をふまえた気候・エネルギー問題、そしてウクライナ情勢などが主要な議題となりました。サミットを終えて、岸田文雄㉑内閣総理大臣は、「議長国としてG7メンバーと㉒核戦争は決して戦ってはならないことを確認できた」と成果を述べました。新聞各紙は、サミットの成功を追い風として、近く㉕衆議院の総選挙が行われるのではないかと報道しました。

問1 下線部㉔をアルファベット2文字の略称で表しなさい。

問2 下線部㉓に関連して、国際連合の主要機関のうち、世界の平和と安全を維持するために活動しているのが安全保障理事会である。安全保障理事会の常任理事国5か国を正しく示したものはどれか。以下のア～エから1つ選び記号で答えなさい。

- ア、アメリカ・イギリス・フランス・ドイツ・中国
- イ、アメリカ・フランス・ロシア・ドイツ・日本
- ウ、アメリカ・イギリス・ロシア・ドイツ・日本
- エ、アメリカ・イギリス・フランス・ロシア・中国

問3 下線部㉑に関連して、内閣について説明した文として誤りのあるものを、以下のア～エから1つ選び記号で答えなさい。

- ア、内閣は、国会がつくった法律が憲法に違反していないか審査する。
- イ、内閣は、最高裁判所長官の指名とその他の裁判官の任命をする。
- ウ、内閣は、不信任決議案が可決されたら10日以内に衆議院を解散するか総辞職する。
- エ、内閣は、天皇の国事行為に対して助言と承認を行う。

問4 下線部㉒に関連して、日本国憲法は平和主義を基本方針の1つとしている。平和主義に関する以下の条文は日本国憲法の第何条か。解答欄にあてはまるように答えなさい。

- ① 日本国民は、正義と秩序を基調とする国際平和を誠実に希求し、国権の発動たる戦争と、武力による威嚇または武力の行使は、国際紛争を解決する手段としては、永久にこれを放棄する。
- ② 前項の目的を達するため、陸海空軍その他の戦力は、これを保持しない。国の交戦権は、これを認めない。

問5 下線部㉕に関連して、2023年12月現在の衆議院議員選挙の選挙年齢（選挙で投票できるようになる年齢）と被選挙年齢（議員に立候補できるようになる年齢）の組み合わせとして正しいものを以下のア～エから1つ選び記号で答えなさい。

- ア、選挙年齢：18歳 被選挙年齢：25歳
- イ、選挙年齢：20歳 被選挙年齢：25歳
- ウ、選挙年齢：18歳 被選挙年齢：30歳
- エ、選挙年齢：20歳 被選挙年齢：30歳

2024年度中学校入試問題 社会科 解答用紙

受験番号		氏名		第1回	得点	
------	--	----	--	-----	----	--

1

問1		問2		問3	
問4		問5		問6	
問7		問8		問9 ①	②
問10					

2

問1		問2		問3		京	
問4				問5	→	→	
問6				問7		問8	問9
問10		問11		問12		問13	

3

問1		問2		問3	
問4	第	条	問5		