

2022年度

# 目白研心中学校入学試験問題

【 第1回 】

社 会

<注 意>

- (1) 時間は社会・理科あわせて60分です。
- (2) 問題用紙は1ページから6ページまであります。最初に確認  
しなさい。
- (3) 問題は1から3まであります。答えはすべて解答用紙に記入  
しなさい。
- (4) 筆記用具はHBの鉛筆かシャープペンシルと消しゴムを用意  
しなさい。
- (5) 解答は特に漢字で答えなさいとある場合以外はひらがなで答  
えてもよい。

受 験 番 号		氏 名	
------------------	--	--------	--

1 以下の【1】・【2】の問題に答えなさい。

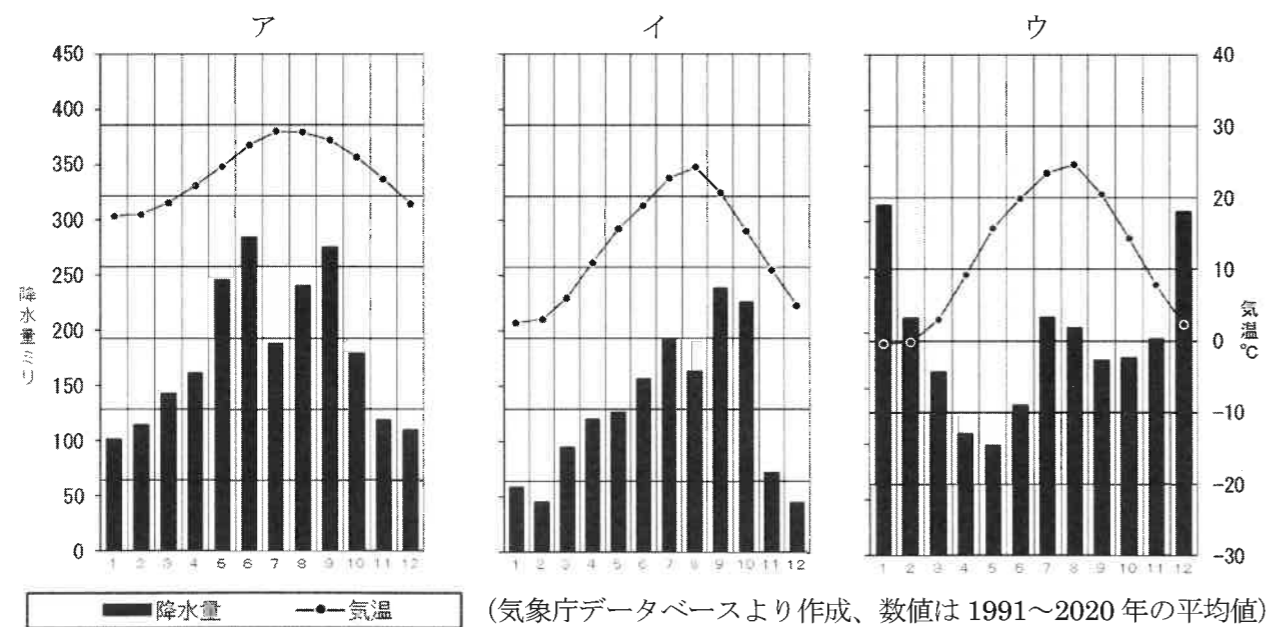
【1】

2021年7月から8月にかけて東京オリンピックが開催されました。東日本大震災から10年目の年に開催されたこのオリンピックでは、震災時の避難所や原子力発電所事故の国の対応拠点となった④福島県浜通り地区にあるJヴィレッジを聖火リレーのスタート地点としました。東京オリンピックではさまざまな競技を行うため、東京都だけでなく、①神奈川県、千葉県、茨城県、⑤静岡県などの近隣県も会場に指定されました。また、暑さを避けるため、マラソンと競歩の競技会場には②北海道札幌市が選ばれました。



問1 下線部④について以下の問いに答えなさい。

- ① 下線部④の場所を右の<地図1>中のア～エから1つ選び記号で答えなさい。
- ② 下線部④の地域の雨温図として最もふさわしいものを以下のア～ウから1つ選び記号で答えなさい。



問2 下線部④に関連して、東京都と神奈川県にまたがる工業地帯は何か。漢字で答えなさい。

問3 下線部④に関連して、静岡県内を流れる川はどれか。以下のア～エから1つ選び記号で答えなさい。

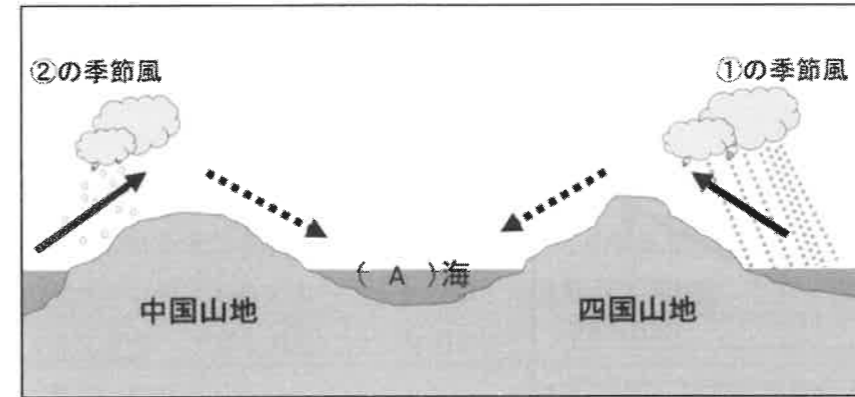
- ア、木曾川
- イ、天竜川
- ウ、利根川
- エ、信濃川

問4 下線部④に関連して、右の<写真1>は北海道を中心とする日本列島北部に暮らす日本の先住民族を写したものである。この先住民族は何と呼ばれるか答えなさい。



【2】

<図1>



上の<図1>は、中国・四国地方の断面をあらわしたものです。

中国山地と四国山地にはさまれた(A)海では、夏には①の季節風が、冬には②の季節風がそれぞれ山地を越えることで雨を降らせ、③風となることから、1年を通して晴天の日が多いことが知られます。この気候を活かして(A)海沿岸では果樹栽培がさかんにおこなわれています。

日本海側の地域(山陰地方)では、冬には②の季節風により雨や雪が多くもたらされます。そのためこの地域にある出雲大社では、冬になると社殿に雪が積もった光景を見ることがもできます。

四国山地の南側は南四国とよばれます。四国山地は周囲を流れる川が深い谷をつくっているため、けわしい山地であることが特徴的です。夏には①の季節風により多く雨が降ります。

問5 ①～③にあてはまる語句の組み合わせとして正しいものを以下のア～エから1つ選び記号で答えなさい。

- ア、① - 南東 ② - 北西 ③ - 乾いた
- イ、① - 南東 ② - 北西 ③ - 湿った
- ウ、① - 北西 ② - 南東 ③ - 乾いた
- エ、① - 北西 ② - 南東 ③ - 湿った

問6 (A)にあてはまる語句を答えなさい。

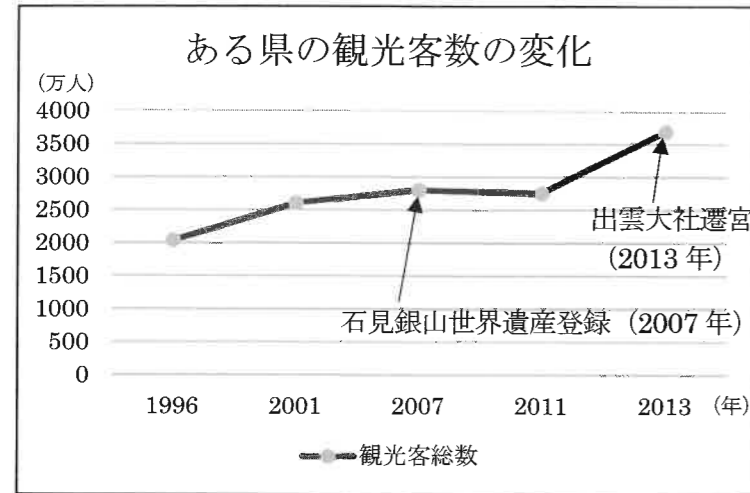
問7 下線部④について、以下の表はある果実の年間収穫量と全国生産量に対する割合をあらわしたものである。この表が示す果実としてふさわしいものを以下のア～エから1つ選び記号で答えなさい。

順位	都道府県	収穫量(トン)	割合(%)
1	広島県	4,790	58.0
2	愛媛県	1,897	23.0
3	和歌山県	580	7.0
4	熊本県	247	3.0
5	宮崎県	133	1.6

(データは農林水産省資料より)

- ア、梅
- イ、なし
- ウ、りんご
- エ、レモン

問8 下線部④について、以下のグラフは出雲大社がある県の観光客数の推移を表したものである。  
この県の県名を答えなさい。



(データは該当の県の観光動態調査より)

問9 下線部⑤について、以下の<地図2>の X 川の名称と、川の流れの向きの組み合わせとして正しいものを以下のア～エから1つ選び記号で答えなさい。

<地図2>



- |          |            |
|----------|------------|
| ア、X-四万十川 | 川の流れ-①から②へ |
| イ、X-四万十川 | 川の流れ-②から①へ |
| ウ、X-吉野川  | 川の流れ-①から②へ |
| エ、X-吉野川  | 川の流れ-②から①へ |

2 以下の【1】・【2】の問題に答えなさい。

【1】以下の文章を読んで問いに答えなさい。

① 私は、現在の千葉県で、漁師の子として生まれました。比叡山延暦寺をはじめ、いくつかの寺で修行をする中で、法華経こそが最高の経典であるとし「南無妙法蓮華経」と唱えて仏の教えを信じるのみが、救われる道だと説きました。幕府にも、この教えを信じないと日本に大変なことが起こる、と伝えたのですが、受け入れてもらえませんでした。しかしその後、私が予言した通り、⑥モンゴルの兵が日本に攻めてきて、大変な混乱になったのです。

② 私は、私のあとをつぐ子がいなかったので弟を養子にしましたが、その後まもなく子どもが生まれたのです。妻は子どもを将軍にしたいと実力者を味方につけたので、弟もそれに対抗したのです。あとつぎ争いが起こっていた他の武将も巻き込んで、11年にもわたる争いになってしまいました。この争いは応仁の乱と呼ばれています。この後に私は、⑦京都の東山という地域に別荘を建てましたが、戦乱によって京都は焼け野原になってしまいました。

③ 私は、寺院の勢力が強くなりすぎたことや新たな気持ちで政治をすることを目的に、およそ70年余り続いた都を新しい都に移しました。この都は一時的に他の場所へ動いたこともあるものの、1000年あまり続けました。私が政治をしていた時期には、⑧現在の東北地方のあたりに政府に従わない人々がいたので、坂上田村麻呂を征伐に行かせました。

問1 ①②③の私とはだれですか。以下からそれぞれ選び、記号で書きなさい。

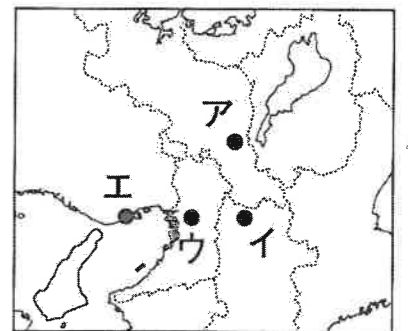
- |          |        |        |         |
|----------|--------|--------|---------|
| ① ア、空海   | イ、鑑真   | ウ、雪舟   | エ、日蓮    |
| ② ア、平清盛  | イ、足利義政 | ウ、源頼朝  | エ、北条時政  |
| ③ ア、天武天皇 | イ、推古天皇 | ウ、桓武天皇 | エ、後醍醐天皇 |

問2 文中の下線部④⑤⑥をそれぞれ何といいますか。④は攻めてきた事件の名前、⑤は別荘の名前、⑥は人々の呼び名を答えなさい。

問3 ①②③を時代の古い順に並べ直し、番号を解答欄に入れなさい。

問4 ⑦新しい都の位置を右の<地図3>から選び記号で答えなさい。

<地図3>



【2】 以下の文章を読んで問いに答えなさい。

2022年では日本と中国との国交が正常化して50周年になります。日本と中国は古代から密接な結びつきを持っていますが、一方でたびたび戦いをくり返してきました。天下統一を成しとげたAは中国(明)を征服しようと2度にわたって日本から朝鮮半島に軍を送りましたが、Aの病死により戦いは途中で終結しました。その後中国におこった清と江戸幕府は、外国船の出入りが許されたBの港を通じて鎖国中も貿易を行いました。しかし、明治時代になると、朝鮮半島へ勢力をのばそうとする日本と清との間で日清戦争がおこりました。清が減んだあとにおこった中華民国とも日中戦争が発生しています。この戦争は決着がつかないまま第二次世界大戦へと拡大し、15年にもわたる長い戦いとなってしまいました。現在は日中の間で平和友好条約が結ばれており、人の行き来もさかんです。両国の文化的・経済的な結びつきが今後ますます深まることが期待されています。

問5 Aの人物が行ったこととしてふさわしいものはどれか。以下のア～エから1つ選び記号で答えなさい。

- ア、城下町でだれでも自由に商売することを認める楽市・楽座をはじめた。
- イ、各地の田畑の広さや土地の良しあしを調べる太閤検地を行った。
- ウ、全国に一国一城令を發布して大名から余分な軍事力をうばった。
- エ、町人や百姓の意見を政治に取り入れるため目安箱を設置した。

問6 Bにあてはまる地名としてふさわしいものを以下のア～エから1つ選び記号で答えなさい。

- ア、下田                      イ、堺                      ウ、横浜                      エ、長崎

問7 下線部②を始めたのは、参勤交代の制度を武家諸法度に追加した将軍である。この将軍とはだれか。漢字で答えなさい。

問8 下線部③に勝利して獲得した賠償金を用いて、日本は1901年に官営の製鉄工場をつくりました。これについて以下の問いに答えなさい。

- ① この工場の名前を答えなさい。
- ② この工場が置かれた場所はどこか。

右の<地図4>中のア～エからふさわしいものを1つ選び記号で答えなさい。

問9 下線部④が終結したのはいつか。以下のア～エから最もふさわしい日付を1つ選び記号で答えなさい。

- ア、1941年8月6日
- イ、1941年8月15日
- ウ、1945年8月6日
- エ、1945年8月15日



【3】 以下の文章を読んで問いに答えなさい。

日本における三権分立は、⑥国会・⑦内閣・⑧裁判所の三つの機関によって権力の集中を防ごうとする制度です。

国会は日本国憲法で「国権の最高機関」と定められており、衆議院と(1)から構成されます。内閣は内閣総理大臣とその他の(2)大臣で組織される国の政治を行う機関です。

また、裁判所は公平な裁判を通じて、憲法で保障されている私たちの権利や自由を守る役割を担う重要な機関です。⑨日本の裁判所は国会との関係で、法律が憲法に違反していないかどうかを判断する権限をもっています。

問1 文中の(1)・(2)にあてはまる語句をそれぞれ漢字で答えなさい。

問2 下線部⑥について、日本の国会についての説明として誤っているものを以下のア～エから1つ選び記号で答えなさい。

- ア、国会議員の中から内閣総理大臣を指名する。
- イ、国の法律を制定する。
- ウ、外国との条約を締結する。
- エ、裁判官を裁く裁判所を設置する。

問3 下線部⑦について、憲法に明記されている内閣が総辞職しなければならない場合として誤っているものを以下のア～エから1つ選び記号で答えなさい。

- ア、内閣不信任案が衆議院で可決され、10日以内に内閣が衆議院を解散しなかった場合。
- イ、衆議院総選挙が行われた後、初めて国会が召集される場合。
- ウ、内閣総理大臣が欠けた場合。
- エ、天皇が退位し、新天皇が即位した場合。

問4 下線部⑧について、日本の裁判所についての説明として正しいものを以下のア～エから1つ選び記号で答えなさい。

- ア、最高裁判所の長官は内閣によって任命される。
- イ、裁判の結果に不服があるときは、同じ事件について3回まで裁判を受けることができる。
- ウ、下級裁判所とは、高等裁判所、地方裁判所、家庭裁判所の3種類である。
- エ、裁判の種類は大きく分けて、民事裁判と家庭裁判がある。

問5 下線部⑨について、このような権限を何といいますか。漢字で答えなさい。

2022年度中学校入試問題 社会科 解答用紙

受験番号			氏名			第1回	得点		

1

問1	①		②		問2					
問3			問4							
問5			問6				問7			
問8				問9						

2

問1	①		②		③							
問2	あ				い							
	う				問3	→			→			
問4			問5			問6			問7			
問8	①				②			問9				

3

問1	(1)				(2)					
問2			問3			問4				
問5										