

1 以下の文章を読んで問いに答えなさい。

今年の夏に東京オリンピック・パラリンピックが開催されます。これまで日本でのオリンピック開催は、夏季大会は④ 1964年の東京大会、冬季大会は1972年の札幌大会、1998年の⑤ 長野大会と計3回ありました。

今大会の各競技の会場は、都市部を中心にまとめられており、海外からの観光客も、⑥ 空港から首都圏の会場へスムーズにアクセスができます。

また東京では、⑦ 猛暑日や熱帯夜などの夏の暑さが課題となっており、大会中の暑さへの対策が議論されています。

問1 下線部④について、この時の元号を、漢字2字で答えなさい。

問2 下線部⑤について、長野県にある、電子機械工業の盛んな地域を以下のア～エの中から1つ選び、記号で答えなさい。

ア、諏訪      イ、市原      ウ、浜松      エ、豊田

問3 下線部⑥について、以下の表は国内の主な空港の乗降客数をあらわしたものである。表の A に当てはまる地名を漢字で答えなさい。

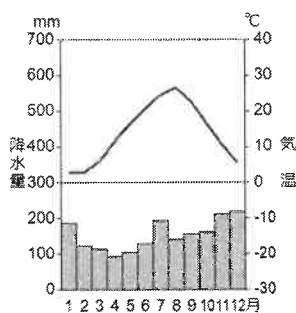
空港名	国内線	国際線	合計
東京国際空港	6937	1767	8734
A 国際空港	725	3343	4068
関西国際空港	650	2233	2883
中部国際空港	613	589	1202

単位は万人

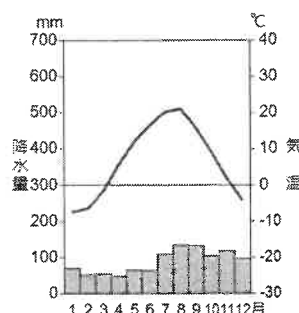
(平成30年度国土交通省統計より)

問4 下線部⑦について、以下の(1)・(2)の問いに答えなさい。

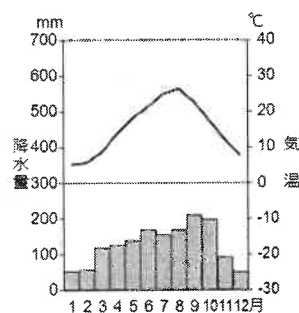
(1) 東京の雨温図としてふさわしいものを、以下のア～エの中から1つ選び、記号で答えなさい。



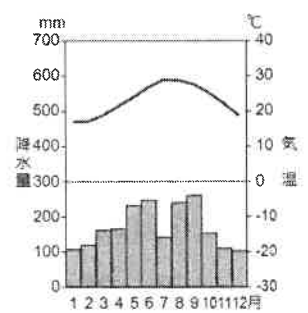
ア



イ



ウ



エ

(2) 都市部で夜になっても気温が下がらない現象のことを以下のア～エの中から1つ選び、記号で答えなさい。

- ア、エルニーニョ現象                      イ、ヒートアイランド現象  
ウ、ドーナツ化現象                        エ、フェーン現象

2003（平成15）年、ユネスコ総会で「無形文化遺産の保護に関する条約」が結ばれ、条約を結んだ178の国は、指定された自国の無形文化遺産の保護を義務付けられることになりました。

㊦ 南北に長く四季が明瞭な日本には、㊧ 多様で豊かな自然があり、そこで生まれた食文化もまた、これに寄り添うように育まれてきたことから、㊨ 「和食－日本人の伝統的な食文化－」も無形文化遺産に登録されました。

現在日本からは「和食」を含め、㊩ 21の無形文化遺産が登録されています。

問5 下線部㊦に関連して、以下の①～④の正しい内容の組み合わせを以下のア～エの中から1つ選び、記号で答えなさい。

- ① 日本の領域は、東西よりも南北の方が距離は長い。  
② 日本の領域は、南北よりも東西の方が距離は長い。  
③ 日本の最南端は、南鳥島である。  
④ 日本の最西端は、与那国島である。

- ア、①と③              イ、①と④              ウ、②と③              エ、②と④

問6 下線部㊧に関連して、次の文はいずれかの都道府県を説明しています。その都道府県を漢字で答えなさい。

ここは日本最大の半島の西側に位置し、中央部には南西から北東に山地が走ります。並行していくつもの山々が並び、面積のおよそ8割が深い森を有する山地で、古くから林業が盛んでした。現在では温暖な気候を利用した果樹栽培も盛んで、全国に出荷されています。

この地の気候は南北で大きく異なります。北部は年間を通じて天気や湿度が安定し、夏の降水量が少ないという特色があります。一方、南部は台風の影響を受けやすく、年間降水量が4000mmを超える極めて降水量の多い地域もあります。日照時間が長く、冬は暖かい傾向もみられます。

山が多いためそこから流れ出す川も多く、海に流れ込みます。この海はマグロやカツオなど、黒潮に運ばれた魚が獲れる豊かな漁場として知られます。

日本政府は国際捕鯨委員会（IWC）から脱退し、昨年（2019年）商業捕鯨が再開されました。捕鯨が盛んなことで知られる町を有し、この地ではクジラ料理の文化が根付いています。

問7 下線部㊨に関連して、米の生産高をあらわすものを以下のア～エの中から1つ選び、記号で答えなさい。

	ア	イ	ウ	エ
1位	新潟	新潟	北海道	北海道
2位	北海道	静岡	鹿児島	長崎
3位	秋田	福岡	宮崎	鹿児島
4位	山形	長野	熊本	茨城
5位	宮城	北海道	岩手	千葉

『日本のすがた2019』「野菜情報」より

問8 下線部㊩の中から和食以外の無形文化遺産について質問します。下の写真は、「来訪神－仮面・仮装の神々－」という文化遺産です。秋田県の一部地方の年中行事で、正月に家々を訪れ、新たな年を迎えるに当たって、怠け者を叱ったり人々に幸いや福をもたらしたりするこの神を何と言いますか。ひらがな4文字で答えなさい。



「勇鹿市」ホームページより

昨年（2019年）の9月から11月まで、日本はアジアでは初めてのラグビーワールドカップの開催国となりました。12の会場に分かれて試合がおこなわれましたが、エリア別でみると九州が最も多く、3会場が使われました。

問9 以下の文は、上の文中に出てくる九州地方についてまとめたものです。下線の引いてある5カ所の中に、1カ所誤りがあるので、その記号を書き出し、正しい語に直しなさい。

（完答）

九州地方は山、特に火山が多く、長崎県の雲仙岳、ア 熊本県の阿蘇山、鹿児島県の桜島などが有名です。特に九州南部の土壌は火山灰が積もり、イ シラス台地と呼ばれています。火山が多いことから温泉も多く、毎年多くの観光客が九州旅行を楽しみます。また火山の熱を利用した、ウ 火力発電の開発も盛んです。

暖流の影響で気候は温暖です。秋には台風の通り道になりやすく、降水量が多いことが特徴です。これらの気候を生かした農業では、ピーマンやキュウリのエ 促成栽培が盛んです。

第二次世界大戦前まで、北九州では製鉄業や石炭産業などの重化学工業が盛んだったことを受け、大戦後には北九州工業地帯が形成されました。しかし、1950年代に化学工業の工場排水が原因となって、熊本県ではオ 水俣病が問題化するなど、社会問題も起こりました。

2 以下の文章、【A】・【B】・【C】を読んで、それぞれの問いに答えなさい。

【A】

メジ子：この前お兄ちゃんが、お店でスマートフォンを利用して会計していたの。現金を使っ  
ていなくて驚いたわ。

ジロー：2024年に、新紙幣発行だね。日本のお金の歴史ってどうなっているのかな？

メジ子：貨幣博物館に行ったので、その時の資料があるわ。日本では㉔ 8世紀に「和同開珎」  
を作ったのよ。

ジロー：同じころ、㉕ 税の制度も整えられるようになるね。

メジ子：ところが、お金が小さくなって質が悪くなる10世紀半ば以降には、米や布がお金とし  
て使われるようになるの。

ジロー：㉖ 鎌倉時代には中国のお金で使用されて、各地の市がにぎわうようになるよね。

メジ子：鉱山技術が向上すると、日本でも金山・㉗ 銀山が開発され、金貨・銀貨が作られる  
わ。

ジロー：その代表例が豊臣秀吉の作った貨幣だよ。ずっと㉘ 中国のお金を使っていた日本  
では、ひさびさの日本人が作ったお金だね。

メジ子：㉙ 江戸幕府によって全国統一の貨幣が流通すると、お金の流れがスムーズになり、  
明治時代になると、銀行が作られて紙幣が発行されていくわ。

ジロー：その時代によって「お金」として使われるものが違うんだね。

メジ子：お金の形は変化しているけど、お金の大切さは変わっていないよ。

問1 下線部㉔について、このころの日本を説明した文章として正しいものを以下のア～エの  
中から1つ選び、記号で答えなさい。

ア、西日本から米づくりが始まり、むらとむらとの間で争いが起こるようになった。

イ、平城京で伝染病が流行し、各地で災害や反乱が起こり社会に不安が広がった。

ウ、平氏一族が朝廷の中で重要な職につき、強い力を持つようになった。

エ、卑弥呼が治めていた邪馬台国が中国に使いを送り、おくり物をした。

問2 下線部㉕について、このころの税について述べたものとして誤っているものを以下の  
ア～エの中から1つ選び、記号で答えなさい。

ア、土地の価格の約3%を現金で納める年貢。

イ、収穫高の約3%を米で納める租。

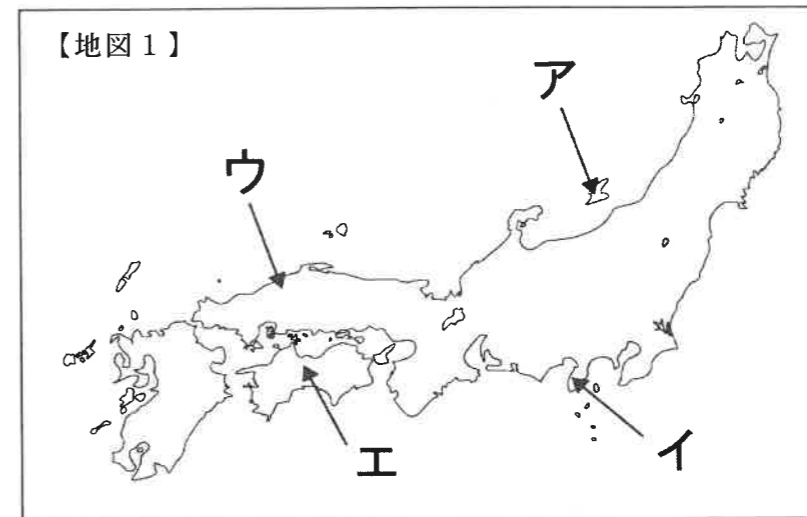
ウ、織物や地方の特産物を納める調。

エ、年間に10日間労働する代わりに布を納める庸。

問3 下線部㉖について、以下の鎌倉時代に起きた出来事について述べた文章を読んで、  
( 1 )に当てはまる人物の名前を漢字で答えなさい。

元は、日本に使者を送って、元に従うよう求めました。執権の( 1 )はこの  
要求を退け、九州の守りを固めました。武士たちと元軍とは激しい戦いになり、元  
軍は大きな損害を受けて大陸に引きあげました。

問4 下線部㉗について、16世紀ごろから銀を産出し、2007年に世界遺産に登録された石見  
銀山の場所としてふさわしいものを、下の【地図1】中のア～エの中から1つ選び、記  
号で答えなさい。



問5 下線部㉘について、中国のお金を中心に使用していた11世紀から15世紀の間に建てら  
れた建築物とその説明として正しいものを以下のア～エの中から1つ選び、記号で答え  
なさい。

ア、徳川家康が鎌倉に法隆寺を建てた。

イ、足利義満が京都に金閣を建てた。

ウ、源頼朝が江戸に日光東照宮を建てた。

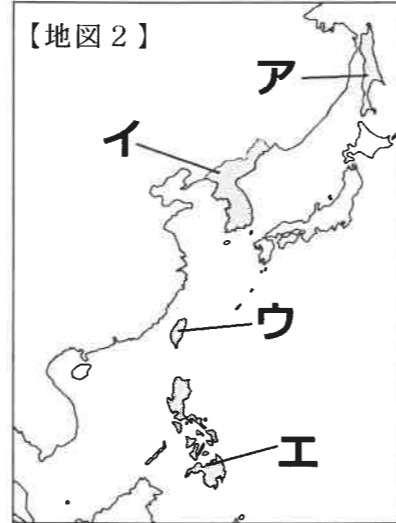
エ、桓武天皇が飛鳥に東大寺を建てた。

問6 下線部㉙について、江戸幕府は全国約260の大名が幕府にそむかないよう、いろいろな  
支配の方法を工夫し、特に大名の配置には気をつけました。このうち、関ヶ原の戦い以  
後に徳川氏に従い、江戸から遠い場所に配置された大名を何というか答えなさい。

【B】

2019年7月に「百舌鳥・古市古墳群」が大阪初の世界遺産となりました。現在の大阪市周辺は15世紀ころから「大坂」とよばれるようになりました。安土桃山時代には③ 豊臣秀吉が大阪城を建てました。江戸時代には大阪は「天下の台所」と呼ばれ流通の中心地として栄えましたが、④ 19世紀前半に大ききんがおきたときには、大阪町奉行所の役人だった大塩平八郎が武力で幕府に反抗しました。

問7 下線部③の人物は全国統一後、海外に向けて大軍を送りました。このとき軍が派遣された地としてふさわしいものを、右の【地図2】中のア～エの中から1つ選び、記号で答えなさい。



問8 下線部④のときの元号は何ですか。以下のア～エの中から1つ選び、記号で答えなさい。  
ア、享保      イ、寛政      ウ、天保      エ、安政

【C】

いまから100年前の1920年に⑤ 国際連盟が設立されました。そのころの日本は、第一次世界大戦中の好景気が終わって深刻な不景気にみまわれていました。そうしたなかで戦前から盛り上がりを見せた⑥ デモクラシーの雰囲気とともに⑦ 社会的に弱い立場にあった人々が権利を獲得するため団結して運動をおこしました。

問9 下線部⑤の本部はジュネーブに置かれました。ジュネーブはどこの国の都市ですか。以下のア～エの中から1つ選び、記号で答えなさい。  
ア、アメリカ      イ、フランス      ウ、ドイツ      エ、スイス

問10 下線部⑥を、吉野作造はどのように訳しましたか。漢字4字で答えなさい。

問11 下線部⑦に関して、1920年には新婦人協会が設立されました。この団体の設立者の一人で、下記の【史料】の文章を発表したことで知られる人物は誰か答えなさい。

【史料】 元始、女性は実に太陽であった。真正の人であった。今、女性は月である。他に依って生き、他の光によって輝く、病人のような蒼白い顔の月である。

③ 以下の文章を読んで問いに答えなさい。

アメリカ南北戦争において北側を主導し、奴隷解放宣言を行った第16代アメリカ合衆国大統領(1)は、「(2)の(2)による(2)のための政治」という言葉を残しました。日本をはじめ、世界の多くでは民主主義の考え方を基本にして国や地方の政治のあり方を決めています。

地域の住民が自分たちの代表を選んで、その地域の政治を自分たちの手で行うことを地方自治といい、この政治を行う団体のことを⑧ 地方公共団体といいます。地方の政治を行う機関として、⑨ 国の法律とは別に(3)の制定や予算を決定する地方議会と、⑩ 首長が重要な役割を果たしています。

問1 文章中の(1)に入る人物名と(2)に入る語句を答えなさい。  
なお、(2)は漢字2字で答えなさい。

問2 文章中の(3)に入る語句として正しいものを以下のア～エの中から1つ選び、記号で答えなさい。  
ア、政令      イ、条例      ウ、条約      エ、省令

問3 下線部⑧について、以下のア～オの中から地方公共団体の仕事ではないものを2つ選び、記号で答えなさい。  
ア、図書館や公民館を設置し、運営する。  
イ、政治や法律が憲法に違反していないかどうかを審査する。  
ウ、家庭からでるゴミの収集・処理をする。  
エ、上下水道を整備し、管理する。  
オ、手紙やハガキなどの郵便物を届ける仕事をする。

問4 下線部⑨について、日本の唯一の立法機関の名称を答えなさい。

問5 下線部⑩について、都道府県知事の被選挙権が得られるのは満何歳以上か。以下のア～エの中から1つ選び、記号で答えなさい。  
ア、18歳      イ、20歳      ウ、25歳      エ、30歳

2020年度中学校入試問題 社会科 解答用紙

受験番号		氏名		第1回	得点	
------	--	----	--	-----	----	--

1

問1			問2			問3			
問4	(1)		(2)			問5			
問6			問7			問8			
問9	記号		正しい語						

2

問1		問2		問3				
問4		問5		問6				
問7		問8		問9				
問10				問11				

3

問1	(1)		(2)		
問2		問3		と	
問4			問5		