

1 以下の文章を読んで問いに答えなさい。

日本列島は、8つの地方に区分されることがあります。また日本列島には、北海道・本州・四国・九州のような大きな島や、南西諸島・伊豆諸島・小笠原諸島などその他多くの島があります。

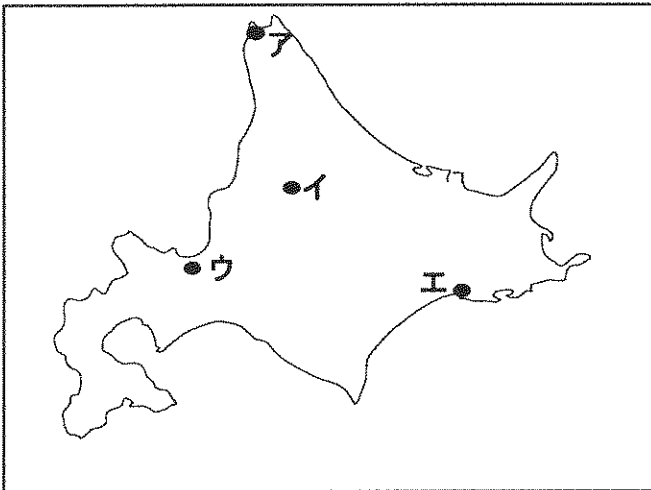
北海道の㉔ 道庁が置かれている都市は人口が約 196 万人おり、全国的に見ても大都市となっています。しかし、去年の9月に胆振地方で起こった地震により、この大都市も被害を受けました。

㉕ 東北地方は、奥羽山脈によって太平洋側と日本海側に分けられています。また、夏の季節風は東北地方の太平洋側に冷害をもたらすことがあります。

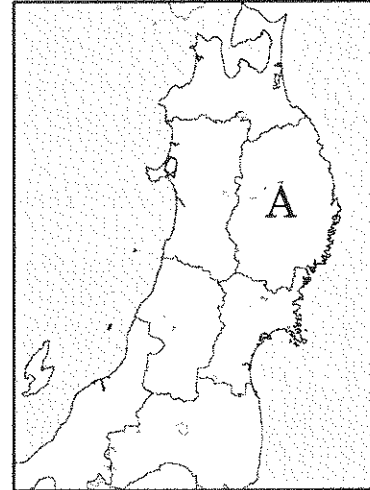
関東地方は、日本のほぼ中央に位置し、東京都をはじめ、神奈川県・埼玉県・㉖ 千葉県などの都・県があります。北部と西部は山地をなし、中央部には㉗ 関東平野が広がっています。

中部地方は、関東地方と近畿地方の中間に位置し、日本海側には新潟県・石川県・㉘ 福井県などの県があります。また中部地方はさらに北陸地方・中央高地地方・東海地方の3地方に区分することができます。中央高地地方には、「日本アルプス」があり、3000m級の山々が連なっています。

【地図1】



【地図2】



問1 下線部㉔について、道庁所在地の位置を上【地図1】から1つ選び、記号で答えなさい。

問2 下線部㉖について、上の【地図2】中のAの県名を漢字で答えなさい。

問3 下線部㉘について、以下の農産物の組み合わせ表から千葉県をあらわすものをア～エから1つ選び、記号で答えなさい。なお、表の中のア～エにあげられている農産物は、その県での生産量が全国1位のものであります。

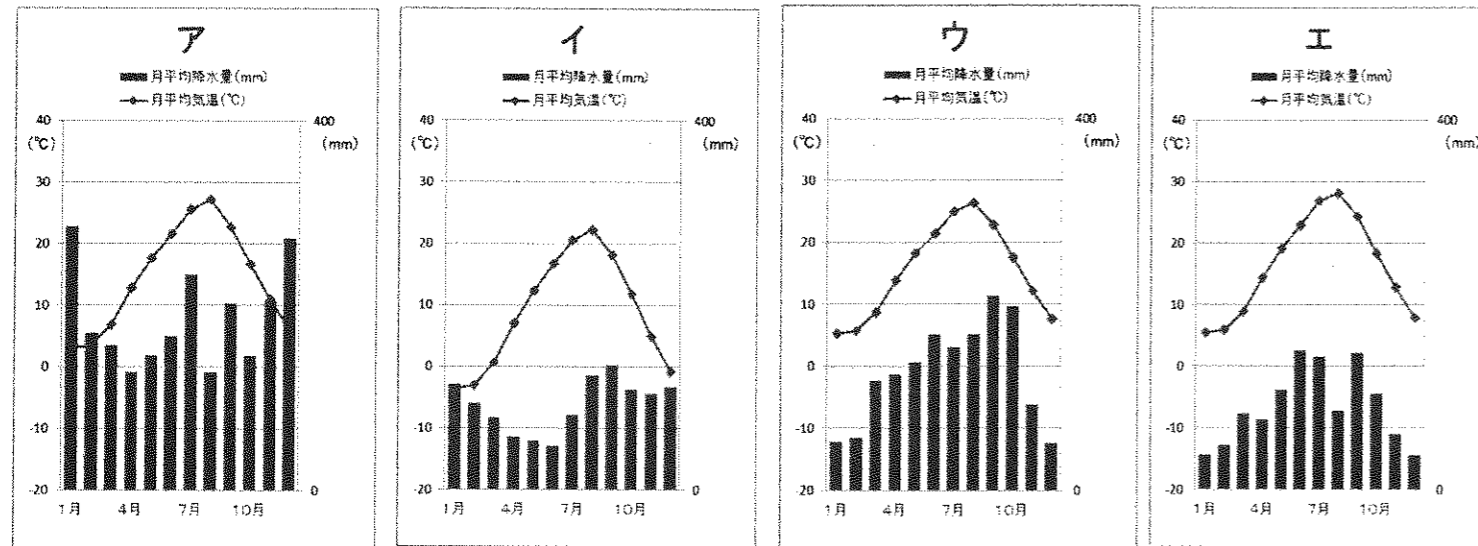
ア	とうがん	マンゴー	さとうきび	ゴーヤー (にがうり)
イ	ほうれんそう	日本なし	ねぎ	らっかせい
ウ	にんじん	かぼちゃ	たまねぎ	小麦
エ	れんこん	メロン	はくさい	ピーマン

『データでみる県勢 2019』より

問4 下線部㉔について、関東平野についての説明としてふさわしいものを以下から1つ選び記号で答えなさい。

- ア、この平野は、信濃川下流域に広がり、現在、「コシヒカリ」とよばれる米の産地として有名である。もともとは、湿田が広がっていたため、稲作には向いていなかった。
- イ、この平野は、気候は温暖だが、大きな川がないうえ、年間を通じて降水量が少ない。そこで、かつてはため池を多く作っていた。
- ウ、この平野は、白色の火山灰土でおおわれている、くずれやすい地形である。1960年代以降、かんがい設備を整え土壌を改良した結果、さまざまな作物をつくれるようになった。
- エ、この平野は、赤色の火山灰土でおおわれている。交通の発達にともない、農作物を新鮮なうちに都市圏に送れるようになってからは、近郊農業が発達した。

問5 下線部㉕について、福井県の気温と降水量を示した雨温図を、以下から1つ選び記号で答えなさい。



「気象庁 過去の気象データ」をもとに作成

次の文章は、目白研心中学校1年生の研君が、同じ部活の目白研心高校2年生の先輩である心さんとした、冬休み中のある日の会話です。この会話を読んであとの問いに答えなさい。

- 心さん：目白研心中学校に入学して、特に思い出に残っている行事はある？
- 研君：夏休みの林間学校です。そこで見た景色はきれいでした。先輩は何かありますか？
- 心さん：㉔九州の修学旅行かな。今の高校1年生からは行き先が変わるね。
- 研君：先輩たちが修学旅行に行っている間、埼玉に理科巡検に行きました。㉕しょう乳洞の中は、すごく寒かったです。
- 心さん：今日も寒いね。年明けは、㉖沖縄で過ごしたいな。
- 研君：お正月はお年玉が楽しみです。㉗着物を着て、㉘初詣でも行きたいです。

問6 下線部㉙について、次の文中の空欄(1)にあてはまる語句を答えなさい。

明治時代、九州に官営の(1)製鉄所が建設された。第二次世界大戦が終わるまでこの製鉄所を中心に九州北部の工業は発達していたが、戦後になると少しずつ活気が失われ、生産を少なくしていった。生産がおこなわれなくなった場所に開業した遊園地は、昨年、閉園した。

問7 下線部㉚について、しょう乳洞は西日本では秋吉台のものが有名である。秋吉台は本州の最も西に位置する県にあるが、この県名を答えなさい。

- 問8 下線部㉛について、沖縄について述べたものを以下から1つ選び、記号で答えなさい。
 - ア、1年を通して暖かいが、台風が多く来る地域でもある。そのため、家を石垣で囲ったり、コンクリートで作ったりしている。
 - イ、3つの大きな川の下流にあり、土地の多くは海面より低いのでまわりが堤防に囲まれている。この囲まれた土地は、輪中とよばれている。
 - ウ、地震や戦争での空襲を経験したが、復興をして、1964年にはオリンピックが開催された。2020年にもオリンピックが開催される予定である。
 - エ、もともとは先住民族のアイヌが住み、本州やロシアなどと交流して、絹や木綿、漆器などを手に入れていた。

問9 下線部㉜について、京都の伝統工芸品は西陣織が有名である。それ以外の京都の工芸品を以下から1つ選び、記号で答えなさい。

ア、江戸切子 イ、清水焼 ウ、南部鉄器 エ、輪島塗

問10 下線部㉝に関して、島根県にある出雲大社には例年、初詣でに約60万人が参拝している。この「出雲」の読み方をひらがなで答えなさい。

2 以下の文章を読んで問いに答えなさい。

平成 31 年 4 月 30 日に今上天皇(※1)が退位(※2)し、翌日の 5 月 1 日より皇太子が新たな天皇として即位します。今上天皇は、退位後に(1)と呼ばれるようになります。天皇の譲位(※3)は、江戸時代後期の光格天皇の譲位以来およそ 200 年ぶりで、(1)の称号も同じくおよそ 200 年ぶりに使われるという歴史的光景を私たちは見ることが出来ます。平成 31 年現在の制度では、天皇が変わると④元号も変わることになっており、約 30 年間の「平成」という時代が終わります。

歴史上、最初の譲位は、⑤ 645 年に起こったある事件をきっかけに行われた皇極天皇から孝徳天皇への譲位です。平安時代になると譲位がたくさん見られるようになりました。平安時代の後期には、(1)が政務にかかわる(2)という政治形態が、白河(1)によって始められたという歴史もあります。その後も譲位は江戸時代まで、たびたび行われました。

※1…現在の天皇のこと ※2…天皇の位を退くこと ※3…天皇の位を譲ること

問 1 空欄(1)に入る語句を漢字 2 字で答えなさい。

問 2 空欄(2)に入る語句を漢字 2 字で答えなさい。

問 3 下線部④「元号」について、日本で初めて作られた元号は、下線部⑤「645 年に起こったある事件」をきっかけに行われた改革の中で、定められたものです。この日本最初の元号として正しいものを以下から 1 つ選び記号で答えなさい。

ア、天平 イ、承久 ウ、大化 エ、建武

問 4 下線部⑥「645 年に起こったある事件」とは、当時、勢力を強めていた蘇我氏が滅ぼされたことをさします。蘇我氏を滅ぼしたのは、天皇中心の国作りをしようとしていた 2 人の人物ですが、その 2 人の人物とは、中臣鎌足ともう 1 人は誰か答えなさい。

問 5 天皇に関することからについて、正しいものを以下から 1 つ選び、記号で答えなさい。

ア、飛鳥時代には、仏教を熱心に信仰していた天皇が、東大寺と大仏を作った。

イ、平安時代に藤原氏の中でも特に有力な者が、天皇が幼少の時に摂政、天皇が大人になってからは関白として代わりに政治を行った。

ウ、鎌倉時代になってからは、武士が幕府を開くようになり、何世紀にもわたって天皇が存在しない時期もあった。

エ、室町時代は後醍醐天皇が 15 代将軍足利義昭を追放したことにより終わり、南北朝時代が始まった。

昨年(2018 年)は、夏の甲子園の高校野球大会(全国高等学校野球選手権大会)が第 100 回目の記念大会でした。しかし、大きな事件のあったときに何度か中止の年があったことから、その第 1 回目の大会は今から 103 年前におこなわれています。

第 4 回大会が予定されていた今から 101 年前の 1918 年は、⑤ 富山県の漁村に暮らす主婦が米の値段の大幅な値上がりに怒って米屋に安売りを要求し、これをきっかけに暴動が全国に広がり 2 か月近く続いたため、大会は中止となりました。

また、昨年は④ 明治初年から 150 年目にあたる節目の年でもありました。さらにそこから 150 年さかのぼった、今から 300 年前は⑥ 享保の改革がおこなわれていた時期にあたります。

そこから 150 年さかのぼった、今から 450 年前は⑦ キリスト教が伝来した直後にあたります。

問 6 下線部⑦のできごとを何というか答えなさい。

問 7 下線部⑧の前後に起こったことがらを時代が古い順に並べ替えたとき、正しいものを以下から 1 つ選び、記号で答えなさい。

ア、大政奉還 → 戊辰戦争 → 版籍奉還 → 廃藩置県

イ、戊辰戦争 → 大政奉還 → 廃藩置県 → 版籍奉還

ウ、薩長同盟 → 五か条のご誓文 → 大日本帝国憲法制定 → 徴兵令

エ、五か条のご誓文 → 薩長同盟 → 徴兵令 → 大日本帝国憲法制定

問 8 下線部⑨の時期におこなわれた政策と内容の正しい組み合わせを以下から 1 つ選び、記号で答えなさい。

ア、生類憐みの令： 生き物、特に犬を殺すことを禁じ、愛護するように命じた

イ、上米の制： 優秀な人材を取り立て、その収入が規定より低い時には不足分を支給した

ウ、公事方御定書： キリスト教に関係ないヨーロッパの本の輸入制限を緩めた

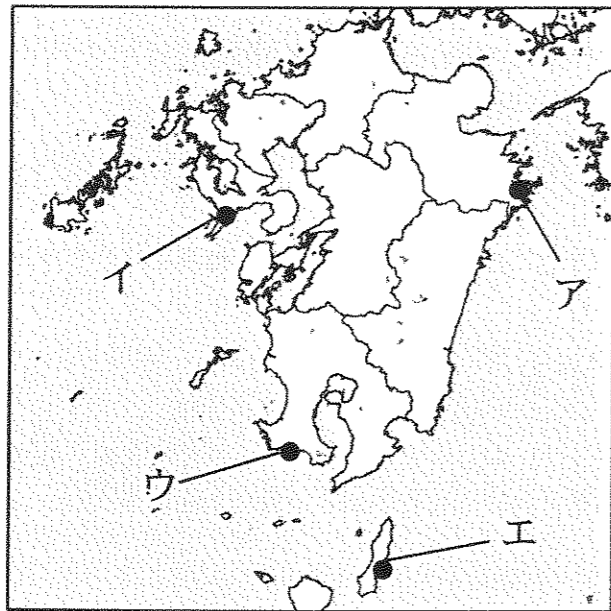
エ、目安箱： 幕府の政治に関する民間の意見を聞くために設けた

問9 下線部㉔について、以下の問いに答えなさい。

- ① フランシスコ・ザビエルが上陸した場所を下の【地図3】から選び、記号で答えなさい。
- ② 昨年(2018年)、「長崎と天草地方の潜伏キリシタン関連遺産」が世界文化遺産に選定されました。その中に含まれる「原城跡」は、1637年に島原の乱で天草四郎率いる農民がたてこもった場所です。この戦いの時点で幕府がとっていたキリスト教政策と対外政策として、ふさわしくないことがらを以下から1つ選び、記号で答えなさい。

- ア、日本人の海外渡航と海外在住者の帰国は全面禁止とされていた
- イ、オランダとの貿易をおこなうため、商館が出島に置かれた
- ウ、キリスト教徒を見つけるため、絵踏の制度が始められた
- エ、多くのキリシタン大名やキリスト教徒が国外追放されていた

【地図3】



3 以下の文章を読んで問いに答えなさい。

㉕ 日本国憲法は、「国民主権」「基本的人権の尊重」「平和主義」を原則としています。大日本帝国憲法下では、国民主権ではなく㉖ 天皇が主権をもつとされていました。基本的人権とは、人間が人間である以上、当然もっている基本的な権利のことで、㉗ 日本国憲法第25条では、そのうちの「生存権」について規定しています。㉘ 平和主義は、日本国憲法の前文や条文に示された理念であり、二度と戦争を起こすことなく国際平和を追求していくという、先の戦争における過ちへの反省が反映されています。

問1 下線部㉕に関する記述として、正しいものを以下から1つ選び、記号で答えなさい。

- ア、日本国憲法は、大日本帝国憲法を改正するという手続きによって制定された。
- イ、日本国憲法は、1945年11月3日に公布され、1946年5月3日から施行された。
- ウ、日本国憲法では、国民の三大義務として、納税・勤労・投票の義務を定めている。
- エ、日本国憲法では、核兵器について「もたず・つくらず・つかわせず」の三原則を定めている。

問2 下線部㉖に関連して、日本国憲法における天皇に関する規定について述べた文として誤っているものを、以下から1つ選び、記号で答えなさい。

- ア、天皇の国事行為には、内閣の助言と承認を必要とする。
- イ、天皇は立法権・行政権などの国政に関する権能を有しない。
- ウ、天皇は国会の指名に基づき、国務大臣を任命する。
- エ、天皇は日本国の象徴であり、日本国民統合の象徴である。

問3 下線部㉗の条文の一部である以下の空欄(1)・(2)に入る語をそれぞれ漢字2字で答えなさい。

全て国民は、(1)で(2)的な最低限度の生活を営む権利を有する。

問4 下線部㉘とは、日本国憲法の第何条で規定されている内容か答えなさい。

平成31年度中学校入試問題 社会科 解答用紙

受験番号		氏名		第1回	得点	

1

問1		問2	県		問3	
問4		問5		問6	製鉄所	
問7	県		問8		問9	
問10						

2

問1		問2		問3	
問4				問5	
問6			問7		問8
問9	①		②		

3

問1		問2		問3	(1)		(2)	
問4	第 条							