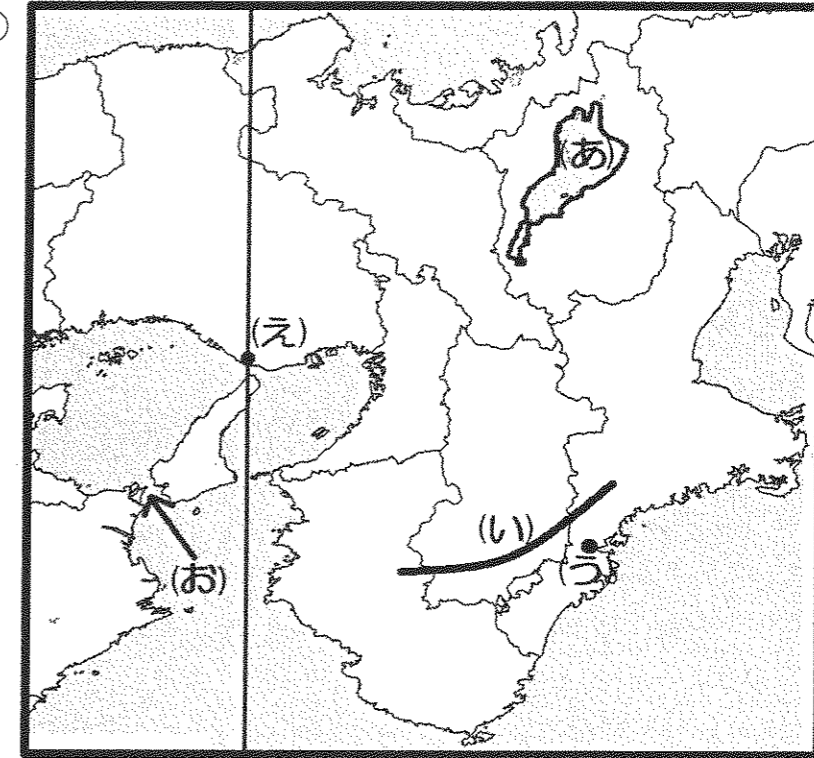


1 次の地図①・地図②について、問いに答えなさい。

地図①



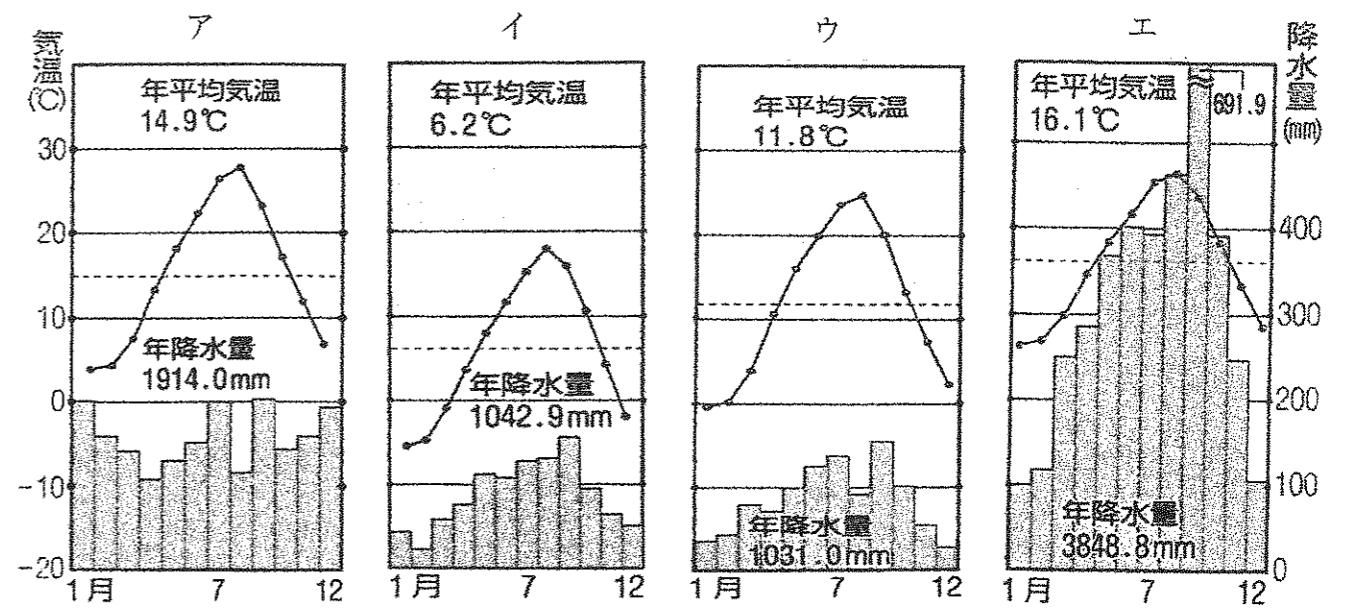
問1 地図①の(あ)の湖の名前を答えなさい。

問2 地図①の(い)の山地は3県にまたがっており、この山地にある霊場と参詣道は世界遺産に登録されています。(い)の山地名を次の中から1つ選び記号で答えなさい。

ア、伊吹山地 イ、四国山地 ウ、紀伊山地 エ、白神山地

問3 地図①の(い)の山地がまたがる3県のうち1つだけ県名と県庁所在地名が異なる県があります。その県名と県庁所在地名をそれぞれ答えなさい。

問4 地図①の(う)は尾鷲市を示しています。以下の気候グラフで尾鷲市のものはどれですか。1つ選び記号で答えなさい。



【アクティブ地理総合】より

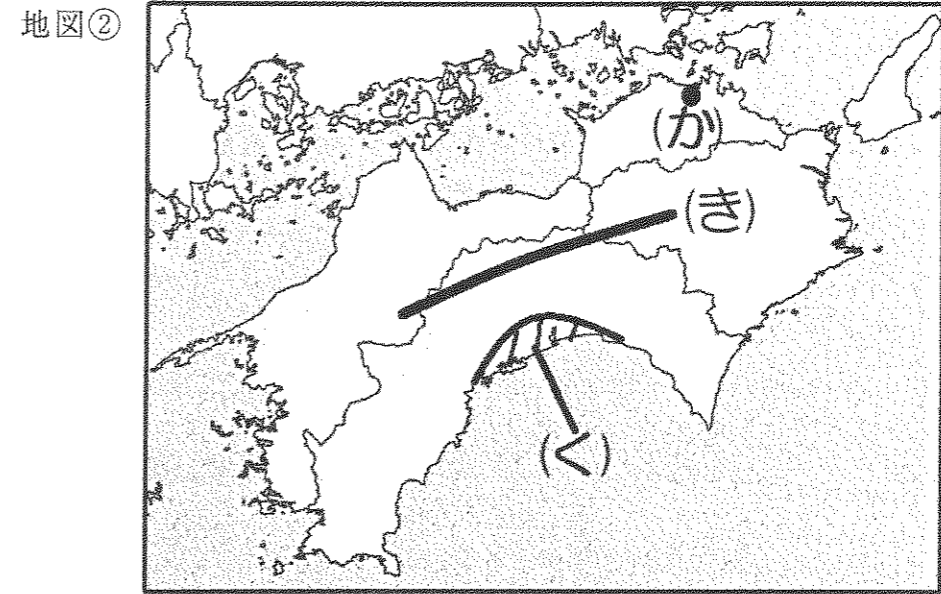
問5 地図①の(え)を通る直線は日本の標準時子午線を示しています。
この子午線は東経何度の線ですか。次の中から1つ選び記号で答えなさい。
ア、東経135度 イ、東経140度 ウ、東経145度 エ、東経150度

問6 地図①の(お)の海峡はどのような特色がありますか。次の中から1つ選び記号で答えなさい。
ア、海峡の最もせまい部分は幅が約600メートル、海底には関門トンネルなどが抜け、海上には関門橋がかかっている。
イ、満潮と干潮の時、大きな渦潮が発生する。この渦潮を見るために多くの観光船が運航されている。
ウ、水深が約140mと浅くなっていることもあり、鉄道専用の青函トンネルが1988年に開通し運用されている。
エ、黒潮の影響により魚類が豊富で、東シナ海と太平洋を結ぶ重要な航路となっている。

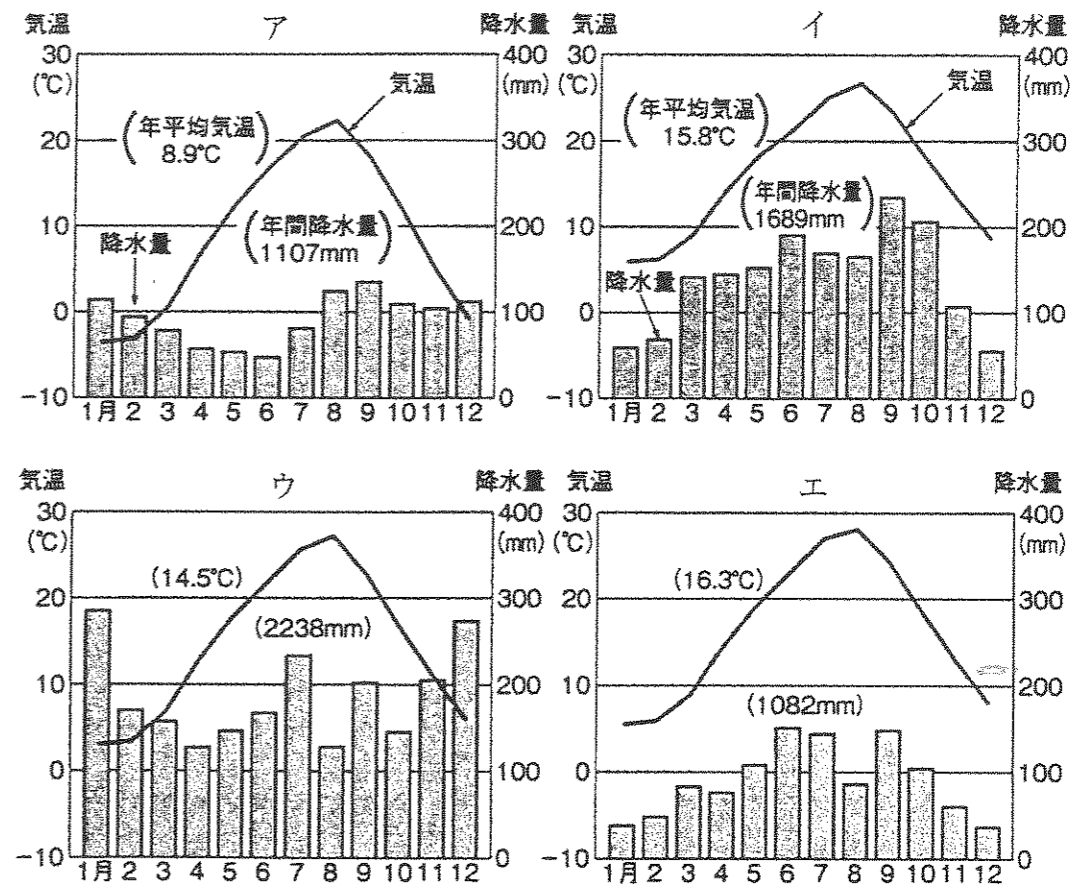
問7 以下の表は三大工業地帯の産業別出荷額の割合(2013年)を示したものです。
このうち阪神工業地帯のものはどれですか。ア～ウの中から1つ選び記号で答えなさい。

ア		イ		ウ	
産業名	出荷額の割合(%)	産業名	出荷額の割合(%)	産業名	出荷額の割合(%)
機械工業	45.8	機械工業	35.5	機械工業	67.3
化学工業	19.9	金属工業	20.9	金属工業	9.8
食料品工業	10.4	化学工業	17.8	化学工業	7.6
金属工業	9.0	食料品工業	11.0	食料品工業	4.7
印刷業	5.0	プラスチック製品	3.8	プラスチック製品	3.5
プラスチック製品	2.9	印刷業	2.1	よう業	1.9

表は『日本のすがた 2016』を基に作成



問8 地図②の(か)は高松市を示しています。以下の気候グラフで高松市のものはどれですか。以下から1つ選び記号で答えなさい。



『日本のすがた 2016』より

問9 地図②の(き)の山地がまたがる3県のうち1つだけ県名と県庁所在地名が異なる県があります。その県名と県庁所在地名をそれぞれ答えなさい。

問10 地図②の(く)は高知平野を示しています。この平野では夏野菜を冬から春にかけて出荷しています。このように普通よりも早い時期に野菜の栽培を開始し、早く収穫して出荷する栽培法を何というか答えなさい。

2 以下の文章を読んで問いに答えなさい。

日本に仏教が正式に伝えられたのは、6世紀の欽明天皇の時代です。朝鮮半島南部にあった百済の聖明王から、仏像や経典がおくられました。仏教が伝えられると、仏教を積極的に受け入れようとする側と受け入れに反対する側とが対立しました。この仏教受け入れの問題は、豪族間の権力争いとともに激しくなりましたが、蘇我氏の勝利により一段落しました。これによって、仏教は急速に広まりました。㉔ 聖徳太子(厩戸王)は、その中で仏教を儒教とならんで政治の基本にすえました。

問1 下線部㉔の人物がおこなったこととして、両方が正しいものを以下から選び記号で答えなさい。

- ア、金印をさずかった。 征夷大將軍に任命された。
- イ、冠位十二階を定めた。十七条の憲法を定めた。
- ウ、遣唐使を派遣した。おぼである推古天皇を助けて政治をおこなった。
- エ、遣隋使を派遣した。大きな古墳をつくった。

その後、大化の改新や㉕ 壬申の乱を経て、天皇を中心とする国づくりがすすめられます。奈良時代には、天皇を中心とした国づくりの政策の一環として仏教も発展してきました。いわゆる「国家仏教」の時代です。聖武天皇は、国の安定と平和を願って、全国に国分寺を建立し、さらに㉖ 東大寺に大仏を建立しました。

問2 下線部㉖について、正しい説明を以下から選び記号で答えなさい。

- ア、天武天皇のあとつぎをめぐる争いで、勝利した大海人皇子が持統天皇となった。
- イ、天武天皇のあとつぎをめぐる争いで、勝利した大海人皇子が天智天皇となった。
- ウ、天智天皇のあとつぎをめぐる争いで、勝利した大海人皇子が推古天皇となった。
- エ、天智天皇のあとつぎをめぐる争いで、勝利した大海人皇子が天武天皇となった。

問3 下線部㉗について、以下の文の□にあてはまる人名を以下から選び記号で答えなさい。

奈良時代、僧侶になるには国の許可が必要でした。それに対して、国の許可を受けずに僧侶となる「私度僧」と呼ばれるものがあらわれます。その代表的な人物が、□です。□は、人々のために仏教の教えを説き、各地に橋を設けるなど布教と社会奉仕活動に従事しました。初めはこの活動を禁止しようとしていた朝廷も、大仏の建立の際に、□の助けを借りることになりました。□は、日本で最初に「大僧正」という一番高い僧侶の位についた人物になりました。

- ア、鑑真
- イ、一休
- ウ、源信
- エ、行基

㉘ 平安時代には、仏教は密教が中心となりました。日本の密教は大きく分けて、天台宗系の台密と真言宗系の東密の2つに分かれます。天台宗と真言宗は、平安時代になって開かれたものです。天台宗を開いたのは最澄です。最澄は、天台宗を学ぶために唐にわたり、その後、日本に帰り比叡山に延暦寺を建てました。真言宗を開いた㉙ 空海もまた、最澄と同じく唐にわたって密教を学び、日本に帰ってきてから高野山に金剛峯寺を、京都に東寺を建てました。

問4 下線部㉘について、この時代の中ごろに書かれた随筆『枕草子』の作者は誰か。

問5 下線部㉙について、「どんな名人でも時には失敗することがある」という意味の、この人物にちなんだことわざを答えなさい。

鎌倉時代に入ると、政治の中心が京都から鎌倉に移り、地方が発展していきます。また、武家階級が誕生し新しい勢力が成長しました。このような社会の変動に応じて、仏教の世界でも新しい動きがはじまりました。一つは、禪宗がさかんになったことです。また、法然の浄土宗、親鸞の浄土真宗や㉚ 日蓮の日蓮宗が開かれました。

問6 下線部㉚について、この人物はある国の襲来を予言しました。以下の絵巻物は、その時の戦いの様子がえがかれていますが、この時襲来した国を答えなさい。



室町時代は、室町幕府が支配力を持っていた時期と、応仁の乱以後の戦国時代とに大きく分かれます。この時代、幕府と結びついて力を持っていたのが禅宗のひとつである臨済宗でした。その中で活躍したのが、夢窓疎石です。夢窓疎石は室町幕府の最初の将軍である()の保護もあり力をふるいました。また、明の新しい文化を積極的に取り入れ、庭園や書道、文学、㉛ 水墨画など禅文化の発展に大きく関わりました。

問7 ()にあてはまる人名を答えなさい。

問8 下線部㉛について、この時代に明にわたり、中国の画法を学んで水墨画を大成したのは誰か。

江戸時代の仏教は、幕府の支配のもとにおかれ、人々を支配するしくみの一つとしてはたらくことになりました。それが、本末制度と寺檀制度です。本末制度とは、各寺院を本寺と末寺という上下関係の中に組みこみ、本寺に大きな権限を与えて末寺を支配させるという制度です。寺檀制度とは、人々と寺院を結びつける制度で、キリシタンの禁制を徹底させるものでした。後には宗旨人別帳の制度も作られ、戸籍の代わりとして利用されました。

問9 下線部㉔について、年代が正しい順序でなっているものを1つ選び記号で答えなさい。

- ア、全国にキリスト教禁止の命令が出される→島原の乱がおきる→鎖国が完成する
 イ、島原の乱がおきる→全国にキリスト教禁止の命令が出される→鎖国が完成する
 ウ、鎖国が完成する→島原の乱がおきる→全国にキリスト教禁止の命令が出される
 エ、島原の乱がおきる→鎖国が完成する→全国にキリスト教禁止の命令が出される

江戸時代までは、神社と寺院の境目はあまりはっきりしませんでした。㉕ 明治政府は、神仏分離令を出して神社と寺院を区別し、神道を国家の中心とする立場におきました。その影響から、仏教を排除しようとする廃仏毀釈運動が起こり、寺院はおそわれ、仏像がこわされるなどして仏教界は大きな打撃をうけました。しかしその後、仏教界内部から改革運動が起こり立ち直りをみせました。

問10 下線部㉕について、以下の①～④のうち明治時代の出来事として正しいものの組み合わせをア～カから1つ選び記号で答えなさい。

- ①不平等条約の改正をおこなった。 ②米騒動がおきた。
 ③太平洋戦争がはじまった。 ④大日本帝国憲法が発布された。

- ア、①・② イ、①・③ ウ、①・④
 エ、②・③ オ、②・④ カ、③・④

3 日本³の法と憲法に関して次の文を読み、以下の問いに答えなさい。

日本では、国民の意志により作られた法に基づき、政治がおこなわれています。現在日本には多くの法がありますが、日本国憲法第98条で 「この憲法は、国の(①)であつて、その条規に反する法律、命令、詔勅及び国務に関するその他の行為の全部又は一部は、その効力を有しない」と規定されています。

歴史的にみても、㉖ 日本が大日本帝国憲法を作った時期はアジアで最も早く、(②)の憲法を手本に作成されました。 ㉗ この旧憲法は、現在の日本国憲法が使われ始めるまでおよそ60年間使われました。

戦後71年が経ち、現在の憲法に対して ㉘ 改正をしたい、するべきではないなど、いろいろな意見が出されています。

国際情勢の変化で、日本は海外に自衛隊を派遣するようになりました。㉙ 国際連合の決議によりおこなわれる平和維持活動に参加するため、およそ25年前に日本が初めて法律を作り自衛隊を送った国はカンボジアでした。

また、今年(2017年)には法が改正されて、㉚ 成人年齢が引き下げられる見通しです。

問1 下線部㉖を簡単に言うと、「憲法はすべての法の頂点に置かれているから、他の法と食い違いがあったときは憲法を優先する」という意味になります。文中の空欄(①)には、「すべての法の頂点」と同じ意味になる語が入ります。**漢字4文字**で答えなさい。

問2 下線部㉗をおこなった中心人物について書いた次の文章のうち、**この人物とは関係のない内容のもの**が1つあります。その記号を答えなさい。

- ア、この人物は初代内閣総理大臣となり、その後も何回か総理大臣の職に就いた。
 イ、この人物は長州藩出身で、若いころは幕府をたおす運動に参加した。
 ウ、この人物は日本で初めての政党を作るとともに、若者を教育するための学校を作った。
 エ、この人物は中国の駅で列車からおりたところで、韓国人の青年に暗殺された。

問3 下線部㉘に関して、大日本帝国憲法と日本国憲法の内容を比較したとき、正しい内容の文章を次から1つ選び、記号で答えなさい。

- ア、どちらの憲法も、天皇は国の最上位に位置する元首であると規定しているため、天皇は現在も多くの国事行為をこなしている。
 イ、どちらの憲法も、国民の義務として納税をあげている。
 ウ、どちらの憲法も、国民に基本的人権を認め、だれにも侵すことのできない永久の権利である、としている。
 エ、どちらの憲法も自衛権について書かれ、大日本帝国憲法には陸軍と海軍を、日本国憲法には自衛隊を置く、と記されている。

問4 空欄(㉔)に入る国名は何ですか。また、下線部㉕に関して、現在憲法改正をおこなう場合、最終的におこなう国民投票で賛成票はどれだけ必要ですか。2つの答えの正しい組み合わせを次から選び、記号で答えなさい。

- ア、㉔ ドイツ ㉕ 過半数 イ、㉔ ドイツ ㉕ 3分の2以上
ウ、㉔ イギリス ㉕ 過半数 エ、㉔ イギリス ㉕ 3分の2以上

問5 下線部㉖の略称を、**アルファベット3文字**で答えなさい。

問6 下線部㉗に関して、すでに昨年(2016年)から年齢の引き下げがおこなわれた国政に関するできごとがあります。それは何か、書きなさい。

平成29年度中学校入試問題 社会科 解答用紙

受験番号		名前		第1回	得点	

1

問1				問2			
問3	県名				県庁所在地		
問4			問5			問6	
問7			問8				
問9	県名				県庁所在地		
問10							

2

問1			問2			問3		
問4				問5				
問6				問7				
問8				問9			問10	

3

問1					問2			問3			
問4			問5								
問6											