

平成 27 年度

# 目白研心中学校入学試験問題

【第 1 回】

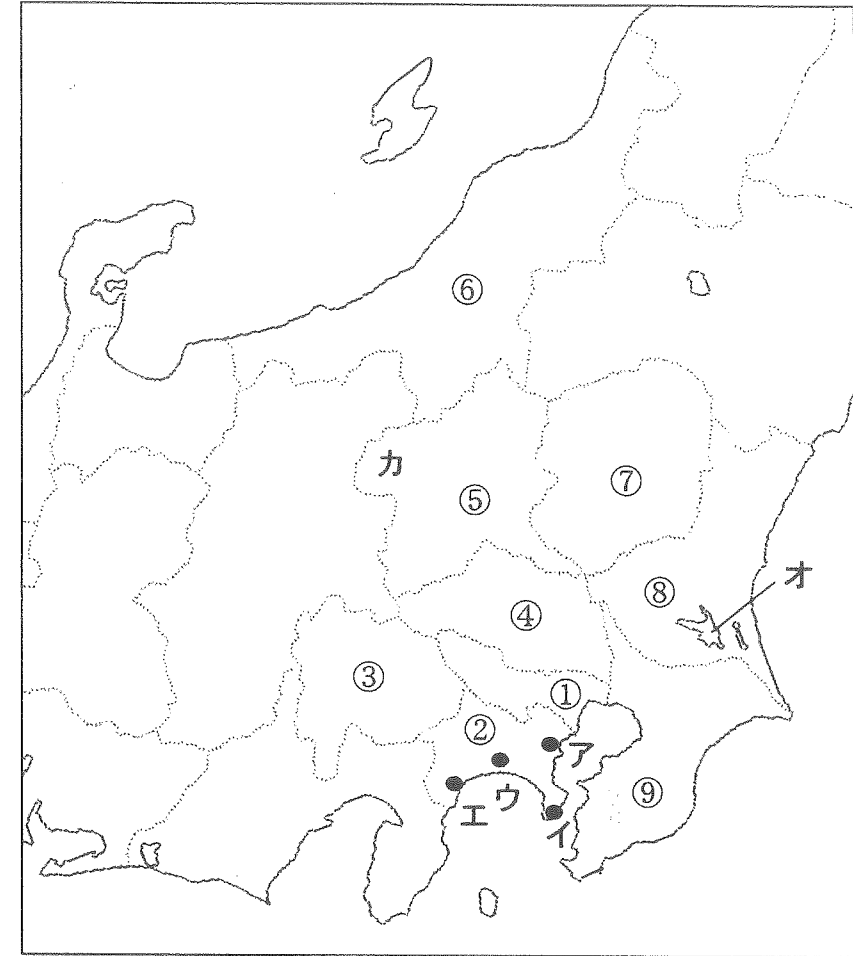
## 社 会

<注 意>

- (1) 時間は 25 分です。
- (2) 問題用紙は 1 ページから 6 ページまであります。最初に確認  
しなさい。
- (3) 問題は 1 から 3 まであります。答えはすべて解答用紙に記入  
しなさい。
- (4) 筆記用具は HB の鉛筆かシャープペンシルと消しゴムを用意  
しなさい。
- (5) 解答は特に漢字で答えなさいとある場合以外はひらがなで答  
えてもよい。

受 験 番 号		氏 名	
------------------	--	--------	--

1 次の地図を参照して、以下の問いに答えなさい。



問1 ①は東京都である。東京都では都心部での地価の上昇や住環境の悪化により、都心では人口が減少し、周辺部では人口が増加したが、このような現象を何というか答えなさい。

問2 ②の県の県庁所在地の位置を地図中のア～エの中から1つ選び、記号で答えなさい。

問3 ③の県の説明としてふさわしいものを以下から1つ選び、記号で答えなさい。

- ア、冬でも温暖な気候を利用して、米の二期作が行なわれている。
- イ、政府の計画に基づいて、筑波研究学園都市が建設された。
- ウ、この県の中央部に位置する盆地の扇状地では、ぶどう、ももの栽培が盛んである。
- エ、冬の副業から始まった刃物、洋食器、絹織物などの伝統産業がみられる。

問4 ④の県を通過していない高速道路を次のア～エの中から1つ選び、記号で答えなさい。

- ア、関越自動車道
- イ、東名高速道路
- ウ、東北自動車道
- エ、常磐自動車道

問5 ⑤の県には世界遺産がある。この県にある世界遺産の説明としてふさわしいものを以下から1つ選び、記号で答えなさい。

- ア、戦国時代後期から江戸時代前期にかけて、銀山が最盛期を迎えた。
- イ、中国の宋との貿易により富を得た平清盛が、神社を建立した。
- ウ、江戸幕府の初代将軍、徳川家康がまつられた神社が有名である。
- エ、1872年に日本最初の機械製糸工場ができ、製糸業が発達した。

問6 ⑥の県では稲作がさかんであるが、稲作にはいくつもの作業が必要である。

「田おこし」を最初の作業として、次のア～ウを「田おこし」に続く作業の順に並べかえなさい。

- ア、脱穀
- イ、田植え
- ウ、代かき

問7 ⑦の県の説明としてふさわしいものを以下から1つ選び、記号で答えなさい。

- ア、三浦半島の南部では、冬も温暖な気候を利用して、野菜や草花の促成栽培が見られる。
- イ、田中正造が追及した、足尾鉍毒事件で知られる足尾銅山がある。
- ウ、成田国際空港では、多種多様な品物が輸出入されており、貨物取扱量では世界で上位に位置する。
- エ、京浜工業地帯の中心都市の1つが発展しており、重化学工業が発達している。

問8 ⑧の県について、地図中のオの湖を何というか答えなさい。

問9 ⑨の県について、次の農産物の組み合わせから⑨の県のもを1つ選び、記号で答えなさい。

なお、( )内は全国における各都道府県の生産量の順位です。

- |            |           |          |           |
|------------|-----------|----------|-----------|
| ア、メロン(1位)  | ピーマン(1位)  | ねぎ(3位)   | じゃがいも(4位) |
| イ、レタス(1位)  | りんご(2位)   | ぶどう(2位)  | もも(3位)    |
| ウ、なし(1位)   | らっかせい(1位) | ねぎ(1位)   | だいこん(2位)  |
| エ、にんじん(1位) | じゃがいも(1位) | たまねぎ(1位) | トマト(2位)   |

出典『日本のすがた 2014』

問10 地図中のカの地域は嬬恋村である。この地域では夏の涼しい気候を利用した野菜の栽培が有名で、その出荷が夏から秋にかけてさかんである。その野菜とは何か答えなさい。

2 以下の文章を読んで問いに答えなさい。

日本の歴史を時代という枠でとらえてみると、主に打製石器を使用していた旧石器時代にはじまり、⑥ 縄文土器を使用していた縄文時代、弥生土器を使用していた弥生時代、そして古墳を築いていた古墳時代へと続きます。時代の名前は使われていた道具やのこされた遺物にちなんでいます。

その後時代は、飛鳥(現在の奈良県高市郡明日香村)の地に都があった ① 飛鳥時代、② 平城京に都があった奈良時代、③ 平安京に都があった平安時代へと続きます。そして ④ 源頼朝が幕府を開き武家政権の拠点鎌倉にあったのが鎌倉時代です。足利尊氏が征夷大将軍に任じられて以降、足利氏が代々将軍をつとめていた時代は、三代将軍である ⑤ 足利義満が京都の室町に花の御所を築いて政治をおこなっていたのにちなんで室町時代といわれます。室町時代の中期、⑥ 1467年にはじまった応仁の乱以降を戦国時代と呼ぶこともありますが、これは当時の世の中の様子にちなんだものです。戦国時代を勝ち抜いた織田信長、豊臣秀吉が権力を握っていた時代は、その居城にちなんで安土桃山時代といわれています。その後、政治の中心は徳川家康が幕府を開いた江戸にうつり、江戸に幕府があった期間は ⑦ 江戸時代といわれます。これらの時代名は政権があった場所にちなむものです。この方式にならえば、明治維新以降は現在まで東京が首都となっているので「東京時代」とでもいうべきかもしれませんが、そうは言わずに ⑧ 明治時代、大正時代、昭和時代という呼び方が多くとられています。

また、いくつかの時代をまとめて大きくとらえる分け方もあります。旧石器時代・縄文時代・弥生時代を原始、飛鳥時代・奈良時代・平安時代後期の院政が始まるまでを古代、院政以降の平安時代後期から鎌倉時代・室町時代を中世とし、安土桃山時代から江戸時代末期、開国のきっかけとなった浦賀への(◎)来航までを近世、(◎)来航から1945年の太平洋戦争の終戦までを近代、戦後から今日までを現代とする分け方です。しかし、この分け方もそれぞれの時代をどうとらえるかによってその境目が変わってきます。

問1 下線部⑥について、このころの生活についての以下の文を古いものから順に正しくならべているものを以下から選び記号で答えなさい。

- ① くにつくりあげた王や豪族が小山のような墓を築かせた。
  - ② 人々は力を合わせて動物や木の実、魚や貝などを手に入れ生活していた。
  - ③ 大陸から伝わってきた米づくりが西日本から東日本へと広がっていった。
- ア、①→②→③      イ、①→③→②      ウ、②→①→③  
エ、②→③→①      オ、③→①→②      カ、③→②→①

問2 下線部⑧について、この活躍した人物に厩戸王(聖徳太子)がいます。この人物が国づくりのため新しい制度や文化、学問を取り入れようと中国へ使者を送りましたが、この使者を何といいますか。

問3 下線部⑨について、平城京に病気が流行して多くの人が亡くなったり、各地で災害や反乱がおきて社会に不安が広がっていたことに対して、聖武天皇は仏教の力で社会の不安をしずめ国を治めようと願い、大仏をつくる詔(天皇の命令)を出します。この時、聖武天皇の命を受けて大仏づくりに協力した僧の名を答えなさい。

問4 下線部⑩について、この時代、かな文字が生まれ、朝廷に仕える女性たちは多くの文学作品を作りました。このほか貴族の生活ぶりをえがいた大和絵やかな文字を用いた和歌、書に数々の名作が作られ朝廷を中心に日本風の文化が生まれました。この時代のこの日本風の文化を何といいますか。

問5 下線部㉔について、源頼朝が征夷大将軍に任じられたのはいつのことか、西暦で答えなさい。

問6 下線部㉕について、足利義満の保護を受けた観阿弥・世阿弥の父子によって大成された伝統的芸能とは何ですか。

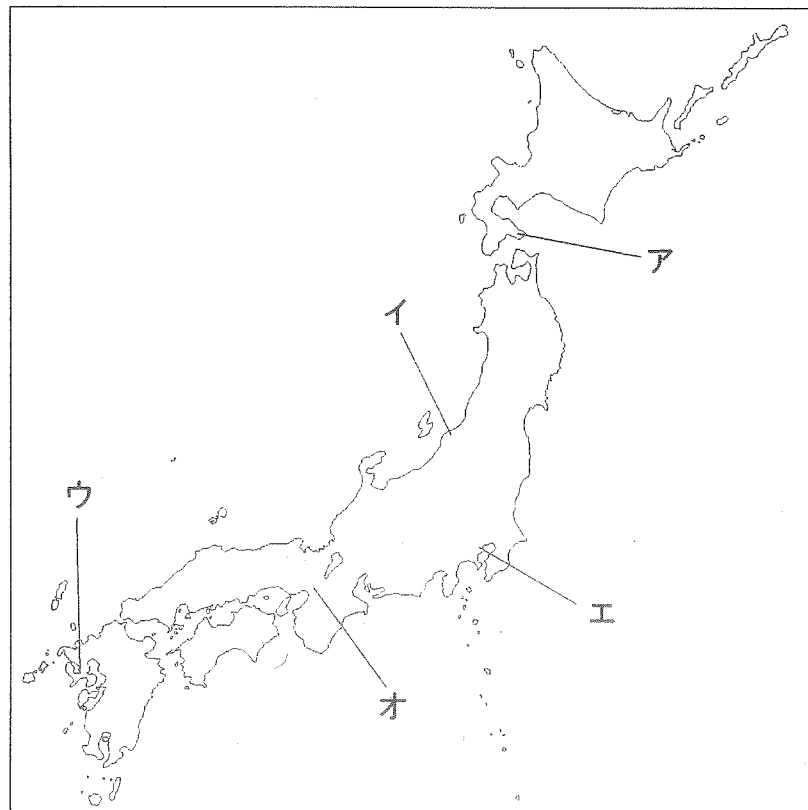
問7 下線部㉖の応仁の乱以降におきた以下の出来事を古いものから順に正しくならべかえなさい。

- ア、豊臣秀吉が中国を征服しようとして、二度にわたって朝鮮に大軍を送った。
- イ、織田信長が長篠の戦いで当時最強といわれた武田氏の騎馬隊をうちやぶった。
- ウ、ポルトガル人を乗せた貿易船が種子島に流れ着き、日本に鉄砲が伝えられた。
- エ、スペイン人宣教師のフランシスコ・ザビエルが日本にキリスト教を伝えた。

問8 下線部㉗について、以下の文の( ① )にあてはまる語を答え、( ② )にあてはまる場所を下の<地図>から選び記号で答えなさい。

江戸時代、幕府は初め外国との貿易をさかんにしようとして、大名や商人に朱印状を与えて貿易を保護しました。しかしキリスト教の信者が増え、幕府の命令に従わなくなることをおそれた幕府はキリスト教を禁止し、貿易もその相手国をキリスト教を広めるおそれのない( ① )と中国に限り、これらの貿易船の出入りも幕府の港町である( ② )に限りしました。( ② )には出島や唐人屋敷がつくられ、貿易は幕府が独占するようになりました。

<地図>



問9 下線部㉘について、この呼び方はどのようなものをもとにした呼び方が答えなさい。

問10 ( ㉙ )にあてはまる人名を答えなさい。

3 次の作文は、小学6年生の目白研くんが書いたものです。この文章を読んで、以下の質問に答えなさい。

『おばあちゃんの毎日』 目白 研  
 ぼくの祖母は、今一人で住んでいる。うちの近所なので、母がよく世話に行っている。週に3回は、迎えの車に乗ってデイサービスに行っている。祖母は ㉚ 介護保険制度ができて良かったと言っている。こうした制度は、 ㉛ 社会保障と呼ばれるそうだ。  
 ㉜ 新聞を読むのが大好きで、世の中のできごとや ㉝ 政治についてぼくに教えてくれる。だれも来ないときには、テレビを見たり、図書館から借りた本を読んだりしている。  
 祖母の家には ㉞ 古い道具がたくさん置いてあるので、それをぼくに見せてくれる。祖母の一番楽しい時間はぼくと話す時だと言ってくれるので、もっと祖母の家に行かないといけないと思っている。

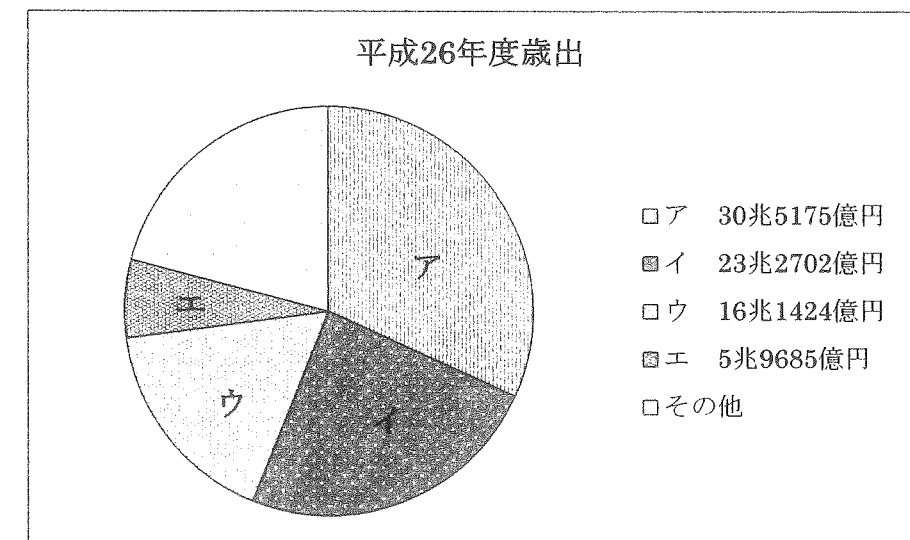
問1 下線部㉚の介護保険制度について書いた文章のうち、正しい内容の組み合わせをア～エより一つ選び、記号で答えなさい。

- (1) 介護保険料は40歳から徴収が始まる。 (2) 介護保険料は60歳から徴収が始まる。
- (3) 要支援1～5、要介護1～2に分類される。 (4) 要支援1～2、要介護1～5に分類される。

ア、(1)と(3)      イ、(1)と(4)      ウ、(2)と(3)      エ、(2)と(4)

問2 下線部㉞について

- ① この仕事をしている国の官庁はどこですか。
- ② 下のグラフの中で、社会保障費の歳出(国の1年間の支出)はどれにあたりますか。記号で答えなさい。



問3 下線部㉞について、次の計算をしなさい。

祖母の家でとっている新聞の購読料は、税抜きで1か月3738円です。この新聞の税込み価格はいくらか答えなさい。ただし、小数点以下の数字は切り捨てること。

問4 下線部㊸について、誤った内容の文章を1つ選び、記号で答えなさい。

ア、国の権限を3つに分けたとき、国の政治がおこなわれる機関を国会という。


イ、地方の政治がおこなわれる都道府県では、<sup>しほちやう</sup>首長のことを知事という。

ウ、市の人口が増えた場合、政令指定都市がつけられることがある。


エ、都道府県や市町村がつくる法の一つに条例がある。

問5 下線部㊸に関する以下の写真の中から、<sup>たんでう</sup>暖房器具の一種を1つ選び、その記号を答えなさい。


ア




イ



ウ



エ



平成 27 年度中学校入試問題 社会科 解答用紙

受験番号		名前	
------	--	----	--

第1回

得点	
----	--

1

問1		問2		問3	
問4		問5		問6	→ →
問7		問8			問9
問10					

2

問1		問2			
問3			問4		
問5			問6		
問7	→	→	→		
問8	①			②	
問9					
問10					

3

問1					
問2	①			②	
問3			問4		問5