

平成 24 年度

目白研心中学校入学試験問題

社 会

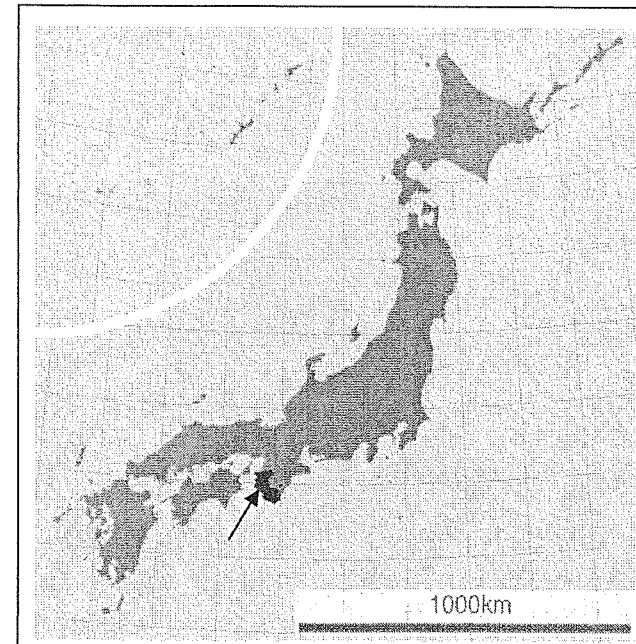
2.1 選

<注 意>

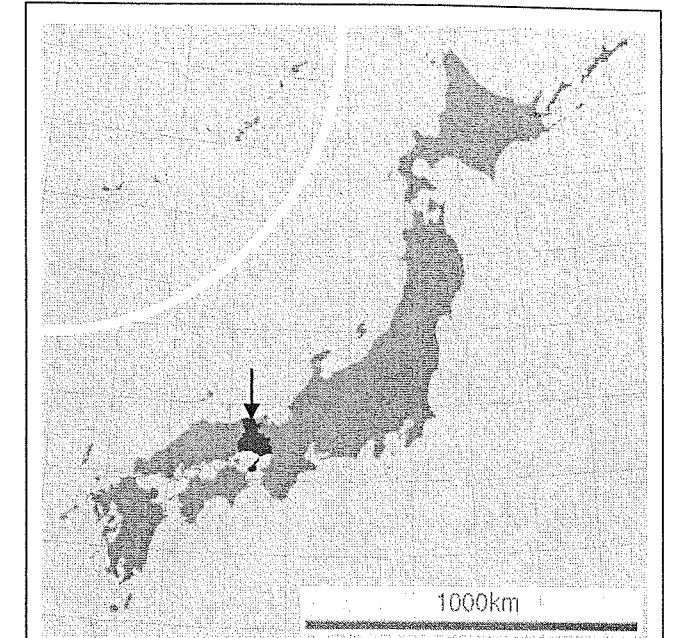
- (1) 時間は 25 分です。
- (2) 問題用紙は 1 ページから 7 ページまであります。  
最初に確認しなさい。
- (3) 問題は 1 から 3 まであります。答えは解答用紙に記入しなさい。
- (4) 筆記用具は HB の鉛筆と消しゴムを用意しなさい。
- (5) 解答は特に漢字で答えなさいとある場合以外はひらがなで答えてもよい。

受 験 番 号	番
名 前	

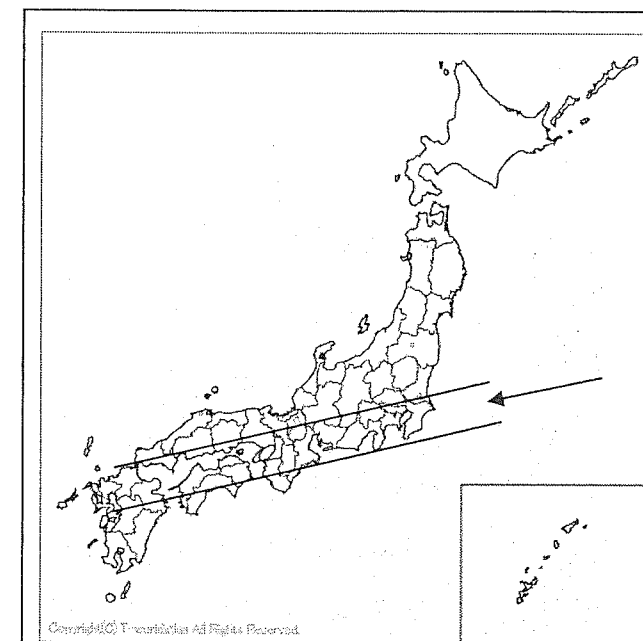
1 下の地図を見て、以下の問いに答えなさい。



【 地図 1 】



【 地図 2 】




【 地図 3 】

問1 【地図1】の県(矢印の場所)を説明した文章を、以下から1つ選び、記号で答えなさい。

- ア、県のおよそ80%が山地で、南部は特に雨が<sup>多い</sup>。黒潮の影響により気候は温暖で、マグロやカツオの漁獲高が多く、かつては捕鯨が盛んだったことでも知られる。
- イ、広大な土地を生かした農林水産業が盛んで、リアス式海岸を利用したワカメやアワビの養殖でも知られる。冬は雪が多いが、夏はフェーン現象で気温が高くなることがある。
- ウ、国土の半分が平野で、1年を通して晴天が多く降水量が少ない。川も少ないので、農業用のため池が県内に作られている。オリーブの生産で知られる。
- エ、対馬海流の影響で気候は温暖で、他県と比べると1年を通して気温差が小さい。海岸線が複雑で長く、離島の多さは日本一である。アジやサバの漁獲高は国内第1位である。

問2 【地図1】の県が生産量第1位の農作物を表にまとめました。㊸と㊹の農作物の正しい組み合わせを次の中から1つ選び、記号で答えなさい。



(2009年度) (『日本国勢図会』ジュニア版 日本のすがた 2011)

- ア、㊸ ぶどう ㊹ もも
- イ、㊸ ぶどう ㊹ うめ
- ウ、㊸ みかん ㊹ もも
- エ、㊸ みかん ㊹ うめ

問3 【地図1】の県が位置する半島名を答えなさい。

問4 【地図2】の県(矢印の場所)にある都市を説明した次の文の中に、ひとつだけこの県の都市ではないものが混ざっています。その文の記号を答えなさい。

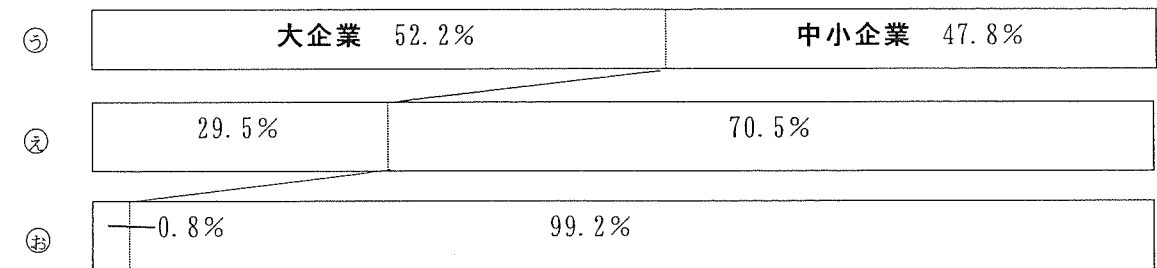
- ア、日本を代表する国宝および世界遺産の城があることから、観光業が盛んである。平安時代から続く皮革加工業、戦前からは製鉄業が盛んであった。
- イ、全国第3位の人口を有する大都市で、地下街が発達していることでも知られる。町は平野の上につくられ、冬には伊吹おろしという乾燥した冷たい風が吹き降ろす。製造業、とくに自動車関連産業が盛んである。
- ウ、日本を代表する港町のひとつで、平清盛の時代から海外交易の窓口として栄えてきた。明治以降、日本に来た外国人によって中華街や異人館がつくられ、観光地として人気が高い。
- エ、東経135度の子午線が通っていることでも知られる。海峡でとれるタイやタコは、ここの地名をつけてよばれるほど味に定評がある。

問5 【地図2】の県の県庁が所在する都市は、世界7カ国8都市と姉妹都市、友好都市、親善協力都市の関係を結んでいます。その中のひとつのある都市が位置する国を説明する次の文章を読んで、その国はどこかを答えなさい。

この都市はその国を代表する港町で、大きな祭り世界的に知られています。この都市が位置する国は、明治時代に多くの日本人が移り住み、日本人町がつけられました。今、その子孫が多く日本に働きに来ています。この国ではポルトガル語が使われ、国土のほとんどが熱帯に属します。かつては、ゴムやサトウキビの栽培が盛んでしたが、現在はコーヒーが主要産業になっています。近年、経済発展がめざましく、世界経済に影響を与えるまでに成長しています。

問6 【地図3】の矢印は、第二次世界大戦後に日本の工業が発展した地域を示しています。

- ① この地域を何と呼びますか。
- ② 日本にはおよそ44万の工場があります(2008年現在)。働く人が300人以上の大工場と、300人未満の中小企業に分けて表を作ったとき、下の㊵㊶㊷の正しい組み合わせを選び、記号で答えなさい。



(2008年度) (『日本国勢図会』ジュニア版 日本のすがた 2011)

- ア、㊵ 工場数 ㊶ 出荷額 ㊷ 働く人の数
- イ、㊵ 工場数 ㊶ 働く人の数 ㊷ 出荷額
- ウ、㊵ 出荷額 ㊶ 工場数 ㊷ 働く人の数
- エ、㊵ 出荷額 ㊶ 働く人の数 ㊷ 工場数

- ③ 工場で作られた製品は国内や海外に運ばれ、消費者の元に届けられます。日本の輸送について書いた次の中から、誤った内容の文を1つ選び、記号で答えなさい。

- ア、重くて大きい貨物の輸送には、大量に運んで運賃が安い船が使われる。
- イ、高速道路の整備が進み、全国を自由に移動できることから、貨物の輸送では自動車最も多く使われている。
- ウ、軽くて高価な電子製品や新鮮なうちに運びたい魚や花の輸送には、鉄道が利用されることが多くなった。
- エ、貨物をコンテナに入れることで、積みかえの手間が省け、安全に運べる。

④ 工業が発達するためには大きな動力が必要です。次の表は日本のエネルギーの消費を割合で示したものです。その中で、石油をあらわすものはどれですか。以下から1つ選び記号で答えなさい。

1970年度	ア 19.9%	イ 71.9%	ウ 1.2%	エ 0.3%	その他 6.7%
2008年度	ア 21.4%	イ 46.4%	ウ 16.7%	エ 9.7%	その他 5.8%

(2009年度) (『日本国勢図会』ジュニア版 日本のすがた 2011)

⑤ 昨年(2011年)は、電力不足や原子力問題が日本の社会を混乱させ、工業生産にも大きな打撃を与えました。次の表は2009年度に原子力発電による発電量が多かった国を、上位から順番に並べたものです。【 】に当てはまる国名を下からひとつ選び、記号で答えなさい。

アメリカ合衆国	<input type="text"/>	10534
【 】	<input type="text"/>	6602
日本	<input type="text"/>	4885
ロシア	<input type="text"/>	2319
ドイツ	<input type="text"/>	2151

単位：万キロワット (2009年度) (『日本国勢図会』ジュニア版 日本のすがた 2011)

ア、中国      イ、インド      ウ、イギリス      エ、フランス

② 次の年表を見て以下の問いに答えなさい。

年号	主な出来事
607年 (あ)	日本から中国へ遣隋使が渡る。
794年 (い)	都が(ア)にうつされる。
1052年 (う)	藤原氏が全盛期を築き、(イ)を建造する。
1274年 (え)	元軍が初めて日本へ来襲する。
1338年 (お)	室町幕府が開かれる。
1543年 (か)	ポルトガルから鉄砲が伝来する。
1853年 (き)	ペリーが浦賀に来航する。
1904年 (く)	日露戦争が起きる。
1945年	第二次世界大戦が終結する。

問1 遣隋使に関して、以下の問いに答えなさい。

① 使者として渡った人物を以下から1人選び記号で答えなさい。

ア、中臣鎌足    イ、鑑真    ウ、小野妹子    エ、行基


② このとき中国の皇帝は怒ったとされていますが、その理由を簡潔に答えなさい。

問2 年表中の(ア)に入る言葉を漢字で答えなさい。

問3 右下の写真は年表中の(イ)に入る建造物である。以下の問いに答えなさい。

① (イ)の名前を答えなさい。

② 藤原氏の全盛期は「天皇の代理」をつとめることで生み出されました。その政治を何といいますか。



問4 元軍が日本に初めて攻めてきたときの執権は元軍を退けることに成功しました。その執権として正しい人物を以下から選び記号で答えなさい。

ア、北条政子      イ、北条時頼      ウ、北条時宗      エ、北条時政

問5 ポルトガルから日本へ鉄砲が伝来した鹿児島県の島の名前を漢字で答えなさい。

問6 ペリーが浦賀に来航した翌年の1854年に結ばれた、日本が開国するきっかけとなった条約の名前を答えなさい。

問7 第二次世界大戦は、ドイツのある都市で決定された宣言を日本が受諾(受け入れること)して終了しました。その都市名を答えなさい。

問8 右の写真の人物は、イエズス会という団体のフランシスコ＝ザビエルという人物です。彼によって日本にキリスト教が伝わりました。キリスト教が日本に伝わったのは年表中の(あ)から(く)のどの期間のことですか。記号で答えなさい。



3 次の文章を読んであとの問いに答えなさい。

わが国の内閣は、㉔国会の信任の上に成り立ち、国会に対して連帯して責任を負うしくみになっている。㉕内閣総理大臣は、国会の指名にもとづいて(㉖)。

内閣総理大臣が国务大臣を任命するさいには、その(㉗)は国会議員の中から選ばなければならない。また、国会と内閣の意見が対立した場合、(㉘)は内閣不信任を決議できる。可決されたとき内閣は、10日以内に総辞職するか、もしくは(㉙)を解散しなければならない。

問1 下線部㉔のしくみを何といいますか。

問2 下線部㉕について、現在の内閣総理大臣は何党から選ばれていますか。

問3 (㉖)に入る文として正しいものを以下から選び記号で答えなさい。

ア、天皇が任命する。      イ、議長が任命する。  
ウ、天皇が選任する。      エ、議長が選任する。

問4 (㉗)・(㉘)に入る語を【語群】中からそれぞれ選び記号で答えなさい。

【語群】

ア、国民      イ、天皇      ウ、裁判所      エ、政府      オ、衆議院      カ、参議院  
キ、過半数      ク、3分の2以上      ケ、3分の1以上

平成 24 年度中学校入試問題 社会科 解答用紙

受験番号		名前		2.1 選	得点	
------	--	----	--	-------	----	--

1

問 1		問 2					
問 3				問 4			
問 5							
問 6	①						
	②		③		④		⑤

2

問 1	①						
	②						
問 2							
問 3	①				②		
問 4			問 5				
問 6				問 7			
問 8							

3

問 1				問 2			
問 3		問 4	㊦		㊧		