

2021年度

豊島岡女子学園中学校

入学試験問題

(1回)

社 会

注意事項

1. 合図があるまで、この冊子を開いてはいけません。
2. 問題は **1** から **3**、2 ページから 7 ページまであります。
合図があったら確認してください。
3. 解答は、すべて指示に従って解答らんに記入してください。
4. 解答用紙は理科と共通になっています。

1 次の文章を読んで問いに答えなさい。

皆さんは公園での外遊びは好きですか。(ア)新型コロナウイルス感染拡大防止のための休校期間中、運動不足を解消するために、近所の公園でジョギングや体操をした人もいたのではないのでしょうか。公園の多くは誰でも無料で自由に利用することができる社会的共通資本で、(イ)国や地方公共団体が提供しており、日本では、公園は(ウ)法律的に自然公園法にもとづく国立公園、国定公園、都道府県立自然公園と、都市公園法にもとづく都市公園とに分けられています。また、現代の公園は、憩いの場としてだけではなく、(エ)防災機能を有し災害時の避難場所などとしても重要な役割を担っています。

一昨年の秋ごろ、東京都内の小学6年生が公園でのボール遊びを求めて区議会に(オ)陳情書を提出したことが話題となりました。少子高齢化にともなって公園が高齢者向けの健康器具を備えるようになってるとともに、公園での禁止事項が増加し、昨今の公園には「ボール遊び禁止」「木登り禁止」「大声禁止」などの注意書きの看板が多く見られるようになっていきます。こうした状況に対し、遊ぶことや大声を出すことは子どもの権利であるとする声もあります。東京都は、環境確保条例で子どもの声はもちろん、足音、遊具音、楽器音などについても規制の対象から除外しました。また、1989年に国連総会で、すべての子どもに人権を保障する法的拘束力のある国際条約『(カ)』が採択されましたが、その第31条には、休んだり遊んだりする権利というのが記載されていて、子どもたちが元気に遊ぶことは健やかな発達のための当然の権利と認識されています。

小学生たちの陳情は区議会で審査され、彼らの要望の一部が認められてボール遊びのできる場所や時間帯が拡大したようです。その小学生らは、もうすぐ中学校に進学するので、自分たちがボール遊びをする機会は減るかもしれないけれども、少しでも後輩たちのためになったのならやってよかったと言っています。時代の変化によって遊び場を奪われた子どもたちが、自らの手で遊ぶ権利を取り戻したと言っても良いでしょう。日本国憲法第12条には、国民は不断的努力によって(キ)基本的人権を保持しなければならない、と規定されています。憲法に記されている基本的人権を絵に描いた餅とせず、実現していくのは私たち自身なのです。

問1. 下線部(ア)について、このような活動は各自治体で設置している保健所が中心となって行っています。保健所や保健センターの行っている業務について述べた次の文のうち、適切でないものを一つ選び番号で答えなさい。

1. 飲食店が設置基準を満たしているか確認して営業許可を出している。
2. 水質汚濁の検査などの環境衛生、大気汚染などの環境保健対策を行っている。
3. 乳幼児の発育状況や健康状態を定期的に検査している。
4. 年金受給者の問い合わせに応じて受給資格の確認を行っている。

問2. 下線部(イ)に関連して、国会と内閣について述べた次の文のうち、あやまっているものを一つ選び番号で答えなさい。

1. 内閣が国会に提出する予算の原案は、省庁が作成に関わっている。
2. 衆参両院で可決して成立した法案は、内閣総理大臣によって公布される。
3. 内閣総理大臣は、国会の指名にもとづいて天皇が任命する。
4. 内閣は、不信任案が可決されなくても、衆議院の解散を決めることができる。

問3. 下線部(ウ)にもとづいて、刑事事件では検察官が容疑者を裁判所に訴えることになっていますが、そのことを何といいますか、漢字2字で答えなさい。

問4. 下線部(エ)に関連して述べた次の文のうち、最も適切なものを一つ選び番号で答えなさい。

1. 大雨などで自治体から警戒レベル3と発表されたら、高齢者などは避難を開始する。
2. 大雨や台風接近時には、川や用水路を直接見に行き様子を確認するほうが良い。
3. 大きな揺れの地震が発生した際にガスコンロを使用していた時は、いち早くその火を消す。
4. 小学校・中学校では、防災の日避難場所まで避難する訓練が義務づけられている。

問5. 下線部(オ)に関連して、国や地方公共団体に対して国民が請願する権利は憲法第16条で保障されています。このように、憲法の条文によって保障されている権利について述べた次の文のうち、あやまっているものを一つ選び番号で答えなさい。

1. 私有財産を公共のために収用されたときは、正当な補償を求めることができる。
2. 政府の過失によって損害を受けたときは、賠償を求めることができる。
3. 刑事被告人は、裁判所での裁判を非公開にすることを求めることができる。
4. 無実の罪で抑留・拘禁されていた場合は、補償を求めることができる。

問6. 空らん(カ)にあてはまる条約名を答えなさい。

問7. 下線部(キ)に関連して、基本的人権の尊重のほか、国民主権と平和主義が日本国憲法の三大基本原理とされています。このうち、憲法第9条で定められている平和主義の要素は、戦争の放棄(武力の不行使)、交戦権の否認と、あと一つを何といいますか、5字または6字で答えなさい。

2 次の文章を読んで問いに答えなさい。

昨年は、(ア)が完成してから1300年でした。(ア)は中国にならって編纂された正式な歴史書で、天地の始まりから持統天皇の治世までが記されています。しかし、神話の時代のことが書かれ、初代の神武天皇が即位したのが現在の時代区分では(イ)縄文時代に当たる紀元前660年のこととされるなど、実際の出来事とは思えないことも多く記されています。それは、過去の事実を単に記すのではなく、天皇や朝廷の正当性を示すという意図があって作られたものだからです。(ア)に続いて朝廷では五つの歴史書が作成されましたが、887年の記事を最後に正式な歴史書は途絶えます。

武家政権の時代になると、幕府でも歴史書が編纂されるようになります。鎌倉時代の『吾妻鏡』は、源頼朝の挙兵から(ウ)北条政村が7代執権に就いていた1266年に將軍宗尊親王が京都に送り還されるまでが記されていますが、幕府の事情によって事実が改められて記述されたところもあります。また、(エ)江戸幕府のお抱えの学者である林家によって『本朝通鑑』が作成され、神武天皇から江戸幕府が成立した時の後陽成天皇まで、儒教の考えにもとづいて書かれているとされています。

このほか、個人の手による歴史書にも有名なものがあります。撰関家に生まれながら延暦寺の僧の長である(オ)天台座主となった慈円が著した『愚管抄』は、鎌倉時代の初めに書かれ、道理によって歴史の変化をとらえています。南北朝時代の北畠親房が著わした『神皇正統記』は、(カ)南朝の正統性を歴史的に説き明かそうとしたといえます。さらに、江戸時代の学者で政治にも携わった新井白石は、『読史余論』において江戸幕府の成立に至る歴史を叙述し、独自の時代区分を示しています。これらはいずれも、すぐれた歴史観によって書かれたものとして高く評価されています。

明治時代になると、(キ)欧米から多くの学者や技術者が招かれ、近代的な学問・技術がもたらされました。歴史学においても、(ク)文字で書かれた史料にもとづいて実証的に研究する手法が採り入れられ、これによって、歴史の叙述も飛躍的に発展しました。その一方で、天皇制が強調されることにより、天皇の絶対性とその統治する日本の世界に対する優位性を説く皇国史観という歴史観も生まれ、それが(ケ)近代日本の海外進出を正当化する根拠として利用されました。

歴史書における叙述は、過去の事実を客観的に記すのではなく、特定の意図をもって書かれることもしばしばです。現在の歴史学では、史料を利用するだけでなく、考古学・歴史地理学・文化人類学・民俗学など関係諸学の成果を採り入れた研究が進展しています。これに対し、自分の思い描く歴史を都合よく語っている書物やインターネット情報が多くみられるのも事実です。何が正しいのか、歴史を批判的に読み解く姿勢が大切です。

問1. 空らん（ア）にあてはまる歴史書を、漢字で答えなさい。

問2. 下線部(イ)の特徴を説明した文として、最も適切なものを次から一つ選び番号で答えなさい。

1. 石を磨いて作った磨製石器や、動物の骨や角で作った骨角器が使われた。
2. 牛馬を利用した耕作が行われ、草や木を灰にしたものが肥料とされた。
3. 日本列島は大陸と地続きで、ナウマン象やマンモスが渡ってきた。
4. 当時の生活の様子が描かれた銅鐸が作られ、祭りに使われた。

問3. 下線部(ウ)よりも後に起こった出来事を、次からすべて選び年代の古い順に番号で答えなさい。

1. 永仁の徳政令の発布
2. 御成敗式目の制定
3. 源実朝の暗殺
4. モンゴルの襲来
5. 六波羅探題の設置

問4. 下線部(エ)に関連して、江戸時代の学問について説明した次の文のうち、あやまっているものを一つ選び番号で答えなさい。

1. 外国の影響を受けていない日本古来の考え方を明らかにしようとする国学が発展した。
2. 鎖国体制をとっていたため、西洋の学問は採り入れられなかった。
3. 諸藩は家臣を育成する藩校を創設したり、庶民は寺子屋で読み書きを習ったりした。
4. 身分の区別を説く儒学が重視され、そのうちの朱子学が正学とされた。

問5. 下線部(オ)について、天台宗と同じころに日本にもたらされた宗派として真言宗がありますが、その教えの内容を説明した文として、正しいものを次から一つ選び番号で答えなさい。

1. 阿弥陀仏にすがることにより極楽浄土に往生することができる。
2. 座禅に集中することにより悟りに至る。
3. 三密の修行をすることにより仏と一体化することができる。
4. 南無妙法蓮華経と唱えることにより救われる。

問6. 下線部(カ)に関連して、天皇の正統性を示す宝物と、戦後の高度経済成長期に人々の豊かさを象徴した家電製品は、同じ用語で総称されましたが、それを何といいますか、答えなさい。

問7. 下線部(キ)の一人で、大日本帝国憲法発布の様子を日記にも記しているドイツ人医学者を、次から一人選び番号で答えなさい。

1. クラーク
2. コンドル
3. ビゴー
4. ベルツ
5. モース

問8. 下線部(ク)について、次の史料は江戸時代のある事件に関するものです(現代語訳したものを一部省略)。この史料中の下線部について、その原因として最も適切なものを、下から一つ選び番号で答えなさい。

この頃は米価はますます高騰しているが、大坂(阪)の町奉行や役人たちは、好き勝手の政治をしている。彼らは江戸に米を回しているが、天皇のいらっしゃる京都には米を回さない。……その上勝手なお触書きなどを出し、大坂市内の大商人ばかりを大切に考えている。……隠居している自分だが、もはや我慢できず、……やむをえず天下のためと考え、……まず、民衆を苦しめてきた役人たちを討ち、さらにおごり高ぶってきた大坂の金持ちの町人たちも討つ。そして、彼らが持っている金銀錢や、蔵屋敷に隠している俵米を人々に配る。……

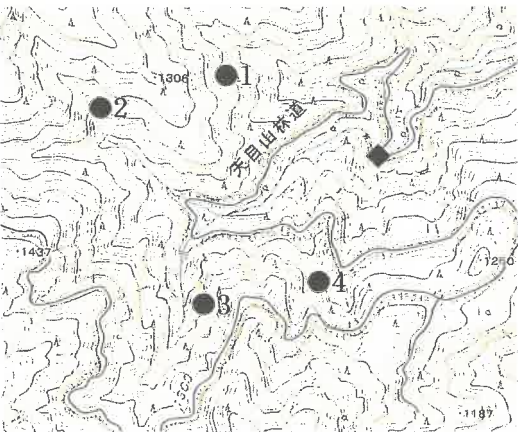
1. 上げ米の制
2. 浅間山の噴火
3. 天保の飢饉
4. 日米修好通商条約の調印
5. 明暦の大火

問9. 下線部(ケ)について説明した次の文のうち、正しいものを一つ選び番号で答えなさい。

- 1. 日清戦争に勝利した日本は、遼東半島と台湾を得てそれらを植民地とした。
- 2. 日露戦争直前に日本は欧米諸国との不平等条約をすべて改正し、日英同盟を締結した。
- 3. 第一次世界大戦を機に日本は中国における利権を拡大させ、中国で反対運動が起きた。
- 4. 国際連盟を脱退した日本は、日独伊三国同盟や日ソ中立条約を結んで日中戦争を始めた。

3 次の問いに答えなさい。

問1. 右の地図は、国土地理院発行2万5千分の1地形図「武蔵日原」の一部です。図中の●1～4の地点のうち、降った雨が◆のところを流れないと読み取れる地点を一つ選び番号で答えなさい。

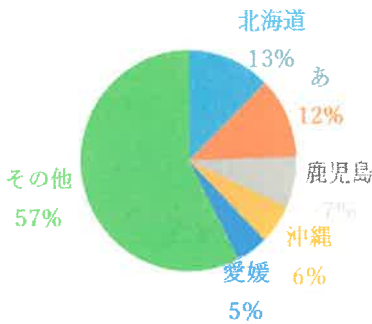


問2. 豊田市のように、ある特定の大きな会社を中心に地域の経済が発展した自治体のことを何と呼びますか、漢字5字で答えなさい。

問3. 春先に日本海で低気圧が発達し、南風が吹くことによって北陸地方で季節外れに気温が高くなることがあります。この時に起こっている現象を何といいますか、答えなさい。

問4. 右のグラフは、都道府県別の海岸線の長さを割合で示したものです(2017年)。図中のあにあてはまる都県を次から一つ選び番号で答えなさい。

- 1. 岩手 2. 高知 3. 東京
- 4. 長崎 5. 三重



『日本国勢図会2020/21』より作成

問5. 右の図中の点は、セメント工場所在地を示したものです(『日本国勢図会2020/21』より作成)。この図から読み取れるセメント工場が分布する条件として、最も適切なものを次から一つ選び番号で答えなさい。

- 1. 人口が多い大都市圏に分布する。
- 2. 降雪量が多い地域に分布する。
- 3. 石灰岩が採れるところに分布する。
- 4. 大きな空港のそばに分布する。



問6. 次の表は、沖縄県、神奈川県、広島県における旅客輸送量(2017年)を示したもので、表中の1～4は、海上(千人)、航空(千人)、営業用自動車(百万人：路線バス・観光バス・タクシーを含む)、鉄道(百万人)のいずれかの旅客輸送手段です。このうち、海上輸送にあたるものを選び番号で答えなさい。

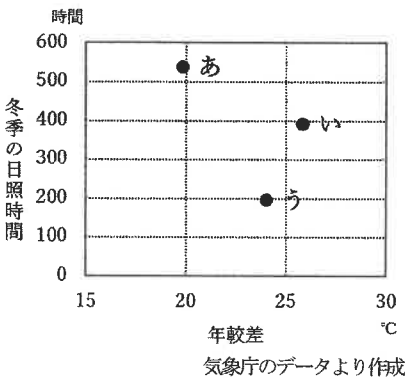
	1	2	3	4
沖縄県	10464	4885	66	18
神奈川県	—	598	806	2916
広島県	1221	9551	144	208

『データでみる県勢2020』より作成

問7. 都道府県別の食料自給率が100パーセントを超える道県は北海道、秋田県、山形県、青森県、新潟県、岩手県の6道県です(2017年度、『データでみる県勢2020』以下出典同じ)。これらの道県の共通点として、最も適切なものを次から一つ選び番号で答えなさい。

- 1. 米の収穫量上位15位(2017年)までにすべて含まれる。
- 2. 人口下位15位(2018年)までにすべて含まれる。
- 3. 肉用牛の飼養頭数上位15位(2018年)までにすべて含まれる。
- 4. 農業産出額上位15位(2017年)までにすべて含まれる。

問8. 右のグラフ中のあ～うは、長野市、新潟市、宮崎市の三都市における、気温の年較差(最寒月と最暖月の平均気温の差)と、冬季(12～2月)の日照時間を示したものです(どちらも1981～2010年平均)。あ～うの都市名の組み合わせとして、正しいものを下の表の1～6から選び番号で答えなさい。



	1	2	3	4	5	6
あ	長野	長野	新潟	新潟	宮崎	宮崎
い	新潟	宮崎	長野	宮崎	長野	新潟
う	宮崎	新潟	宮崎	長野	新潟	長野

問9. 近年、漁師が森に木を植える活動が各地でみられますが、それは林業だけでなく漁業にとっても大きな利点があるからです。漁業にとって植樹をする利点を30字以内で説明しなさい。その際、次の用語を必ず使用しなさい。

「河川」 「好漁場」

2021年度 豊島岡女子学園中学校入学試験

【社 会】

1

問 1	問 2	問 3	問 4	問 5
問 6			問 7	

2

問 1	問 2	問 3	問 4	
問 5	問 6		問 7	問 8

3

問 1	問 2				問 3					
問 4	問 5	問 6	問 7	問 8						
問 9										

得点	<div style="text-align: right; padding-right: 5px;">*</div> <div style="height: 40px;"></div>
-----------	---

*印のらんには書かないこと

座席 番号	<div style="border-left: 1px dotted black; border-right: 1px dotted black; height: 40px; position: relative;"> <div style="position: absolute; top: 50%; left: 50%; transform: translate(-50%, -50%); font-size: 20px;">—</div> </div>
----------	--