

<社会>

問題文 1 か所訂正

3

問5

誤「史料4 北条政子～」

→ 正「資料4 北条政子～」

社 会

(8・M・第1回A)

注 意

- 1 解答はすべて、解答用紙に記入してください。
- 2 問題は 1 から 4 までです。
- 3 時間は 40 分です。

1 次の各問いに答えなさい。

問1 次の日本の島のうち、最も南に位置するものはどれですか。正しいものを、次のア～エのうちから1つ選び、記号で答えなさい。

ア 択捉島 イ 小豆島 ウ 与那国島 エ 沖ノ鳥島

問2 次の日本の川のうち、日本海側に流れ出るものはどれですか。正しいものを、次のア～エのうちから1つ選び、記号で答えなさい。

ア 北上川 イ 信濃川 ウ 長良川 エ 富士川

問3 次の農作物のうち、沖縄県では生産がほとんど行われていないものはどれですか。正しいものを、次のア～エのうちから1つ選び、記号で答えなさい。

ア きく イ さとうきび ウ パイナップル エ りんご

問4 次の県のうち、日本三景の1つがあるところはどれですか。正しいものを、次のア～エのうちから1つ選び、記号で答えなさい。

ア 宮城県 イ 新潟県 ウ 奈良県 エ 鹿児島県

問5 次の都市のうち、鉄鋼業が最もさかんなところはどれですか。正しいものを、次のア～エのうちから1つ選び、記号で答えなさい。

ア 岩手県盛岡市 イ 千葉県千葉市 ウ 山梨県甲府市 エ 高知県高知市

- 2 A ここ数年、茨城県に新しく建設される工場が増えています。次の表は、2023年の工場立地件数の上位3県について、2010年と比較してまとめたものです。このことに関連した、後の問いに答えなさい。

	県名	立地件数	増加数
1	茨城県	75件	36件
2	愛知県	62件	15件
3	静岡県	47件	6件

(茨城県資料による。)

- 問1 茨城県は工場建設に向く平らな土地が広がっていることが、新しく建設が増加する理由の1つとなっています。平らな土地の広さは『可住地面積』という言葉で表すことができ、可住地面積は総面積から森林や湖沼の面積を引いて計算されます。下の表は、茨城県・北海道・東京都・滋賀県の可住地面積・総面積・森林面積を示したものです。このうち、東京都と滋賀県に当てはまるものを、表内のア～ウのうちからそれぞれ選び、記号で答えなさい。

	可住地面積	総面積	森林面積
茨城県	3,889	6,098	1,976
ア	22,690	83,421	56,726
イ	1,429	2,200	763
ウ	1,300	4,017	2,037

(単位はkm²。2023年度総務省調査による。)

- 問2 茨城県では、部品や完成した製品を輸送するのに便利な高速道路の整備が進んでいます。下の文は、茨城県内を通る高速道路について簡単に説明したものです。このうち、常磐自動車道と北関東自動車道を説明した文として正しいものを、次のア～ウのうちからそれぞれ選び、記号で答えなさい。

- ア 関東地方の内陸部と太平洋を東西に結んでいる。群馬県から栃木県を通過して、茨城県に達する。
 イ 東京都心から半径数十kmの位置に環状に通過する。茨城県から、埼玉県や千葉県に移動できる。
 ウ 首都高速道路を通じて東京都へ直接行き来できる。茨城県や福島県を北上し、宮城県まで達する。

- 問3 下の図は、「茨城県がなぜ新たに工場を建設する場所として選ばれやすいのか」について考えられるいくつかの要素を、パネルのように表したものです。また、後の文ア～エは、これらの要素について、確かなものであるかどうかを調べるための方法をまとめたものです。『それぞれの要素が確かなものであるかを調べるための方法』として最も適したものを1つ選び、記号で答えなさい。

原材料の入手の 便がよい!	本社のある東京と 行き来しやすい!	地価が 比較的安い!	地元に住む人を 雇いやすい!
------------------	----------------------	---------------	-------------------

- ア 原材料の入手の便がよいことを確かめるために、茨城県内各地の港で水揚げされる魚の種類や量を調べる。
 イ 東京との近さを確かめるために、工場の最寄りの駅やバス停に、工場から徒歩で向かうとどれくらい時間がかるのかを調べる。
 ウ 地価が他の県に比べて安いことを確かめるために、経済産業省の担当者に問い合わせ、過去30年の物価の上下の様子を調べる。
 エ 地元に住む人を雇いやすいことを確かめるために、工場で働く従業員のうち、地元に住む人の割合を調べる。

B 茨城県だけでなく、産業によってさまざまな要素を求めて、施設が立地しやすい場所は決まります。このことに関連して、次の問いに答えなさい。

問4 製品の特長や輸送のしやすさなどによって、同じ企業の工場であっても、生産される主な製品は場所によって異なります。次の文ア・イは、ある乳製品メーカーの工場のうち、北海道と茨城県に位置する工場の様子を簡単にまとめたものです。北海道・茨城県のどちらの工場を説明したものか、正しいものをそれぞれ選び、記号で答えなさい。

ア 牛乳を加工するほか、保存がききやすいバターや粉末ミルクを生産する工場が多い。

イ 工場の近くの牧場でしぼった牛乳を、安全に飲めるように加工する工場が多い。

問5 茨城県では物流（ここでは、物流とは輸送や配送のこと）に関する施設の建設も増加しています。これに関連する下の文を読み、空欄①・②に当てはまる語句を、それぞれ答えなさい。ただし、①は3字、②は5字以内で答えること。

近年、スマートフォンやパソコンを使ったインターネット通販が普及したことで、宅配便の取り扱いの数が増えています。これに伴い、商品を大量に保管する倉庫の建設が茨城県をはじめ全国各地で進みました。宅配便の取り扱いが増える一方、荷物を受け取る人が自宅を不在にすることで、あらためて配送し直さなければならない①が増加しており、②への負担が大きな問題となっています。

②は過酷な労働を強いられているため、人手不足が心配されています。茨城県にもみられる、高齢化や人口の減少が進む地域では、利用者や配送される荷物の数が少なくなると見込まれます。人手不足が続くと、将来、輸送や配送の回数が大きく減って荷物を運んでもらえなくなるおそれがあります。こうした問題に対応するため、乗客と一緒に荷物を載せて運んだり、②不足を補うドローンやロボットで運んだりする方法が研究されています。

3 次の文章を読み、後の問いに答えなさい。

院政とは、在位中の①天皇の親（父・祖父）にあたるものが、天皇にかわって天下を支配するという政治体制のことです。院政を行う人物は、もともと、天皇であったことが原則ですが、現在の天皇の親であることが第一の条件といえます。歴史上、天皇以外で政治の権利を握ったものに、②古代では③藤原氏^{ふじわら}がその地位についた④摂政・関白^{かんぱく}があり、中世では⑤源頼朝^{げんらいちょう}の⑥征夷大將軍^{せいゐだいしやうぐん}があります。⑦江戸時代に征夷大將軍となった⑧徳川氏^{とくがわ}は「大君」と呼ばれました。

江戸時代の末期になると、⑨鎖国の方針^{こくわ}を変えて開国した頃^{ころ}から、武士の中では外国の勢力を追い払おうとする動きが起こり、幕府將軍の支配力が弱まっていきました。このような動きの中で、將軍から政権が天皇に返還^{へんかん}されました。1889年に制定された⑩大日本帝国憲法^{たいにっぽんていこくけんぽう}で規定されているように、⑪明治時代以降^{めいし}の天皇には、天皇大権と呼ばれる大きな権力が与えられました。その中には、⑫条約を締結する権利^{ていやく}や、⑬戦争に関する権利も含まれ、外交大権とも呼ばれます。

問1 下線部①に関連して、古墳時代にヤマト政権の中心となった大王が、後に天皇となったとされています。

図1の江田船山古墳と稲荷山古墳からは、同じ「ワカタケル大王」の名が刻まれた鉄剣・鉄刀がそれぞれ出土されています。このこともふまえて、図1からわかることとして適切でないものを、後のア～エのうちから1つ選び、記号で答えなさい。

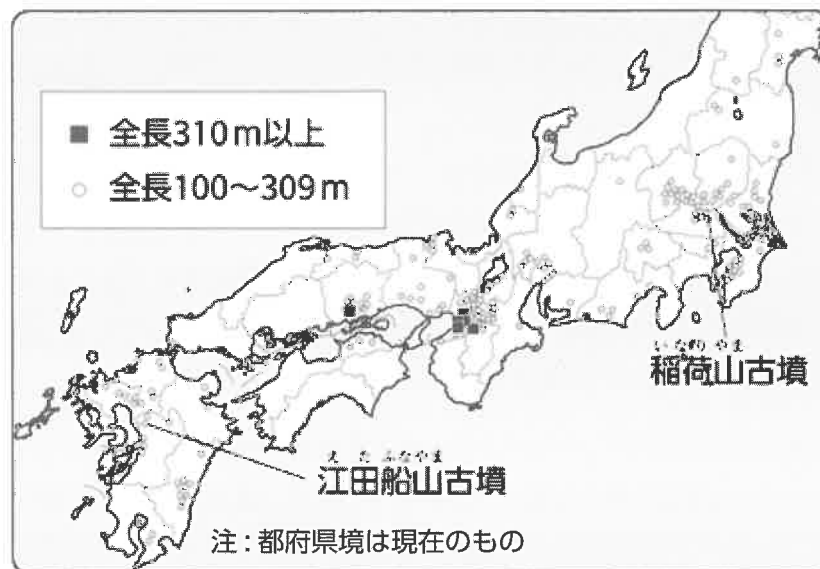


図1 前方後円墳の分布

- ア ヤマト政権の影響^{えいぎやう}は、東北地方にもおよんでいたことがわかる。
- イ 「ワカタケル大王」の支配は、関東地方から九州地方に広がっていたことがわかる。
- ウ 全長310m以上の大きな古墳は、全国各地でみられる。
- エ 福島県にも、全長100m以上の古墳がみられる。

問2 下線部②に関連して、弥生時代の日本の様子は、中国の歴史書からうかがうことができます。次の史料2の内容について述べた文として正しいものを、後のア～エのうちから1つ選び、記号で答えなさい。

…下戸（民衆）が大人（有力者）と道で会うと、後ずさりして草むらに入り、話すときには、ひざまずき両手を地につけて敬意を示す。…もとは男子が王であったが、国内が乱れて戦いが何年も続いた。そこで、王たちが相談して、一人の女子を王にした。それが卑弥呼である。卑弥呼には、まじないをする力があり、夫はなく、弟が助けて国を治めている。1000人の女子に身の回りの世話をさせている。宮殿には物見やぐらやさくがあり、武器を持った兵士が守りにについている。…卑弥呼が死ぬと、大きな墓が造られ、100人余りの奴隷がいっしょに埋められた。その後、男の王を立てたが、人々は従わない。…卑弥呼の一族で13歳の娘が女王となると、国は安定した。…

史料2 「魏志倭人伝」に記された邪馬台国

- ア 邪馬台国には、人々の間に身分差があったと考えられる。
- イ 卑弥呼は占いやまじないの力があつたが、夫が補佐をしていた。
- ウ 卑弥呼の世話は、弟が1人で行っていた。
- エ 卑弥呼が亡くなった後は、すぐに13歳の娘が女王となり、邪馬台国には平和が続いた。

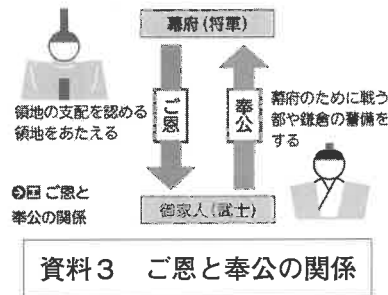
問3 下線部③に関連して、藤原氏の祖は645年に中大兄皇子とともに蘇我氏をたおした人物です。この人物の名前を漢字で答えなさい。

問4 下線部④に関連して、摂政と関白が権力を持っていた摂関政治の時代について述べた文A～Dについて、正しいものの組み合わせを、後のア～エのうちから1つ選び、記号で答えなさい。

- A 摂関政治の全盛期を築いた藤原道長は、「この世をば わが世とぞ思う…」からはじまる和歌を詠んだことで知られる。
- B 都の貴族たちは、書院造と呼ばれる広い屋しきに住み、けまりなどの遊びを楽しんだ。
- C この時代には、日本風の文化が栄え、能や狂言が生まれた。
- D 朝廷に仕えていた女性たちの中には、清少納言のように豊かな教養や文章の才能をもつ人々がいた。

- ア A・C イ A・D ウ B・C エ B・D

問5 下線部⑤に関連して、ショウヘイさんとユウセイさんは鎌倉時代について学習する中で次の資料3・資料4を見つけ、それに関わるメモを作成しました。2人のメモについて述べた文として最も正しいものを、後のア～エのうちから1つ選び、記号で答えなさい。



みな心を一つにして聞きなさい。これが最後の言葉です。頼朝公が朝廷の敵をたおし、幕府を開いてからは、官職といい、土地といい、みながいただいた恩は山より高く、海より深いものです。みなむくがそれに報いたいという志はきつと浅くないはずです。その恩に報いようと思う者は、力を合わせて敵軍をうち、幕府を守りましょう。

史料4 北条政子の訴えうた（『吾妻鏡』）あづまがみ

ショウヘイさんのメモ

鎌倉幕府と御家人はご恩と奉公の関係で結ばれていたが、元との戦いの後には、御家人に十分なほうび（ご恩）を与えることができなかつたことで、御家人が不満をもつようになった。

ユウセイさんのメモ

源頼朝の妻である北条政子の訴えによって御家人たちは団結し、朝廷の軍を破ることに成功した。

- ア ショウヘイさんのみ正しい。 イ ユウセイさんのみ正しい。
ウ 2人とも正しい。 エ 2人とも正しくない。

問6 下線部⑥に関連して、室町幕府の将軍について述べた次の文A～Dについて、正しいものの組み合わせを、後のア～エのうちから1つ選び、記号で答えなさい。

- A 3代将軍足利義満は、当時の中国と貿易を始めて、たくさんの富をたくわえた。
B 3代将軍足利義満が保護したことで、枯山水とよばれる様式の庭園の技法が完成した。
C 8代将軍足利義政は、京都の東山に銀閣を建てた。
D 8代将軍足利義政の時代には、江戸の町人たちが中心となった新しい文化が生まれた。

- ア A・C イ A・D ウ B・C エ B・D

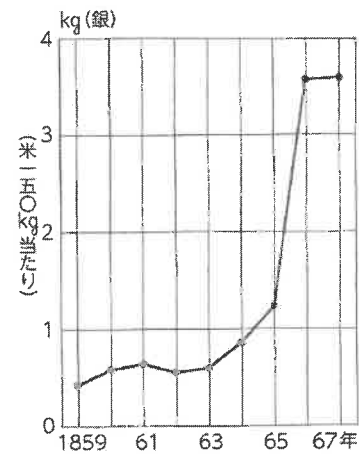
問7 下線部⑦に関連して、「古事記伝」を書きあげ、古くからの日本人の考え方を明らかにしようとする学問である国学を発展させた人物の名前を、漢字で答えなさい。

問8 下線部⑧に関連して、徳川氏やその政策について述べた次の文A～Cについて、年代順に並べたものとして正しいものを、後のア～カのうちから1つ選び、記号で答えなさい。

- A 大名が領地（藩）と江戸を1年おきに行き来する参勤交代の制度を定めた。
 B 武家諸法度というきまりを定めて、これにそむいた大名は、他の土地に移したり、領地を取り上げたりした。
 C 関ヶ原の戦いで、対立する豊臣方の大名たちを破り、全国の大名を従えた。

- ア A→B→C イ A→C→B ウ B→A→C
 エ B→C→A オ C→A→B カ C→B→A

問9 下線部⑨に関連して、資料5は幕末の米の値段の移り変わりを示したものです。このグラフについて説明した文a・bと、このころの政治について説明した文c・dについて、正しいものの組み合わせを、後のア～エのうちから1つ選び、記号で答えなさい。



資料5 幕末の米の値段の移り変わり

- a 国内の品物が不足したことで、米の値段も上がり、人々の生活は苦しくなった。
 b 海外から多くの品物が輸入されるようになったことで、米を含めた生活用品の値段は下がっていった。
 c ペリーと日米和親条約を結んだことで、横浜や長崎などでの貿易を認めることになった。
 d 長州藩や薩摩藩などの武士の中では、外国の勢力を追い払おうとする動きが起こった。

- ア a・c イ a・d
 ウ b・c エ b・d

問10 下線部⑩に関連して、憲法を制定する過程で発生した自由民権運動について述べた次の文あ～うについて、年代順に並べたものとして正しいものを、後のア～カのうちから1つ選び、記号で答えなさい。

- あ 全国から国会開設を求める署名が政府に提出され、政府はのちに国会を開くことを約束した。
 い 板垣退助らが政府に意見書を提出して、広く国民の意見を聞いて政治を進めるべきだと主張した。
 う 憲法にもとづいた最初の選挙が行われたが、このとき選挙権をもつことができたのは、一定の金額以上の税金を納めた25歳以上の男性に限られた。

- ア あ→い→う イ あ→う→い ウ い→あ→う
 エ い→う→あ オ う→あ→い カ う→い→あ

問11 下線部⑪に関連して、明治時代に活躍した人物について、ジョウさんとサブロウさんはメモを作り、その写真をはりつけました。2人のメモと写真について述べた文として正しいものを、後のア～エのうちから1つ選び、記号で答えなさい。

ジョウさんのメモ・写真

政府はこの人物を中心に、皇帝の権限が強いドイツの憲法などを参考にして、大日本帝国憲法を發布した。



サブロウさんのメモ・写真

南米やアフリカをおとずれ、黄熱という原因不明の感染症の調査・研究に取り組んだが、ガーナで黄熱に感染し、亡くなった。



- ア 2人とも、メモの内容と写真の人物が一致している。
- イ 2人とも、メモの内容と写真の人物が一致していない。
- ウ ジョウさんのみ、メモの内容と写真の人物が一致している。
- エ サブロウさんのみ、メモの内容と写真の人物が一致している。

問12 下線部⑫に関連して、1911年に関税自主権を確立し、不平等条約の改正を達成したときの外務大臣は誰ですか。正しいものを、次のア～エのうちから1つ選び、記号で答えなさい。

- ア 東郷平八郎 イ 田中正造 ウ 陸奥宗光 エ 小村寿太郎

問13 下線部⑬に関連して、昭和天皇のラジオ放送によって、国民に日本の降伏が伝えられた戦争の名前は何か。正しいものを、次のア～エのうちから1つ選び、記号で答えなさい。

- ア 日清戦争 イ 日露戦争 ウ 第一次世界大戦 エ 太平洋戦争

4 次の各問いに答えなさい。

- 問1 日本国憲法に関する説明として適切でないものを、次のア～エのうちから1つ選び、記号で答えなさい。
- ア 日本国憲法では、すべての国民が基本的人権を持っていると定められている。
 - イ 日本国憲法では、戦争を放棄し、戦力は持たないと定められている。
 - ウ 日本国憲法では、裁判所が国の最高機関であると定められている。
 - エ 日本国憲法では、憲法の改正には国民による投票が必要であると定められている。
- 問2 日本の政治制度に関する説明として適切でないものを、次のア～エのうちから1つ選び、記号で答えなさい。
- ア 裁判所は国会が制定した法律が憲法に合っているかどうかを審査することができる。
 - イ 内閣は「国家のお金の使い道」を決めて、国会に提出する。
 - ウ 国会には内閣が結んだ外国との条約について、承認する権限が与えられている。
 - エ 天皇は国会の助言と承認に基づき、形式的・儀礼的な行為を行うこととされている。
- 問3 平和主義に関する説明として適切でないものを、次のア～エのうちから1つ選び、記号で答えなさい。
- ア 日本の国会と政府は「核兵器を持たず、つくらず、持ちこませず」という非核三原則を表明している。
 - イ 自衛隊は、日本を防衛するための部隊であり、日本国憲法制定と同時に作られた。
 - ウ 自衛隊は、地震や台風など災害が発生した時の救助活動なども行っている。
 - エ 日本国憲法前文には世界の人々が恐怖と欠乏から免かれ、平和のうちに生存する権利があると書かれている。
- 問4 次の資料Aの(X)に当てはまる語句を、後のア～エのうちから1つ選び、記号で答えなさい。

資料A

チャットGPTは、オンライン上の文章など大量のデータを読み込み、利用者の求めに応じて文章を作成する。著名作家や報道機関の記事と似た文章が生成された場合、(X)侵害に当たる恐れがある。出版の際には本来、チェックが欠かせないが、どこまで行き届いているかは不透明だ。

(読売新聞 2023年4月26日)

- ア プライバシー権
 - イ 自由権
 - ウ 肖像権
 - エ 著作権
- 問5 税について説明した次の文A～Cについて、正しいものをすべて選んだとき最も適切な組み合わせを、後のア～クのうちから1つ選び、記号で答えなさい。
- A 消費税はモノやサービスを消費したときに課税される税金で、社会保障のために使うことが法律で決まっており、教育や子育て支援に使うことはできない。
 - B 自分の住んでいる市や県に納め、地域のために使われる税金を住民税といい、「ふるさと納税」も住民税に含まれる。
 - C 仕事でかせいだお金などにかける税金を所得税といい、所得の金額に関係なく、一律で10%の税率が課せられることになっている。
- ア AとBとC
 - イ AとB
 - ウ AとC
 - エ BとC
 - オ A
 - カ B
 - キ C
 - ク 正しいものはない

問6 以下は太郎さんが夏休みの宿題として提出した「世界の国々」について調べたカードの一部です。カードの国名A～Dと、地図中の場所①～⑥との組み合わせとして適切なものを後のア～キのうちから1つ選び、記号で答えなさい。

国名「 A 」

- ・いろいろな民族の人々が暮らす多民族国家
- ・イスラーム教徒の人が多いが、仏教徒やヒンドゥー教徒の人もある
- ・赤道の近くにあり、1年中温暖な気候

国名「 B 」

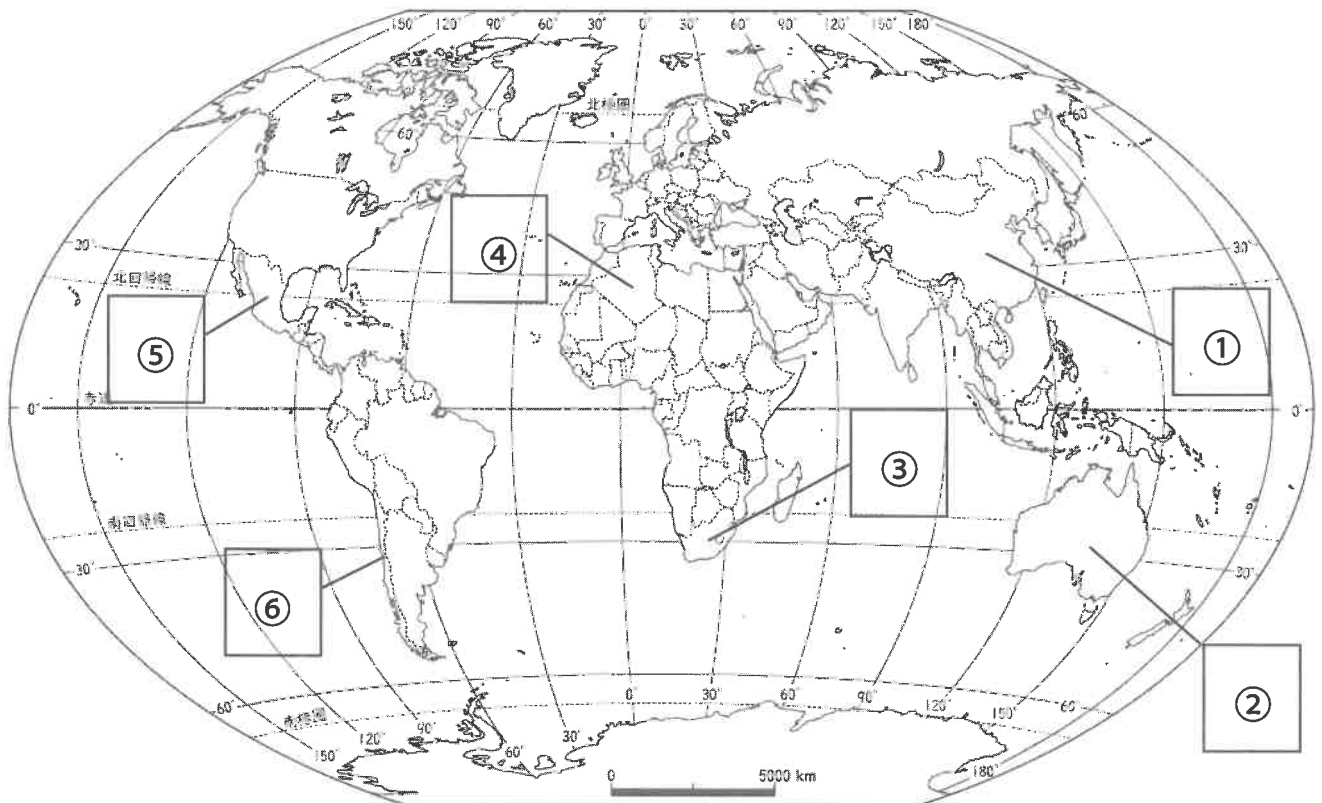
- ・国王がいるが、政治は内閣や議会が中心
- ・周囲を海に囲まれた島国である
- ・2020年にEU（欧州連合）から離脱した^{りだつ}

国名「 C 」

- ・首都には近代的なビルが立ち並んでいる
- ・イスラーム教の聖地メッカやメディナがある
- ・石油資源が豊富な国である

国名「 D 」

- ・国民の多くがスペイン語を話す
- ・太平洋に面しており、南北に長い形状
- ・アメリカ、カナダと3国で貿易協定を結んでいる



- ア A-① イ A-③ ウ B-② エ C-③
 オ C-④ カ D-⑤ キ D-⑥

問7 次の資料Bの(Y)に当てはまる語句を後のア～エのうちから1つ選び、記号で答えなさい。(Y)には世界の人々の健康を守るために存在する国際機関の名称が入る。

資料B

新型コロナウイルスの教訓などを議論する第10回日経・FT^{かんせんしゅう}感染症会議^{しゅざい}(主催・日本経済新聞社、共催・英フィナンシャル・タイムズ)が16日、東京都内で開幕した。(Y)のテドロス事務局長がビデオレターを寄せ、「次のパンデミックが起こるのを待ってから教訓を生かすのではいけない。世界が団結して緊急事態^{きんきゅう}への備えを強化する必要がある」と訴えた。(日本経済新聞 2023年10月16日)

ア WHO イ PKO ウ UNESCO エ UNICEF

社会

(8・M・第1回A)

受験番号	得点
	※

解答用紙

※印のらんには記入しないこと

1	問1	問2	問3	問4	問5

2	問1		問2		問3
	東京都	滋賀県	常磐自動車道	北関東自動車道	
	問4		問5		
	北海道	茨城県	①		

3	問1	問2	問3		問4
	問5	問6	問7		問8
	問9	問10	問11	問12	問13

4	問1	問2	問3	問4	問5
	問6	問7			