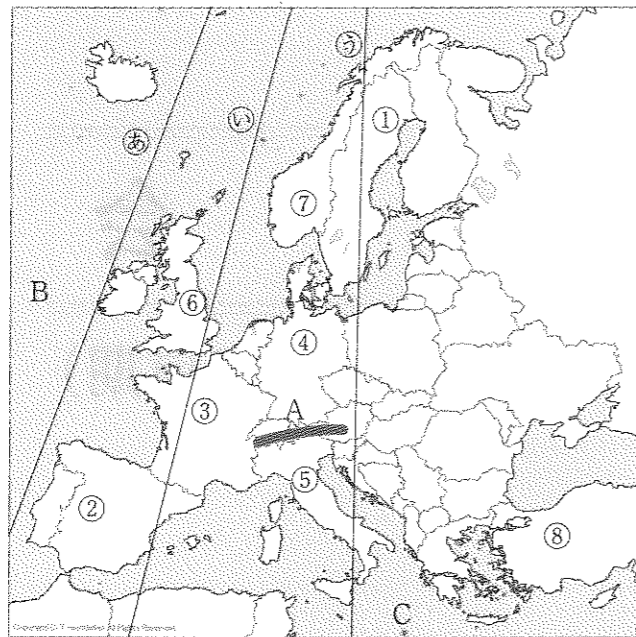


① 次の地図は、ヨーロッパの国々をあらわしたものです。この地図を見て、各問いに答えなさい。



問1 地図中の①～⑤にあてはまる国名を、次のア～コからそれぞれ1つずつ選び、記号で答えなさい。

- | | | | |
|--------|---------|----------|---------|
| ア ドイツ | イ ギリシア | ウ スペイン | エ デンマーク |
| オ イタリア | カ ベルギー | キ スウェーデン | ク オランダ |
| ケ フランス | コ ノルウェー | | |

問2 地図中の⑥～⑧の中で、今年の6月にEU脱退を決定した国を1つ選び、記号とその国の国名をそれぞれ答えなさい。

問3 本初子午線はどれか。地図中の㉑～㉓から1つ選び、記号で答えなさい。

問4 地図中のA～Cの山脈や海洋の組み合わせとして正しいものを、次のア～エから1つ選び、記号で答えなさい。

	A	B	C
ア	ヒマラヤ山脈	地中海	大西洋
イ	アルプス山脈	地中海	大西洋
ウ	ヒマラヤ山脈	大西洋	地中海
エ	アルプス山脈	大西洋	地中海

② 茨城中学校では、毎年7月に中学1年生の林間学校で尾瀬ヶ原に出かけています。次の地図は、尾瀬ヶ原をふくむ尾瀬国立公園の4県をあらわしたものです。この地図を見て、各問いに答えなさい。



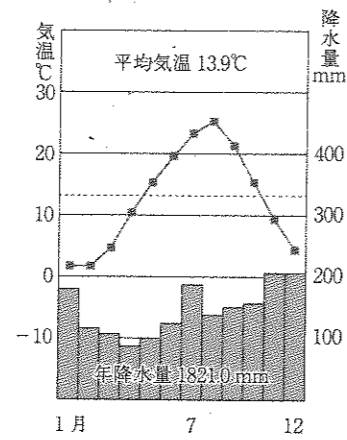
問1 次のA～Dの文は、4県について紹介したものです。それぞれの県名と紹介した文章の組み合わせとして正しいものを、以下のア～エから1つ選び、記号で答えなさい。

- A この県の西部には高原野菜の産地がある。県の中央部には、日本国内でも有数の大河である利根川が流れている。
- B この県は北海道に次いで米の生産量が多い。県の中央部を流れる信濃川は、日本一の長さである。冬は多量の積雪が見られる。
- C この県には徳川家康をまつた東照宮があり、世界遺産にも登録されている。イチゴの生産量は全国1位である。
- D この県の中央部には日本で4番目の広さを持つ湖がある。モモヤリンゴの生産量も全国有数である。

	A	B	C	D
ア	長野県	栃木県	福島県	群馬県
イ	群馬県	新潟県	福島県	栃木県
ウ	長野県	栃木県	群馬県	福島県
エ	群馬県	新潟県	栃木県	福島県

問2 この4県の県庁所在地で、新幹線の駅がない都市が1つあります。この都市名を漢字で答えなさい。

問3 下の図は4県の県庁所在地のうち、1つの都市の気温と降水量をあらわしたものです。この都市名を漢字で答えなさい。




問4 気温は標高が100m高くなるごとに0.6°Cずつ下がります。標高1400mの尾瀬ヶ原は、標高0m付近が30°Cの時およそ何°Cになるか。もっとも近いものを次のア～エから1つ選び、記号で答えなさい。

- ア 約18°C イ 約20°C ウ 約22°C エ 約24°C

3 次の文章を読み、各問いに答えなさい。




A



B



C



D

日本では昔から、絵画や美術がたくさん残されています。今から約1700年前の古墳時代には、古墳のかべに絵画が残されており、日本風の文化が生まれた平安時代には、Aのような、貴族の生活ぶりなどをえがいた(1)が生まれました。鎌倉時代になると、武士の世の中になり、Bのような武士の日常生活がえがかれました。室町時代には、中国から(2)のえがき方が伝えられました。雪舟はこの絵を芸術として大成させ、Cのような作品を残しました。江戸時代になると、新しい世の中や人々の様子をえがいた(3)が生まれました。江戸時代の後半には版画の印刷技術が向上し、Dの「東海道五十三次」は、2万枚以上も印刷されました。

問1 文章内の(1)～(3)にあてはまる語句を、次のア～エからそれぞれ1つずつ選び、記号で答えなさい。

- ア 水墨画 イ 大和絵 ウ 油絵 エ 浮世絵

問2 下線部①に関して、大阪府にある、日本で最も大きな古墳の名前として正しいものを、次のア～エから1つ選び、記号で答えなさい。

ア 江田船山古墳 イ 大仙古墳 ウ 稲荷山古墳 エ 熊本古墳

問3 下線部②に関して、平安時代に貴族は大きな屋敷で生活していました。この屋敷の建築様式をなんといいますか。漢字で答えなさい。

問4 下線部③に関して、1192年に源頼朝は鎌倉幕府を開きました。このとき朝廷から任じられた役職として正しいものを、次のア～エから1つ選び、記号で答えなさい。

ア 摂政 イ 関白 ウ 征夷大將軍 エ 太政大臣

問5 下線部④に関して、「東海道五十三次」の作者として正しいものを、次のア～エから1つ選び、記号で答えなさい。

ア 近松門左衛門 イ 歌川広重 ウ 本居宣長 エ 伊能忠敬

④ 次の文章を読み、各問いに答えなさい。



上に示した写真は、岩倉使節団の写真で、明治政府の中心となった人物がうつっています。岩倉具視は、江戸幕府の第15代将軍である（ 1 ）が政権を朝廷に返したのち、新しい政府を主導して活やくしました。大久保利通は、使節団の一員としてヨーロッパをまわったのち、政府の要職につきました。多くの官営工場^①を建てるなど、政府の力で産業をさかんにしようとしてしました。木戸孝允は、1868年に明治天皇の名で出された政治の方針を作成した^②ことで知られています。伊藤博文は、皇帝の権力が強い（ 2 ）の憲法を学び、大日本帝国憲法を作成した1人です。

このように、写真にうつっている人々を中心に新しい時代が始まりました。そして、1894年の日清戦争や1904年の日露戦争^③を通じて、日本は強い国となっていきました。その後日本は太平洋戦争に敗れてしまいましたが、1964年^④には国際的なイベントをアジアで初めて開きするほどに発展しました。

問1 文章内の（ 1 ）にあてはまる語句を、次のア～エから1つ選び、記号で答えなさい。

ア 徳川家康 イ 徳川秀忠 ウ 徳川家光 エ 徳川慶喜

問2 下線部①に関して、フランス人をまねいて群馬県に建てられた官営工場^①で、2014年には世界遺産に認定された工場をなんといいますか。漢字で答えなさい。

問3 下線部②に関して、この政治方針として正しいものを、次のア～エから1つ選び、記号で答えなさい。

ア 5か条の御誓文 イ 徴兵令 ウ 内閣制度 エ 大化の改新

問4 文章内の（ 2 ）にあてはまる国名として正しいものを、次のア～エから1つ選び、記号で答えなさい。

ア アメリカ イ イギリス ウ フランス エ ドイツ

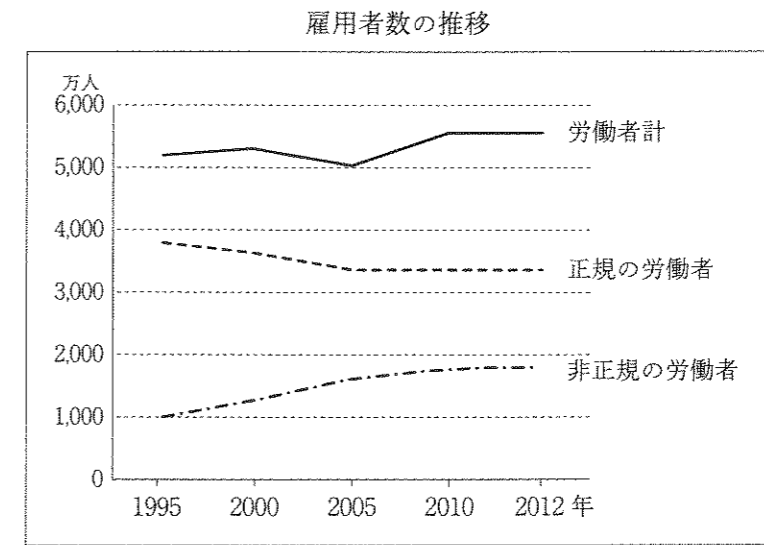
問5 下線部③に関して、日ロ戦争のさいに「君死にたまふことなかれ」を発表し、戦争に反対した人物とはだれですか。正しいものを、次のア～エから1つ選び、記号で答えなさい。

- ア 田中正造 イ 津田梅子 ウ 与謝野晶子 エ 平塚雷鳥

問6 下線部④に関して、1964年に東京で開かれたこの国際的な大会とはなんですか。カタカナで答えなさい。

5 次の日本の現代政治、経済に関する各問いに答えなさい。

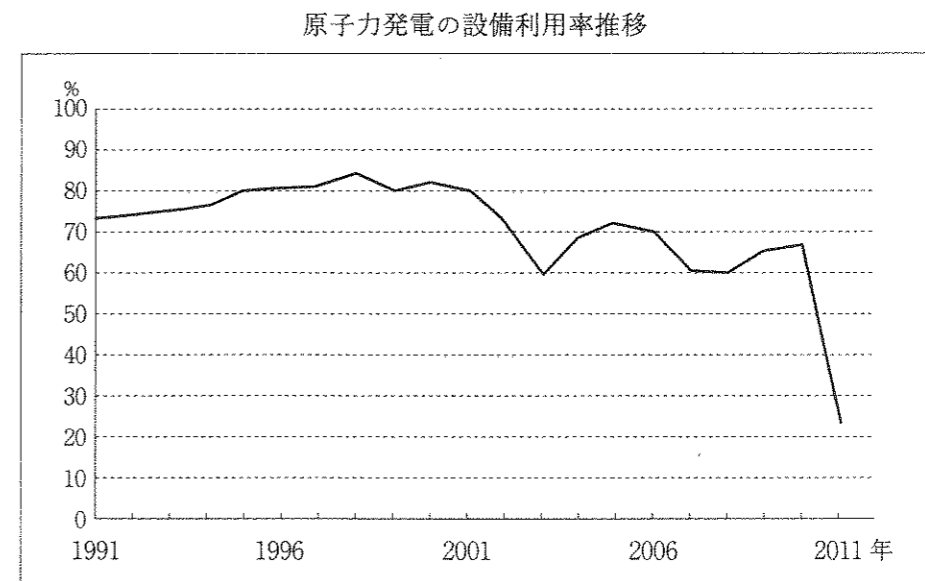
問1 次のグラフは1995年から2012年までの日本の雇用者数の推移を示したものです。グラフを参考にしながら、日本の労働環境を説明した文として正しいものを、下のア～エから1つ選び、記号で答えなさい。



(国勢図会 2013/14)

- ア 少子化が進んだことで、労働者の数は1995年から2012年の間に減少した。
 イ 正規の労働者の数は、1995年と比べて2012年では増加している。
 ウ 法律が変わったこともあり、非正規労働者の数は増加している。
 エ 非正規労働者のうち、パートは減少したが、派遣労働者は増加した。

問2 次のグラフは、原子力発電所が、ある期間に休まずにフル出力で運転したときに得られる電力量に占める同期間に実際に生み出した電力量の割合を示したものです。2010年から2011年にかけて割合が減っている理由を答えなさい。



(国勢図会 2015/16 より抜粋)

問3 日本の国会や内閣の働きについて説明した文としてあやまっているものを、次のア～エから1つ選び、記号で答えなさい。あやまっている文がない場合は、オと答えなさい。

- ア 国会での話し合いは、国民の代表者である国会議員によって進められる。
- イ 国会は憲法の改正を国民に提案することができる。
- ウ 内閣は国会で決められた予算や法律にもとづいて、いろいろな仕事を行う。
- エ 内閣は衆議院の解散を決めることができる。

問4 国の政治のあり方を最終的に決める権利は国民にあります。そのことについて説明した文として正しいものを、次のア～エから1つ選び、記号で答えなさい。

- ア 法律を改正するとき、国民が賛成または反対の投票をすることができる。
- イ 国民は内閣総理大臣や各省庁の国务大臣を選挙で直接選ぶことができる。
- ウ 国民は最高裁判所の裁判官が適した人物かどうか、審査をすることができる。
- エ 国や地方の税金を国民が直接決めることができる。

問5 次の表は、日本の戦後の歴史を表したものです。表中の(1)～(3)にあてはまる語句A～Cの組み合わせとして正しいものを、下のア～カから1つ選び、記号で答えなさい。

年	できごと
1946	日本国憲法が公布される
1951	サンフランシスコ平和条約がむすばれる
1956	(1)
1964	東海道新幹線が開業する
1972	沖縄が日本に復帰する
1978	(2)
1985	男女雇用機会均等法が公布される
1989	元号が昭和から平成に変わる
1995	(3)
2002	日韓サッカーワールドカップが開催される

- | | |
|-----------------------|---------------------------|
| A 日本と中国が平和友好条約をむすぶ | ア (1) - A (2) - B (3) - C |
| B 阪神・淡路大震災がおこる | イ (1) - A (2) - C (3) - B |
| C 日本とソビエト連邦の外交関係が回復する | ウ (1) - B (2) - A (3) - C |
| | エ (1) - B (2) - C (3) - A |
| | オ (1) - C (2) - A (3) - B |
| | カ (1) - C (2) - B (3) - A |

問6 2016年はアメリカで大統領を決める選挙が実施されました。アメリカの政治制度について説明した文として正しいものを、次のア～エから1つ選び、記号で答えなさい。

- ア アメリカでは6年に一度、大統領を決める選挙が行われる。
- イ アメリカの大統領になるには、民主党か共和党のどちらかから立候補しなければならない。
- ウ アメリカの議会でもっとも議席の多い政党の党首が大統領に就任する。
- エ アメリカの大統領は軍の最高司令官でもある。


問7 次の記事は、2014年11月5日に茨城高等学校・中学校が主催した講演会に関するものです。講演を行った人が長らく勤めていた機関の名称を漢字4字で答えなさい。

世界で活躍「好奇心が大事」

元国連事務次長の明石康 会を生きる術を語った。

元国連事務次長の明石康(83)が5日、水戸市の駿健教育会館で、茨城中学校の3年生と茨城高校の1、2年生を前に講演会を開き、若者がグローバル社会で働くうえで必要な

明石さんは1957年に日本初の国連職員に。79年から退職する07年までは事務次長を務めた。国際機関で働くうえで必要なのは、上手な英語ではなく話の中身だという。語学も志が必要としながらも、「自分の国の歴史や文化にどうふりと片足を置きつつ、「行ったことのない所へ行



つてみよう」と思うあくなき好奇心を持つことが一番大事」と語りかけた。質疑応答で、国連で働きたいと思うようになったきっかけについて、「(大卒)院生だった50年に国連を訪れ、重光葵外務大臣の国連加盟演説を聞き、胸を打たれたため」と答えた。永藤久継さん(高1)は「これからの日本社会では海外の視点が重要だと気づかされた。今後の勉強の指針にしたい」と話した。

(朝日新聞2014年11月6日)

社会

(29・M・一般前期)

受験番号	得点
	※

解答用紙

※印のらんには記入しないこと

1	問1				
	①	②	③	④	⑤

問2		問3	問4
記号	国名		

2	問1	問2	問3	問4
		市	市	

3	問1			問2	問3
	(1)	(2)	(3)		
	問4	問5			

4	問1	問2	問3	問4
	問5	問6		

5	問1	問2			
	問3	問4	問5	問6	問7