
社 会

(26・M・第1回)

注 意

- 1 解答はすべて、解答用紙に記入してください。
- 2 問題は①から④までです。
- 3 時間は40分です。

① 次の文章を読んで、問いに答えなさい。

現在の私たちの食生活は、輸入された食料が欠かせなくなっています。輸入された食料が増える一方で、国内での農業生産や漁業生産が減り、食料（ ）率が低くなっています。全国には、耕作放棄地がたくさんあります。一方で、輸入先の国で突然の災害などがおきたら、満足に日本に輸出できないこともあるのです。これからはもっと食料を自分たちの国でまかなわなくてはなりません。わたしたちもその協力が必要です。

問1 下線部①について、図1は米、小麦、大豆、肉、野菜、果物、牛乳・乳製品の輸入量の変化を示したものです。米に該当するものを図1中のア～カの中から1つ選び記号で答えなさい。

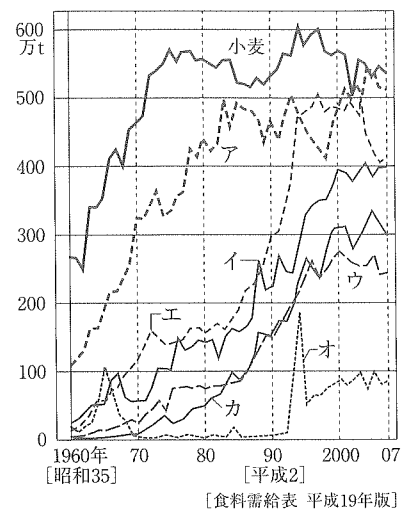


図1 出典：「新しい社会5国」（東京書籍）

問2 下線部②について、国内での農業生産が減ってしまう理由として内容があやまっているものを、次のア～エの中から1つ選び記号で答えなさい。

- ア 農業で働く人数が減っているため。
- イ 農業で働く人の年齢が高くなっているため。
- ウ 全国の田畑の面積が減っているため。
- エ 国内産の食料の品質に不安を持つ人が多くなっているため。

問3 文章中の（ ）に当てはまる語句を、漢字2字で答えなさい。

問4 下線部③について、図2は日本・アメリカ・イギリス・フランス・カナダの主な穀物の国内で生産されている割合を示したものです。日本に該当するものを図2中のア～エの中から1つ選び記号で答えなさい。

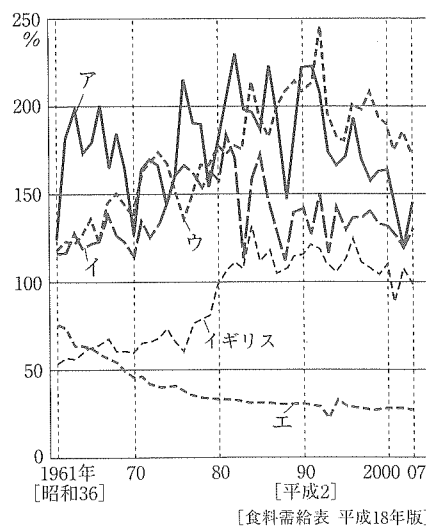


図2 出典：「新しい社会5国」（東京書籍）

問5 下線部④について、問いに答えなさい。

(1) わたしたちが協力できるとり組みとして、最も適当なものを次のア～エの中から1つ選び記号で答えなさい。

- ア 安い食料を海外から大量に輸入する。
- イ 住んでいる土地のそばでとれた食料を消費する。
- ウ 国内のあらゆる地域から食料を集めて消費する。
- エ 品質の高い海外の食料を輸入する。

(2) (1)で答えたとり組みを何といいますか。漢字4字で答えなさい。

② 次の日本各地の地図（図1～図6）を見て、問いに答えなさい。



図1

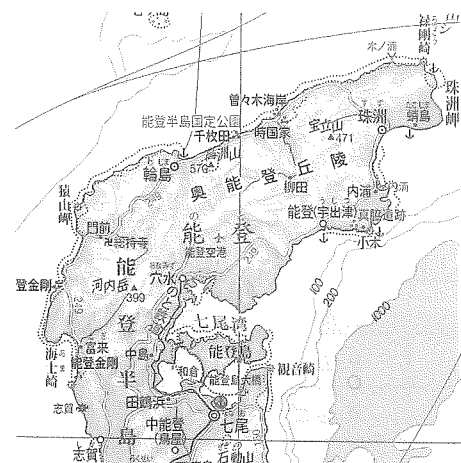


図2

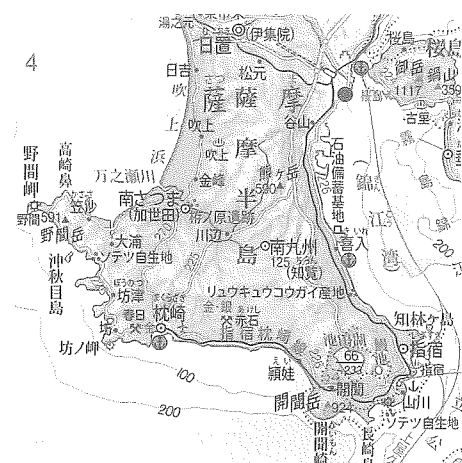


図3

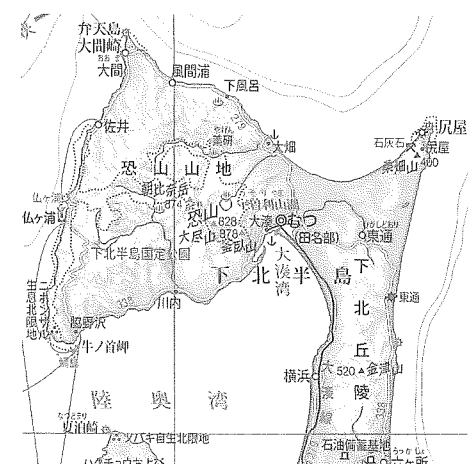


図4

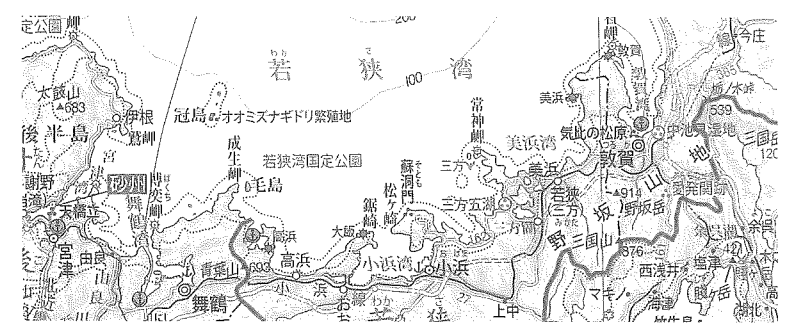


図5

出典：「基本地図帳」（二宮書店）

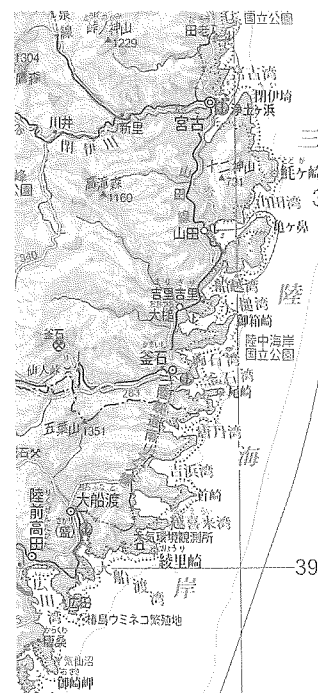


図6

問1 図1～図6について、この地図の中で最も広い面積を占める県名の組み合わせとして、正しいものを表中のア～オの中から1つ選び記号で答えなさい。

	図1	図2	図3	図4	図5	図6
ア	静岡県	鹿児島県	石川県	岩手県	青森県	長崎県
イ	石川県	福井県	青森県	静岡県	岩手県	鹿児島県
ウ	岩手県	静岡県	石川県	鹿児島県	福井県	青森県
エ	福井県	鹿児島県	静岡県	石川県	岩手県	青森県
オ	静岡県	石川県	鹿児島県	青森県	福井県	岩手県

問2 図1～図6について、最も人口が多い県名を答えなさい。

問3 図1・図3・図4の県の農産物生産量が1位の農産物の組み合わせとして、正しいものを表中のア～カの中から1つ選び記号で答えなさい。

	図1	図3	図4
ア	茶	りんご	豚
イ	豚	りんご	茶
ウ	りんご	豚	茶
エ	りんご	茶	豚
オ	豚	茶	りんご
カ	茶	豚	りんご

問4 図6について、この県の海沿いの地域は東日本大震災の際、津波による大きな被害を受けました。

- (1) この海岸線の地形の名称を答えなさい。
- (2) (1)と同じ地形が見られる県を図1～図5の中から1つ選び、県名を答えなさい。

問5 次のA・Bの文は、図1～図6のいずれかの県を説明したものです。どの県を説明したものですか。県名を答えなさい。

- A この県は南北に細長い県です。県庁所在地は人口44.5万人の北陸地方有数の都市です。冬になると雪におおわれる北陸地方では、加賀友禅や輪島塗などの伝統的な産業も多く見られます。
- B この県の南部はシラスとよばれる火山灰が広く分布しています。土地がやせていて水持ちが悪いため、畑作や畜産がさかんです。

③ 日本は昔から、中国や朝鮮などのアジアの国ぐにと、交流がありました。最近では、アメリカ、ヨーロッパやアフリカの国ぐになど、交流の範囲はとて広く広がっています。古代から現在まで、日本と外国との交流についての文を読み、問いに答えなさい。

[A] 日本で最も多く信仰されている仏教は、インドで生まれました。日本には6世紀中頃に伝えられました。聖徳太子は仏教の教えを十七条の憲法に取り入れたり、お寺を立てたりし、仏教を広めようとした。奈良時代①になると、天皇の命令で各地に国分寺が建立されました。鎌倉時代には、念仏を唱えるだけで救われる、といった教えもはじまり、武士の間に仏教が広がりました。

問1 下線部①について、聖徳太子が定めた、家柄や出身地に関係なく能力や功績で役人を取り立てるための制度を何といいますか。漢字5字で答えなさい。

問2 下線部②について、奈良時代の日本の様子について、あやまっているものを次のア～エの中から1つ選び記号で答えなさい。

- ア 全国に『風土記』をつくるよう命令が出された。各地では、その土地の老人などへ、聞き取りをして地名の由来や伝説などを集めた。
- イ 聖武天皇は仏教の力で国を守ろうとして、大仏をつくるよう命令をだした。人びとからしたわれていた僧の行基は、大仏づくりに協力した。
- ウ 中国の唐に使いが送られ、優れた文化や制度などが伝えられた。唐招提寺にある正倉院に、この時の宝物が現在に受けつがれている。
- エ 人びとは租・調・庸といった税をおさめるとともに、都や九州を守る兵士の役を務めなければならなかった。

[B] 戦国時代、ポルトガルやスペインとは、南蛮貿易がおこなわれていました。また、今からちょうど400年前、スペインの協力を得た仙台藩の使節が、③(④)教の中心であるローマまで行きました。(④)教の国ぐにと関係を深くしようという思いがありましたが、日本に帰ってきたときには、(④)教が禁止されていたため、仙台藩の計画はうまくいきませんでした。

問3 下線部③について、南蛮貿易を積極的に支援した戦国大名で、安土城をたてた人は誰ですか。次のア～エの中から1つ選び記号で答えなさい。

- ア 織田信長 イ 武田信玄 ウ 伊達政宗 エ 豊臣秀吉

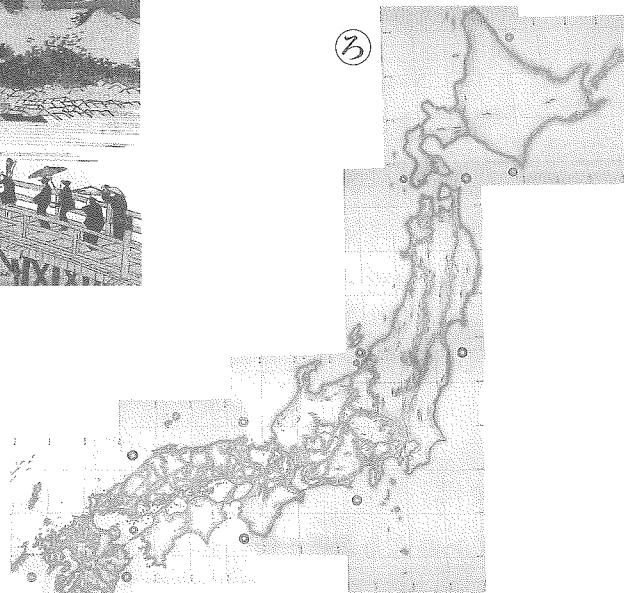
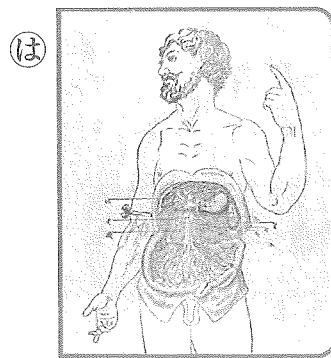
問4 Bの文中の(④)にあてはまる言葉を答えなさい。

[C] 江戸時代から明治のはじめにかけては、オランダやドイツなどとの交流がありました。オランダは鎖国^⑤をしていた日本が交易をしていた国の一つで、長崎の出島で取引をおこなっていました。薩摩焼など、日本の焼き物が輸出されていました。その包み紙に使われたのは浮世絵^⑥で、ヨーロッパではこの「包み紙」に注目が集まりました。ゴッホも自画像の背景に浮世絵を取り込んだものを描いています。この、江戸幕府^⑦が倒れた後、明治になり、ドイツを手本とした憲法づくりがおこなわれました。この憲法が大日本帝国憲法^⑧で、現在の日本の憲法のもとになっています。

問5 下線部⑤について、江戸時代は鎖国をしていたが、オランダのように数か国とは交易をしていました。次のうち交易をしていなかった国(地域)はどこですか。次のア～エの中から1つ選び記号で答えなさい。

- ア 中国 イ 朝鮮 ウ 琉球 エ ロシア

問6 下線部⑥について、江戸時代の文化について、次の①～④の写真と関係のある人名を、ア～エの中からそれぞれ選び記号で答えなさい。



- ア 伊能忠敬 イ 歌川広重 ウ 杉田玄白 エ 本居宣長

問7 下線部⑦について、江戸幕府最後の将軍である、第15代将軍は誰ですか。漢字4字で答えなさい。

問8 下線部⑧について、大日本帝国憲法が公布されたころの日本のようすとして、正しいものを次のア～エの中から1つ選び記号で答えなさい。

- ア 大久保利通が中心となって自由党をつくり、政府に国会開設を求める運動をした。
イ 九州で天草四郎を中心に、不平士族たちの反乱がおこった。
ウ 衆議院の議員が選挙で選ばれ、25歳以上の男女が選挙権を与えられた。
エ 初代の内閣総理大臣に、長州出身の伊藤博文が任命された。

[D] 2014年、サッカーワールドカップが開催されるブラジルには、100年ほど前に日本人が移住^⑨しました。仕事を求めて言葉も文化もちがう土地に、多くの人びとが渡っていきました。

問9 下線部⑨について、1931年以降、日本からモンゴルや中国東北部へとたくさんの人が移住していった。中国東北部の当時の呼び方は何ですか。正しいものを次のア～エの中から1つ選び記号で答えなさい。

- ア 樺太 イ 台湾 ウ 香港 エ 満州

[E] 2020年のオリンピック開催をめぐってのライバルだったトルコは、日本に親しみをもっている国としても知られています。^⑩ そのきっかけは、1890年におこったエルトゥールル号の事件です。トルコの船、エルトゥールル号は日本を訪れた帰り、和歌山県沖で遭難してしまいました。日本の人びとは遭難した人たちを、食べ物を分けたり、寄付を集めたりと、懸命に助けました。その後戦争でトルコとは敵同士になってしまいますが、約100年後、今度は反対に日本がトルコに助けられることとなります。1985年におこったイラン・イラクの戦争のとき、イランにいた日本人を助けるためにトルコが脱出用の飛行機を用意してくれました。日本人は全員が、安全に帰国することができました。現在トルコには、日本の企業がつくった第2ボスポラス橋がかかっていて、ヨーロッパとアジアを結んでいます。

問10 下線部⑩について、アジアで最初のオリンピックが、1964年に東京で開催されました。このころの日本の様子として、あてはまらないものを次のア～エの中から1つ選び記号で答えなさい。

- ア 高速道路や新幹線が建設され、移動の時間が大幅に短くなった。
イ 経済発展のかけで、水俣病などの公害などの環境問題も生まれた。
ウ 辰野金吾が設計したレンガ造りの東京駅が完成し、東京の新しい玄関口になった。
エ 日本の経済が発展して、国民総生産が、アメリカに次いで世界2位になった。

問11 第一次世界大戦のあと、戦争への反省から国際的な平和機関が初めてつくられました。この機関の名称を漢字4字で答えなさい。

4 2012年1月以降の日本や世界の出来事についての年表を見て、問いに答えなさい。

年	日本・世界の出来事
2012	ロシア大統領に (A) 氏が当選 (3月) 東京スカイツリー開業 (5月) 円高ドル安が進行し、1ドル=77円台を記録 (9月) ① 山中伸弥教授らがノーベル生理学・医学賞を授賞 (10月) アメリカ大統領選挙で (B) 氏が再選 (11月) 中国共産党書記長に (C) 氏が選出 (11月) 第46回衆議院議員総選挙実施 (12月) ②
2013	第183回通常国会召集 (1月) ③ 円安ドル高が進行し、1ドル=95円台を記録 (3月) 第46回衆議院議員総選挙に対する裁判所の違憲判決相次ぐ (3月) ④ 第5回アフリカ開発会議が横浜で開催 (5月) ⑤

問1 表中の (A) ~ (C) に当てはまる人物名として、正しい組合せを次のア~エの中から1つ選び記号で答えなさい。

	A	B	C
ア	サルコジ	オバマ	胡錦濤 (フー・チンタオ)
イ	ブーチン	オバマ	習近平 (シー・ジンピン)
ウ	サルコジ	ブッシュ	胡錦濤 (フー・チンタオ)
エ	ブーチン	ブッシュ	習近平 (シー・ジンピン)

問2 下線部①について、円安や円高についての説明として、正しいものを次のア~エの中から1つ選び記号で答えなさい。

- ア 円安は、日本の輸出産業に大きな損害をもたらす。
- イ 円安になると、ガソリンなどの値段が上がる。
- ウ 円高になると円の価値があがり、外国からの輸入品の価格も上がる。
- エ 円高になると、日本から海外へ旅行する人は減ってしまう。

問3 下線部②について、現在の日本の選挙制度について説明した文として、正しいものを次のア~エの中から1つ選び記号で答えなさい。

- ア 選挙で立候補者に投票することは、憲法が定める国民の義務のひとつである。
- イ 衆議院議員は国民の選挙で選ばれるが、参議院議員は天皇による任命で選ばれる。
- ウ 各地方自治体の首長や議員は住民による選挙で直接選ばれる。
- エ 国民には選挙で国会議員を選ぶ権利とともに、裁判官を選ぶ権利が憲法で認められている。

問4 下線部③について、国会や内閣に関する説明として、あやまっているものを次のア~エの中から1つ選び記号で答えなさい。

- ア 国の予算を決めることは、国会の重要な仕事のひとつである。
- イ 国会には内閣が締結した条約を承認する権限が与えられている。
- ウ 内閣の助言と承認により、天皇は「法律や条約の公布」などの仕事を行う。
- エ 内閣と国会は独立した存在であり、内閣の判断で衆議院を解散することはできない。

問5 下線部④について、裁判所に関する説明として、あやまっているものを次のア~エの中から1つ選び記号で答えなさい。

- ア 裁判所には国会が制定する法律が憲法に違反していないかを判断する権限がある。
- イ 国民の感覚や視点を裁判にいかすため、2009年から裁判員制度がスタートした。
- ウ 憲法は国民の裁判を受ける権利を保障している。
- エ 国会の秩序を乱した国会議員は、国会が設置する弾劾裁判所で裁かれる。

問6 下線部⑤の会議では、約50カ国のアフリカ諸国の代表が集い、政治や経済、平和についての話し合いが行われました。このような日本と世界のつながりについて説明した文として、あやまっているものを次のア~エの中から1つ選び記号で答えなさい。

- ア アフリカやアジア諸国のなかで貧困や格差の問題を抱える国に対し、日本は青年海外協力隊の派遣や政府開発援助 (ODA) を行っている。
- イ 日本は石油のほとんどを外国から輸入しており、なかでもサウジアラビアなど中東の国々からの輸入が多い。
- ウ 日本は国際連合の加盟国であり、アメリカやイギリスと同じ常任理事国として、世界の安全保障問題に重要な役割を担っている。
- エ 日本で生活する外国人の数は年々増えており、お互いの文化や価値観を尊重しながら暮らしていく姿勢が必要とされている。

問7 グローバル化が進むなか、商品やサービスの提供先と安い労働力を求めて、海外の国や地域で現地籍の企業も増えました。このような企業を何というか、漢字5字で答えなさい。

社会

(26・M・第1回)

受験番号	得点
	※

解答用紙

※印のらんには記入しないこと

1	問1	問2	問3	問4	問5			
					(1)	(2)		

2	問1	問2	問3	問4	
		県	(1)	海岸	(2) 県

問5	
A 県	B 県

3	問1	問2	問3	問4	問5

問6			問7	問8
①	②	③		

問9	問10	問11

4	問1	問2	問3	問4	問5	問6

問7