
社 会

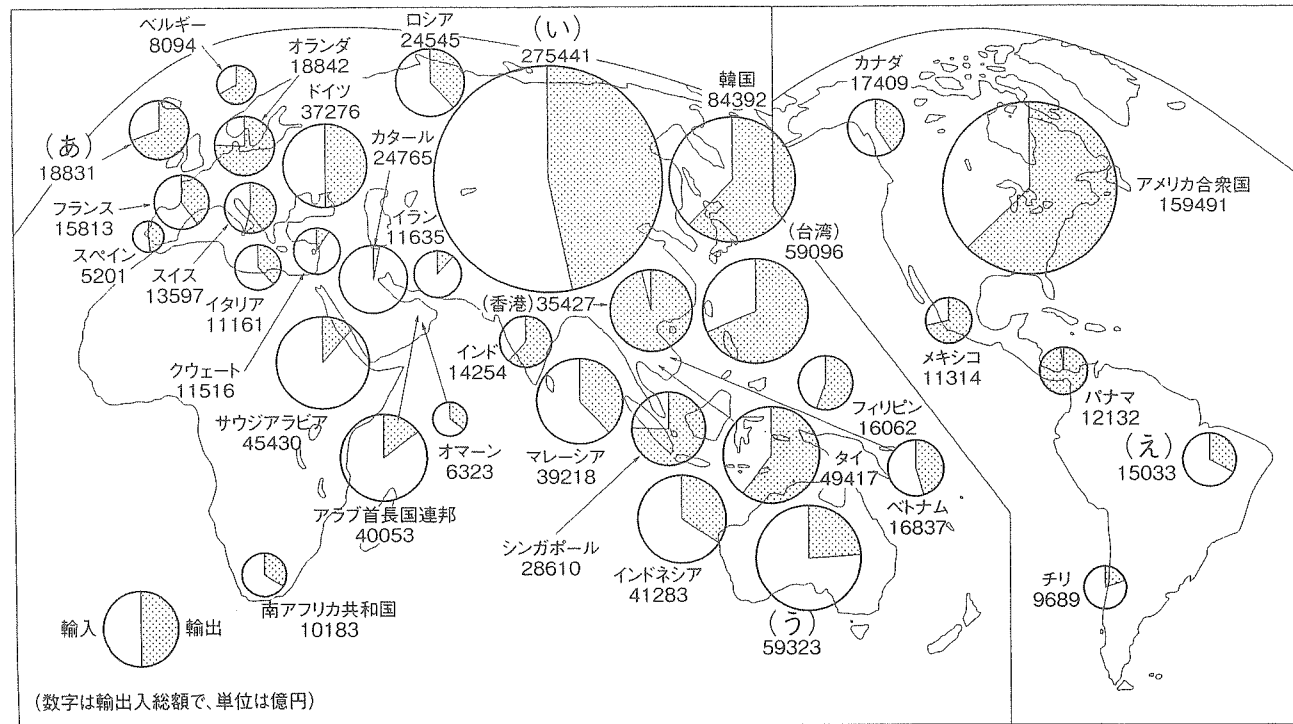
(25・M・第1回)

注 意

- 1 解答はすべて、解答用紙に記入してください。
- 2 問題は①から⑦までです。
- 3 時間は40分です。

2 次の世界地図は、日本の貿易相手国のうち、輸出入が5000億円以上の国々の輸出入合計を円グラフで表したものです。この地図を見ながら、各問いに答えなさい。

日本の主な貿易相手国（2011年）



財務省貿易統計による。日本との輸出入合計が5000億円以上の相手国。

(1) 地図中の(あ)～(え)の国にあたるものを、下のア～エの中から1つずつ選び、記号で答えなさい。

- ア オーストラリア イ ブラジル ウ 中国 エ イギリス

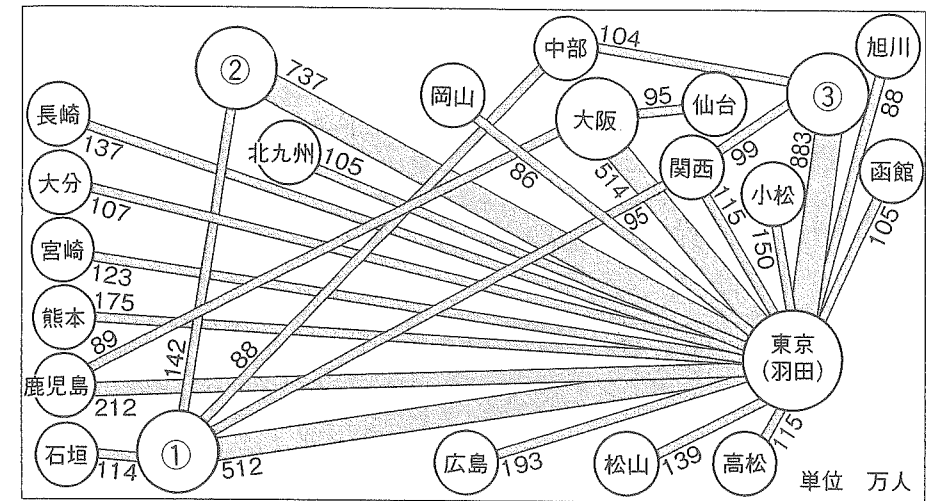
(2) 地図中のカタールやアラブ首長国連邦の国々では、日本は輸出より輸入の金額の方が多くなっています。これらの国々からおもに買っているものを漢字2字で答えなさい。

3 以下の各問いに答えなさい。

(1) 日本国内の飛行機を使った、航空輸送は、1951年の民間航空が営業をはじめて、輸送量はどんどん増えていきました。このうち、定期輸送の旅客数は、1969年度に1000万人でしたが、年々増加し、87年度の5000万人、99年度は、9000万人台になりました。しかし、その後旅客数は落ち込み2009年度以降は8000万人台になっています。下の図は、全国のおもな空港の2010年度の旅客数(単位は万人)をあらわしたものです。図中の①～③のうち、①と②に入る地名を下のア～ウの中から1つずつ選び、記号で答えなさい。

- ア 福岡 イ 札幌 ウ 那覇

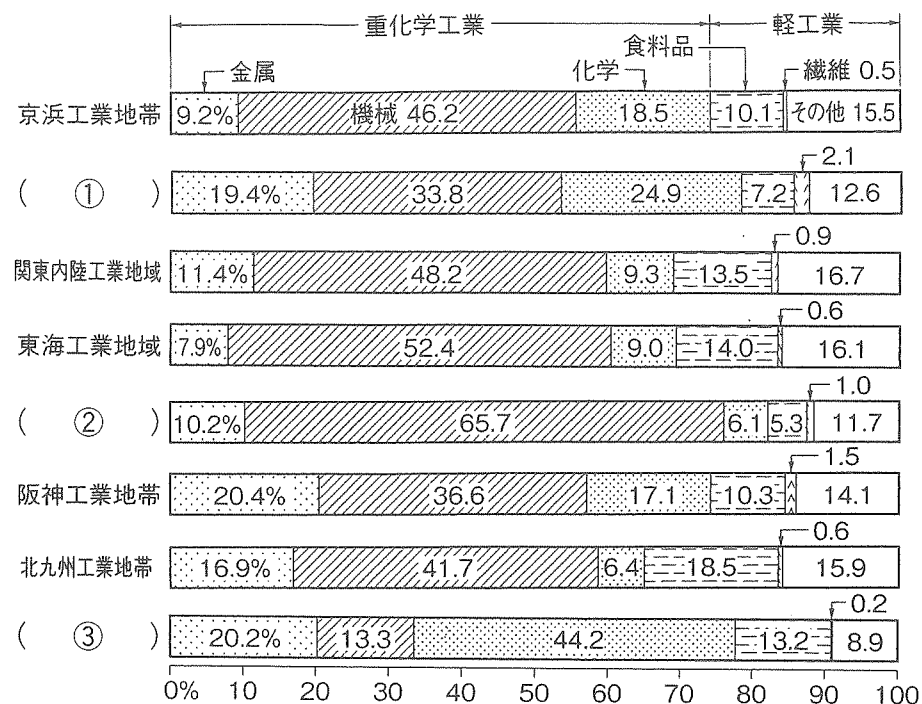
主な国内路線の旅客輸送量(定期輸送)(2010年度)



旅客数85万人以上の路線。

(2) 次の帯グラフは、日本を代表する工業地帯や地域を示したものです。京葉工業地帯・中京工業地帯・瀬戸内工業地帯のグラフに相当する組合せを下の表のあ～えの中から1つ選び、記号で答えなさい。

工業地帯、工業地域の製造品出荷額等の構成 (2010年)



	①	②	③
あ	京葉工業地帯	瀬戸内工業地域	中京工業地帯
い	中京工業地帯	京葉工業地帯	瀬戸内工業地域
う	瀬戸内工業地域	中京工業地帯	京葉工業地帯
え	京葉工業地帯	中京工業地帯	瀬戸内工業地域

④ 次の会話を読んで、各問いに答えなさい。

先生 「おや、丈くん。何を探しているのかな。」
 丈くん 「あ、先生。実は歴史の本を探しているんだけど……。」
 先生 「そうか……、歴史といえば『古事記』とかのことかな。」
 丈くん 「ちがうよ。ドラマが気になって、源平合戦のことを調べたいんだ。」
 先生 「それなら『平家物語』あたりがいいかな。歴史書じゃなくて物語だけど、実際の出来事を題材にしているので、きっと役に立つと思うよ。」
 丈くん 「ふーん。そういうのはほかにもあるのかな。」
 先生 「ええと、江戸時代の近松門左衛門の歌舞伎の脚本なんかもよく歴史を題材にしているし、人々の生活の様子だったら室町時代の狂言や、明治時代の夏目漱石の小説なんかでもよくわかるはずだよ。」
 丈くん 「あ、あった。これだね。」
 先生 「どれどれ、ああ、それは『源氏物語』だよ。」

問1 下線部①は8世紀の作品ですが、同じ時代の作品ではないものを以下のア～エより1つ選び、記号で答えなさい。

- ア 『日本書紀』 イ 『風土記』 ウ 『枕草子』 エ 『万葉集』

問2 下線部②に関して、壇ノ浦の戦いで平氏が滅亡した西暦年として正しいものを以下のア～エより1つ選び、記号で答えなさい。


- ア 1156 イ 1180 ウ 1185 エ 1192

問3 下線部③が活躍した時代の人々の生活の様子について記した以下のア～エの文章のうち、説明があやまっているものを1つ選び、記号で答えなさい。

- ア 百姓は農村や漁村に住み、一向一揆を結成して自分たちで村を運営した。
 イ 幕府や藩は村のまとまりを利用し、村の中に五人組というしくみをつくらせて、年貢の納入などに共同で責任を負わせた。
 ウ 職人や商人は城下町の町人地にまとめられ、さまざまな仕事を営んだ。
 エ 武士は城下町の武家地に住み、名字を名のり、刀を差すことが認められた。

問4 右の図は下線部④の役者を描いた浮世絵です。以下のア～エのうち、浮世絵作者としてふさわしいものを1つ選び、記号で答えなさい。

- ア 伊能忠敬 イ 歌川広重 ウ 前野良沢 エ 本居宣長



問5 下線部⑤が生まれたころの文化について記した以下のア～エのうち、説明が正しいものを1つ選び、記号で答えなさい。

- ア 足利義政の保護を受けた観阿弥・世阿弥の父子が能を大成した。
- イ 中国（宋）に渡り絵の修行をした雪舟が大和絵を大成した。
- ウ 足利義満が京都北山に建てた銀閣では書院造が採用された。
- エ 静かにお茶を楽しむ茶の湯や書院造の床の間をかざるための生け花が発達した。

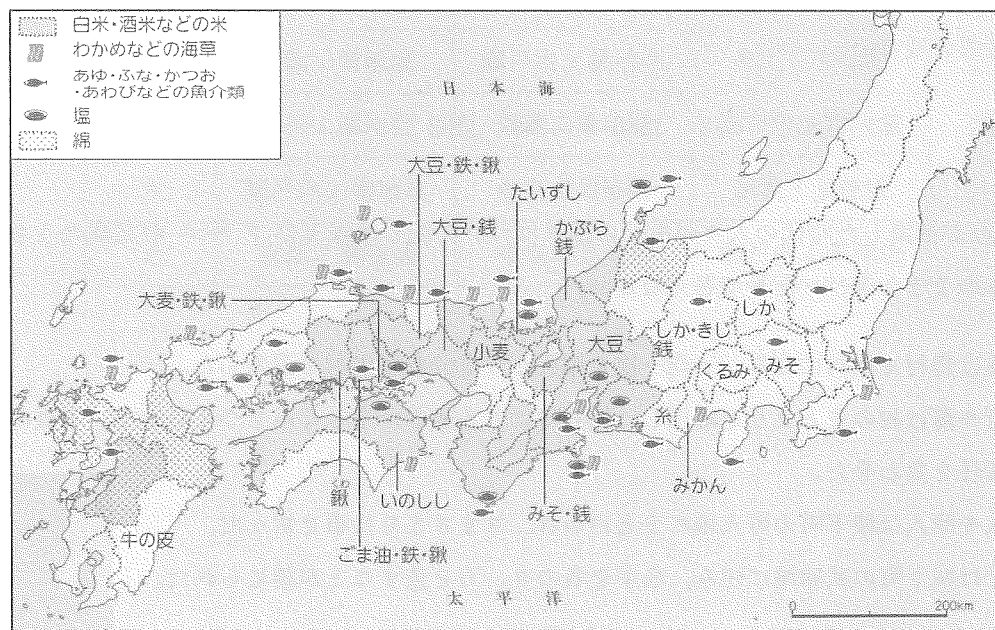
問6 下線部⑥と同じころに活躍した医者で、赤痢菌を発見しその治療法を完成させた人物として正しいものを、以下のア～エより1つ選び、記号で答えなさい。

- ア 北里柴三郎
- イ 志賀潔
- ウ 新渡戸稲造
- エ 野口英世

問7 下線部⑦がつくられたころ政治の実権をにぎり、以下の歌をよんだ人物を、漢字4字で答えなさい。

「この世をば わが世とぞ思ふ もち月の かけたることの なしと思へば」

5 次の地図と説明文を読んで、各問いに答えなさい。



この地図はある中学教科書にのっている奈良時代の日本地図ですが、よく見ると沖縄県と北海道が含まれていません。縄文時代までは本州などと同じような文化を営んでいたこれらの地域は、弥生時代に米作りが広まらなかったことから、以後それぞれ独自の文化を営むようになりました。沖縄では、室町時代のころ成立した琉球王国がアジアの国々との交易で栄えていましたが、江戸時代になると薩摩藩に征服され、その支配を受けるようになりました。一方で蝦夷地と呼ばれた北海道では、アイヌの人々が日本や中国の商人と取り引きしていましたが、同じく江

戸時代には松前藩の支配をうけるようになりました。

この両者が日本に組み込まれたのは明治維新後のことです。まず、政府は蝦夷地を北海道と改め、役所を置いて開発を進めるようになりますが、アイヌの人々への差別も強まってきました。また、政府は琉球も日本の領土だと主張して琉球藩を置き、その後まもなく中国や琉球の人々の反対をおさえて沖縄県を設置しましたが、沖縄をめぐる中国との対立は日清戦争まで続くことになります。

問1 下線部①に栄えた、大きな建造物の跡などがみつかった青森県の遺跡としてふさわしいものを、以下のア～エより1つ選び、記号で答えなさい。

- ア 板付遺跡
- イ 三内丸山遺跡
- ウ 菜畑遺跡
- エ 吉野ヶ里遺跡

問2 下線部②のころの日本について書かれた中国の歴史書の内容として正しいものを、以下のア～ウより1つ選び、記号で答えなさい。

- ア 「倭の国の王は、もとは男性が務めた。従えていたくにぐにが争いを起こし、戦いが続いたので、卑弥呼という女性を王に立てた。」
- イ 「わたしの祖先は、みずからよろいやかぶとを身につけ、山や川をかけめぐり、東は55国、西は66国、さらに海をわたって95国を平定しました。」
- ウ 「日がのぼる国の天子より、日がしずむ国の天子へ手紙を送ります。お変わりありませんか。」

問3 下線部③から出た人物としてふさわしいものを、以下のア～エより1つ選び、記号で答えなさい。

- ア 伊藤博文
- イ 大久保利通
- ウ 大隈重信
- エ 木戸孝允

問4 下線部④に抵抗して松前藩と戦ったアイヌの指導者としてふさわしいものを、以下のア～エより1つ選び、記号で答えなさい。

- ア ゴッホ
- イ フランシスコ
- ウ シャクシャイン
- エ ノルマントン

問5 下線部⑤に関して、同じ時期に明治政府によってつくられた富岡製糸場がある都道府県として正しいものを、以下のア～エより1つ選び、記号で答えなさい。

- ア 群馬県
- イ 栃木県
- ウ 大阪府
- エ 福岡県

問6 下線部⑥の戦争に勝った日本が清よりゆずられて植民地とした地域としてふさわしいものを、以下のア～エより1つ選び、記号で答えなさい。

- ア 樺太
- イ 満州
- ウ 朝鮮
- エ 台湾

6 次の以下の文章は戦争末期の状況を説明したものです。(1) ~ (3) の中に入る適切な語句をあ～かより選び、記号で答えなさい。また、問いにも答えなさい。

1944 (昭和19) 年の後半になると、アメリカ軍による空襲が激しくなり、全国の多くの都市が大きな被害を受けました。1945年3月10日の(1)では、多くの人々の命がうばわれました。

4月1日には、アメリカ軍が(2)に上陸し、子どもや女性、老人を巻き込んで地上戦が行われました。

さらにアメリカ軍は、8月6日に広島、9日に長崎に原子爆弾を投下し、いっしゅんにして数万人もの人々がなくなりました。

8月9日には、日本と戦争をしないという条約を結んでいた(3)が条約を破り、満州や南樺太(南サハリ)にせめこんできました。

これ以上戦えないと考えた日本は、1945年8月15日、アメリカやイギリスなどの連合国が降伏をすすめた(4)を受け入れました。

あ 硫黄島 い 沖縄島 う ソビエト連邦 え 中華民国
お 水戸大空襲 か 東京大空襲

問 (4) に入る適切な語句を、カタカナと漢字あわせて6字で答えなさい。

7 次の各問いに答えなさい。

問1 日本国憲法の前文には、「主権は国民にある」と書かれています。主権者である国民ができないことは何であるか、以下のあ～えより選び、記号で答えなさい。

- あ 国民投票を通じて憲法改正を実現します。
- い 国政選挙を通じて国会議員を選出します。
- う 住民投票を通じて条例を改正します。
- え 国民審査を通じて最高裁判所の裁判官を辞めさせることができます。

問2 法律や予算に従って、実際に政治を行うことを行政といいます。内閣は国の最高の行政機関です。内閣の仕事に当てはまらないものを、以下のあ～えより選び、記号で答えなさい。

- あ 内閣総理大臣は、各省などの長である国务大臣を任命して内閣をつくります。
- い 内閣は外国と結んだ条約を認めるかどうかを決めます。
- う 内閣のもとで内閣府と各省が分担して仕事を進めます。
- え 内閣は予算案をつくって国会に提出します。

問3 2011年(平成23年)3月11日に発生した東日本大震災で最も人的被害(死者、行方不明者、負傷者)が多かったのは次の都道府県のうちどこか、あ～えより選び、記号で答えなさい。

あ 宮城県 い 福島県 う 茨城県 え 岩手県

社会

(25・M・第1回)

受験番号	得点
	※

解答用紙

※印のらんには記入しないこと

1	(1)	(2)	(3)	(4)	(5)

2	(1)				(2)
	(あ)	(い)	(う)	(え)	

3	(1)		(2)
	①	②	

4	問1	問2	問3	問4	問5

問6	問7

5	問1	問2	問3	問4	問5	問6

6	1	2	3	4

7	問1	問2	問3