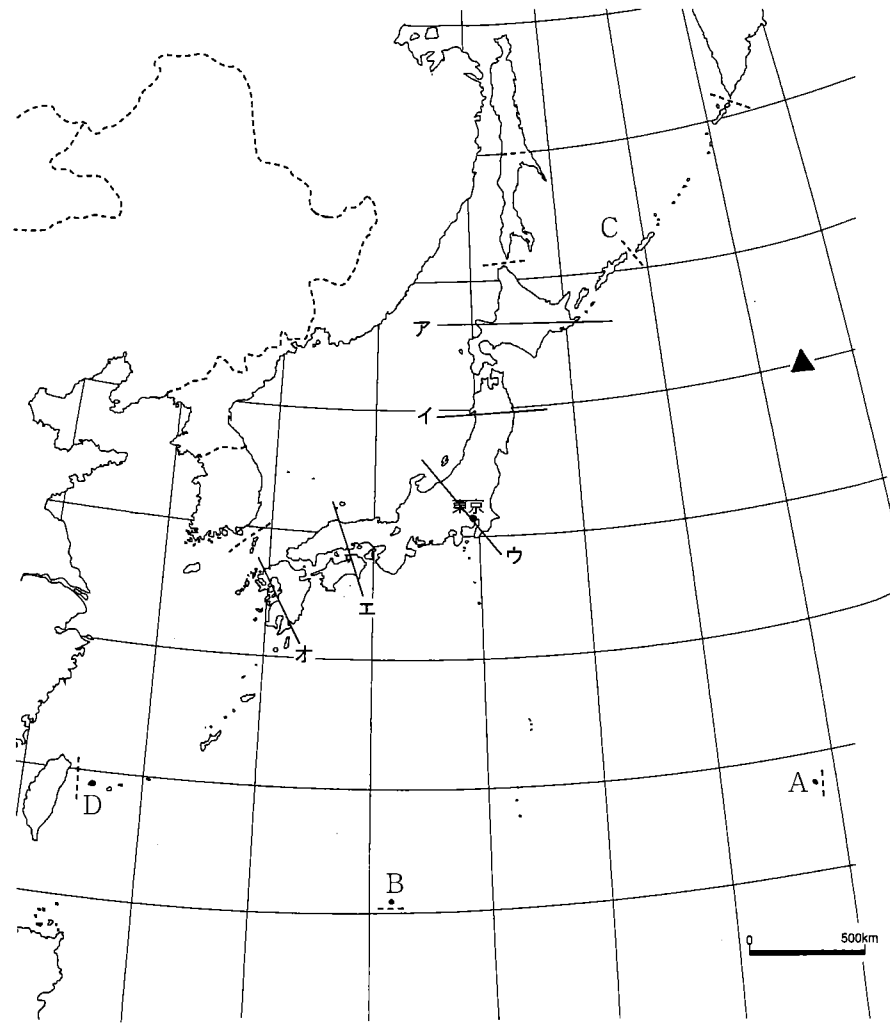


1 次の地図をみて、各問いに答えなさい。



問1 地図中のたての線は経線です。経線の基準となる0度のたて線は、ヨーロッパのある島国を基準につくられたものです。ある島国とはどこですか。国名を答えなさい。


問2 地図中のA島は日本の最東端の島です。B島は日本の最南端の島です。それぞれの島名の組み合わせとして正しいものを下の(ア)～(エ)から選び、記号で答えなさい。

	A島	B島
(ア)	南鳥島	沖ノ鳥島
(イ)	沖ノ鳥島	南鳥島
(ウ)	与那国島	沖ノ鳥島
(エ)	南鳥島	与那国島

問3 地図中のC島は日本の最北端の島です。D島は日本の最西端の島です。それぞれの島名を下の(ア)～(コ)からそれぞれ選び、記号で答えなさい。

- (ア) 国後島 (イ) 択捉島 (ウ) 種子島 (エ) 屋久島 (オ) 沖ノ鳥島
 (カ) 竹島 (キ) 南鳥島 (ク) 八丈島 (ケ) 西表島 (コ) 与那国島

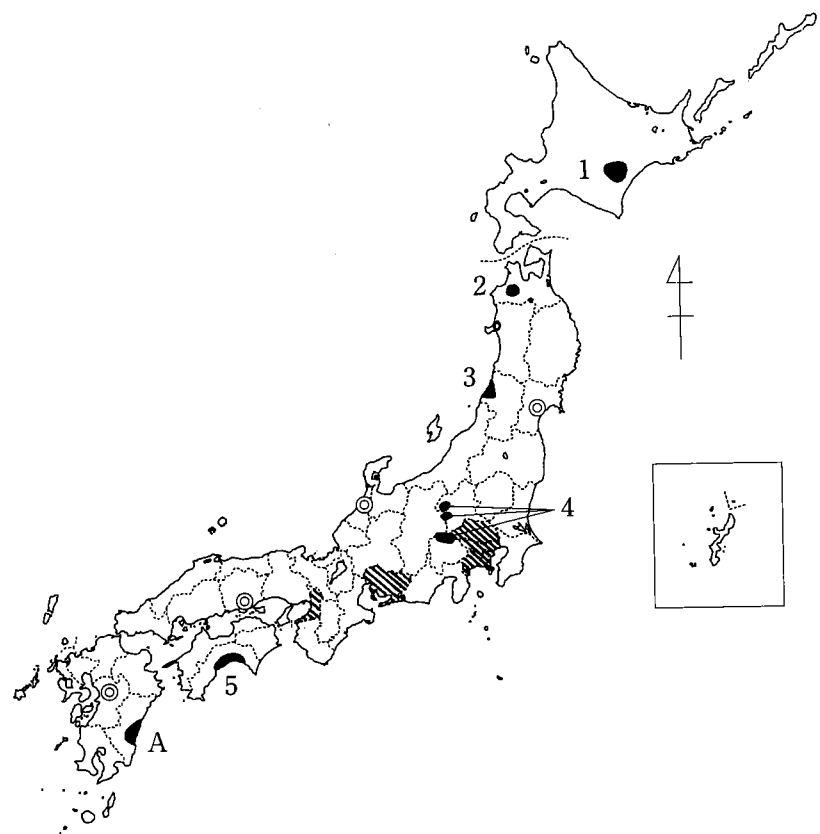
問4 下の断面図は、地図中のア～オの切断面のどれにあたりますか。記号で選びなさい。




問5 ▲印の緯線より北にある国を下の(ア)～(コ)から2つ選び、記号で答えなさい。

- (ア) デンマーク (イ) ガーナ (ウ) ブラジル (エ) 大韓民国
 (オ) 南アフリカ共和国 (カ) インド (キ) スウェーデン (ク) パラグアイ
 (ケ) メキシコ (コ) オーストラリア

② 次の地図をみて、各問いに答えなさい。



問1 地図中の  で示された5つの都府県について、正しく説明している文を次の(ア)～(オ)から1つ選び、記号で答えなさい。

- (ア) 人口増加率(1990年～2000年)の高い順に上位5都府県を選んだものである。
- (イ) 農業総生産額(2005年)の大きい順に上位5都府県を選んだものである。
- (ウ) 米の生産量が多い順に上位5都府県を選んだものである。
- (エ) 人口の多い順に上位5都府県を選んだものである。
- (オ) 食肉用に飼われている豚の頭数の多い順に上位5都府県を選んだものである。

問2 地図中のAの地域について、次の問いに答えなさい。

① Aの地域でひろくおこなわれている農牧業についてのべた文を、次の(ア)～(エ)から1つ選び、記号で答えなさい。

- (ア) 全国平均を大きくうまわる大きな農家が多く、じゃがいも・たまねぎ・てんさい・とうもろこしなどや、あずき・大豆などの豆類の栽培がさかんである。
- (イ) 冬もあたたかい気候を利用して、なす・きゅうり・ピーマンなどの野菜を、高い値段で取引される時期をねらって東京や大阪などの大きな市場に出荷する。
- (ウ) 見わたすかぎり広々とした水田がつづくこの地域は、日本を代表する稲作地帯である。夏の季節風はかわいた南東からの風であり、稲の葉をかわかして病気を防ぎ日光を十分にあててじょうぶな稲を育てる。
- (エ) すずしい気候を利用したりんごの栽培がさかんである。山の斜面や岩木川の川岸など、水はけのよい土地を中心に栽培され、多くの手間をかけた品質のよいりんごをつくっている。

② 地図中の1～5の地域のうち、Aの地域と同じような農業がおこなわれている地域を1つ選び、記号で答えなさい。

③ Aの地域から高速道路を使って大阪の市場に運ぶまでに通過する県名の組み合わせとして正しいものを下表の(ア)～(オ)から1つ選び、記号で答えなさい。

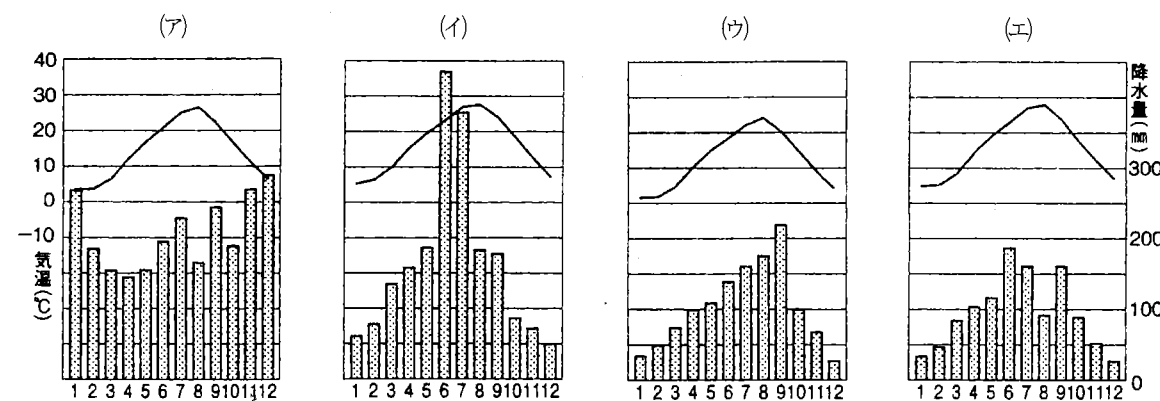
Aの地域 → 熊本県 → あ 県 → 佐賀県 → あ 県
→ い 県 → 広島県 → 岡山県 → う 県 → 大阪府

	(ア)	(イ)	(ウ)	(エ)	(オ)
あ 県	福岡	福岡	長崎	長崎	福岡
い 県	島根	山口	山口	島根	山口
う 県	鳥取	鳥取	兵庫	兵庫	兵庫

問3 地図中の4の地域で栽培される農作物として正しい組み合わせはどれか。下の(ア)～(エ)から1つ選び、記号で答えなさい。

- (ア) レタス・キャベツ
- (イ) 茶・みかん
- (ウ) ぶどう・もも
- (エ) さつまいも・すいか

問4 下の(ア)～(エ)のグラフは、それぞれ地図中の◎の都市(いずれも県庁所在地)の気温と降水量の変化を示したものである。(ア)の都市名を漢字で答えなさい。



③ 今日は歴史上で活躍した女性5人に時を超えて集ってもらい、最初にそれぞれ自己紹介をしてもらいました。この自己紹介を見て、各問いに答えなさい。

Aさん：「私は鎌倉武士たちに亡き夫源頼朝のご恩をうったえ、そのため幕府の武士たちは団結して朝廷の軍を打ち破ることができました。」

Bさん：「私は市川房枝さんなどとともに、選挙権などの権利と女性の地位向上をめざす運動を進めました。」

Cさん：「私は邪馬台国の女王となって中国に使いを送り、中国の皇帝から倭王の称号や銅の鏡などをもらいました。」

Dさん：「私は新しい国づくりのモデルを求めて送られた大久保利通さんなど使節団とともに6才でアメリカに留学し、帰国後に女子英学塾をつくりました。」

Eさん：「私は天皇のきさきに教育係として仕えて、『枕草子』という作品を書きました。」

問1 A～Eさんとしてもっともふさわしい人物を次の(ア)～(コ)の中からそれぞれ選び、記号で答えなさい。

- (ア) 北条政子 (イ) 卑弥呼 (ウ) 紫式部 (エ) 小野妹子 (オ) 平塚雷鳥
 (カ) 津田梅子 (キ) 清少納言 (ク) 樋口一葉 (ケ) 与謝野晶子 (コ) 岩倉具視

問2 A～Eさんを生まれた時期が早い(古い)順に並びかえなさい。

④ 次の会話を読んで、各問いに答えなさい。

丈くん：「この前のワールドカップではいろいろな国が出ていたね。知らない国も多かったよ。」

先生：「世界は広いということだね。でも、古くから日本と関係がある国もけっこうあったよ。」

丈くん：「どんな？」

先生：「たとえば、戦国時代のころからポルトガルやオランダとはつきあいがあるし、19世紀からはアメリカやイギリスとも密接な関係を持ち始めるよ。」

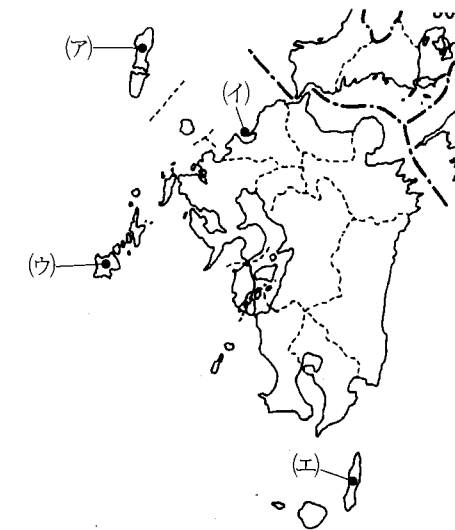
丈くん：「へえ……、みんな遠いねえ。」

先生：「そうだね。もちろん近くに目を向ければ、となりの朝鮮半島や中国におこった国々、元をつくったモンゴルなどとは、ヨーロッパ諸国と関係を持つ以前からとても活発な交流があったんだよ。」

丈くん：「そうか、知らなかったよ。」

先生：「これからしっかり勉強することだね。」

問1 下線部①に関して、1543年にポルトガル人が漂着した種子島はどこか、地図中の(ア)～(エ)より選び、記号で答えなさい。



問2 下線部②に関して、江戸時代に幕府が唯一オランダとの貿易を許したのは長崎のどこか、漢字2字で答えなさい。

問3 下線部③に関して、1853年に来航して鎖国を終わらせるきっかけを作ったアメリカ人は誰か、次の(ア)～(エ)より選び、記号で答えなさい。

- (ア) ザビエル (イ) シャクシャイン (ウ) ペリー (エ) マッカーサー

問4 下線部④に関して、1894年には外務大臣の陸奥宗光がイギリスと治外法権をなくす条約改正に成功しましたが、この年に起こった出来事として正しいものを、次の(ア)～(エ)より選び、記号で答えなさい。

- (ア) 大日本帝国憲法の発布 (イ) 日清戦争の開始
 (ウ) 日ロ戦争の開始 (エ) 第一次世界大戦の開始

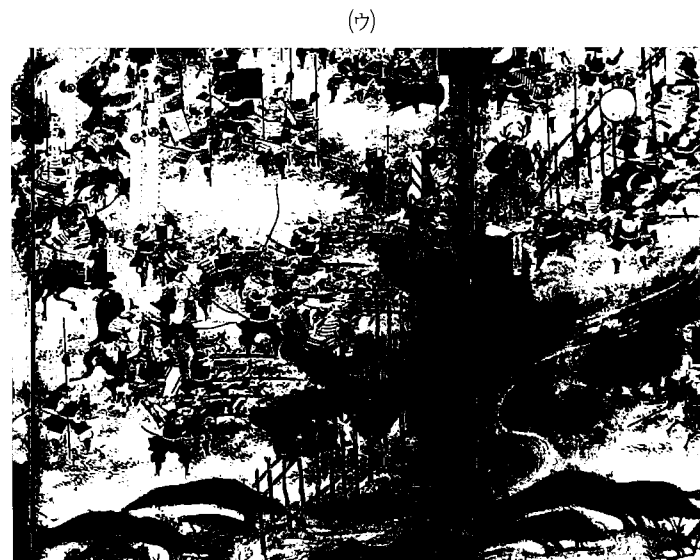

問5 下線部⑤に関して、日本と朝鮮半島の歴史について述べた次の(ア)～(エ)の文章のうち、誤った記述があるものを1つ選び、記号で答えなさい。

- (ア) 弥生時代から古墳時代にかけて、朝鮮半島から多くの渡来人がわたってきて、すぐれた技術や文化を日本列島に伝えました。
- (イ) 全国を統一した豊臣秀吉は、2度にわたって朝鮮に大軍でせめこみましたが、朝鮮の人々の反撃によって退けられました。
- (ウ) 江戸時代に再開された朝鮮との貿易は琉球を通じて行われ、将軍がかわるごとに朝鮮からの使節団が江戸を訪れるようになりました。
- (エ) 日清戦争・日露戦争の後、朝鮮(韓国)を支配しようとした日本は、朝鮮の人々の抵抗を軍隊がおさえ、1910年に朝鮮を併合しました。

問6 下線部⑥に関して、日本は古くからさまざまな進んだ知識や文化を中国から学んできましたが、次の(ア)～(エ)の人物のうち、実際に中国にわたったことがある人物を選び、記号で答えなさい。

- (ア) 雪舟 (イ) 聖徳太子 (ウ) 伊能忠敬 (エ) 紫式部

問7 下線部⑦に関して、元の大軍が2度にわたって北九州に攻めてきた時の場面を描いたものとしてもっともふさわしいものを、次の(ア)～(エ)より選び、記号で答えなさい。



5 次の文章を読んで、各問いに答えなさい。

沖縄は、日本で住民をまきこんだ地上戦が行われたところです。1945年(昭和20年)3月以降、約20万人ものアメリカ軍が沖縄をはげしくこうげきしました。この戦いで、県民60万人のうち、12万人以上もの人々がなくなったといえます。組織的な戦いは、6月23日まで続きました。

そんな沖縄県に、戦後60年以上も経過した今もなお、日本国内の米軍基地施設の75%が集中しています。

問1 現在、沖縄県にある米軍基地を次の(ア)～(エ)の中から選び、記号で答えなさい。

- (ア) 佐世保海軍施設 (イ) 横須賀海軍施設
- (ウ) 普天間飛行場 (エ) 横田飛行場

問2 沖縄が日本に返還された年は何年ですか、次の(ア)～(エ)の中から選び、記号で答えなさい。

- (ア) 1951年(昭和26年) (イ) 1956年(昭和31年)
- (ウ) 1964年(昭和39年) (エ) 1972年(昭和47年)

問3 沖縄が日本に返還された年に、日本はある国と国交を正常化しました。ある国とはどの国ですか、次の(ア)～(エ)の中から選び、記号で答えなさい。

- (ア) 中華人民共和国 (イ) ソ連 (ウ) 大韓民国 (エ) 朝鮮民主主義人民共和国

6 次の文章を読んで、各問いに答えなさい。

政治に参加する権利（参政権）は、日本国憲法の3つの原則の1つである国民主権にもとづきます。憲法では、主権は、国民にあると定められています。戦前の憲法で主権者であった天皇は、日本国憲法では、日本の国や国民のまとまりの〔①〕であり、政治については権限を持たないとされました。天皇は、憲法に定められている仕事を、〔②〕の助言と承認にもとづいて行います。

問1 上の文章の〔①〕〔②〕に適する語句の組み合わせを、次の(ア)～(エ)の中から選び、記号で答えなさい。

(ア) ① 象徴 ② 内閣 (イ) ① 象徴 ② 国会

(ウ) ① 元首 ② 内閣 (エ) ① 元首 ② 国会

問2 憲法に定められている天皇の仕事を何と言いますか。漢字4字で答えなさい。

問3 国民主権にもとづいて国会議員が選挙で選出されますが、その国会議員で構成される国会の仕事に当てはまらないものを、次の(ア)～(エ)から選び、記号で答えなさい。

(ア) 国の予算を、話し合って決める。 (イ) 外国と結んだ条約を承認する。

(ウ) 裁判官を裁く裁判所をつくる。 (エ) 内閣総理大臣を任命する。

問4 日本国憲法の3つの原則は国民主権、基本的人権の尊重、もう1つは何ですか。漢字4字で答えなさい。