

2023年度 中学校入学試験問題 社会

問題は次のページから始まります→

1 次のA～Dの文は、日本の島について説明したものです。これを読み、あとの問いに答えなさい。

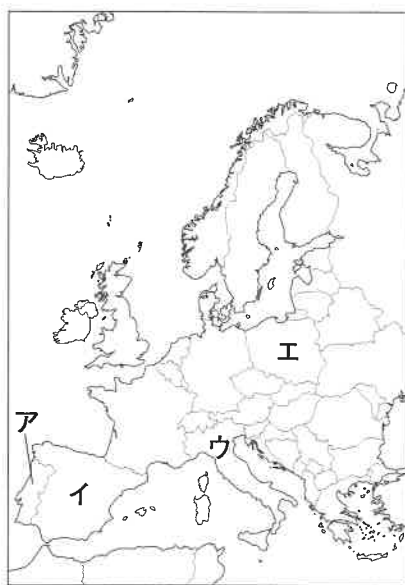
- A 近畿地方で最も大きい島です。この島の近くでは世界最大の渦潮を見ることができます。島内ではたまねぎの生産がさかんです。①1998年には本州四国連絡橋の1つである橋が開通し、この島と本州が結ばれました。
- B 北陸地方にある島です。この島では長い期間にわたって金銀を産出しましたが、1989年に資源枯渇のため操業を休止しました。また、この島には全国各地から人々が移住してきたため、能や人形芝居など多くの伝統芸能が存在しています。
- C 小笠原諸島に属している島です。緯度はハワイのホノルルと同程度、経度は琵琶湖と同程度のところにあります。北小島と東小島の2島があり、周囲は護岸のコンクリートで防護されています。
- D 九州地方にある島です。この島には日本最大のロケット発射場があり、宇宙センター施設は観光スポットになっています。またこの島の隣には②世界自然遺産に登録されている屋久島があります。

問1 A～Dの島名と、各島が属している都道府県名を答えなさい。

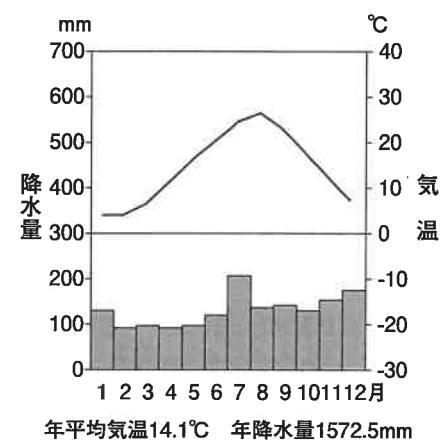
- 問2 (1) 下の写真はA～Dのどの島でみられるものか、記号で答えなさい。
(2) 写真にみられる武器はどこから伝来したのですか。国名を答え、その国の場所を下の地図のA～Eから1つ選び、記号で答えなさい。



(写真の一部を加工しています)



問3 右の雨温図はA～Dのどの島のものか、記号で答えなさい。



- 問4 (1) Aの島について、1995年1月17日に、この島およびその周辺でおこった大災害を何といいますか。
(2) (1)の大災害について説明した文として誤っているものを、次のア～エから1つ選び、記号で答えなさい。
ア. 多くの建物が倒壊し、火災が発生した。
イ. 液状化現象が起り、泥砂でおおわれる地域もあった。
ウ. 津波により、沿岸部が大きな被害を受けた。
エ. 断水や停電、電話の不通など、ライフラインも被害を受けた。

- 問5 (1) 下線部①について、1998年に開通した橋の名前を答えなさい。
(2) 本州四国連絡橋の開通によって人々の生活はどのように変化しましたか。交通手段に注目して、良くなった点と悪くなった点をそれぞれ説明しなさい。

- 問6 Bの島で保護飼育がおこなわれている鳥の名前を答えなさい。
問7 Cの島があることで日本の排他的経済水域は広がります。この範囲において沿岸国に認められていない権利を下のア～ウから1つ選び、記号で答えなさい。

- ア. 人工島をつくり、利用する権利。
イ. 天然資源の探査、開発、保存をする権利。
ウ. 他国が海底にパイプラインをつくることを禁止する権利。

- 問8 下線部②について、日本で世界自然遺産に登録されている場所を次のア～オから2つ選び、記号で答えなさい。

- ア. 平泉 イ. 知床 ウ. 日光 エ. 紀伊山地 オ. 白神山地

- 問9 次の資料は、日本全国とDの島が属している県の田畑別耕地面積を示しています。この資料からわかる県の農業の特徴を、自然環境に注目して説明しなさい。

単位：ha

	計	田	畑
全国	4,349,000	2,366,000	1,983,000
Dの島がある県	112,900	35,200	77,600


(令和3年耕地及び作付面積統計より)

人々が何を信じ、何を考えてきたのかを知る上で、宗教は重要なテーマの一つです。日本と宗教の関わりに関する次のA～Dの文を読み、あとの問いに答えなさい。

A 仏教や儒教が伝来する前の古代の日本は、ありとあらゆる自然や自然現象に神が宿ると考え、①信仰の対象としました。まじないや儀式に関する出土品や記録も多く発見されています。②縄文時代の遺跡からは、(3) と呼ばれる土製の人形が多く出土しており、祈りやまじないのために用いられたとされます。中国の歴史書には、3世紀に(4) をおさめていた⑤女王が占いやまじないに優れていたと記されています。

問1 下線部①に関して、次の問いに答えなさい。

- (1) 「信仰の対象と芸術の源泉」として、2013年に世界遺産リストに登録された日本の文化遺産は何ですか。
- (2) 右の図は、(1)をモチーフに多くの浮世絵を描いた人物の作品です。この作品の作者を答えなさい。



問2 下線部②の説明として正しいものを、次のア～エから2つ選び、記号で答えなさい。

- ア. 日本最大級の縄文集落跡である吉野ヶ里遺跡では、大型竪穴住居跡が見つかっている。
- イ. 銅鏡や銅剣などがおさめられた墓があり、有力者がいたことがわかる。
- ウ. 住居の近くにつくられた貝塚などから、当時の人々の生活を知ることができる。
- エ. 季節の変化にあわせて、狩り・漁・採集などで食料を得て生活していたと考えられる。

問3 (3) にあてはまる語を答えなさい。

問4 (4) にあてはまる国の名を漢字4字で答えなさい。

問5 下線部⑤について、この女王がおさめた国やその時代について述べた文として誤っているものを、次のア～エから1つ選び、記号で答えなさい。

- ア. この国の位置については、近畿説と九州北部説がある。
- イ. この女王の時代、中国は3つの国に分かれていた。
- ウ. 女王は皇帝から「親魏倭王」の称号と、金印・銅鏡を授かったと伝えられる。
- エ. この女王の名が刻まれた鉄製の武器が、九州・近畿地方の古墳から発見された。

B 6世紀に伝来した仏教は、日本の政治や文化に大きな影響を与えました。(6) 氏が仏教の受け入れをめぐる豪族同士の対立に勝利し、⑦聖徳太子(厩戸皇子)が政治に仏教を役立て、仏教を厚く保護したことは広く知られています。奈良時代には、災害や疫病などの社会不安に際し、仏教の力で国を守ろうと、⑧天皇が国分寺・国分尼寺や東大寺をたてさせました。平安時代の初めには、⑨中国から帰国した僧によって新しい宗派が生まれ、貴族の間で流行します。しかしその後世の中が乱れてくると、⑩浄土信仰が広がっていきました。貴族の世から⑪武士の世へと社会が移り変わる時期には、新しい仏教が誕生しました。

問6 (6) にあてはまる一族の名前を答えなさい。

問7 次の文は、下線部⑦の人物がある国に送った手紙のはじめの部分の部分を簡単にしたものです。この文から、この人物はどこの国(漢字1字)とどのような関係になることを望んでいたと考えられますか。簡単に説明しなさい。

太陽の昇る^{のぼ}東方の国の天子が、手紙を太陽の沈む西方の国の天子に差し上げます、おかわりありませんか。

問8 下線部⑧について、この事業に力を尽くした僧で、諸国をまわって民衆に仏教の教えを説き、橋や用水路をつくった人物の名前を答えなさい。

問9 下線部⑨の1人、空海について述べた文として正しいものを次のア～エから1つ選び、記号で答えなさい。

- ア. 天台宗を開き、比叡山に延暦寺をたてた。
- イ. 天台宗を開き、高野山に金剛峯寺をたてた。
- ウ. 真言宗を開き、比叡山に延暦寺をたてた。
- エ. 真言宗を開き、高野山に金剛峯寺をたてた。

問10 下線部⑩について、次の問いに答えなさい。

(1) 当時の貴族の浄土信仰を象徴する建造物の写真を、次のア～ウから1つ選び、記号で答えなさい。



(2) (1)の建造物をつくらせた人物の名前を答えなさい。

問11 下線部⑪に関する次の年表を見て、下の問いに答えなさい。

1167	平清盛が太政大臣となる
1185	(X) の戦いで平氏が滅びる
1192	源頼朝が征夷大将軍に任命される
1221	(Y) が幕府を倒すため兵を挙げる
1232	Z <u>御成敗式目</u> が制定される

- (1) (X) にあてはまる地名を答えなさい。
- (2) (Y) にあてはまる人物の名前を答えなさい。
- (3) 下線部Zの内容として誤っているものを、次のア～エから1つ選び、記号で答えなさい。
- ア. 諸国の守護の職務は、京都の御所の警備を御家人に^{さいそく}催促することと、
^{むほん}謀反や殺人などの犯罪人の取りしまりに限る。
- イ. 20年間武士が実際に支配した土地は、その土地についての権利を認める。
- ウ. 地頭が荘園領主に年貢を納めない場合、領主から訴えがあれば、^{くわ}詳しいことを調査し、不足分はすぐに納めなければならない。
- エ. 諸国の城は、修理するときも必ず幕府に届け出ること。城の新築はかたく禁止する。
- (4) 下線部Zを制定した人物の名前を答え、制定の目的も説明しなさい。

C キリシト教が日本に伝来したのは、16 世紀半ばのことです。西洋との貿易による利益にひかれ、当時の大名の多くは外国船を歓迎しました。このとき船に同乗してきた宣教師たちによってキリシト教の布教も進みました。当時の権力者の一人（12）も、彼らを受け入れ、安土城下に神学校や教会の設立を許可しています。（12）は、キリシト教を保護する一方 ⑬仏教勢力には厳しい態度でのぞんだことでも知られています。その後、（12）の統一事業を引き継いだ人物も、はじめはキリシト教を認めていましたが、のちに国内統一のさまたげと考え、宣教師を国外に追放し布教を禁止しました。⑭江戸時代の初期、宣教師の渡来と布教は黙認されていましたが、信者の増大に伴って信仰が禁じられるようになりました。

問12 (12) にあてはまる人物の名前を答えなさい。

問13 下線部⑬について、その具体的なできごとを1つあげなさい。

問14 下線部⑭について、次の問いに答えなさい。

- (1) 江戸時代初期に九州で起こったキリスト教信者や農民たちによる大規模な一揆を何といいますか。
- (2) キリスト教禁止の徹底と幕府による貿易の独占のため、「鎖国」と呼ばれる体制を固めた将軍の名前を答えなさい。

(3) 次の文ア～エから、江戸時代について述べた文として誤っているものを1つ選び、記号で答えなさい。

ア. 生類憐みの令を定めた5代将軍の頃、元禄文化と呼ばれる町人中心の文化が栄えた。

イ. 8代将軍は人々の意見を政治に取り入れるために目安箱を設け、その投書をもとに小石川養^{こいしかわようじょうしよ}生所や江戸町火消を作った。

ウ. 9・10代将軍に仕えた老中の田沼意次は、商工業者の組合を解散させることで経済を安定させようとした。

工. 15 代将軍は、1867 年に政權を朝廷に返上し、江戸幕府は滅亡した。

D 明治新政府は、⑮旧幕府軍との一連の戦いの最中に、天皇が神に誓うという形で政治の方針を示しました。その翌日には、キリスト教の禁止という内容を含む、庶民に対する決まりが発表されます。その後成立した⑯大日本帝国憲法では、条件つきで信教の自由が保障されましたが、明治政府は天皇を中心とする国家づくりを支えるため、神道を重視する方針をとっていました。

⑰第二次世界大戦後に制定された憲法では、信教の自由の保障や政教分離などが明記され、現在に至っています。

問15 下線部⑮について、次の問いに答えなさい。

- (1) この戦いを何といいますか。
- (2) 次のア～エのできごとを時代の古い順に並べかえなさい。
- | | |
|-------------|----------------|
| ア. 薩長同盟 | イ. 日米修好通商条約の調印 |
| ウ. 王政復古の大号令 | エ. 桜田門外の変 |

問16 下線部⑬の制定の中心となり、初代内閣総理大臣になった人物は誰ですか。

問17 下線部⑬について、次の問いに答えなさい。

- (1) 次の文ア～エから、第二次世界大戦について述べた記述として正しいものを1つ選び、記号で答えなさい。
- ア. 日本は第二次世界大戦に参戦したため、好景気となった。
- イ. 日本は、ドイツやイギリスと同盟を結んで参戦した。
- ウ. 日本は、燃料や物資を確保するため、シベリア出兵を実施した。
- エ. 戦争末期に、ソ連が満州や朝鮮へと侵攻した。

- (2) 戦後におこった次のア～エのできごとを時代の古い順に並べかえなさい。
- ア. 第四次中東戦争の影響で、第一次石油危機がおこった。
- イ. 東京オリンピックが開催され、東海道新幹線が開通した。
- ウ. 日本とソ連の関係が改善され、日本が国際連合に加盟した。
- エ. イラクがクウェートに侵攻し、湾岸戦争が始まった。

次の文を読み、あとの問いに答えなさい。

2022年4月1日、改正（ 1 ）が施行され、成人年齢が18歳に引き下げられました。同日、改正 a 少年法 も施行されました。これらに合わせて、18・19歳も b 裁判員 に選任される対象になりました。

成人年齢の引き下げにより、18・19歳でも一人でローンの契約やクレジットカードの作成などができるようになる一方で、c 悪質商法 のターゲットになるのではないかと心配されています。d 地方公共団体 には、被害の相談を受けたり情報提供をおこなったりする機関として（ 2 ）が置かれています。国にも e 消費者庁 が設置されていますが、今まで以上に、f お金についての知識 を身につけることが求められています。

問1 （ 1 ）・（ 2 ）にあてはまる語を書きなさい。

問2 下線部 a について、法にふれた未成年の処分を、はじめに判断する裁判所の種類を書きなさい。

問3 文中の下線部 b についての説明として誤っている文を、次のア～カより2つ選び記号で答えなさい。

- ア. 裁判員は、事件ごとに「くじ」で選ばれる。
- イ. 裁判員は、国民の義務として憲法に加えられた制度である。
- ウ. 原則として3名の裁判官と6名の裁判員が裁判をおこなう。
- エ. 裁判員は有罪か無罪かを決め、裁判官がどのような刑にするかを決める。
- オ. 裁判官と裁判員のそれぞれ各1名を含む過半数で決定する。
- カ. 裁判員が参加するのは、重大な刑事事件の第一審のみである。

問4 下線部 c について、知り合いを勧誘^{かんゆう}すると紹介手数料が得られるとうたって会員を集める方法は、何と呼ばれますか。

問5 下線部 d の政治のしくみについて、次の問いに答えなさい。

- （1）地方議会が定める、その自治体のきまりを何といいますか。
- （2）都道府県知事に立候補できるのは、満何歳からですか。
- （3）ひとびとの苦情や申し立てを聞いて調査し、行政に改善をうながす制度を何といいますか。

問6 下線部 e の説明として正しいものを次のア～オから1つ選び、記号で答えなさい。

- ア. 経済産業省の下におかれている。
- イ. 総務省の下におかれている。
- ウ. 厚生労働省の下におかれている。
- エ. 法務省の下におかれている。
- オ. 内閣府の外局である。

問7 下線部 f について、いま、日本では物価の上昇が続いていて、その原因のひとつに円安があげられています。これに関して、次の問いに答えなさい。

- （1）物価が上昇し続けることを、カタカナの語で何といいますか。
- （2）円安の説明として正しい文は、次のア・イのどちらですか。記号で答えなさい。
 - ア. 1ドル＝100円から、1ドル＝140円になった。
 - イ. 1ドル＝140円から、1ドル＝100円になった。
- （3）円安が進んだときの説明として誤っている文を、次のア～エから1つ選び記号で答えなさい。
 - ア. 日本国内のガソリン価格は上がると考えられる。
 - イ. 日本へ旅行する外国人は増加すると考えられる。
 - ウ. 日本車を輸入販売しているアメリカの会社は経営が苦しくなると考えられる。
 - エ. 海外へ留学している日本人学生の生活は苦しくなると考えられる。

社会解答用紙

1

問 1	A 島名		都道府県名		B 島名		都道府県名	
	C 島名		都道府県名		D 島名		都道府県名	
問 2	(1)	(2) 国名		場所	問 3	問 4	(1)	(2)
問 5	(1)							
	(2) 良くなった点							
	悪くなった点							
問 6			問 7			問 8	・	
問 9								

2

問 1	(1)		(2)		問 2	・		問 3			問 4			
問 5		問 6			氏	問 7								
問 8			問 9			問 10	(1)	(2)						
問 11	(1)		(2)		(3)		(4) 人物							
	の戦い													
(4) 目的														
問 12			問 13											
問 14	(1)		(2)		(3)		問 15	(1)						
問 15	(2)		→ → →		問 16			問 17	(1)		(2)		→ → →	

3

問 1	(1)		(2)		問 2			問 3	・			
問 4			問 5	(1)		(2)		(3)		問 6		
問 7	(1)		(2)		(3)							

受験 番号		氏名		得点	
----------	--	----	--	----	--