

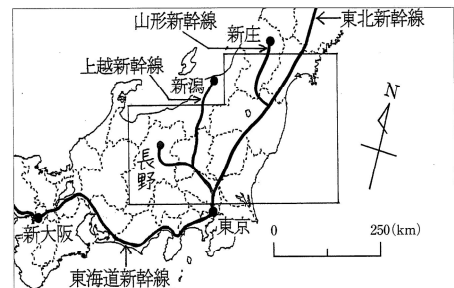
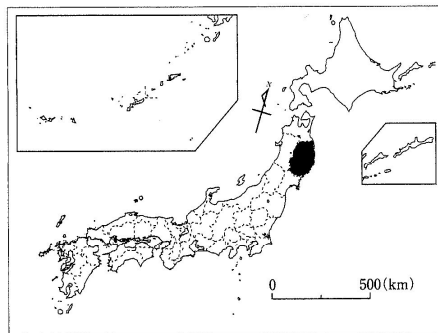
解 答

- ① 問1 皆既日食 問2 1
 問3 天気は西から変化していくため、西の空が晴れていれば翌日は晴れやすいから。
 問4 生態系に影響が及ぶおそれがあることや、食品としての安全性に疑問があること。
 問5 1 問6 2 問7 1 問8 2
 問9 中国などの新興国にとって、自国の経済発展のさまたげになると考えられるから。
 問10 農業用水が不足し、農作物の収穫量が減ってしまう。 問11 1
- ② 問1 稲作 問2 イ 問3 ウ 問4 イ 問5 イ 問6 今川義元
 問7 鉄砲が伝来したことによって、戦いが一騎打ちから足軽による集団戦法に変わった。 問8 エ
 問9 幕末に防衛の強化のためにつくられた城だったので、敵の軍艦からの攻撃目標になるような天守閣を設けなかったから。 問10 ウ 問11 城名 姫路 位置 キ
 問12 (例) 戦国時代には、敵の攻撃に備えやすい山の上にAの山城がつくられた。戦国時代末期になると、Bの平山城が、軍事的な目的とともに政治の拠点として、小高い丘につくられるようになった。江戸時代には、大名がおもに政治を行う目的で、平野部にCの平城がつくられるようになった。

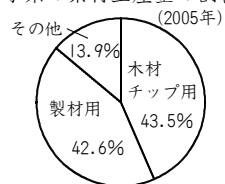
- ③ 問1 (1) ① 八戸 (2)

- ② 秋田
 ③ 山陽
 ④ 博多

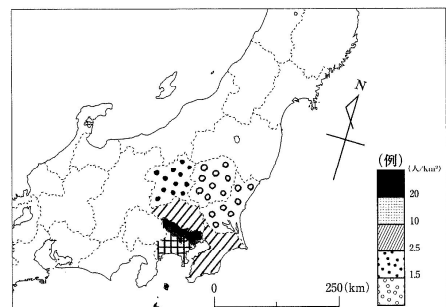
問2 (1)



(2) (例) 岩手県の素材生産量の割合



問3



問4 カ

解 説

- ① 問3 日本では、偏西風の影響で、雲は西から東に移動していくことが多くなります。そのため、西の空が晴れていれば、次の日は晴れやすくなります。
 問8 黄砂とは、中国内陸部を中心とした東アジアの砂漠の砂が、砂嵐などによって広い範囲に飛来する現象です。日本では、春に観測されることが多くなっています。
- ② 問2 ②は地頭、④は甲斐、⑧は五稜郭とすれば正しくなります。
 問12 城の立地は、社会情勢などの影響によって、山城→平山城→平城と変化していきました。
- ③ 問1 (2) 新幹線が通っている県と、分岐点を特に注意して書き込む必要があります。上越新幹線と東北新幹線は埼玉県の大宮駅で、上越新幹線と長野新幹線は群馬県の高崎駅で分岐します。東北新幹線と山形新幹線は福島駅で分岐します。