

2026年度 第1回
女子美術大学付属中学校入学試験

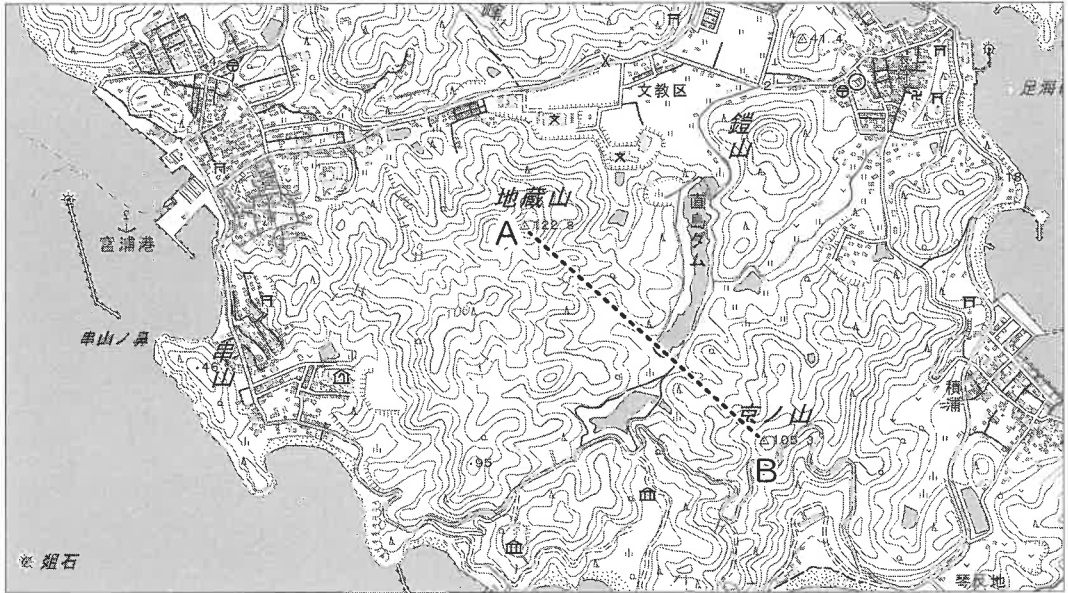
社会 [問題用紙]

受験番号	氏名
------	----

解答はすべて別紙解答用紙の解答欄^{らん}に記入すること

(試験問題は持ち帰ってはならない)

1 女子美生の好美さんが修学旅行で訪れた香川県の島の地形図を見て、あとの問題に答えなさい。

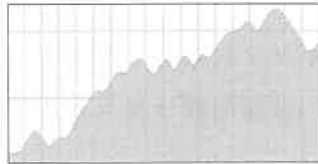


(電子地形図 2万 5000 分の 1 を拡大)

問 1 A—Bの断面図として正しいものを次の中から一つ選んで、記号で答えなさい。



ア



イ



ウ

問 2 地形図内にない地図記号を次の中から一つ選んで、記号で答えなさい。

ア 寺院 イ 高等学校 ウ 広葉樹林 エ 灯台 オ 交番

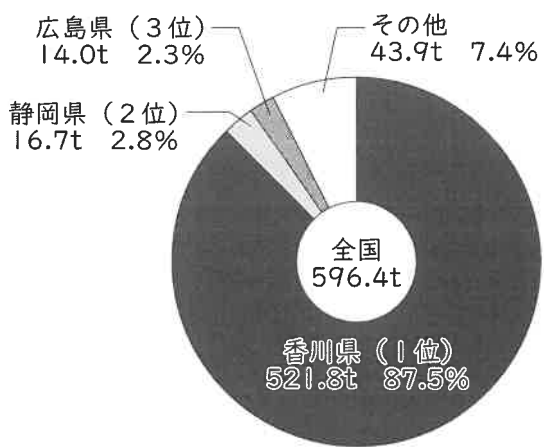
問 3 好美さんはバスと徒歩で8500m移動しました。2万 5000 分の 1 の地図上では何 cm になるか答えなさい。

問4 この島は「アートの島」として近年注目を浴びています。展示されている作品のひとつ『Ring of fire (リング オブ ファイア)』は地元の『讃岐盆灯籠』をもとに、たくさんの鈴がついた彫刻が天井から垂れ下がり、日本が位置するリングオブファイア（下図参照）で起こる自然現象と連動して光や音が出る仕組みになっています。作品が利用している自然現象とは何か、答えなさい。



問5 下の円グラフはある農産物の栽培面積上位5県を表したものです。この農産物を次の中から一つ選んで、記号で答えなさい。

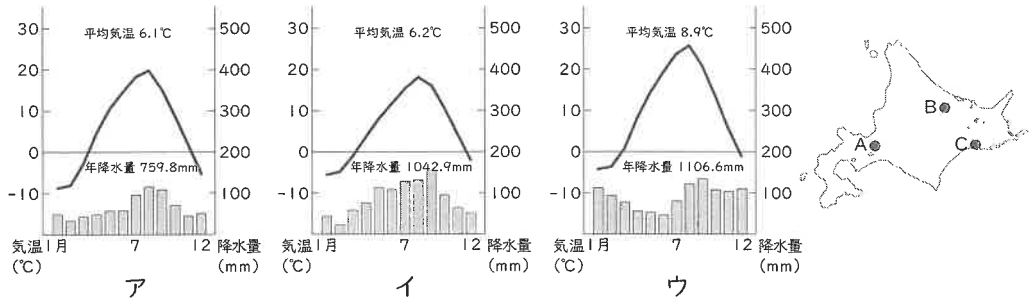
- ア キウイ イ なし ウ ぶどう エ オリーブ



資料：農林水産省「特殊果樹生産動態等調査」

2 北海道の地理に関するあとの問題に答えなさい。

問1 次のグラフは地図中A・B・Cのいずれかの都市の雨温図です。Aの雨温図として正しいものを次の中から一つ選んで、記号で答えなさい。



問2 北海道の地形を西から東にながめたときに並び順が正しいものを次の中から一つ選んで、記号で答えなさい。

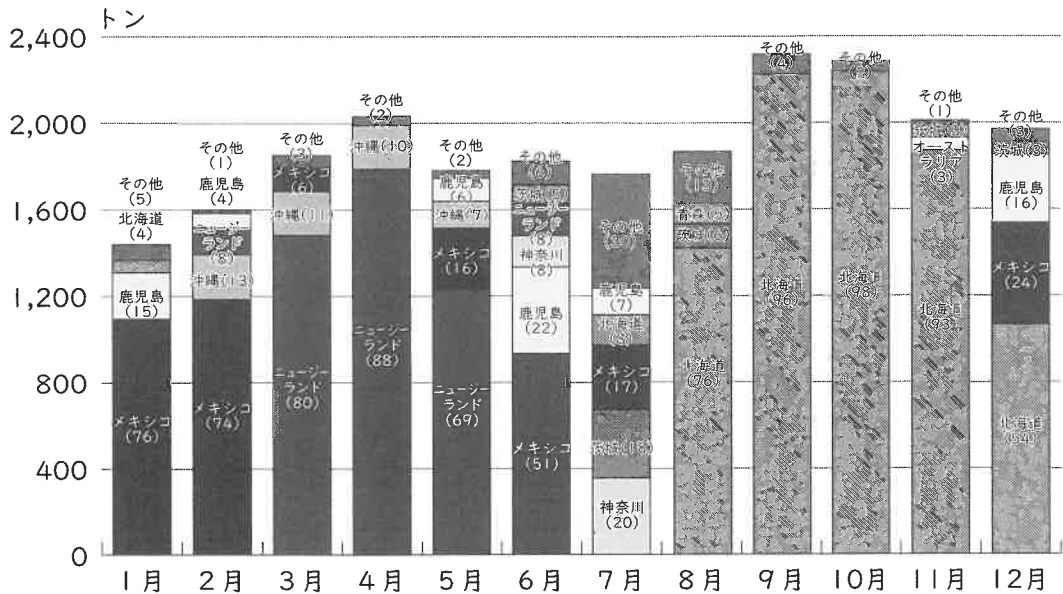
- ア 石狩平野 — 十勝平野 — 洞爺湖 — 根釧台地
- イ 洞爺湖 — 十勝平野 — 根釧台地 — 石狩平野
- ウ 洞爺湖 — 石狩平野 — 十勝平野 — 根釧台地
- エ 石狩平野 — 洞爺湖 — 根釧台地 — 十勝平野
- オ 根釧台地 — 洞爺湖 — 石狩平野 — 十勝平野

問3 北海道について説明した文章として誤っているものを次の中から一つ選んで、記号で答えなさい。

- ア 漁業生産高は全国1位である。
- イ 北海道の工業生産額の1位は製紙パルプである。
- ウ 札幌市は政令指定都市である。
- エ 人口密度は全国最下位である。

問4 下のグラフは東京都中央卸売市場で取り扱われたある農産物の月別入荷実績を表したものです。この農産物を次の中から一つ選び、記号で答えなさい。

- ア かぼちゃ イ じゃがいも ウ にんじん エ 玉ねぎ



出典：農畜産業推進機構「ベジ探」、原資料 令和5年東京都中央卸売市場年報

問5 北海道ではスマート農業を導入している農家が44%以上となり、全国で最多となっています。スマート農業の説明として、誤っているものを次の中から一つ選んで、記号で答えなさい。

- ア ドローンを使って農薬散布を行うことができる。
 イ 農産物の収穫量や病気を予想することができる。
 ウ 自動運搬・収穫ロボットを導入し人件費を削減することができる。
 エ 安い初期費用で導入することができる。
 オ 遠隔監視システムで自宅や外出先でも牛舎の様子を確認することができる。

3 次の文章を読んで、あとの問題に答えなさい。

人間は、昔から感染症（伝染病）の恐怖と戦ってきました。

奈良時代には、A 都で天然痘が大流行し、多くの人々が亡くなりました。B 聖武天皇のきさき、光明皇后が集めた薬は、今も正倉院に残されています。

平安時代にも、感染症はひんぱんに流行しました。病気の治療は、薬や鍼などのほか、祈りやまじないに頼ることも多かったようです。（C）は『枕草子』の中で、宮廷に招かれて子どもの治療をする女性の医者が、体をふるわせながら祈る様子を、コミカルに描写しています。

江戸時代の終わりには、コレラが大流行しました。「東海道五十三次」で人気があった浮世絵師の（D）は、コレラに感染して亡くなってしまいました。長生きすれば、もっと多くの作品を描いたことでしょう。とても残念です。

近代になると、感染症を引き起こす細菌やウイルスの研究が進みました。（E）は、破傷風菌を発見し、また伝染病研究所を設立して多くの研究者を育てました。

問1 下線部Aの都について説明した文を、次の中から一つ選んで、記号で答えなさい。

- ア 日本で初めての碁盤の目のように区切られた都市だった。
- イ 町の人々が、感染症をしずめるために始めた祭が、今の祇園祭だ。
- ウ 全国から人が集まり、新羅、唐など外国から来た人も暮らしていた。
- エ だれでも商売ができる楽市楽座とされた。

問2 下線部Bの聖武天皇は、感染症が流行する中で何をしましたか。次の中から誤っているものを一つ選んで、記号で答えなさい。

- ア 恭仁京などの都を次々に造り、遷都をくり返した。
- イ 貧しい人々のために施薬院（病院）をつくった。
- ウ 国ごとに国分寺（僧の寺と尼の寺）を造った。
- エ 東大寺に大仏を造った。

問3 （C）にあてはまる人名を書きなさい。

問4 (D) にあてはまる人名を、次の中から一つ選んで、記号で答えなさい。

ア 歌川広重 イ 葛飾北斎 ウ 喜多川歌麿 エ 東洲斎写楽

問5 (E) にあてはまる人名を、次の中から一つ選んで、記号で答えなさい。

ア 野口英世 イ 湯川秀樹 ウ 志賀潔 エ 北里柴三郎

4 次の会話文を読んで、あとの問題に答えなさい。

- 好美さん 去年は、ニュースで「関税」「米不足・米の値上がり」という言葉をよく耳にしたね。
- 絵美さん 日本は、日米修好通商条約を結んで A 鎖国を終えて、外国と貿易を始めたころは、日本に関税自主権がなかったよね。これは日本にとって不平等条約と言われたけど、関税自主権がないとどうなるんだろう？
- 彩絵さん それは、B _____ だよ。
- 絵美さん そうか。だからその当時の政府は、何度も条約改正交渉を行って、ようやく (C) 外相の時に関税自主権を確立することができたのか。
- 彩絵さん 米不足と言えは、1830年代の天保のききんによる米不足と商人による買いしめで米の値段がはね上がった時、大阪町奉行所の元役人だった (D) が人々の苦しむ姿を見て1837年に反乱を起こしたね。
- 絵美さん 他にも、E 1910年代に米の値下げを要求する富山県の主婦たちから始まった「米騒動」が、全国各地に広がって、政治問題に発展したこともあったよ。
- 好美さん 今も昔も「関税」や「米」についてはたくさんの騒動や議論があって、それだけ私たちの生活に大きな影響を与えるということだね。

問1 下線部Aについて、鎖国のもとでもいくつかの地域では、他の国や地域との交易・交流が行われていました。その窓口となった場所と相手の組み合わせとしてふさわしいものを次の中から一つ選んで、記号で答えなさい。

- | | | | | |
|---|------------|---------|---------|-------------|
| ア | 長崎 - ポルトガル | 対馬 - 朝鮮 | 薩摩 - 琉球 | 松前 - アイヌの人々 |
| イ | 長崎 - ポルトガル | 対馬 - 中国 | 薩摩 - 朝鮮 | 松前 - 琉球 |
| ウ | 長崎 - オランダ | 対馬 - 朝鮮 | 薩摩 - 琉球 | 松前 - アイヌの人々 |
| エ | 長崎 - オランダ | 対馬 - 中国 | 薩摩 - 朝鮮 | 松前 - 琉球 |

問2 下線部Bにあてはまる文を答えなさい。

問3 (C) にあてはまる人名を、次の中から一つ選んで、記号で答えなさい。

- | | | | | | | | |
|---|------|---|-------|---|------|---|------|
| ア | 大隈重信 | イ | 小村寿太郎 | ウ | 伊藤博文 | エ | 陸奥宗光 |
|---|------|---|-------|---|------|---|------|

問4 (D) にあてはまる人名を書きなさい。

問5 下線部Eの時代の説明として、ふさわしくないものを次の中から一つ選んで、記号で答えなさい。

- ア 国会開設と憲法制定を求める運動が全国に広がった。
- イ 第一次世界大戦の影響により、日本は輸出が増えて好景気となった。
- ウ 工業生産額が農業生産額を上回った。
- エ 民主主義を求める運動が高まった。

5

次の文は、昨年の方博を見学した好美さんの感想です。この文を読んで、あとの問題に答えなさい。

私は去年の夏休みに大阪・関西万博に行ってきました。万博のテーマは「いのち輝く未来社会のデザイン」です。会場に行って驚いたのは、大屋根リングです。その大きさにびっくりしました。建設費が344億円かかったことで、A 税金の使い方として議論をよびました。

いろいろなパビリオンがありましたが、8つのシグネチャーパビリオンではB いのちについて考えさせられました。

また、海外パビリオンでは、世界各国のさまざまな展示がありました。その国についての説明だけでなく、C 環境問題やD 紛争など世界が抱えている課題をテーマにしていました。

今回、万博に行ってみたことで、未来の社会や世界の国々の多様性を感じることができました。

問1 下線部Aについて、国の税金の使い方を決定する機関を答えなさい。

問2 下線部Bについて、次の憲法25条第1項の（ ）にあてはまる語句を答えなさい。

すべて国民は健康で文化的な（ ）の生活を営む権利を有する。

問3 下線部Cについて、地球温暖化防止対策とならないものを次の中から一つ選んで、記号で答えなさい。

- ア プラスチックの製品を減らしていくこと。
- イ ゴミの分別をして、リサイクルを進めること。
- ウ 停止中の原子力発電所を再稼働すること。
- エ 火力発電を石油から石炭に変えること。


問4 下線部Dについて、紛争などにより、自国にいと迫害を受けるおそれがあるために他国に逃れ、国際的保護を必要とする人々を何といいますか。漢字2字で答えなさい。

問5 昨年の方博に関する出来事について、正しいものを次の中から一つ選んで、記号で答えなさい。

- ア 参議院で内閣不信任決議が可決された。
- イ 昨年の方博院選挙では一票の格差は存在しなかった。
- ウ 参議院選挙が行われ、与党の議席が過半数を下回った。
- エ 参議院が解散され、総選挙が行われた。

社

受験番号	氏名
------	----



26020150

*の欄には記入しないこと。

漢字のあるものは、特に指定がない限り、全て正しい漢字で書きなさい。↑ここにシールをはってください↑

得点

1

問1	問2	問3	cm
問4	問5		

*

2

問1	問2	問3	問4
問5			

*

3

問1	問2	問3
問4	問5	

*

4

問1				
問2				
問3	問4	問5		

*

5

問1	問2			
問3	問4	問5		

*
