

2024年度

## 第1回 入学試験問題

# 社 会

(30分, 70点)

### 受験についての注意

1. 試験開始の合図があるまで、問題用紙を開かないでください。
2. 問題は ①～③ まであります。
3. 各問題とも、解答は解答用紙（別紙）の所定の欄に記入してください。
4. 解答用紙には受験番号、氏名を必ず記入し、最後にもう一度確認してください。

1 次の文章を読んで、各問いに答えなさい。

2023年5月、G7サミット（主要国首脳会議）が **a 広島県** **b 広島市** で開催された。サミットは、国際社会が直面する政治や経済、気候変動など、さまざまなテーマについて各国のリーダーなどが意見を交わす国際会議である。日本では、これまでに東京都や沖縄県、洞爺湖とうやがある（ 1 ）、志摩半島がある（ 2 ）などでサミットが開かれた。広島市でのサミットをふくめると、日本でのサミット開催は7回目となる。

(1) 下線部 **a** について、あとの問いに答えなさい。

① 次の **A**～**D** でしめした図は、広島県がふくまれる中国地方の、**A**～**エ** のいずれかの分布図である（黒い点はその位置をあらわしている。問題作成上、一部の島をのぞいている）。**C** に当てはまるものとして正しいものを、次の **A**～**エ** のうちから1つ選び、記号で答えなさい。

**A**



**B**



**C**



**D**



**A**. 県庁所在地

**イ**. 火力発電所

**ウ**. 政令指定都市

**エ**. 新幹線の駅

- ② 広島県は、かき類の養殖がさかんである。次の表は、都道府県別の海面漁業・養殖業生産量（令和4年）のうち、かき類の上位5都道府県をまとめたものである。表中の空欄（ X ）にあてはまる都道府県名を答えなさい。

単位：100トン

1位	広島	968
2位	( X )	257
3位	岡山	147
4位	兵庫	98
5位	岩手	60

〔農林水産省HPより作成〕

- ③ 関東地方から広島県のある瀬戸内海の沿岸をふくんで九州地方北部まで、帯のように連なる工業地帯・地域のことを何というか、6文字で答えなさい。

(2) 次の地形図は、広島県北東部の庄原市東城町とその周辺をしめしたものである。この地形図に関して、あとの問いに答えなさい。



〔電子地形図 25000分の1 (2023年7月ダウンロード) より作成〕

① 地図中の地点Zの標高として正しいものを、次のア～エのうちから1つ選び、記号で答えなさい。

- ア. 510 m      イ. 520 m      ウ. 530 m      エ. 540 m

② 次の写真E・Fは、地図中の①～④のいずれかの地点で撮影したものである。写真と撮影地点の組み合わせとして正しいものを、次のア～カのうちから1つ選び、記号で答えなさい。

写真E



写真F



	写真E	写真F
ア	②	①
イ	②	③
ウ	②	④
エ	③	①
オ	③	②
カ	③	④

- ③ 小学生のAさんのおじいさんは、地形図でしめした地域に住んでいる。下の文章は、Aさんとおじいさんが、地形図中のまちを散歩している時の会話である。会話中の空欄（ あ ）・（ い ）に入る語句として正しいものを、次のア～カより1つずつ選び、記号で答えなさい。

おじいさん：このまちは、「城山」があるように、昔お城があつてさかえた町なんだよ。ほかにも、山で鉄がとれて、さかえていたこともあるんだよ。

Aさん　　：お酒をつくっている蔵くらがあつたり、和菓子屋さんや着物を売っているお店があつたりして、歴史を感じるね。

おじいさん：昭和のころは、もっと人が多くてにぎわっていたけれど、人口が少なくなるとともに、飲食店や旅館などの（ あ ）のお店は少なくなっているよ。それから最近は、インターネットで買い物をする人も増えたから、文房具店や（ い ）は少なくなっているね。

Aさん　　：じゃあ、このまちでの生活はとても不便になっているの？

おじいさん：ここ数年で、大きな道路沿いにスーパーマーケットやドラッグストア、コンビニエンスストアができて、ふだんの生活でこまることはないよ。中国自動車道があつて、広島市内や大阪市方面とつながっているから、お店に商品が運びやすいんだよ。

ア. クリーニング店

イ. 第一次産業

ウ. 本屋

エ. 美容室

オ. サービス業

カ. 病院

- ④ 次の写真Gと写真Hは、地形図中の畑の周辺で撮影したものである。写真から、畑のまわりに細いワイヤーのようなものが、はりめぐらされていることが分かる。これはある問題に対する対策である。あとの資料も参考にしながら、なぜこのようにしているのか、この問題をあきらかにしながら、説明しなさい。

写真G

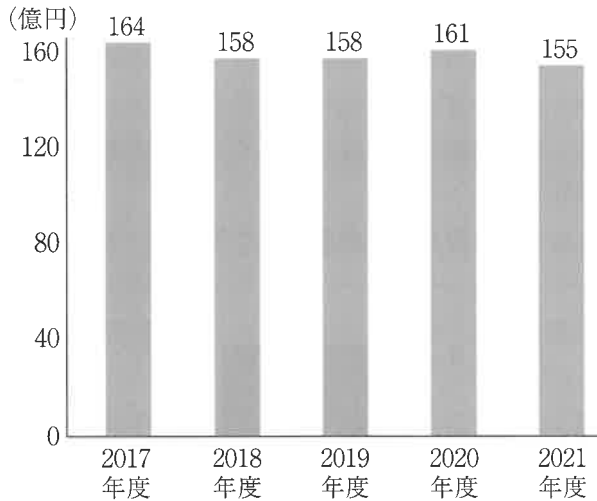


写真H



資料

【農作物の被害額（全国）】



〔農林水産省HPより作成〕

【現地の農家の人の話】

いろいろな対策をしています。写真にあるワイヤーは、夜の間、電気が通るようになっています。うちの地域だけでなく、全国的に困っているようです。



- (3) 下線部bについて、広島市のように、川が河口付近に土砂を積もらせてできた土地を何というか、答えなさい。

- (4) 文中の空欄（ 1 ）・（ 2 ）にあてはまる都道府県名をそれぞれ答えなさい。

2 次の文章を読んで、各問いに答えなさい。

現在の高知県にあたる **a** 土佐国は、日本の誕生から **b** 推古天皇の時代までを記した古事記の国産みの神話のなかで、土佐国建依別とよばれ、雄々しい男の国とされている。

**c** 律令政治が本格的におこなわれた奈良・**d** 平安時代は、現在の高知市の東にある南国市の比江に国司が都から派遣され、土佐の政治と文化の中心であった。また、室町時代には **e** 細川氏が土佐国の守護代となり、さらに戦国時代に ( 1 ) 氏が土佐を統一して政治を行った。

その後、関ヶ原の合戦で西軍に味方して敗れた ( 1 ) 氏に代わり、山内氏が土佐の国主として入国すると、土佐藩の **f** 城下町として高知市の辺りの地域が発展していった。**g** 幕末には坂本龍馬など多くの志士が登場し、明治時代になると ( 2 ) などが自由民権運動を起し、「自由は土佐の山間より」とうたわれるようになった。また、高知県には、実業家の岩崎弥太郎や思想家の幸徳秋水、**h** 第二次世界大戦後、内閣総理大臣となった吉田茂など数多くの偉人がある。

(1) 下線部 **a** について、読み方をひらがなで答えなさい。

(2) 下線部 **b** について、この時代の文化について述べた文 **X**・**Y** と、代表的な文化財 **I**・**II** の組合せとして正しいものを、次の **A**～**E** のうちから 1 つ選び、記号で答えなさい。

**X** 日本で最初の仏教文化がおこった。この文化には、遠くインド・西アジア・ギリシャなどの文化の影響がみられる。

**Y** 遣唐使によって唐の文化がもたらされたため、唐の影響を強く受けた。

I



II



A. X-I

I. X-II

ウ. Y-I

E. Y-II

(3) 下線部 **c** について、この政治のしくみについて述べた文として正しいものを、次の **ア** ~ **エ** のうちから 1 つ選び、記号で答えなさい。

**ア.** 神祇官が決めた政策にもとづいて、神祇官の下に置かれた八省が実際の政治を行った。

**イ.** 地方は国・郡・里に分け、郡司には主に都から派遣された豪族が任命された。

**ウ.** 朝廷は毎年戸籍をつくり、それにもとづいて田をあたえた。

**エ.** 農民は、稲を地方の役所に納める租など、さまざまな税を負担した。

(4) 下線部 **d** について、赴任先である土佐国から平安京の自宅<sup>みくに</sup>に帰るまでの様子をかな文字で書いた、『土佐日記』の作者は誰か。

(5) 下線部 **e** について、細川氏と山名氏が争った応仁の乱について述べた文 **X**・**Y** について、その正誤の組合せとして正しいものを、次の **ア** ~ **エ** のうちから 1 つ選び、記号で答えなさい。

**X** 応仁の乱は約10年も続き、京都は焼け野原になった。

**Y** 戦乱を逃れて地方に行った公家や僧らによって、京都の文化が地方に広まった。

**ア.** **X** 正    **Y** 正    **イ.** **X** 正    **Y** 誤

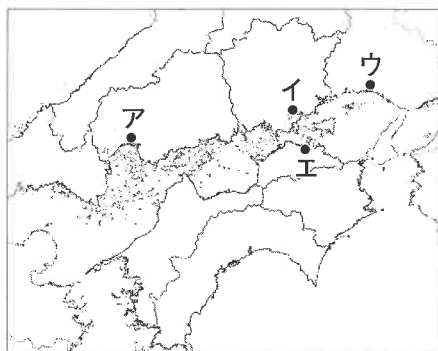
**ウ.** **X** 誤    **Y** 正    **エ.** **X** 誤    **Y** 誤

(6) 空欄 ( 1 ) に入る語句として正しいものを、次の **ア** ~ **エ** のうちから 1 つ選び、記号で答えなさい。

**ア.** 伊達    **イ.** 織田    **ウ.** 長宗我部    **エ.** 島津

(7) 下線部 **f** について、**Ⅲ** の城を中心に発達した町の位置として正しいものを、次の **ア** ~ **エ** のうちから 1 つ選び、記号で答えなさい。

**Ⅲ**



- (8) 下線部 **g** について、次の《貿易の開始による影響》を読んで、下線部のような状況になったのはなぜか、また、それに対して幕府はどのように対応したのか、説明しなさい。

《貿易の開始による影響》

1. 最も重要な輸出品であった生糸は、値上がりした。
2. 大量生産された安い綿糸や綿織物が大量に輸入されたため、国内の綿織物業が成り立たなくなった。
3. 日本の小判が大量に国外に持ち出された。

- (9) 空欄 ( 2 ) に入る人名として正しいものを、次のア～エのうちから1つ選び、記号で答えなさい。

ア. 岩倉具視      イ. 伊藤博文      ウ. 大久保利通      エ. 板垣退助

- (10) 下線部 **h** について、あとの問いに答えなさい。

- ① 第二次世界大戦前のできごとについて述べた文として正しくないものを、次のア～エのうちから1つ選び、記号で答えなさい。

- ア. 政治や社会のしくみを変えようとする人々を取りしめるために、治安維持法が定められた。
- イ. 満25歳以上の男子に選挙権を与える普通選挙法が定められた。
- ウ. 政府は国家総動員法を定めると、議会の承認がなくても戦争に必要な物資や人を、思い通りに動かせるようになった。
- エ. 北京に近い柳条湖で日中両軍が衝突したことをきっかけに、全面的な日中戦争となった。

- ② 次のア～エは第二次世界大戦後のできごとである。年代を古い順に並びかえたときに、3番目の出来事として正しいものを、次のア～エのうちから1つ選び、記号で答えなさい。

- ア. 日ソ共同宣言が調印され、日本が国際連合に加盟した。
- イ. 日本国憲法が施行された。
- ウ. 沖縄が日本に返還された。
- エ. サンフランシスコ平和条約が調印された。

③ 次の文章を読んで、各問いに答えなさい。

国連は、世界人口が2022年末に（ 1 ）億人を超えたと報告した。2050年には100億人を超えると予測されている。こうした急激な人口増加は「人口爆発」とよばれ、おもに（ 2 ）国で起こっており、a 食料やエネルギー資源の不足や環境問題の悪化などが心配されている。今後、「人口爆発」にくわえ、世界全体の高齢化も新たな課題となると予測されている。

日本の最大の課題は、少子高齢化の進行である。2005年以降、高齢化率は主要な先進国中で1位であり、外国人をのぞく日本の人口の減少は2011年から続いている。

b 2023年1月のデータでは、47 c 都道府県の全てで、日本人人口が前年を下回ったことが初めて確認された。これを受け d 政府は「e 少子化、人口減少はわが国の社会経済や社会保障にかかわる重要な問題だ。…（中略）… f 働き方改革などにより g 女性や h 高齢者などの就<sup>しゅうろう</sup>労<sup>そくしん</sup>を最大限促進するとともに、その能力を<sup>はつき</sup>発揮できるように」取り組みを進めるという声明を出した。

(1) 空欄（ 1 ）に入る数字として正しいものを、次のア～エのうちから1つ選び、記号で答えなさい。

ア. 60      イ. 70      ウ. 80      エ. 90

(2) 空欄（ 2 ）に入る語句を漢字4文字で答えなさい。

(3) 下線部 a について、こうした国際的課題に対応するために、SDGs への取り組みが国際的に進められている。SDGs という言葉の意味として正しいものを、次のア～エのうちから1つ選び、記号で答えなさい。

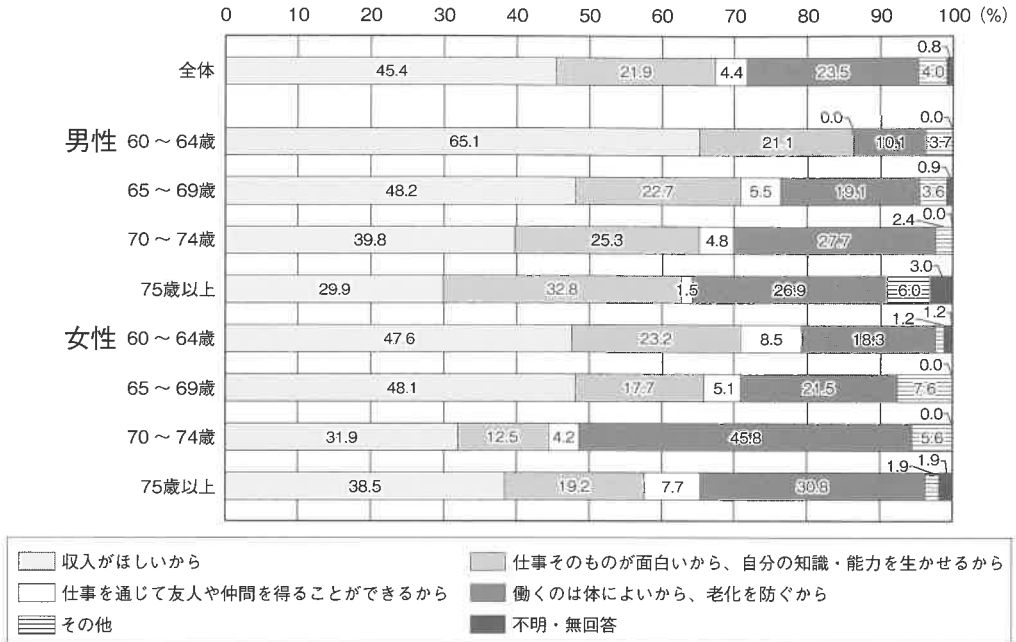
- ア. 「国際の平和と安全に主要な責任を持つ」こと
- イ. 「全ての人々が可能な最高の健康水準に到達する」こと
- ウ. 「文化振興を通し、戦争を二度と起こさない」こと
- エ. 「持続可能な開発目標」のこと

(4) 下線部 b について、このデータとは住民基本台帳のことであり、ふるさと納税制度や地方自治を<sup>かんかつ</sup>管轄する省庁によって作成された。この省庁名を答えなさい。

- (5) 下線部 **c** について、都道府県の議会や議員について述べた文章として正しいものを、次のア～エのうちから1つ選び、記号で答えなさい。
- ア. 多くの議会は、二院制となっている。
  - イ. 18歳以上の日本国民であれば、どこに住んでいても被選挙権を有する。
  - ウ. 議長は、議員の中から知事により決定される。
  - エ. 議会の主な仕事に、条例の制定や改正がある。
- (6) 下線部 **d** について、政府や国際機関とは異なる立場で、経済・社会・医療・人権などの様々な国際問題に取り組む民間団体を何というか。アルファベット 3 文字で答えなさい。
- (7) 下線部 **e** について、少子化や人口減少が社会保障にかかわる重大な問題といえる理由を、社会保障とは何かを明らかにした上で説明しなさい。
- (8) 下線部 **f** について、働き方改革は女性や高齢者に限らない内容を含んでいる。その内容として正しくないものを、次のア～エのうちから1つ選び、記号で答えなさい。
- ア. ワーク・ライフ・バランスの整備
  - イ. 在宅勤務の推進
  - ウ. マイナンバーカードの促進
  - エ. 男性の育休取得の促進
- (9) 下線部 **g** について、日本において女性参政権が付与された年を西暦で答えなさい。

(10) 下線部 **h** について、次のグラフは、仕事をしていて収入のある高齢者を対象とした国のアンケート結果をまとめたものである。このグラフについての説明として正しいものを、次のア～エのうちから1つ選び、記号で答えなさい。

【高齢者が仕事をしている理由（性・年齢別）】



〔『令和2年版高齢社会白書』のデータに一部加筆して作成〕

- ア. 男性は年齢が上がるに従い収入目的の割合が減っていくが、女性は必ずしも減らない。
- イ. どの年代も女性より男性の方が、健康や老化予防を目的にしている。
- ウ. 健康目的で働く男女が、年々増加している。
- エ. 仕事の面白さや知識・能力を生かすより、友人や仲間づくりが求められている。

2024年度 獨協埼玉中学校第1回入学試験〔社会〕解答用紙

1	(1)	①		②					
		③							
	(2)	①		②					
		③	あ		い				
	④								
	(3)								
	(4)	1		2					
小計1									
<input type="text"/>									

2	(1)		(2)		(3)	
	(4)		(5)		(6)	
	(7)					
	(8)					
	(9)		(10)	①		②
小計2						
<input type="text"/>						

3	(1)		(2)			
	(3)		(4)	省		
	(5)		(6)			
	(7)					
	(8)		(9)	年	(10)	
小計3						
<input type="text"/>						

合 計
--------

受験番号		氏名	
------	--	----	--