

1 次の文章を読んで、各問いに答えなさい。

鹿児島県 **a** 喜界町は、**b** 南西諸島にある喜界島に位置し、一つの島で一つの町となっている (図1参照)。町の大きさは、東西約7.5 km、南北に約14 km であり、**c** 人口は6887人 (2020年8月1日時点) である。喜界町は、年平均気温がおよそ20度、年降水量は多い時は3000 mm となり、**d** 亜熱帯性の気候がみられる。夏から秋にかけては、**e** 台風の影響による雨が多く、梅雨とともに豪雨による自然災害がしばしば発生する。喜界町で考えられる自然災害は、豪雨のほかに、**f** 地震や津波がある。町のほとんどの集落が、海に面しているため、防災施設の整備や住民の防災意識を高める取り組みを行っている。

喜界町は「小粒でもきらりと輝くいい島」を合言葉に、安心して働ける環境の整備や、結婚・出産・子育てのしやすい町づくりなどに積極的に取り組んでいる。さらに、SNS のフォロワー数が多い人を島にまねき、島の魅力やさまざまな **g** 情報を伝えてもらう計画もある。

(1) 下線部 **a** について、右の地形図を見ながら、あとの問いに答えなさい。

① 写真1は、喜界町内のライブカメラより撮影したものである。ライブカメラのある位置および撮影の方向として正しいものを、地図中の①～④のうちから1つ選び、記号で答えなさい。

写真1



〔町内ライブカメラより2020年8月撮影〕



〔電子地形図 25000分の1 (2020年8月ダウンロード) の一部より作成〕

② 地形図中のXでしめした機関に電話をする時の番号として正しいものを、次のア～エのうちから1つ選び、記号で答えなさい。

- ア. 110番 イ. 117番 ウ. 119番 エ. 171番

③ 「喜界空港」の滑走路の長さが、地図上で5cmであるとする、実際の滑走路の長さは何mか、答えなさい。

④ 地図中のYとZは、それぞれ異なる目的でつくられた池である。Yは淡水の池であり、Zは塩水の池である。YとZの池は、何のためにつくられたのか、この島の産業との関わりに注目をして、それぞれ説明しなさい。

⑤ この地形図中から読み取れるものとして正しいものを、次のア～エのうちから1つ選び、記号で答えなさい。

- ア. この地形図中で最も高いところは「羽里」にあり、その高さは52mである。
 イ. 島は少子化がすすんでいるため、小中学校はあるが、高等学校はない。
 ウ. 「手久津久」から「喜界空港」までは、鉄道がある。
 エ. 「荒木」からみて「川嶺」の集落は、東に位置している。

(2) 下線部bについて、図1は南西諸島の主な島をしめしたものである。図1中のXの島の名前を答えなさい。

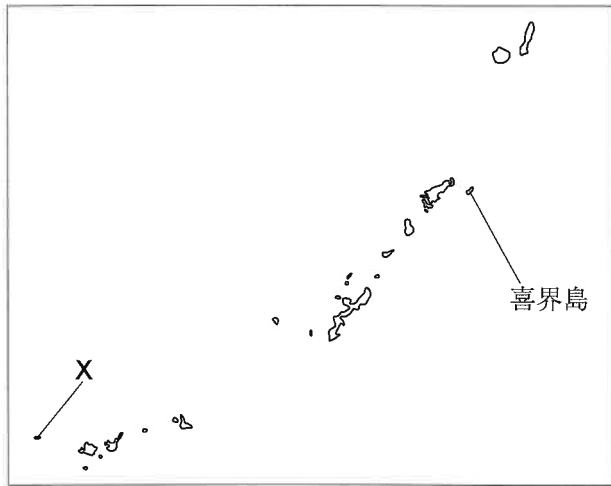
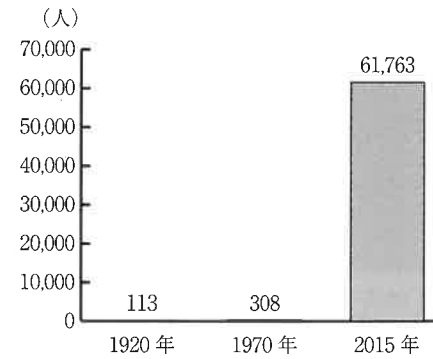


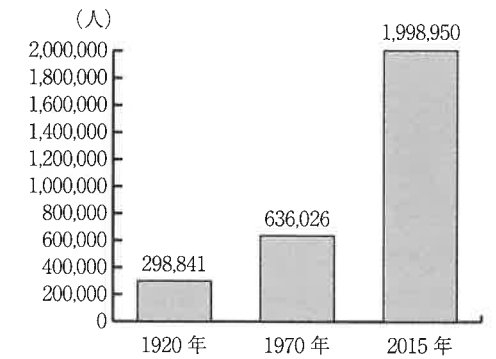
図1

(3) 下線部cについて、人口に関する国の調査を国勢調査という。2020年、国勢調査は調査がはじめてから100年をむかえた。次のア～エは、「日本の総人口」、「12歳の人口」、「65歳の人口」、「100歳以上の人口」のいずれかである。「65歳の人口」をしめしたものとして正しいものを、次のア～エのうちから1つ選び、記号で答えなさい。

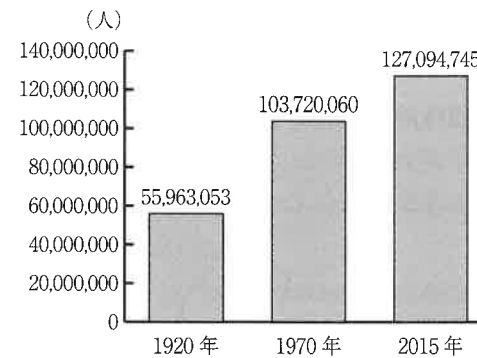
ア.



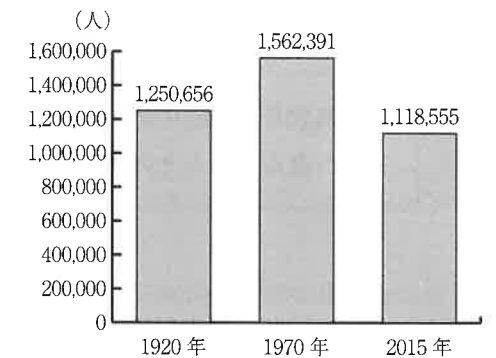
イ.



ウ.



エ.



〔国勢調査より作成〕

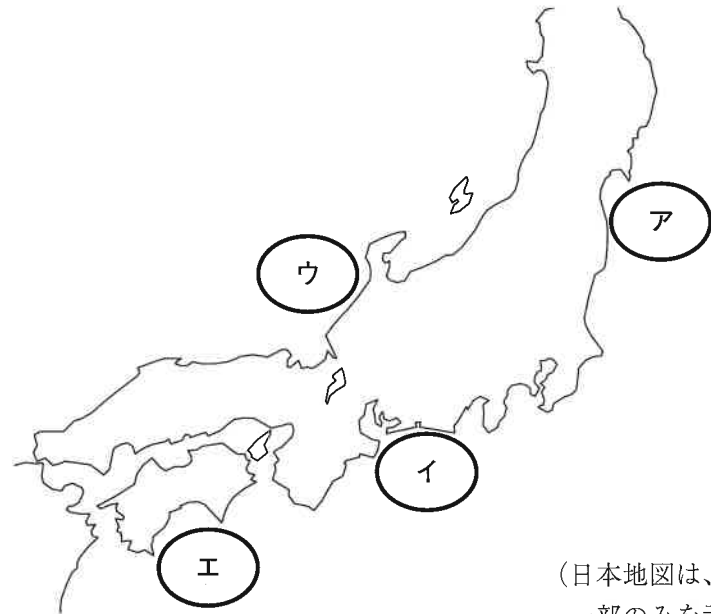
(4) 下線部 **d** について、熱帯や亜熱帯性の気候がみられる地域の、淡水と海水が混ざり合う場所に生育している、写真2でしめした植物の総称を何というか、答えなさい。

写真2



(5) 下線部 **e** について、昼12時のラジオニュースで、下の文でしめした音声がかえってきたとする。この時、台風的位置として正しいものを、図2中のア～エのうちから1つ選び、記号で答えなさい。

台風24号は、正午には渥美半島の南東40 km の海上を、1時間に45 km の速さで北東へ進んでいるとみられます。



(日本地図は、問題作成上一部のみに示している。)

図2

(6) 下線部 **f** について、四国の南の海底に位置し、かつて大きな地震が起こっており、近い将来再び大きな地震が発生するといわれているところを何というか、答えなさい。

(7) 下線部 **g** について、表1は、2019年1月～6月の主な都道府県の新聞（朝刊）の平均販売部数をまとめたものである。表中の①～④は、長野県、愛知県、岡山県、鹿児島県のいずれかがあてはまる。この表から読みとれることとして正しくないものを、次のア～エのうちから1つ選び、記号で答えなさい。

表1

	1位	平均販売部数	2位	平均販売部数	3位	平均販売部数	合計
①	中日新聞	1,411,665	朝日新聞	184,661	日本経済新聞	117,191	1,713,517
②	信濃毎日新聞	461,773	読売新聞	55,532	朝日新聞	40,879	558,184
③	山陽新聞	344,847	読売新聞	69,938	朝日新聞	59,452	474,237
④	南日本新聞	282,172	読売新聞	22,729	朝日新聞	14,878	319,779
埼玉県	読売新聞	883,257	朝日新聞	456,237	毎日新聞	201,221	1,540,715

[読売新聞メディアデータより作成]

- ア. ①は、表中で平均販売部数の合計が最も多いため、長野県、愛知県、岡山県、鹿児島県の中で最も人口の多い愛知県であると予想できる。
- イ. ②は、販売部数が1位の新聞名に旧国名が使われていることから、長野県であることがわかる。
- ウ. ④で1位の新聞の平均販売部数は、④の2位と3位の新聞の平均販売部数の合計数の2倍以上である。
- エ. 埼玉県で平均販売部数が1位の新聞は、①～④の平均販売部数上位3位以内に必ず入っている。

2 次の文章を読んで、あとの問いに答えなさい。

長崎県対馬市の佐賀にある(1)からは、貝がらに混ざって、魚の骨や植物資源とともに漁労・狩猟道具が出土している。また、壱岐市のa原の辻遺跡からは中国の貨幣が出土している。遺跡の発掘調査から、対馬・壱岐が朝鮮半島と九州北部地域の交易に重要な役割を果たしていたことが分かる。

長崎県の島々は、日本から中国に派遣される船の寄港地として利用されたため、住民はb大陸を意識して生活してきた。その後、cキリスト教が伝わると、南蛮文化の中心地となった。さらに、d江戸時代には鎖国のもとで海外に開かれた窓口の役割を果たしていた。幕末に長崎を訪れたイギリスの商人トーマス・グラバーは、貿易や石炭採掘などの多くの事業を展開し、長崎県のe近代産業の基礎を築いた。また、幕府はオランダ人ハルデスらを招いて長崎鋳鉄所を建設し、のちに日本の造船業を代表するf三菱重工業長崎造船所となった。

1945年(2)には、造船所のある長崎に原子爆弾が投下され、長崎は原爆被災地となった。長崎は悲惨な原爆被災地として、核兵器廃絶とg世界平和の実現を願って平和宣言を発表している。

(1) 次の文章は、空欄(1)に入る語句を説明したものである。空欄にあてはまる語句を答えなさい。

貝がらや魚や動物の骨などの食べ物の残りがすぐでてくることから、縄文時代のごみ捨て場であったとされている。

(2) 下線部aについて、この遺跡は次に示した中国の歴史書に述べられている一支国の王都と考えられている。この中国の歴史書として正しいものを、次のア～エのうちから1つ選び、記号で答えなさい。

邪馬台国は、もとは男子が王であったが、国中で争いが続いたため、国々の王が相談して、一人の女性を王にした。それが卑弥呼である。卑弥呼はまじないによって人々を治めた。

- ア. 『漢書』地理志 イ. 『後漢書』東夷伝
ウ. 『魏志』倭人伝 エ. 『隋書』倭国伝

(3) 下線部bについて、次の文Ⅰ～Ⅲを読み、あとの問いに答えなさい。

- Ⅰ 朝鮮半島の百済から仏教が公に伝えられた。
Ⅱ フビライ=ハンがたてた(3)が、高麗を従えて博多湾沿岸に攻めてきた。
Ⅲ 百済から助けを求められた朝廷は兵を朝鮮に送ったが、(4)・新羅連合軍に敗れた。

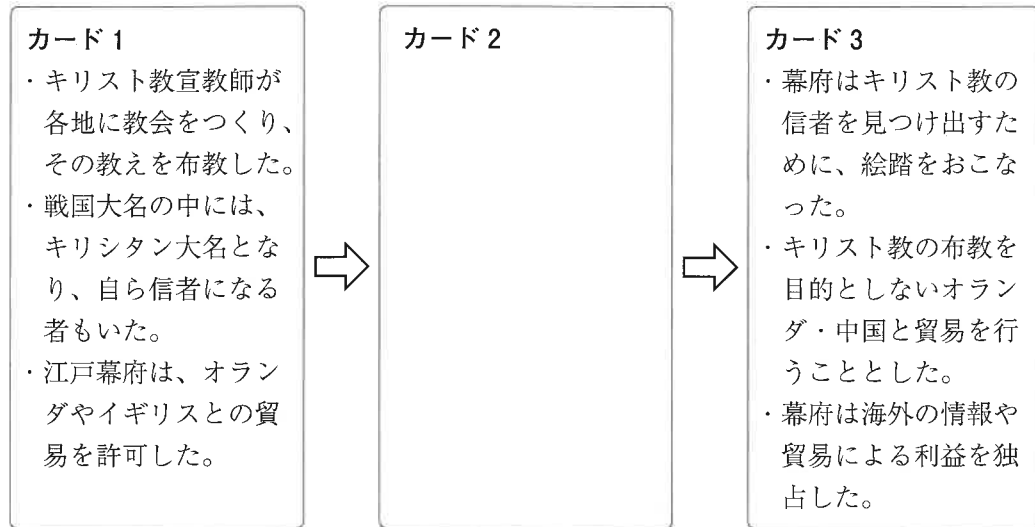
① 空欄(3)・(4)に入る語句の組み合わせとして正しいものを、次のア～エのうちから1つ選び、記号で答えなさい。

- ア. 3…宋 4…唐 イ. 3…元 4…唐
ウ. 3…宋 4…明 エ. 3…元 4…明

② Ⅰ～Ⅲを古いものから年代順に正しく配列したものとして正しいものを、次のア～エのうちから1つ選び、記号で答えなさい。

- ア. Ⅰ → Ⅱ → Ⅲ イ. Ⅰ → Ⅲ → Ⅱ
ウ. Ⅱ → Ⅰ → Ⅲ エ. Ⅲ → Ⅰ → Ⅱ

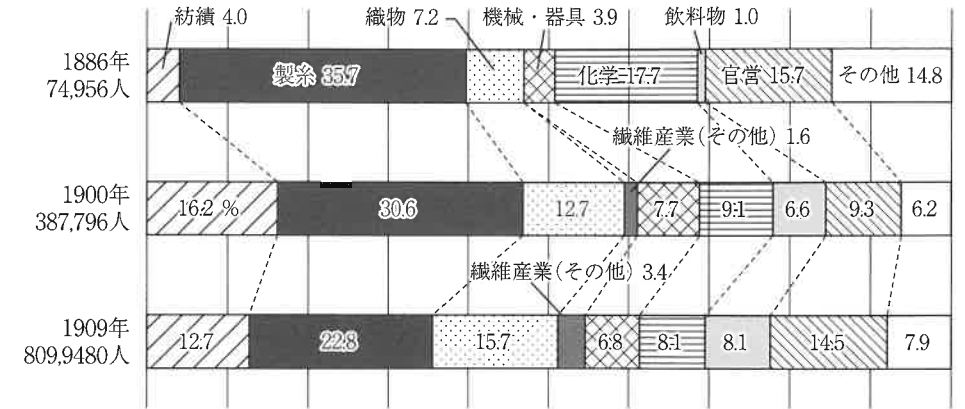
- (4) 下線部 **c** について、キリスト教の伝来から禁止までの流れを説明する次のカード 1～3 を作成した。カード 2 にあてはまる文として 正しくないもの を、次のア～エのうちから 1 つ選び、記号で答えなさい。



- ア. 江戸幕府は、キリスト教の教えが幕府の支配のさまたげになると考えた。
 イ. 江戸幕府は、キリスト教の布教が続くと、日本がヨーロッパの国々に侵略されるのではないかと考えた。
 ウ. 江戸幕府は、大名がヨーロッパとの貿易によって、力をつけるのではないかと考えた。
 エ. 江戸幕府は、外国との貿易は利益が大きいので、さらに多くの国々と貿易したいと考えた。

- (5) 下線部 **d** について、鎖国下の長崎貿易について述べた文として正しいものを、次のア～エのうちから 1 つ選び、記号で答えなさい。
- ア. オランダは、海外の様子について述べた報告書を幕府に提出した。
 イ. 新井白石は長崎での貿易を拡大して、幕府の財政を安定させようとした。
 ウ. ロシア使節のラクスマンが長崎に来航し、日本に通商を求めた。
 エ. 徳川吉宗は商人の経済力を利用し、長崎貿易の拡大に努めた。

- (6) 下線部 **e** について、次のグラフは明治期の工場労働者数と産業別工場労働者数の割合（工場は10人以上使用のもの）を示したものである。このグラフについて読み取った文 A～D について、正しいものの組み合わせを、次のア～エのうちから 1 つ選び、記号で答えなさい。



〔『日本産業革命の研究』より作成〕

- A. 産業革命の中心は、紡績や製糸などの繊維産業であった。
 B. 1900年から1909年にかけて、繊維産業の工場労働者数は減少した。
 C. 1886年から1909年まで、常に繊維産業の工場労働者数が全体の半分以上を占めていた。
 D. 産業革命の進展とともに、工場労働者数が急激に増加した。

- ア. A・C イ. A・D ウ. B・C エ. B・D

- (7) 下線部 **f** について、三菱などの財閥が大きく利益を上げた、大正時代の出来事として正しいものを、次のア～エのうちから 1 つ選び、記号で答えなさい。
- ア. 第一次世界大戦 イ. 世界恐慌 ウ. 韓国併合 エ. 満州事変

- (8) 空欄 (2) に入る月日を数字で答えなさい。

(9) 下線部 g について、あとの問いに答えなさい。

① 世界平和の維持を目的として設立された国際連合について述べた文として正しくないものを、次のア～エのうちから1つ選び、記号で答えなさい。

ア. 総会では、全加盟国が参加してさまざまな問題について話し合われる。

イ. 日本は安全保障理事会の常任理事国として、拒否権をもっている。

ウ. 国連児童基金（UNICEF）は、子どもの命と権利を守るために活動している。

エ. 国連教育科学文化機関（UNESCO）は、多くの国で文字の読めない子どもたちに読み書きを教える活動や、世界遺産の登録と保護などを行っている。

② 次の新聞記事は、1960年に改定された条約に反対する人々について書かれたものである。なぜ反対運動が起こったのか、その理由について以下の条約の内容に触れ、条約名を明らかにして説明しなさい。

新聞記事



条約の内容

第五条

日本で、両国のいずれかの国が武力攻撃を受けたとき、両国は自国の憲法に従って、共通の危険に対処するように行動すること。

〔朝日新聞 1960年6月19日 朝刊〕

次の頁にも問題があります

3 次の文章を読んで、各問いに答えなさい。

国際的な環境問題や感染症の拡大による影響を受け、私たちの生活は大きく変化してきている。2020年7月1日より、地球規模の課題である海洋プラスチックごみ対策の一環として、プラスチック製買い物袋の有料化が全国的に実施された。これは、**a** 容器包装リサイクル法の **b** 関係省令によるもので、資源・廃棄物、海洋ごみ対策、**c** 地球温暖化対策等の **d** 幅広い課題に対応するため、(1) の徹底を目指したものと見える。

また昨年、**e** 1930年代の世界恐慌以来ともいわれる景気後退にみまわれた。**f** 新型コロナウイルス感染症の広がりに対して、消費行動が全国的に後退したのが大きな原因といえる。個人経営や **g** 中小企業を中心に倒産が増えるなかで、**h** 憲法25条をどのように守っていくのかも重要な課題となっている。

(1) 下線部 **a** は1995年に制定された法律である。法律の制定の流れについて、あとの問いに答えなさい。

① 次の文の空欄にあてはまる語句を入れなさい。

法律案は、衆議院と参議院でともに出席議員の過半数が賛成すれば法律として成立する。しかし、衆議院で可決された法律案が参議院で否決された場合には、その法律案は衆議院に戻される。そして衆議院で出席議員の () 以上が賛成すれば、その案は法律として成立する。

② 法律案において、衆議院と参議院で異なる議決をしたとき、両院の代表者による調整の場として、任意で開かれる会議を何というか、答えなさい。

(2) 下線部 **b** について、ここには複数の省が関係しているが、これに関係していない省として正しいものを、次の **A**～**E** のうちから1つ選び、記号で答えなさい。

A. 経済産業省 **I.** 厚生労働省 **U.** 防衛省 **E.** 農林水産省

(3) 下線部 **c** について、地球温暖化が起きる原因と、その結果どのような現象が起こるのかについて、それぞれ1点ずつあげて、説明しなさい。

(4) 下線部 **d** について、日本の公害問題の原点とされる、栃木県足尾鉍毒事件の解決に尽力した元衆議院議員は誰か、答えなさい。

(5) 空欄 (1) には、循環型社会の標語である3Rのうち、ゴミを減らす内容の語句が入る。その語句をカタカナで答えなさい。

(6) 下線部 **e** について、世界恐慌の混乱を乗り越えるために、外国の資源を求めて侵略を開始する国もあった。同盟を結んで侵略をすすめた国として正しくないものを、次の **A**～**E** から1つ選び、記号で答えなさい。


A. フランス **I.** ドイツ **U.** イタリア **E.** 日本

(7) 下線部 **f** について、国際連合の専門機関のひとつで、感染症の撲滅や医療の普及につとめているものとして正しいものを、次の **A**～**E** のうちから1つ選び、記号で答えなさい。

A. 石油輸出国機構 (OPEC) **I.** 国際連合食糧農業機関 (FAO)
U. 世界貿易機関 (WTO) **E.** 世界保健機関 (WHO)

(8) 下線部 **g** について、次のグラフは大企業と中小企業の企業数および従業者数の割合を比較したものである。このグラフから読み取れることとして正しいものを、次の **A**～**E** のうちから1つ選び、記号で答えなさい。

【企業数の割合】



【従業者数の割合】



〔『中小企業白書』をもとに作成〕

A. 大企業は、企業数は少ないが、一社あたりの従業者の平均数は中小企業より多い。
I. 中小企業は、企業数は少ないが、一社あたりの従業者の平均数は大企業より多い。
U. 大企業は、企業数は多いが、一社あたりの従業者の平均数は中小企業より少ない。
E. 中小企業は、企業数は多く、一社あたりの従業者の平均数も大企業より多い。

(9) 下線部 **h** について、次の日本国憲法第25条の条文の空欄にあてはまる語句を入れなさい。

すべて国民は、健康で () な最低限度の生活を営む権利を有する。

2021年度 獨協埼玉中学校第1回入学試験〔社会〕解答用紙

1	①		②		③		m		
	(1)	④							
		⑤							
	(2)	島				(3)			
	(4)					(5)			
	(6)					(7)			

小計1

--

3	(1)	①			②			
	(2)							
	(3)							
	(4)					(5)		
	(6)		(7)		(8)			
	(9)							

小計3

--

2	(1)					(2)		
	(3)	①		②				
	(4)		(5)		(6)		(7)	
	(8)	月		日				
		①						
	(9)	②						

小計2

--

合 計	
--------	--

受験番号		氏名	
------	--	----	--