

1 次の文章を読んで、各問いに答えなさい。

a たかい やまに つもった ゆきが とけて ながれます。

やまに ふった あめも ながれます。

みんな あつまってきて、ちいさい ながれを つくります。

かわは けわしい b がけの あいだを ながれます。

あわを たて、しぶきを あげ、うずを まき、おとをたてて ながれます。

はげしい みずの いきおいで、ごつごつした いわも だんだん (1) になります。

やまが おわって、c ひろい へいやに できました。

かわは ゆるやかに ながれます。むらが みえます。

たうえがはじまっています。かわから たんぼへ みずを ひいて、d いねを うえます。

まちが ちかくなりました。かわはばは とても (2) なり、

ながれも ゆるやかになりました。

ながい はし、おおきな はし。

e にもつを はこぶ ふねが、いたりきたり しています。

かわは たいせつな ふねの みち。

うみ！

かわは とうとう うみへ ながれでました。

うみを こえて いこう。ひろい せかいへ——

〔加古里子『かわ』より作成（問題作成上一部改編）〕

(1) 下線部 a について、日本で最も高い山の名前を答えなさい。

(2) 下線部 b について、川の流れにそって発達した、がけと平地からなる階段状の地形名を答えなさい。

(3) 空欄 (1) に入る語句として、正しいものを次から1つ選び、記号で答えなさい。

ア. おおきく イ. ぎざぎざに ウ. やわらかく エ. まるく

(4) 下線部cについて、北海道には川がつくった平野や盆地がいくつかある。次の地形図は、上川盆地に位置する北海道旭川市のものである。北海道や旭川市およびこの地形図について、あとの問いに答えなさい。



[電子地形図 25000分の1 (2019年8月ダウンロード)の一部より作成]

① この地形図についての説明として、正しいものを次から1つ選び、記号で答えなさい。

ア. 「常磐公園」には美術館や図書館もあることから、人々のいこいの場所になっていることが予想できる。

イ. 道路が碁盤の目のように広がり、寺院や神社が複数あることから、京都市と同じように、旭川市はかつて都があり栄えていたことがわかる。

ウ. 「旭川駅」の東に位置する「クリスタル橋」は、市役所のある地域と、「大雪クリスタルホール」のある地域とを結ぶ重要な役割を果たしている。

エ. 市役所の東側には、道路をはさんで病院と交番がある。さらに、交番の東側には道路をはさんで小中学校がある。

② 旭川市は、稲作がさかんで、米を使った酒造りもさかんである。図1は、ある酒蔵で販売されている甘酒の食品表示の一部である。空欄 には、あまみを出すための作物名が入る。日本では北海道でほとんど栽培されているこの作物名として、正しいものを次から1つ選び、記号で答えなさい。

名称：清涼飲料水 甘酒
 原材料名：オリゴ糖、米、酒かす
 原料原産地名：北海道
 内容量：190g
 賞味期限：缶底に記載
 保存方法：直射日光・高温を避け常温で保存してください。
 製造者：株式会社○△農場
 北海道旭川市・・・

図1

ア. さとうきび イ. みかん ウ. さつまいも エ. てんさい

③ 図2は、旭川市のホームページの一部である。図2のように、旭川市をはじめ北海道の多くの自治体のホームページが、英語、中国語、韓国語に加えて、Yでしめした言語に対応している。Yでしめした言語は何か、答えなさい。



図2

④ 図3は、北海道の市町村別65歳以上の人口をしめしたものである。この図に関する説明文として、正しいものを次から1つ選び、記号で答えなさい。

- ア. 65歳以上の人口が多い地域は、全て山脈のある地域である。
- イ. 65歳以上の人口が多い地域は、旭川市よりも北に集中している。
- ウ. 65歳以上の人口が10000人以上の地域には、札幌市がふくまれる。
- エ. 65歳以上の人口が0～1000人未満の地域は、全て沖合漁業がさかんな地域である。

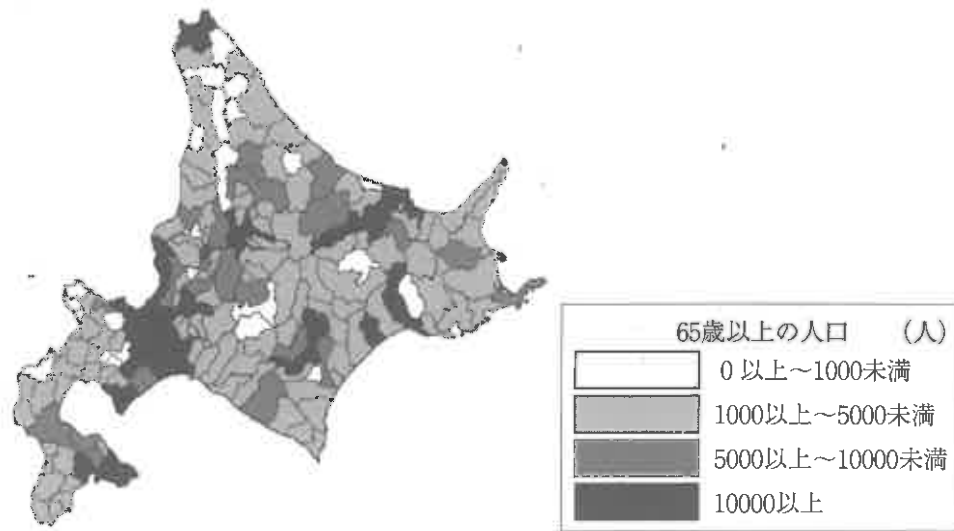


図3

[平成27年国勢調査より作成]

⑤ 写真1は、旭川市内のコンビニエンスストアを撮影したものである。この店は写真2の埼玉県内の店と比べて、入口にある工夫がしてある。これはどのような工夫か、答えなさい。また、そのような工夫がみられる理由を、北海道の気候の特色をふまえて説明しなさい。

写真1 旭川市内の店



写真2 埼玉県内の店



(5) 下線部dについて、稲からできるものとして、正しくないものを次から1つ選び、記号で答えなさい。

- ア. しめ縄 イ. ぬか ウ. もみがら エ. おから

(6) 空欄(2)に入る語句として、正しいものを次から1つ選び、記号で答えなさい。

- ア. ひろく イ. せまく ウ. きゅうに エ. あさく

(7) 下線部eについて、江戸時代から明治初期にかけて、現在の大阪と北海道の間ではさまざまなものが船で運ばれた。北海道から大阪に運ばれたものとして、正しくないものを次から1つ選び、記号で答えなさい。

- ア. こんぶ イ. 鮭^{さけ} ウ. かずのこ エ. 塩

2 次の文章を読んで、各問いに答えなさい。

尾張国と三河国を合わせる形で成立した現在の(1)県は、温暖な気候と、漁業に便利な港をもち、古くから地域性に富む文化を発展させてきた。

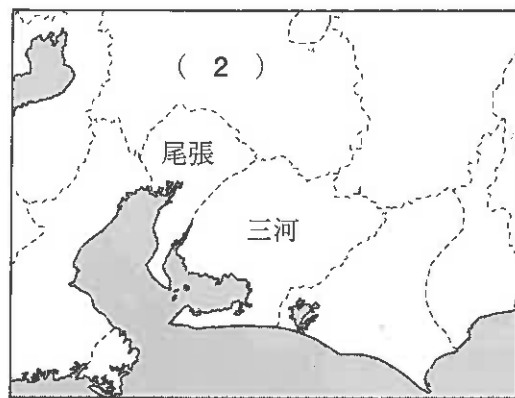
県西部の尾張地方は、木曾川をはさんで(2)に接していて、a古代から国境を越えた人々の交流は盛んであった。また、鎌倉時代になると御家人たちはb六波羅探題の取り締まりを受けていた。c室町時代には、守護職をめぐる攻防の末に斯波氏が実権を握ったが、その後はd織田氏が尾張の戦国大名へと成長した。

県東部の三河地方は、江戸時代になると、e徳川氏の出身地として多くの譜代大名を出した。尾張は(3)などで高い生産力をほこっていたが、江戸時代の末期には、開国によって安い外国製品が輸入されるようになり、産業は大きな打撃を受けた。

その後、f1880年代の不況を乗り越え、第一次世界大戦による好況によって名古屋を中心として中京工業地帯が形成された。太平洋戦争後、g冷戦構造の世界情勢のなかで、高度経済成長がはじまると、名古屋市や豊田市への人口集中がおこる一方で、三河山間部では人口の流出が激しく、h農林業の担い手が減っている。

(1) 空欄(1)に入る県名を答えなさい。

(2) 次の地図を参考にして、空欄(2)に入る旧国名として、正しいものを次から1つ選び、記号で答えなさい。



- ア. 駿河国 イ. 大和国 ウ. 近江国 エ. 美濃国

(3) 下線部aについて、旧石器時代から古墳時代の人びとの生活について述べた文として、正しくないものを次から1つ選び、記号で答えなさい。

- ア. 旧石器時代の人々は、洞くつなどに住み、木の実を採集しながら移住していた。
 イ. 縄文時代は、貧富の差が広がり、むらどうしの争いが増えた。
 ウ. 弥生時代になると、稲作が日本の各地に広まったが、北海道や沖縄では狩りや漁をしていた。
 エ. 古墳時代になると、前方後円墳をきざくために多くの人々が集められ、古墳のまわりに埴輪がならべられた。

(4) 下線部bについて、六波羅探題が置かれるきっかけとなった出来事をあげ、それによって鎌倉幕府の支配がどのように変わったか、説明しなさい。

(5) 下線部cについて、室町時代の農業と商工業に関する次の図A・Bと、その説明文a～dの組合せとして、正しいものを次から1つ選び、記号で答えなさい。

A



B



- a. 川から田に水をくみあげるかんがいの技術が発達した。
 b. 草木の灰に加えて、油かすなどの現金で買う肥料が使われるようになった。
 c. 物資を運ぶ運送業者である馬借によって、年貢が運ばれた。
 d. 問屋から発達した卸売業の問丸おろしうりが交通の要地にできた。

- ア. A-a B-c イ. A-a B-d
 ウ. A-b B-c エ. A-b B-d

(6) 下線部dについて、次の出来事を時代の古いものから年代順に並び変えたとき、3番目の出来事として、正しいものを次から1つ選び、記号で答えなさい。

- ア. 本能寺の変 イ. 室町幕府の滅亡
 ウ. 長篠の戦い エ. 桶狭間の戦い

(7) 下線部 e について、次の図と説明文が示す時期にあたる将軍は誰か。答えなさい。



上方で町人文化が栄えたころ、松尾芭蕉は『奥の細道』という紀行文に俳句を残した。

(8) 空欄 (3) に入る、室町時代に中国や朝鮮から大量に輸入されたものとして、正しいものを次から1つ選び、記号で答えなさい。

- ア. 木綿 イ. 紅花 ウ. 銀 エ. 菜種

(9) 下線部 f について、1880年代におきた出来事として、正しいものを次から1つ選び、記号で答えなさい。

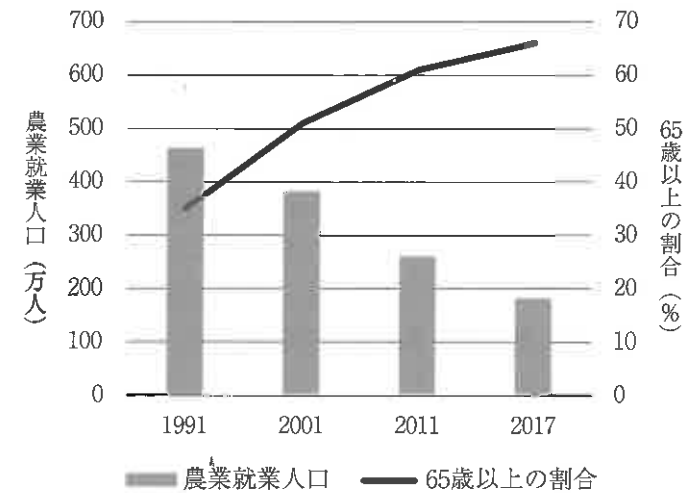
- ア. 明治政府は、大名が治めていた土地と人民を朝廷に返させる版籍奉還を行った。
 イ. 国会開設の時期が決まると、板垣退助を党首とする自由党が結成された。
 ウ. 第一次世界大戦が始まると、日本は日英同盟を理由として参戦した。
 エ. 日本の生糸の輸出額は、中国を抜いて世界第1位となった。

(10) 下線部 g について、戦後の日本と国際社会の関係について述べた C・D を読んで、C・D にあてはまる国の組合せとして、正しいものを次から1つ選び、記号で答えなさい。

- C 日本はこの国と共同宣言に調印したことで国際連合に加入したが、平和条約は結ばれなかった。
 D 日本がこの国の戦争に巻き込まれる危険があるという批判が高まり、安保闘争が起こった。

- ア. C—中国 D—韓国 イ. C—中国 D—アメリカ
 ウ. C—ソ連 D—韓国 エ. C—ソ連 D—アメリカ

(11) 下線部 h について、次のグラフは、農業就業人口（販売農家）と、農業就業人口のうち65歳以上の人口が占める割合を示したものである。グラフについて述べた文として、正しくないものを次から1つ選び、記号で答えなさい。（「販売農家」とは、経営耕地面積が30アール以上又は農産物販売金額が50万円以上の農家をいう。）



〔農林水産省「農業構造動態調査 長期累年」より作成〕

- ア. 農業就業人口は、1991年から2017年まで年々減り続けていることがわかる。
 イ. 農業就業人口は、2001年から2011年までの10年間で、100万人以上減ったことがわかる。
 ウ. 65歳以上の割合は、1991年から2017年まで年々増え続けていることがわかる。
 エ. 65歳以上の割合は、2001年から2011年までの10年間で、20%以上増えたことがわかる。

③ 次の文章を読んで、各問いに答えなさい。

特定の人種・民族・性別などへの差別的な言動をヘイトスピーチという。国はこれに対する **a** 法律を制定して差別的言動を抑えようとしてきたが、**b** 別の人権を侵害するおそれがあることから、この法律には罰則規定がない。しかしヘイトスピーチは **c** 差別意識を生み、基本的人権を侵害するおそれがある。そこで昨年6月、公の場でヘイトスピーチをくり返す者に対して初めて罰則規定を設ける **d** 条例案を、川崎市が公表した。

1965年に **e** 国際連合の **f** 総会で採択された人種差別撤廃条約に参加する国は、差別をなくす政策をすすめることが義務付けられている。

日本国憲法第14条では、「すべて国民は（ 1 ）に **g** 平等であつて、人種、信条、性別、社会的身分又は門地により、政治的、経済的又は社会的関係において差別されない」と規定している。この憲法ができてから70年以上が過ぎ、憲法に明記されていない「**h** 新しい人権」も主張されるようになった。**i** 様々な国から多くの在留外国人が居住するようになり、さらに価値観も多様化している現在、「共に生きる」という考え方を育てることが大切となっている。

(1) 下線部 **a** について、法律の制定に関する説明として、正しいものを次から1つ選び、記号で答えなさい。

- ア. 国会は、法律や政令を制定する権限を持っている。
- イ. 内閣または国会議員から、いずれかの議院の議長に法律案が提出される。
- ウ. 衆議院で可決された法律案が参議院で否決されると、ただちに廃案となる。
- エ. 国会で成立した法は、国会の助言と承認により天皇が公布する。

(2) 下線部 **b** について、別の人権とは何をさすのか。最も適当なものを次から1つ選び、記号で答えなさい。

- ア. 学問の自由
- イ. 経済活動の自由
- ウ. 表現の自由
- エ. 身体の自由

(3) 下線部 **c** に関連して、かつてユダヤ人に対する激しい差別政策が展開された。この政策をすすめたドイツの政治指導者は誰か、答えなさい。

(4) 下線部 **d** に関連して、自治体の状況に応じて、様々な条例が制定されている。川崎市で制定された条例として、正しいものを次から1つ選び、記号で答えなさい。

- ア. りんごは農業による被害がなく安全であるということアピールするための、「りんごまるかじり条例」を制定した。
- イ. 国産梅干しの4分の1を生産するため、「梅干しでおにぎり条例」を制定し、おにぎりの具には梅干しをとよびかけた。
- ウ. 高度経済成長期に公害被害が深刻化したため、「公害防止条例」を制定して被害に歯止めをかけようとした。
- エ. 重要な自然・観光資源を守るため、落書きやゴルフボールの打ち放し、ロケット花火の発射等を禁止する、「砂丘を守り育てる条例」を制定した。

(5) 下線部 **e** について、次の問いに答えなさい。

- ① 国際連合の本部がおかれている都市を答えなさい。
- ② 世界の平和と安全の維持に関して重要な責任を負う、国際連合の主要機関を何と
いうか、漢字7字で答えなさい。

(6) 下線部 **f** に関連して、日本が参加していない条約として、正しいものを次から1つ選び、記号で答えなさい。

- ア. 死刑廃止条約
- イ. 児童の権利に関する条約
- ウ. 女子差別撤廃条約
- エ. 障害者の権利に関する条約

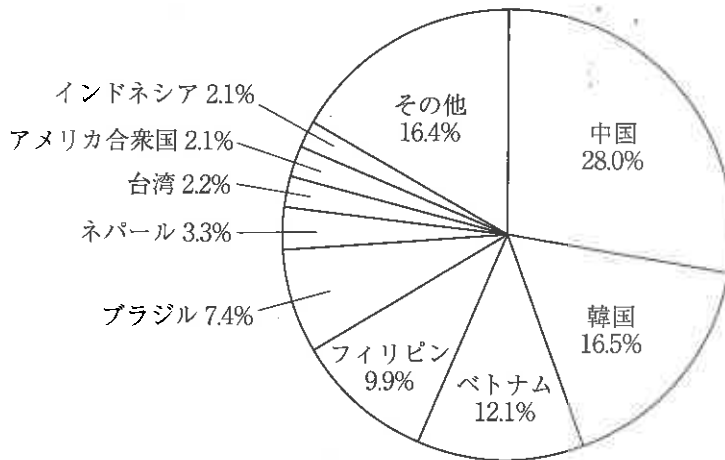
(7) 空欄（ 1 ）に入る語句を答えなさい。

(8) 下線部 **g** に関連して、平等権の考え方にあてはまらないものを次から1つ選び、記号で答えなさい。

- ア. 高所得者からは、低所得者より多くの税を徴収すること。
- イ. 男女の違いによって、就職の際の採用・配置・昇進などが異なること。
- ウ. 日本国籍を持たない者が、衆議院議員選挙に立候補できないこと。
- エ. 18歳に選挙権を与え、17歳に選挙権を与えないこと。

(9) 下線部 **h** について、「新しい人権」の具体例を1つあげ、その内容を説明しなさい。

- (10) 下線部Ⅰについて、下のグラフは「国籍・地域別在留外国人の割合」を示したものである。このグラフの説明として、正しくないものを次から1つ選び、記号で答えなさい。



〔法務省「平成30年末現在における在留外国人数について」より作成〕

- ア. 韓国出身より、ベトナム・フィリピン・インドネシア出身の合計の方が多い。
イ. 台湾出身は、アメリカ合衆国出身より多いが、ブラジル出身の2分の1以下である。
ウ. フィリピン出身は、ネパール出身より多いが、ベトナム出身より少ない。
エ. ブラジルとアメリカ合衆国出身の合計は、中国出身の約2分の1である。

2020年度 獨協埼玉中学校第1回入学試験〔社会〕解答用紙

1	(1)			
	(2)			(3)
	①		②	
	③	語		④
	(4)			
(5)		(6)		(7)

小計1

2	(1)	県		(2)		(3)
	(4)					
	(5)		(6)		(7)	
	(8)		(9)		(10)	

小計2

3	(1)		(2)		
	(3)			(4)	
	①				
	②				
	(6)		(7)		
(9)					
(10)					

小計3

合
計

受験番号		氏名	
------	--	----	--